

# الوحدة الثالثة

الوطن العربي

ملاص

بشرية واقتصادية



تم تحميل الحل

هن موقع

مدرستي التعليمية

www.school-kw.com

- الدرل الأول : نمو السكان وتوزيعهم في الوطن العربي .
- الدرل الثاني : الموارا الاقتصادية في الوطن العربي .
  - أولاً - إنتاج الغذاء في الوطن العربي .
  - ثانياً - الإنتاج الحيواني .
  - ثالثاً - الطاقة والثروة المعدنية .
  - رابعاً - الإنتاج الصناعي .
  - خامساً - النقل والتبادل التجاري في الوطن العربي .
- التقييم .

مدرستي التعليمية  
KuwaitTeacher.Com



## نمو السكان وتوزيعهم في الوطن العربي

### نمو السكان وتوزيعهم في الوطن العربي


درست في الوحدة الأولى من هذا الكتاب أن الوطن العربي يغطي مساحة كبيرة من الأرض تبلغ ١٣,٥ مليون كم<sup>٢</sup> تقريباً . ويتألف من ٢٢ دولة ، تضم حوالي ٣٨٢,٠٠٩ مليون نسمة تقريباً ، يتوزعون بنسبة ٧٠٪ في القارة الأفريقية و ٣٠٪ في القارة الآسيوية .



اقرأ وتعلم :

### توزيع السكان في الوطن العربي :

تعتمد دراسة السكان بصورة عامة على الإحصاءات السكانية وأهم هذه الإحصاءات :  
**أ - التعداد السكاني :** تقوم الدولة من حين إلى آخر بإجراء تعداد لسكانها (كل ٥ سنوات أو ١٠ سنوات) ، ونتيجة لهذا التعداد تحصل الدولة على معلومات وافية عن أوضاع سكانها : عددهم الإجمالي - عدد كل جنس (ذكور ، إناث) أعمارهم ، وغير ذلك من المعلومات .  
**ب - الإحصاء الحيوي :** تسجيل المواليد والوفيات وحالات الزواج والطلاق ، ونحصل على بياناتها من واقع السجلات الرسمية للدولة .

**نشاط (١)** بالاستعانة بالإنترنت  قم بزيارة موقع الإدارة المركزية للإحصاء [WWW.CSB.GOV.KW](http://WWW.CSB.GOV.KW) ، ثم أجب عما يلي :

متى أنشئت الإدارة المركزية للإحصاء في الكويت؟

١٩٦٣ م

متى أُجري أول تعداد سكاني في الكويت؟ وما الجهة المسؤولة عن ذلك؟

١٩٥٧ م... الجهة هي دائرة الشؤون الاجتماعية.





## ١ - التوزيع الجغرافي للسكان في الوطن العربي

يقدر عدد سكان الوطن العربي بنحو (٣٨٢،٠٠٩) مليون نسمة حسب إحصائية ٢٠١٤ موزعة على النحو التالي :

م	الدولة العربية	المساحة كم <sup>٢</sup>	تقديرات عدد السكان (ألف نسمة)	م	الدولة العربية	المساحة كم <sup>٢</sup>	تقديرات عدد السكان (ألف نسمة)
١	السعودية	٢،٢٥٠،٠٠٠	٣٠،٧٧٠	١	مصر	١،٠٠٩،٤٥٠	٨٦،٨١٤
٢	العراق	٤٣٥،٠٥٢	٣٦،٠١٥	٢	السودان	١،٨٨٢،٠٠٠	٣٧،٤٠٢
٣	سوريا	١٨٥،١٨٠	٢٢،٧١٤	٣	الجزائر	٢،٣٨١،٧٤١	٣٩،٤٠٢
٤	فلسطين	٢٧،٠٠٠	٤،٥٥٠	٤	المغرب	٧١٠،٨٥٠	٣٣،٣٠٤
٥	الأردن	٨٩،٣١٨	٦،٦٧٥	٥	تونس	١٦٤،١٥٠	١٠،٩٨٣
٦	لبنان	١٠،٤٥٢	٤،٠٧٢	٦	ليبيا	١،٦٦٥،٠٠٠	٥،٩١٢
٧	الكويت	١٧،٨١٨	٣،٧١٥	٧	الصومال	٦٣٧،٦٥٧	١٢،٣١٧
٨	الإمارات	٧١،٠٢٣	٨،٥٢٥	٨	موريتانيا	١،٠٣٠،٧٠٠	٣،٥٤٦
٩	البحرين	٧١٢	١،٣٩٩	٩	جيبوتي	٢٣،٢٠٠	٩٣٩
١٠	قطر	١١،٦٠٦	٢،٠٥١	١٠	جُزر القمر	٢،٢٣٦	٧٦٥
١١	اليمن	٥٥٥،٠٠٠	٢٥،٩٥٦				
١٢	عُمان	٣٠٩،٥٠٠	٤،١٨٣				
	مجموع الجناح العربي الآسيوي	٣،٩٦٢،٦٦١	١٥٠،٩٢٥		مجموع الجناح العربي الأفريقي	٩،٥٠٦،٩٨٤	٢٣١٣٨٤

شكل (٤٩) إحصائية تبين مساحة الدول العربية وتقديرات عدد السكان في عام (٢٠١٤م)

## نشاط (١)

ادرس الجدول السابق شكل (٤٩) ثم أكمل الجدول الآتي :

عدد سكان الوطن العربي في الجناح الأفريقي	٣١١,٣٨٤,٠٠٠ نسمة
عدد سكان الوطن العربي في الجناح الآسيوي	١٥٠,٩٢٥,٠٠٠ نسمة
إجمالي عدد سكان الوطن العربي	$٣١١,٣٨٤ + ١٥٠,٩٢٥ = ٤٦٢,٣٠٩$ مليون نسمة
أكثر الدول العربية سكاناً	مصر
الدول العربية التي يزيد عدد سكانها على (٢٠) مليون نسمة	مصر - السودان - الجزائر - المغرب العودية - العراق - سوريا - اليمن
الدول العربية التي يقل عدد سكانها عن (٥) مليون نسمة	عُربانيا - ميسوي - فلسطين - لبنان الكويت - الامارات - قطر - البحرين

عُمان

نشاط (٢) ادرس الجدول شكل رقم (٤٩) ، ثم قارن بين مساحة الدول التالية بعدد سكانها :

دولة	مساحة الدولة	عدد سكانها
دولة الكويت	١٧,٨١٨	٣,٧١٥,٠٠٠
مصر	١,٠٠٩,٤٥٠	٨٦,٨١٤,٠٠٠
ليبيا	١,٦٦٥,٠٠٠	٥,٩١٢,٠٠٠

ماذا تستنتج من الجدول السابق؟

المساحات تتفاوت من دولة الى اخرى  
لا يوجد علاقة بين عدد السكان ومساحة الدولة  
قد تكون دولة كبيرة وعدد سكانها قليل ويمكن صيغ

أضف إلى معلوماتك :

يختلف عدد السكان بين دولة عربية وأخرى اختلافاً كبيراً ، ويعود هذا التفاوت ليس فقط للمساحة الكلية وإنما للعوامل الطبيعية والبشرية .





## ٢- الكثافة السكانية في الوطن العربي

يقصد بكثافة السكان نسبة عدد السكان الكلي في دولة ما ، أو منطقة ما ، إلى المساحة الكلية لهذه الدولة أو المنطقة ، ولكن هذه الكثافة لا تعطي صورة واضحة عن توزيع السكان داخل الدولة أو المنطقة أو الإقليم ، حيث تعاني بعض الدول وفي مقدمتها جمهورية مصر العربية من سوء توزيع السكان فيها ، حيث يتركز السكان على مساحة صغيرة جداً (وادي النيل ودلتاه) ، لماذا برأيك؟

### الكثافة السكانية العامة :

عدد السكان الكلي

المساحة الكلية

### نشاط (٣)

استخرج الكثافة السكانية العامة للدول العربية التي بالجدول مستعيناً بشكل (٤٩) .

www.school-kw.com

الدولة	الكثافة السكانية العامة
الكويت	٢٠٨ ٪
موريتانيا	٣,٤٤ ٪
مملكة البحرين	١٩٦٤ ٪

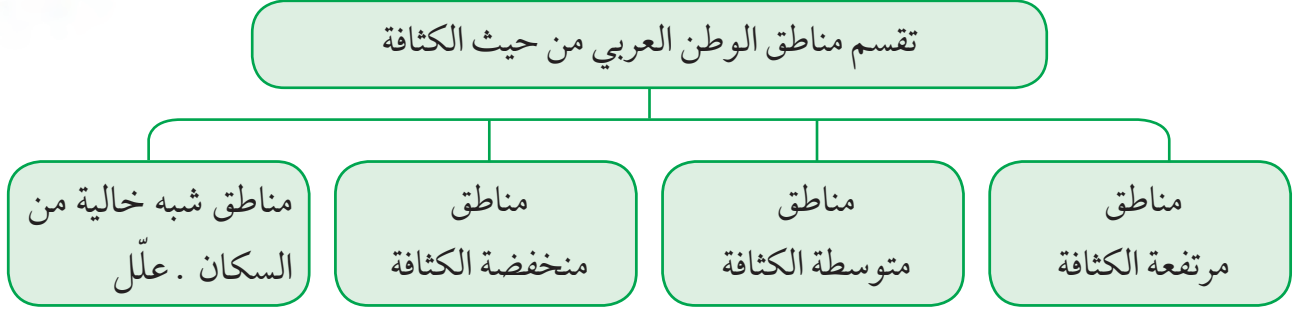
ماذا تستنتج من الجدول السابق؟

الكثافة السكانية متفاوتة من دولة

إلى الأخرى



ويمكن تقسيم الوطن العربي إلى الأقسام التالية :



شكل (٥٠) تقسيم مناطق الوطن العربي من حيث الكثافة السكانية

ما أسباب هذا الاختلاف؟

لاحظ المخطط السهمي شكل (٥٠) والصور شكل (٥١) وتعرّف على العوامل المؤثرة في توزيع السكان .



لماذا يتجمع السكان حول مصادر المياه؟



لماذا يصعب العيش في المناطق الجبلية؟



لماذا يفضل السكان العيش في المناطق السهلية ذات المناخ المعتدل؟



هل الصحراء مناطق جاذبة للسكان؟

شكل (٥١) صور توضح العوامل المؤثرة في توزيع السكان



نشاط (٤) لاحظ شكل (٥١) ، ثم أجب عما يلي؟



ما المناطق المناخية التي يقل فيها السكان؟

المناطق الصحراوية - المناطق الباردة - المناطق الاستوائية

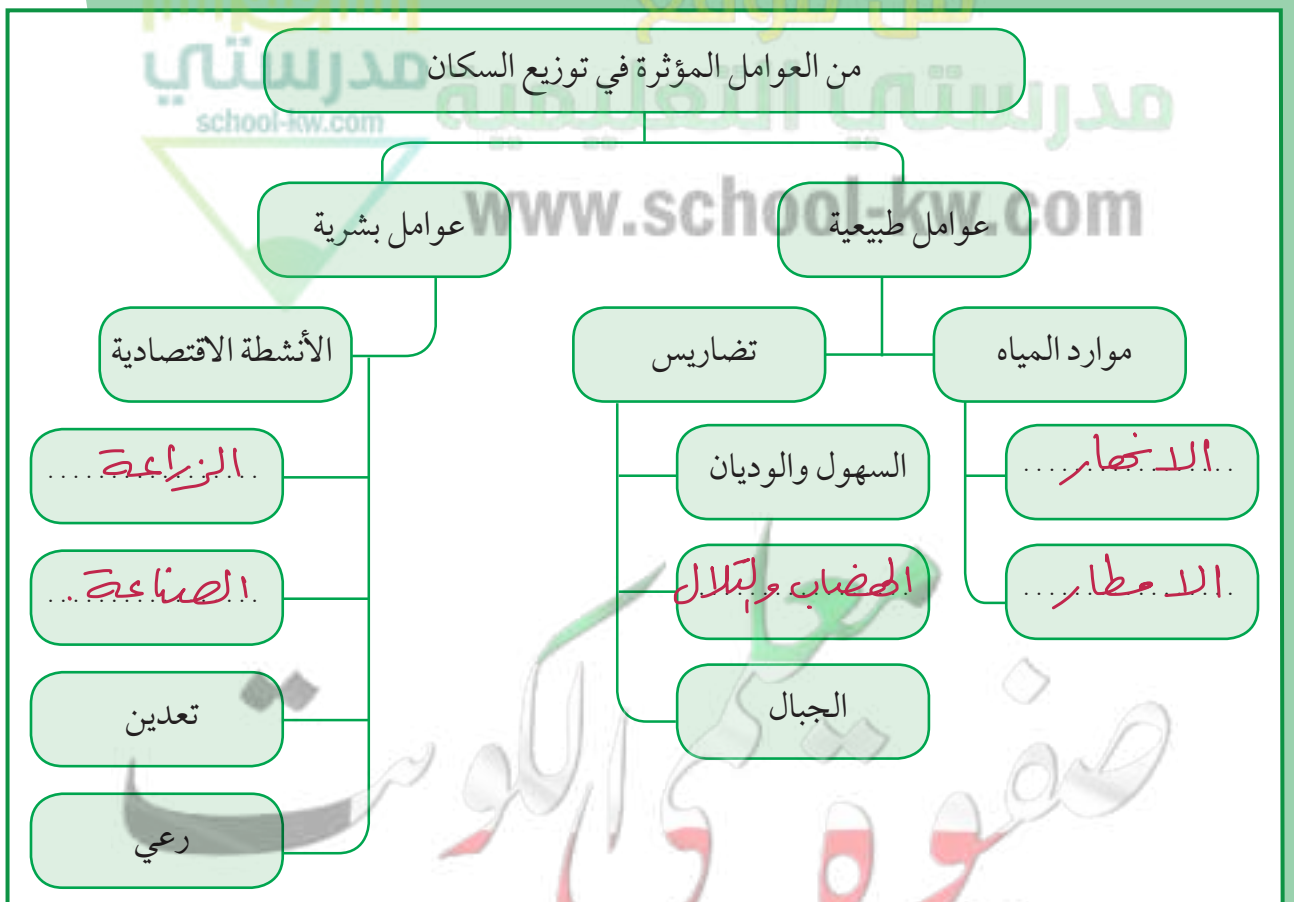
ما المناطق التي يجذب السكان للعيش فيها؟

السهول والمناطق المعتدلة

ما المناطق التي لا يرغب السكان العيش فيها؟

المناطق الصحراوية والحارة والجليدية

نشاط (٥) من خلال دراستك السابقة أكمل مخطط العوامل المؤثرة في توزيع السكان .



شكل (٥٢) مخطط العوامل المؤثرة في توزيع السكان





**نشاط (١)** للتعرف أكثر على توزيع الكثافة السكانية اقرأ النص ، ثم ساعد خالداً في الإجابة عن تساؤلاته :



شكل (٥٣) الزراعة على المدرجات الجبلية في اليمن

ترتفع الكثافة السكانية في المناطق التي تتمتع بمقومات طبيعية ومناخية ملائمة وثروات طبيعية وطرق مواصلات ، وتنخفض الكثافة في المناطق التي لا تتوفر فيها هذه المقومات .

فرغم الصعوبات التي تواجه السكان في بعض أنواع التضاريس ، وبفضل التطور العلمي فقد استطاع الإنسان التغلب عليها والعيش في تلك المناطق ، فحول الجبال إلى مدرجات وزرعها ، وشق العديد من الطرقات ، كذلك استطاع أن يواجه ظروف العيش في الصحراء ويستغل ثرواتها الطبيعية .

تم تحميل الحل

• كيف تغلب الإنسان على صعوبة العيش والزراعة في الجبال؟

تقام بتحويلها إلى مدرجات

• ما أسماء المدن ، والدول التي نشأت ونمت في الصحراء؟

دولة الخليج العربي ولعمياء



• كيف استطاع الإنسان أن يتغلب على بعض صعوبات المناخ ويسكن في المناطق الباردة؟

استغلال التطور العلمي والتكنولوجيا وتوفير الاموال لذلك

• كيف تمكن الإنسان من العيش في

الصحراء؟ استغلال الثروات الطبيعية وقام بفتح الطرق عن طريق التقدم العلمي

نستخلص من السابق ما يلي :

- يستقر الإنسان في المناطق التي توفر له إمكانية استغلال مواردها .
- أكبر تجمع للسكان يكون حول الأنهار والبحار ومصادر المياه .
- المناخ المعتدل عامل جذب للسكان .





### ٣- النمو السكاني في الوطن العربي

#### يقصد بالنمو السكاني :

تزايد عدد السكان من عام لآخر نتيجة للزيادة الطبيعية للسكان (معدل المواليد - معدل الوفيات) والهجرة .

يقدر معدل النمو السنوي للسكان في الوطن العربي بحوالي ٢,٢٠ حسب إحصائيات عام ٢٠٠٦م ، وهو معدل مرتفع للغاية إذ يفوق المعدل العالمي والذي يقدر بحوالي ٧,١٪ . وتختلف هذه الزيادة من دولة إلى أخرى ، ويتوقف تأثير هذه الزيادة على مساحة الدولة من جهة ومواردها من جهة أخرى .

#### لماذا تهتم الدول بمعرفة معدلات النمو؟

للإجابة عن هذا السؤال يجب أن نلقي الضوء على مكونات هذا النمو .

#### • الزيادة السكانية :

الزيادة السكانية نوعان :

٢- زيادة غير طبيعية : هي الزيادة الناتجة عن الهجرة .

١- زيادة طبيعية : هي الفرق بين معدل المواليد ومعدل الوفيات .

#### • الهجرة :

الهجرة نوعان :

هجرة خارجية من دولة إلى دولة أخرى .

هجرة داخلية من القرى إلى المدن .

• يرجع النمو السكاني بالوطن العربي إلى عاملين هما الزيادة الطبيعية ، والهجرة .

شكل (٥٤) مكونات النمو السكاني في الوطن العربي



## نشاط (١) ناقش مع معلمك كلاً من :



- أسباب هجرة الأيدي العاملة من دول آسيا إلى بعض دول الوطن العربي .
  - أسباب هجرة الأيدي العاملة من بعض الدول العربية إلى منطقة الخليج العربية .
- لتوضيح فرص العمل وارتفاع الأجور ، ووجود ازعاج اقتصادية في دولهم
- والاتجاه المرتفعة وهاجرة دول الخليج الى التخصصات لفتية

## نشاط (٢)

فكر واستنتج مع خالد ، ماذا يحدث لو : زاد عدد السكان بكثرة عن عدد موارد الدولة الاقتصادية؟

سوف تحدث ازعاج اقتصادية وينخفض دخل الفرد وارتفاع الاسعار



مما سبق فيما يتعلق بتوزيع السكان ، والكثافة السكانية ، والنمو السكاني في الوطن العربي .

هل يمكننا القول إن :

هناك مشكلة سكانية في الوطن العربي؟ ناقش هذا الموضوع مع معلمك .



ارتفاع معدل نمو السكان في بعض دول الوطن العربي مشكلة :

### المشكلة : النمو السكاني

تعاني معظم الدول العربية من ارتفاع كبير في أعداد سكانها بشكل غير منطقي أحياناً وغير مدروس وغير علمي ونتيجة الأحداث السياسية المتسارعة التي تحدث في الوطن العربي ، ارتفعت الهجرات في هذه المنطقة من العالم مما سبب زيادة في أعداد سكان بعض الدول ونقص كبير في أعداد دول أخرى ، وكما هو معروف فإن زيادة عدد السكان بشكل كبير تسبب الضغوطات على كافة موارد الدولة سواء المانية أو الاقتصادية أو الغذائية وغيرها وخاصة في ظل انحسار بعض الموارد في جزء معين من مناطق العالم العربي وايضا قلة أو انعدام التعاون بين الدول العربية مما جعلنا نرى دول عربية ضمن قائمة اغنى الدول واكثرها رفاهية وفي المقابل دول اخرى اصبحت تعد عالية على المجتمع الدولي من شدة الفقر فيها

### اقتراحات حل المشكلة

الاهتمام بمتابعة وتقييم الخطط بصورة ترفع كفاءة نظم المعلومات السكانية  
الارتقاء بمستوى الخدمات الصحية والانجابية وتنظيم الاسرة  
انشاء مدن جديدة متكاملة من حيث جميع المرافق  
تطوير المدن والقرى وتزويدها بالخدمات بكافة انواعها  
نقل افرع للوزارات والمصالح الحكومية خارج المدن الكبيرة  
تحسين وضع المرأة من خلال التعليم والعمل والاهتمام بصحتها حتى تكون صاحبة قرار  
في تحديد عدد اطفال اسرتها





## الدرس الثاني

### الموارد الاقتصادية في الوطن العربي

وهب الله منطقتنا العربية ثروات اقتصادية وموارد طبيعية مهمة .

**نشاط (١)** لاحظ الصور التالية ثم اكتب الثروات الطبيعية وأهميتها بالنسبة لوطننا العربي :



الثروة : ..... **الطبيعية**  
الأهمية : ..... **توفير فرص العمل**



الثروة : ..... **البحرية**  
الأهمية : ..... **زيادة الدخل القومي للدولة**



الثروة : ..... **المائية**  
الأهمية : ..... **اقتصادية وغذائية**



الثروة : ..... **الحيوانية**  
الأهمية : ..... **اقتصادية وغذائية**

شكل (٥٥)

#### الموارد البشرية :

الموارد البشرية هي التي ترتبط بالسكان من حيث أعدادهم وتوزيعهم ومناسبة أعدادهم لمساحة الأرض التي يستغلونها .

#### الموارد الطبيعية هي :

الثروات التي منحها الله لإقليم من دون أن يكون للإنسان أي دور في وجودها .  
مثل : الثروات المعدنية والغابات والمراعي والموارد المائية وموقع الإقليم .





## أولاً - إنتاج الغذاء في الوطن العربي

### أ - الإنتاج الزراعي :

يأتي القطاع الزراعي في المرتبة الأولى ، حيث إنه يشكل نسبة ٥٠٪ من الاقتصاد العربي مقارنة بالقطاع الصناعي (٢٠٪) والخدمات العامة (٣٠٪) خاصة في الأقطار غير المنتجة للنفط ، حيث توفر الغذاء والعمل والمادة الأولية لكثير من الصناعات الغذائية ، وتختلف أنواع هذه المنتجات من دولة عربية إلى أخرى بسبب اختلاف المناخ والتربة ومدى توافر المياه في هذه الدول ، كما أن إنتاج الوطن العربي من بعض هذه المنتجات كالقطن والزيتون والصمغ العربي والحمضيات يصدر إلى الخارج بكميات مناسبة مما يكسب الوطن العربي أهمية كبيرة .

### نشاط (١) تم تحميل الحل

استنتج ثلاث فوائد أساسية للنشاط الزراعي في الوطن العربي :



- |                  |
|------------------|
| ١ - توفير الغذاء |
| ٢ - توفير العمل  |
| ٣ - التصدير      |

### نشاط (٢)

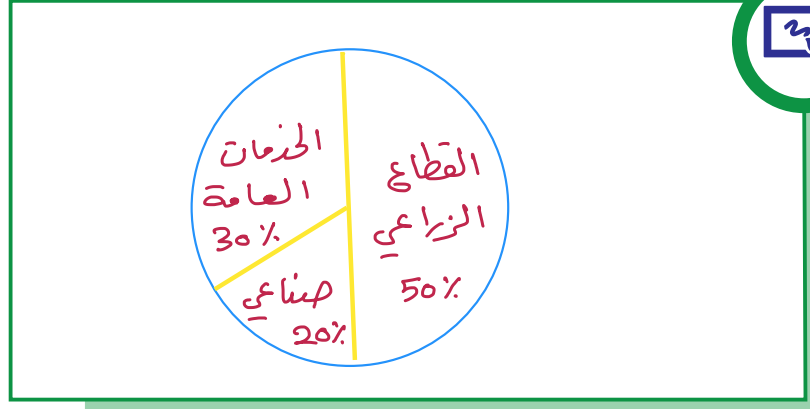
من خلال دراستك السابقة تعرف على المناطق الزراعيّة في الكويت ، ثم دونها في الجدول التالي :



في الجنوب	في الشمال
الوفرة	العبدلي



نشاط (٣) هل تستطيع رسم دائرة بيانية لأهمية القطاع الزراعي بالنسبة لبقية القطاعات في الاقتصاد العربي؟



نشاط (٤) من خلال الاستدلال بالصور ساعد خالداً في إكمال مخطط مقومات الإنتاج الزراعي .

### ب - مقومات الإنتاج الزراعي



شكل (٥٦) مقومات الإنتاج الزراعي

عزيزي المتعلم :

بالرجوع إلى الوحدة الأولى من هذا الكتاب

ما هي مصادر المياه الرئيسية في الوطن العربي؟ الانهار - الاطبار - المياه الجوفية ...

كلية مياه البحر



## نشاط (٥)

اكتب رسالة لزميلك تنصحه فيها بالمحافظة على النباتات في مدرستك ، وتوضح له كيفية الاعتناء بها .



يجب المحافظة على النباتات  
لأنها تجعل بيئتنا أجمل

- يجب ان نسقيها الماء لأن  
النباتات لا تعيش من دون ماء  
قال تعالى « و جعلنا من الماء كل شيء حي »

- ان تكون في مكان مشمس فالنبات يحتاج الى الشمس  
لتنمو

- يجب وضع النباتات في تربة نظيفة

- يجب ان لا تقطع الازهار و لنباتات بل ناعد حين زراعتها



## ج - المحاصيل الزراعية في الوطن العربي

### الفواكه والثمار

تتطلب ظروفاً مناخية خاصة تتركز معظمها في حوض البحر المتوسط وتزرع منها أنواع كثيرة .

### الغلات الصناعية والتجارية

وتشمل الغلات التي تدخل في الصناعة وتزرع بغرض التجارة والحصول على نقد ، ولذلك تسمى (الغلات النقدية) .

### الحبوب الغذائية

تُعدُّ من أهم المزروعات في الوطن العربي حيث تشغل مساحة كبيرة من الأراضي المزروعة ، وتؤثر كمية الأمطار في إنتاجها من عام إلى آخر ، ويأتي في مقدمتها القمح والأرز والذرة والشعير .

قام خالد بزيارة (سوق المباركية) للتعرف على بعض المحاصيل والمنتجات الزراعية المستوردة من الوطن العربي .



شكل (٥٧) سوق المباركية بالكويت

**خالد :** السلام عليكم ، العم صالح كيف حالك؟

ما هي أنواع المحاصيل الزراعية التي يمكن ان أجدها عندك؟

**العم صالح :** تتوفر لدينا **حبوب غذائية** : مثل الشعير والأرز والقمح والذرة و**غلات صناعية وتجارية** : مثل البن والشمندر والزيتون وقصب السكر أيضاً ، و**فواكه وثمار** : مثل العنب والتفاح والحمضيات والموز .

**خالد :** ومن أين تستورد كل هذه المحاصيل يا عم؟

**العم صالح :** نستوردها من جميع دول الوطن العربي فهي جميعها منتجات يتم زراعتها في الوطن العربي .

**نشاط (١)** هل تستطيع مساعدة خالد في تصنيف المحاصيل الزراعية حسب نوعها من خلال الحوار الذي

دار بين خالد والعم صالح في الجدول التالي؟

الفواكه والخضار	الغلات الصناعية والتجارية	الحبوب الغذائية
الصب التفاح الحمضيات - الخوخ	البن الشمندر الزيتون - قصب السكر	الشعير الأرز القمح - الذرة





## نشاط (٢)

تعرف على الدول التي تحتل المراكز الأولى في إنتاج جميع أنواع المحاصيل الغذائية ، ثم اجمع صوراً لبعض المحاصيل :

### أ - الحبوب الغذائية :

الأرز	الذرة (الشامية)	الشعير	القمح	الغلة الزراعية
مصر	مصر	المغرب	مصر	الدول العربية
العراق	المغرب	سوريا	السعودية	
المغرب	السودان	الجزائر	المغرب	

### ب - الغلات الصناعية :

قصب السكر	البن	القطن	الغلة الزراعية
مصر	اليمن	مصر	الدول العربية
السودان	-	السودان	
المغرب	-	سوريا	

### ج - الفواكه والأشجار :

الموز	الموالمح	التمور	العنب	الغلة الزراعية
الصومال	مصر	السعودية	سوريا	الدول العربية
-	لبنان	مصر	مصر	
-	سوريا	العراق	الجزائر	



فواكه وثمار



غلات نقدية



حبوب غذائية



### نشاط (٣)

لاحظ الصور في المخطط السهمي التالي لتتعرف على المشكلات التي تعاني منها الزراعة في الوطن العربي .

#### د - المشكلات التي تعاني منها الزراعة في الوطن العربي



..... حين المجاصيل تقليدياً  
وعدم توفر الآليات لعامة  
المدرجة

..... جفاف التربة ..... استخدام طرق بلائية

شكل (٥٨) المشكلات التي تعاني منها الزراعة في الوطن العربي

نشاط (٤) لاحظ الصور التالية ، ثم عرّف المفاهيم التالية :



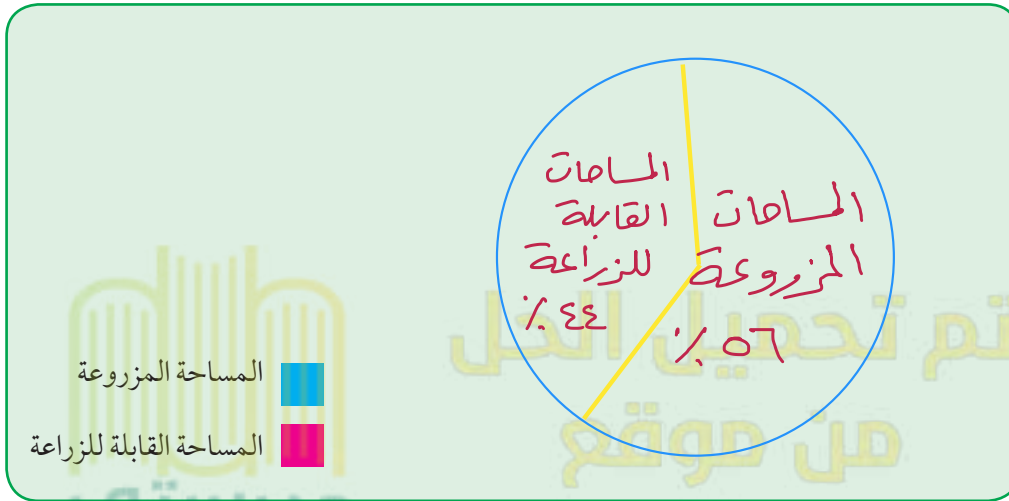
الزراعة التقليدية : هي الزراعة التي تعتمد على الطرق البدائية .  
الزراعة الحديثة : هي التي تعتمد على الطرق الحديثة والتكنولوجيا.

شكل (٥٩)



## نشاط (٥)

تبلغ المساحة المزروعة في الوطن العربي حوالي ٥٦٪ من المساحة القابلة للزراعة ، فهل تستطيع رسم دائرة بيانية لهذه النسبة؟



## نشاط (٦)

ابحث مع زملائك عن أسباب عدم استغلال الأراضي الصالحة للزراعة ، مستخدماً مراجع خارجية من مكتبة المدرسة :



- قلة المياه وارتفاع نسبة الملوحة وهطاف التربة
- قلة اليد العاملة نظراً للصحة عن الريف الى المدن
- اتباع الاساليب التقليدية في الزراعة
- اعتماد بعض الاراضن الزراعية على مياه الامطار





## ثانياً - الإنتاج الحيواني

يمتلك الوطن العربي أعداداً متنوعة من الثروة الحيوانية التي تساهم في موارد الدخل لكثير من الدول العربية ، وهي ثروة قابلة للزيادة والنمو إذا ما تدخل الإنسان بعمله واجتهاده ووسائله الحديثة لرعايتها وتنظيم استغلالها وتحسين أنواعها وإعداد الغذاء الكافي لها ، وتتربى هذه الحيوانات في المراعي وبعضها في الأراضي الزراعية .



اقرأ وتعلم :

### أ - الثروة الرعوية

#### نشاط (١)

يمتلك الوطن العربي أنواعاً كثيرة من الثروة الرعوية ، فهل تستطيع لصق صور لهذه الثروة .



الاعننام



الابقار



الدرجاج



الأبل



## نشاط (٢)

لاحظ الجدول التالي ، ثم قم بعملية حسابية لإنتاج الوطن العربي من الثروة الرعوية :

أبقار	أغنام	ماعز	إبل
٤٥	١١٦,٦٦	٦٤	٤٩

$$٤٥ + ١١٦,٦٦ + ٦٤ + ٤٩ = ٢٣٦,٦٦ \text{ مقدر بمليون رأس}$$



شكل (٦٠)

- تحتل الأغنام العربية مكاناً مهماً ضمن الثروة الرعوية ، ويرجع ذلك إلى الأسباب التالية :
- ١ - الأكثر انتشاراً في المراعي العربية .
  - ٢ - أكثر الحيوانات المستأنسة والملائمة لمراعي الوطن العربي ؛ وذلك لتحملها الجفاف والانتقال .
  - ٣ - لأهمية منتجاتها بالنسبة للسكان .
  - ٤ - لأنها مصدر أساسي من مصادر الثروة القومية .

الرقم	أغنام	نسبة الإنتاج	الماعز	نسبة الإنتاج	الأبقار	نسبة الإنتاج	الإبل	نسبة الإنتاج
١	المغرب	١٥,٧	مصر	٣,٨	السودان	٢٢	الصومال	٦,٦
٢	السودان	١٨,٥	المغرب	٥,٨	مصر	٦,٧	السعودية	٠,٨٥٠
٣	العراق	٩,٢	السودان	١٣,٥	المغرب	٣,٣	السودان	٢,٨



### نشاط (٣)

لاحظ الجدول السابق (لأعداد الثروة الرعوية) ، ثم أجب عن الأسئلة التي تليه ، فهل تستطيع أن تحدد الدول التي تصدر المراكز الأولى بما تملكه من الثروة الرعوية حسب الصور التالية؟



.....السودان



.....السودان



.....الصومال



.....السودان

شكل (٦١) الثروة الرعوية

### نشاط (٤)

فكر واستنتج : لماذا تمتلك الصومال ٦, ٦٪ من ثروة الوطن العربي من الإبل؟

.....لانتشار المراعي الصحراوية بالصومال





## ب - تربية الدواجن والطيور

تنتشر تربية الدواجن والطيور في جميع الدول العربية ، ويكفي الإنتاج فيها حاجة السكان المحلية في معظم الأقطار .

### نشاط (١)

ابحث مع معلمك عن العوامل التي ساعدت على انتشار مزارع الدواجن في الوطن العربي .

سهولة تربيتها وتوفر المزارع لها وتوفر الإغلاف



### نشاط (٢)

شارك زملاءك في تحديد أهم المشكلات التي تواجه تربية الدواجن في الوطن العربي ، مع اقتراح حلول لهذه المشكلة (تعلم تعاوني) .

**المشكلة :** انتشار مرض الفلورنزا الطيور  
نقص الادوية والتحصينات - وقلة العمالة المدربة  
الإغلاف : غلاء أسعارها - التخزين السيئ - ولتصنيع ليس  
وطمع التجار

### اقتراحات حل المشكلة :

يكتفي في النوع الطفيف بإدارة القطيع السليمة وتغذيته جيداً  
والتطهير المستمر ، استخدام اللقاحات التي تسمح لها الفزارة







### نشاط (٣)

التقط صورة لأحد أنواع الطيور والدواجن في دولة الكويت ثم ألصقها في المربع :



مدرستي  
school-kw.com

مدرستي التعليمية

www.school-kw.com

معلمة في الكويت  
KwAitteacher.Com



## ج - الثروة المائية



شكل (٦٢)

دول الوطن العربي دولٌ بحرية لها سواحل  
ومسطحات مائية واسعة منها المالحة ومنها العذبة ،  
لذلك تتنوع الثروة المائية في الوطن العربي .

قام خالد بزيارة للمركز العلمي حيث تعرف على  
الثروة المائية في بلده الكويت والوطن العربي ، فهل  
تستطيع عزيزي المتعلم الإجابة عن تساؤلات خالد؟

**نشاط (١)** ألصق صوراً لبعض أنواع الأسماك في مياه الخليج العربي .



الزبريدي



النفوسبي



نقرور



الحامور

هل هناك ثروات مائية أخرى في المركز العلمي؟ اذكرها .



... القواقع



... المرجان



... الإسفنج



... اللؤلؤ

وما أهميتها الاقتصادية؟

تأهم في زيادة دخل الدولة وتقوم عليها الكثير من الصناعات  
وتوفر فرص العمل

شكل (٦٣) الثروة المائية



نشاط (٢) اقرأ الجدول جيداً ، ثم أجب :

الرقم	الدولة	الإنتاج (ألف طن)
١	اليمن	١٥٧
٢	مصر	١٣٧٤
٣	موريتانيا	٦٤٤
٤	المغرب	١٢٤٦
٥	تونس	١٢٣
٦	الجزائر	١٢٢
٧	عُمان	٢٠٦
٨	الإمارات	٧٣

شكل (٦٤) الإنتاج السمكي في بعض دول الوطن العربي

١ - رتب الدول الخمس الأولى في الإنتاج السمكي ترتيباً تنازلياً .

مصر - المغرب - موريتانيا - عمان - اليمن

٢ - عدد ثلاث دول عربية تحتل المراكز الأولى في الإنتاج .

مصر - المغرب - موريتانيا

٣ - فكر واستنتج :

- لماذا تساهم مصر بأكثر من ثلث الإنتاج العربي من الأسماك؟

لطول ساحلها على البحر المتوسط والبحر الأحمر ونهر النيل

نشاط (٣) اكتب بعض المقترحات التي تساعد في تنمية الثروة السمكية .

تكوين المطول من الفن الحديثة المتخصصة في صيد الأسماك

وهود الخبرة والكوادر الفنية العاملة







## ثالثاً - الطاقة والثروة المعدنية

### نشاط (١)

ساعد خالداً في تحديد أهم الصناعات في الوطن العربي ، مستعيناً بالصورة التالية :



استخراج النفط والغاز الطبيعي

صناعة النحاس



صناعة الحديد

يمتلك الوطن العربي ثروة معدنية كبيرة لها أهميتها محلياً وعالمياً ، حيث ينتج العديد من الخامات المعدنية ومصادر الطاقة الأساسية لقيام الصناعة بكافة أنواعها .

شكل (٦٥)

### نشاط (٢) هل نستفيد من الثروة المعدنية؟

نعم

ما دليلك؟ توفير فرص العمل - زيادة الدخل القومي للدولة - تقوم عليها كثير من الصناعات تستخرج الثروة المعدنية من باطن الارض عن طريق البحث والتنقيب



## أ - النفط والغاز الطبيعي

يعد النفط والغاز الطبيعي من أهم مصادر الطاقة التي تقوم عليها صناعات مهمة لاغنى عنها في حياتنا ،  
فهما مهمّان بالنسبة لاقتصاد الدول العربية :

### نشاط (١)



بمناقشة زملائك ، ما أهمية النفط والغاز الطبيعي بالنسبة للدول العربية؟

- ١ - قوة محرّكة للآلات والمصانع
- ٢ - مصدر لرؤوس الاموال .....
- ٣ - مادة خام للعديد من الصناعات المهمة
- ٤ - اساس لمشاريع التنمية والعمران

نشاط (٢) ارسم أو ألصق صورة تدل على المفهوم .

الرسم أو الصورة



المفهوم

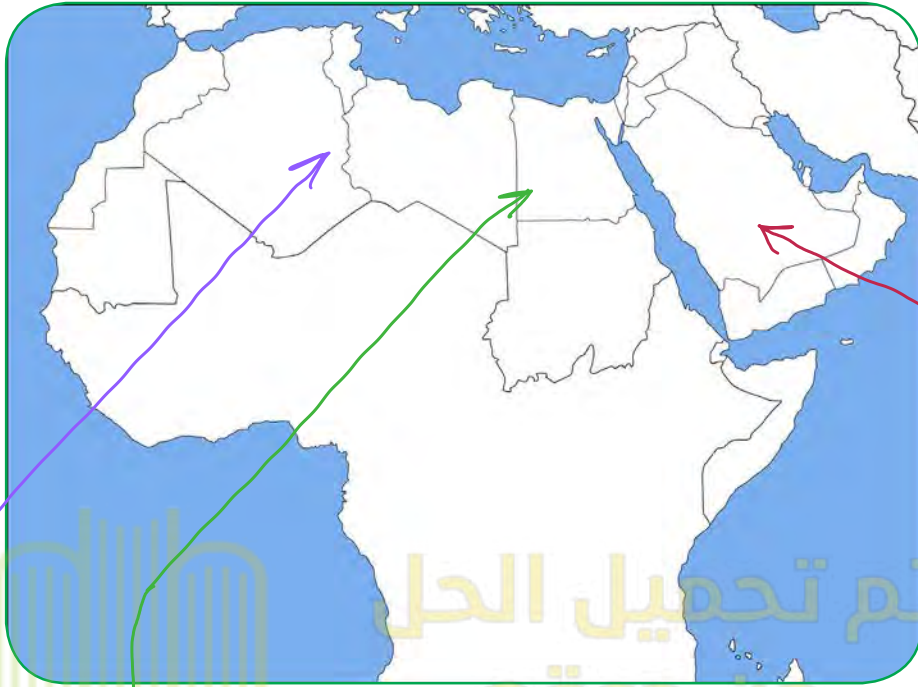
**النفط** : بقايا عضوية على هيئة نباتات وحيوانات دقيقة ترسبت في عصور قديمة وانظمرت تحت رواسب سميكة ، وتحولت بالضغط والحرارة إلى صورتها الحالية .

**الغاز الطبيعي** : غاز مصاحب للنفط الخام ، أو يوجد منفرداً ، تتم إرساله لاستخدامات عديدة .

**الطاقة** : قوى محرّكة للآلات ، وعنصر مهم للتقدم والتطور الاقتصادي في جميع المجالات .



يأتي وطننا العربي في المراكز الأولى في مجال إنتاج النفط واحتياطيه والغاز الطبيعي على مستوى العالم .

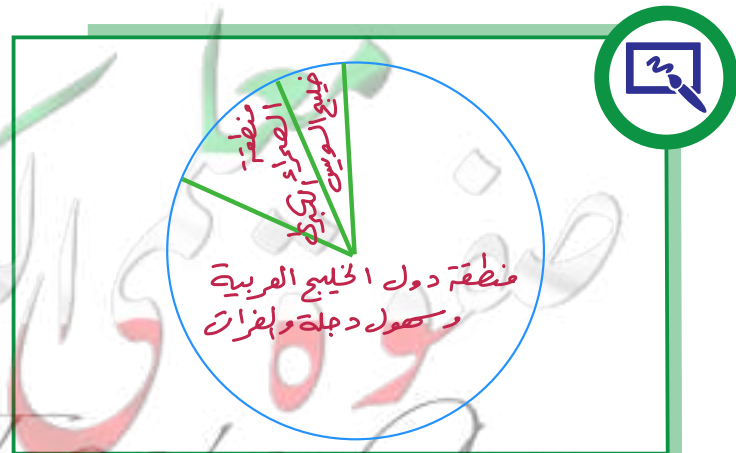


شكل (٦٦) خريطة الوطن العربي الصماء

**نشاط (١)** لاحظ الخريطة شكل (٦٦) ، ثم حدد المناطق الرئيسية الثلاث التي تتركز فيها معظم الحقول النفطية في الوطن العربي .

- منطقة دول الخليج وسهول دجلة والفرات ، ويوازي إنتاجها ٨٠٪ .
- منطقة الصحراء الكبرى ، ويوازي إنتاجها ١٨٪ .
- منطقة خليج السويس ، ويوازي إنتاجها ٧ ، ٤٪ .

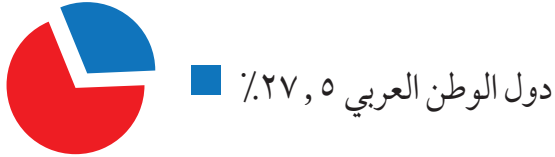
**نشاط (٢)** حول نسب المناطق الرئيسية الثلاث إلى دائرة بيانية .







## احتياط الغاز الطبيعي



## احتياط النفط الخام



## إنتاج الغاز الطبيعي



## إنتاج النفط الخام



www.school-kw.com

شكل (٦٧) يوضح نسب إنتاج واحتياط النفط والغاز الطبيعي في الوطن العربي بالنسبة للعالم.

## نشاط (٣)



قارن بين الجناح الآسيوي والجناح الأفريقي ، أكثر/ أقل مستعيناً بالشكل (٦٨) حسب معايير الجدول التالي :

الجناح	إنتاج النفط	احتياطي النفط	إنتاج الغاز الطبيعي	احتياطي الغاز الطبيعي
الآسيوي	أكثر ٨٨٪	أكثر ٩٠٪	أكثر ٦٦,٥٪	أكثر ٨٢٪
الأفريقي	أقل ١٢٪	أقل ١٠٪	أقل ٣٣,٥٪	أقل ١٨٪

## احتياط الغاز الطبيعي



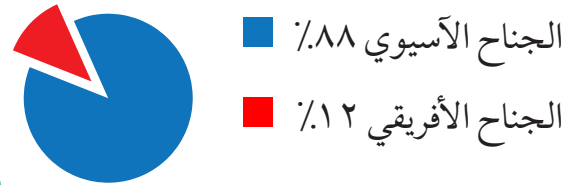
## احتياط النفط الخام



## إنتاج الغاز الطبيعي



## إنتاج النفط الخام



شكل (٦٨) يوضح نسب إنتاج واحتياطي النفط والغاز الطبيعي في الجناح الآسيوي والجناح الأفريقي في الوطن العربي

- نستنتج من الشكل (٦٨) أن الجناح الآسيوي يتفوق على الجناح الأفريقي في إنتاج النفط واحتياطه والغاز الطبيعي .



## نشاط (٤) اقرأ الجدول ثم ساعد خالدًا في الإجابة عن التساؤلات التالية :

عدد :



الرقم	الدولة العربية	إنتاج النفط الخام ألف برميل/يوم	احتياط النفط الخام مليار برميل	إنتاج الغاز الطبيعي مليار متر مكعب	احتياط الغاز الطبيعي مليار متر مكعب
١	الإمارات	٢٧٩٤	٩٧,٨	٥٤,٢	٦٠٩١
٢	البحرين	٢٠٢	٠,١	١٥,٤	٩٢
٣	تونس	٥٥,٥	٠,٤	٢,٦	٦٥
٤	الجزائر	١١٩٣	١٢,٢	٨١,٧	٤٥٠٥
٥	السعودية	٩٧٠١	٢٦٥,٨	١٠٢,٤	٨٣١٦
٦	سوريا	١٠	٢,٥	٥,٣	٢٨٥
٧	العراق	٣١١٠	١٤٥,٣	٩	٣٦٩٤
٨	قطر	٧٠٣	٢٥,٢	٢٠٤,٦	٢٤٤٠٠
٩	الكويت	٢٨٦٦,٨	١٠١,٥	١٥	١٧٨٤
١٠	ليبيا	٤٨٠	٤٨,٤	١٥,٨	١٥٣٢
١١	مصر	٥٩٣,٤	٤,٢	٤٨,٨	٢١٨٦
١٢	السودان	١٢٢	١,٥	-	٨٥
١٣	عمان	٨٥٦,٥	٥,١٥١	٢٩	٧٠٥
١٤	اليمن	١٤٠,٤	٢,٦٧	٩,٦	٤٧٩

إنتاج واحتياط دول الوطن العربي حسب إحصاء ٢٠١٤

شكل (٦٩)

١ - أسماء ثلاث دول عربية أولى في إنتاج النفط .

السعودية / العراق / الكويت

٢ - أسماء ثلاث دول عربية أولى في احتياطي النفط .

السعودية / العراق / الكويت

٣ - أسماء ثلاث دول عربية أولى في إنتاج الغاز الطبيعي .

قطر / السعودية / الجزائر

٤ - أكثر الدول العربية إنتاجاً واحتياطياً للنفط .

الإنتاج : السعودية

الاحتياطي : السعودية

٥ - ترتيب الكويت بين الدول العربية في إنتاج النفط .

التالي

٦ - الدولة العربية الأولى في إنتاج الغاز الطبيعي .

قطر

الدول العربية تصدر معظم إنتاجها من النفط والغاز الطبيعي إلى خارج الوطن العربي .

• هل تؤيد كلام خالد؟ مع ذكر الأسباب .

نعم - زيادة دخل الدولة وتعمير العملة الصعبة .....







## نشاط (٥)

اجمع صوراً توضح كيف يتم تصدير النفط ، ثم ألصقها في المربعات التالية :



الناقلات



انابيب النفط

مدرستي  
school-kw.com

مدرستي التعليمية

www.school-kw.com

معلمة  
صفوة في الكويت  
KuwaitTeacher.Com



## ب - أهمية النفط العربي

يتمتع النفط العربي بمكانة مهمة على المستوى العالمي ، نظراً لأهميته للدول الصناعية المتقدمة في أوروبا واليابان والولايات المتحدة الأمريكية .

نشاط (١) استعن بالمراجع الخارجية لإكمال الشكل التالي .



الأسباب التي أعطت النفط العربي أهمية عالمية

الموقع الاستراتيجي لحقول النفط وقربها من الأسواق

ضخامة الإنتاج وتزايد استهلاكه باستمرار

ارتفاع نسبة احتياطي النفط واستمرار نموه بسبب الاكتشافات النفطية الجديدة

انخفاض تكلفة إنتاج البترول الواحد

نشاط (٢) أجب عما يلي .



- لماذا يطلق على الغاز الطبيعي اسم الطاقة النظيفة؟

لأنه لا ينبعث عند احتراقه ظواهر ملوثة التي تسبب عن الاحتراق المنتجات

نشاط (٣) لاحظ الصور التالية ثم اكتب استخدامات الغاز الطبيعي .  
النفطية لذلك له استخدامات عديدة



توليد الكهرباء



تحلية المياه



الاستعمال المنزلي

شكل (٧٠)



## ج - التعدين في الوطن العربي

يمتلك الوطن العربي مجموعة من المعادن المهمة ، تتفاوت كميات إنتاجها من دولة لأخرى .



شكل (٧٥)  
معدن المنجنيز



شكل (٧٤)  
معدن الفوسفات



شكل (٧٣)  
معدن الحديد



شكل (٧٢)  
معدن النحاس



شكل (٧١)  
معدن الرصاص

- تحتل موريتانيا المرتبة الأولى عربياً في إنتاج معدن الحديد .
- تصدر المغرب المرتبة الأولى في إنتاج المعادن التالية : (الفوسفات - النحاس - الرصاص - المنجنيز) .



اقرأ وتعلم :

المنجنيز	النحاس	الرصاص	الحديد	الفوسفات
٣,٣ %	١٣,٠ %	٦,٦ %	١,٢ %	٢٥ %

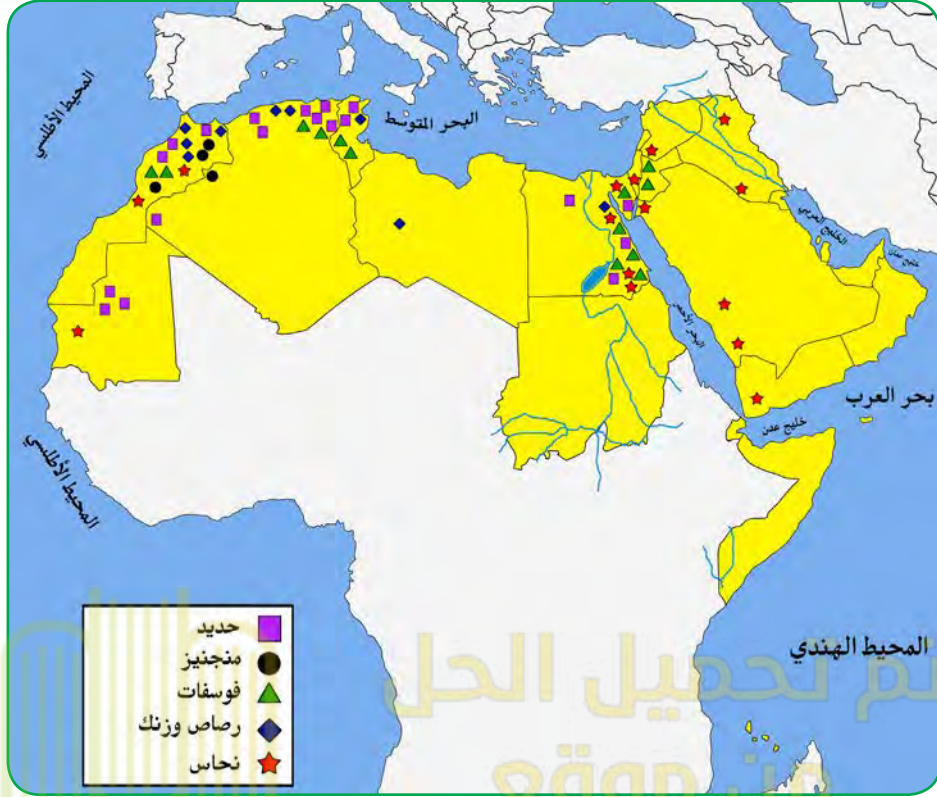
شكل (٧٦) نسب إنتاج الوطن العربي من المعادن بالنسبة للعالم

**نشاط (١)** هل هناك معادن أخرى ثمينة يملكها الوطن العربي؟ ابحث في ذلك ثم اكتب تقريراً بحدود خمسة أسطر مع ذكر المصدر .

الذهب : تصدّر بحمان المرتبة الأولى عربياً في إنتاج الذهب ....  
الزئبق : يدخل في صناعة هياكل السيارات والابحرة المنزلية والمغرب أكبر منتج له  
الالمنيوم : تعتمد صناعة الالومنيوم في مصر على كهرباء السد العالي  
تعتمد البحرين ودي والسعودية على الغاز الطبيعي .....







شكل (٧٧) خريطة توزيع المعادن في الدول العربية

## نشاط (٢)

لاحظ الخريطة شكل (٧٧) ثم أكمل الجدول التالي :

الدول العربية المنتجة للمعدن	المعدن
المغرب / تونس / الاردن	الفوسفات
عورتانيا / الاردن / مصر	الحديد
المغرب / الاردن / تونس	النحاس
المغرب / تونس	الزئبق





## د - المنظمات الاقتصادية الإقليمية والدولية

### أ - منظمة الدول المصدرة للنفط (أوبك OPEC)

مع زيادة الإنتاج النفطي واحتكار الشركات العالمية المستغلة له في إنتاجه ونقله وتكريره ، وحفاظاً على حقوق الدول المصدرة للنفط ، تم التفكير في إنشاء منظمات عربية وعالمية تكفل ذلك . وهي منظمة عالمية تعتمد على صادراتها النفطية اعتماداً كبيراً لتحقيق مدخولها ، وقد تأسست في بغداد عام ١٩٦٠م من خمس دول وهي (الكويت ، السعودية ، العراق ، إيران ، فنزويلا) تضم منظمة الأوبك بالإضافة إلى الدول المؤسسة (قطر ، الإمارات ، الجزائر ، نيجيريا ، أنغولا ، الأكوادور) ومقرها الحالي فيينا ، والهدف الأساسي للمنظمة هو الحرص على استقرار أسعار النفط في الأسواق العالمية ، وتعمل المنظمة من خلال أجهزتها .

١ - المؤتمر      ٢ - مجلس المحافظين      ٣ - الأمانة العامة .

### نشاط (١) اقرأ القطعة السابقة لتساعد خالداً في الإجابة عن التساؤلات التالية :

- ١- ما المدينة التي يقع فيها مقر المنظمة؟ **فيينا**
- ٢- ما أسماء الدول الخمس المؤسسة للمنظمة؟ **قطر / الإمارات / الجزائر**
- أنغولا / الأكوادور** .
- ٣- كم عدد الدول الأعضاء حالياً؟ **١١** دولة .
- صنف الدول الأعضاء تبعاً للقارة التي تنتمي إليها كل دولة حسب الجدول :

أمريكا الجنوبية	أفريقيا	آسيا
<b>فنزويلا</b> <b>الأكوادور</b>	<b>الجزائر</b> <b>نيجيريا</b> <b>أنغولا</b>	<b>الكويت - السعودية</b> <b>العراق - إيران</b> <b>قطر - الإمارات</b>



## نشاط (٢)

ابحث عن شعار منظمة أوبك من خلال زيارتك لموقع منظمة أوبك [www.opec.org](http://www.opec.org) ، ثم قم بلصق صورة الشعار بالمربع التالي :



### ب- منظمة الأقطار العربية المصدرة للنفط (أوبك)

أنشئت منظمة الدول العربية المصدرة للنفط (أوبك) باتفاقية أبرمت في عام ١٩٦٨م بين كل من الكويت والسعودية وليبيا ، وتم اختيار الكويت مقراً للمنظمة .  
يعد إنشاء المنظمة إنجازاً مهماً نظراً لحاجة الدول العربية المنتجة للنفط إلى تعميق التعاون فيما بينها في مختلف أوجه النشاط الاقتصادي في صناعة النفط ، وتأمين وصول النفط إلى الأسواق الاستهلاكية بشروط وأسعار عادلة ، وكذلك تسهم في تطوير الصناعات البترولية في جميع المجالات وتبادل الخبرات ولها علاقة تعاون مع منظمة الأوبك .  
وتعمل أوبك من خلال أجهزتها الثلاثة : ١ - المجلس الوزاري ٢ - المكتب التنفيذي ٣ - الأمانة العامة .






نشاط (١) لون الدول العربية الأعضاء بمنظمة الأوبك على الخريطة شكل (٧٨) باللون الأخضر .


**أضف إلى معلوماتك :**

أعضاء منظمة أوبك

السعودية - الكويت - قطر -  
الإمارات - البحرين - العراق  
سوريا - مصر - ليبيا  
تونس - الجزائر .



تم تحميل الحل



شكل (٧٨) خريطة الوطن العربي الصماء

نشاط (٢) ابحث عن شعار منظمة أوبك من خلال زيارتك لموقع منظمة أوبك [www.opec.org](http://www.opec.org)

ثم قم ب لصق صورة الشعار بالمربع التالي :





نشاط (٣) شارك زملاءك في التفكير لإثبات وجود تعاون بين منظمة الأوبك ومنظمة الأوبك .

وهو دول متربة في المنظمين مثل « الكويت - السعودية - الامارات  
قطر - العراق - الجزائر

تبادل الخبرات والعلاقات بين المنظمين  
المساهمة في تطوير الصناعة البترولية

KuwaitTeacher.com



## رابعاً - الإنتاج الصناعي

في المنزل في الشارع وفي المدرسة نستخدم أدوات وآلات متنوعة كلها مصنوعة من خامات متعددة تم تصنيعها كي نستخدمها أو نستهلكها لتسهل علينا حياتنا .

نشاط (١) استعن بالصور التالية لتحدد الصناعات التي نستخدمها في حياتنا .



صناعة الأجهزة



صناعة النقل



صناعة الأثاث

شكل (٧٩)

تتم عملية التصنيع على ثلاث مراحل :

توزيع	تحويل وتصنيع	مواد أولية	مراحل الصناعة
الأسواق	آلات ومعدات مواد غذائية أثاث	حديد نحاس حليب خشب	



نشاط (٢) قدم فكرة صناعة منتج ، متبعاً خطوات مراحل الصناعة في الجدول السابق .



اسم المنتج : ..... البلاستيك

توزيع

الاسواق

تحويل وتصنيع

صناعة  
كيميائية

مواد أولية

النفط

من النشاط السابق استنتج مفهوم الصناعة .

تحويل المواد الخام الى سلع يمكن الاستفادة منها

www.school-kw.com

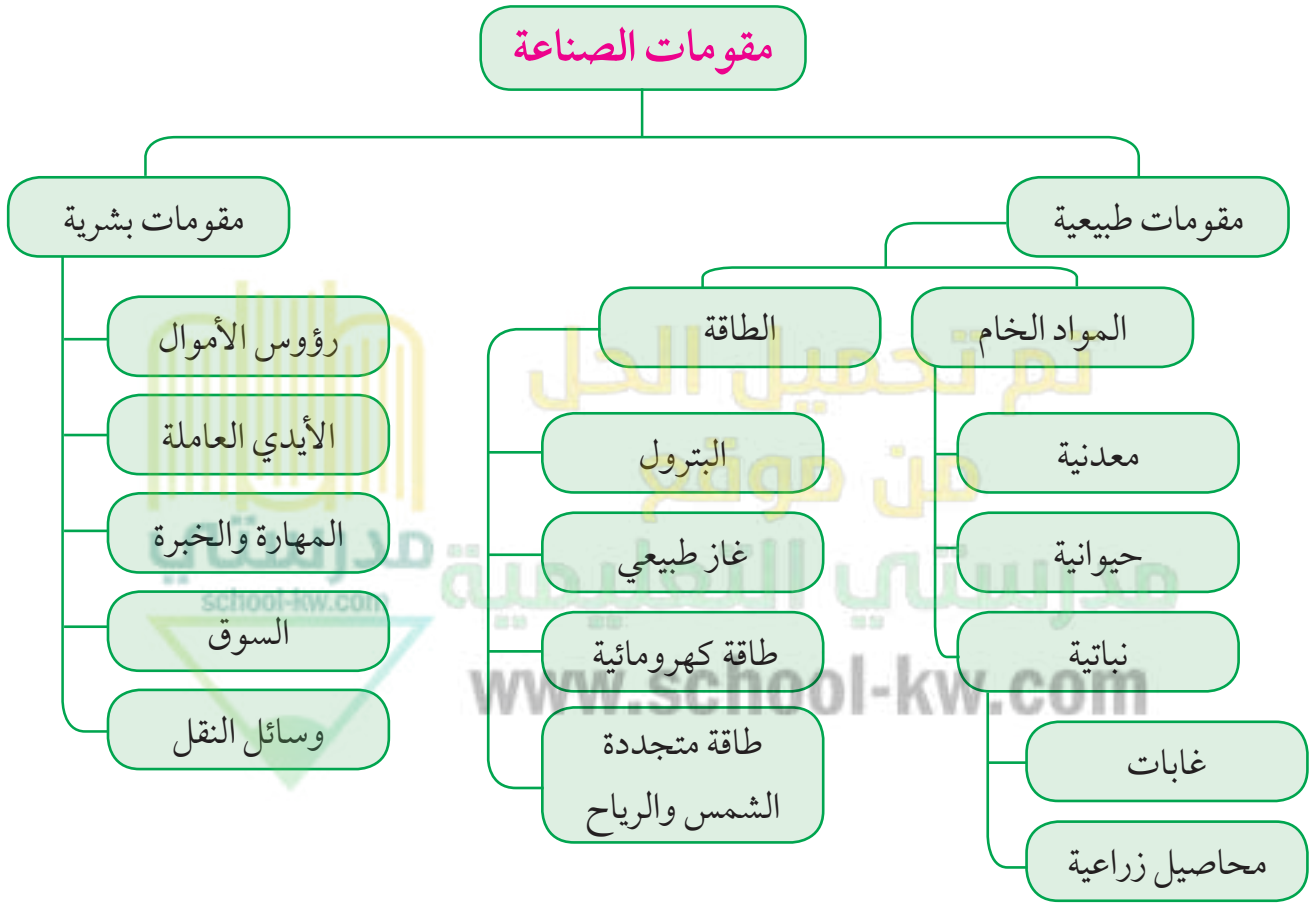
معلمة  
طفوفة  
في الكويت  
KuwaitTeacher.Com





تقوم الصناعة على مجموعة من المقومات الطبيعية والبشرية الأساسية التي تساعد على قيام صناعة حديثة وناجحة .

## أ - مقومات الصناعة في الوطن العربي



شكل (٨٠) مقومات الصناعة

يقصد بمقومات الصناعة العوامل التي تساعد على تحويل المادة الخام إلى سلع استهلاكية .



نشاط (١) ساعد خالداً في كتابة مقومات الصناعة الطبيعية والبشرية في الشكل (٨١) .

تم تحميل هذا المحتوى من موقع مدرسة الكويتية  
www.school-kw.com

شكل (٨١) شكل توضيحي لمقومات الصناعة الطبيعية والبشرية



## ب - أنواع الصناعة في الوطن العربي

### ١ - الصناعات الاستخراجية :

وتقتصر على استخراج مصادر الطاقة كالنفط والغاز والفحم وخامات المعادن والأملاح وغيرها من باطن الأرض ، وإعدادها لتصبح جاهزة للتصنيع .

**نشاط (١)** لاحظ الصور ، ثم اكتب نوع الصناعة أسفلها .





إنتاج الحديد



صفايح النحاس




استخراج النفط

شكل (٨٢) أنواع الصناعات في الوطن العربي

**٢ - الصناعات التعدينية :** تهدف إلى تنقية الخامات المعدنية وتحويلها إلى صفائح أو سبائك صالحة لتنفيذ صناعات معدنية مختلفة .

**نشاط (٢)** ناقش معلمك في جمع المعلومات التالية :



- ١ - بماذا ترتبط الصناعات التعدينية؟  
المواد الخام
- ٢ - هل توجد في كل البلدان العربية؟  
لا
- ٣ - ما أهم الدول العربية في الصناعات التعدينية؟  
المغرب - مصر - موريتانيا - ليبيا - السعودية





### ٣ - الصناعات التحويلية :

وهي تقوم على تحويل المواد الأولية من معدنية نباتية وحيوانية إلى سلع استهلاكية صالحة للاستعمال ، حيث تؤمن حاجات الإنسان من مسكن وغذاء ولباس وأدوات وآلات ، وتشمل :

الصناعة الغذائية - صناعات المنسوجات - صناعة الخشب والورق - صناعة مشتقات النفط المكررة - الصناعات البتروكيماوية - الصناعات الإنشائية .

### نشاط (١) ساعد خالدًا في تصميم معرض مصور لأنواع الصناعات التحويلية :




صناعة الحلويات



صناعة الاجبان



صناعة ادوات التنظيف



صناعة الالصباغ



صناعة الملابس



صناعة الورق

صناعات تحويلية غذائية

صناعات تحويلية كيميائية

صناعات تحويلية أخرى



#### ٤ - الصناعات التجميعية :

هي عملية تركيب وجمع المواد المصنعة ، على اختلاف مصادرها كي نحصل على سلع متنوعة .



شكل (٨٣) صناعة تجميع السيارات

#### ٥ - الصناعات الحرفية :

تُعَدُّ هذه الصناعات الأولى في العالم ، وتستخدم مواد أولية محلية وتعتمد على المجهود البشري ، وتختص بعض العائلات باحتراف بعض منها حيث يتوارث فيها الأبناء الخبرة عن آبائهم .

www.school-kw.com

نشاط (١) اكتب رسالة شكر لأصحاب الصناعات الحرفية :

شكراً لجهودكم رغم ان كل كلمات الشكر لا توفيكم ولو جزئياً لبيطاً من  
حقكم وذلك تقديرًا لعطاءكم الدائم في سبيل رفعة هذه الحرف البسيطة  
والقيمة والسير بها نحو الافضل



معلمة  
صفوة  
كلمة  
KuwaitTeacher.Com





نشاط (٢) حدد أنواع الصناعات في الصور التالية .



صناعة البشوت



صناعة السجاد



صناعة الفخار



صناعة الخوص

شكل (٨٤)

معلمة  
صفوة  
في الكويت  
KuwaitTeacher.Com





## ٦ - الصناعات البتروكيماوية :

يستخرج الوطن العربي كميات كبيرة من النفط والغاز ، يستخدم قسماً كبيراً منها في صناعات بتروكيماوية متعددة .

**نشاط (١)** هل تستطيع معرفة مشتقات النفط مستعيناً بمحطة تعبئة الوقود الموجودة في منطقتك؟

الكبريت / البنزين / الديزل / الكيروسين

**نشاط (٢)** لاحظ الصور التالية ثم اكتشف بعض أنواع الصناعات البتروكيماوية .



صناعة الإسفدة .. صناعة انابيب لبلاستيك .. صناعة الإسمنت

شكل (٨٥)

### أهداف الصناعات البتروكيماوية :

- تنوع مصادر الدخل للدولة المنتجة .
- توفير المواد الأولية للصناعات التحويلية لتأمين حاجات القطاعات الاستهلاكية (خاصة مجال البناء) .
- تطوير الصناعات البتروكيماوية إلى تقنيات متخصصة وعالية .



## نشاط (٣)

اذهب إلى مكتبة المدرسة لتجيب عن التساؤلات التالية :



١ - ما الصناعات البتروكيماوية التي تقوم على الغاز الطبيعي؟

صناعة لإجهزة... - لمواد البلاستيكية... - لمطاط الصناعي... - لمبيدات الحشرات

٢ - أين تتركز صناعة البتروكيماويات في الوطن العربي؟

دول الخليج العربي... - شمال أفريقيا

٣ - اذكر بعض الصناعات التحويلية التي تستخدمها في حياتك وترتكز على صناعة البتروكيماويات .

صناعة الورق... صناعة العقاقير الطبيعية... صناعة الصابون  
ديغ الجلود

school-kw.com

www.school-kw.com

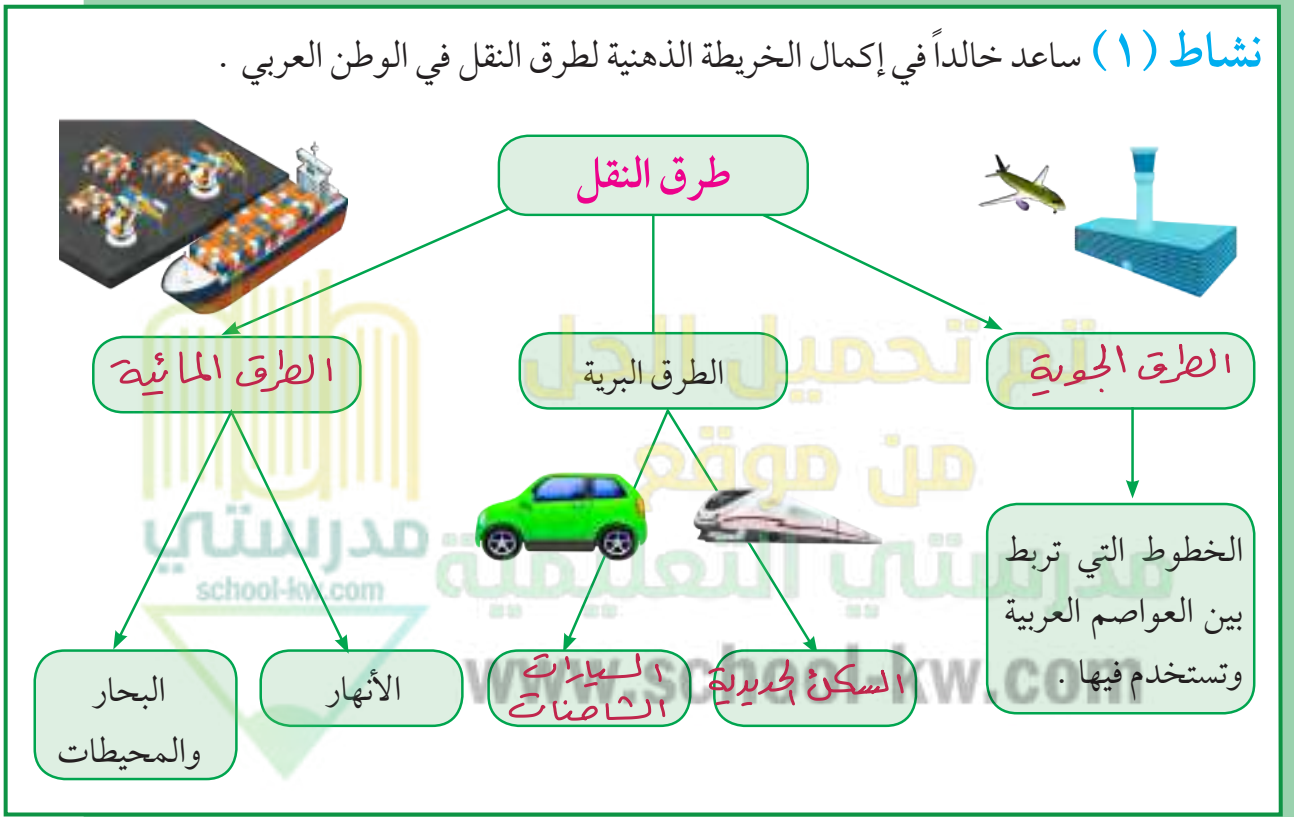
معلمة  
صفوة  
في الكويت  
KuwaitTeacher.Com

## خامساً - النقل والتبادل التجاري في الوطن العربي

### أ - طرق النقل

تعد وسائل النقل والمواصلات من المقومات الأساسية التي تسهم في استغلال وتنمية الموارد الاقتصادية ، فالتبادل التجاري ودرجة نشاطه يعتمد على مدى توافر وسهولة سبل النقل ووسائله الثلاث .

**نشاط (١)** ساعد خالدًا في إكمال الخريطة الذهنية لطرق النقل في الوطن العربي .



شكل (٨٦)

**نشاط (٢)** هل سافرت إلى دولة عربية مؤخراً ، صف لنا رحلتك في حدود خمسة أسطر ، موضحاً فيها وسيلة النقل التي استخدمتها في الرحلة والطرق التي سلكتها ، مع إبداء رأيك بخدمات النقل التي تقدمها الدولة التي زرتها .

سافرت إلى إحدى الدول العربية حيث كانت الزيارة هدية جميلة. حيث تنوعت وسائل النقل التي استخدمتها في الرحلة والزيارة. حيث إن الدول العربية توأمت عصر التكنولوجيا. فاهتمت الدول العربية اهتماماً كبيراً بتحديث شبكة المواصلات والاتصالات. ووجدت الجسور والطرق التي تطلعاتها المستقبلية





## أ - طرق النقل البرية :

تشتمل على طرق السكك الحديدية (القطارات) والسيارات والشاحنات .  
يمتلك الوطن العربي سككاً حديدية قليلة منفصلة عن بعضها ، تسهم في نقل البضائع بكميات قليلة إذا ما قورنت بوسائل النقل الأخرى مثل السيارات والشاحنات التي تحتل أهمية كبرى في البلاد العربية .



شكل (٨٧) طرق النقل البرية في الوطن العربي

مَنْ يساعديني في حل الأسئلة؟



١ - ما الدول العربية التي تتوافر لديها سكك حديدية؟

مصر - المغرب العربي - الشام - العراق - السعودية - السودان

٢ - ما الطرق الممهدة لعبور السيارات والشاحنات بين الدول العربية؟

طريق بلاد الشام الراهقين - طريق وادي النيل - الخطوط الدولية السريعة

٣ - ما نوع البضائع التي تنتقل براً بين دول الوطن العربي؟

الفواكه والخضروات

٤ - برأيك ما أهمية نقل البضائع بوسائل حديثة ومتطورة؟

توفير الوقت وسرعة الوصول ضمان سلامة البضاعة من التلف



## ب - طرق النقل المائية :

وتشتمل على طرق النقل المائي بواسطة الأنهار ، وطرق النقل المائي الخارجي في البحار والمحيطات .

### ١- النقل النهري :

يقتصر على نهر النيل ونهري دجلة والفرات .

## نشاط (١)

أرسم الأنهار السابقة ، وأكتب أسماء الدول التي تقع فيها على الخريطة شكل (٨٨) .

شكل (٨٨) خريطة الوطن العربي الصماء



## ٢ - النقل البحري :

يتمتع الوطن العربي بسواحل ومنافذ بحرية طويلة ساعدت على إنشاء العديد من الموانئ التجارية والنفطية .

### نشاط (٢)

حدد على الخريطة السابقة شكل (٨٨) دولة عربية لها سواحل بحرية متعددة .

### ج - طرق النقل الجوي :

- برأيك . . . ما مميزات طرق النقل الجوي؟

... **توفير الوقت** ..  
 ... **تعتبر من الوسائل السريعة** ..  
 التي **ربطت الاقطار العربية** برحلات **جوية**  
 من **اقصى الشرق الى اقصى الغرب**



مدرستي  
school-kw.com

مدرستي التعليمية

www.school-kw.com

معلمة  
صفوة  
مدرستي الكويت  
KuwaitTeacher.Com





## ب - التبادل التجاري

- يقصد بالتبادل التجاري عمليتا التصدير والاستيراد بين الدول .
- هناك علاقات تجارية بين كافة الدول العربية ، حجمها وقيمتها محدودة .

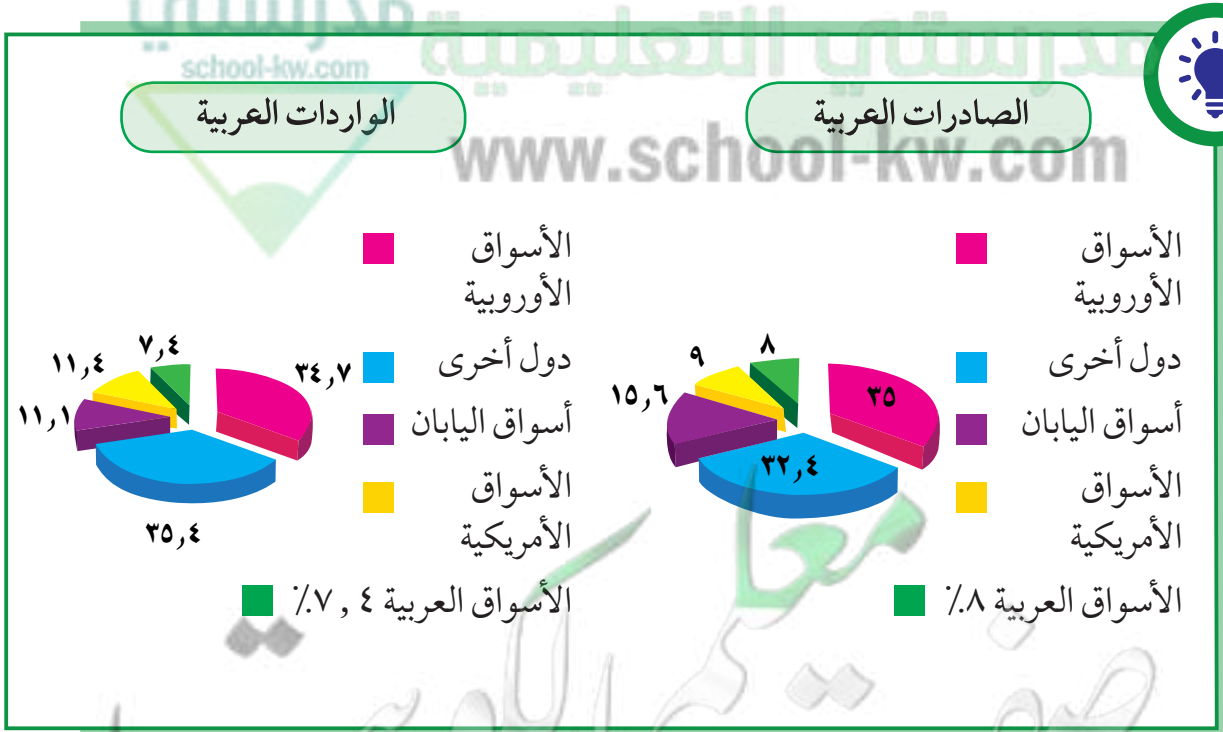
### نشاط (١)

ما السلع التي يتم استيرادها أو تصديرها بين الدول العربية؟

## المواد العنصرية والائتمات

### نشاط (٢)

لاحظ الرسوم البيانية شكل (٨٩) ثم أجب عما يلي :



شكل (٨٩) الصادرات والواردات العربية



- ١ - الأسواق التي تحتل المكانة الأولى بالنسبة لتجارة الواردات العربية هي **أسواق دول الهن**
- ٢ - الأسواق التي تحتل المكانة الأولى بالنسبة لتجارة الصادرات العربية هي **الأسواق الأوروبية**
- ٣ - نسبة الصادرات بين الدول العربية .....<sup>٨</sup>.....% ونسبة الواردات .....<sup>٤٧</sup>.....%

## نشاط (٢)

ساعد خالداً من خلال دراستك السابقة ليفرق بين المفاهيم التالية :

### التجارة البينية : التبادل التجاري بين الدول العربية

الصادرات : **السلع التي تنقل** .....  
 من دولة إلى دولة أخرى  
 الواردات : **السلع التي تستر** .....  
 الدولة من الخارج لسد  
 احتياجاتها

www.school-kw.com

معلمة  
 صفوة الكويت  
 KuwaitTeacher.Com

أولاً : أكمل الفراغات في العبارات التالية :

- ١ - تتنوع المحاصيل الزراعية في الوطن العربي بتنوع **المناخ والتربة وتوفر المياه**
- ٢ - تعتمد زراعة المحاصيل الزراعية في الوطن العربي على مياه الأنهار ومياه **الاعطار والمياه الجوفية**
- ٣ - تفرد اليمن بزراعة محصول **البن** ..... والصومال بزراعة محصول **الموز** ..... عن باقي الدول العربية .
- ٤ - تتنافس مصر والسعودية على احتلال المركز الأول في زراعة نوع من أنواع الحبوب يعرف باسم **القمح** .....
- ٥ - يطلق اسم الغلات الصناعية والتجارية على محصول قصب السكر و **البن والقطن** .....
- ٦ - الصناعة هي تحويل المواد الخام إلى **مواد أولية** التي **يمكن الاستفادة منها**
- ٧ - لقيام صناعة ناجحة لابد من توافر المقومات **الطبيعية** ..... و **البشرية** .....

ثانياً : علل لما يلي : [www.school-kw.com](http://www.school-kw.com)

- ١ - تتركز زراعة الحمضيات والمواالح في حوض البحر المتوسط .

**لتوفر المناخ المناسب**

- ٢ - انتشار زراعة النخيل بكثرة في السعودية :

**لأنه يناسب مناخ المنطقة ويتحمل الحرارة الشديدة**

ثالثاً : أ- عرف المصطلحات التالية :

١- الزراعة التقليدية : **هي الزراعة التي تعتمد على الطرق البدائية**

٢- الزراعة الحديثة : **هي التي تعتمد على الطرق الحديثة والتكنولوجيا**



ب - اكتب تقريراً مختصراً عن أهمية الزراعة في حياتنا: **تعتبر الزراعة مصدراً هامياً للغذاء**  
**توفير فرص العمل ، تدمج فئتها بالصناعة كالقطن وقصب السكر وغيرها ، تعتبر مصدراً**  
**مالياً للعديد من المشروعات ، تعتبر زينة للبيئة المحيطة بالإنسان ، الحد من نسبة**  
**التلوث في الهواء ، تنقية الهواء ورفع مستوى الأكسجين به ، تخفيف درجات**  
**الحرارة المرتفعة والرطوبة في الجو ، الحد من انجراف التربة ، تخفيف حدة الرياح**

ج - كيف يمكن تنمية الثروة السمكية؟

..... **تكوين اسطوك من السفن المتخصصة في صيد الاسماك**

..... **وهود الجهرة والكوار الفنية العاملة**

د - عدد الصناعات التي تقوم على المحاصيل الزراعية في الوطن العربي:

..... **الصناعات الغذائية ، تعليف الفواكه والخضار**

رابعاً - أجب عن الأسئلة التالية :

١ - بماذا يمتاز النفط العربي؟

..... **نجارة في الضاخن وضخامة في الإنتاج**

..... **رخص تكاليف الإنتاج**

٢ - ما الدول الأكثر استيراداً للنفط العربي؟

..... **الولايات المتحدة الأمريكية**

..... **الدول الأوروبية ، اليابان**

٣ - ما أثر العائدات النفطية على الاقتصاد العربي بوجه عام والخليجي بوجه خاص؟

..... **زيادة الدخل القومي للدول العربية**

..... **قيام كثير من الصناعات المرتبطة بالصناعات النفطية - توفير فرص عمل**

٤ - ما الفرق بين مفهوم الصادرات ومفهوم الواردات؟

..... **الصادرات : السلع التي تنتقل من دولة الى اخرى**

..... **الواردات : السلع التي تستوردها الدولة من الخارج لسد احتياجاتها**

## خامساً - علل لما يلي :

١ - يطلق على الغاز الطبيعي الطاقة النظيفة :

لأنه لا ينتج عن احتراقه فُجُور الملوثات التي تنتج عن احتراق المنتجات النفطية

٢ - قلة حجم النقل النهري بالنسبة لباقي وسائل النقل في الوطن العربي .

قلة الانحجار الموهودة في الوطن العربي  
الاعتماد على طرق النقل التقليدية

٣ - السيارات والشاحنات أكثر وسائل طرق النقل البري إنتشاراً .

قلة التكليف / سهولة النقل وتصل الى اي مكان  
سرعة الوصول

٤ - اهتمام الدول العربية بتحديث شبكة المواصلات .

تزيد الوحدة والتجارة وتنشر العمران بين الدول العربية

٥ - قلة التبادل التجاري بين دول الوطن العربي .

الملاقات التجارية بين الدول العربية هجتها قليل ومحدود  
تساوية الانتاج الزراعي والحيواني والمصنعي في كثير من اقطار الوطن العربي

٦ - معظم صادرات دول الخليج العربية من النفط الخام .

لقلة التطور الصناعي ، انخفاض المستوى المعيشي للسكان

قلة السكان في بعض الدول

## سادساً - صنف الصناعات حسب أنواعها في الجدول التالي :

(تعليب الفواكه والخضار - الأثاث - استخراج المعادن - زجاج - أنسجة صوفية - قطع الأخشاب -

أسمنت - صيد الأسماك - الرخام - زيوت وبلاستيك - صهر الحديد) .

صناعات تحويلية	صناعات استخراجية
تعليب الفواكه والخضار - الأثاث أنسجة صوفية - أسمنت - صهر حديد الرخام - زيوت وبلاستيك	استخراج المعادن - زجاج قطع الأخشاب - صيد الأسماك

سابعاً - استعن بالأطلس المدرسي لحل ما يلي :

توجهت باخرة محملة بالنفط من مدينة الظهران بالسعودية إلى مدينة الدار البيضاء في المغرب عن طريق البحر الأحمر .

- ارسم خط سير الباخرة مع ذكر المنافذ البحرية التي يجب أن تمر بها أثناء الرحلة :



اقترح وسائل لتنمية التجارة بين الدول العربية .

تبادل السلع الموهوبة بين الدول العربية .  
 بعض البضائع من استيرادها من الدول الأجنبية .  
 التعاون الاقتصادي العربي .  
 إلغاء الرسوم الجمركية .  
 التصاميم المحلية .  
 وإنشاء منطقتين للتجارة الحرة .

### مشروع

صمم مع زملائك مجلة ، اجمع فيها صوراً تمثل الثروة الحيوانية في الوطن العربي مع ذكر أهميتها ومناطق وجودها .





# الوحدة الرابعة

الوطن العربي قضايا  
وتحديات  
وحلول نحو مستقبل  
عربي أفضل



www.school-kw.com

● الدرس الأول : المشكلات الأساسية في الوطن العربي

● الدرس الثاني : نحو مستقبل عربي أفضل

١ - التنمية في الوطن العربي

٢ - التعاون والتضامن العربي لتحقيق التقدم والتنمية

٣ - الصندوق الكويتي للتنمية الاقتصادية العربية .

٤ - استضافة دولة الكويت لأضخم وأهم المؤتمرات الاقتصادية العربية

KuwaitTeacher.Com

## المشكلات الأساسية في الوطن العربي

## أ - المشكلات المرتبطة بالزراعة



نشاط (١) هل تستطيع مساعدة خالد في اقتراح حلول لبعض مشاكل الزراعة في الوطن العربي؟



ارتصلاح الاراضي

استخدام الوسائل الحديثة في الزراعة

تسمين نوعية البذور





نشاط (٢) عزيزي المتعلم اكتب حول « اهتمام دولة الكويت بالقطاع الزراعي من خلال زيارة الموقع الإلكتروني للهيئة العامة للزراعة والثروة السمكية » .



تقديم الدعم المادي للمزارعين  
تقديم الاستشارات الخاصة بالزراعة

### مشكلة التصحر

موقع الوطن العربي في المناطق الجافة وشبه الجافة يعرضه بشكل أساسي لمشكلة التصحر .

**التصحر**: زحف رمال الصحراء على المناطق الجافة وشبه الجافة .

#### أسباب التصحر

طبيعية

بشرية



زحف الرمال



الرعي الجائر

شكل (٩٠)

#### فكر واستنتج :



- السودان والصومال وموريتانيا أكثر الدول العربية تهديداً بالتصحر . لماذا؟  
بسبب موقعها في المنطقة المدارية الحارة وقلة الأمطار
- كيف تتحول الأراضي الزراعية إلى أراضٍ صحراوية غير منتجة؟  
عن طريق زحف الرمال والتصحر والجفاف والرعي الجائر
- ما الآثار الناتجة عن الرعي الجائر؟  
التصحر

- أين تقع الأراضي غير المعرضة للتصحر في الوطن العربي؟ ولماذا؟  
شمال الوطن العربي لأنها تطل على مسطحات مائية  
وموقعها في المنطقة المعتدلة المناخية





### نشاط (٣)

أبحث عن مراجع بالمكتبة المدرسية لكتابة تقرير في علاج مشكلة التصحر في الوطن العربي .

#### حلول لمشكلة التصحر

- محاولة استخدام واستغلال مصادر الطاقة المتجددة كبديل عن استعمال حطب الوقود.
- إقامة المحميات البيئية.
- نشر الوعي البيئي.
- تشجيع البحث العلمي في مجال مكافحة التصحر والجفاف والزحف الصحراوي.
- العمل على تثبيت الكثبان الرملية، ويكون ذلك بعدة طرق مثل الطرق الميكانيكية من خلال إنشاء حواجز عمودية على اتجاه الرياح، والطرق الكيميائية مثل مشتقات النفط، بحيث يُرش رذاذه على التربة، مما يؤدي إلى التصاقه بالطبقة السطحية للتربة، ولكن يمكن أن تؤدي تلك الطريقة إلى تلوث المياه والتربة والنباتات.
- القضاء على ميل الأرض بإنشاء المصاطب.
- وقف التوسع في الزراعة المطرية على حساب المراعي الطبيعية.

- الحفاظ على المراعي الطبيعية وتطوير الغطاء النباتي الطبيعي.
- استغلال مياه السيول في الزراعة.
- وقف قطع الأشجار والشجيرات لاستغلالها في مجال الطاقة.
- إقامة السدود وذلك لمحاولة التقليل من قوة السيول.
- الحفاظ على الغطاء النباتي ومنع الرعي الجائر الذي يؤثر سلباً على الأراضي الزراعية.
- الابتعاد عن الأساليب الزراعية التي تلحق الضرر بالبيئة، والالتزام بالأساليب التي تساعد على استعادة التوازن الطبيعي بين التربة والمجمعات.

عالجت الدول العربية المشكلات السابقة بسياسة تنموية ، واعتمدت خطاً إستراتيجية تهدف إلى تكثيف العمل الزراعي وتطويره باعتماد التكنولوجيا الحديثة وتأصيل البذور واستعمال الأسمدة المناسبة ، وقد حققت التالي :

- ١ - زيادة الإنتاج عن طريق الأساليب العلمية .
- ٢ - زيادة المساحات المزروعة .
- ٣ - إقامة مشروعات الري .

#### لاحظ أن :

غياب سياسة زراعية على صعيد العالم العربي أدى إلى تشابه المحاصيل وتنافسها في الأسواق العربية ، وغياب محاصيل أخرى أساسية يمكن إنتاجها محلياً .



نشاط (٤) اكتب أنواع المحاصيل الزراعية في الجدول التالي :

محاصيل زراعية ينتجها الوطن العربي	محاصيل زراعية يستوردها الوطن العربي من الخارج
القمح التبغ التمر	الرز



### ب - مشاكل استثمار المياه

أسباب تدني وفرة المياه في الوطن العربي :

- النمو السريع للسكان الذي يشكل ضغطاً متزايداً على المياه المتوفرة لكل فرد .
- ٥٠٪ من الموارد المائية في العالم العربي تأتي من خارج حدوده ، وتتحكم فيها دول المنبع في غياب تشريعات دولية تضمن حقوقنا .
- الطرق التقليدية المستخدمة في استغلال المياه في معظم مناطق العالم العربي مسؤولة عن تدني نسبة المياه (استخدام الري بالغمر والاستهلاك غير المسؤول في مجالات المياه) .
- الشبكات المؤهلة لنقل المياه شبكات قديمة .
- افتقار الدول العربية إلى برامج لإدارة المياه ، كما أنها لا تستخدم الأدوات الاقتصادية اللازمة لترشيد الاستخدام المتزايد من المياه .

أجب عن ما يلي :

<ul style="list-style-type: none"> <li>• ما مصدر المياه المستخدم في منزلك؟ ..... محطة تحلية المياه .....</li> </ul>	
<ul style="list-style-type: none"> <li>• هل هي معرضة لخطر النقصان؟ ولماذا؟ ..... نعم اذا تعرضت للملوثات .....</li> </ul>	



## كيف نحافظ على ثروة المياه ونخفف من المشكلة :

- ترشيد استخدام المياه والحد من التبذير في المنازل .
- الحد من هدر المياه في عمليات الري ، وذلك باستخدام الوسائل الحديثة كالرش بالتنقيط والمحوري .
- تنظيم عملية الاستفادة من المياه الجوفية ومنع تسرب الأملاح الملوثة إليها واستثمارها على الوجه الأمثل .
- تطوير استعمال مياه الصرف الصحي المعالجة في الزراعة .
- إقامة البحيرات والسدود لتجميع مياه الأمطار والسيول للاستفادة منها في فصل الجفاف .
- توقيع اتفاقيات مع الدول المشاركة ودول المنبع لتحقيق مصالح الدول العربية المعنية .



تم تحميل الحل

من موقع

مدرستي التعليمية

www.school-kw.com

معلمة في الكويت  
Kuwaitteacher.Com





## ج - التلوث البيئي

**التلوث** : هو الضرر الذي يلحق بالتربة والهواء والماء ، ويصيب التلوث عناصر البيئة من عدة مصادر للملوثات .



اقرأ وتعلم :

يُصيب التلوث عناصر البيئة من عدة مصادر للملوثات : صناعية ، زراعية ، منزلية ، ومن أكثر هذه الملوثات انتشاراً التلوث الكيميائي مثل الغازات السامة (الصادرة من محطات التحلية ودخان المصانع وعوادم السيارات وغيرها . . .) .  
وكذلك الملوثات الصلبة وتراكم النفايات والمواد البلاستيكية .

**نشاط (١)** ساعد خالدًا في الحصول على إجابات للأسئلة التي تدور في ذهنه :



• ما المقصود بالتلوث البيئي؟ وما أسبابه؟

هو الضرر الذي يلحق بالتربة والهواء  
أسبابه : المصانع وعوادم السيارات والنفايات

• ما أهم مظاهر التلوث؟

تلوث الماء - تلوث الهواء - تلوث التربة

• ما أثر التلوث على الإنسان والنبات والحيوان؟

انتشار الأمراض وقد تؤدي إلى موت الكائنات الحية  
وانقراضها

• ما الحلول المناسبة لمواجهة مشكلة التلوث البيئي برأيك؟

التربسيد في استهلاك موارد البيئة  
المحافظة على البيئة ، وضع قوانين لحماية البيئة



## نشاط (٢) حدد أسباب التلوث في الصور التالية :



تلوث المياه  
...الصرف الصحي



تلوث الهواء  
...دخان المصانع



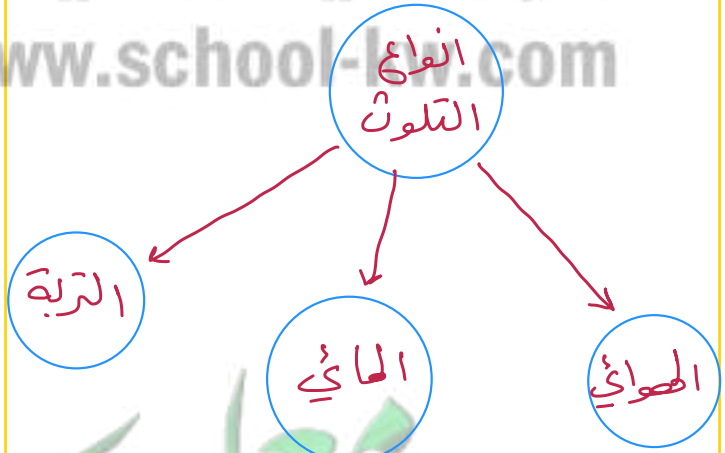
تلوث التربة  
...مخلفات الزراعة

شكل (٩١)

## نشاط (٣) ارسم مخططاً سهماً لأنواع التلوث في المربع التالي .

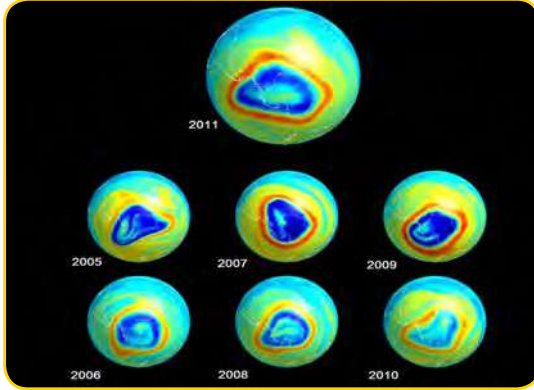
### تلوث البيئة مشكلة عالمية :

التلوث البيئي من أهم وأخطر المشاكل التي تواجه شعوب العالم اليوم ، ويتم مواجهتها على مستوى عالمي ، حيث عقد أكبر مؤتمر للأمم المتحدة في مدينة ريودي جانيرو بالبرازيل عام ١٩٩٢ ، وعرف باسم «قمة الأرض» وحضره أكثر من ١٠٠ رئيس دولة .





نشاط (٤) لاحظ الصور التالية واكتب تعليقاَ مناسباً تحت كل منها .



ثقب في طبقة الأوزون



شاطئ ملوث بالنفايات

نتيجة : القضاء على البرودة البحرية - نتيجة : ...مخاطر تهدد الحياة لبرية



مصنع لفرز النفايات ومعالجتها



حرق آبار النفط في دولة الكويت عام ١٩٩١م

نتيجة : تلوث البيئة الكويتية - نتيجة : ..إعادة تدويرها وتصنيعها

شكل (٩٢)

معلمة  
صفوة في الكويت  
KuwaitTeacher.Com





## اقرأ النص التالي :



- إن بعض المواد الغازية لاسيما الكلورية الموجودة في وسائل التبريد وتكرير المياه ، تؤدي إلى ثقب في طبقة الأوزون التي تحمي الأرض من الإشعاعات فوق البنفسجية الضارة .
- والتلوث بأوكسيد الكربون الناتج بصورة خاصة عن عوادم السيارات يؤدي إلى ارتفاع متزايد في حرارة الأرض ، وإلى تغيير مُناخي يهدد بإغراق بعض المدن .
- الدخان المتصاعد من المصانع يصيب الهواء والتربة والماء ، ويهدد الحياة على الأرض .

## نشاط (٥)

هل للإنسان دور في المحافظة على التوازن البيئي؟ أجب مستعيناً بالصورة التالية :

نصم عن طريق زراعة الأشجار وإقامة المصانع بعيداً  
عن المناطق السكنية.



مصنع بعيد عن المناطق السكنية



أطفال يغرسون الأشجار

- لماذا نسعى إلى وطن أخضر؟ ... للمحافظة على البيئة
- ما أهمية الأشجار للهواء؟ ... تقلل نسبة ثاني أكسيد الكربون

شكل (٩٣)



## نشاط (٦)

استعن بمهارة خالد في الإنترنت لمعرفة المحميات الطبيعية في دول الخليج العربية مدعماً بالصور .

الدولة	الكويت	البحرين	سلطنة عُمان	الإمارات
الموقع	www.beatona.net	www.alareen.org	www.omantourism.gov.om	www.ead.ae
اسم المحمية	محمية صباح الاحمد الطبيعية	محمية العين	محمية المحكا العزبي	محمية دبي الصحراوية
صور				

- ما الفائدة من إنشاء هذه المحميات؟

المحافظة على الحياة الفطرية.

التوازن البيئي يعني بقاء عناصر الطبيعية في حالة من التوازن لتؤدي وظائفها على أكمل وجه ، حيث تعمل عناصر البيئة كمنظومة واحدة ، مثل جسم الإنسان ، وأي خلل في أي عضو سيؤثر في الجسم بأكمله ، وكذلك الخلل في عنصر من عناصر نظام بيئي معين ، يؤدي إلى اضطراب في وجود بقية العناصر فيه .

- ما الأعمال السلبية التي يقوم بها بعض الناس وتؤدي إلى الإخلال بالتوازن البيئي؟

الرعي الجائر ، الصيد الجائر.

- ما مظاهر الإخلال بالتوازن البيئي في دولتك الكويت؟

نضوب المياه.



## نحو سياسة بيئية فاعلة :

تنمية الوعي البيئي	توليد طاقة نظيفة	حماية الموارد الطبيعية
<p>- كيف نمي الوعي البيئي؟</p> <p>- رسائل توعية إعلامية</p> <p>- حملات تشجيع</p> <p>- محاضرات عن البيئة</p> <p>في المدارس</p>	<p>- إعادة تجديد محطات الطاقة القديمة.</p> <p>- الاعتماد على مصادر الطاقة البديلة كالشمس والرياح والمياه؛ للتخفيف من تلوث البيئة.</p>	<p>- الاستخدام السليم للموارد بعيداً عن الاستغلال السيئ للثروات الطبيعية وتلوئها بالنفايات.</p> <p>- المحافظة على نظافة هذه الموارد بحيث تصبح قادرة على تجديد مواردها والتخلص من مخاطر التصحر وتلاشي تلوث الشواطئ.</p>



شكل (٩٤) صورة توضح مصادر الطاقة المتجددة الشمس والرياح

تُعَدُّ الرياح والشمس من مصادر الطاقة... المتجددة.





## نحو مستقبل عربي أفضل ١ - التنمية في الوطن العربي

حققت الدول العربية خلال العقود الثلاثة الماضية إنجازات عديدة في مجالات التنمية الاقتصادية والاجتماعية والبشرية ، هذه التنمية انطلقت من التعاون بين الدول العربية كوسيلة لمواجهة التحديات وتحقيق الطموحات .



شكل (٩٥) صورة توضح التعاون العربي

**التنمية:** تعني التطور والتطوير ، وهي عملية تتطلب التخطيط والمشاركة من الجميع .

الدول العربية لديها القدرة على أن تحقق التنمية والتقدم ، ويكون لها وزن عالمي اقتصادياً وسياسياً .



### نشاط (١)

هل تؤيد كلام خالد؟ أذكر السبب .

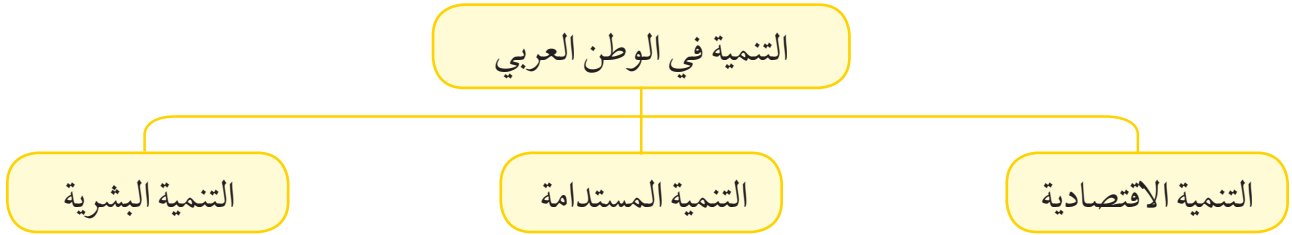
..... نعم..... لانها تملأ المصومات الطبيعية والبشرية اللازمة للتقدم



كيف نواجه هذه التحديات :

وسائل وأساليب التنمية في الوطن العربي :


ارتكزت عملية التنمية في الوطن العربي على ثلاثة محاور رئيسية وهي :



أ - التنمية الاقتصادية :



شكل (٩٧) صناعة الزيوت النباتية في المملكة المغربية



شكل (٩٦) استخدام التكنولوجيا في صناعة الأقمار الصناعية

نشاط (١) للتخطيط من أجل التنمية الاقتصادية يجب الإجابة عن التساؤلات التالية :

- كيف نستثمر الأراضي الزراعية ونستغل المساحات الصالحة للزراعة؟ **د. نحم الزراعة...**
- كيف نحسن إنتاجنا الصناعي؟ **ل. توفير مقومات الصناعة.....**
- كيف نستثمر مواردنا المعدنية بدلاً من تصديرها خاماً؟ **ا. إقامة المصانع. ب. تدريب. ج. الأيدي العاملة.**





## أهداف التنمية الاقتصادية :

- استخدام العلم في زيادة الإنتاج .
- تحقيق التكامل بين الدول العربية في الإمكانيات والحاجات .



شكل (٩٨)

## ب - التنمية البشرية :

المجتمعات لا يمكن أن تتقدم أو تنمو اقتصادياً أو سياسياً أو اجتماعياً بدون إعداد للقوى البشرية ، فالبشر هم الثروة الحقيقية للأوطان .

## أهداف التنمية البشرية :

- كيف يتم توظيف قدرات الإنسان العربي لبناء مجتمع المعرفة؟
- الاهتمام بالطفل العربي ورعايته في مرحلة الطفولة المبكرة (قبل المدرسة) .
- توفير فرص العمل ، والرعاية الصحية والقضاء على الفقر .
- رفع كفاءة الثروة البشرية علمياً وفكرياً وروحياً .
- تعميق المشاركة في الرأي والحوار في ظل الديمقراطية .

## نشاط (٢)

اذكر بعض البرامج التوعوية التي تحقق أهداف التنمية في دولة الكويت .

برنامج محو الأمية  
 حملة ترشيد  
 حملة للاختراعات  
 مركز التدريب المصنعي





## المشكلات التي تواجه التنمية البشرية :

١- ضعف الاستفادة من القدرات البشرية في المنطقة العربية .

- ما الأسباب التي تدعو الشباب والعلماء العرب للهجرة إلى الخارج؟ وما الحل برأيك؟

عبرم إتاحة الفرص وتوفير الدعم لهم ولتوفر هذه المحيزات من خارج  
الجل : لتوفير الدعم لهم وإنشاء مراكز التجارب العلمية

٢ - مشكلة الأمية .

- ما أثر التعليم في المجتمع ثقافياً ، نفسياً ، اجتماعياً؟ . تقضي على الجهل ، ويسهم في تطوير  
- كيف تتصور مجتمعك من دون وجود متعلمين ومثقفين؟ . ينشأ الجهل والتخلف الفرد

٣ - نقص ومحدودية مشاركة المرأة في المنظمات السياسية .

٤ - الاختلاف الكبير في مستويات المعيشة بين دولة وأخرى ، وفي داخل الدولة الواحدة .

## ج - التنمية المستدامة :

التنمية المستدامة : هي عبارة عن برامج تحسين نوعية الحياة ، ولا تتحقق إلا بمشاركة جميع  
المواطنين .

## أهداف التنمية المستدامة



شكل ( ٩٩ ) أهداف التنمية المستدامة



### جوهر التنمية المستدامة :

الحرية ، المعرفة ، العمل الجماعي ، الإبداع ، الكفاءة لا المحسوبية ، حقوق المرأة ، حقوق الطفل .

### نشاط (١)

بالاستعانة بالشكل رقم (٩٩) استخلص أهداف التنمية المستدامة .

العضاء على الفقر ، العضاء التام على الجمع ، لصحة الجيدة  
والرفاه ، التعليم الجيد ، طاعة نظيفة وبأسعار معقولة



### نشاط (٢)

ابحث وساعد خالداً في التعرف على تخصصات أشهر علماء العرب في الخارج .

من أشهر علماء العرب في الخارج :

١- الدكتور فاروق الباز .. مدير مركز اجاب الفضاء

التخصص : علم الفلك

٢- الدكتور أحمد زويل .. جائزة نوبل في الكيمياء

التخصص : الكيمياء

## ٢ - التعاون والتضامن العربي لتحقيق التقدم والتنمية



شكل (١٠٠) اجتماع وزراء الخارجية العرب

**التضامن العربي** : هو العمل على توثيق الصلات بين الدول والشعوب العربية ، وحماية مصالحها السياسية والاقتصادية والثقافية .

### أ - دور الجامعة العربية في تحقيق التكامل بين الدول العربية

تهدف جامعة الدول العربية إلى توثيق العلاقات بين الدول الأعضاء وتنسيق التعاون في ما بينها ، للحفاظ على استقلالها وسيادتها ، والنظر بصفة عامة في شؤون ومصالح الدول العربية ، قد أنشأت عدداً من المؤسسات الاقتصادية ، وعقدت المؤتمرات المختلفة لتحقيق التعاون العربي والتكامل الاقتصادي بين الدول العربية .

ومن أبرز هذه المؤسسات :

- ١ - مجلس الوحدة الاقتصادية العربية .
- ٢ - المنظمة العربية للتنمية الزراعية .





نشاط (١) تعرف على منظمة جامعة الدول العربية عن طريق زيارة موقع جامعة الدول العربية التالي

[www.lasportal.org](http://www.lasportal.org)



جامعة الدول العربية

منظمة إقليمية للدول العربية ، وقد تم تشكيلها  
في مدينة **القاهرة** ..  
في ٢٢ مارس ..... **١٩٤٥** م ،  
و ضمت ٦ أعضاء مؤسسين هم : مصر ، ..  
**العراق** ..  
الأردن ، ..... **لبنان** ..  
السعودية ، ..... **جورجيا** .. وانضمت  
إليها اليمن في ٥ مايو ١٩٤٥ م ، كما انضمت  
إليها الكويت في عام ..... **١٩٦١** م ،  
والآن تضم جامعة الدول العربية .....  
..... **٢٤** عضواً .



شكل (١٠١)

## ب - مؤسسات التعاون العربي المشترك

تعددت صيغ التعاون العربي في مختلف الميادين ، كما تعددت مستويات هذا التعاون سواء على مستوى ثنائي بين دولتين أو بين مجموعة من الدول ذات الانتماء الجغرافي لمنطقة معينة .

### الصناديق الإنمائية العربية علامات مضيئة للتعاون العربي :

تعد هذه الصناديق أهم المصادر لتوفير التمويل الميسر ، وقد تمكنت بفضل من الله ثم بفضل رؤوس أموالها من مساندة الجهود الإنمائية الاقتصادية والاجتماعية في عدد كبير من الدول العربية .



الصندوق الكويتي للتنمية الاقتصادية العربية  
KUWAIT FUND FOR ARAB ECONOMIC DEVELOPMENT

شكل (١٠٢)

أهم الصناديق الوطنية (على مستوى الدول) :

١ - الصندوق الكويتي للتنمية الاقتصادية العربية  
والذي تم إنشاؤه عام ١٩٦١م .



صندوق أبوظبي للتنمية  
ABU DHABI FUND FOR DEVELOPMENT

شكل (١٠٣)

٢ - صندوق أبوظبي للتنمية ١٩٧١م .



الصندوق السعودي للتنمية

شكل (١٠٤)

٣ - الصندوق السعودي للتنمية ١٩٧٤م .

ساهمت هذه الصناديق بشكل إيجابي في مشاريع التنمية العربية عن طريق تقديم القروض والتمويل المشترك وتقديم المنح للتمويل وتقديم المساعدات الاقتصادية للدول العربية تديماً لنموها الاقتصادي .



## نشاط (١)

اجمع صوراً للمشاريع العربية التي ساهمت فيها الصناديق التالية :

الصندوق الكويتي للتنمية الاقتصادية



تم تحميل الحل

من موقع

صندوق أبوظبي للتنمية

مدرستي التعليمية

www.school-kw.com

الصندوق السعودي للتنمية

معلمة  
صفوة في الكويت  
KuwaitTeacher.Com



## ج - نموذج التعاون العربي المشترك بين دول ذات انتماء جغرافي

### مجلس التعاون الخليجي :

مظهر جديد ومتقدم من مظاهر دعم التضامن بين الدول العربية وفق مبادئ

مدروسة .



**نشاط (١)** قم بالتعاون مع زملائك بزيارة موقع الأمانة العامة لمجلس التعاون لدول الخليج العربية [www.gcc-sg.org](http://www.gcc-sg.org) للتعرف على أهم أهداف مجلس التعاون الخليجي .

أعلن قيام مجلس التعاون الخليجي  
في ٢٥ مايو من عام ١٩٨١م في  
مدينة **أبو ظبي** . ويضم المجلس  
٦ دول عربية مطلة على الخليج العربي  
وهي :

١. الكويت / ٢. السعودية  
٣. البحرين / ٤. قطر  
٥. الامارات / ٦. عمان



شكل (١٠٥) قادة دول مجلس التعاون الخليجي



شكل (١٠٦) اجتماعات قادة دول مجلس التعاون الخليجي





ج - ألكسو (ALECSO) . ما المقصود بها؟  
 هي المنظمة العربية للتربية والثقافة  
 والعلوم  
 وعقرها تونس

• بالرجوع إلى ماتمت دراسته . ما أهم المساهمات التي قدمها الصندوق الكويتي للتنمية الاقتصادية العربية؟

المساهمة في تمويل مشاريع البنية التحتية للعديد من الدول  
 تقديم المساعدات في حالات الكوارث والنجبات



تم تحميل الحل  
 من موقع  
 مدرستي التعليمية  
[www.school-kw.com](http://www.school-kw.com)

معلمة في الكويت  
 KuwaitTeacher.Com





### ٣ - الصندوق الكويتي للتنمية الاقتصادية العربية



الصندوق الكويتي للتنمية الاقتصادية العربية  
KUWAIT FUND FOR ARAB ECONOMIC DEVELOPMENT

يُعدُّ الصندوق الكويتي للتنمية الاقتصادية العربية أول مؤسسة للتنمية في الوطن العربي ، حيث يقوم بالمساهمة في تحقيق مشاريع التنمية الضرورية الخاصة بالمجالات الصحية والاجتماعية ، وكذلك تقديم المساعدات اللازمة في حالات الكوارث والنكبات ودعم قضايا الأمة العربية الإسلامية .



شكل (١٠٨) صاحب السمو الراحل الشيخ / جابر الأحمد الصباح



شكل (١٠٧) صاحب السمو الراحل الشيخ / عبد الله السالم الصباح

#### نشاط (١)

أكمل الفقرة التالية من خلال زيارتك لموقع الصندوق الكويتي للتنمية الاقتصادية العربية  
[www.kuwait-fund.org](http://www.kuwait-fund.org)

تأسس الصندوق الكويتي للتنمية الاقتصادية العربية في عهد الشيخ **عبدالله السالم** .....  
- رحمه الله - في تاريخ ٣١ ديسمبر من عام ١٩٦١م بفكرة ودعم من صاحب السمو **الشيخ جابر الأحمد** ..... - رحمه الله - حيث كان سموه وزيراً للمالية آنذاك ، ويتبع الصندوق الكويتي للتنمية الاقتصادية العربية حالياً وزارة الخارجية .



نشاط (٢) ابحث عن هدف الصندوق الكويتي للتنمية الاقتصادية العربية .



- تقديم القروض الميسرة للدول المحتاجة
- تقديم كافة المساعدات الطارئة لقضايا العالم العربي والإسلامي
- المساهمة في تطوير التنمية في العالم العربي والإسلامي

نشاط (٣)

بالاستعانة بالمصادر المتوفرة لديك وبالتعاون مع زملائك اكتب تقريراً مختصراً لإنجازات الصندوق الكويتي للتنمية الاقتصادية العربية في الدول العربية .



- مشروع الصنغ طياه نبع السن في سوريا
- السكك الحديدية في الضواحي الجنوبية
- صيانة وتدعيم ربي الرده في السودان
- مصنع الاسمدة الفوسفاتية في الاردن



## ٤ - استضافة دولة الكويت لأضخم وأهم المؤتمرات الاقتصادية العربية

أ- القمة العربية الاقتصادية والتنموية والاجتماعية (١٩-٢٠ يناير ٢٠٠٩).



شكل (١٠٩) عقد أكبر وأهم مؤتمر قمة عربية منذ تاريخ نشأة جامعة الدول العربية

في دولة الكويت يومي ١٩-٢٠ يناير ٢٠٠٩ م .

ولقد كان صاحب السمو أمير البلاد الشيخ صباح الأحمد الجابر الصباح - حفظه الله ورعاه - هو صاحب المبادرة لعقد القمة ، مؤكداً أن هذه القمة ستكون «بوابة الخير» للعمل الاقتصادي العربي ، إيماناً منه بأن العالم العربي يمر بمرحلة حرجة وتحديات خطيرة ، لم تعد تقتصر في تهديدها على أمن وسلامة واستقلال الدول العربية ووحدة ترابها الوطني ، بل تجاوزت تلك الأخطار لتمس الأوضاع الاقتصادية والتنموية والاجتماعية والثقافية التي تحيط بحياة وكرامة المواطن العربي ، وحقه في العيش الآمن واللائق .

### أهم أهداف القمة الاقتصادية التنموية العربية :

- ١ - إنشاء بنك عربي لتمويل شتى المشاريع التنموية للتقليل من معدلات الفقر .
- ٢ - القضاء على البطالة والفقر بتوفير فرص العمل .
- ٣ - الاستثمار الاقتصادي بين الدول العربية ، وتقوية التبادل التجاري .
- ٤ - الاعتناء بالعنصر البشري والتنمية المستدامة .

تأتي أولويات هذا المؤتمر بإعادة تعمير قطاع غزة بعد تعرّضه للغزو الإسرائيلي الغاشم في بداية شهر يناير ٢٠٠٩م والذي أسفر عن قتل الآلاف من الأبرياء (معظمهم من الأطفال والنساء) وتدمير البنية التحتية لقطاع غزة بالكامل .





نشاط (١) اقرأ الفقرة السابقة ثم أجب عما يلي :

من صاحب مبادرة عقد القمة العربية الاقتصادية والتنمية الاجتماعية عام ٢٠٠٩؟

..... الشيخ صباح الاحمد الجابر الصباح



ما سبب عقد هذا المؤتمر؟

..... لان العالم العربي يمر بمرحلة صعبة وخطيرة

تهدده وما تعرضت له غزة عام ٢٠٠٩م عن دمار وتخريب



تم تحميل الحل

من موقع

مدرستي التعليمية

www.school-kw.com

معلمة في الكويت  
KuwaitTeacher.Com



## ب - المؤتمر الدولي للمانحين لدعم الوضع الإنساني في سوريا (الأول - الثاني - الثالث)

حظيت المبادرة التي أعلنها حضرة صاحب السمو أمير البلاد الشيخ صباح الأحمد الجابر الصباح -حفظه الله ورعاه- لاستضافة الكويت المؤتمر الدولي الأول لمانحي سورية في نهاية يناير ٢٠١٣م بترحيب عربي ودولي كبيرين ، نظراً لأهميته الكبيرة في هذا الوقت الذي يعاني فيه الشعب السوري من ظروف معيشية بالغة السوء والتعقيد .



شكل (١١٠) كلمة صاحب السمو أمير البلاد الشيخ صباح الأحمد الجابر الصباح -حفظه الله ورعاه- في افتتاح المؤتمر .

### نشاط (١)

انظر الشكل (١١٠) ثم قم بتحليل الشعار مع زملائك للإجابة عن الأسئلة التالية :

١ - أين عقد أول مؤتمر للمانحين لدعم الوضع الإنساني في سوريا؟ .. **الكويت** ..

٢ - ماذا تمثل صورة اليد التي في الشعار شكل (١١٠) ؟

..... **يداً بيد طمس أجدة الشعب السوري** .....



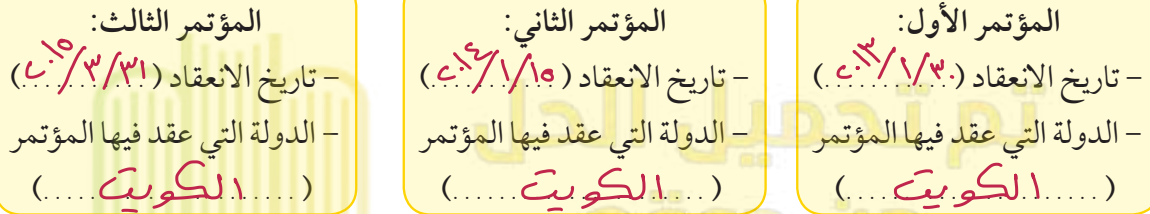
## نشاط (٢)

بالاستعانة بالإنترنت  قم بزيارة موقع الديوان الأميري [www.da.gov.kw](http://www.da.gov.kw)

أ - ساعد خالدًا في إكمال المخطط السهمي .



المؤتمر الدولي للمانحين لدعم الوضع الإنساني في سوريا



ب - اكتب ملخصاً عن أهم القرارات والتوصيات التي صدرت في مؤتمر المانحين الثاني والثالث من خلال زيارتك لموقع الديوان الأميري [www.da.gov.kw](http://www.da.gov.kw) .

التخفيف من المعاناة الإنسانية والوضع المأساوي للشعب السوري  
توفير أكبر قدر من المساعدات والموارد المالية لمواجهة هذه الكارثة الإنسانية التي عجزت عن تحملها الشعب السوري  
تكاتف جهود المجتمع الدولي وتوحيد صفوفه لإيجاد حلول لتجاوز هذا الوضع المأساوي الأليم لسورية والى وقف نزيف الدم والقتل والدمار والتسرد الذي يشهده هذا البلد

نشاط (٣) يحق للشعب السوري تطلعاته واهدافه المنشوده

ماذا تستنتج من استضافة دولة الكويت لمؤتمر المانحين (الأول - الثاني - الثالث)؟

حرص دولة الكويت على دعم القضايا

العربية والإنسانية





## نشاط (٤)

اكتب رسالة لشكر لصاحب السمو أمير البلاد الشيخ صباح الأحمد الجابر الصباح - حفظه الله ورعاه - على دوره في إبراز دور الكويت الإنساني .



للنجاح أناس يقدرون معناه ، وللإبداع أناس يصدونه

لذلك نقدر جهودك المفضية فأنت أهل للشكر  
والتقدير ، فوجب علينا تقديرك ، فلك منا كل  
القضاء والتقدير .



تم تحميل الحل  
من موقع  
مدرستي التعليمية  
www.school-kw.com



معا  
مفتوحة في اليوم



٥- هل استطاع الإنسان العربي مواجهة مشكلة المياه في الوقت الراهن؟ كيف؟ وما الأساليب التي اتبعها؟

نعم  
 عن طريق توقيع اتفاقيات مع الدول المشاركة ودول المنبع  
 لتحقيق مصالح الدول العربية  
 استخدام أساليب جديدة وهدية من الري

٦- هل استطاع الإنسان العربي الاستفادة من مياه البحار المالحة؟ كيف؟ ما الآثار الإيجابية والسلبية لذلك؟

نعم  
 عن طريق إنشاء محطات تحلية مياه البحر  
 الإيجابية : توفير المياه  
 تأثر على البيئة البحرية وزيادة التلوث

٧- ما أثر التصحر والزحف العمراني على تلوث البيئة؟

كثرة العواصف الترابية  
 انعدام الغطاء النباتي

٨- ما دورك في المحافظة على البيئة؟

ترشيد استهلاك الموارد  
 الالتزام بالقوانين البيئية  
 عدم الإسراف في استهلاك الكهرباء والماء



٩- كيف تتعامل مع النفايات المنزلية للمساعدة في المحافظة على البيئة؟

القضاء على النفايات في الأماكن المخصصة لها

الالتزام بوقت إخراج النفايات من المنزل

فصل النفايات الزجاجية والورقية والبلاستيكية ومحاولة إعادة تدويرها

١٠- ما أهم مخاطر التدهور البيئي في العالم؟

يؤثر على موارد البيئة

تكثر الأمراض والأوبئة

١١- ما أهم الأمراض الناتجة عن تلوث البيئة؟

تلوث الهواء، تلوث المياه، وتلوث الأرض

- في الجدول التالي أكمل المطلوب :

وسائل تحقيقه	مفهوم التضامن العربي
إنشاء عدد من المؤسسات الاقتصادية عقد المؤتمرات المختلفة لتحقيق التعاون والتكامل	العمل على توثيق الصلات بين الدول والشعوب العربية وحماية مصالحها السياسية والاقتصادية والثقافية

أكمل الفراغات في العبارات التالية :

- ١ - عملية تتطلب التخطيط والمشاركة من الجميع تسمى **التنمية** .....
- ٢ - عقد أكبر مؤتمر قمة عربية اقتصادية منذ نشأة جامعة الدول العربية في دولة تسمى **الكويت** .....
- ٣ - تقع المنظمة العربية للتنمية الزراعية في دولة تسمى **السودان** .....
- ٤ - أعلن عن قيام مجلس التعاون الخليجي في ٢٥ مايو عام **١٩٨١ م** .....
- ٥ - ارتكزت عملية التنمية في الوطن العربي على ثلاثة محاور هي : التنمية الاقتصادية و**التنمية البشرية** و**التنمية المستدامة** .....
- ٦ - تأسس الصندوق الكويتي للتنمية الاقتصادية العربية في عهد الشيخ **عبدالله الالم** .....
- ٧ - تم إنشاء الصندوق الكويتي للتنمية الاقتصادية العربية ٣١ ديسمبر عام **١٩٦١ م** .....

أجب عمّا يلي : **تم تحميل الحل**

- ١ - ما مفهوم التنمية المستدامة؟  
هي عبارة عن برنامج لتحسين نوعية الحياة ولا يتحقق الا بمباركة  
جميع افراد المجتمع

٢ - هل يمكن أن تشارك كمواطن عربي في مشاريع التنمية المستدامة؟ كيف؟ اذكر أمثلة على ذلك؟

**نعم**  
من خلال تطوير الفرد لنفسه في اي مجال يخدم  
المجتمع

- ٣ - كيف يمكن تحقيق تنمية اقتصادية عربية لمستقبل أفضل من وجهة نظرك؟  
استثمار موارد الوطن العربي بذك تصديرها كمواد اولية  
الاستفادة من الطاقات البشرية في الوطن العربي

٤ - ما أهم المشكلات التي تواجه عمليات التنمية الاقتصادية في الوطن العربي؟

عدم استخدام البرامج العلمية في زيادة الانتاج

عدم وجود تنسيق عربي في مجالات الصناعة والزراعة

٥ - ما الهدف من تطوير قطاع الزراعة والصناعة في الوطن العربي؟

لزيادة الانتاج - تحسين الاكتفاء الذاتي

تنويع مصادر الدخل

٦ - تتبّع أحد مجالس التعاون لدول مجلس التعاون الخليجي ، واذكر أهم قراراته .

الوقفة الخليجية المشتركة

انشاء ذريع الجزيرة

دعم دولة الكويت وتحريرها من الفزو العراني

٧ - اقترح بعض المشروعات الاقتصادية التي يمكن تحقيقها بواسطة منظمة الوحدة العربية .

الصناعات البتروكيمياوية

٨ - عدد أهداف التنمية الاقتصادية .

استخدام العلم في زيادة الانتاج

تحقيق التكامل بين الدول العربية في الاعكانيات والحاجات



٩ - ما التحديات التي تواجه التنمية البشرية؟

ضعف الاستفادة من القدرات البشرية في المنطقة  
مشكلة الأمية

الاختلاف الكبير في مستويات المعيشة بين دولة وأخرى

١٠ - ما أهداف التنمية المستدامة؟

تأمين مستوى معيشي لائق لجميع المواطنين

حماية الأمن المائي ومصادر الطاقة

ضمان حق التعليم والرعاية الصحية

إيجاد فرص عمل مناسبة للأفراد المجتمع

١١ - ما الإنجازات التي قدمها الصندوق الكويتي للتنمية للدول العربية؟

- مشروع صنع مياه نبع السن في سوريا

- السكن الجديدة في النواحي الجنوبية

- هيئة مدعيم ربي الرده في السودان

- مصنع الاسمدة الفوسفاتية في الاردن

١٢ - عدد أهداف الصندوق الكويتي للتنمية .

- تقديم القروض الميسرة للدول المحتاجة

- تقديم كافة المساعدات الهادفة لقضايا العالم العربي والإسلامي

- المساهمة في تطوير التنمية في العالم العربي والإسلامي