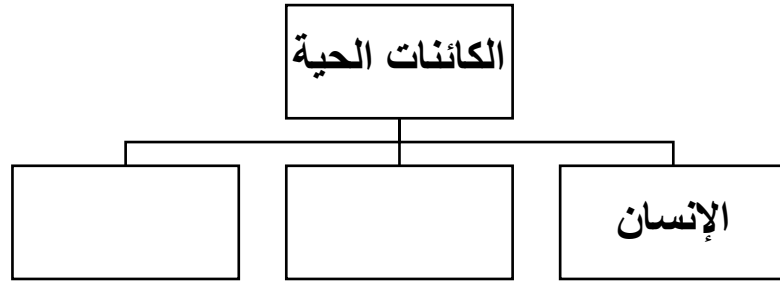
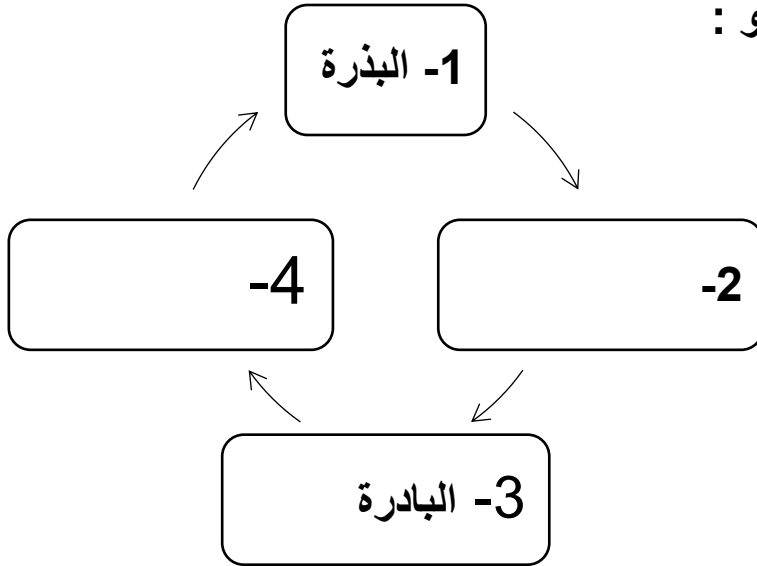


١- أكمل الشكل التالي :



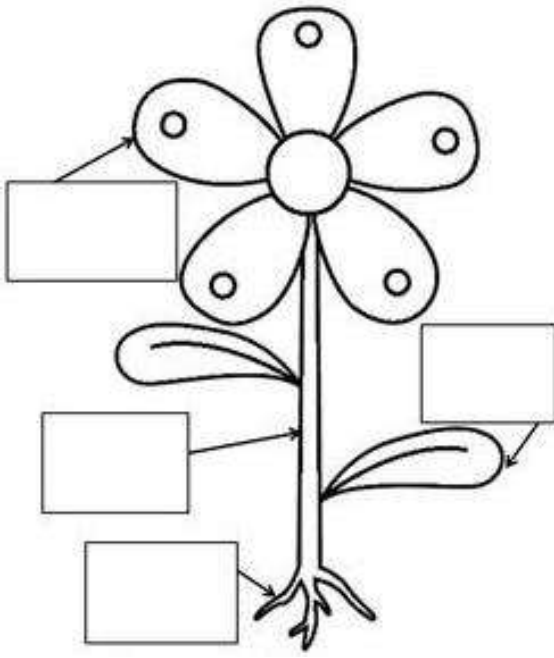
٢- أكتب المراحل الناقصة من مراحل النمو :



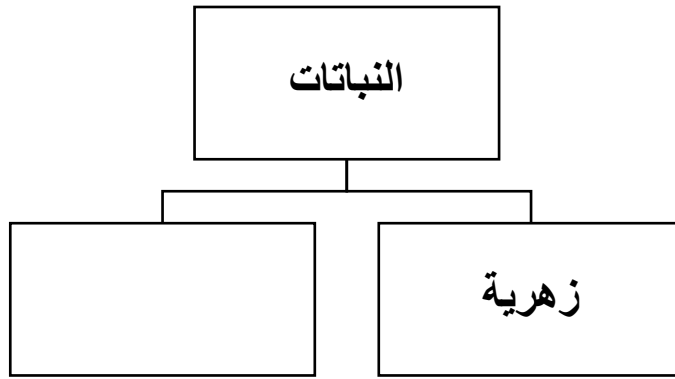
٣- صل المجموعة (أ) بما يناسبها من المجموعة (ب)

المجموعة (ب)	المجموعة (أ)
نقل الماء من الجذور إلى أجزاء النبات	الجذور
تمتص الماء و المغذيات من التربة و تثبت النبات في التربة	الساق
تساعد على إنتاج البذور	الأوراق
تصنع الغذاء للنبات	الأزهار


٤- أكتب أجزاء النبات :



٥- أكمل الشكل التالي :



٦- أكتب أجزاء الزهرة :



٧- أكتب المصطلح العلمي :

أ- عملية انتقال حبوب اللقاح من السداة إلى المتاع بعدة طرق مختلفة وتكون عن

طريق الحشرات أو الرياح أو الماء ( )

ب- اتحاد خلية حبيبة اللقاح ببويضة و تتشكل البذرة ( )

٨- أكتب مراحل تكون الثمرة :

١- التلقيح

٢- .....

٣- تذبل البتلات و تسقط بعد تكون الثمرة

٤- .....

٩- ضع علامة ✓ أو X :

١- النباتات الزهرية متشابهة باللون والحجم و الشكل ( )

٢- تنتقل حبوب اللقاح من المتاع إلى السداة ( )

٣- تموت النباتات عندما نقطع الجذور ( )