



وزارة التربية
إدارة العامة لمنطقة الجهراء التعليمية
مدرسة الخنساء الابتدائية بنات

الصف الرابع

الفصل الدراسي الأول

العام الدراسي ٢٠٢٢/٢٠٢٣

مديرة المدرسة

أ / انتصار الظفيري

الموجهة الفنية

أ / صيته العجمي

رئيسة القسم

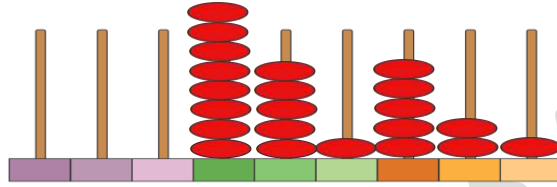
أ / منيرة العجمي

المهاره	التسلسل
كتابة رمز العدد	. ١
المجسمات	. ٢
الترتيب	. ٣
جمع وطرح عددين بدون إعاده التسمية	. ٤
جمع وطرح عددين مع إعاده التسمية	. ٥
الضرب	. ٦

كتابة رمز العدد

المهارة

اكتب رمز العدد:



اكتب رمز العدد:

خمسة وستون = _____

سبعمئة وخمسة عشر = _____

اربعة آلاف وخمسمئة وثلاثه = _____

اكتب رمز العدد:

$$= 50 + 7$$

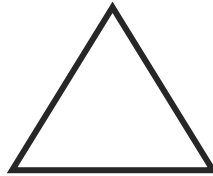

$$= 800 + 40 + 6$$

$$= 30000 + 4000 + 50$$

المجسمات

المهارة

صل كل شكل بالاسم المناسب

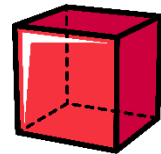
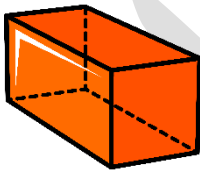


مستطيل

دائره

مثلث

اكتب اسم المجسم



.....

.....

.....

الترتيب

المهارة

رتب الأعداد التالية تصاعدياً:

٨٠٠ ، ٤١٥ ، ٣٤٠

_____ ، _____ ، _____

٢٥٩٠٠ ، ٢٥٧١٥ ، ٢٥٨٤٠

_____ ، _____ ، _____

١٩٨٠٠ ، ٦٧١٥ ، ٢٥٣٤٠

_____ ، _____ ، _____

رتب الأعداد التالية تنازلياً:

٦٠٠ ، ٣٨٥ ، ٥٦٠

_____ ، _____ ، _____

٣٧٩٠٠ ، ٣٧٧١٥ ، ٣٧٨٢٠

_____ ، _____ ، _____

٢٠٢٣١ ، ٣١١٣ ، ١٤٣٧٠

_____ ، _____ ، _____

جمع وطرح عددين بدون إعادته التسمية

المهارة

أوجد الناتج:

$$\begin{array}{r} 264 \\ + 311 \\ \hline \end{array}$$

$$\begin{array}{r} 25 \\ + 34 \\ \hline \end{array}$$

$$\begin{array}{r} 391 \\ + 4206 \\ \hline \end{array}$$

$$\begin{array}{r} 3236 \\ + 4140 \\ \hline \end{array}$$

أوجد الناتج:

$$\begin{array}{r} 754 \\ - 304 \\ \hline \end{array}$$

$$\begin{array}{r} 36 \\ - 25 \\ \hline \end{array}$$

$$\begin{array}{r} 6458 \\ - 157 \\ \hline \end{array}$$

جمع وطرح عددين مع إعادته التسمية

المهارة

أوجد الناتج:

$$\begin{array}{r} 274 \\ 380 + \\ \hline \end{array}$$

$$\begin{array}{r} 65 \\ 25 + \\ \hline \end{array}$$

$$\begin{array}{r} 391 \\ 5736 + \\ \hline \end{array}$$

$$\begin{array}{r} 2936 \\ 4540 + \\ \hline \end{array}$$

أوجد الناتج:

$$\begin{array}{r} 653 \\ 472 - \\ \hline \end{array}$$

$$\begin{array}{r} 54 \\ 25 - \\ \hline \end{array}$$

$$\begin{array}{r} 4000 \\ 124 - \\ \hline \end{array}$$

$$\begin{array}{r} 9026 \\ 124 - \\ \hline \end{array}$$

الضرب

المهارة

(١) أوجد الناتج:

$$\underline{\quad} = 5 \times 2$$

$$\underline{\quad} = 4 \times 4$$

$$\underline{\quad} = 2 \times 3$$

$$\underline{\quad} = 6 \times 6$$

$$\underline{\quad} = 3 \times 7$$

$$\underline{\quad} = 4 \times 5$$

(١) أوجد الناتج:

$$\underline{\quad} = 200 \times 2$$

$$\underline{\quad} = 20 \times 2$$

$$\underline{\quad} = 2 \times 2$$

$$\underline{\quad} = 400 \times 5$$

$$\underline{\quad} = 40 \times 5$$

$$\underline{\quad} = 4 \times 5$$

أوجد الناتج:

$$\begin{array}{r} 251 \\ \times 3 \\ \hline \end{array}$$

$$\begin{array}{r} 24 \\ \times 2 \\ \hline \end{array}$$