

الجمهورية العربية السورية
دولة الكويت
والعالم الإسلامي
الصف الثامن

بنك معلومات الصف الثامن
(الكويت والعالم الإسلامي)
الفصل الدراسي الأول ٢٠٢٢-٢٠٢٣م

منظم بالدرس للمعلم والمتعلم

إعداد المعلمتين :

أ: غالية المسيلم - أ: قيروان المعصب

إشراف ر.ق جليلة الدغيم
الموجهة الفنية هيفاء مال الله
مديرة المدرسة بدريّة الهدبة

معا
كفوة
الكويت
KuwaitTeacher.Com

الوحدة الأولى: أولاً: لمحة تاريخية عن الحضارة الإسلامية

- ١- مفهوم الحضارة الإسلامية ٢- أسس الحضارة الإسلامية
- ٢- خصائص الحضارة الإسلامية - أثر خصائص الحضارة الإسلامية على دولة الكويت



أولاً: أكمل العبارات التالية بما يناسبها فيما درست :

- ص ١٧
ص ١٧
ص ١٧
ص ٢١
ص ٢١
ص ٢٢
ص ٢٤

- ١- قامت الدولة الإسلامية في المدينة المنورة
- ٢- قامت الدولة الإسلامية على يد نبي الله سيدنا محمد ﷺ
- ٣- قامت الدولة الإسلامية - في القرن الثامن الميلادي
- ٤- أصدرت الجمعية العامة للأمم المتحدة قراراً بإدخال اللغة العربية لغتها رسمية في عام ١٩٧٢م
- ٥- التاريخ الذي يتم فيه الاحتفال باللغة العربية في كل عام يصادف ١٨ ديسمبر
- ٦- العالم اليوناني الذي استفادت منه الحضارة الإسلامية في مجال الرياضيات فيثاغورس.
- ٧- العام الذي أطلقت فيه الأمم المتحدة لقب قائد العمل الإنساني للشيخ صباح الأحمد الصباح ٢٠١٤ م

ثانياً: اكتب المفاهيم أو المصطلحات الدالة على العبارات التالية :

المفهوم	العبرة
١. الحضارة ص ١٨	هي كل ما يطرأ على المجتمع من تقدم وتطور ورقي سواء في الجانب المادي أو الجانب الروحي.
٢. البيمارستانات ص ٢٢	هي دار المرضى أو المستشفى ومراكز الصيدلة والتحليل وصناعة الأدوية.

ثالثاً: ظلل الخيار الصحيح من بين الخيارات التي تلي كل عبارة :

١/ العالم الذي ألف كتاب الصيدلة في الطب يسمى			
أ. البيروني	ب. الادريسي	ج. الرازي	د. الخوارزمي
٢/ أصدرت الجمعية العامة للأمم المتحدة قراراً بإدخال اللغة العربية كلغة رسمية في عام :			
أ. ١٩٧٢م	ب. ١٩٧٣م	ج. ١٩٧٤م	د. ١٩٧٥م
٣/ التاريخ الذي يحتفل العالم الإسلامي بقرار إدخال اللغة العربية لغتها رسمية في عام ١٩٧٢م هو			
أ. ١٨ سبتمبر	ب. ١٨ أكتوبر	ج. ١٨ نوفمبر	د. ١٨ ديسمبر
٤/ لقب الشيخ صباح الأحمد الصباح بقائد العمل الإنساني في تاريخ:			
أ. ٦ سبتمبر ٢٠١٤م	ب. ٧ سبتمبر ٢٠١٤م	ج. ٨ سبتمبر ٢٠١٤م	د. ٩ سبتمبر ٢٠١٤م
٥/ أطلقت الأمم المتحدة لقب قائد العمل الإنساني بتاريخ ٩ سبتمبر من عام ٢٠١٤م على الشيخ :			
أ. جابر الأحمد الصباح	ب. صباح الأحمد الصباح	ج. سعد العبد الصباح	د. نواف الأحمد الصباح

رابعاً: صوب ما تحته خط في العبارات التالية :

ص	العبرة	التصويب
١٧	١- قامت الدولة الإسلامية - في القرن السادس الميلادي.	الثامن
١٧	٢- قامت الدولة الإسلامية في بيت المقدس .	المدينة المنورة
٢١	٣- كل عام يحتفل العالم الإسلامي بيوم اللغة العربية بتاريخ ١٨ نوفمبر	ديسمبر
٢٤	٤- أطلقت الأمم المتحدة لقب قائد العمل الإنساني للشيخ جابر الأحمد الصباح	صباح الأحمد الصباح
٢٤	٥- لقب للشيخ صباح الأحمد الصباح بقائد العمل الإنساني بتاريخ ٩ سبتمبر عام ٢٠١٥م.	٢٠١٤م

خامساً: استنتج الرابط بين العناصر التالية :

- ١/ الرياضيات + الفيزياء + الكيمياء + الفلسفة + الفلك
- ٢/ علوم الدين + حديث + فقه + تفسير + تاريخ
- ٣/ مساجد + قصور + مستشفيات + مكتبات + الأدوات + الاختراعات.
- ٤/ العلوم + الفكر + الأدب + الأخلاق + السياسة + الثقافة
- ٥/ القرآن الكريم والسنة النبوية + اللغة العربية + الحضارات الأخرى (أسس الحضارة الإسلامية)

- ص ١٧
ص ١٧
ص ١٨
ص ١٨
ص ٢٠

سادسا: صنف الكلمات التالية إلى مكانها المناسب في الجدول التالي:

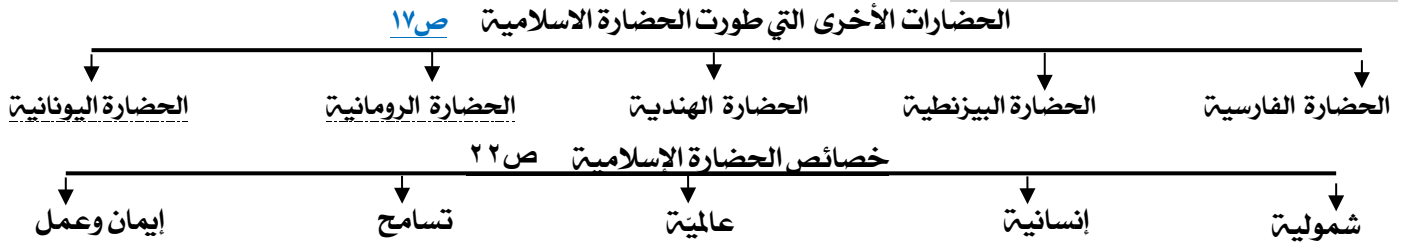
القصور + الأدب + الثقافة + الأدوات + الاختراعات + الأخلاق + السياسة + مساجد **ص ١٨**

الجوانب الروحية	الجوانب المادية
الأدب - الثقافة - الأخلاق - السياسة	القصور - الأدوات - الاختراعات مساجد

القرآن الكريم + شمولية + تسامح + إيمان وعمل اللغة العربية + إنسانية + عالمية + الحضارات الأخرى

اسس الحضارة الإسلامية ص ٢٠	خصائص الحضارة الإسلامية ص ٢٢
القرآن الكريم - اللغة العربية - الحضارات الأخرى	شمولية - عالمية - إنسانية - تسامح - إيمان وعمل

سابعا: أكمل المخططات السهمية التالية:



ثامنا: برهن على صحة العبارة التالية:

١/ انعكس أثر خصائص الحضارة الإسلامية على دولة الكويت: **ص ٢٤**

- نشأ الشعب الكويتي على التراحم، والعدل، والتسامح والمساواة.
- العمل على فعل الخير من خلال تأسيس المؤسسات والهيئات والجمعيات الخيرية.
- مد يد العون سواء المسلمين أو غير المسلمين

تاسعا اذكر ما تعرفه عن البيروني: **ص ١٩**

عدد مؤلفاته	180 مؤلف
أشهر مؤلفاته	كتاب الصيدلة في الطب
أهم اكتشافاته	معادلة نصف قطر الأرض والتي سميت باسمه (معادلة البيروني)

عاشرا: / أقرأ الفقرة التالية ثم أجب على الأسئلة التي تليها: **ص ٢١**

أن الجمعية العامة للأمم المتحدة أصدرت في شهر ديسمبر عام ١٩٧٢ قرارا بإدخال اللغة العربية ضمن اللغات الرسمية ولغات العمل في الأمم المتحدة وهي الإنجليزية والفرنسية والصينية والروسية والإسبانية، بعد اقتراح قدمته المملكة العربية السعودية ومملكة المغرب ويعتبر هذا تأكيد على انتشار اللغة العربية واعتبر يوم ١٨ ديسمبر من كل عام يوم الاحتفال باللغة العربية.

١- ما هو التاريخ الذي تم الاعتراف به في اللغة العربية **١٨ ديسمبر من كل عام**

٢- استنتج ثلاثة أفكار من الفقرة السابقة

أ- ادخال اللغة العربية ضمن اللغات الرسمية.

ب- تقديم المملكة العربية السعودية ومملكة المغرب اقتراح بإدخال اللغة العربية.

ج- عدد اللغات الرسمية المعترف بها ست لغات (الإنجليزية والفرنسية والصينية والروسية والإسبانية، العربية)

د- اقترح عنوانا مناسباً للفقرة (الاقتراحات تكون من ذهن المتعلم ولا تكون مذكورة في الكتاب)

من مقولات المفكر الفرنسي في كتاب حضارة العرب > لم يعرف التاريخ أمة أرحم من العرب (المسلمين). والرحمة والعدل عندهم متلازمان لقد فاق العرب (المسلمين) كل من سبقهم من الأمم وظهرت قوتهم الإبداعية في مختلف الفنون.

١/ من القائل؟ المفكر الفرنسي غوستاف لوبون **ص ٢٢/٢٢** على ماذا تدل؟ اعتراف الغرب بدور الحضارة الإسلامية

عدد خصائص الحضارة العربية الإسلامية. (تسامح - إيمان وعمل - إنسانية - عالمية - شمولية) **ص ٢٢/٢٢**

/ عدد الشخصيات الكويتية التي أطلق عليها لقب قائد العمل الانساني أ- الشيخ صباح الأحمد الصباح ب- الداعية عبد الرحمن **ص ٢٤**

الوحدة الأولى: ثانياً: مظاهر الحضارة الإسلامية
(المظاهر السياسية والإدارية)



أولاً: أكمل العبارات التالية بما يناسبها فيما درست :

- ١- توفي الرسول-صلى الله عليه وسلم- في ١٢ من ربيع الأول عام ١١ هـ
- ٢- اجتمع المسلمون بعد وفاة الرسول ﷺ في سقيفة بني ساعدة
- ٣- أول حاكم بعد الرسول-ﷺ- إذ خلفه بإدارة شؤون المسلمين يسمى أبي بكر الصديق ﷺ
- ٤- ظهر منصب إداري جديد في الدولة الإسلامية يسمى الخليفة
- ٥- استحدث منصب إداري جديد في عهد الخليفة الراشد الثاني عمر بن الخطاب ﷺ يسمى المحتسب
- ٦- ظهر العديد من الكيانات السياسية من ممالك وسلطنات وإمارات. في عهد الدولة العباسية

ثالثاً: ظلل الخيار الصحيح من بين الخيارات التي تلي كل عبارة :

٦/ توفي الرسول-صلى الله عليه وسلم- في ١٢ من ربيع الأول عام:			
أ- ١١ هـ	ب- ١٢ هـ	ج- ١٣ هـ	د- ١٤ هـ
٧/ أول حاكم بعد الرسول-ﷺ- إذ خلفه بإدارة شؤون المسلمين في الدين والدنيا هو:			
أ- عمر بن الخطاب	ب- <u>أبي بكر الصديق</u>	ج- عثمان بن عفان	د- علي بن أبي طالب
٨/ استحدث منصب إداري جديد في عهد الخليفة الراشد الثاني عمر بن الخطاب ﷺ هو :			
أ- <u>المحتسب</u>	ب- الخليفة	ج- الوالي	د- الوزير

رابعاً: صوب ما تحته خط في العبارات التالية:

التصويب	العبارة
الخليفة	١- ظهر منصب إداري جديد في الدولة الإسلامية بعد وفاة الرسول ﷺ هو <u>الوالي</u>
العباسية	٢- ظهر العديد من الكيانات السياسية من ممالك وسلطنات في عهد الدولة الأموية.

خامساً: ضع الحرف (أ) أمام العبارة الصحيحة. والحرف (ب) أمام العبارة الخاطئة مع التصويب:

التصويب	أ	ب	العبارة
			١- ظهر منصب المحتسب في عهد الخليفة أبو بكر الصديق رضي الله عنه
			٢- توفي الرسول صلى الله عليه وسلم في عام ١٢ هجرية.
			٣- أول خليفة للدولة الإسلامية اسمه <u>أبي بكر الصديق</u> .
			٤- اجتمع المسلمون لاختيار خليفة لرسول ﷺ في مكان سقيفة بني ساعدة.

سادساً: استنتج الرابط بين العناصر التالية:

(مناصب الإدارية)

/ الوزير + الوالي + الحاجب + القاضي + المحتسب + الخليفة

سابعاً: أكمل المخططات السهمية التالية:



ص ٢٦

ثامناً: أعد ترتيب رتب الخلفاء الراشدين ترتيباً تصاعدياً من حيث فترة توليهم الخلافة:

عمر بن الخطاب - عثمان بن عفان - علي بن أبي طالب - أبو بكر الصديق

أبو بكر الصديق	عمر بن الخطاب	عثمان بن عفان	علي بن أبي طالب
----------------	---------------	---------------	-----------------

الوحدة الأولى: ثانياً: مظاهر الحضارة الإسلامية
(المظاهر الاقتصادية)



أولاً: أكمل العبارات التالية بما يناسبها فيما درست :

- ١) أنشأ ديوان الماء في مدينة مرو الواقعة في خراسان « إيران حالياً)
صناعة خشبية برع المسلمون بصناعتها تسمى أرابيسك
٢) اكتشف في دولة الكويت محطة لاستراحة قوافل الحجاج تعود للعصر الإسلامي تسمى محطة الشجي
٣) يبلغ مقدار الزكاة على الأموال النقدية التي حال عليها الحول بواقع ٢,٥٪
٤) الجهة المسؤولة عن الوقف في دولة الكويت تسمى الوزارة الأوقاف والشؤون الإسلامية

ثانياً: اكتب المفاهيم أو المصطلحات الدالة على العبارات التالية:

المفهوم	العبرة
الخراج ص ٢٨	ضريبة الارض الزراعية التي تخرج مبلغا ماليا معيناً من ناتج المحصول الزراعي
الزكاة ص ٢٨	ركن من أركان الإسلام يخرجها المسلمون الأغنياء للمستحقين من الفقراء، من الاموال والثروات وقيمتها ٢,٥٪
الجزية ص ٢٩	مبلغ مالي يدفعه الرجال غيرا مسلمين من أهل الذمة ممن قادرين على حمل السلاح نظير حماية الدولة لهم
الوقف الإسلامي ص ٢٩	صدقه جاريه يوقفها المرء في حياته لوجوه الخير والبر ، ويكون اجرها ونفعها ما دامت باقية ويستمر الأجر حتى بعد وفاته

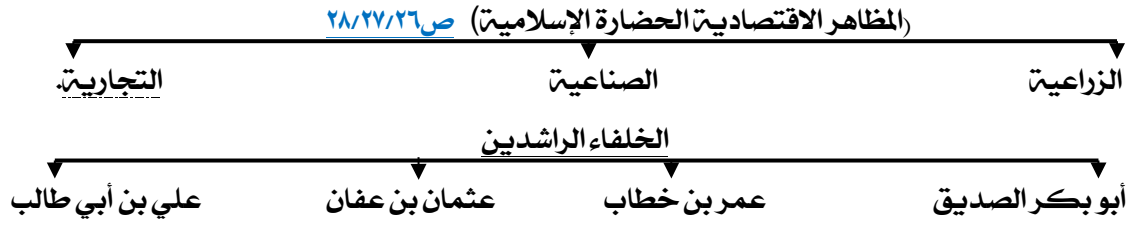
ثالثاً: ظلل الخيار الصحيح من بين الخيارات التي تلي كل عبارة :

١/ صناعة خشبية برع المسلمون بصناعتها هي :			
أ. أرابيسك	ب. الخزف	ج. الحلبي	د. الأسلحة
٢/ الرسم الذي يمثل مقدار الزكاة على الأموال النقدية يمثلها الشكل :			
أ.	ب.	ج.	د.
٣/ ضريبة الأرض الزراعية التي تخرج مبلغا ماليا معيناً من ناتج المحصول الزراعي:			
أ. الزكاة	ب. الخراج	ج. الجزية	د. الوقف الإسلامي
٤/ ركن من أركان الإسلام يخرجها المسلمون الأغنياء من الأموال والثروات للمستحقين من الفقراء :			
أ. الزكاة	ب. الخراج	ج. الجزية	د. الوقف الإسلامي
٥/ مبلغ مالي يدفعه الرجال غير المسلمين من أهل الذمة ممن قادرين على حمل السلاح نظير حماية الدولة لهم:			
أ. الزكاة	ب. الخراج	ج. الجزية	د. الوقف الإسلامي
٦/ صدقة جارية يوقفها المرء في حياته لوجوه الخير والبر. ويكون أجرها ونفعها ما دامت باقية ويستمر الأجر حتى بعد وفاته.:			
أ. الزكاة	ب. الخراج	ج. الجزية	د. الوقف الإسلامي

رابعا: صوب ما تحته خط في العبارات التالية:

الصفحة	العبرة	التصويب
٢٧	١/ تم أنشأ ديوان الماء في مدينة قرطبة.	المرو
٢٧	٢/ برزت الصناعات الخشبية عند العرب وسميت نسبة لهم هي <u>الخزف</u> .	الأرابيسك
٢٨	٣/ مقدار الزكاة على الأموال النقدية التي حال عليها الحول <u>٢,٥٪</u> .	٢,٥٪

خامسا : أكمل المخططات السهمية التالية :



المجموعة (أ) ص ٢٨/٢٩	الرقم المناسب	المجموعة (ب)
١/ مبلغ يخرج به المسلمون الأغنياء من الأموال والثروات للمستحقين من الفقراء	٣	الجزية
٢/ ضريبة الأرض الزراعية التي تخرج مبلغا ماليا معيناً من ناتج المحصول الزراعي	٢	الخراج
٣/ مبلغ مالي يدفعه الرجال غير المسلمين من أهل الذمة نظير حماية الدولة لهم.	١	الزكاة
٤/ صدقة جارية يوقفها المرء في حياته لوجوه الخير والبر، ويكون أجرها ونفعها ما دامت باقية ويستمر الأجر حتى بعد وفاته.	٤	الوقف الإسلامي
	—	الصدقة

سادسا: اختر للمجموعة (أ) ما يرتبط بها من المجموعة (ب) بوضع الرقم المناسب.

سابعا : فرق بين كل مما يلي :

- ١- الصادرات والواردات في الحضارة الإسلامية. ص ٢٨

الواردات	الصادرات
الأخشاب والتوابل والذهب	التمور والفواكه واللبن والخيول العربية

ثامنا : علل / اذكر السبب.

١. اهتمت الحضارة الإسلامية بالموارد الاقتصادية والمالية. ص ٢٦ بسبب دورها في تقدم البلاد وازدهار وتوفير أسباب العيش الكريم.
٢. اهتمت الدولة الإسلامية بالقطاع الصناعي اهتماما كبيرا. ص ٢٧ من أجل استثمار الموارد الطبيعية المتوفرة بها.
٣. لقيت التجارة تشجيعا كبيرا في الحضارة الإسلامية. ص ٢٨ لدورها الكبير في التبادل التجاري مع المناطق المجاورة ب/ اسهمت في نشر الدين الإسلامي ج/ ازدهار التجارة بالوارد والصادر

تاسعا : برهن على صحة العبارة التالية:

- / كان لجزيرة فيلكا دور يعود للعصر الإسلامي: ص ٢٨
رصد قريتا القرينية في شمال جزيرة فيلكا والقصور في وسطها ازدهرتا بازدهار الطريق التجاري البحري عبر الخليج العربي، وكانت تمارس فيهما التجارة والغوص على اللؤلؤ والزراعة والرعي.

عاشرا / دلل على صحة العبارة التالية:

- ١/ كان للمسلمين جهود عديدة في الزراعة ص ٢٦
أ/ شق القنوات المائية والترع ب/ اقامة السدود ج/ تنظيم وسائل الري (إنشاء ديوان الماء)
٢/ شعب الكويت جبل على حب الخير الدائم والأجر المستمر. ص ٢٩
إنشاء وزارة الأوقاف والشؤون الإسلامية

الحادي عشر / الصناعات التي ظهرت في الحضارة الإسلامية. ص ٢٧
صناعة السفن - صناعة الأسلحة - صناعة الورق - صناعة الأدوية - صناعة المنسوجات - صناعة الخزف والمعادن - الصناعات الخشبية

**الوحدة الأولى: ثانياً : مظاهر الحضارة الإسلامية
(المظاهر العمرانية)**



أولاً : أكمل العبارات التالية بما يناسبها فيما درست :

- ١ - الطراز المعماري يعكس التصميم الأندلسي والمنقوشات الإسلامية في دولة الكويت يسمى المسجد الكبير ص ٣١
- ٢ الشيخ الذي افتتح المسجد الكبير في عام ١٩٨٦م يسمى الشيخ جابر الاحمد الصباح . ص ٣١
- ٣ أول القبليتين وهو أكبر مساجد العالم يسمى المسجد الأقصى . ص ٣٣
- ٤ الخليفة الذي ضم حجرات بيت الرسول ﷺ الى المسجد يسمى عبد الملك بن مروان . ص ٣٣
- ٥ المدينة التي يقع فيها قصر الحمراء تسمى غرناطة بالأندلس ص ٣٥
- ٦ يطلق على بلاد الأندلس حالياً اسم اسبانيا ص ٣٥
- ٧ قصر يقع في الاراضي الممتدة في شمال الصحراء السورية وجنوب نهر الفرات في العراق يسمى قصر الرصافة ص ٣٥

ثانياً: اكتب المفاهيم أو المصطلحات الدالة على العبارات التالية :

المفهوم	العبارة
٣. الفسيفساء ص ٢٠	مجموعة من المكعبات الزجاج المون والشفاف وقطع من الحجر الابيض والاسود والقطع الخزفية تثبت فوق طبقة من الجص والاسمنت لتعطي شكل منظم متناسق في الشكل واللون
٤. المساجد ص ٣٢	أماكن تقام فيها الصلوات وخطبة الجمعة والتعليم الديني .
٥. القصور ص ٣٤	هي مقر الحاكم والمكان الذي يضم المؤسسات الادارية كالوزارة والدواوين
٦. دمشق ص ٣٤	كلمة اشتقت من الدمقس وهو نوع من الحرير الذي اشتهرت به تلك المدينة قبل الإسلام.

ثالثاً: ظلل الخيار الصحيح من بين الخيارات التي تلي كل عبارة :

١/ الشيخ الذي افتتح المسجد الكبير في عام ١٩٨٦م هو:			
أ- جابر الاحمد الصباح	ب- سعد العبد الله الصباح	ج- صباح الأحمد الصباح	د- نواف الأحمد الصباح
٢/ الطراز المعماري الذي يعكس التصميم الأندلسي والمنقوشات الإسلامية في دولة الكويت يسمى			
أ- مسجد السلطان أحمد	ب- المسجد النبوي	ج- مسجد عمر بن الخطاب	د- المسجد الكبير
٣/ أول القبليتين في الاسلام وأحد أكبر مساجد العالم :			
أ- المسجد النبوي	ب- الكعبة المشرفة	ج- المسجد الأقصى	د- مسجد عمر بن الخطاب
٤/ المسجد الذي رفع إبراهيم وابنه إسماعيل عليهما السلام قواعده وأصبح مثابة للناس وامناً يسمى :			
أ- الكعبة المشرفة	ب- المسجد النبوي	ج- المسجد الأقصى	د- المسجد الكبير
٥/ مركزاً دينياً وسياسياً وثقافياً للدولة الإسلامية الجديدة هو			
مكة المكرمة:	المسجد الكبير	المسجد النبوي	المسجد الأقصى
٦/ يقع جامع عمرو بن العاص في :			
أ- الاردن	ب- الأندلس	ج- القسطنطينية	د- مرو
٧/ تقع جامعة الزيتونة في :			
أ- قرطبة	ب- تونس	ج- دمشق	د- بغداد
٨/ يقع قصر الحمراء بمدينة غرناطة في :			
أ- الأندلس	ب- دمشق	ج- قرطبة	د- القاهرة

رابعاً: صوب ما تحته خط في العبارات التالية :

الصفحة	العبارة	التصويب
٣٢	أماكن تقام فيها الصلوات وخطبة الجمعة والتعليم الديني هي القصور	المساجد
٣٣	أنشأ المسجد النبوي بالمدينة المنورة خلال ثلاث شهور من الهجرة .	شهرين
٣٣	يقع الجامع الأزهر في دمشق .	القاهرة
٣٣	يقع جامع قرطبة في السعودية .	الأندلس
٣٣	يقع مسجد عمر بن الخطاب بدومة الجندل في اسبانيا .	المملكة العربية السعودية

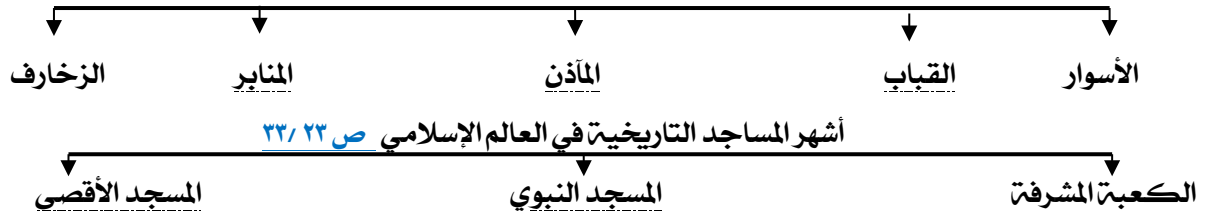
خامسا: استنتج الرابط بين العناصر التالية:

(الأسوار العمرانية) ص ٢٠

١ / سور الأحساء + سور القاهرة + سور بغداد

سادسا: أكمل المخططات السهمية التالية:

مميزات المظاهر العمرانية في الحضارة الإسلامية ص ٢٠



سابعاً: صنف الكلمات التالية إلى مكانها المناسب في الجدول التالي:

- اسم المسجد أو مكانه ص ٢٢-٢٣ (مكة المكرمة، المدينة المنورة، القدس، فلسطين المحتلة)

اسم المسجد	المسجد المشرف	المسجد النبوي	المسجد الأقصى
المكان	مكة المكرمة:	المدينة المنورة	القدس (فلسطين المحتلة)

- القسطنطينية / القاهرة / تونس / الأندلس / دمشق / المملكة العربية السعودية / إسطنبول

المسجد الأموي	جامع عمرو بن العاص	الجامع الأزهر	جامعة الزيتونة	جامع قرطبة	مسجد السلطان أحمد	مسجد عمر بن الخطاب
دمشق	القسطنطينية	القاهرة	تونس	الأندلس	إسطنبول	المملكة العربية السعودية

هشام بن عبد الملك / معاوية بن أبي سفيان / يزيد بن الوليد / الرصافة / الخضر / عمرة

الخليفة	هشام بن عبد الملك .	معاوية بن أبي سفيان	يزيد بن الوليد
اسم القصر	الرصافة	الخضر	عمرة
المكان	سوريا	دمشق	الأردن

١- اقرأ الفقرة الآتية ثم اجب عن الأسئلة التي تليها: ص ٣١

يعتبر المسجد الكبير من أهم المظاهر العمرانية في دولة الكويت له إطلاله جميلة ومنظر بديع، حيث يقع في قلب العاصمة مقابل قصر السيف، والذي افتتح في عام 1986 في عهد الشيخ جابر الأحمد الصباح، وقد صمم المسجد وفق الطراز الأندلسي الإسلامي.

في عهد أي شيخ تم افتتاح المسجد الكبير؟ متى تم افتتاح المسجد الكبير؟

عهد الشيخ جابر الأحمد الصباح، افتتح في عام ١٩٨٦

٢- استخلص حقيقة من الفقرة السابقة.

تم بناء المسجد الكبير وفق الطراز الأندلسي الإسلامي

يقع المسجد الكبير في قلب عاصمة الكويت مقابل قصر السيف

الوحدة الأولى: ثانيا : مظاهر الحضارة الإسلامية
(المظاهر الاجتماعية)
(مظاهر الإنجازات العلمية والثقافية).



أولا : أكمل العبارات التالية بما يناسبها فيما درست :

ص ٣٧

ص ٣٩

ص ٣٩

ص ٤٠

- ١) الخليفة العباسي الذي شجع على العلم وحركة الترجمة يسمى المأمون
- ٢) كلمة اشتقت منها كلمة الكاميرا تسمى قمره
- ٣) العالم الذي له الفضل في تطوير فكرة الكاميرا يسمى الحسن بن الهيثم
- ٤) ألف الجاحظ ٣٥٠ كتابا أهمهم كتاب يراقب سلوك الحيوانات يسمى كتاب الحيوان

ثانيا : اكتب المفهوم الدال على العبارة التالية :

المفهوم	العبارة
اهل الذمة ص ٣٦	هم النصارى واليهود الذين ظلوا على دينهم مع دفع الجزية.

ثالثا : ظلل الخيار الصحيح من بين الخيارات التي تلي كل عبارة :

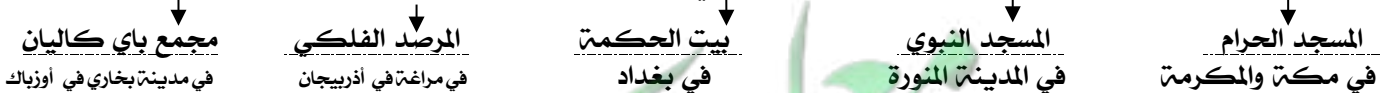
١/ يعتبر مجمع باي كاليان أحد المراكز العلمية للحضارة الإسلامية ويقع في مدينة تسمى :	أ- دمشق	ب- بخاري	ج- بغداد	د- المدينة المنورة
٢/ يعتبر بيت الحكمة من أهم المراكز العلمية في الحضارة الإسلامية ويقع في :	أ- بغداد	ب- دمشق	ج- الاردن	د- اوزباكستان
٣/ يعتبر المرصد الفلكي من أهم المراكز العلمية في الحضارة الإسلامية ويقع في :	أ- دمشق	ب- بغداد	ج- أذربيجان	د- اوزباكستان
٤/ العالم الذي له الفضل في تطوير فكرة الكاميرا هو :	أ- الخوارزمي	ب- الرازي	ج- الادريسي	د- الحسن بن الهيثم
٥/ أشهر علماء الجبر ألف كتاب الجبر والمقابلة هو :	أ- الخوارزمي	ب- الرازي	ج- الادريسي	د- الحسن بن الهيثم
٦/ أشهر علماء الطب ألف كتاب الحاوي في الطب هو :	أ- البيروني	ب- الادريسي	ج- الرازي	د- الخوارزمي
٧/ ألف العالم الجاحظ ٣٥٠ كتاب وأهمهم كتاب :	أ- الحيوان	ب- الصيدلة في الطب	ج- الجبر والمقابلة	د- نزهة المشتاق في اختراق الأفاق

خامسا : استنتج الرابط بين العناصر التالية :

أهل الذمة + رجال الدين + الحكام + الخدم + التجار (الفئات الاجتماعية) ص ٣٦

سادسا : أكمل المخطط السهمي التالي :

أهم المراكز العلمية في الحضارة الإسلامية ص ٢٨



سابعا صنف أسماء الكتب - أو العلماء في الجدول الذي يليه :
(الحيوان / الصيدلة في الطب / الجبر والمقابلة / الحاوي في الطب / نزهة المشتاق في اختراق الأفاق

الصفحة	٤٠	٣٩	١٩	٤٠	٤٢
العالم	الجاحظ	الخوارزمي	البيروني	أبو بكر الرازي	الشريف الادريسي
الكتاب	الحيوان	الجبر والمقابلة	الصيدلة في الطب	الحاوي في الطب	نزهة المشتاق في اختراق الأفاق



ص ٣١

ثامنا: أكمل العبارات التالية بما يناسبها :

الشكل المقابل يمثل معلم ديني يسمى المسجد الكبير
تم افتتاح هذا المعلم في عام ١٩٨٦ م
الشيخ الذي تم في عهده افتتاح هذا المعلم هو جابر الأحمد الصباح



ص ٣٣

(١) أكمل العبارات التالية بما يناسبها :

- الشكل المقابل يمثل (المسجد الأقصى)
- ماذا يمثل هذا المعلم للمسلمين؟ أول القبلتين في الإسلام - وأكثر الأماكن قدسية للمسلمين
وأحد أكبر مساجد العالم. في أي دولة يقع ؟ (القدس) في فلسطين المحتلة

تاسعا / علل / اذكر السبب .

١/ ازدهار العلم وظهور العلماء في الدولة الإسلامية ص ٣٧
تشجيع العلماء والرعاية / التنافس العلمي بين الدول الإسلامية / حركة التعريب / الرخاء الاقتصادي

عدد العوامل أدت إلى ازدهار العلم وظهور العلماء: ص ٣٧

- ١) تشجيع العلماء ورعايتهم وتمويل القيادات السياسية لهم من خلفاء، وملوك، وسلاطين وأمراء.
- ٢) التنافس العلمي بين الدول الإسلامية.
- ٣) حركة التعريب (الترجمة للكتب القديمة اليونانية والهندية والفارسية وغيرها).
- ٤) الرخاء الاقتصادي.

اكتب ما تعرف عن مجالس القصص والوعاظ. ص ٣٦
هي مجالس توجد في المجتمع الإسلامي لسماع القصص والحكايات

عاشرا: ضع تعليقا على الصورة



الاسم : البكري



الحسن ابن الهيثم



الجاحظ



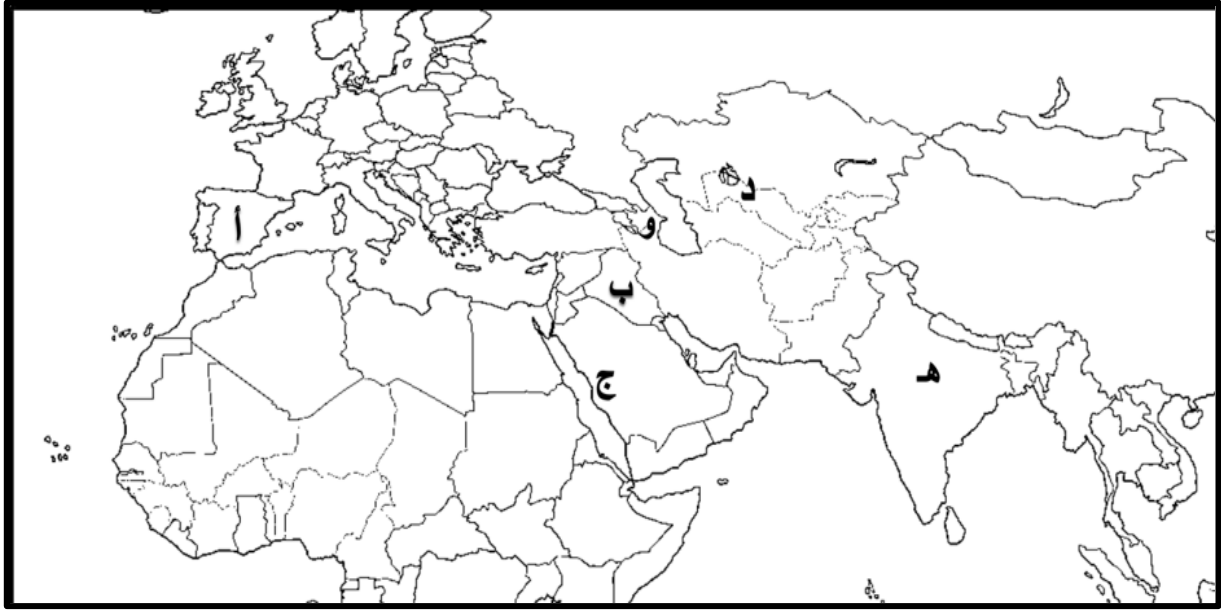
الاسم : الخوارزمي



ابو بكر الرازي

علماء المسلمين ص ٤/٣٩

(١٧) أمامك خريطة مقطعية من العالم الاسلامي نفذ المطلوب :



- بلاد الأندلس من مراكز الاشعاع يمثله على الخريطة الحرف : أ ص ٤١
- المرصد الفلكي في أذربيجان يمثله على الخريطة الحرف و ص ٢٨
- بيت الحكمة يمثله على الخريطة الحرف : ب ص ٢٨
- مجمع باي كاليان يمثله على الخريطة الحرف : د ص ٢٨
- مسجد رفعة نبي الله ابراهيم واسماعيل يمثله على الخريطة الحرف : ج ص ٢٢
- بحر العرب يمثله على الخريطة الحرف س ص ٥٦

الوحدة الأولى: ثانياً : مظاهر الحضارة الإسلامية
(المظاهر الاجتماعية)
(مظاهر الإنجازات العلمية والثقافية).



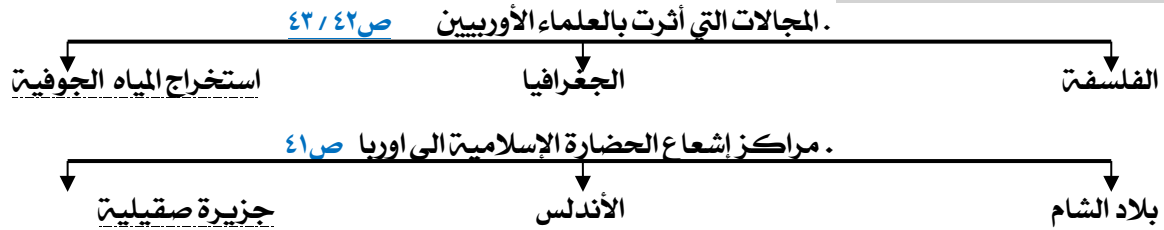
أولاً : أكمل العبارات التالية بما يناسبها فيما درست :

ص ٤٣
ص ٤٢

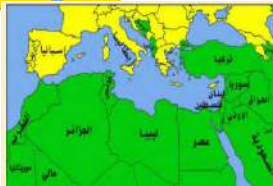
استفاد الأوروبيون من طريقة المسلمون في نقل الرسائل جوا عن طريق الحمام الزاجل
أثرت مؤلفات الفيلسوف الكندي في عالم إنجليزي اسمه روجر بيكون
ثانياً / ظلل الخيار الصحيح من بين الخيارات التي تلي كل عبارة :

١/ أحد مراكز إشعاع الحضارة الإسلامية الى أوروبا تمثلها حالياً دولة (إيطاليا) تسمى :			
أ. بلاد الأندلس	ب. صقلية	ج. بلاد الشام	د. بلاد الرافدين
٢/ تمثل الدول الحالية (إسبانيا والبرتغال) أحد مراكز إشعاع الحضارة الإسلامية الى أوروبا هي :			
أ. بلاد الأندلس	ب. صقلية	ج. بلاد الشام	د. بلاد الرافدين
٣/ تمثل الدول الحالية (سوريا ولبنان والاردن وفلسطين) أحد مراكز الإشعاع الحضارة الإسلامية الى أوروبا تسمى :			
أ. بلاد الأندلس	ب. صقلية	ج. بلاد الشام	د. بلاد الرافدين
٤/ تأثر العالم الإنجليزي روجر بيكون بالعالم والفيلسوف الكندي في مجال :			
أ. الفلسفة	ب. الجغرافيا	ج. الطب	د. الرياضيات
٥/ صاحب كتاب نزهة المشتاق في اختراق الافاق			
أ. الشريف الإدريسي	ب. ابن النفيس	ج. الخوارزمي	د. جاحظ
٦/ مدينة كانت مثالاً للهندسة المحكمة للمجاري الجوفية			
أ. مدينة بغداد	ب. مدينة مجريط	ج. مدينة غرناطة	د. مدينة بخاري

ثالثاً/ أكمل المخططات السهمية التالية :



رابعاً : اختر للمجموعة (أ) ما يرتبط بها من المجموعة (ب) بوضع الرقم المناسب . ص ٤١ :



م	المجموعة (أ)	الرقم المناسب	المجموعة (ب)
١	بلاد الأندلس	٣	سوريا - لبنان - فلسطين - الاردن
٢	صقلية	٢	إيطاليا
٣	بلاد الشام	١	إسبانيا والبرتغال
		—	بريطانيا



- الشكل المقابل يمثل (خريطة الإدريسي)
- من هو العالم الذي قام برسم خريطة كروية الأرض ؟ الإدريسي
ما اسم أشهر كتبه ؟ نزهة المشتاق في اختراق الافاق
في أي مجال اشتهر ؟ مجال الجغرافيا

خامساً / علل / اذكر السبب .

٤. تدين أوروبا بالفضل الكبير للحضارة الإسلامية . ص ٤٢
لأنها كانت السبب في النهضة الصناعية والعلمية الأوروبية الحديثة .

أولاً: البيئة الطبيعية لدول العالم الإسلامي المعاصرة.
(الموقع)



أولاً: أكمل العبارات التالية بما يناسبها فيما درست :

- ١/ تتواجد دول العالم الإسلامي ضمن ٤ قارات.
 - ٢/ تبلغ مساحة العالم الإسلامي حوالي ٣٢ مليون كم^٢.
 - ٣/ تبلغ مساحة العالم الإسلامي بالنسبة لمساحة العالم حوالي ٢٢,٢٪.
 - ٤/ الدولة الإسلامية الوحيدة في قارة أمريكا الجنوبية تسمى سورينام.
 - ٥/ يقع العالم الإسلامي بين خطي طول ١٨ غرباً إلى ١٤١ شرقاً.
 - ٦/ يقع العالم الإسلامي بين دائرتي عرض ١٣ جنوب خط الاستواء إلى ٥٥ شمال خط الاستواء.
 - ٧/ أكبر الدول الإسلامية مساحة تسمى جمهورية كازاخستان.
 - ٨/ أصغر الدول الإسلامية مساحة تسمى جمهورية المالديف.
- ثانياً: ظلل الخيار الصحيح من بين الخيارات التي تلي كل عبارة :

١/ تتواجد دول العالم الإسلامي ضمن :			
أ. ثلاث قارات	ب. أربع قارات	ج. خمس قارات	د. ست قارات
٢/ يطلق مصطلح القارات القديمة على كل من قارة آسيا وأفريقيا وقارة :			
أ. أمريكا الجنوبية	ب. أمريكا الشمالية	ج. استراليا	د. أوروبا
٣/ يبلغ عدد الدول الإسلامية في قارة أفريقيا :			
أ. ٢٤ دولة	ب. ٢٥ دولة	ج. ٢٦ دولة	د. ٢٧ دولة
٤/ يبلغ عدد الدول الإسلامية في قارة آسيا :			
أ. ٢٤ دولة	ب. ٢٥ دولة	ج. ٢٦ دولة	د. ٢٧ دولة
٥/ تضم قارة أوروبا دولتين إسلاميتين هما <u>ألبانيا</u> و <u>دولت</u> :			
أ. البوسنة والهرسك	ب. سورينام	ج. كازاخستان	د. أفغانستان
٦/ الدولة الإسلامية التي تقع ضمن قارة أمريكا الجنوبية هي:			
أ. سورينام	ب. ألبانيا	ج. جزر المالديف	د. ألمانيا
٧/ تبلغ مساحة العالم الإسلامي حوالي :			
أ. ٣٠ كم ^٢	ب. ٣١ كم ^٢	ج. ٣٢ كم ^٢	د. ٣٣ كم ^٢
٨/ أكبر الدول الإسلامية من حيث المساحة هي:			
أ. أوزباكستان	ب. كازاخستان	ج. باكستان	د. أفغانستان
٩/ أصغر دول العالم الإسلامي مساحة هي :			
أ. جيبوتي	ب. جزر القمر	ج. المالديف	د. البحرين

ثالثاً: ضع الحرف (أ) أمام العبارة الصحيحة، والحرف (ب) أمام العبارة الخاطئة مع التصويب:

العبارة	أ	ب	التصحيح
يشغل العالم الإسلامي موقعا مهما على خريطة العالم.		
القارات القديمة هي آسيا وأفريقيا وأوروبا.		
تضم قارة آسيا ٢٧ دولة من الدول الإسلامية.		
تقع كل من دولتي البانيا والبوسنة والهرسك في قارة أفريقيا	أوروبا	
الدولة الإسلامية الوحيدة التي تقع في قارة أمريكا الجنوبية هي البانيا	سورينام	
تبلغ مساحة العالم الإسلامي حوالي ٣٢ مليون كم ^٢	٢٢ كم	
تبلغ مساحة العالم الإسلامي حوالي ٢٢,٢٪ من مساحة العالم.		
يقع العالم الإسلامي بين خطي طول ١٨ غرباً إلى ١٤١ شرقاً		
يقع العالم الإسلامي بين دائرتي عرض ١٣ جنوب خط الاستواء إلى ٥٥ شمال خط الاستواء	٥٥	
تعد جمهورية كازاخستان أكبر الدول الإسلامية من حيث المساحة		

العبارة	التصويب
تتواجد دول العالم الاسلامي ضمن ثلاث قارات	أربع قارات
يمتد العالم الاسلامي في القارات الحديثة	القديمة
يطلق على آسيا وأفريقيا وأوروبا مصطلح القارات الجديدة	القديمة
يبلغ عدد الدول الاسلامية في قارة آسيا ٢٦ دولة	٢٧ دولة
يبلغ عدد الدول الاسلامية في قارة أفريقيا ٢٥ دولة	٢٦ دولة
تضم قارة أوروبا دولتين اسلاميتين هما البوسنة والهرسك وألمانيا	ألمانيا
القارة التي تضم دولة اسلامية واحدة هي أمريكا الشمالية	أمريكا الجنوبية
توجد دولة اسلامية واحدة في قارة أمريكا الجنوبية هي البوسنة والهرسك	سورينام
تبلغ مساحة العالم الاسلامي بالنسبة للعالم ٢٥,٢ %	٢٢,٢ %
يقع العالم الاسلامي بين خطي طول ١٨ غربا إلى ١٤٥ شرقا.	١٤١ شرقا
أكبر الدول الاسلامية من حيث المساحة هي جمهورية مصر العربية	كازاخستان
أصغر دول العالم الاسلامي مساحةً البحريين .	المالديف

خامسا : أكمل المخطط السهمي التالي :



سادسا: قارن بين كل مما يلي :

١/ عدد الدول الاسلامية في كل قارة :

اسم القارة	قارة آسيا	قارة افريقيا	قارة أوروبا	أمريكا الجنوبية
عدد الدول	٢٧ دولة	٢٦ دولة	دولتين البانيا و (البوسنة والهرسك)	دولة واحدة (سورينام)

٢/ جمهورية كازاخستان ، جمهورية المالديف من حيث المساحة :

وجه المقارنة	جمهورية كازاخستان	جمهورية المالديف
المساحة	أكبر الدول الاسلامية	أصغر الدول الاسلامية

سابعا: علل / اذكر السبب .

١) يشغل العالم الاسلامي موقعا جغرافيا مهما على خريطة العالم .
يقع وسط خريطة العالم ولامتداده ضمن أربع قارات

ثامنا/ اكتب ما تعرفه عن:

١) موقع العالم الإسلامي

يملك موقع جغرافي هام ، يمتد في القارات القديمة (آسيا، أفريقيا أوروبا) بالإضافة إلى أمريكا الجنوبية، يقع بين خطي طول ١٨ غربا إلى ١٤١ شرقا، ودائرتي عرض ١٣ جنوب خط الاستواء إلى ٥٥ شمال خط الاستواء.

أولاً: البيئة الطبيعية لدول العالم الإسلامي المعاصرة.
(التضاريس أ. الجبال)



أولاً: أكمل العبارات التالية بما يناسبها فيما درست :

التضاريس	أشكال سطح الأرض وتطلق على الجبال والهضاب والسهول والتلال
الوادي	حوض أو منخفض طبيعي على سطح الأرض
الجبل	كل قمة لا يقل ارتفاعها عن ١٠٠٠ متر تقريباً
السهول	أجزاء فسيحة من سطح الأرض تتميز باستوائها وقلتها ارتفاعاً
الهضبة	أرض مرتفعة سطحها مستو، وتمتد لمساحة واسعة
التل	يشبه الجبل، ولكن ارتفاعه أقل من ١٠٠٠ متر

ثانياً: ظلل الخيار الصحيح من بين الخيارات التي تلي كل عبارة:

١٠/ كل قمة لا يقل ارتفاعها عن ١٠٠٠ متر تسمى:	د. وديان	ج. سهول	ب. التل	أ. الجبل
١١/ من أهم الجبال في قارات أمريكا الجنوبية تسمى:	د. جبال جوليانا توب	ج. جبال أطلس.	ب. جبال زاغروس.	أ. جبال الألب

ثالثاً/ صوب ما تحته خط في العبارات التالية:

التصويب	العبارة
سبع قارات	يتكون مجمل عدد قارات العالم ستة قارات.
وادي	حوض أو منخفض طبيعي على سطح الأرض يسمى هضبة
قلتها ارتفاعها	السهول أجزاء فسيحة من سطح الأرض تتميز باستوائها وارتفاعها.
الهضبة	أرض مرتفعة سطحها مستو، وتمتد لمساحة واسعة تسمى الجبل.
١٠٠٠	الجبل هو كل قمة لا يقل ارتفاعها عن ١٠٠ متر تقريباً.
أقل	التل يشبه الجبل، ولكن ارتفاعه أكثر من ١٠٠٠ متر.
أمريكا الجنوبية	توجد قمة جبال جوليانا توب في دولة سورينام في قارة أوروبا.

رابعاً/ ظلل الحرف (أ) إذا كانت العبارة صحيحة وظلل الحرف (ب) إذا كانت العبارة خاطئة:

التصحيح	ب	أ	العبارة
		تعرف التضاريس بأنها أشكال سطح الأرض.
		تتنوع التضاريس في العالم الإسلامي كلما اتسعت مساحة الأرض
الوادي		التل هو حوض أو منخفض طبيعي على سطح الأرض
		تعد السهول أجزاء من سطح الأرض تتميز باستوائها وقلتها ارتفاعاً
سطحها مستو		الهضبة هي أرض مرتفعة سطحها متعرج وتمتد لمساحات واسعة
الجبل		الهضبة تشبه التل، ولكن ارتفاعه أعلى من ١٠٠٠ متر
١٠٠٠		الجبل هو كل قمة لا يقل ارتفاعها عن ١٠٠ متر تقريباً.

خامساً/ استنتج الرابط بين العناصر التالية:

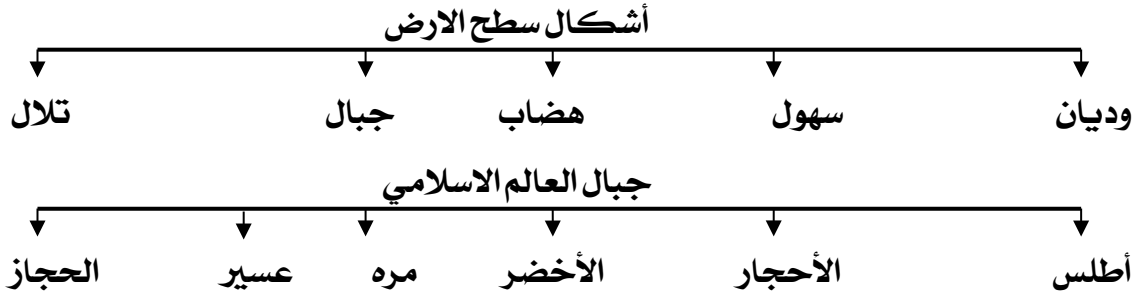
(تضاريس)
(جبال)

وادي + سهل
الاحضر + مرة
+ هضبة + جبل
+ الاحجار + الحجاز

سادساً/ من أنا؟

أملك قمة لا يقل ارتفاعها عن ١٠٠٠ متر تقريباً.





ثامناً / قارن بين كل مما يلي :

الجبل والتل من حيث الارتفاع

التل	الجبل	وجه المقارنة
أقل من ١٠٠٠ متر.	لا يقل ارتفاعها عن ١٠٠٠ متر تقريبا.	الارتفاع

تاسعاً / علل / اذكر السبب .

- ١) تنوع التضاريس في العالم الإسلامي.
نظراً لاتساع مساحة الأرض التي يشغلها العالم الإسلامي حيث تبلغ ٣٢ مليون كم ٢.
- ٢) قلّة عدد السكان في المناطق الجبلية في دول العالم الإسلامي ص ٥٥
شدة انحدارها / قلّة الأكسجين / صعوبة التنقل / انخفاض الضغط الجوي

١- اقرأ الفقرة الآتية ثم اجب عن الأسئلة التي تليها : ص ٣١

تتنوع التضاريس كلما اتسعت مساحة الأرض، وأن مساحة العالم الإسلامي تبلغ 32 مليون كم 2، وهي مساحة شاسعة أدت بدورها إلى تنوع تضاريسه، التي امتدت في أربع قارات من أصل سبع قارات تمثل العالم.

١- عرف ما تحته خط :

(أشكال سطح الأرض من سهول وهضاب وجبال وتلال)

٢- علل تنوع تضاريس العالم الإسلامي .

تنوعت بسبب اتساع مساحة الأرض

٣- اذكر القارات التي امتدت لها مساحة العالم الإسلامي.

آسيا - أفريقيآ - أوروبا - أمريكا الجنوبيّة

الحادي عشر / فسر

١) سبب تسمية مرتفعات الحجاز بهذا الاسم.

لأن هذه المرتفعات تحجز سهل تهامة في الغرب عن هضبة نجد في الشرق

أولا: البيئة الطبيعية لدول العالم الإسلامي المعاصرة.
(التضاريس بد الهضاب)



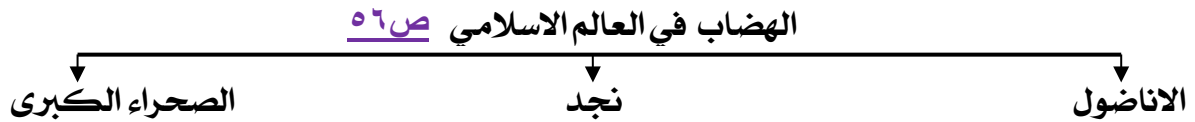
أولا : أكمل العبارات التالية بما يناسبها فيما درست :

- ١/ يطلق على هضبة الصحراء الكبرى بهضبة أفريقيا الشمالية
٢/ أكبر هضبة في العالم الاسلامي تسمى هضبة الصحراء الكبرى

ثانيا / صوب ما تحته خط في العبارات التالية:

العبارة	التصويب
تنتشر الهضاب في العالم الاسلامي وبشكل أكبر في قارتي آسيا وأوروبا .	أفريقيا
يطلق على هضبة الصحراء الكبرى اسم هضبة أفريقيا الغربية.	الشمالية

ثالثا : أكمل المخطط السهمي التالي :



رابعاً / فسر:

سبب تسمية هضبة أفريقيا الشمالية بهضبة الصحراء الكبرى.
نظرا لامتدادها الواسع من ساحل المحيط الاطلسي غربا الى مرتفعات البحر الاحمر شرقا.

خامسا / اكتب ما تعرفه عن:

١) هضبة الصحراء الكبرى
أكبر الهضاب في العالم، وتمتد من ساحل المحيط الأطلسي غربا إلى مرتفعات البحر الأحمر شرقا.

٢) الكثافة السكانية في الصحراء الكبرى ضئيلة.
نظرا لتواجدها ضمن المناخ الصحراوي الحار.

سادسا / فرق بين كل من التالي:

المجال	الكويت	هضبة الصحراء الكبرى
الكثافة السكانية	كثافة سكانية مرتفعة.	كثافة سكانية منخفضة جدا

أولاً: البيئة الطبيعية لدول العالم الإسلامي المعاصرة.
(التضاريس ج- السهول د- التلال)



أولاً : أكمل العبارات التالية بما يناسبها فيما درست :

- ١/ تنقسم السهول في العالم الى نوعين سهول فيضيه وسهول ساحلية.
 - ٢/ أشهر سهول دولة الكويت يمتد من جون الكويت باتجاه الجنوب موازيا للساحل يسمى سهل برقان
 - ٣/ سهل يقع في شمال دولة الكويت يسمى الروضتين
 - ٤/ يشبه الجبل، ولكن ارتفاعه يكون اقل من ١٠٠٠ متر. يسمى التل
- ثانياً: صوب ما تحته خط في العبارات التالية:

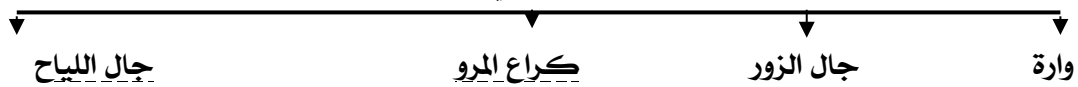
العبارة	التصويب
تنقسم السهول في العالم الاسلامي الى فيضيه وقارية .	ساحلية
يطلق عل السهول النهرية مصطلح اخر وهو <u>الساحلية</u> .	الفيضية
تشيد المدن ويتركز السكان في <u>الجيال</u> .	السهول
من أشهر السهول في الكويت ويمتد من جون الكويت باتجاه الجنوب هو سهل <u>الروضتين</u>	برقان
تصنف السهول الشرقية للخليج العربي ضمن <u>السهول النهرية</u>	الساحلية
تلال جال الزور من التلال التي تقع في <u>البحرين</u>	الكويت

ثالثاً / ظلل الحرف (أ) إذا كانت العبارة صحيحة وظلل الحرف (ب) إذا كانت العبارة خاطئة :

العبارة	أ	ب	التصحيح
تنقسم السهول في العالم الاسلامي الى فيضيه وساحلية		
تكمن أهمية السهول بانها مكان مناسب لتشييد المدن		
تستخدم الهضبات كموانئ طبيعية	السهول	
يتركز السكان في السهول نظرا لسهولة التنقل فيها		
يعد سهل برقان من أشهر السهول في دولة الكويت		

رابعاً / أكمل المخططات السهوية التالية :

تلال الكويت ص ٦١



سادساً / صنف الكلمات التالية إلى مكانها المناسب في الجدول التالي:

وارة - الحجاز - الأناضول - الروضتين - جال الزور - أطلس - مره - نجد - برقان

سهول	تلال	هضاب	جبال
برقان / الروضتين	واره / جال الزور	الأناضول / نجد	الحجاز / أطلس / مره

سابعاً / علل / اذكر السبب .

- ١) للسهول أهمية كبيرة .
لاستخدامها كموانئ طبيعية - تشييد المدن - تركيز السكان فيها
- ٢) تشييد المدن في السهول .
لان السهول عبارة عن أجزاء فسيحة من سطح الارض تتميز باستوائها وقله ارتفاعاتها.
- ٣) تركيز السكان في السهول .
نظرا لسهولة التنقل فيها.

أولاً: البيئة الطبيعية لدول العالم الإسلامي المعاصرة.
(المناخ)



أولاً : أكمل العبارات التالية بما يناسبها فيما درست :

- ١/ أكثر الأقاليم المناخية انتشاراً في دول العالم الإسلامي الاقليم الصحراوي.
 - ٢/ مساحة من الارض تتصف بعناصر مناخية متشابهة اسم الاقليم المناخي.
- ثانياً/ اكتب المفاهيم أو المصطلحات الدالة على العبارات التالية :

المناخ	حالة الجو خلال فترة زمنية طويلة من حيث عناصره
الطقس	حالة الجو في مكان لمدة قصيرة تتراوح بين يوم أو عدة أيام
الإقليم المناخي	مساحة من الأرض تتصف بعناصر مناخية متشابهة.

ثالثاً/ صوب ما تحته خط في العبارات التالية:


التصويب	العبارة
الصحراوي	تقع الكويت على أحد الاقاليم المناخية وهو المناخ المعتدل.
المناخ	حالة الجو خلال فترة زمنية طويلة من حيث عناصره يسمى <u>الطقس</u> .
الصحراوي	تعد الصحراء الكبرى من المناطق ضئيلة الكثافة السكانية لوجودها ضمن الاقليم الاستوائي

رابعاً/ استنتج الرابط بين العناصر التالية :

(أقاليم مناخية)

موسمي + مداري + صحراوي + معتدل

خامساً/ من أنا



نحن مجموعة عناصر مهمة لمعرفة حالة الجو نحن نمثل عناصر المناخ

سادساً / أكمل المخطط السهمي التالي :

الاقاليم المناخية في العالم الاسلامي ص ٦٤



سابعاً / علل / اذكر السبب.

الكثافة السكانية في الصحراء الكبرى ضئيلة.
نظراً لتواجدها ضمن المناخ الصحراوي الحار

١/ الأقاليم المناخية من حيث صفة المطر :

وجه المقارنة	المناخ الاستوائي الحار	المناخ الموسمي الحار	المناخ المداري	المناخ المعتدل الدافئ
صفة الأمطار	ممطر طوال العام.	ممطر صيفا	الأمطار الصيفيّة قليلة	ممطرا شتاء ا و حار صيفا

٢/ المناخ والطقس من حيث الفترة الزمنية

وجه المقارنة	المناخ	الطقس
الفترة الزمنية	فترة زمنية طويلة.	فترة زمنية قصيرة.

تاسعا / اقرأ الفقرة الآتية ثم اجب عن الأسئلة التي تليها :

هناك عدة عوامل لعبت دورا في تنوع المناخ في دول العالم الإسلامي من أهمها امتداد دول العالم الإسلامي على مساحة شاسعة وموقعها بالنسبة لدوائر العرض والإطالة على عدة مسطحات مائية بالإضافة إلى التنوع في التضاريس .

١- عرف ما تحته خط :

المناخ هو حالة الجو خلال فترة زمنية طويلة

٢ اذكر اثنين من العوامل التي أدت لتنوع المناخ في العالم الإسلامي

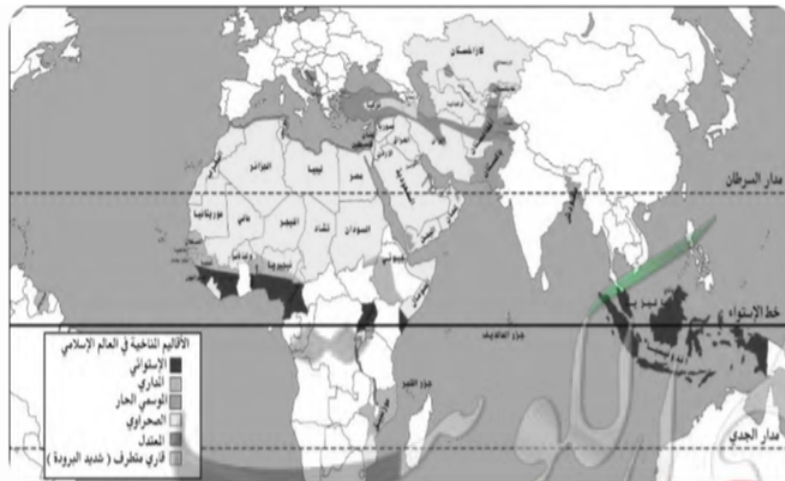
أ- امتداد دول العالم الإسلامي على مساحة شاسعة. ب- التنوع في التضاريس من جبال وهضاب وسهول ووديان
ج- الموقع بالنسبة لدوائر العرض. د- الإطالة على عدة مسطحات مائية في معظم أجزائه.

عاشرا / عدد

١) العوامل التي ساعدت في تنوع المناخ في دول العالم الإسلامي ص ٦٣

- * امتداد دول العالم الإسلامي على مساحة شاسعة.
- * الموقع بالنسبة لدوائر العرض.
- * الإطالة على عدة مسطحات مائية في معظم أجزائه.
- * التنوع في التضاريس من جبال، وهضاب، وسهول ووديان.

الحادي عشر / لاحظ الخريطة المقابلة ثم أجب على التالي : ص ٦٣



شكل (٢٤) خريطة الأقاليم المناخية في دول العالم الإسلامي

١/ في أي اقليم مناخي تقع دولة الكويت ؟

في الاقليم الصحراوي

٢/ اكتب اثنين من المسطحات المائية التي يطل عليها العالم الإسلامي

* المحيط الاطلسي - المحيط الهندي

٣- اكتب اثنين من الأقاليم المناخية التي يقع ضمنها دول العالم الإسلامي

- * الاقليم الصحراوي - الاقليم الاستوائي
- الاقليم المعتدل - الاقليم المداري - الاقليم الحار - الاقليم القاري المتطرف

ثانياً: تأثير البيئة الطبيعية في دول العالم الإسلامي على الاقتصاد والمجتمع.
أثرات الطاقة والمعادن: النفط والغاز الطبيعي



أولاً: أكمل العبارات التالية بما يناسبها فيما درست :

- ١ / من أهم مصادر الطاقة في العالم الغاز الطبيعي والنفط
٢ / يبلغ إجمالي احتياطي النفط الخام في دول العالم الإسلامي من إجمالي الاحتياطي العالمي حوالي ٥٨,٥%
ثانياً / اكتب المصطلح الدال على العبارة التالية :

٤. احتياطي النفط ص ٦٨
كمية النفط المخزونة في باطن الأرض ولم تستخرج بعد.

ثالثاً / صوب ما تحته خط في العبارات التالية:

التصويب	العبارة
%٤١,٥	ينتج العالم الإسلامي من النفط الخام بالنسبة للعالم ما يعادل ٤٢,٥%.
الغاز الطبيعي	من أهم مصادر الطاقة في العالم النفط والذهب
%٣٦	ينتج العالم الإسلامي من الغاز الطبيعي نسبته ٣٣%.
احتياطي النفط	كمية النفط المخزون في باطن الأرض يسمى إنتاج النفط

رابعاً / استنتج الرابط بين العناصر التالية:

ثروة الطاقة والمعادن + الثروة الزراعية + الثروة السمكية (موارد طبيعية) ص ٦٧



- خامساً / لاحظ الشكل المقابل ثم أجب عن الأسئلة التالية: ص ٦٧
١ / من أهم مصادر الطاقة في العالم النفط والغاز الطبيعي
٢ / تبلغ نسبة إنتاج النفط الخام في العالم الإسلامي ٤١,٥%
حيث تمثلها الدائرة البيانية التي تحمل الحرف (ج)

سادساً / علل / اذكر السبب.

١ / تنوع الثروات الطبيعية في العالم الإسلامي ص ٦٧

أ- بسبب المساحات الشاسعة التي يمتلكها العالم الإسلامي. ب- امتلاكه تضاريس متنوعة.
ج- يقع في مناخات متنوعة.

٢ / أهم موارده الطبيعية في العالم الإسلامي.

أ - ثروات الطاقة والمعادن (النفط والغاز الطبيعي / الثروات المعدنية) ص ٦٧

ب - الثروة الزراعية. (الحبوب / الغلات النقدية) ص ٧٢

ج - الثروة السمكية. ص ٧٤

ثانياً: تأثير البيئة الطبيعية في دول العالم الإسلامي على الاقتصاد والمجتمع

(.أثرات الطاقة والمعادن: ٢. الثروات المعدنية



أولاً : أكمل العبارات التالية بما يناسبها فيما درست :

- ١/ أعلى نسبة إنتاج للمعادن في العالم الإسلامي اسمه معدن اليورانيوم
٢/ أكثر دوله انتاجاً لمعدن اليورانيوم لعام ٢٠١٤ بنسبة ٤١ % تسمى كازخستان .

ثانياً: ظلل الحرف (أ) إذا كانت العبارة صحيحة وظلل الحرف (ب) إذا كانت العبارة

التصحيح	ب	أ	العبارة
		يعتبر الحديد هو أكثر الثروات المعدنية انتاجاً وفق احصاء ٢٠١٤ م

ثالثاً: استنتج الرابط بين العناصر التالية :

يورانيوم + ذهب + فضة + نحاس (ثروات معدنية) ص ٧٠

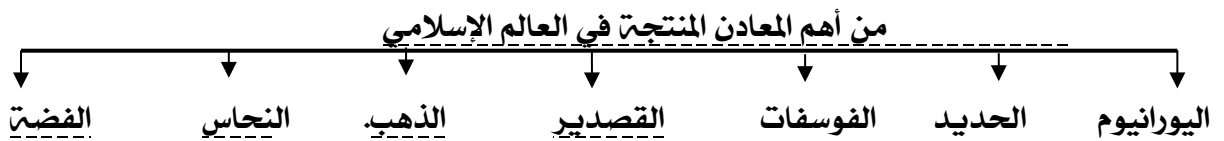
رابعاً / من أنا؟



من أهم المعادن انتاجاً في العالم الإسلامي أنا اليورانيوم ص ٧٠



خامساً / أكمل المخطط السهمي التالي :



سادسا اختر للمجموعة (أ) ما يرتبط بها من المجموعة (ب) بوضع الرقم المناسب.

ص	م	المجموعة (أ)	الرقم المناسب	المجموعة (ب)	الدائرة البيانية
٦٧	١	نسبة إنتاج العالم الاسلامي من النفط الخام	١	%٤١,٥	
٦٩	٢	نسبة احتياط العالم الاسلامي من النفط الخام	٣	%٢٦	
٦٧	٣	نسبة إنتاج العالم الاسلامي من الغاز الطبيعي	٢	%٥٨,٥	
٧٠	٤	نسبة إنتاج كازاخستان من معدن اليورانيوم	٥	%١٤	
٧٢	٥	نسبة إنتاج العالم الاسلامي من الحبوب	٤	%٤١	
٥١	٦	مساحة العالم الاسلامي بالنسبة لعالم	٦	%٢٢,٢	

سابعاً / لاحظ شكل ٢٨ المقابل ثم أجب على الاسئلة التالية:

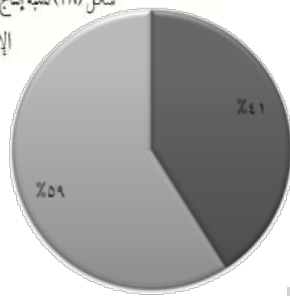
أعد ترتيب الثلاث دول الاولى في إنتاج معدن اليورانيوم
كازاخستان - النيجر - اوزباكستان

من الدول التي تمتلك أقل نسبة أقل نسبة في إنتاج
معدن الفضة؟
اوزباكستان

حول نسبة كازاخستان في اليورانيوم لدائرة بيانية

الفضة		الذهب		اليورانيوم	
%٠,٧	تركيا	%٢,٣	إندونيسيا	%٤١	كازاخستان
%٣,٦	إندونيسيا	%٣,٤	أوزباكستان	%٤,٣	أوزباكستان
%٣,٦	كازاخستان	%٢,٤	السودان	%٧,٢	النيجر
%٠,٢	أوزباكستان	%١,٥	مالي	%٠,١	باكستان
%٠,٧	المغرب	%١,٧	كازاخستان		

شكل (٢٨) نسبة إنتاج اليورانيوم والذهب والفضة من جملة إنتاج دول العالم الإسلامي حسب إحصاء ٢٠١٤^(١)



ثامناً / صف الكلمات التالية إلى مكانها المناسب في الجدول التالي:

٢/ النحاس - الجوت - الذهب - الارز - القطن - اليورانيوم - المطاط - الفضة

الثروة المعدنية ص ٧٠	الثروة الزراعية ص ٧٢
النحاس - الذهب - اليورانيوم - الفضة	الجوت - الارز - القطن - المطاط

ثانياً: تأثير البيئة الطبيعية في دول العالم الإسلامي على الاقتصاد والمجتمع
بـ الثروات الزراعية-



أولاً : أكمل العبارات التالية بما يناسبها فيما درست :

- ١/ تبلغ نسبة إنتاج العالم الإسلامي من الحبوب بالنسبة للعالم حوالي ١٤%.
- ٢/ المحاصيل التي تزرع من أجل التصدير تسمى الغلات النقدية.
- ٣/ تصنع الحبال وبعض أنواع الأحذية والحقائب والأقمشة من أغصان نبات يسمى الجوت.

ثانياً / اكتب المفاهيم أو المصطلحات الدالة على العبارات التالية :

المحاصيل التي تزرع من أجل التصدير مثل : القطن والمطاط الطبيعي.	١- الغلات النقدية
هو نبات ينمو في المناطق الاستوائية والموسمية، تؤخذ أغصانه وتوضع تحت الماء وتطمر بالطين، وبعد أيام تستخرج وتغزل ويصنع منها الحبال والأحذية والحقائب والأقمشة الخشنة.	٢- الجوت

ثالثاً صوب ما تحته خط في العبارات التالية:

التصويب	العبرة
%٧٠	نسبة سكان العالم الإسلامي الذين يعملون في الثروة الزراعية يعادل ٦٠٪.
الغلات النقدية	من أهم المحاصيل الزراعية في العالم الإسلامي الحبوب <u>والخضروات</u> .
%١٤	يبلغ إنتاج العالم الإسلامي من الحبوب بالنسبة للعالم حوالي ١٢٪.
الغلات النقدية	المحاصيل التي تزرع من أجل التصدير يطلق عليها اسم <u>الحبوب</u> .
الغلات النقدية	القطن والجوت والمطاط الطبيعي أمثلة على <u>الخضروات والفواكه</u> .
نبات الجوت	نبات ينمو في المناطق الاستوائية وتصنع من أغصانه بعد الغزل الحبال والحقائب والأقمشة هو نبات <u>المطاط الطبيعي</u> .

رابعاً/ أكمل المخططات السهمية التالية :



خامساً / استنتج الرابط بين العناصر التالية :

مناخ + مياه + تربة خصبة + أيدي عامله (عوامل الإنتاج الزراعي)

سادسا / ظلل الحرف (أ) إذا كانت العبارة صحيحة وظلل الحرف (ب) إذا كانت العبارة

التصحيح	ب	أ	العبارة
		تدخل الثروة الزراعية كمادة خام في كثير من الصناعات.
كثرة	قلة الايدي العاملة من الامور التي تساعد على الانتاج الزراعي
		...	سقوط الامطار والمناخ والتربة الخصبة من العوامل المهمة للإنتاج الزراعي.
ليس لديه اكتفاء	العالم الاسلامي لا يمتلك غذاءه ولديه اكتفاء ذاتي من المحاصيل الزراعية.
		الغلات النقدية هي التي تزرع من اجل التصدير.
		القطن من امثلة الغلات النقدية
		الجوت نبات ينمو في المناطق الاستوائية والموسمية.



نمثل المحاصيل التي تزرع
من أجل التصدير
ونسمى
الغلات النقدية



سابعاً / من نحن؟

عوامل تساعد على زيادة
الانتاج الزراعي

ثامناً / ضع أسماء المحاصيل التالية في مكانها حسب الجدول التالي :

الذرة - الأرز - العنب - الموز - القطن - الجوت

الفواكه والثمار	الحبوب	الغلات النقدية
العنب الموز	الذرة الأرز	القطن الجوت

١ - اقرأ الفقرة التالية ثم أجب عما يليها من أسئلة :

تعد الثروة الزراعية في العالم الإسلامي المصدر الرئيسي لإنتاج الغذاء ويعمل بها ٧٠ ٪ من سكان العالم الإسلامي حيث تمثل الدخل الرئيسي لدوله وتدخل كمادة خام في كثير من الصناعات وهناك عوامل ساعدت على الانتاج الزراعي ومنها المناخ و سقوط الأمطار ووجود البحيرات والأنهار والآبار والتربة الخصبة ومن أهم المحاصيل الغذائية في العالم الإسلامي الحبوب والغلات النقدية .

١ ضع عنوان مناسب للفقرة السابقة ٠ الثروة الزراعية في العالم الإسلامي

٢ اذكر أهم المحاصيل الزراعية في العالم الإسلامي ؟

الحبوب / الغلات النقدية

٣ أهم العوامل التي ساعدت على الانتاج الزراعي في دول العالم الإسلامي ؟

أ. المناخ ب. سقوط الأمطار. ج. وجود البحيرات والأنهار والآبار د. التربة الخصبة
و. كثرة السكان والايدي العاملة

٤ حول النسبة المذكورة في الفقرة السابقة الى دائرة بيانية.



ثانياً: تأثير البيئة الطبيعية في دول العالم الإسلامي على الاقتصاد والمجتمع
ج.الثروة السمكية



أولاً : أكمل العبارات التالية بما يناسبها فيما درست :

١ / الدولة التي احتلت المركز الثاني على مستوى العالم للإنتاج البحري في عام ٢٠١٤ تسمى إندونيسيا.

٢ / يعد من المصادر غير الطبيعية لإنتاج الأسماك يسمى الاستزراع السمكي

٣ / الدولة التي لا تطل على سطح مائي تسمى دوله مغلقة

ثانياً/ اكتب المفهوم الدال على العبارة التالية:

مصطلح يطلق على أي دولة لا تطل على سطح مائي

دول مغلقة

ثالثاً/ ظلل الخيار الصحيح من بين الخيارات التي تلي كل عبارة :

١ / من المصادر الغير طبيعية لإنتاج الأسماك			
أ. المياه العذبة.	ب. الاستزراع السمكي	ج. المحيطات.	د. البحار
٢ / الدولة التي احتلت المركز الثاني على مستوى العالم للإنتاج البحري في عام ٢٠١٤.			
أ. المغرب	ب. مصر	ج. إندونيسيا .	د. السعودية

رابعاً/ صوب ما تحته خط في العبارات التالية:

التصويب	العبارة
الثاني	احتلت إندونيسيا في الإنتاج البحري وفق احصائية ٢٠١٤ المركز الأول.
الاستزراع السمكي	من أهم مصادر إنتاج الأسماك الغير طبيعية المياه العذبة

خامساً/ فرق بين كل من مصادر إنتاج الأسماك

مصادر غير طبيعية	مصادر طبيعية
الاستزراع السمكي	المحيطات والبحار/المياه العذبة

سادساً/ علل / اذكر السبب .

١ / تنوع مصادر إنتاج الأسماك في دول العالم الإسلامي.
لوجود مصادر طبيعية كالمحيطات والبحار والمياه العذبة وغير طبيعية كالاستزراع السمكي

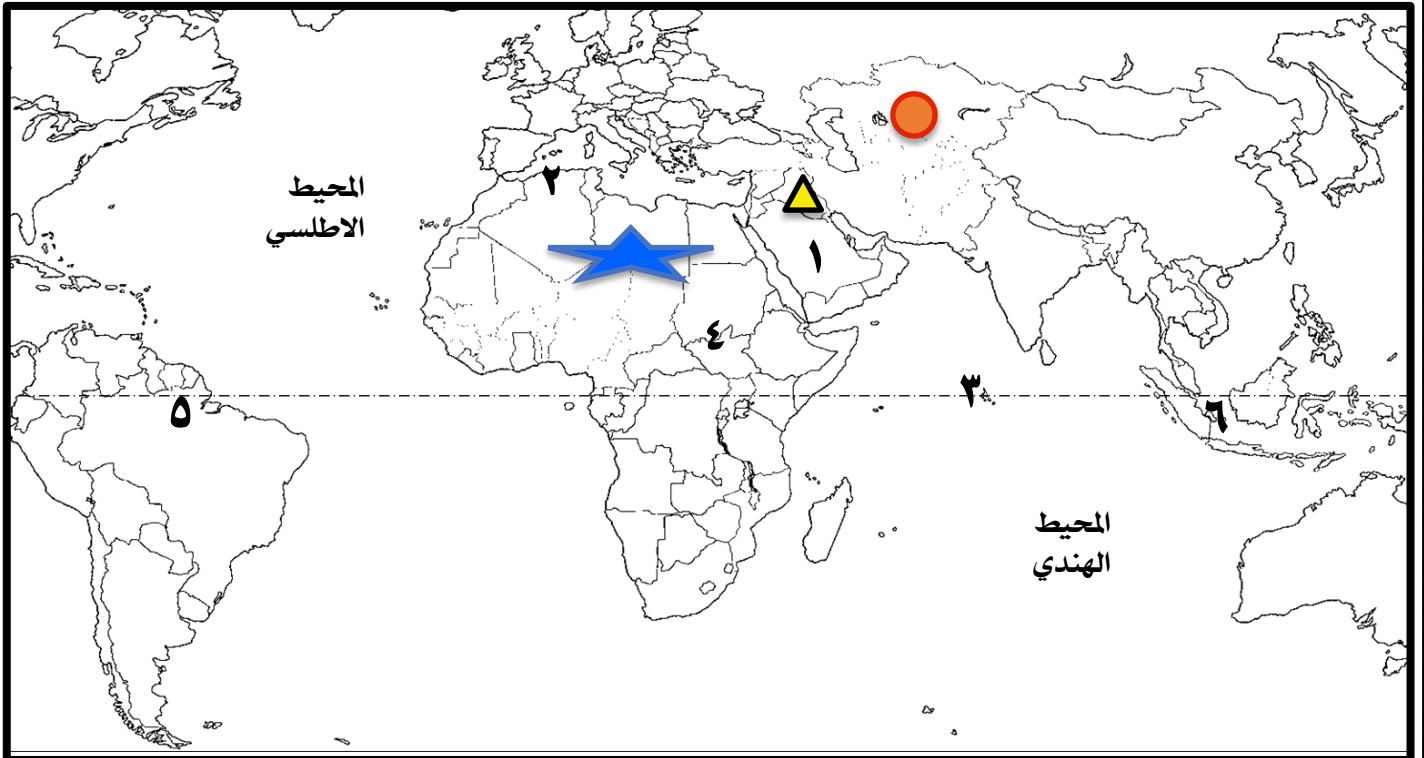
سابعاً أجب عن الأسئلة التالية

ب- ما أسماء الدول الإسلامية الأكثر إنتاجاً للأسماك ؟

إندونيسيا / ماليزيا / المغرب / إيران

ج- ما هو المصطلح الذي يطلق على الدول التي لا تطل على سطح مائي ؟
دول مغلقة

ثامناً / اكتب مدلولات الأرقام أو الرموز أو الأشكال على الخريطة التي أمامك :



- أكبر الدول الإسلامية مساحةً يمثلها على الخريطة الشكل ١
- هضبة الصحراء الكبرى يمثلها على الخريطة الشكل ٢
- سهول تسمى دجلة والفرات يمثلها على الخريطة الشكل ٣
- هضبة نجد يمثلها على الخريطة الرقم ٤
- جبال أطلس يمثلها على الخريطة الرقم ٥
- دولة إسلامية تحتل المركز الثاني في الإنتاج البحري يمثلها على الخريطة الرقم ٦
- أصغر الدول الإسلامية مساحةً يمثلها على الخريطة الرقم ٧
- الدولة الإسلامية التي يوجد بها جبل مره يمثلها على الخريطة الرقم ٨
- دولة سورينام يمثلها على الخريطة الرقم ٩
- * ظلل قارة أمريكا الجنوبية
- * ارسم خط الاستواء
- * حدد كل من المحيط الهندي والمحيط الأطلسي كتابياً على الخريطة

الجبيل	كل قمة من سطح الأرض لا يقل ارتفاعها عن ١٠٠٠ متر تقريبا	
	أمريكا الجنوبية	أوروبا
	أفريقيا	
	عمان	سودان
	العجل الاخضر	جبل مره
	جبال الهجاز	العجل الاخضر
	جبال كشمير	جبال كشمير
	جبال كشمير	جبال كشمير
	جبال كشمير	جبال كشمير
	جبال كشمير	جبال كشمير
تل	جزء من سطح الأرض ويشبه الجبل ولكن ارتفاعه أقل من ١٠٠٠ متر	
الهضبة	الأرض المرتفعة وسطحها مستو وتمتد لمساحة واسعة	
السهول	يرتفع على الأجزاء المنخفضة من سطح الأرض والتي تتميز باستوائها وقلتها ارتفاعها	
	أفريقيا	آسيا
الوادي	الحوض أو المنخفض الطبيعي من سطح الأرض	
	أفريقيا	آسيا
الهضبة	من مصر الى الجزائر	
	هضبة الصحراء الكبرى	
	إيران	تركيا
	العجبة الإيرانية	هضبة الأناضول
	مصر	الصومال
	سهل نهر النيل	سهل جوبا وشيبي
	الكويت	العراق
	سهل بركان والروستين	سهل دجلة والفرات
	الاردن	الاردن
	سهل نهر الاردن	سهل نهر الاردن