



العام الدراسي: ٢٠٢٢م / ٢٠٢٣م
الزمن: ساعة وخمسة وأربعون دقيقة
عدد الأوراق: (٦)

وزارة التربية
الإدارة العامة لمنطقة الجاهراء التعليمية
التوجيه الفني للاجتماعيات
امتحان نهاية الفترة الدراسية الأولى
للسف الثامن
دولة الكويت والعالم الإسلامي

أجب عن جميع الأسئلة التالية :-

السؤال الأول: (موضوعي) يتكون من (أ - ب - ج - د - هـ - و) :- لكل سؤال درجة

أ) أكمل العبارات التالية بما يناسبها فيما درست :-

- ١ - أول خليفة للمسلمين اسمه أبو بكر الصديق ، (ص ٢٥)
- ٢ - الدولة العربية التي يوجد بها المسجد الأقصى المبارك تسمى فلسطين . (ص ٣٣)
- ٣ - مؤلف كتاب " نزهة المشتاق في اختراق الآفاق " اسمه الشريف الإدريسي . (ص ٤٢)
- ٤ - حوض أو منخفض طبيعي على سطح الأرض يسمى الوادي . (ص ٥٣)
- ٥ - نسبة إنتاج العالم الإسلامي من الحبوب تبلغ ١٤ % . (ص ٧٢)

ب) اختر الإجابة الصحيحة من بين البدائل التالية بوضع خطا تحت العنصر المناسب :-

- ١ - الحاكم الذي لقب بقائد العمل الإنساني عام ٢٠١٤ م الشيخ :
- جابر الأحمد الصباح - سعد عبدالله الصباح - صباح الأحمد الصباح - نواف الأحمد الصباح (ص ٢٤)
- ٢ - الدولة العربية التي يوجد بها قصر عمره :
- سوريا - الأردن - لبنان - فلسطين (ص ٣٤)
- ٣ - عدد الدول الإسلامية التي توجد في قارة آسيا :
- ٢٤ - ٢٥ - ٢٦ - ٢٧ (ص ٥١)
- ٤ - كل قمة لا يقل ارتفاعها عن ١٠٠٠ متر تقريبا :
- السهول - الهضبة - الجبل - التل (ص ٥٣)
- ٥ - القارة التي يقع فيها جبل عسير هي :
- آسيا - أفريقيا - أوروبا - أمريكا الجنوبية (ص ٥٥)

(ج) صنف الكلمات التالية إلى مكانها المناسب في الجدول الذي يليها :
 - الرياضيات - الفيزياء - التفسير - الكيمياء - التاريخ

علوم عقلية	علوم عقلية
التفسير / التاريخ	الرياضيات / الفيزياء / الكيمياء

(د) أكتب المفاهيم أو المصطلحات الدالة على العبارات التالية :-

١ - الزكاة : (ص ٢٨)

ركن من أركان الإسلام يخرجها المسلمون الأغنياء للمستحقين من الفقراء وسميت الزكاة لما فيها من تركية للنفس وتطهيرها .

٢ - القصور : (ص ٣٤)

مقر الحاكم والمكان الذي يضم المؤسسات الإدارية كالوزارة والدواوين وأحيانا تكون قصورا صحراوية لتنتزه الخلفاء .

٣ - أهل الذمة : (ص ٣٦)

النصارى واليهود الذين ظلوا على دينهم مع دفع الجزية .

٤ - التضاريس : (ص ٥٣)

أشكال سطح الأرض .

٥ - الغلات النقدية : (ص ٧٣)

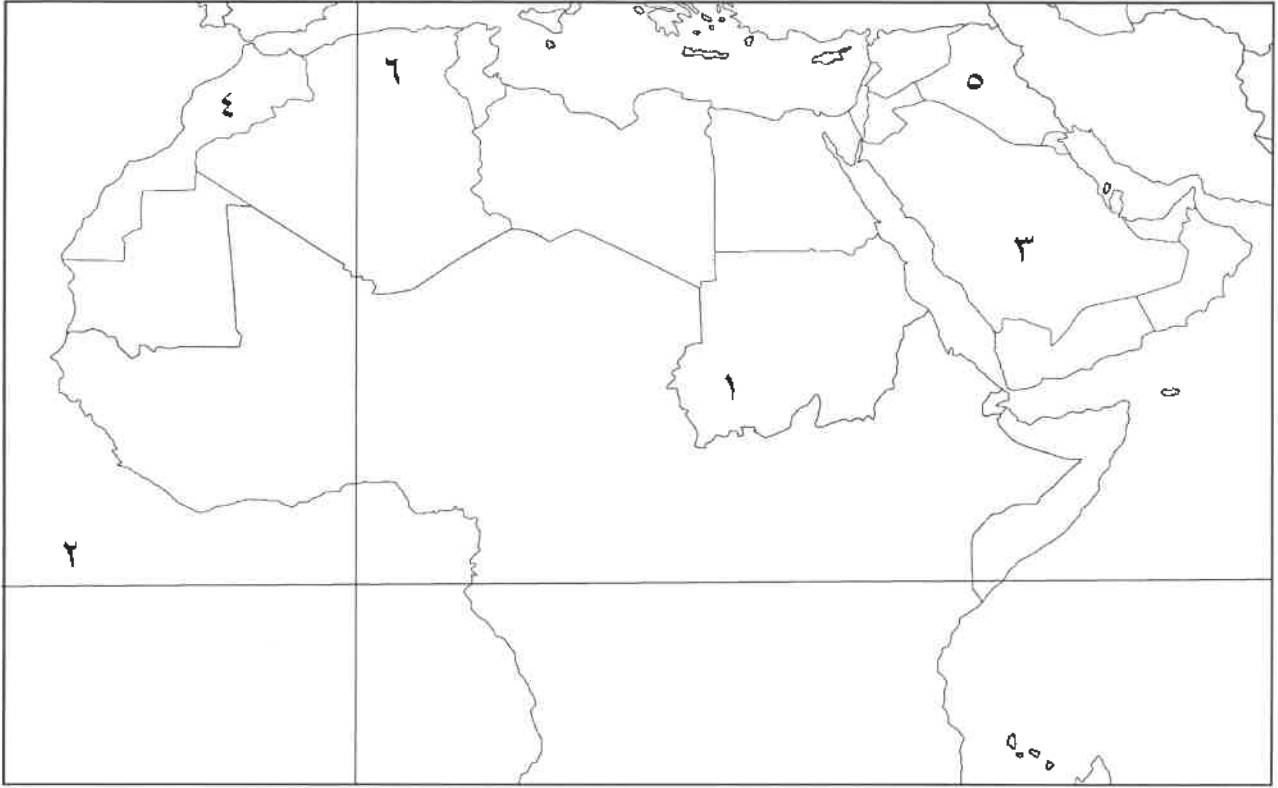
المحاصيل التي تزرع من أجل التصدير .

(هـ) صوب ما تحته خط في العبارات التالية :-

م	العبرة	التصويب
١-	المدينة التي يوجد بها المسجد الأموي هي القاهرة .	دمشق (ص ٣٣)
٢-	تتواجد دول العالم الإسلامي ضمن ثلاث قارات .	أربع (ص ٥١)
٣-	يقع تل وارة في دولة قطر .	الكويت (ص ٦١)
٤	نسبة انتاج العالم الإسلامي من الغاز الطبيعي من إجمالي الإنتاج العالمي ٣٠% .	٣٦% (ص٦٧)
٥-	يعتبر القطن والجوت والمطاط الطبيعي من ضمن الحبوب .	الغلات النقدية (ص٧٣)

و) لاحظ خريطة الوطن العربي الصماء ثم نفذ المطلوب منك :-

* اكتب الرقم الدال على العبارات التالية :-



(ص ٥٤)

- جبل مرة يمثله على الخريطة الرقم (١)

(ص ٦٥)

- هضبة نجد يمثلها على الخريطة الرقم (٣)

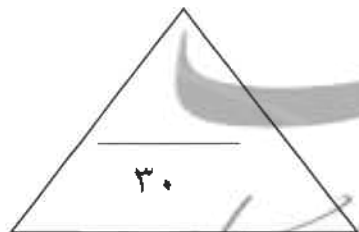
- المركز العلمي " بيت الحكمة " يوجد في مدينة عربية يمثلها على الخريطة الرقم . (٥) (ص ٤١)

(ص ٦٣)

- خط الاستواء يمثله على الخريطة الرقم (٢)

(ص ٥٩)

- سهول نهر أم الربيع يمثلها على الخريطة الرقم (٤)



السؤال الثاني : (مقال) يتكون من (أ - ب - ج) :-

(أ) فرق بين كل من :- (أربع درجات)

الجزية (ص ٢٩)	الخراج (ص ٢٨)
مبلغ مالي يدفعه الرجال غير المسلمين من أهل الذمة ممن هم قادرين على حمل السلاح نظير حماية الدولة لهم .	ضريبة الأرض الزراعية التي تخرج مبلغا ماليا معينا من ناتج المحصول الزراعي .
الطقس (ص ٦٤)	المناخ (ص ٦٤)
حالة الجو في مكان لمدة قصيرة تتراوح بين يوم أو عدة أيام من حيث درجة الحرارة والرطوبة والأمطار والضغط الجوي .	حالة الجو خلال فترة زمنية طويلة من حيث عناصره وهي درجة الحرارة والرطوبة والأمطار والضغط الجوي .

(ب) علل لما يأتي :-

١- تدين أوروبا بالفضل الكبير للحضارة الإسلامية . (ص ٤٢) درجة
لأنها كانت السبب في النهضة الصناعية والعلمية الأوروبية الحديثة .

٢- تنوع المناخ في دول العالم الإسلامي . (ص ٦٣) يكتفى بنقطتين درجتين

- ١ - امتداد دول العالم الإسلامي على مساحة شاسعة .
- ٢ - الموقع بالنسبة لدوائر العرض .
- ٣ - الإطلالة على عدة مسطحات مائية في معظم أجزائه .
- ٤ - التنوع في التضاريس من جبال وهضاب وسهول ووديان .

(ج) عدد ما يلي :-

١ - أهم أنواع الثروات المعدنية في العالم الإسلامي . (ص ٧٠) (يكتفى بثلاثة نقاط) درجة ونصف

- ١ - اليورانيوم .
- ٢ - الذهب .
- ٣ - الفضة .
- ٤ - النحاس .
- ٥ - الحديد .
- الفوسفات .

٢ - خصائص الحضارة الإسلامية . (ص ٢٢ / ٢٣) (يكتفى بثلاثة نقاط) درجة ونصف

- حضارة تسامح .
- حضارة إيمان وعمل .
- حضارة إنسانية .
- حضارة عالمية .
- حضارة شمولية .



السؤال الثالث : (مقالى) يتكون من (أ - ب - ج) :-

(أ) أكتب مما درست :-

١ - أهمية السهول . (ص ٥٨) يكتفى بنقطة درجة

- ١ - استخدامها كموانئ طبيعية .
- ٢ - تشييد المدن .
- ٣ - تركيز السكان فيها لسهولة التنقل .

٢ - العوامل التي ساعدت الإنتاج الزراعى فى دول العالم الإسلامى . (ص ٧٢) يكتفى بنقطتين

درجتان

- التربة الخصبة .
- المناخ .
- وجود البحيرات والأنهار والآبار .
- سقوط الأمطار .
- كثرة السكان والأيدي العاملة .

(ب) عرف المفاهيم والمصطلحات التالية :- درجة لكل تعريف

١ - الوقف الإسلامى . (ص ٢٩)

صدقة جارية يوقفها المرء فى حياته لوجوه الخير والبر ويكون أجرها ونفعها ما دامت باقية ويستمر الأجر حتى بعد وفاته .

٢ - المساجد . (ص ٣٢)

تقام فيها الصلوات وخطبة الجمعة والتعليم الدينى .

٣ - الهضبة . (٥٣)

أرض مرتفعة سطحها مستو وتمتد لمساحة واسعة .

(ج) نفذ ما بين القوسين :-

١ - المناصب الإدارية التى ظهرت مع اتساع الدولة الإسلامية . (أذكر) (ص ٢٥) يكتفى بنقطتين درجتين

- الخليفة - الوزير - الوالى - المحتسب - القاضى

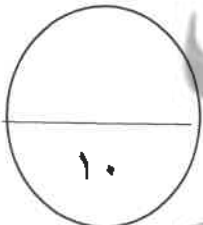
٢ - تنوع الثروات الطبيعية فى العالم الإسلامى . (علل) (ص ٦٧) درجة

لان العالم الإسلامى يمتد على مساحات شاسعة من اليابسة و ذو تنوع تضاريسى ومناخى .

٣ - تتعدد مصادر إنتاج الأسماك الطبيعية فى دول العالم الإسلامى . (عدد) (ص ٧٤) درجة

- المحيطات والبحار .

- المياه العذبة .



السؤال الرابع : (مقالى) يتكون من (أ - ب - ج) :-

أ) اقرأ الفقرة التالية ثم أجب عما يليها من أسئلة :-

" منذ قيام الدولة الإسلامية في المدينة المنورة على يد سيدنا محمد - صلى الله عليه وسلم - في القرن الثامن الميلادي ، انطلق شعاع الحضارة الإسلامية ليضيء نورها شتى بقاع الأرض في كافة الميادين العلمية والثقافية والاقتصادية والسياسية والاجتماعية وغيرها من المجالات " (ص ١٧)

١ - من هو مؤسس الدولة الإسلامية ؟ (درجة)

سيدنا محمد - صلى عليه وسلم .

٢ - في أي قرن قامت الدولة الإسلامية ؟ (درجة)

في القرن الثامن الميلادي .

٣ - عرف ما تحته خط . (ص ١٨) (درجة)

الحضارة هي كل ما يطرأ على المجتمع من تقدم وتطور ورقي سواء في الجانب المادي (مساجد وقصور وغيرها) أو الجانب الروحي (العلوم والفكر والأدب وغيرها)

٤ - أذكر أسس الحضارة الإسلامية . (ص ٢٠) يكتفى بنقطتين (درجتان)

- الدين الإسلامي - اللغة العربية - الحضارات الأخرى

ب) دلل على صحة العبارات التالية :-

١- ظهور العديد من الصناعات في الدولة الإسلامية . (ص ٢٧) يكتفى بنقطتين (درجتان)
- صناعة السفن - صناعة الأسلحة - صناعة الورق - صناعة الأدوية - صناعة المنسوجات - صناعة الخزف والمعادن - الصناعات الخشبية . (الأرابيسك)

ج) أذكر ما يلي :-

١ - جهود المسلمين في الزراعة . (ص ٢٦) يكتفى بنقطة (درجة)

- شق القنوات المائية والترع . - إقامة السدود . - تنظيم وسائل الري .

٢ - مميزات المظاهر العمرانية في الحضارة الإسلامية . (ص ٣٠) يكتفى بنقطتين (درجتان)

- الأسوار . - القباب . - المآذن . - المنابر . - الزخارف .

" انتهت الإجابة "

