



العام الدراسي: ٢٠٢٢م / ٢٠٢٣م  
الزمن : ساعة وخمسة وأربعون دقيقة  
عدد الأوراق : ( ٦ )

وزارة التربية  
الإدارة العامة لمنطقة الجاهراء التعليمية  
التوجيه الفني للاجتماعيات  
امتحان نهاية الفترة الدراسية الأولى  
للسف الثامن  
دولة الكويت والعالم الإسلامي

أجب عن جميع الأسئلة التالية :-

السؤال الأول: (موضوعي) يتكون من ( أ - ب - ج - د - هـ - و ) :- لكل سؤال درجة

أ) أكمل العبارات التالية بما يناسبها فيما درست :-

- ١ - أول خليفة للمسلمين اسمه أبو بكر الصديق ، ( ص ٢٥ )
- ٢ - الدولة العربية التي يوجد بها المسجد الأقصى المبارك تسمى فلسطين . ( ص ٣٣ )
- ٣ - مؤلف كتاب " نزهة المشتاق في اختراق الآفاق " اسمه الشريف الإدريسي . ( ص ٤٢ )
- ٤ - حوض أو منخفض طبيعي على سطح الأرض يسمى الوادي . ( ص ٥٣ )
- ٥ - نسبة إنتاج العالم الإسلامي من الحبوب تبلغ ١٤ % . ( ص ٧٢ )

ب) اختر الإجابة الصحيحة من بين البدائل التالية بوضع خطا تحت العنصر المناسب :-

- ١ - الحاكم الذي لقب بقائد العمل الإنساني عام ٢٠١٤ م الشيخ :  
- جابر الأحمد الصباح - سعد عبدالله الصباح - صباح الأحمد الصباح - نواف الأحمد الصباح ( ص ٢٤ )
- ٢ - الدولة العربية التي يوجد بها قصر عمره :  
- سوريا - الأردن - لبنان - فلسطين ( ص ٣٤ )
- ٣ - عدد الدول الإسلامية التي توجد في قارة آسيا :  
- ٢٤ - ٢٥ - ٢٦ - ٢٧ ( ص ٥١ )
- ٤ - كل قمة لا يقل ارتفاعها عن ١٠٠٠ متر تقريبا :  
- السهول - الهضبة - الجبل - التل ( ص ٥٣ )
- ٥ - القارة التي يقع فيها جبل عسير هي :  
- آسيا - أفريقيا - أوروبا - أمريكا الجنوبية ( ص ٥٥ )

ج) صنف الكلمات التالية إلى مكانها المناسب في الجدول الذي يليها : (ص ١٧)  
 - الرياضيات - الفيزياء - التفسير - الكيمياء - التاريخ

علوم عقلية	علوم عقلية
التفسير / التاريخ	الرياضيات / الفيزياء / الكيمياء

د) أكتب المفاهيم أو المصطلحات الدالة على العبارات التالية :-

١ - الزكاة : (ص ٢٨)

ركن من أركان الإسلام يخرجها المسلمون الأغنياء للمستحقين من الفقراء وسميت الزكاة لما فيها من تركية للنفس وتطهيرها .

٢ - القصور : (ص ٣٤)

مقر الحاكم والمكان الذي يضم المؤسسات الإدارية كالوزارة والدواوين وأحيانا تكون قصورا صحراوية لتنتزه الخلفاء .

٣ - أهل الذمة : (ص ٣٦)

النصارى واليهود الذين ظلوا على دينهم مع دفع الجزية .

٤ - التضاريس : (ص ٥٣)

أشكال سطح الأرض .

٥ - الغلات النقدية : (ص ٧٣)

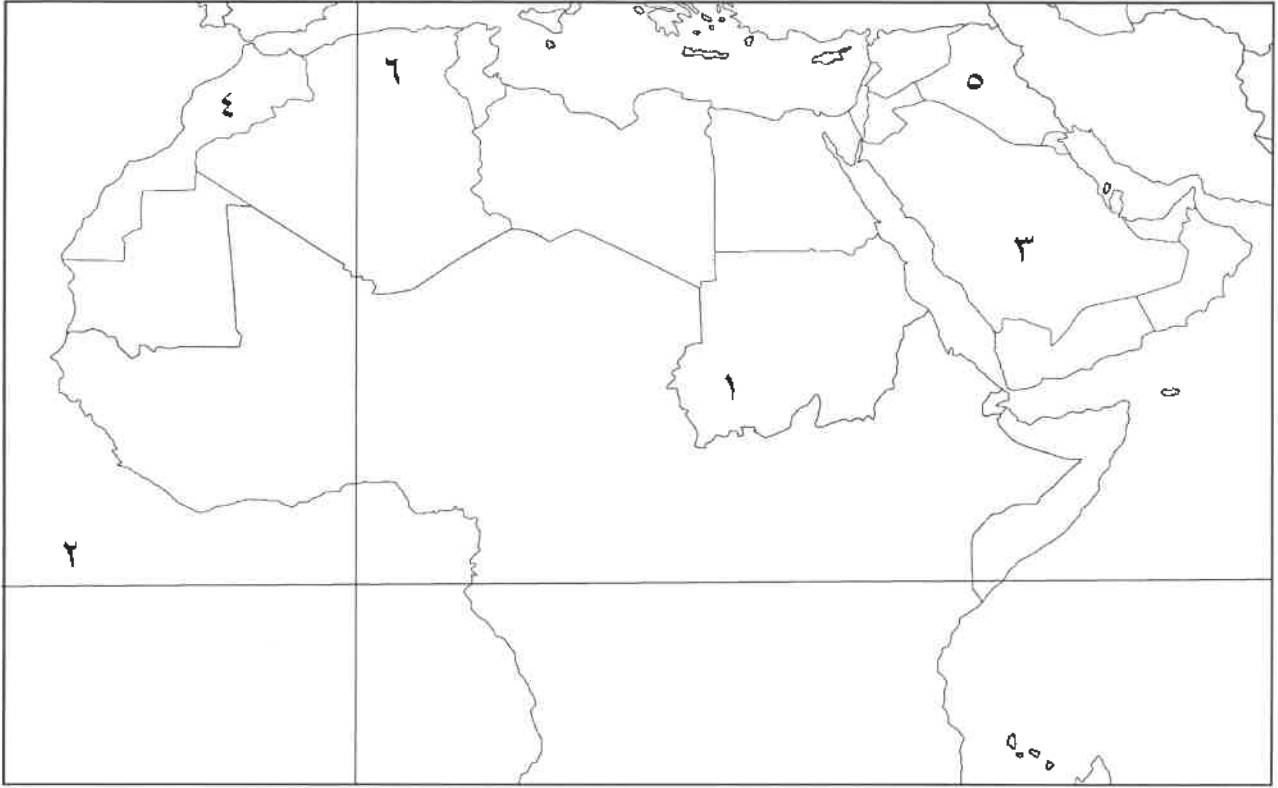
المحاصيل التي تزرع من أجل التصدير .

هـ) صوب ما تحته خط في العبارات التالية :-

م	العبرة	التصويب
١-	المدينة التي يوجد بها المسجد الأموي هي القاهرة .	دمشق (ص ٣٣)
٢-	تتواجد دول العالم الإسلامي ضمن ثلاث قارات .	أربع (ص ٥١)
٣-	يقع تل وارة في دولة قطر .	الكويت (ص ٦١)
٤	نسبة انتاج العالم الإسلامي من الغاز الطبيعي من إجمالي الإنتاج العالمي ٣٠% .	٣٦% (ص ٦٧)
٥-	يعتبر القطن والجوت والمطاط الطبيعي من ضمن الحبوب .	الغلات النقدية (ص ٧٣)

و) لاحظ خريطة الوطن العربي الصماء ثم نفذ المطلوب منك :-

\* اكتب الرقم الدال على العبارات التالية :-



( ص ٥٤ )

- جبل مرة يمثله على الخريطة الرقم ( ١ )

( ص ٦٥ )

- هضبة نجد يمثلها على الخريطة الرقم ( ٣ )

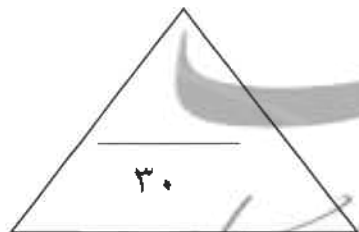
- المركز العلمي " بيت الحكمة " يوجد في مدينة عربية يمثلها على الخريطة الرقم . ( ٥ ) ( ص ٤١ )

( ص ٦٣ )

- خط الاستواء يمثله على الخريطة الرقم ( ٢ )

( ص ٥٩ )

- سهول نهر أم الربيع يمثلها على الخريطة الرقم ( ٤ )



السؤال الثاني : ( مقالى ) يتكون من ( أ - ب - ج ) :-

( أ ) فرق بين كل من :- ( أربع درجات )

<b>الجزية ( ص ٢٩ )</b>	<b>الخراج ( ص ٢٨ )</b>
مبلغ مالي يدفعه الرجال غير المسلمين من أهل الذمة ممن هم قادرين على حمل السلاح نظير حماية الدولة لهم .	ضريبة الأرض الزراعية التي تخرج مبلغا ماليا معينا من ناتج المحصول الزراعي .
<b>الطقس ( ص ٦٤ )</b>	<b>المناخ ( ص ٦٤ )</b>
حالة الجو في مكان لمدة قصيرة تتراوح بين يوم أو عدة أيام من حيث درجة الحرارة والرطوبة والأمطار والضغط الجوي .	حالة الجو خلال فترة زمنية طويلة من حيث عناصره وهي درجة الحرارة والرطوبة والأمطار والضغط الجوي .

( ب ) علل لما يأتي :-

١- تدين أوروبا بالفضل الكبير للحضارة الإسلامية . ( ص ٤٢ ) درجة  
لأنها كانت السبب في النهضة الصناعية والعلمية الأوروبية الحديثة .

٢- تنوع المناخ في دول العالم الإسلامي . ( ص ٦٣ ) يكتفى بنقطتين درجتين

- ١ - امتداد دول العالم الإسلامي على مساحة شاسعة .
- ٢ - الموقع بالنسبة لدوائر العرض .
- ٣ - الإطلالة على عدة مسطحات مائية في معظم أجزائه .
- ٤ - التنوع في التضاريس من جبال وهضاب وسهول ووديان .

( ج ) عدد ما يلي :-

١ - أهم أنواع الثروات المعدنية في العالم الإسلامي . ( ص ٧٠ ) ( يكتفى بثلاثة نقاط ) درجة ونصف

- ١ - اليورانيوم .
- ٢ - الذهب .
- ٣ - الفضة .
- ٤ - النحاس .
- ٥ - الحديد .
- الفوسفات .

٢ - خصائص الحضارة الإسلامية . ( ص ٢٢ / ٢٣ ) ( يكتفى بثلاثة نقاط ) درجة ونصف

- حضارة تسامح .
- حضارة إيمان وعمل .
- حضارة إنسانية .
- حضارة عالمية .
- حضارة شمولية .



السؤال الثالث : (مقالى) يتكون من ( أ - ب - ج ) :-

( أ ) أكتب مما درست :-

١ - أهمية السهول . ( ص ٥٨ ) يكتفى بنقطة درجة

- ١ - استخدامها كموانئ طبيعية .
- ٢ - تشييد المدن .
- ٣ - تركيز السكان فيها لسهولة التنقل .

٢ - العوامل التي ساعدت الإنتاج الزراعى فى دول العالم الإسلامى . ( ص ٧٢ ) يكتفى بنقطتين

درجتان

- التربة الخصبة .
- المناخ .
- وجود البحيرات والأنهار والآبار .
- سقوط الأمطار .
- كثرة السكان والأيدي العاملة .

( ب ) عرف المفاهيم والمصطلحات التالية :- درجة لكل تعريف

١ - الوقف الإسلامى . ( ص ٢٩ )

صدقة جارية يوقفها المرء في حياته لوجوه الخير والبر ويكون أجرها ونفعها ما دامت باقية ويستمر الأجر حتى بعد وفاته .

٢ - المساجد . ( ص ٣٢ )

تقام فيها الصلوات وخطبة الجمعة والتعليم الديني .

٣ - الهضبة . ( ص ٥٣ )

أرض مرتفعة سطحها مستو وتمتد لمساحة واسعة .

( ج ) نفذ ما بين القوسين :-

١ - المناصب الإدارية التي ظهرت مع اتساع الدولة الإسلامية . ( أذكر ) ( ص ٢٥ ) يكتفى بنقطتين درجتين

- الخليفة - الوزير - الوالي - المحتسب - القاضي

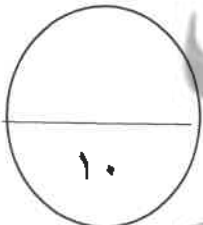
٢ - تنوع الثروات الطبيعية فى العالم الإسلامى . ( علل ) ( ص ٦٧ ) درجة

لان العالم الإسلامى يمتد على مساحات شاسعة من اليابسة و ذو تنوع تضاريسى ومناخى .

٣ - تتعدد مصادر إنتاج الأسماك الطبيعية فى دول العالم الإسلامى . ( عدد ) ( ص ٧٤ ) درجة

- المحيطات والبحار .

- المياه العذبة .



السؤال الرابع : ( مقالى ) يتكون من ( أ - ب - ج ) :-

أ ) اقرأ الفقرة التالية ثم أجب عما يليها من أسئلة :-

" منذ قيام الدولة الإسلامية في المدينة المنورة على يد سيدنا محمد - صلى الله عليه وسلم - في القرن الثامن الميلادي ، انطلق شعاع الحضارة الإسلامية ليضيء نورها شتى بقاع الأرض في كافة الميادين العلمية والثقافية والاقتصادية والسياسية والاجتماعية وغيرها من المجالات " ( ص ١٧ )

١ - من هو مؤسس الدولة الإسلامية ؟ ( درجة )

سيدنا محمد - صلى عليه وسلم .

٢ - في أي قرن قامت الدولة الإسلامية ؟ ( درجة )

في القرن الثامن الميلادي .

٣ - عرف ما تحته خط . ( ص ١٨ ) ( درجة )

الحضارة هي كل ما يطرأ على المجتمع من تقدم وتطور ورقي سواء في الجانب المادي ( مساجد وقصور وغيرها ) أو الجانب الروحي ( العلوم والفكر والأدب وغيرها )

٤ - أذكر أسس الحضارة الإسلامية . ( ص ٢٠ ) يكتفى بنقطتين ( درجتان )

- الدين الإسلامي - اللغة العربية - الحضارات الأخرى

ب ) دلل على صحة العبارات التالية :-

١- ظهور العديد من الصناعات في الدولة الإسلامية . ( ص ٢٧ ) يكتفى بنقطتين ( درجتان )  
- صناعة السفن - صناعة الأسلحة - صناعة الورق - صناعة الأدوية - صناعة المنسوجات - صناعة الخزف والمعادن - الصناعات الخشبية . ( الأرابيسك )

ج ) أذكر ما يلي :-

١ - جهود المسلمين في الزراعة . ( ص ٢٦ ) يكتفى بنقطة ( درجة )

- شق القنوات المائية والترع . - إقامة السدود . - تنظيم وسائل الري .

٢ - مميزات المظاهر العمرانية في الحضارة الإسلامية . ( ص ٣٠ ) يكتفى بنقطتين ( درجتان )

- الأسوار . - القباب . - المآذن . - المنابر . - الزخارف .

" انتهت الإجابة "

