



وزارة التربية
الإدارة العامة لمنطقة الأحمدية التعليمية
التوجيه الفني للاجتماعيات

نموذج إجابة

امتحان الفترة الدراسية الأولى
للسف السادس المتوسط
لمقرر (الكويت ودول الخليج العربية)

الإجابة
العام الدراسي: ٢٠٢١-٢٠٢٢ م
عدد الأوراق: (٥)
الزمن: ساعة و ٤٥ دقيقة
للحفظ

أجب عن جميع الأسئلة

السؤال الأول: (موضوعي) يتكون من (أ - ب) (١٢ نقطة × درجة واحدة = ١٢ درجة)

(أ) أكمل العبارات التالية بما يناسبها فيما درست :

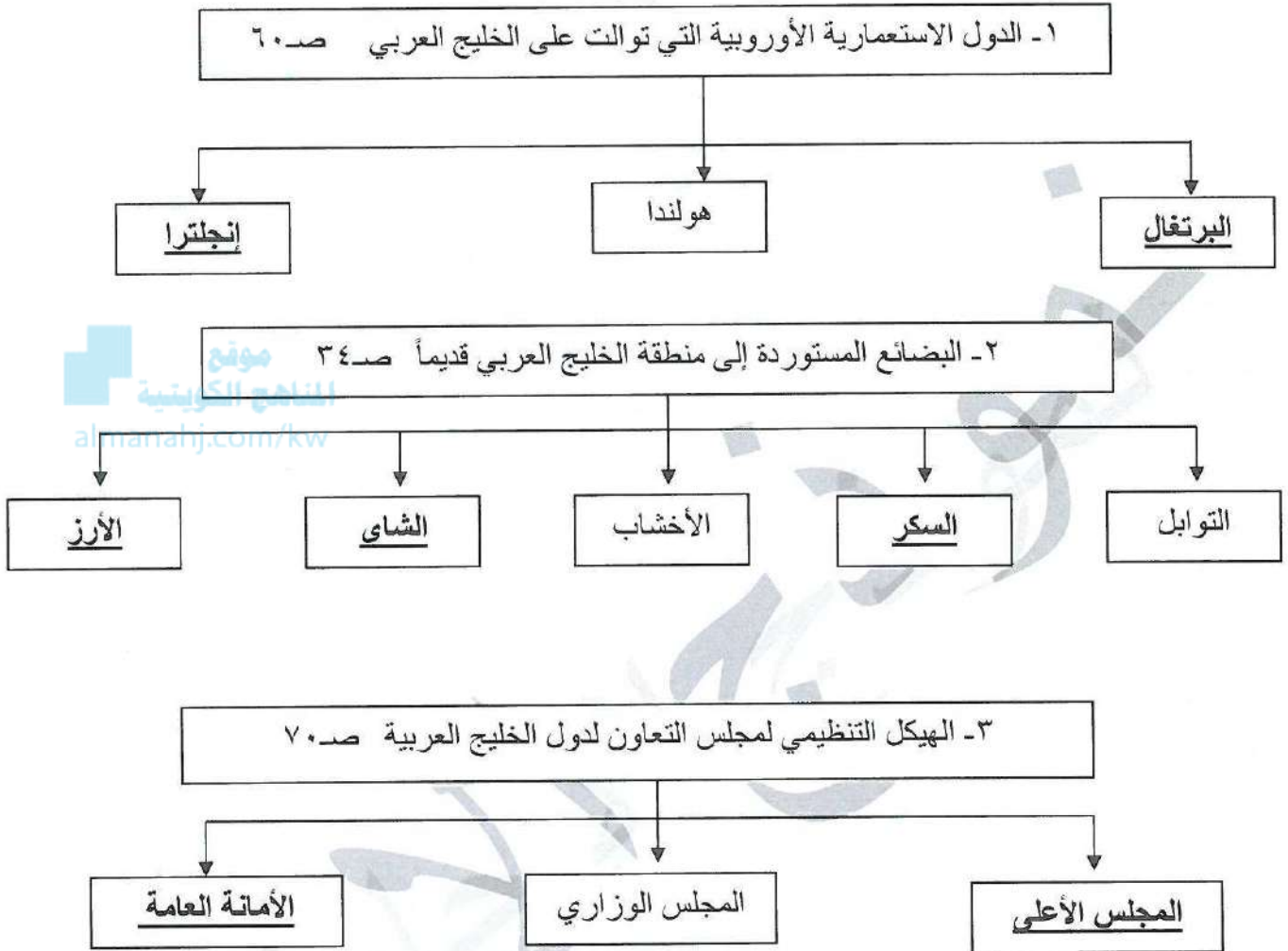
- ١- نوع مناخ دول الخليج العربية يسمى صحراوي قاري ص ٢٥
- ٢- المياه التي توجد في باطن الأرض تسمى المياه الجوفية. ص ٢٨
- ٣- يطلق على البئر عند سكان منطقة الخليج العربية اسم الجيب أو القليب. ص ٥١
- ٤- الجزيرة التي ظهرت بها الحضارة الهلينستية تسمى فيلكا. ص ٤٧
- ٥- أطلق على الخليج العربي قديماً اسم البحر الأدنى أو بحر شروق الشمس. ص ٤٧
- ٦- الشيخ الذي تم في عهده إلغاء معاهدة الحماية مع بريطانيا اسمه عبدالله السالم الصباح. ص ٦٣

(ب) ضع خطأ تحت الخيار الصحيح من بين الخيارات التي تلي كل عبارة :

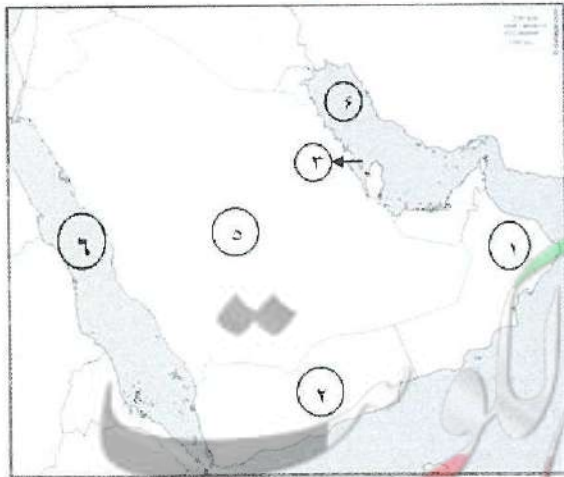
- ١- الدولة الخليجية الوحيدة التي لم تخضع للاستعمار : ص ٦٥
أ- المملكة العربية السعودية ب- البحرين ج- قطر د- عمان
- ٢- القرن الذي شهدت فيه منطقة الخليج العربية منافسة استعمارية: ص ٦٠
أ- الثاني عشر ب- الثالث عشر ج- الرابع عشر د- الخامس عشر
- ٣- الحضارة التي اشتهرت بأفران صهر المعادن : ص ٤٨
أ- دلمون ب- مجان ج- الهلينستية د- فيلكا
- ٤- العام الذي حصلت فيه دولة الكويت على استقلالها : ص ٦٣
أ- ١٩٦٠ م ب- ١٩٦١ م ج- ١٩٦٢ م د- ١٩٦٣ م
- ٥- المدينة التي أعلن فيها قيام مجلس التعاون لدول الخليج العربية : ص ٧٠
أ- مسقط ب- البحرين ج- عمان د- أبوظبي
- ٦- تقع منطقة الخليج العربية في الجهة الجنوبية الغربية من قارة : ص ١٩
أ- آسيا ب- أفريقيا ج- أوروبا د- استراليا

السؤال الثاني : (موضوعي) يتكون من (أ - ب) (١٢ نقطة × درجة واحدة = ١٢ درجة)

(أ) أكمل المخططات السهمية التالية :



(ب) أمامك خريطة شبه الجزيرة العربية الصماء اكتب الرقم الدال على العبارات التالية :



- البحر الأحمر يمثله على الخريطة الرقم ٦ ص ٢٣
- حضارة دلمون يمثها على الخريطة الرقم ٣ ص ٤٩
- الدولة الخليجية التي يوجد بها الجبل الأخضر يمثها على الخريطة الرقم ١ ص ٢٣
- الخليج العربي يمثله على الخريطة الرقم ٤ ص ٢٣
- هضبة نجد يمثها على الخريطة الرقم ٥ ص ٢٣

السؤال الثالث : (موضوعي) يتكون من (أ - ب) (١٢ نقطة × درجة واحدة = ١٢ درجة)

(أ) اختر من القائمة (أ) ما يناسبها من القائمة (ب) بوضع الرقم في المكان المناسب : ص ٣٢-٣٣

م	القائمة (أ)	الرقم المناسب	القائمة (ب)
١	ربان السفينة	٦	القلاف
٢	مطرب السفينة	٥	الطواش
٣	يغوص في أعماق البحار بحثاً عن اللؤلؤ	٤	المجمدي
٤	رئيس البحرية	٢	النهام
٥	تاجر اللؤلؤ	١	النوخذة
٦	صانع السفينة	٣	الغواص
		-	السيب

(ب) صنف أنواع الحيوانات التي تعيش في منطقة الخليج العربية حسب مكانها الصحيح في الجدول:

(الإبل - الضب - الماعز - الثعبان - الأغنام - السحلية) ص ٢٦

حيوانات غير مستأنسة	حيوانات مستأنسة
الضب الثعبان السحلية	الإبل الأغنام الماعز

السؤال الرابع : (مقالى) يتكون من (أ - ب - ج) (١٢ نقطة × درجة واحدة = ١٢ درجة)

(أ) فرق بين كل من : ص ٢٦

نبات حولي	نبات معمر	وجه المقارنة
نباتات يرتبط وجودها بموسم سقوط المطر.	نباتات متوفرة طول العام لأنها تتحمل الجفاف، وارتفاع درجة الحرارة بسبب جذورها الطويلة، وقلة أوراقها، وكثرة الأشواك فيها، وقدرتها العالية على تخزين المياه.	التعريف
الخبيزة ، الحويذان ، العنصيل	الصبار ، العرفج ، التندا ، الرمث .	المثال (يكتفى بنقطة واحدة)

(ب) علل لما يلي :

١- انصرف سكان منطقة الخليج العربية عن حرفة الغوص على اللؤلؤ. ص ٣١

- ظهور اللؤلؤ الصناعي .
- اكتشاف النفط .

٢- تعتبر سفينة البغلة أفضل أنواع السفن المستعملة في رحلة السفر. ص ٣٤ (يكتفى بنقطتين)

- لقوتها ومتانتها .
- قدرتها على نقل الحمولة الكبيرة .
- تمتاز بقلة تعرضها للأخطار البحرية .

٣- تنافس الدول الاستعمارية على منطقة الخليج العربية. ص ٦٠

- لاستغلال الموقع إدراكاً منها لأهميته .

(ج) عرف المفاهيم أو المصطلحات التالية :

١- المناخ: حالة الجو في مكان ما خلال فترات زمنية طويلة. ص ٢٥

٢- الاستقلال: تحرر الدولة من المستعمر الأجنبي وقيامها بمسؤولية إدارة شؤونها الداخلية والخارجية. ص ٦٣

٣- الديمقراطية: حكم الشعب لنفسه. ص ٦٤

السؤال الخامس: (مقالى) يتكون من (أ - ب) (١٢ نقطة × درجة واحدة = ١٢ درجة)



(أ) لاحظ الصورة المقابلة ثم أجب عن الأسئلة التالية :

١- ماذا يمثل هذا الشعار؟ . ص٧٧

- شعار مجلس التعاون لدول الخليج العربية.

٢- اذكر إنجازات مجلس التعاون الخليجي . ص٧٧ (يكتفى بنقطتين)

- إقامة الاتحاد الجمركي .

- انطلاق السوق الخليجي المشترك في يناير ٢٠٠٨ م .

- التنسيق في المجال السياسي في المحافل الدولية لكل القضايا التي تهم المجلس .

- وثيقة التطوير الشامل للتعليم .

- اتفاقية الدفاع المشتركة واستمرار تعزيز قوة درع الجزيرة .

٣- عدد السمات المشتركة بين دول مجلس التعاون الخليجي . ص٧٠ (يكتفى بنقطتين)

- المصالح المشتركة

- الدين الإسلامي

- وحدة التراث

- وحدة الانتماء

(ب) قارن بين كل من ...ص ٢١... درجتان

وجه المقارنة	خطوط الطول	دوائر العرض
الخط الرئيسي	خط جرننتش.....	خط الاستواء.....

(ج) عدد ما يلي مما درست :

١- الأنشطة البرية التي مارسها سكان منطقة الخليج العربية. ص٢٨ (يكتفى بنقطتين)

- الرعي

- الزراعة

- الحرف اليدوية

- التجارة البرية

٢- وسائل صيد الأسماك في منطقة الخليج العربية قديماً. ص٣١ (يكتفى بثلاث نقاط)

-الميدار

- الحظرة

- القرقور.



(أجب عن جميع الأسئلة)

السؤال الأول (الموضوعي) ويتكون من (أ - ب - ج - د - هـ - و - ز) :

أ) اختر الخيار الصحيح من بين الخيارات التي تلي كل عبارة بوضع خط تحتها: (درجة لكل إجابة = ٥)

١- تقع منطقة الخليج العربية بالنسبة لقارة آسيا في الجهة :

أ- الشمالية الشرقية ب- الشمالية الغربية ج- الجنوبية الشرقية د- الجنوبية الغربية ص ١٩

almanahj.com/kw

٢- الدولة الخليجية التي قامت على أرضها حضارة دلمون :

أ- الإمارات ب- قطر ج- البحرين د- عمان ص ٤٨

٣- العام الذي تم فيه انطلاق السوق الخليجي المشترك :

أ- ٢٠٠٧ م ب- ٢٠٠٨ م ج- ٢٠٠٩ م د- ٢٠١٠ م ص ٧٧

٤- القمة السابعة والعشرين لمجلس التعاون لدول الخليج العربية اطلق عليها اسم الشيخ :

أ- صباح السالم الصباح ب- جابر الأحمد الصباح ج- سعد العبدالله الصباح د- صباح الأحمد الصباح ص ٧٤

٥- الاسم الذي يطلق على الصبية الذين يعملون على ظهر السفينة لاكتساب الخبرة :

أ- التباية ب- الطوايش ج- الغواصين د- النواخذة ص ٣٢

ب) صنف أسماء النباتات الطبيعية التالية حسب مكانها المناسب في الجدول :- (درجة لكل إجابة = ٤)

(الخبيزة - الصبار - العرفج - الحويذان) ص ٢٦

النباتات الحولية	النباتات المعمرة
الخبيزة الحويذان	الصبار العرفج

ج) اكتب العنوان المناسب اسفل كل صورة لكل مما يلي : (درجة لكل إجابة = ٣)

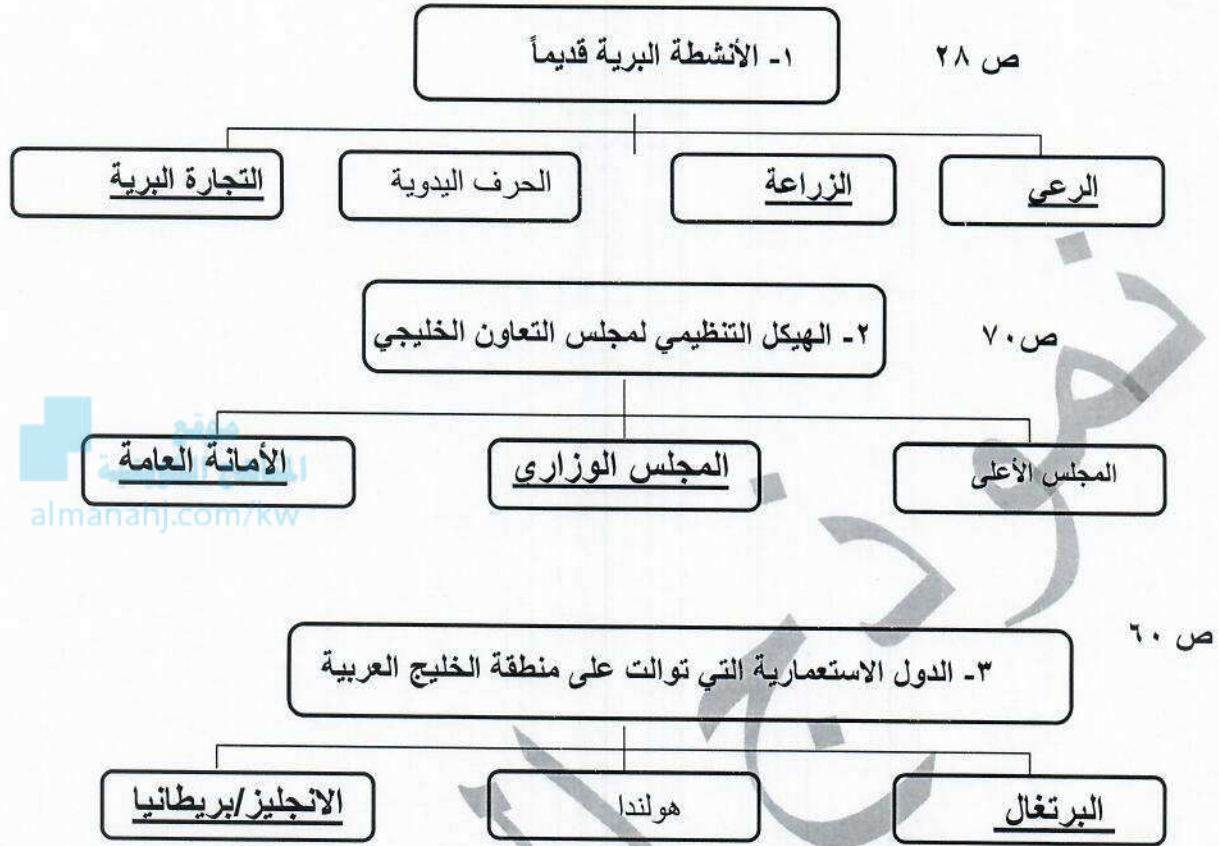
(خياطة البشوت - صناعة السفن - صناعة الخوص)

 موقع المنهاج الكويتية almanahj.com/kw		
- صناعة السفن ص ٣٣	- صناعة الخوص ص ٢٩	- خياطة البشوت ص ٢٩

د) أكمل العبارات التالية بما يناسبها مما درست : (درجة لكل إجابة = ٧)

- ١- الموقع بالنسبة لخطوط الطول ودوائر العرض يعرف باسمالموقع الفلكي... ص ٢٠
- ٢- يوجد الجبل الأخضر في دولة خليجية اسمها ... عمان ص ٢٣
- ٣- يطلق على ريان السفينة في الكويت قديماً اسم ... النوخذة.... ص ٣٢
- ٤- الدولة الخليجية العربية الوحيدة التي لم تتعرض للاستعمار تسمى...المملكة العربية السعودية... ص ٦٥
- ٥- المدينة التي اتخذت مقرأ دائماً لمنظمة مجلس التعاون الخليجي تسمى ...الرياض.... ص ٧٠
- ٦- عرف الخليج العربي قديماً باسم..البحر الأدنى / بحر شروق الشمس.. ص ٤٧
- ٧- أعلن قيام مجلس التعاون لدول الخليج العربية في عام ... ١٩٨١ م .. ص ٧٠

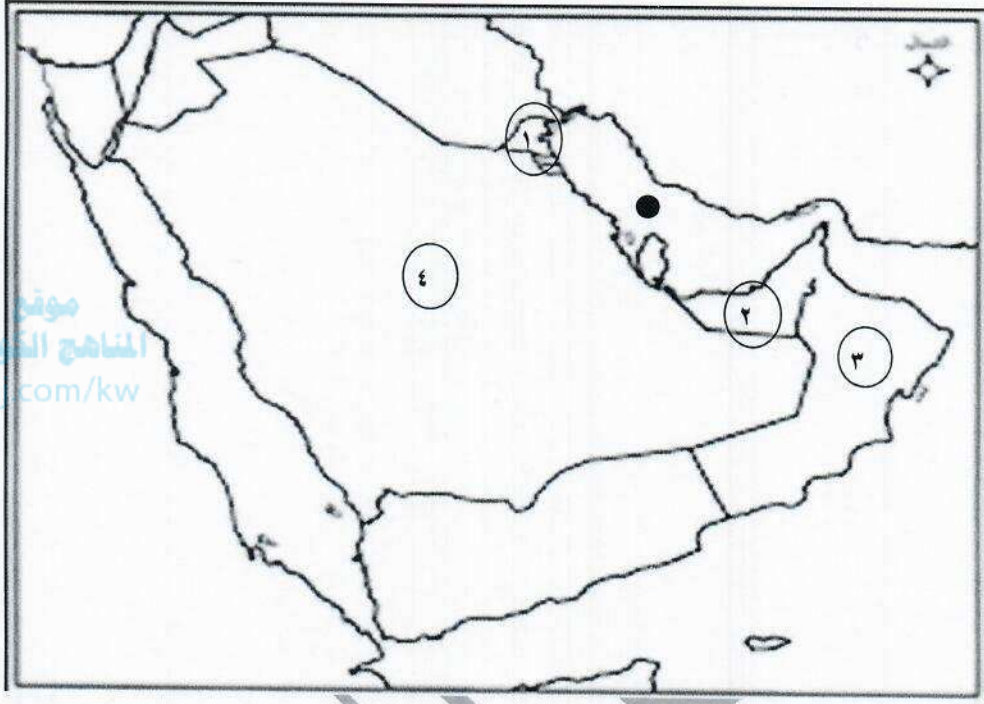
هـ) أكمل المخططات السهمية التالية : (درجة لكل إجابة = ٧)



و- أكتب المفهوم أو المصطلح الدال على العبارات التالية : (درجة لكل إجابة = ٥)

المفهوم	التعريف
١-الخليج العربي ص ٢١	ذراع مائي لبحر العرب يمتد من خليج عمان جنوباً حتى شط العرب شمالاً .
٢-الفواص ص ٣٢	الشخص الذي يغوص في أعماق البحر بحثاً عن اللؤلؤ .
٣-الواحه ص ٢٩	منطقة تقع في الصحراء بها مياه عذبة صالحة للزراعة .
٤- نبات حولي ص ٢٦	نباتات يرتبط وجودها بموسم سقوط المطر .
٥-الاستقلال ص ٦٣	تحرر الدولة من المستعمر الأجنبي وقيامها بمسؤولية إدارة شؤونها الداخلية والخارجية

ز) لاحظ خريطة دول الخليج العربية ثم أجب عن الأسئلة التي تليها : (درجة لكل إجابة = ٥)



- الدولة الخليجية التي ظهرت بها حضارة مجان يمثلها على الخريطة الرقم ٣... ص ٤٩
- الدولة الخليجية التي توجد بها هضبة نجد يمثلها على الخريطة الرقم ٤... ص ٢٣
- الدولة الخليجية التي ظهرت بها الحضارة الهلنستية يمثلها على الخريطة الرقم ١... ص ٤٧
- الدولة التي أعلن فيها عن قيام منظمة مجلس التعاون لدول الخليج العربية يمثلها على الخريطة الرقم ٢. ص ٧٠
- الشكل (●) على الخريطة يرمز إلى مسطح مائي اسمه..الخليج العربي.. ص ٢٣

(٤)

السؤال الثاني : يتكون من : [أ ، ب]

أ) علل لما يلي : (أذكر السبب) : (درجة لكل إجابة = ٥)

- ١- انصرف سكان منطقة الخليج العربية عن حرفة الغوص على اللؤلؤ . ص ٣١ (يكتفى بنقطتين)
- ظهور اللؤلؤ الصناعي
- اكتشاف النفط

٢- تعتبر سفينة البغلة من أفضل أنواع السفن المستعملة في السفر قديما في منطقة الخليج العربية. ص ٣٤

- (يكتفى بنقطتين)
- لمتانتها - قدرتها على نقل الحمولة الكبيرة
- تمتاز بقلّة تعرضها للأخطار البحرية
موقع المناهج الكويتية
almanahj.com/kw

٣- أهمية الموقع الجغرافي لمنطقة الخليج العربية . ص ١٩ (يكتفى بنقطة واحدة)
- تقع وسط العالم
- تتحكم بأهم طرق التجارة العالمية

ب) عرف المفاهيم والمصطلحات التالية : (درجة لكل إجابة = ٣)

- ١-الموقع النسبي : الموقع بالنسبة للماء واليابس. ص ٢٠
٢- المناخ : حالة الجو في مكان ما خلال فترات زمنية طويلة . ص ٢٥
٣- الاستعمار : هو أن تسيطر دولة قوية على دولة ضعيفة بهدف استغلال موقعها ومواردها (خيراتها) ص ٦١

السؤال الثالث : عدد لكل مما يلي : (درجة لكل إجابة = ٦)

- ١-وسائل صيد الأسماك قديما . ص ٣١ (يكتفى بنقطتين)
- الميدار - الحضرة - القرقور.
٢-أشكال سطح الأرض (التضاريس). ص ٢٣
- الجبال - الهضاب - السهول - التلال - الأودية .
(يكتفى بنقطتين)

٣-الصفات المشتركة بين دول الخليج العربية . ص ٧٠

- وحدة التراث -الانتماء - الدين - اللغة - المصالح المشتركة .

(٥)

السؤال الرابع : ويتكون من (أ - ب)

أ) قارن بين (معاهدة الحماية والاستقلال) لدولة الكويت مع بريطانيا حسب الجدول التالي :

(درجة لكل إجابة = ٤)

أوجه المقارنة	معاهدة الحماية	معاهدة الاستقلال
العام	١٨٩٩ م	١٩٦١ م
اسم الحاكم	الشيخ مبارك الصباح	الشيخ عبدالله السالم الصباح

موقع
المنهج الكويتية
almanahj.com/kw

ب) اكتب فيما يلي مما درست : (درجة لكل إجابة = ٦)

١- أنواع الرياح التي تهب على منطقة الخليج العربية . ص ٢٥ (يكتفى بنقطتين)
- الرياح الشمالية
- الرياح الجنوبية الشرقية / الكوس
- الزوابع / العواصف الترابية.

٢- أهم الأنشطة البحرية في منطقة الخليج العربية قديماً. ص ٣١- ص ٣٣ ص ٣٤ (يكتفى بنقطتين)
- صيد الأسماك - الغوص على اللؤلؤ - صناعة السفن - التجارة البحرية .

٣- أهداف مجلس التعاون لدول الخليج العربية . ص ٧٦ (يكتفى بنقطتين)
- تحقيق التعاون بين الدول الأعضاء في جميع المجالات.
- تحقيق الترابط والصلات بين دول مجلس التعاون.
- العمل على تقدم دول مجلس التعاون في المجال العلمي.

انتهت الأسئلة



٢٠٢٢/٢٠٢١ م
٤٥ دقيقة

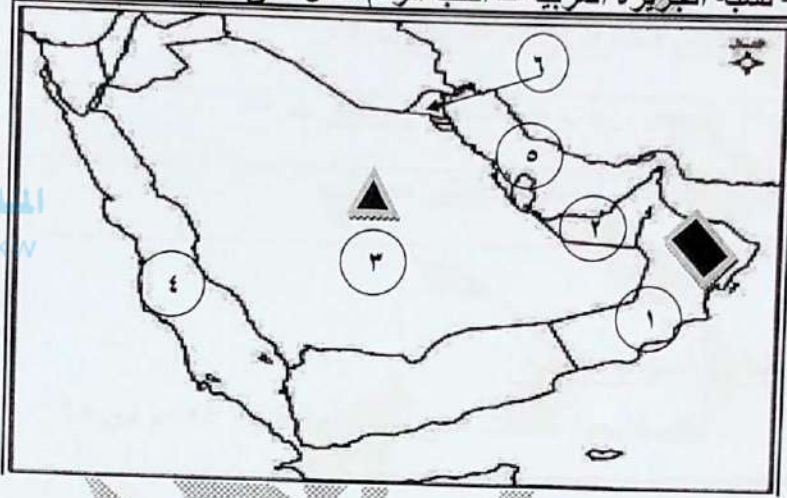


الإدارة العامة لمنطقة مبارك الكبير التعليمية
التوجيه الفني للاجتماعيات

(الكويت ودول الخليج العربية)
(درجة لكل سؤال)

السؤال الأول (موضوعي) يتكون من (أ- ب) :

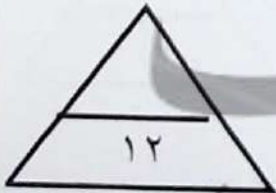
(أ) أمامك خريطة لشبه الجزيرة العربية - أكتب الرقم الدال على العبارات التالية :



- ١- صدرت وثيقة الدستور في عام ١٩٦٢م في دولة يمثلها على الخريطة الرقم (٦) ص ٦٤
- ٢- هضبة نجد يمثلها على الخريطة الرمز (▲) . ص ٢٣
- ٣- الجبل الأخضر يمثلها على الخريطة الرمز (◆) . ص ٢٣
- ٤- المدينة التي أعلن فيها قيام مجلس التعاون لدول الخليج العربية يمثلها الرقم (٢) . ص ٧٠
- ٥- الخليج العربي يمثلها على الخريطة الرقم (٥) . ص ٢٣
- ٦- البحر الأحمر يمثلها على الخريطة الرقم (٤) . ص ٢٣

(ب) اكمل العبارات التالية بما يناسبها مما درست :

- ١- من أشهر البضائع التي تنقل من الخليج إلى الهند واليمن اللؤلؤ و التمور . ص ٣٤
- ٢- تقع منطقة الخليج العربي بالنسبة لقارة آسيا في الجهة الجنوبية الغربية . ص ١٩
- ٣- كل مرتفع له قمة لا يقل ارتفاعه عن ١٠٠٠ متر يسمى الجبل . ص ٢٣
- ٤- صهر المعادن من الأعمال التي اشتهرت بها حضارة تسمى مجان . ص ٤٨
- ٥- العام الذي تم فيه عقد اتفاقية الحماية بين دولة الكويت و بريطانيا هو ١٨٩٩ م . ص ٦٢
- ٦- بحر شروق الشمس تسمية قديمة لمسطح مائي يسمى الخليج العربي . ص ٤٧

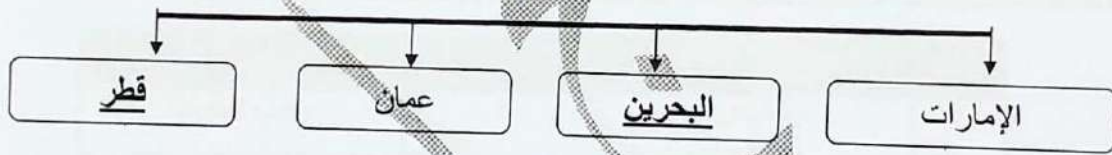


امتحان نهاية الفترة الدراسية الأولى للصف السادس لمادة الاجتماعيات (الكويت ودول الخليج العربية) ٢٠٢٢/٢٠٢١ م
 السؤال الثاني (موضوعي) يتكون من (أ - ب) :
 (أ) صوب ما تحته خط في العبارات التالية :

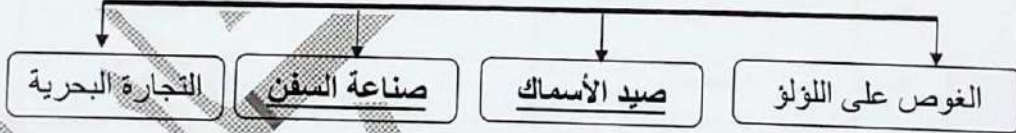
م	العبارة	التصويب
١	الدولة الخليجية الوحيدة التي لم تتعرض للاستعمار البريطاني هي البحرين . ص ٦٥	السعودية
٢	أفضل أنواع السفن المستعملة في السفر هي الشوعى. ص ٣٤	البغلة
٣	سميت القمة الخليجية السابعة والعشرون سنة ٢٠٠٦م بقمة الشيخ صباح الأحمد . ص ٧٤	جابر الأحمد
٤	تم انطلاق السوق الخليجي المشترك في عام ٢٠٠٥م . ص ٧٧	٢٠٠٨م
٥	فصل الصيف يمتاز بأنه حار ورطب على المناطق المرتفعة . ص ٢٥	الساحلية
٦	الموقع بالنسبة للماء واليابس يعرف بالموقع الفلكي. ص ٢٠	النسبي

(ب) اكمل المخططات السهمية التالية :

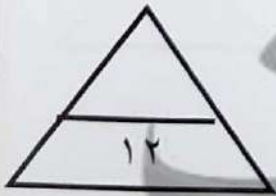

١- دول خليجية حصلت على استقلالها عام ١٩٧١م ص ٦٥



٢- الأنشطة البحرية في منطقة الخليج العربي قديماً ص ٣١-٣٤



٣- أنواع النباتات المعمرة ص ٢٦



امتحان نهاية الفترة الدراسية الأولى للصف السادس لمادة الاجتماعيات (الكويت ودول الخليج العربية) ٢٠٢١/٢٠٢٢ م

(درجة لكل سؤال)

السؤال الثالث (موضوعي) يتكون من (أ - ب - ج):

(أ) اذكر الرابط المشترك بين العناصر التالية:

- ١- حظرة - ميدار - قرقور
٢- مجان - هليستية - دلمون
٣- الخبيزة - العنصيل - الحويذان
- أدوات الصيد قديما (ص ٣١)
حضارات الخليج (ص ٤٧-٤٨)
نباتات حولية (ص ٢٦)

(ب) صنف الكلمات التالية في مكانها المناسب حسب الجدول التالي:

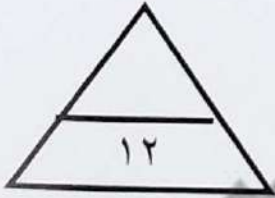
الماعز - الغزال - الذئب - الثعلب - الإبل ص ٢٦

موقع
المناهج الكويتية
almanahj.com/kw

حيوانات برية	حيوانات مستأنسة
الغزال	الإبل
الذئب	الماعز
الثعلب	

(ج) اختر للمجموعة (أ) ما يرتبط بها من المجموعة (ب) بوضع الرقم المناسب: ص ٣٢

م	المجموعة (أ)	الرقم المناسب	المجموعة (ب)
١	الطواش	٤	رنيس البحرية
٢	النوخدة	٣	مطرب السفينة
٣	النهام	٢	ربان السفينة
٤	المجدمي	-	صانع السفينة
		١	تاجر اللؤلؤ



امتحان نهاية الفترة الدراسية الأولى للصف السادس لمادة الاجتماعيات (الكويت ودول الخليج العربية) ٢٠٢٢/٢٠٢١ م
السؤال الرابع (مقالى) يتكون من (أ - ب - ج) :
(أ) اقرأ الفقرة التالية ثم اجب عن الأسئلة:

تعددت العوامل المؤثرة في نشأة الحضارات بمنطقة الخليج العربية ، حيث ساعد موقع الخليج العربي المتميز على إنشاء علاقات تجارية واسعة مع المناطق المجاورة ، كما توافرت آبار مياه الشرب الناتجة عن سقوط الأمطار وحفر الآبار (القليب) ، وقد امتازت بعض مناطق الخليج العربية بملائمة بيئتها الطبيعية للاستقرار وقيام الحضارات .

١- عرف ما تحته خط:

القليب (الجليب) يطلق على البئر عند سكان منطقة الخليج العربية ص ٥١

٢- عدد العوامل المؤثرة في نشأة الحضارات بمنطقة الخليج العربية . ص ٥١-٥٢

- موقع الخليج العربي المتميز .

- توفر مياه الشرب .

- ملائمة البيئة الطبيعية للاستقرار .

(ب) لاحظ الصورة التي أمامك ثم اجب عن المطلوب:

١- ما اسم المنظمة التي تمثلها صورة الشعار المقابل ؟ ص ٧٧

- مجلس التعاون لدول الخليج العربية

٢- في أي عام أعلن قيام هذه المنظمة ؟ ص ٧٠

- ١٩٨١ م

٣- اذكر أجهزة الهيكل التنظيمي لهذه المنظمة . ص ٧٠ (يكتفى بنقطتين)

- المجلس الأعلى

- المجلس الوزاري

- الأمانة العامة

(ج) علل لما يلي :

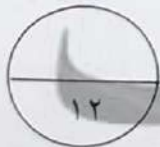
١- انصراف سكان منطقة الخليج العربية عن حرفة الغوص على اللؤلؤ . ص ٣١

- اكتشاف النفط .

- ظهور اللؤلؤ الصناعي .

٢- تعرضت منطقة الخليج العربي للاستعمار الأوربي منذ القرن الخامس عشر . ص ٦٠

- لاستغلال الموقع الجغرافي إدراكا منهم لأهميته .



امتحان نهاية الفترة الدراسية الأولى للصف السادس لمادة الاجتماعيات (الكويت ودول الخليج العربية) ٢٠٢١/٢٠٢٢ م
السؤال الخامس (مقالى) يتكون من (أ - ب - ج) :
(درجة لكل سؤال)

(أ) عرف ما يلى:

- ١- دوائر العرض : خطوط وهمية أي غير موجودة على سطح الأرض ترسم على الكرة الأرضية و تقسم الكرة الأرضية إلى قسمين شمالي وجنوبي وعددها ١٨٠ دائرة. ص ٢١
- ٢ - هضبة : أرض مرتفعة سطحها مستوي وتمتد مساحة كبيرة. ص ٢٣
- ٣ - مناخ : حالة الجو في مكان ما خلال فترات زمنية طويلة . ص ٢٥
- ٤ - السيب : الشخص الذي يسحب الغاصة من أعماق البحر. ص ٣٢



المنهج الجديد
almanahi.com/kw



(ب) اكتب فيما يلى وفق ما درست:

- ١- أنواع الرياح التي تهب على منطقة الخليج العربية. ص ٢٥
 - الرياح الشمالية
 - الرياح الجنوبية الشرقية (الكوس)
 - الزوابع (العواصف الترابية)

٢- أهداف مجلس التعاون لدول الخليج العربية. ص ٧٦

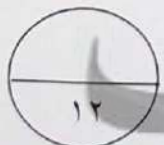
- تحقيق التعاون بين الدول الأعضاء في جميع المجالات.
- تحقيق الترابط و الصلات بين دول مجلس التعاون.
- العمل على تقدم دول مجلس التعاون في المجال العلمي.

٣- عدد الأنشطة البرية لدول الخليج العربية قديماً. ص ٢٨

- الرعي
- الزراعة
- الحرف اليدوية
- التجارة البرية

(ج) فرق بين كلاً مما يلى من حيث المفهوم :

القفال	الدشة
نهاية موسم الغوص (شهر سبتمبر) ص ٣٢	بداية موسم الغوص (شهر يونيو) ص ٣٢



انتهت الأسئلة

امتحان الفصل الدراسي الأول للصف السادس المتوسط مادة الكويت ودول الخليج العربية

اجب على جميع الأسئلة التالية :-

السؤال الأول : موضوعي ويتكون من (أ - ب - ج - د):

(أ) ضع خطأ تحت الخيار الصحيح من بين الخيارات التي تلي كل عبارة : (6 درجات)

1- تبلغ عدد دوائر العرض التي تقسم الكرة الأرضية الى قسمين شمالي وجنوبي:

150- دائرة - 160 دائرة - 170- دائرة - 180 دائرة (ص21)

المنهج الكويتية

almanahj.com/kw

2- من النباتات المعمرة في منطقة الخليج العربي :

- الخبيزة - العرفج - الحويذان - العنصيل (ص26)

3- ظهرت حضارة دلمون في دولة :

- قطر - الامارات - البحرين - الكويت (ص48)

4- عقدت الكويت اتفاقية الحماية عام 1899 مع دولة :

- بريطانيا - فرنسا - هولندا - ألمانيا (ص 62 / 63)

5- استبدلت الكويت معاهدة الحماية بمعاهدة الاستقلال عام 1961 م في عهد الشيخ :

- احمد الجابر - جابر الاحمد - صباح الاحمد - عبد الله السالم (ص63)

6- الاسم القديم الذي اطلق على الخليج العربي:

- البحر الادني - البحر الأقصى - البحر الشرقي - البحر الغربي (ص47)

(ب) اكمل العبارات التالية بما يناسبها : (6 درجات)

1- الدولة التي ظهرت فيها حضارة مجان اسمها سلطنة عمان . (ص48)

2- العام الذي تم فيه اصدار وثيقة الدستور الكويتية عام 1962م. (ص64)

3- سميت قمة مجلس التعاون السابعة والعشرون باسم قمة الشيخ جابر الأحمد الصباح. (ص74)

4- الدولة الخليجية التي لم تخضع للاستعمار البريطاني اسمها المملكة العربية السعودية. (ص65)

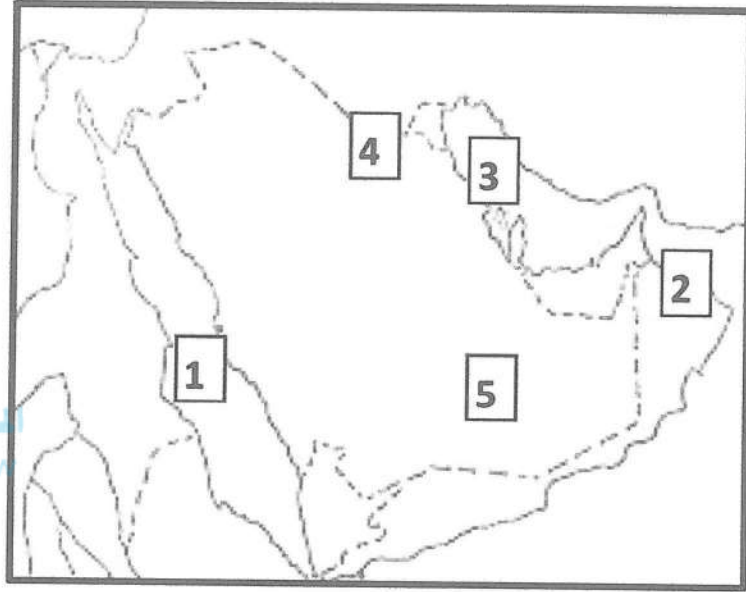
5- جزيرة كويتية ظهرت بها الحضارة الهنستية اسمها فيلكا. (ص 47)

6- المدينة التي تم فيها الإعلان عن قيام منظمة مجلس التعاون لدول الخليج العربية اسمها ابوظبي

(ص70)

(ج) لاحظ خريطة شبه الجزيرة العربية الصماء ثم اكتب الرقم الدال على العبارات التي تليها :

(4 درجات)



- الربع الخالي يمثله على الخريطة الرقم5..... (ص23)

- الجبل الاخضر على الخريطة الرقم2..... (ص23)

- البحر الأحمر يمثله على الخريطة الرقم1..... (ص23)

- تلال جال الزور يمثلها على الخريطة الرقم4..... (ص23)

(درجتان)

(د) أكمل المخطط السهمي الذي أمامك :

(ص31)

وسائل صيد الأسماك لدى سكان منطقة الخليج العربي

القرقور	الحضرة	الميدار
---------	--------	---------

السؤال الثاني : موضوعي ويتكون من (أ - ب - ج - د) :

(أ) صنف مظاهر السطح التالية حسب ما يناسبها في الجدول التالي :

(3 درجات)

(الاحساء - نجد - الحجاز)

السهول	الهضاب	جبال
الاحساء (ص23)	نجد (ص23)	الحجاز (ص23)

(3 درجات) (ص 28)

(ب) اكمل المخطط السهمي التالي :

الأنشطة البرية لمنطقة الخليج العربية قديما

حرفة الرعي	حرفة الزراعة	الحرف اليدوية	التجارة البرية

(ج) اختر من المجموعة (أ) ما يناسبها من المجموعة (ب) بوضع الرقم المناسب بين القوسين :

(6 درجات) (ص 32)

الرقم	المجموعة (أ)	الرقم المناسب	المجموعة (ب)
1	تجار اللؤلؤ يطلق عليهم	(3)	السيب
2	مطرب السفينة يسمى	(4)	التباب
3	يسحب الغاصة من أعماق البحر	(1)	الطواويش
4	الصبية الذين يعملون على ظهر السفينة لاكتساب الخبرة	(5)	الغواص
5	وظيفته البحث عن اللؤلؤ في أعماق البحر	(2)	النهام
6	صغار السن والمساعد للسيب في السفن الكبيرة	(6)	الرضيف

(6 درجات)

(د) اكتب المصطلح او المفهوم الدال على العبارات التالية:

- 1- (المياه الجوفية) مياه توجد في باطن الأرض .
- 2- (الخليج العربي) ذراع مائي لبحر العرب يمتد من خليج عمان جنوبا حتى شط العرب شمالا . (ص 19)
- 3- (المناخ) حالة الجو في مكان ما خلال فترات زمنية طويلة . (ص 25)
- 4- (القليب/الجليب) يطلق على البئر عند سكان منطقة الخليج العربية . (ص 51)
- 5- (الاستعمار) سيطرة دولة قوية على دولة ضعيفة بهدف استغلال موقعها ومواردها . (ص 61)
- 6- (الهضبة) أرض مرتفعة سطحها مستوى وتمتد مساحه كبيره . (ص 23)

السؤال الثالث : مقالي ويتكون من (أ - ب - ج)

(4 درجات)

(أ) علل ما يلي :-

(ص 31)

1- انصراف سكان دول الخليج العربية عن حرفة الغوص حديثا.

- ظهور اللؤلؤ الصناعي - اكتشاف النفط

2- تعتبر البغلة أفضل أنواع السفن المستعملة في رحلة السفر . يكتفى بنقطتين (ص34)

- لمتانتها - قدرتها على نقل الحمولة الكبيرة - قلة تعرضها للأخطار البحرية

almanahj.com/kw

(4 درجات)

(ب) انكر اثنتين مما يلي :-

الحيوانات الغير المستأنسة(ص 26)	الحيوانات المستأنسة (ص 26)
<ul style="list-style-type: none">السحليةالضبالثعبان (يكتفى بنقطتين)	<ul style="list-style-type: none">الابلالأغنامالماعز (يكتفى بنقطتين)

(4 درجات)

(ج) عرف المفاهيم أو المصطلحات التالية :

(ص 20)

1-الموقع الفلكي: الموقع بالنسبة لخطوط الطول ودوائر العرض.

(ص 26)

2-نبات حولي: نبات يرتبط وجوده بموسم سقوط المطر .

3-الاستقلال: تحرر الدولة من المستعمر الأجنبي وقيامها بمسئولية إدارة شئونها الداخلية والخارجية .

(ص 63)

(ص 25)

4-الكوس: الرياح الجنوبية الشرقية

السؤال الرابع : مقالتي ويتكون من (أ - ب - ج)

(4 درجات)

(أ) فرق بين كل من:-

القفال	الدشة
نهاية موسم الغوص(ص32)	بداية موسم الغوص (ص32)
المجمدي	النوخذه
رئيس البحرية(ص32)	ربان السفينة(ص32)

(4 درجات)

(ب) علل ما يلي :

1-توافر النباتات المعمره طوال العام . يكتفى بنقطتين (ص26)

- تتحمل الجفاف - تتحمل ارتفاع درجة الحرارة - جذورها طويلة - قليلة الأوراق

كثرة الاشواك - قدرتها على تخزين المياه

2-انشاء مجلس التعاون لدول الخليج العربية. يكتفى بنقطتين (ص74)

- تحقيق التعاون في جميع المجالات - إيجاد نوع من الاتحاد على أسس سليمة ومتينه لمصلحه

شعوبها

(ج) قارن بين فصل الشتاء وفصل الصيف في منطقة الخليج العربية من حيث: (4درجات)

أوجه المقارنه	فصل الصيف	فصل الشتاء
درجة الحرارة	ترتفع درجة الحرارة (ص25)	تنخفض درجة الحرارة (ص25)
طول الفصل	طويل معظم شهور السنه(ص25)	قصير جدا(ص25)

السؤال الأول : موضوعي ويتكون من (أ- ب)

(أ) اختر الإجابة الصحيحة من بين البدائل التي تلي كل عبارة وضع تحتها خط :- ($1 \times 6 = 6$ درجات)

1- دولة خليجية ظهرت فيها حضارة مجان : ص48

{ البحرين - قطر - سلطنة عمان - الكويت }

2- تقع منطقة الخليج العربية بالنسبة لقارة آسيا في الجهة : ص19

{ الشمالية الشرقية - الجنوبية الشرقية - الشمالية الغربية - الجنوبية الغربية }

3- المدينة التي أعلن فيها قيام مجلس التعاون الخليجي : ص70

{ الرياض - أبوظبي - المنامة - الدوحة }

4- الغلات الزراعية التي تزخر منطقة الخليج العربي بإنتاجها : ص28

{ التمور - التفاح - العنب - الموز }

5- أول دولة أوروبية استعمارية وصلت منطقة الخليج العربي : ص60

{ هولندا - البرتغال - إنجلترا - ألمانيا }

6- الشهر الذي يبدأ فيه موسم الغوص على اللؤلؤ : ص32

{ أبريل - مايو - يونيو - يوليو }

(ب) أكمل العبارات التالية بما يناسبها :- ($1 \times 6 = 6$ درجات)

1- صانع السفينة قديماً يسمى القلاف ص33

2- ألغيت معاهدة الحماية بين الكويت و بريطانيا في عام 1961 ص63

3- الجزيرة التي ظهرت بها الحضارة الهلينستية تسمى فيلكا ص47

4- البلد الخليجي الوحيد الذي لم يتعرض للاستعمار تسمى المملكة العربية السعودية ص65

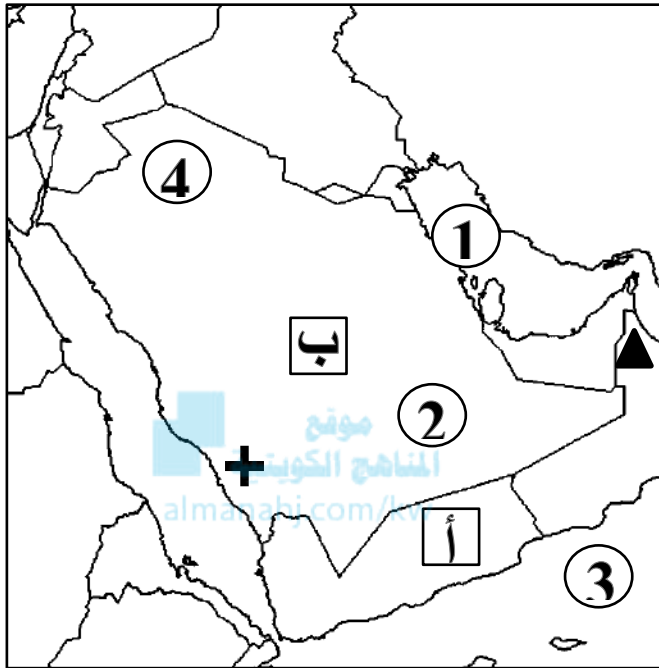
5- منظمة سياسية اقتصادية اقليمية تضم ست دول عربية خليجية تسمى مجلس التعاون لدول الخليج العربية

ص70

6- الرياح الجنوبية الشرقية التي تهب على منطقة الخليج العربي تسمى الكوس ص25

السؤال الثاني : موضوعي ويتكون من (أ- ب)

(أ) أمامك خريطة شبة الجزيرة العربية الصماء أرسم وأكتب المدلولات التالية :- (1 × 5 = 5 درجات)



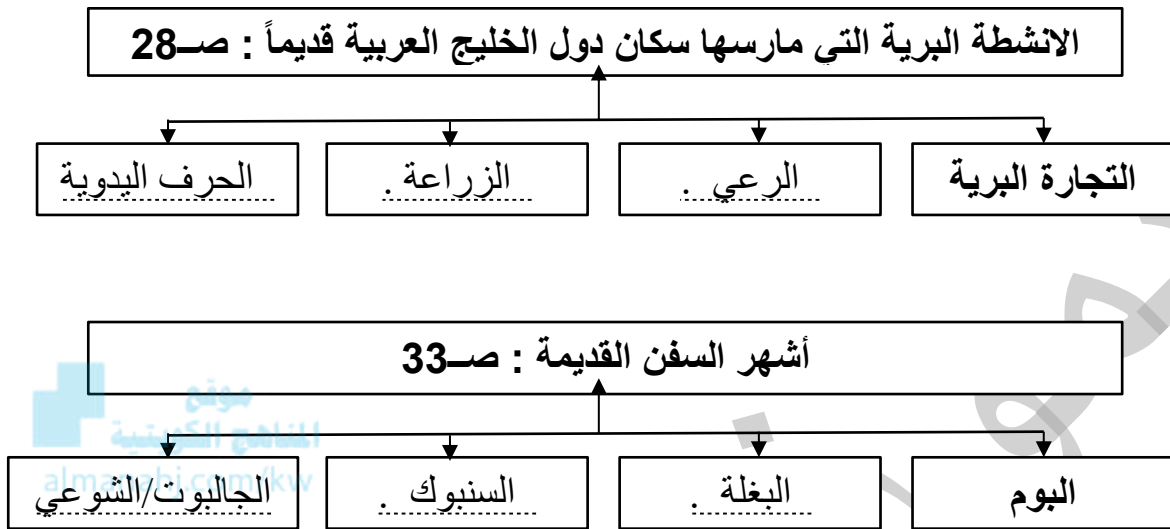
- 1- الجبل الاخضر يمثله على الخريطة الرمز ▲ ص 23
- 2- الخليج العربي يمثله على الخريطة الرقم 1 ص 23
- 3- هضبة نجد يمثها على الخريطة الحرف ب ص 23
- 4- صحراء الربع الخالي يمثها على الخريطة الرقم 2 ص 23
- 5- بحر العرب يمثله على الخريطة الرقم 3 ص 23

(ب) ظلل الحرف (أ) اذا كانت العبارة صحيحة وظلل الحرف (ب) اذا كانت العبارة خاطئة فيما يلي :- (1 × 7 = 7 درجات)

م	العبارة	أ	ب
1	مناخ منطقة الخليج العربية يتصف بأنه صحراوي قاري . ص 25		
2	تعيش في منطقة الخليج العربية حيوانات مستأنسة مثل الماعز . ص 26		
3	اعلن قيام مجلس التعاون لدول الخليج العربية في عام 1991 . ص 70		
4	فصل الصيف في منطقة الخليج العربي طويل يمتد لمعظم شهور السنة . ص 25		
5	موسم الغوص قديماً يستمر اربعة أشهر . ص 32		
6	الدولة الخليجية التي ظهرت فيها حضارة دلمون هي دولة قطر . ص 48		
7	تسقط الامطار الصيفية على جبال عسير والجبل الاخضر . ص 25		

السؤال الثالث : موضوعي ويتكون من (أ - ب)

(أ) أكمل المخططات السهمية التالية بما يناسبها :- ($6 \times 1 = 6$ درجات)



(ب) اختر للمجموعة (أ) ما يناسبها من المجموعة (ب) بوضع الرقم المناسب :-
($6 \times 1 = 6$ درجات)

(أ)	الرقم المناسب	(ب)
1- الخليج العربي .	2.....	الموقع بالنسبة لخطوط الطول ودوائر العرض . ص 20
2- الموقع الفلكي .	6.....	تحرر الدولة من المستعمر الأجنبي وقيامها بمسؤولية إدارة شؤونها الداخلية والخارجية . ص 63
3- الاستعمار .	1.....	ذراع مائي لبحر العرب يمتد من خليج عمان جنوباً حتى شط العرب شمالاً . ص 19
4- المناخ .	5.....	الموقع بالنسبة للماء واليابس . ص 20
5- الموقع النسبي .	4.....	حالة الجو في مكان ما خلال فترات زمنية طويلة . ص 25
6- الاستقلال .	3.....	هو أن تسيطر دولة قوية على دولة ضعيفة بهدف استغلال موقعها ومواردها (خيراتها) . ص 61

السؤال الرابع : مقالتي ويتكون من (أ- ب)

(أ) صنف ما يلي حسب مكانها الصحيح في الجدول التالي بوضع الرقم :- ($6 \times 1 = 6$ درجات) ص 32

- 1- يسحب الغاصة من أعماق البحر. 2- رئيس البحرية . 3- مطرب السفينة .
4- ربان السفينة. 5- يغوص في أعماق البحر بحثاً عن اللؤلؤ . 6- تجار اللؤلؤ .

النوخذة	النهام	الطواش	المجدمي	السيب	الغواص
.....4.....3.....6.....2.....1..... موقع الاهج الكويتية almanah.com/kw5.....

(ب) علل لما يلي :- ($3 \times 2 = 6$ درجات)

1- حياة السكان في البيئة الصحراوية لمنطقة الخليج العربية قاسية وخشنة : صفحة 27

- أ- قلة الموارد فيها خاصة المياه
ب- فقر الحياة النباتية والحيوانية

2- انصرف سكان منطقة الخليج العربية عن حرفة الغوص : صفحة 31

- أ- ظهور اللؤلؤ الصناعي
ب- اكتشاف النفط

3- أهمية موقع منطقة الخليج العربي : صفحة 19

- أ- تقع في وسط العالم
ب- تتحكم بأهم طرق التجارة العالمية

السؤال الخامس : مقالتي ويتكون من (أ - ب - ج)

(أ) قارن بين كل مما يلي :- (1 × 4 = 4 درجات)

وجه المقارنة	خطوط الطول ص 21	دوائر العرض ص 21
التعريف	عبارة عن خطوط وهمية أي غير موجودة على سطح الأرض ترسم على الكرة الأرضية ، وتقسّم الكرة الأرضية الي قسمين شرقي وغربي	عبارة عن خطوط وهمية أي غير موجودة على سطح الأرض ترسم على الكرة الأرضية ، وتقسّم الكرة الأرضية الي قسمين شمالي وجنوبي
العدد	360 خطأ	180 دائرة

(ب) اذكر اثنين لكل من :- (2 × 3 = 6 درجات)



1- الوسائل القديمة المستخدمة في صيد الأسماك . ص 31

- أ - الميذار ..
ب - القرقور / الحظرة ..

2- أهداف مجلس التعاون لدول الخليج العربية . ص 76

- أ - تحقيق التعاون بين الدول الاعضاء في جميع المجالات ..
ب - تحقيق الترابط والصلات بين دول مجلس التعاون / العمل على تقدم دول مجلس التعاون في المجال العلمي ..

3- الدول التي وصلت إليها التجارة البحرية لمنطقة الخليج العربي . ص 34

- أ - الهند ..
ب - اليمن / سواحل شرق أفريقيا ..

(ج) عرف المفاهيم التالية :- (1 × 2 = 2 درجات)

الواحة	هي منطقة تقع في الصحراء ، فيها مياه عذبة صالحة للزراعة . ص 29
نبات حولي	نباتات يرتبط وجودها بموسم سقوط الامطار . ص 26

((انتهت الأسئلة))

نموذج الإجابة



العام الدراسي: ٢٠٢٢/٢٠٢١ م
الزمن: ساعة وخمسة وأربعون دقيقة
عدد الأوراق: (٦)

امتحان نهاية الفترة الدراسية الأولى
لمقرر: الكويت ودول الخليج العربية
للمصف السادس

وزارة التربية
الإدارة العامة لمنطقة الجهراء التعليمية
التوجيه الفني للاجتماعيات

أجب عن جميع الأسئلة:

أولاً: الأسئلة الموضوعية: وتتكون من (أ ، ب ، ج ، د ، هـ ، و ، ز) (لكل نقطة درجة)

أ- أكمل العبارات التالية بما يناسبها فيما درست:

- ١- المياه التي توجد في باطن الأرض تسمى المياه الجوفية ص ٢٨
- ٢- يُطلق على صانع السفينة اسم القلاب ص ٣٣
- ٣- تعتبر من أشهر الحرف التي مارسها أبناء منطقة الخليج العربي قديماً تسمى مهنة الغوص ص ٣١
- ٤- الشيخ الذي في عهده ألغيت معاهدة الحماية التي وقعت مع بريطانيا اسمه عبدالله السالم الصباح ص ٦٣
- ٥- العام الذي أعلن فيه قيام المملكة العربية السعودية ١٩٣٢م ص ٦٥
- ٦- المدينة التي اتخذت مقراً لمجلس التعاون لدول الخليج العربية تسمى الرياض ص ٧٠

ب- أكمل المخططات السهمية التالية:



تابع أولاً: الأسئلة الموضوعية:

ج- أكتب المفاهيم أو المصطلحات الدالة على العبارات التالية:

م	المفهوم	العبرة
١	الخليج العربي	ذراع مائي لبحر العرب يمتد من خليج عمان جنوباً حتى شط العرب شمالاً. ص ١٩
٢	الهضبة	أرض مرتفعة سطحها مستوي، وتمتد مساحة كبيرة. ص ٢٣
٣	المناخ	حالة الجو في مكان ما، خلال فترات زمنية طويلة. ص ٢٥
٤	الاستعمار	سيطرة دولة قوية على دولة ضعيفة بهدف استغلال مواردها. ص ٦١
٥	الديمقراطية	حكم الشعب لنفسه. ص ٦٤

المنهج الكويتية

almanahj.com/kw

د- ظلل الخيار الصحيح من بين الخيارات التي تلي كل عبارة:

١- عدد درجات العرض التي تمتد خلالها منطقة الخليج العربي: ص ١٩

١٧ درجة	١٦ درجة	١٥ درجة	١٤ درجة
---------	---------	---------	---------

٢- أحد طاقم السفينة يغوص في أعماق البحر بحثاً عن اللؤلؤ: ص ٣٢

النوخده	الطواش	النهام	الغواص
---------	--------	--------	--------

٣- أفضل أنواع السفن المستعملة في رحلة السفر لمتانتها وقدرتها على نقل الحمولة الكبيرة: ص ٣٤

البغلة	البوم	السنبوك	الجالبوت
--------	-------	---------	----------

٤- أول دولة أوروبية استعمارية وصلت للخليج العربي واحتلت أجزاء منه: ص ٦٠

هولندا	الإنجليز	فرنسا	البرتغال
--------	----------	-------	----------

٥- العام الذي أعلن فيه قيام مجلس التعاون لدول الخليج العربية: ص ٧٠

١٩٨٠م	١٩٨١م	١٩٨٢م	١٩٨٣م
-------	-------	-------	-------

تابع أولاً: الأسئلة الموضوعية:

هـ. ظلل الحرف (أ) إذا كانت العبارة صحيحة وظلل الحرف (ب) إذا كانت العبارة خاطئة:

م	العبارة	(أ)	(ب)
١	ربان السفينة يسمى الغواص. ص ٣٢	أ	ب
٢	العثور على مواقع أثرية للحضارة الهلينستية في جزيرة فيلكا. ص ٤٧	أ	ب
٣	العام الذي حصلت فيه دولة قطر على استقلالها ١٩٦١ م ص ٦٥	أ	ب
٤	الدولة التي أعلن فيها قيام مجلس التعاون لدول الخليج العربية تسمى سلطنة عمان. ص ٧٠	أ	ب
٥	القمة السابعة والعشرون لمجلس التعاون الخليجي تسمى قمة الشيخ جابر الأحمد الصباح ص ٧٤	أ	ب

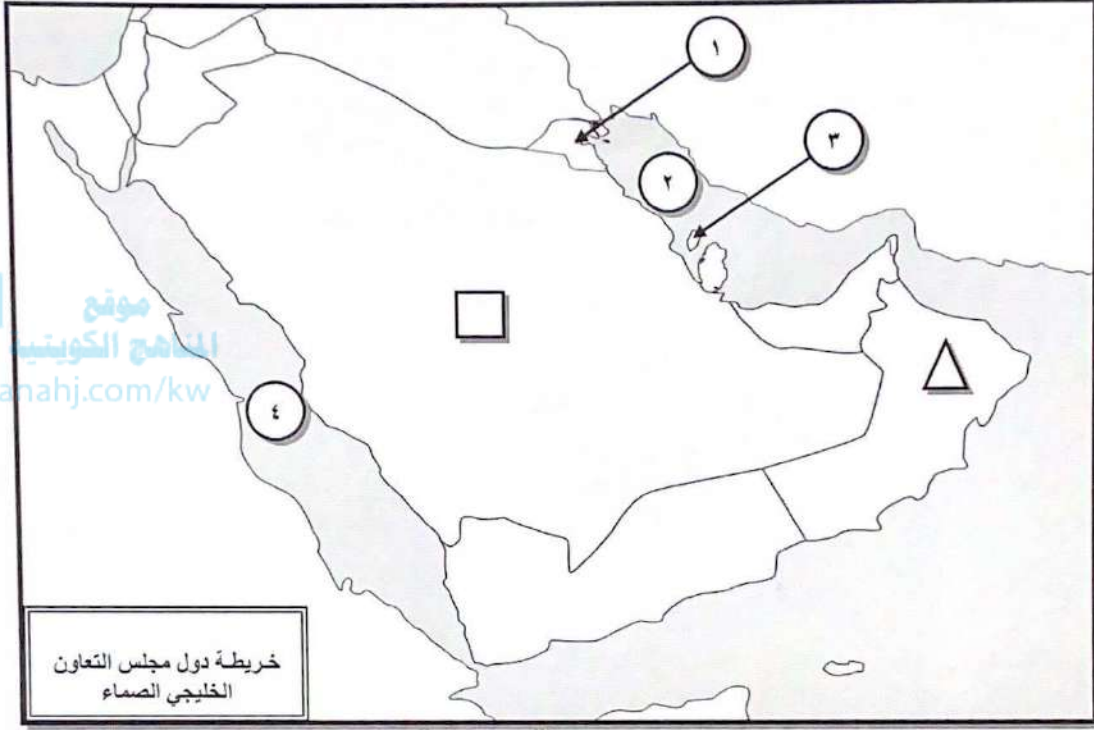
و- صنف الكلمات التالية إلى مكانها المناسب في الجدول الذي يليها: ص ٢٦

{ الصبار - الخبيزة - العرفج - الرمث - الحويذان }

النباتات المعمرة	النباتات الحولية
الصبار	الخبيزة
العرفج	الحويذان
الرمث	

تابع أولاً: الأسئلة الموضوعية:

ز- أمامك خريطة دول مجلس التعاون الخليجي الصماء نفذ المطلوب مما يليها:



١- أكتب الرقم الدال على العبارات التالية:

- الخليج العربي يمثل على الخريطة الرقم ٢ ص ٢٣
- حضارة دلمون يمثلها على الخريطة الرقم ٣ ص ٤٨
- أول دولة عربية خليجية نالت استقلالها من الاستعمار البريطاني يمثلها على الخريطة الرقم ١ ص ٦٥

٢- حدد كل مما يلي على الخريطة باستخدام الرموز التالية:

- الدولة التي ظهرت فيها حضارة مجان باستخدام الرمز \triangle ص ٤٨
- الدولة الخليجية الوحيدة التي لم تتعرض للاستعمار باستخدام الرمز \square ص ٦٥

ثانياً: الأسئلة المقالية: تتكون من (أ ، ب ، ج)

أ- قارن بين كل من: (أربع درجات)

أوجه المقارنة	خطوط الطول ص ٢١	دوائر العرض ص ٢١
التعريف	عبارة عن خطوط وهمية أي غير موجودة على سطح الأرض ترسم على الكرة الأرضية وتقسّم الكرة الأرضية إلى قسمين شرقي وغربي.	عبارة عن خطوط وهمية أي غير موجودة على سطح الأرض ترسم على الكرة الأرضية وتقسّم الكرة الأرضية إلى قسمين شمالي وجنوبي.
العدد	٣٦٠	١٨٠

ب- علل لما يلي :

١- أهمية موقع منطقة الخليج العربية. ص ١٩ (درجتان)

- * تقع في وسط العالم.
- * تتحكم بأهم طرق التجارة العالمية.

٢- حياة السكان في البيئة الصحراوية لمنطقة الخليج العربية قاسية وخشنة. ص ٢٧ (درجتان)

- * لفقر البيئة.
- * قلة الموارد فيها خاصة المياه.

٣- انصراف سكان منطقة الخليج العربية عن حرفة الغوص على اللؤلؤ. ص ٣١ (درجتان)

- * بسبب ظهور اللؤلؤ الصناعي.
- * بسبب اكتشاف النفط.

ج- عرف المفاهيم التالية: (درجتان)

١- قليب أو جليب: يطلق على البئر عند سكان منطقة الخليج العربية. ص ٥١

٢- استقلال: تحرر الدولة من المستعمر الأجنبي وقيامها بمسؤولية إدارة شؤونها الداخلية والخارجية. ص ٦٣

ثالثاً: الأسئلة المقالية: تتكون من (أ ، ب ، ج)

أ- فرق بين كل مما يلي: (أربع درجات)

الموقع النسبي ص ٢٠	الموقع الفلكي ص ٢٠
الموقع بالنسبة للماء واليابس. (درجة)	الموقع بالنسبة لخطوط الطول ودوائر العرض. (درجة)
الفقال ص ٣٢	الدشة ص ٣٢
نهاية موسم الغوص. (درجة)	بداية موسم الغوص. (درجة)

ب- لاحظ الصورة التي أمامك ثم أجب عن الأسئلة التالية: ص ٧٧



- ١- ماذا يمثل هذا الشعار؟ (درجة)
* شعار مجلس التعاون لدول الخليج العربية.
- ٢- كم عدد الدول في هذا التنظيم السياسي؟ (درجة)
* ٦.

ج- عدد ما يلي:

- ١- الصفات المشتركة بين دول مجلس التعاون الخليجي. ص ٧٠ (درجتان) (يكتفى بنقطتين)
* وحدة التراث. * الانتماء. * الدين. * المصالح المشتركة.

٢- الأساليب التي اتبعتها الاستعمار للسيطرة على دول الخليج العربي. ص ٦٠ (درجتان)

- * المعاهدات.
- * الاتفاقيات.

٣- إنجازات مجلس التعاون لدول الخليج العربية. ص ٧٧ (درجتان) (يكتفى بنقطتين)

- * إقامة الاتحاد الجمركي.
- * انطلاق السوق الخليجي المشترك في يناير ٢٠٠٨ م.
- * التنسيق في المجال السياسي في المحافل الدولية لكل القضايا التي تهم المجلس.
- * وثيقة التطوير الشامل للتعليم.
- * اتفاقية الدفاع المشتركة واستمرار تعزيز قوة درع الجزيرة.

" انتهت الأسئلة "



وزارة التربية

الإدارة العامة لمنطقة حولي التعليمية
التوجيه الفني للاجتماعيات

امتحان نهاية الفترة الدراسية الأولى

لمقرر (الكويت ودول الخليج العربية)

" للصف السادس "

نموذج الإجابة

العام الدراسي (٢٠٢٢ / ٢٠٢١ م)

الزمن: ساعة و ٤٥ دقيقة

عدد الأوراق: (٥)

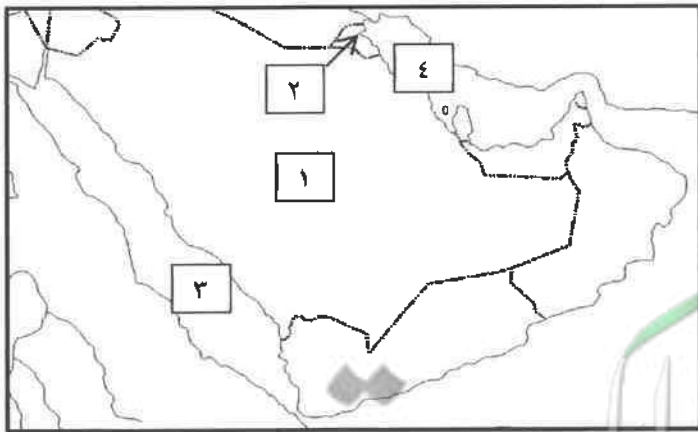
أجب عن جميع الأسئلة التالية:

السؤال الأول /الموضوعي ويتكون من (أ - ب - ج - د - هـ - و - ز): (لكل سؤال درجة = ٧ درجات)

(أ) صوب ما تحته خط في العبارات التالية :

- ١- الدولة الخليجية التي لم تخضع للاستعمار البريطاني هي الإمارات . ص ٦٥ ← السعودية
- ٢- نهاية موسم الغوص على اللؤلؤ تسمى الدشة . ص ٣٢ ← القفال
- ٣- منظمة سياسية اقتصادية إقليمية تضم ست دول عربية خليجية الأمم المتحدة. ص ٧٠ ← مجلس التعاون الخليجي
- ٤- يطلق على صانع السفينة قديماً بالمجدمي . ص ٣٣ ← القلاف
- ٥- استقلت مملكة البحرين في عام ١٩٦١ م . ص ٦٥ ← ١٩٧١ م
- ٦- حالة الجو في مكان ما خلال فترات زمنية طويلة يسمى الرياح . ص ٢٥ ← المناخ
- ٧- عرف الخليج العربي قديماً ببحر شروق الشمس وبالبحر الأسود. ص ٤٧ ← الأدنى

(ب) أمامك خريطة شبه الجزيرة العربية الصماء أكتب الرقم الدال على العبارات التي تليها:
(لكل سؤال درجة = ٤ درجات)



١- الدولة التي حصلت على استقلالها عام ١٩٦١ م

يمثلها على الخريطة الرقم (٢) ص ٦٥

٢- البحر الأحمر يمثل على الخريطة الرقم (٣) ص ٢٣

٣- الخليج العربي يمثل على الخريطة الرقم (٤) ص ٢٣

٤- هضبة نجد على الخريطة يمثلها الرقم (١) ص ٢٣

(ج) ضع خطأ تحت الخيار الصحيح من بين الخيارات التي تلي كل عبارة : (لكل سؤال درجة = ٧ درجات)

١ - الشيخ الذي في عهده ألغيت معاهدة الحماية ١٨٩٩م مع بريطانيا: ص ٦٣

مبارك الصباح - أحمد الجابر الصباح - عبدالله السالم الصباح - صباح السالم الصباح

٢ - الدولة الخليجية التي ظهرت فيها حضارة مجان القديمة: ص ٨٤

البحرين - الإمارات - قطر - عمان

٣ - تقع منطقة الخليج العربية بالنسبة لقارة آسيا في الجهة: ص ١٩

الشمالية الغربية - الجنوبية الغربية - الشمالية الشرقية - الجنوبية الشرقية

٤ - تعيش في منطقة الخليج العربية العديد من الحيوانات المستأنسة منها: ص ٢٦

الزواحف - الثعالب - الضب - الأيل

٥ - أفضل أنواع السفن المستعملة في رحلة السفر لمتانتها وقدرتها على نقل الحمولة الكبيرة: ص ٣٤

البغلة - السنوك - الشوعي - الجالبوت

٦ - الموقع بالنسبة لخطوط الطول ودوائر العرض : ص ٢٠

النسبي - الجغرافي - الفلكي - المكاني

٧ - المدينة التي أعلن فيها قيام مجلس التعاون لدول الخليج العربية : ص ٧٠

الكويت - الرياض - مسقط - أبوظبي

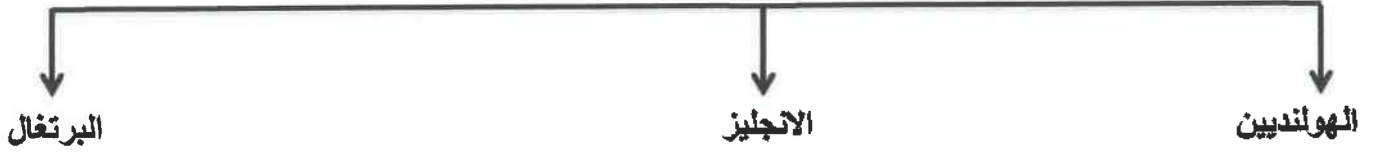
(د) صنف الكلمات التالية بمكانها المناسب في الجدول الذي يليها : (لكل سؤال درجة = ٤ درجات)

العنصيل / العرفج / الحويذان / الصبار ص ٢٦

نبات حولي	نبات معمر
العنصيل	الصبار
الحويذان	العرفج

(هـ) أكمل المخططات السهمية التالية بما يناسبها فيما درست : (لكل نقطة درجة واحدة = ٦ درجات)

١- الدول الاستعمارية الأوروبية التي توالت على الخليج العربي: ص ٦٠



٢- أشكال سطح الأرض: ص ٢٣



٣- وسائل صيد الأسماك قديماً : ص ٣١



(و) اختر للمجموعة (أ) ما يرتبط بها من المجموعة (ب) بوضع الرقم المناسب: (لكل سؤال درجة = ٥ درجات) ص ٣٢

م	المجموعة (أ)	الرقم المناسب	المجموعة (ب)
١	ريان السفينة	٢	الطواش
٢	تاجر اللؤلؤ	٤	السيب
٣	يفوص في أعماق البحر بحثاً عن اللؤلؤ	٥	النهام
٤	يسحب الغاصة من أعماق البحر	٣	الغواص
٥	مطرب السفينة	١	النوخذة

(ز) ضع الاسم المناسب للحرف التالية أسفل الصورة مستعيناً بما بين القوسين ص ٢٩ (لكل نقطة درجة = ٣ درجات)

(حياكة السدو - صناعة الخوص - خياطة البشوت) .



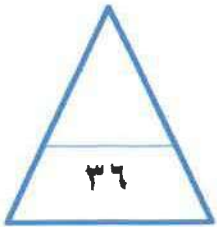
(حياكة السدو)



(خياطة البشوت)



(- صناعة الخوص)



السؤال الثاني : ويتكون من (أ - ب - ج) :

(أ) علل لما يأتي :

١- انصرف سكان منطقة الخليج العربية عن حرفة الغوص على اللؤلؤ . ص ٣١ (درجتان)

▪ ظهور اللؤلؤ الصناعي

▪ اكتشاف النفط

٢- توافر النباتات المعمرة طول العام في دول الخليج العربية. ص ٢٦ (درجتان)

▪ تتحمل الجفاف.

▪ تتحمل ارتفاع درجة الحرارة وجذورها الطويلة ، قلة أوراقها ، كثرة الأشواك ، وقدرتها العالية على

تخزين المياه.



(ب) قارن بين كل من: ص ٢١ (٤ درجات لكل نقطه درجة)

أوجه المقارنة	خطوط الطول	دوائر العرض
التعريف	خطوط وهمية أي غير موجودة على سطح الأرض ترسم على الكرة الأرضية ، وتقسّم الكرة الأرضية إلى قسمين شرقي وغربي وعددها ٣٦٠ خطاً.	خطوط وهمية أي غير موجودة على سطح الأرض ترسم على الكرة الأرضية ، وتقسّم الكرة الأرضية إلى قسمين شمالي وجنوبي وعددها ١٨٠ دائرة.
العدد	٣٦٠	١٨٠

(ج) أجب عن الأسئلة التالية :

١- أذكر أهمية موقع منطقة الخليج العربية ؟ ص ١٩ (درجتان)

• تقع في وسط العالم .

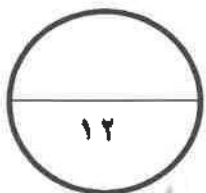
• تتحكم بأهم طرق التجارة العالمية .

٢- عدد أهداف مجلس التعاون لدول الخليج العربية ؟ ص ٧٦ (درجتان ويكتفى بنقطتين)

• تحقيق التعاون بين الدول الأعضاء في جميع المجالات .

• تحقيق الترابط والصلات بين دول مجلس التعاون.

• العمل على تقدم دول مجلس التعاون في المجال العلمي.



السؤال الثالث: ويتكون من (أ - ب - ج) :

(أ) عرف المفاهيم أو المصطلحات الدالة على العبارات التالية : (٤ درجات لكل تعريف درجة)

المفهوم	التعريف
١- الخليج العربي ص ١٩	نراع مائي لبحر العرب يمتد من خليج عمان جنوباً حتى شط العرب شمالاً.
٢- الواحة ص ٢٩	منطقة تقع في الصحراء , فيها مياه عذبة صالحة للزراعة.
٣- الاستعمار ص ٦١	هو أن تسيطر دولة قوية على دولة ضعيفة بهدف استغلال موقعها ومواردها (خيراتها) . موقع المناهج الكويتية almanahj.com/kw
٤- الموقع النسبي ص ٢٠	الموقع بالنسبة للماء واليابس.

(ب) اكتب فيما يلي :

١- الهيكل التنظيمي لمجلس التعاون الخليجي لدول الخليج العربية. ص ٧٠ (٣ درجات)

- المجلس الأعلى
- المجلس الوزاري
- الأمانة العامة

٢- الأنشطة البحرية في منطقة الخليج العربية قديماً. ص ٣١ + ص ٣٣ (٣ درجات)

- صيد الأسماك
- الغوص على اللؤلؤ
- صناعة السفن

(ج) قارن بين فصل الصيف وفصل الشتاء في دول الخليج العربية حسب الجدول التالي : (درجتان) ص ٢٥

أوجه المقارنة	فصل الصيف	فصل الشتاء
حالة الجو	ترتفع الحرارة صيفاً إلى أكثر من ٤٠ ° وفصل طويل يمتد لمعظم شهور السنة وهو حار جاف ورطب خاصة في المناطق الساحلية.	شهر قصير جداً ويمتاز بالدفء .

انتهت الأسئلة