

الإسم :

الصف : أولى /

الدرجة : / ٢٠

الاختبار التحصيلي (١) التجريبي

لمادة الرياضيات للصف الأول الابتدائي

للعام الدراسي ٢٠٢٢ / ٢٠٢٣


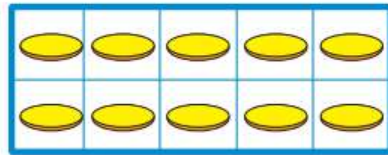


وزارة التربية

الإدارة العامة لمنطقة حولي التعليمية
التوجيه الفني للرياضيات

السؤال الأول : (أ) اكتب رمز العدد

٣



(ب) اكمل

٣



السؤال الثاني : أ) قارن . اكتب رمز العلاقة المناسب < أو > أو =

٣


١١ ○ ١١

٠ ○ ٥

٨ ○ ٣

١

ب) ضع ✓ أسفل المجموعتين المتكافئتين



ج أكمل النمط

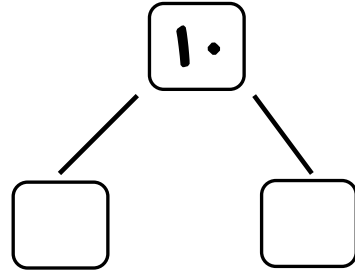
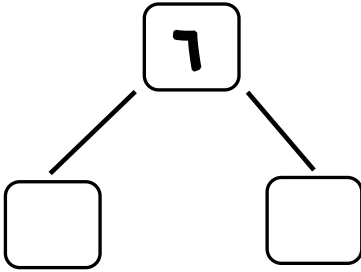
ج

٣



السؤال الثالث : استخدم ● ● لإيجاد مكونات العدد .

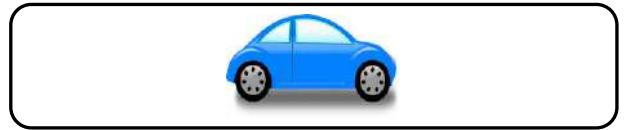
٢




السؤال الرابع : صل كل مجموعة برمز العدد المناسب

٥

٠




١



٣



٥



٩



انتهت الأسئلة