



وزارة التربية

الإدارة العامة لمنطقة حولي التعليمية

التوجيه الفني للرياضيات

الاسم : .....

الصف : .....

الدرجة : ٢٠/.....

الاختبار التحصيلي (١) التجريبي

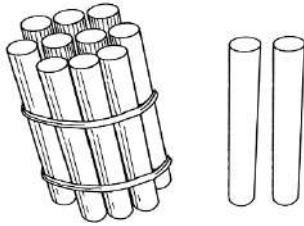
للسف الأول الابتدائي

للعام الدراسي ٢٠٢٢ / ٢٠٢٣

السؤال الأول :


(أ) اكتب رمز العدد الممثل

٤



٢

(ب) استكمل رسم العناصر بحسب العدد الموضح رمزه .

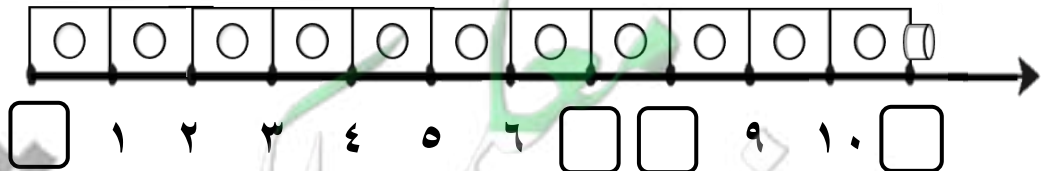


٣

٢

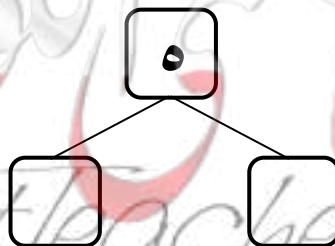
السؤال الثاني : أكمل .

(أ)



٣


(ب)



السؤال الثالث : قارن بين العددين بوضع < أو > أو = .

٤


٢



٦



٩




٩

السؤال الرابع:

(أ) لون ٢  .




١



(ب) حوِّط .

٤

- الطبق الذي يحتوي على ٣ برتقالات



- العلبة التي بها ١٠ ألوان

