

8

الصف الثامن



69398804

alnjah\_print

# اجتماعيات

## مذكرة تفاعلية



# تفوق مع مذكرات النجاح

طريقة سهلة ومميزة لعرض الدروس والتمارين

## اختبارات الكترونية

مجانا بدون اشتراك

لكل درس  
لكل وحدة  
لكامل الكتاب



69398804

www.kwaitteacher.com

📞 69398804



مذكرات النجاح  
طريقة قلبك

للنجاح

مفكرة المعلم الكويتي  
KuwaitTeacher.Com

## الوحدة الثالثة

### العالم الإسلامي تحديات وحلول

#### دروس الوحدة

- ❖ الدرس الأول: المشكلات البيئية في دول العالم الإسلامي.
- ❖ الدرس الثاني: التحديات الاقتصادية التي تواجه دول في العالم الإسلامي.
- ❖ الدرس الثالث: التحديات السياسية التي تواجه دول العالم الإسلامي.
- ❖ الدرس الرابع: المشكلات الثقافية والاجتماعية التي تواجه دول العالم

الإسلامي



## سؤال: عرف ما يلي:

١. التلوث البيئي: أي تغيير غير مرغوب به في الخواص الطبيعية أو الكيميائية أو البيولوجية للبيئة المحيطة (هواء - ماء - تربة) والذي قد يسبب ضرر بحياة الإنسان والكائنات الأخرى.
٢. التصحّر: وهو انجراف التربة على المدن والمناطق الزراعية.
٣. الاحتباس الحراري: ارتفاع درجات حرارة الأرض عن معدلها الطبيعي مما يؤدي إلى تغيرات مناخية.
٤. النفايات: هي أي مواد زائدة وغير مرغوبة من مخلفات البيئة أو الفضلات.
٥. التدوير: إعادة استخدام المخلفات لإنتاج منتجات أخرى أقل جودة من المنتج الأصلي.
٦. التنمية المستدامة: عبارة عن برامج تحسين نوعية الحياة، ولا تتحقق إلا بمشاركة جميع المواطنين من أجل تحسين نوعية الحياة وفق بيئة صحية آمنة ومستقرة ومتقدمة.

## سؤال: علل ما يلي:

١. يعتبر تلوث الهواء من أخطر أنواع التلوث البيئي.
٢. لأن الأكسجين في الهواء أحد أسباب الحياة فبدونه لا تتم الحياة على هذا الكوكب.
٣. يمثل التلوث الهوائي في ماليزيا خطراً على الشعب.
٤. نظراً لما يسمى بالتلوث الدخاني أو الضبابي.
٥. التلوث المائي من أخطر أشكال التلوث البيئي.
٦. لأن الماء هو المادة الضرورية لبقاء الحياة على سطح الأرض فأى خلل بهذا العنصر الأساسي سيؤدي إلى تدهور واختلال ببقية نظام الحياة والنظام البيئي.
٧. حدوث إعصار جونو في سواحل عمان عام ٢٠٠٧.
٨. نتيجة لظاهرة الاحتباس الحراري.
٩. حدوث ظاهرة الاحتباس الحراري.
١٠. نتيجة الزيادة المستمرة لغاز ثاني أكسيد الكربون في الهواء الجوي.
١١. زيادة كمية المخلفات الصناعية والزراعية والمنزلية والبنائية.
١٢. نتيجة لسرعة التقدم الصناعي والسلوك الاستهلاكي لدى الإنسان.

لطلب **أقوى** مذكرة  
شاملة - مختصرة - محلولة

مع ميزة الاختبار الإلكتروني  
لكل درس ووحدة



**69398804**

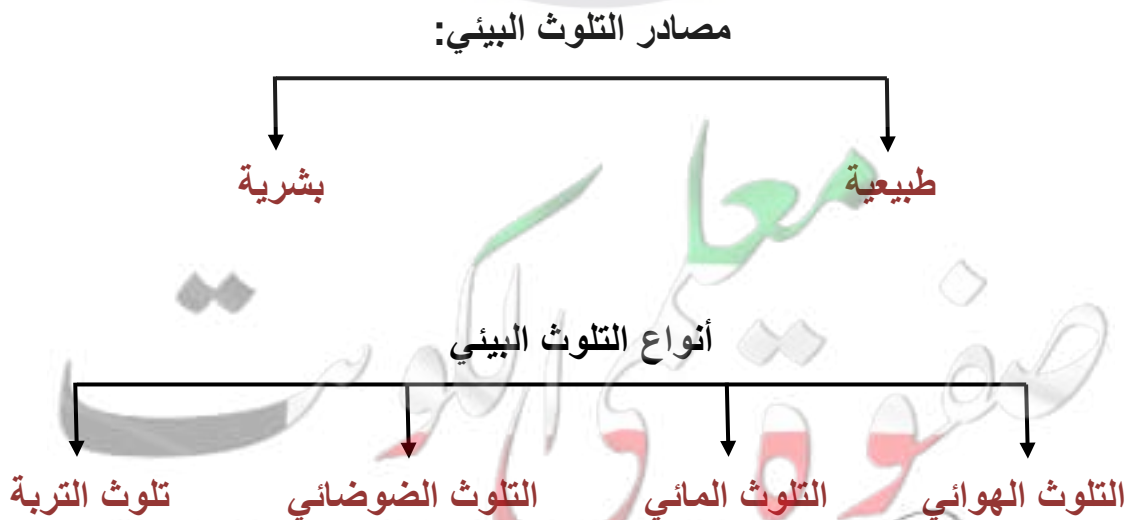
**اضغط هنا للطلب**

مذكرة  
مختصرة  
محلولة  
KuwaitTeacher.Com

## سؤال: أكمل العبارات التالية بما يناسبها:

١. ظهر الخطر البيئي في العالم الإسلامي مع بداية قيام الثورة الصناعية.
٢. ترجع مصادر التلوث البيئي إلى إما مصدر طبيعي أو مصدر بشري.
٣. العام الذي تم فيه إنشاء شرطة البيئة في دولة الكويت ٢٠١٥ م.
٤. أنواع التلوث البيئي هي التلوث الهوائي والتلوث المائي والتلوث الضوضائي وتلوث التربة.
٥. نسبة التلوث الهوائي في باكستان من عوادم السيارات ٤٠٪.
٦. تعرضت دولة الكويت للعدوان العراقي عام ١٩٩٠ م.
٧. العام الذي تحررت فيه دولة الكويت من العدوان العراقي ١٩٩١ م.
٨. تعرضت مياه الجون لضخ المجاري لأول مرة عام ٢٠٠١ م.
٩. العام الذي عانت فيه موريتانيا من التلوث المائي ٢٠١٧ م.
١٠. إحدى ملوثات البيئة عرفت أنها الإزعاج أو الضجيج وهي التلوث الضوضائي.
١١. المدينة التي تعتبر نموذجاً للتلوث الضوضائي في العالم الإسلامي هي القاهرة.
١٢. من عناصر البيئة الطبيعية وتعد المصدر الرئيسي لإنتاج الغذاء هي التربة.
١٣. انجراف التربة على المدن والمناطق الزراعية يسمى التصحّر.
١٤. عقد مؤتمر الأمم المتحدة للتصحّر عام ١٩٧٧ م.
١٥. الدولة الخليجية التي لا تعاني من مشكلة التصحر هي عمان.
١٦. الغاز المسبب الأول عن الاحتباس الحراري هو ثاني أكسيد الكربون.
١٧. مصر وجيبوتي ودول الخليج العربية عدداً نسبة التصحر فيها تصل إلى حوالي ٩٠٪.
١٨. ارتفاع درجات حرارة الأرض عن معدلها الطبيعي تسمى الاحتباس الحراري.
١٩. الإعصار الذي ضرب سواحل سلطنة عُمان الشرقية باتجاه سواحل الإمارات الشرقية وسواحل إيران الجنوبية الشرقية يسمى إعصار جونو أو غونو.
٢٠. حدث إعصار جونو نتيجة لظاهرة الاحتباس الحراري عام ٢٠٠٧ م.

## سؤال: أكمل المخطط السهمي التالي:





## سؤال: ضع خطأً تحت العبارات الصحيحة التالية بما يناسبها:

١. بلغت نسبة التلوث الهوائي في باكستان من عوادم السيارات. ( ٤٠٪ - ٥٠٪ - ٦٠٪ - ٧٠٪ )
٢. المدينة التي تعتبر نموذجاً للتلوث الضوضائي في العالم الإسلامي. (دمشق - القاهرة - الرياض - بغداد)

## سؤال: استنتج الرابط بين العناصر التالية:

- ( النفايات + الاستخدام المفرط للأسمدة + الحروب + الانفجارات النووية ) مصادر تلوث بشرية
- ( التلوث الهوائي + التلوث المائي + التلوث الضوضائي + تلوث التربة ) أنواع التلوث البيئي
- ( عمليات البناء والهدم + أصوات آلات الحفر + وسائل النقل ) أسباب التلوث الضوضائي

## سؤال: اكتب ما تعرفه عن:

١. الآثار السلبية المترتبة على التلوث الهوائي.
١. سبب رئيسي لأمراض القلب والرئة وضيق التنفس.
٢. اضطراب في الجهاز العصبي.
٣. تآكل وتلف المباني والمنشآت والآثار.
٢. الآثار السلبية للتلوث المائي.
١. هلاك الكائنات البحرية الحيوانية والنباتية.
٢. فقدان السواحل لقيمتها الاقتصادية والسياحية.
٣. التأثير على صحة الانسان لاعتماده على الغذاء البحري.

## سؤال: ما أسباب الاحتباس الحراري؟

الزيادة المستمرة لغاز ثاني الكربون في الهواء الجوي بسبب نشاطات الانسان الملوثة للبيئة.

## سؤال: ما نتائج الاحتباس الحراري؟

١. ارتفاع في درجات الحرارة.
٢. تغيير في المناخ.
٣. ذوبان الجليد في القطب الشمالي والجنوبي وغرق مناطق كثيرة من العالم.



## سؤال: قارن بين المشكلات البيئية التي أمامك من حيث الجدول التالي:

المقارنة	النفائات	تلوث التربة	التلوث الضوضائي
الأسباب	- سرعة التقدم الصناعي. - السلوك الاستهلاكي لدى الانسان أدى إلى زيادة كمية النفائات.	- الإفراط في استخدام المبيدات الحشرية. - المخلفات الصناعية والكيميائية والبشرية. - الأمطار الحمضية.	- وسائل النقل (سيارات - طائرات - قطارات). - عمليات الهدم والبناء وأصوات آلات الحفر.
النتائج	ضرر فادح أدى إلى تدمير البيئة.	- الإخلال بالتوازن البيئي التربة. - ضعف عمليات البناء الضوئي. - انحسار الغطاء النباتي.	- الضوضاء الشديدة تؤدي إلى ضرر خطير في الجهاز السمعي. - التوتر العصبي لدى الإنسان.

## سؤال: أكمل العبارات التالية بما يناسبها:



١- الشكل المقابل يمثل أحد الآثار التي تآكلت وأتلفت بسبب التلوث الهوائي.

٢- اذكر آثار أخرى لهذا التلوث:

أ. أمراض القلب والرئة وضيق التنفس.

ب. اضطراب في الجهاز العصبي.

## سؤال: أكمل العبارات التالية بما يناسبها:



أ. الشكل المقابل يمثل ظاهرة تسمى الاحتباس الحراري.

ب. الغاز الأول المسؤول عن الظاهرة هو ثاني أكسيد الكربون.

ج. ظهر نتيجة له إعصار يسمى جونو أو غونو.



موريتانيا عانت من التلوث المائي عام ٢٠١٧



معلمة صفوة الكويت  
KuwaitTeacher.Com



## سؤال: عرف ما يلي:

١. الانفجار السكاني: هو الزيادة الكبيرة في أعداد السكان.
٢. الفقر: الحالة الاقتصادية التي يفتقد فيها الفرد إلى الدخل الكافي للحصول على المستويات الدنيا من الغذاء والملبس والتعليم والرعاية الصحية.
٣. خط الفقر: هو أدنى مستوى من الدخل يحتاجه المرء أو الأسرة حتى يكون بالإمكان توفير مستوى معيشة ملائم في بلد ما.
٤. العولمة: هو نظام عالمي جديد يقوم على الإبداع العلمي والتطور التقني والتكنولوجي وثورة الاتصالات بحيث تزول الحدود الثقافية بين الشعوب بالعالم.
٥. التكامل الاقتصادي: عملية اقتصادية واجتماعية يتم بموجبها إزالة جميع الحواجز بين الوحدات المختلفة.
٦. بلدان نامية: هي الدول التي مازالت أقل تقدماً في ميادين الاقتصاد، والعلم والتكنولوجيا.
٧. الدخل القومي: مجموع الدخل المكتسب في بلد ما خلال فترة زمنية معينة، عادة ما تكون سنة واحدة.
٨. الميزان التجاري: الفرق بين قيمة الصادرات وقيمة الواردات بالدولة.

## سؤال: أكمل العبارات التالية بما يناسبها:

١. يبلغ عدد سكان الكويت ( ٤,٥٣٢,٠٤٨ ) نسمة.
٢. أعلى نسبة فقر في دول العالم الإسلامي لعام ٢٠١٥ هي بنغلادش.

## سؤال: علل ما يلي:

١. ظهور المشكلة السكانية في دول العالم الإسلامي.
- بسبب عدم التوازن بين عدد السكان والموارد والخدمات وفرص العمل وارتفاع المستوى المعيشي.

## سؤال: صحح ما تحته خط فيما يلي:

١. تبلغ نسبة السكان الذي يعيشون تحت خط الفقر في العالم الإسلامي ٣٧٪. ٣٨٪
٢. الدولة الإسلامية الأعلى في نسبة الفقر باكستان. بنغلاديش

اختبار إلكتروني

تدرب وتعلم



**سؤال:** عدد أسباب الفقر في الدول الإسلامية.

١. عدم توفر فرص العمل.
٢. ضعف اقتصاد الدولة.
٣. انتشار البطالة.
٤. تضخم أسعار السلع والخدمات.



مشكلة الفقر



شكل (٣٣) صورة توضح الانفجار السكاني في إحدى دول العالم الإسلامي



**سؤال:** عرف ما يلي:

١. الحدود: هي خطوط حُدَّتْ بواسطة الإنسان ورُسِمَتْ حتى تفصل بين سيادة دولة ودولة أخرى.
٢. الأقليات الإسلامية: هي مجموعة من المسلمين تعيش تحت سلطة دولة غير مسلمة في وسط أغلبية غير مسلمة.
٣. أقليات: هي مجموعة من سكان دولة أو إقليم أو قطر ما يختلفون عن غالبية سكان تلك الدولة بخاصية من الخصائص المتمثلة في العرق أو الثقافة أو الدين.

**سؤال:** علل ما يلي:

١. عقد مؤتمر عقير عام ١٩٩٢ م.
- بهدف إيجاد حل لمشاكل الحدوديين نجد والعراق من جهة والكويت والعراق ونجد من جهة أخرى.

**سؤال:** ما التحديات السياسية التي تواجه العالم الإسلامي؟

١. مشكلة الحدود السياسية.
٢. مشكلة الأقليات المسلمة.
٣. مشكلة الحروب والدمار.

**سؤال:** ما أسباب الاعتداء على مركز الصامتة؟

رفض الحكومة الكويتية الضغوط العراقية للحصول على منفذ بحري على الخليج العربي.

**سؤال:** ما موقف الملك عبد الله بن عبد العزيز تجاه قضية فلسطين؟

- ✓ اقترح إنشاء صندوق انتفاضة القدس وصندوق الأقصى في مؤتمر القمة العربية في القاهرة عام ٢٠٠٠ م.
- ✓ كان له موقف تاريخي في القمة العربية الاقتصادية والتنمية والاجتماعية في الكويت عام ٢٠٠٩ م.

## سؤال: أكمل العبارات التالية بما يناسبها:

١. تنقسم الحدود السياسية بين الدول إلى نوعين: حدود بحرية و حدود برية.
٢. العام الذي جاء فيه أول ترسيم الحدود بين الكويت والعراق ١٩١٣ م.
٣. الحاكم العراقي الذي ادعى أن الكويت تابعة لولاية البصرة هو عبد الكريم قاسم.
٤. هاجمت القوات العراقية مركز الصامطة الكويتي في عام ١٩٧٣ م.
٥. اجتاحت قوات النظام العراقي على دولة الكويت في تاريخ ٢ أغسطس عام ١٩٩٠ م.
٦. تم وانسحاب القوات العراقية بالقوة العسكرية من أراضي الكويت في ٢٦ فبراير ١٩٩١ م.
٧. أصدرت هيئة الأمم المتحدة عام ١٩٩١ م عن طريق مجلس الأمن قراراً يحمل رقم ٦٧٨.
٨. أصدر مجلس الأمن قرار رقم ٨٣٣ لترسيم الحدود بين الكويت والعراق عام ١٩٩٣ م.
٩. تم توقيع الاتفاقية بين الشيخ مبارك الصباح والحكومة البريطانية عام ١٨٩٩ م.
١٠. اعترفت العراق بترسيم الحدود بينها وبين الكويت بقرار ٨٣٣ عام ١٩٩٤ م.
١١. بدأت القضية الفلسطينية عقب الحرب العالمية الأولى.
١٢. توسع المحتل الصهيوني الإسرائيلي في أراضي فلسطين بعد عام ١٩٤٨ م.
١٣. احتل العدو الصهيوني من الأراضي الفلسطينية بعد حرب ١٩٨٤ م ٨٠ %.
١٤. أصدرت الجمعية العامة للأمم المتحدة قرارها رقم (١٨١) والذي يهدف إلى خطة لتقسيم فلسطين إلى قسمين عربي ويهودي في عام ١٩٤٧ م.
١٥. أطلق على مؤتمر القمة العربية في القاهرة عام ٢٠٠٠ م اسم قمة الأقصى.
١٦. عقدت قمة التضامن مع الشعب الفلسطيني في غزة في يناير ٢٠٠٩ م.
١٧. الملك الذي اقترح إنشاء صندوق انتفاضة القدس وصندوق الأقصى هو عبد الله بن عبد العزيز.
١٨. تتواجد الأقليات المسلمة في أركان و شينجيانغ اوريغور.
١٩. تقع منطقة أراكان في ميانمار.
٢٠. اندلعت حرب البوسنة والهرسك على يد القوات الصربية من عام ١٩٩٢ إلى عام ١٩٩٥ م.
٢١. اندلعت الحرب الأهلية في الصومال عام ١٩٩١ م.
٢٢. المعسكر الذي تحيي جمهورية البوسنة والهرسك من كل عام اغلاقه يسمى اومارسكا.
٢٣. بطلة من أبطال إطفاء حرائق النفط الناجمة عن العدو العراقي الغاشم تسمى سارة الأكبر.
٢٤. بلغ عدد الآبار المشتعلة في الكويت أثناء الغزو العراقي ٧٣٧ بئراً.
٢٥. أطفأت الآبار المشتعلة خلال ٢٤٠ يوماً.
٢٦. أطفأ آخر بئر نفطي في تاريخ ٦ نوفمبر عام ١٩٩١ م.
٢٧. أطفأت آبار النفط المشتعلة في عهد الشيخ جابر الأحمد الصباح.
٢٨. شنت قوات التحالف حرب «عاصفة الصحراء» في ١٧ يناير ١٩٩١ على قوات النظام العراقي البائد.
٢٩. أطلق على حرب تحرير دولة الكويت اسم عاصفة الصحراء.



## سؤال: كيف تكونت الأقليات المسلمة؟

١. اعتناق الإسلام.
٢. هجرة بعض المسلمين الى أرض غير مسلمة.

## سؤال: ما الحلول الإسلامية والدولية المقترحة للتحديات التي تواجه

### الأقليات الإسلامية؟

١. تفعيل الوجود الاسلامي بأن تكون لكل جالية مسلمة هيئة تتحدث باسمها.
٢. تفعيل المشاركات الاجتماعية والاقتصادية والسياسية للمسلمين في الغرب.
٣. الدور التثقيفي للمؤسسات الاسلامية.

## سؤال: ما الحلول الإسلامية والدولية المقترحة للتحديات التي تواجه الأقليات

### الإسلامية؟

١. تفعيل الوجود الاسلامي بان تكون لكل جالية مسلمة هيئة تتحدث باسمها.
٢. تفعيل المشاركات الاجتماعية والاقتصادية والسياسية للمسلمين في الغرب.
٣. الدور التثقيفي للمؤسسات الاسلامية.

## سؤال: أكمل العبارات التالية بما يناسبها:

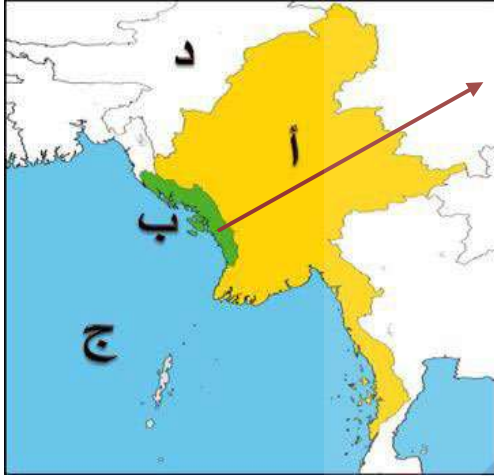


- ١- الصورة المقابلة تمثل شخصية ملك يسمى عبد الله بن عبد العزيز.
- ٢- شارك في مؤتمر القمة العربية في القاهرة عام ٢٠٠٠م.
- ٣- ما أسماء الصناديق التي اقترها لكي تخدم القضية الفلسطينية؟  
أ- صندوق انتفاضة القدس.  
ب- صندوق الأقصى.



**سؤال: أكمل العبارات التالية بما يناسبها:**

- ١- الشكل المقابل يمثل مؤتمر القمة العربية الاقتصادية والتنموية والاجتماعية.
- ٢- في أي دولة حدث؟ الكويت
- ٣- في أي عام؟ ٢٠٠٩م



**سؤال: أكمل العبارات التالية بما يناسبها:**

- ١- منطقة أركان يمثلها على الخريطة الحرف: ب
- ٢- الحرف ( د ) على الخريطة يمثل دولة تسمى الهند.
- ٣- الحرف ( ج ) على الخريطة يمثل مسطح مائي يسمى خليج البنغال.
- ٤- ارسم على الخريطة اتجاه دولة الصين بالنسبة لأركان باستخدام الشكل →



**سؤال: أكمل العبارات التالية بما يناسبها:**

- ١- إقليم شينجيانغ أوريغور يمثل على الخريطة الحرف ( أ ).
- ٢- بحر الصين الشرقي يمثل على الخريطة الحرف ( د ).






شكل رقم (٣٧) للملك عبدالله بن عبدالعزيز رحمه الله



شكل رقم (٣٦) مؤتمر القمة العربية الاقتصادية والتنمية والاجتماعية في الكويت ٢٠٠٩م



شكل رقم (٣٥) توضيح الحرب الجوية وفرحة التحرير



شكل رقم (٣٤) الشيخ حمد الأحمد الصباح في منصة الأمم المتحدة وسطاير الحكيم الذي حرك العالم تجاه قضية دولة الكويت.



شكل رقم (٤١) توضيح معاناة شعب البوسنة والهرسك



شكل رقم (٤٠) توضيح الانتفاضة الفلسطينية



شكل رقم (٤٧) توضيح فريق الأملاء كطاء بئله وجمهوره وعطاءه في إطفاء حرقق الأبار



شكل رقم (٥٠) توضيح الشيخ جابر الأحمد الصباح - رحمه لله - والشيخ سعد الحميد لله - رحمه لله - وألطة إحتفال بإطفاء آخر بئر



شكل رقم (٤٩) تكثف جهود التعرف الكريمة والأجنبية في إطفاء آبار النفط



شكل رقم (٤٢) دشر وآلاف لسكان جراء الحرب الأهلية



شكل رقم (٤٨) توضيح ولي العهد الفيخ سعد الحميد لله - رحمه لله - وزير النفط لذكور حمود الرقية مقفدين حقول الأبار النفطية



شكل رقم (٤٣) انفجار البوارج والأضرار



شكل رقم (٤٤) مساعدات دولة الكويت الإنسانية للصربان



### سؤال: أكمل العبارات التالية بما يناسبها:

١. أقل الدول الإسلامية في محو الأمية بين الدول الاعضاء حسب احصائية ٢٠١٥ م تسمى النيجر.
٢. أعلى الدول الإسلامية في محو الأمية بين الدول الاعضاء حسب احصائية ٢٠١٥ م تسمى كازاخستان.
٣. انتقلت نسب محو أمية الكبار في دول العالم الإسلامي خلال عامي ١٩٩٠م و ٢٠١٣ م من ٥٥ % إلى ٧٨ %.
٤. الدولة التي سجلت أعلى معدل في إمام البالغين بالقراءة والكتابة حسب إحصائيات اللجنة الاقتصادية الاجتماعية لمنظمة (الإسكوا) التابعة للأمم المتحدة لعام ٢٠١٥ م هي قطر.

### سؤال: عرف ما يلي:

الأمي: الإنسان الذي بلغ الثانية عشر من عمره، ولم يتعلم مبادئ القراءة والكتابة والحساب بلغة ما.

### سؤال: ما هي أسباب الإدمان المخدرات؟

١. ضعف الوازع الديني.
٢. ضعف الرقابة من الأسرة على الفرد.
٣. رفقاء السوء.
٤. التقليد الأعمى واستيراد قيم تتنافى مع الدين الإسلامي.
٥. انتشار التدخين بين المتعلمين في المدارس.
٦. قضاء أوقات الفراغ في أمور تافهة.

### سؤال: ما الآثار الناتجة عن إدمان المخدرات؟

آثار خطيرة على الانسان والمجتمع حيث تسيطر على المتعاطي حالة من الهلوسة سمعية وبصرية وعصبية زائدة وسلوك عدواني.

لطلب **أقوى** مذكرة  
شاملة - مختصرة - محلولة

مع ميزة الاختبار الإلكتروني  
لكل درس ووحدة




**69398804**

**اضغط هنا للطلب**

مذكرة  
مختصرة  
محلولة  
KuwaitTeacher.Com

امسح الباركود  
وتدرب على الاختبارات



اختبارات إلكترونية  
للوحة الثالثة



نموذج ٢



نموذج ١

## الوحدة الرابعة

منظمة التعاون الإسلامي ودور دولة الكويت في التعايش الإنساني

### دروس الوحدة

- ❖ الدرس الأول: منظمة التعاون الإسلامي والأجهزة التابعة لها.
- ❖ الدرس الثاني: دور المنظمات والمؤسسات الإسلامية في مواجهة التحديات التي تمر بالعالم الإسلامي.



### سؤال: صحح ما تحته خط في العبارات التالية:

١. تعرض المسجد الأقصى للاحتراق في عام ١٩٧٩ م.
٢. تقع كازاخستان في قارة أفريقيا.
٣. تقع البانيا في قارة آسيا.
٤. يبلغ عدد الدول الإسلامية المنظمة لمنظمة التعاون الإسلامي ٧٠ دولة.

١٩٦٩ م

آسيا

أوروبا

٥٧ دولة

### سؤال: أكمل العبارات التالية بما يناسبها:

١. الملك الذي دعا إلى إنشاء تجمع يضم الدول الإسلامية هو الملك فيصل بن عبدالعزيز آل سعود.
٢. عقد مؤتمر القمة العربية الثالثة في عام ١٩٦٥ م.
٣. أنشأت منظمة التعاون الإسلامي في ٢٥ / ٩ / ١٩٦٩ م بمدينة الرباط بالمغرب.
٤. أنشأت منظمة التعاون الإسلامي في مدينة الرباط بالمغرب.
٥. تضم منظمة التعاون الإسلامي في عضويتها ٥٧ دولة إسلامية.
٦. تغير مسمى منظمة التعاون الإسلامي إلى منظمة المؤتمر الإسلامي في عام ٢٠١١ م.

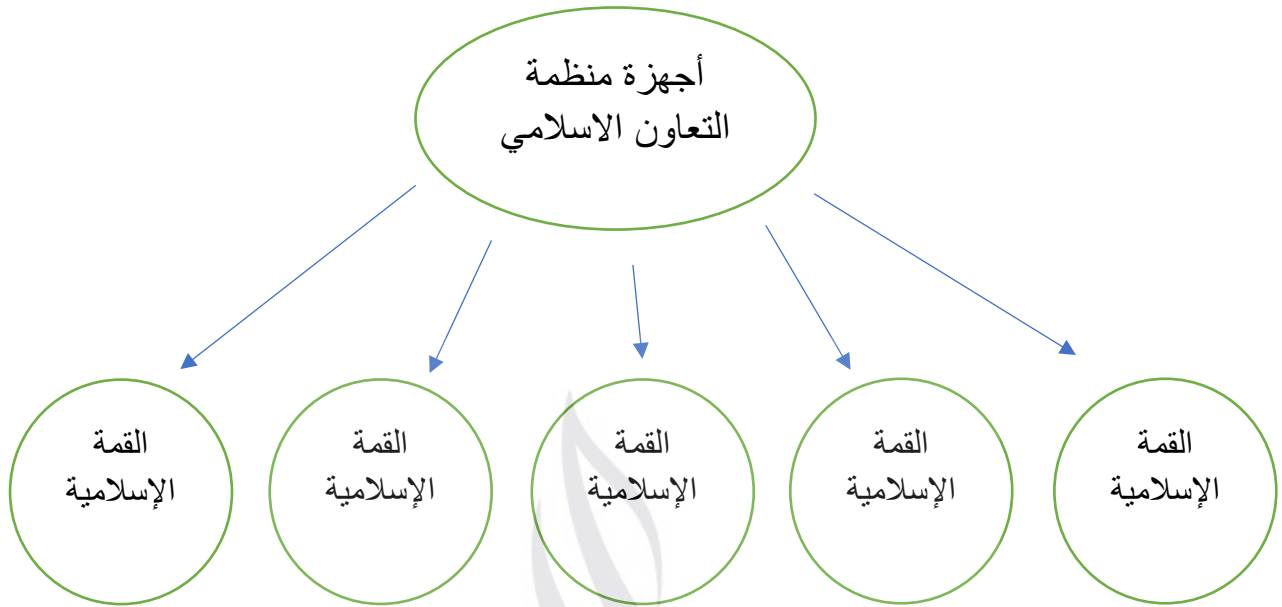
### سؤال: عرف ما يلي:

١. دولة إسلامية: هي التي يكون فيها نسبة المسلمين ٥٠ % أو أكثر من نسبة مجموع سكانها ويحكمها حاكم مسلم.
٢. منظمة التعاون الإسلامي: هي منظمة تضم في عضويتها ٥٧ دولة إسلامية مستقلة مقرها مدينة جدة بالمملكة العربية السعودية.
٣. القمة الإسلامية: هو مؤتمر ملوك وأمراء ورؤساء الدول والحكومات يعقد مرة كل ثلاث سنوات.
٤. الأمانة العامة: هي الهيئة التنفيذية للمنظمة والتي تقوم بمباشرة الشؤون الموكلة إليها من المؤتمر، يرأسها أمين عام لمدة سنتين ويجوز إعادة تعيينه لمدة سنتين أخرتين فقط.

### سؤال: اذكر مبادئ منظمة التعاون الإسلامي.

١. المساواة بين الدول الأعضاء.
٢. تسوية المنازعات بالطرق السلمية بين الدول الأعضاء.

**سؤال:** صمم خريطة ذهنية لأجهزة منظمة التعاون الاسلامي.



**سؤال:** ما التحديات السياسية التي تواجه العالم الإسلامي؟

١. مشكلة الحدود السياسية.
٢. مشكلة الأقليات المسلمة.
٣. مشكلة الحروب والدمار.

**سؤال:** ما أسباب الاعتداء على مركز الصامته؟

رفض الحكومة الكويتية الضغوط العراقية للحصول على منفذ بحري على الخليج العربي.

**سؤال:** ما موقف الملك عبد الله بن عبد العزيز تجاه قضية فلسطين؟

✓ اقترح إنشاء صندوق انتفاضة القدس وصندوق الاقصى في مؤتمر القمة العربية في القاهرة عام ٢٠٠٠ م.

✓ كان له موقف تاريخي في القمة العربية الاقتصادية والتنمية والاجتماعية في الكويت عام ٢٠٠٩ م.

**سؤال:** ما أهداف منظمة التعاون الإسلامي السياسية؟

١. تعزيز التضامن بين الدول الاعضاء.
٢. دعم السلام والأمن بين الدول الاسلامية.

## سؤال: أكمل الجدول التالي:

المؤتمر الاسلامي العام	الأول	الخامس	الثالث عشر
مقر الانعقاد	الرباط	دولة الكويت	إسطنبول
سبب الانعقاد	إحراق المحتل الصهيوني المسجد الأقصى	تلبية لدعوة أمير الكويت الراحل الشيخ جابر الأحمد الصباح	التأكيد على مركزية فلسطين والقدس الشريف بالنسبة للأمة الإسلامية
أهم القرارات	- رفض أي حل للقضية الفلسطينية لا يكفل لمدينة القدس وضعها السابق لأحداث يونيو ١٩٦٧ م - تمسك المسلمين بالقدس - بذل الجهود المشتركة لتحقيق الانسحاب السريع للقوات الإسرائيلية من كافة الأراضي التي احتلتها بعد حرب يونيو ١٩٦٧ م	- دعم القضية الفلسطينية - الحرص على استقلال لبنان ووحدة أراضيه - الوقف الفوري للمعاملات الحربية بين العراق وإيران - الموافقة على مشروع النظام الأساسي لمحكمة العدل الإسلامية الدولية	- دعم الشعب الفلسطيني في تحقيق مصيره وإنشاء الدولة الفلسطينية المستقلة - دعم لبنان في استكمال تحرير أراضيه من الاحتلال الاسرائيلي - التأكيد على أن تكون علاقات التعاون بين الدول الإسلامية والجمهورية الإسلامية الإيرانية قائمة على مبدأ حسن الجوار

## سؤال: ما أهداف منظمة التعاون الإسلامي الاقتصادية؟

١. تعزيز التعاون الاقتصادي بين الأعضاء.
٢. بذل الجهود لتحقيق التنمية البشرية المستدامة.

## سؤال: ما أهداف منظمة التعاون الإسلامية الاجتماعية؟

١. الرقى بالعلوم والتكنولوجيا وتطويرها والتعاون الثقافي بين الدول الأعضاء.
٢. تعزيز دور الأسرة وحماية حقوق الإنسان.
٣. مكافحة التفرفة العنصرية.





## سؤال: ماهي مبادئ منظمة التعاون الإسلامي؟

- المساواة بين الدول الأعضاء.
- تسوية المنازعات بالطرق السلمية بين الدول الأعضاء.
- احترام حق تقرير المصير.



## سؤال: أكمل العبارات التالية بما يناسبها:

- الشعار المقابل يمثل مجمع الفقه الإسلامي.
- تم إنشاؤه في عام ١٩٨٣م.
- يقع مقره في مدينة جدة.

## سؤال: أكمل العبارات التالية بما يناسبها:

- ما اسم الشخصية في الصورة المقابلة؟  
الشيخ جابر الأحمد الجابر الصباح / أمير الكويت الراحل
- في أي عام عقد المؤتمر الإسلامي الخامس بدولة الكويت؟  
في عام ١٩٨٤م
- اذكر اثنين من قرارات المؤتمر الإسلامي الخامس.  
أ- دعم القضية الفلسطينية.  
ب- الحرص على استقلال لبنان ووحدة أراضيه ورفض الاحتلال الإسرائيلي للجزء الجنوبي منه.





## سؤال: عرف ما يلي:

١. أينا: وكالة الأنباء الإسلامية الدولية تأسست عام ١٩٧٢م مقرها مدينة جدة.
٢. ايسيسكو: المنظمة الإسلامية للتربية والعلوم والثقافة تأسست عام ١٩٨٢م مقرها مدينة الرباط.

## سؤال: اكمل الجدول:

المنظمات والمؤسسات الإسلامية	وكالة إينا	البنك الإسلامي للتنمية	منظمة ايسيسكو	مجمع الفقه الإسلامي	اللجنة الإسلامية للهلال الدولي
العام	١٩٧٢	١٩٧٥	١٩٨٢	١٩٨٣	١٩٨٣
المقر	جدة	جدة	الرباط	جدة	بنغازي
الأهداف	- إقامة علاقات وثيقة بين الدول الأعضاء وتميئتها في ميدان الإعلام - تعريف الرأي العالمي بمشكلات الشعوب الإسلامية	- دعم التنمية الاقتصادية والتقدم الاجتماعي للشعوب الإسلامية - تنمية التجارة الخارجية للدول الأعضاء	- تقوية التعاون وتشجيعه بين الدول الاعضاء في مجالات التربية والعلوم والثقافة والاتصال - العمل على التكامل بين المنظومات التربوية في الدول الأعضاء	- تحقيق الوحدة الإسلامية نظرياً وعلمياً وفقاً للشرعية الإسلامية - تقوية ارتباط الامة الإسلامية بعقيدها	- تقديم الإسعافات الطبية والإنسانية في الكوارث الطبيعية - مساعدة المنظمات الدولية والمحلية المهتمة بخدمة الانسانية

## سؤال: صحح ما تحته خط في العبارات التالية:

بنغازي

إينا

١. يقع مقر اللجنة الإسلامية للهلال الدولي في مدينة طرابلس.

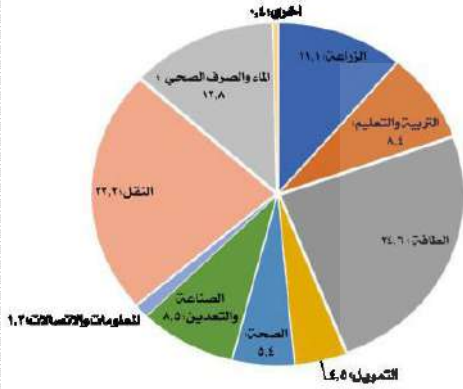
٢. يطلق على وكالة الأنباء الإسلامية الدولية اسم ايسيسكو.



**سؤال:** أكمل العبارات التالية بما يناسبها:

- الشكل المقابل يمثل البنك الإسلامي للتنمية.
- اذكر اثنين من أهدافها:

أ. دعم التنمية الاقتصادية والتقدم الاجتماعي للشعوب الإسلامية.  
ب. تنمية التجارة الخارجية للدول الأعضاء والتبادل التجاري.



**سؤال:** أكمل العبارات التالية بما يناسبها:

- أعلى نسبة دعم قدمها البنك الإسلامي للتنمية في الدول الإسلامية في مجال الطاقة.
- كم تبلغ نسبة النقل؟ 23,2%

امسح الباركود  
وتدرب على الاختبارات



اختبارات إلكترونية  
للوحة الثالثة



نموذج ٢



نموذج ١

## الوحدة الخامسة

دور دولة الكويت في التعايش الإنساني

### دروس الوحدة

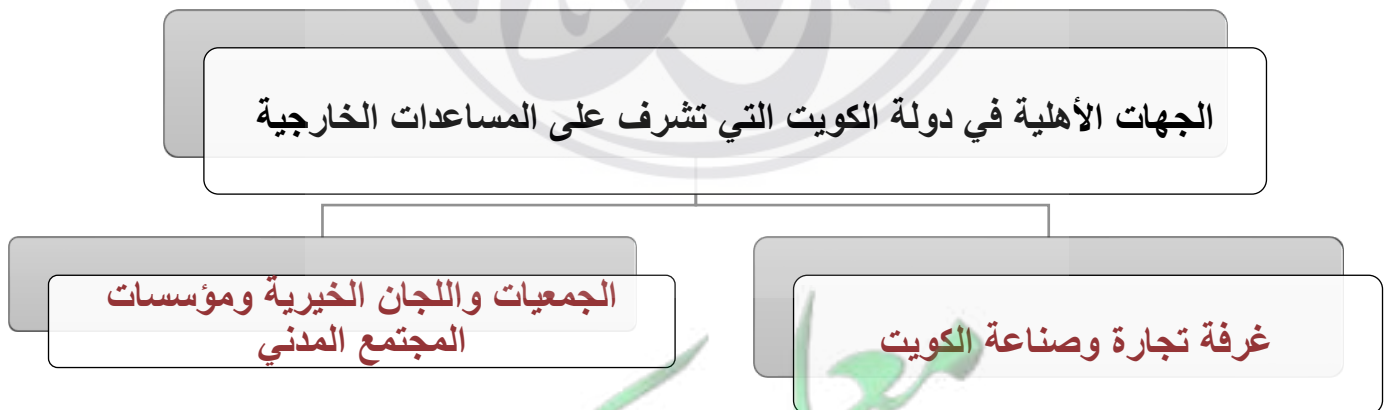
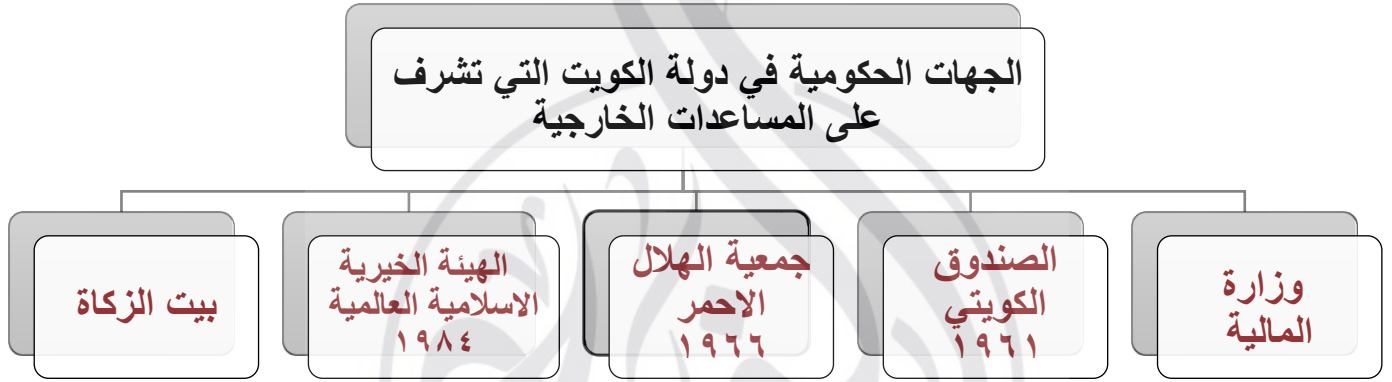
- ❖ الدرس الأول: التنوع اللغوي والتعايش الحضاري.
- ❖ الدرس الثاني: دور دولة الكويت في مساعدة دول العالم الإسلامي.



## سؤال: أكمل العبارات التالية بما يناسبها:

١. تبلغ نسبة المتحدثين باللغة العربية في العالم الإسلامي حوالي ٢٠-٣٠ %.
٢. اللغات واسعة الانتشار في العالم الإسلامي تزيد عن ٢٠ لغة أصلية.
٣. صاحب فكرة إنشاء الصندوق الكويتي للتنمية الشيخ جابر الأحمد الجابر الصباح.
٤. حاكم الكويت الذي تم في عهده 'إنشاء الصندوق الكويتي للتنمية الشيخ عبدالله السالم.

## سؤال: أكمل المخططات السهمية التالية:





**سؤال:** علل إنشاء الصندوق الكويتي للتنمية الاقتصادية.

١. تقديم القروض الميسرة للدول المحتاجة.
٢. تقديم المنح، على سبيل المثال المعونات الفنية.
٣. الإسهام في برامج التنمية.

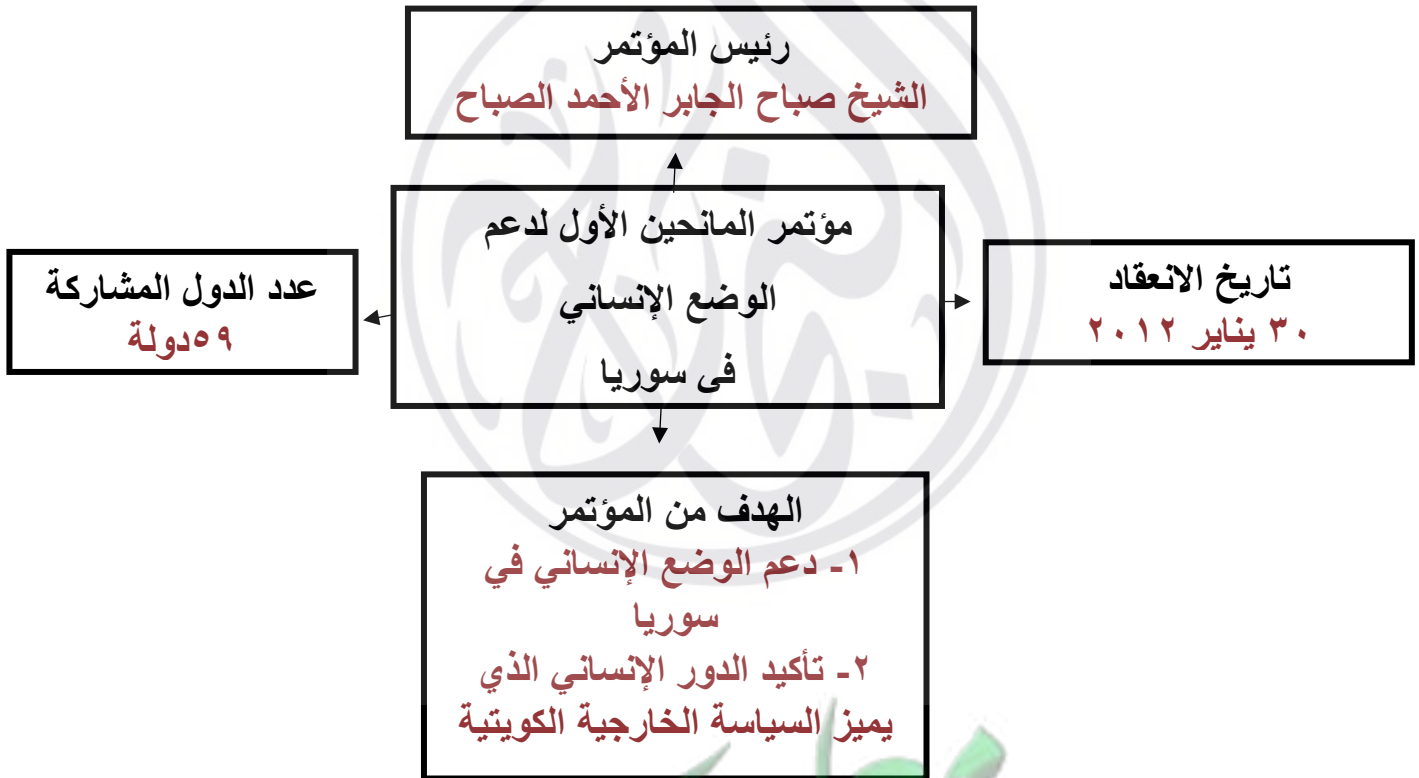
**سؤال:** صل من العمود ( أ ) ما يناسبها من العمود ( ب ) بوضع الرقم المناسب:

سنة الإنشاء ( ب )	الرقم المناسب	( أ ) المنظمات والهيئات الخيرية في دولة الكويت	
١٩٨٤م	٢	بيت الزكاة	١
١٩٦٦م	٣	الهيئة الإسلامية الخيرية	٢
١٩٦١م	٤	جمعية الهلال الأحمر الكويتي	٣
١٩٨٢م	١	الصندوق الكويتي للتنمية	٤
١٩٨٧م			

**سؤال:** قارن بين الجمعيات والهيئات الخيرية في دولة الكويت من خلال الجدول التالي:

وجه المقارنة	هيئة حكومية مستقلة	الهيئة الإسلامية الخيرية العالمية
سنة التأسيس	١٩٨٢م	١٩٨٤م
الأهداف	١- إحياء ركن من أركان الإسلام وتيسير أدائه. ٢- جمع وتوزيع الزكاة بأفضل الطرق المشروعة.	تقديم الخدمات في جميع أنحاء العالم دون تمييز أو تعصب

**سؤال:** أكمل الشكل التالي بأحداث مؤتمر المانحين الأول:



## سؤال: أكمل العبارات التالية بما يناسبها:




- ١- الشعار المقابل يمثل؟ الصندوق الكويتي للتنمية
- ٢- متى تم تأسيسه؟ ١٩٦١م
- ٣- صاحب الفكرة: الشيخ جابر الأحمد الصباح
- ٤- اكتب اثنين من أهداف الصندوق.  
أ- تقديم القروض الميسرة للدول المتاجة.  
ب- تقديم المنح.



## سؤال: أكمل العبارات التالية بما يناسبها:

- ١- ما اسم الشخصية في الصورة المقابلة؟ الشيخ صباح الأحمد الصباح
- ٢- بماذا لقب؟ قائد العمل الإنساني
- ٣- ما هو تاريخ حصوله على هذا اللقب؟ ٢٠١٤/٩/٩ م

امسح الباركود  
وتدرب على الاختبارات



اختبارات إلكترونية  
للوحة الثالثة



نموذج ٢



نموذج ١



لطلب **أقوى** مذكرة  
شاملة - مختصرة - محلولة

مع ميزة الاختبار الإلكتروني  
لكل درس ووحدة



**69398804**

**اضغط هنا للطلب**

مذكرة  
مختصرة  
محلولة  
KuwaitTeacher.Com