

1A



العلوم

الصف الأول الابتدائي

الفترة الدراسية الأولى



4

Kuwaitteacher.com

مذكرات
المرشد الشامل
خير رفيق وأوفى صديق للطالب

منذ 1975



نماذج
اختبارات وحلولها

حلول أسئلة
الكتاب المدرسي

تلخيص الدروس

مراجعات نهائية



توصيل للمنازل

55194267

اطلبها الآن

Kuwaitteacher.Com

لائحة الكتب

الصف الثالث الإبتدائي	#	الصف الثاني الإبتدائي	#	الصف الأول الإبتدائي	#
عربي	1	عربي	1	عربي	1
قرآن إسلامية	2	قرآن إسلامية	2	قرآن إسلامية	2
انجليزي	3	انجليزي	3	انجليزي	3
علوم	4	علوم	4	علوم	4
رياضيات	5	رياضيات	5	رياضيات	5
الاختبارات غير المحلولة	6	الاختبارات غير المحلولة	6	الاختبارات غير المحلولة	6
الصف السادس المتوسط	#	الصف الخامس الإبتدائي	#	الصف الرابع الإبتدائي	#
عربي	1	عربي	1	عربي	1
تربية إسلامية	2	تربية إسلامية	2	تربية إسلامية	2
انجليزي	3	انجليزي	3	انجليزي	3
علوم	4	علوم	4	علوم	4
رياضيات	5	رياضيات طالب	5	رياضيات	5
اجتماعيات	6	بلادي الكويت	6	بلادي الكويت	6
الاختبارات غير المحلولة	7	الاختبارات غير المحلولة	7	الاختبارات غير المحلولة	7
الامتحانات	8	الامتحانات	8		
الصف التاسع المتوسط	#	الصف الثامن المتوسط	#	الصف السابع المتوسط	#
عربي	1	عربي	1	عربي	1
تربية إسلامية	2	تربية إسلامية	2	تربية إسلامية	2
انجليزي	3	انجليزي	3	انجليزي	3
علوم	4	علوم	4	علوم	4
رياضيات	5	رياضيات	5	رياضيات	5
اجتماعيات	6	اجتماعيات	6	اجتماعيات	6
الاختبارات غير المحلولة	7	الاختبارات غير المحلولة	7	الاختبارات غير المحلولة	7
الامتحانات	8	الامتحانات	8	الامتحانات	8
الصف الثاني عشر الثانوي	#	الصف الحادي عشر الثانوي	#	الصف العاشر الثانوي	#
عربي (علمي/أدبي)	1	عربي (علمي/أدبي)	1	عربي	1
إسلامية (علمي/أدبي)	2	إسلامية (علمي/أدبي)	2	إسلامية	2
انجليزي (علمي/أدبي)	3	انجليزي (علمي/أدبي)	3	اجتماعيات	3
فرنسي (أدبي)	4	فرنسي (أدبي)	4	انجليزي	4
رياضيات طالب (علمي)	5	رياضيات طالب (علمي)	5	رياضيات طالب	5
رياضيات تمارين (علمي)	6	رياضيات تمارين (علمي)	6	رياضيات تمارين	6
رياضيات طالب (أدبي)	7	رياضيات طالب وتمارين (أدبي)	7	أحياء	7
رياضيات تمارين (أدبي)	8	أحياء (علمي)	8	فيزياء	8
أحياء (علمي)	9	فيزياء (علمي)	9	كيمياء	9
فيزياء (علمي)	10	كيمياء (علمي)	10	الامتحانات	10
كيمياء (علمي)	11	جيولوجيا (علمي)	11	الاختبارات غير المحلولة	11
تاريخ (أدبي)	12	جغرافيا وإقتصاد (أدبي)	12		
فلسفة (أدبي)	13	تاريخ (أدبي)	13		
جغرافيا (أدبي)	14	علم النفس و الاجتماع (أدبي)	14		
الامتحانات (علمي/أدبي)	15	الامتحانات (علمي/أدبي)	15		
الدستور وحقوق الإنسان	16	الاختبارات غير المحلولة	16		
الاختبارات غير المحلولة	17				

مذكرات

المرشد الشامل



الدراسة الشاملة مع المرشد الشامل

- سؤال وجواب
- حل كتاب الطالب
- تلخيص الدروس

للاستفسار والشكاوى والطلبات



الموقع



واتساب



فيس بوك



انستجرام

بسم الله الرحمن الرحيم

عزيزي الطالب..

عزيزتي الطالبة..

يسعدنا أن نقدم لكم مذكرات المرشد المثالي لكي يساعدكم على النجاح والتفوق
ولكي تتمكن من الاستفادة من هذه المذكرات يجب عليك إتباع الآتي:

✓ مذاكرة درسك المشروح من المعلم من كتابك المدرسي ثم افتح المرشد
المثالي وراجع الشرح وأبدأ بحل أسئلة ومسائل الفصل الذي انتهيت من مراجعته. أن كان
حلك صحيحاً فقد حققت الهدف وأن كانت إجابتك نصفها صحيح فأنت تحتاج إلى مراجعة
الدرس أو الوحدة أكثر دقة وتركيزاً.

✓ هذه المذكرات تساعدك في فهم واستيعاب ومراجعة المقرر في كتابك
المدرسي وتعلمك الطريقة الصحيحة لحل أي سؤال أو مسألة. هذه المذكرات تحتوي
على جميع أنواع الأسئلة والمسائل التي قد ترد في اختبارات الفصل الدراسي والامتحانات
وإجاباتها النموذجية وستجد فيها أن شاء الله خير معين في الإجابة عن كل تساؤل.

✓ تأكد دائماً من حصولك على النسخة الأصلية التي تحمل علامة المرشد التجارية
على الغلاف الخارجي.

✓ هذه المذكرات متوفرة في مكتبات الجمعيات التعاونية في جميع مناطق دولة
الكويت وبعض المكتبات التجارية.

☎ للطلب والاستفسار: 00194267

🌐 الموقع الإلكتروني: www.al-morshid.net

جميع حقوق الطبع محفوظة
لشركة الواضح الدولية للمكتبات



Kuwaitteacher.Com

خير رفيق للطلاب منذ عام 1975

يساعدك في فهم وإستيعاب المقرر

مذكرات

المرشد الشمس

إستخدام الفهرس هو
أفضل وسيلة للبحث
عن الدروس أو الأقسام
المهمة بالمذكرة

جميع مذكرات
المرشد بها فهرس



تعرف على طريقة
الحل المثالية
حل أسئلة وتمارين وكراسة
التطبيق

زيارة موقع المرشد
للحصول على توزيع
المنهج/ الثروة اللغوية/
إضافات أخرى للمادة

لا تترددوا بالتواصل
معنا إذا كنتم بحاجة
للمساعدة



فهرس المحتويات

- ٩ درس / ما أجزاء أجسامنا ؟
- ١٠ درس / ما حواسنا؟
- ١١ درس / ما خصائص الإنسان ؟
- ١٢ درس / كيف نحافظ على أعضاء الحس؟
- ١٤ درس / ماذا أرى وأسمع ؟
- ١٥ درس / ماذا أشم وأتذوق ؟
- ١٦ درس / ما ملمس الأشياء ؟
- ١٧ درس / ما الذى أستطيع أن أكله ؟
- ١٨ درس / أنا أنمو.....
- ١٩ درس / مراحل النمو.....
- ٢٠ درس / ما حالات المادة الثلاث ؟
- ٢١ الدرس / الماء والجليد (A)
- ٢٢ درس / الماء والجليد (B)
- ٢٣ درس : الماء والجليد وبخار الماء.....
- ٢٤ درس / ما الطرق الآمنة للتعامل مع الماء ؟
- ٢٥ درس / ما الطرق الآمنة للتعامل مع بخار الماء؟
- ٢٦ درس / ما الخصائص الخاصة بنا ؟
- ٢٧ درس / ما الخصائص الخاصة بنا ؟
- ٢٨ درس / ما حالات المادة؟
- ٢٩ درس / كيف تختار غذائك المناسب؟



٣٣

اختبارات قصيرة

٤١

تشجيرات



روابط QR فيديوهات الدروس

	درس : أنا أنمو - مراحل النمو
	درس : ما حالات المادة الثلاث ؟
	درس : الماء والجليد A, B
	درس : الماء والجليد وبخار الماء
	درس : ما الطرق الآمنة للتعامل مع الماء ؟ ما الطرق الآمنة للتعامل مع بخار الماء ؟

	درس : ما أجزاء أجسامنا ؟ - ما حواسنا ؟
	درس : ما خصائص الإنسان ؟ - كيف نحافظ على أعضاء الحس ؟
	درس : ما الطرق المقبولة اجتماعياً للسلوك والأكل والشرب ؟
	درس : ماذا أرى وأسمع ؟
	درس : ماذا أشم وأذوق ؟
	درس : ما ملمس الأشياء ؟
	درس : ما الذى أستطيع أن أكله ؟






رابط QR ليفديو الدرس



درس / ما أجزاء أجسامنا ؟

حوظ أجزاء الجسم :



لون أجزاء جسم الإنسان :



اختر الإجابة الصحيحة بوضع علامة ✓ :

أ) جزء الجسم المناسب للعب الـ هو 



درس / ما حواسنا؟



رابط QR لفيديو الدرس



مل كل حاسة بالعضو المناسب لها :




حوط ما يناسب كل حاسة :



www.kuwaitteacher.com

KuwaitTeacher.Com



درس / ما خصائص الإنسان ؟




رابط QR ليفديو الدرس



ضع علامة ✓ أمام الكائنات الحية :



مل الصورة بحسب المناسب لها :



درس / كيف نحافظ على أعضاء الحس ؟



رابط QR ليفديو الدرس



ضع علامة ✓ أمام التصرفات الصحيحة وعلامة × أمام التصرفات الخاطئة :




كيفية المحافظة على أعضاء الحس

KuwaitTeacher.Com



المستفيدون من التكنولوجيا
والاعتماد




درس / ما الطرق المقبولة اجتماعيًا للسلوك والأكل والشرب ؟


لون الصورة التي تعبر عن السلوك الصحيح :



رابط QR ليفديو الدرس



مل السلوك الصحيح 😊 والسلوك الخاطئ 😞 :



درس / ماذا أرى وأسمع ؟



رابط QR لفديو الدرس

مل الحاسة المناسبة لكل صورة من الصور التي أمامك :




عَبِّرْ عَنِ الصُّورَةِ بِاسْتِخْدَامِ الرَّجْهِ الْمُنَاسِبِ (😊 ، 😞) .



المشيد والمرشد
والعالمات

KuwaitTeacher.Com




درس / ماذا أشم وأتذوق ؟




رابط QR ليفديو الدرس

حل الصور التي أمامك بحسب الحاسة : « حاسة الشم – حاسة التذوق »



عَبِّرْ عَنِ الصُّوَرِ بِاسْتِخْدَامِ الْوَجْهِ الْمُنَاسِبِ (😊 ، 😞) .



درس / ما ملمس الأشياء ؟



رابط QR ليفديو الدرس

حوظ الأشياء الباردة والساخنة :



عَبِّرْ عَنِ الصُّوَرِ بِاسْتِخْدَامِ الْوَجْهِ الْمُنَاسِبِ (😊 ، 😞) .




ضع علامة ✓ أمام الأشياء التي ملمسها « طرى - قاس - ناعم - خشن »



KuwaitTeacher.Com



المستشفى والتعليم



درس / ما الذى أستطيع أن آكله ؟



رابط QR ليفديو الدرس



ضع علامة ✓ أمام الطعام الصالح وعلامة × أمام الطعام الفاسد :



والطعام الفاسد



صل الطعام السليم



لون الطعام السليم :




درس / أنا أنمو




رابط QR ليفديو الدرس


ضع علامة ✓ أمام مراحل قياس الوزن والطول الصحيح :



عَبِّرْ عَنِ الصُّورِ بِاسْتِخْدَامِ الْوَجْهِ الْمُنَاسِبِ (😊، ☹️).



قفوة في الكوشت
KuwaitTeacher.Com




المستشفى والتعليم
والاعلام



رابط QR ليفيدو الدرس

درس / مراحل النمو



حوظ الملابس المناسبة للطفل :



درس / ما حالات المادة الثلاث ؟




رابط QR لفيديو الدرس

حل المواد حسب حالتها :



اختر المادة المناسبة.



الدرس / الماء والجليد (A)



رابط QR لفديو الدرس




ضع O حول الطرق المناسبة لتحويل الماء إلى ثلج :



عَبِّرْ عَنِ الصُّورَةِ بِاسْتِخْدَامِ الْوَجْهِ الْمُنَاسِبِ (😊، 😞).



معلمة
طفوفة الكويت
www.al-morshid.net ©55194267
Kw@itteacher.Com





رابط QR لفيديو الدرس



درس/ الماء والجليد (B)

ضع علامة ✓ أمام الطريقة الصحيحة :


كَيْفَ يُمَكِّنُ إِخْرَاجَ قِطْعِ الْفَاكِهَةِ مِنْ قِطْعِ الثَّلْجِ؟



ضَعْ (●) حَوْلَ الطَّرِيقِ الْمُنَاسِبَةِ لِتَحْوِيلِ قِطْعَةِ الثَّلْجِ إِلَى مَاءٍ سَائِلٍ.



KuwaitTeacher.Com



المستشار والمعلمين

درس : الماء والجليد وبخار الماء





رابط QR ليفديو الدرس

هل ما يحدث للماء عند تعرضه للحرارة :



ضع (●) حَوْلَ الطَّرِيقِ الْمُنَاسِبَةِ لِتَحْوِيلِ الْمَاءِ السَّائِلِ إِلَى بُخَارِ مَاءٍ.





درس / ما الطرق الآمنة للتعامل مع الماء ؟



رابط QR لفديو الدرس


ضع علامة ✓ أمام الممارسات الآمنة للماء وعلامة (x) أمام الممارسات غير الآمنة للماء :



مفكرة الكويت
KuwaitTeacher.Com



المشرفون والمعلمون




درس / ما الطرق الآمنة للتعامل مع بخار الماء؟




رابط QR ليفديو الدرس

حل الأشياء بالصورة المناسبة لها :



رَتِّبْ أَحْدَاثَ الْقِصَّةِ مُسْتَعِدِّمًا الْأَرْقَامَ (1 إلى 5).




درس/ ما الخصائص الخاصة بنا ؟

ضع علامة ✓ أمام الأطعمة الصحية للجسم :



لون الأطعمة الصحية :



درس/ ما الخصائص الخاصة بنا ؟

رتب أحداث القصة مستخدماً الأرقام (1 إلى 6).



اكتب الكلمة ثم صلها بالصورة المناسبة لها :

رأس

نم

ذراع

رجل

أنف

عين



درس/ ما حالات المادة ؟

مل الصورة بما يناسبها (الحالة الصلبة - الحالة السائلة - الحالة الغازية) ثم لونها :



رتب أحداث القصة مستخدماً الأرقام (1 إلى 4).




عبّر عن الصور باستخدام الوجه المناسب (😊، 😞).



درس / كيف تختار غذائك المناسب ؟

حل الطعام الذي أمامك بالكلمة المناسبة (صالح - فاسد) :

صالح



فاسد

عَبَّرْ عَنِ الصُّوَرِ بِاسْتِخْدَامِ الْوَجْهِ الْمُنَاسِبِ (😊 ، 😞).



مراجعة عامة

نموذج امتحان (١)


ضع علامة ✓ أمام الطعام الصالح وعلامة × أمام الطعام الفاسد :




حوظ الأشياء الباردة والساخنة :




اختر الإجابة الصحيحة بوضع علامة ✓:

(أ) جزء الجسم المناسب للعب الـ هو 



(أ) جزء الجسم المناسب للعب الـ هو 



نموذج (٢)


اختر المادّة المُناسبة.



ضع علامة ✓ أمام مراحل قياس الوزن والطول الصحيح :




مل ما يحدث للماء عند تعرضه للحرارة :






معاكم في الكويت
طفرة
KuwaitTeacher.Com



اختبارات قصيرة


المثل

معكم الكوئيت
مفتوحة
KuwaitTeacher.Com





معاينة
مفتوحة
KuwaitTeacher.Com



اختبار مادة العلوم الصف الأول

الفصل الدراسي الأول

١٠
٤

السؤال الأول : ضع علامة (✓) للإجابة الصحيحة و خطأ للإجابة (X) :


- ١- العين تساعدك على سماع صوت الجرس ()
 ٢- الإنسان لديه أربع حواس ()

السؤال الثاني : اختر الإجابة الصحيحة بوضع علامة في المربع

١- العضو الذي يساعدنا على تذوق الطعام هو




٢- حدد الساخن



السؤال الثالث : طابق من المجموعة (أ) بما يناسبها من المجموعة (ب)

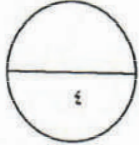
المجموعة (ب)	المجموعة (أ)
	استخدم للمحافظة على نظافة اليدين استخدم لتناول الطعام

٢



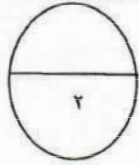
اختبار مادة العلوم الصف الأول الفصل الدراسي الأول

السؤال الأول: ضع علامة () للعبارة الصحيحة و علامة (x) للعبارة خاطئة في كل مما يأتي:



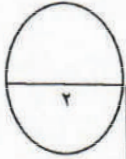
()
()

- ١- الانسان كانن حي يكبر و ينمو
٢- الطعام الغير مكشوف مضر لصحتنا



السؤال الثاني: حوط الأجابة الصحيحة فيما يلي:

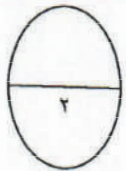
- ١- من الأكل المضر للصحة:



السؤال الثالث: صل الملابس بما يناسبها من الصور المقابلة فيما يلي:

مجموعة (ب)

مجموعة (ا)



السؤال الرابع: أنا ألون ملابس الولد فيما يلي:



قفوة كى الكومت
KuwaitTeacher.Com

اختبار قصير 1

حوظ الأشياء الصلبة:-



حوظ الأشياء السائلة:-



حوظ الأشياء الغازية:-

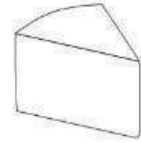




اختبار قصير 2

السؤال الأول: ظللي دائرة الملابس المناسبة لهذا الولد :



السؤال الثاني: لوني الأطعمة غير الصالحة للأكل :



السؤال الثالث: رتبي مراحل نمو الإنسان .



()

()


()

اختبار قصير 3

حوظ المادة التي لا تنتمي إلى كل مجموعة




معلمة
طفوفة في الكويت
www.al-morshid.net ©55194267
Kwteacher.Com





معاينة
مفتوحة
الكويت
KuwaitTeacher.Com




نشجيرات

الشا من


معا في الكويت
طفرة في التعليم

www.al-morshid.net ©55194267


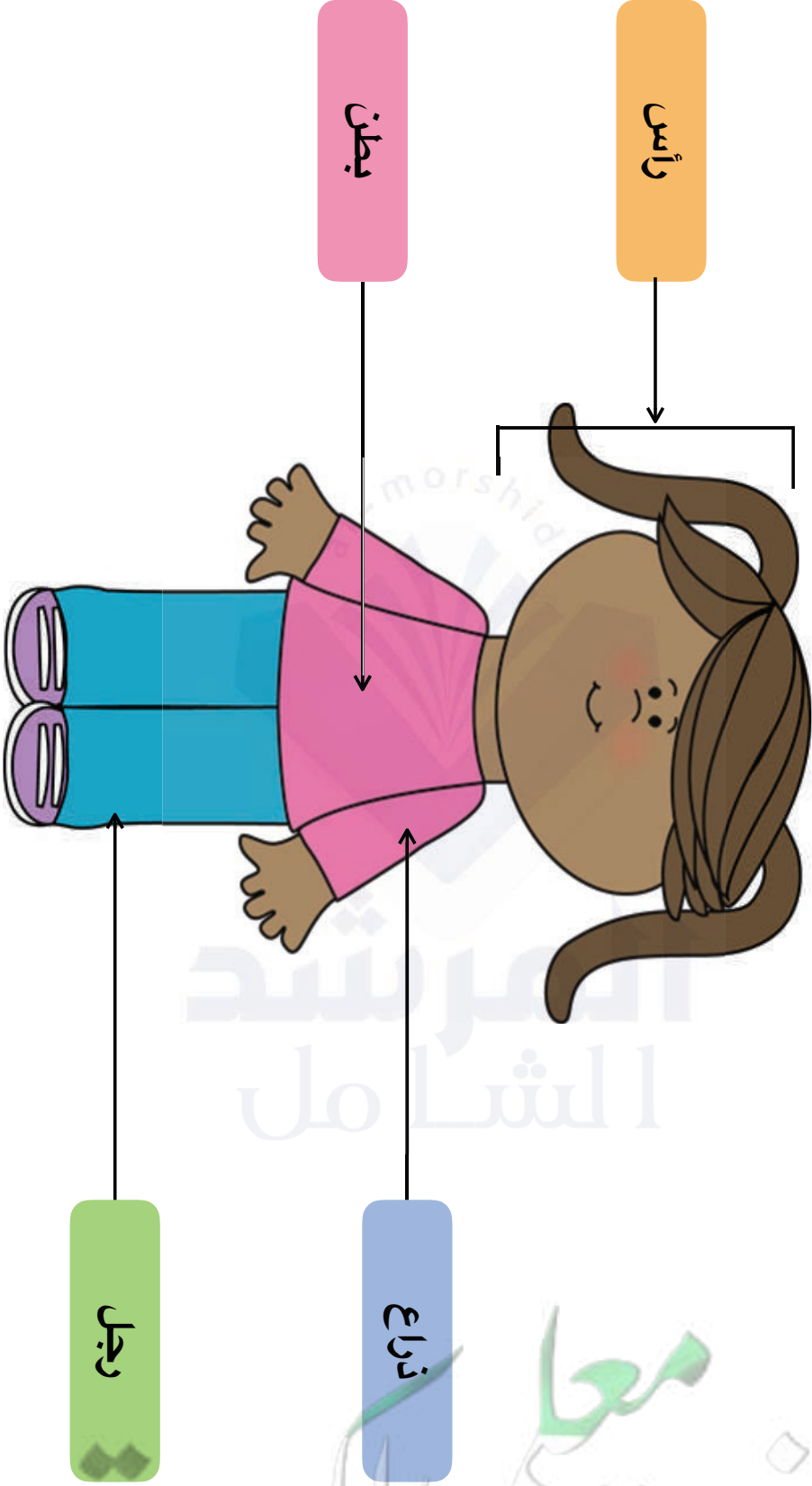




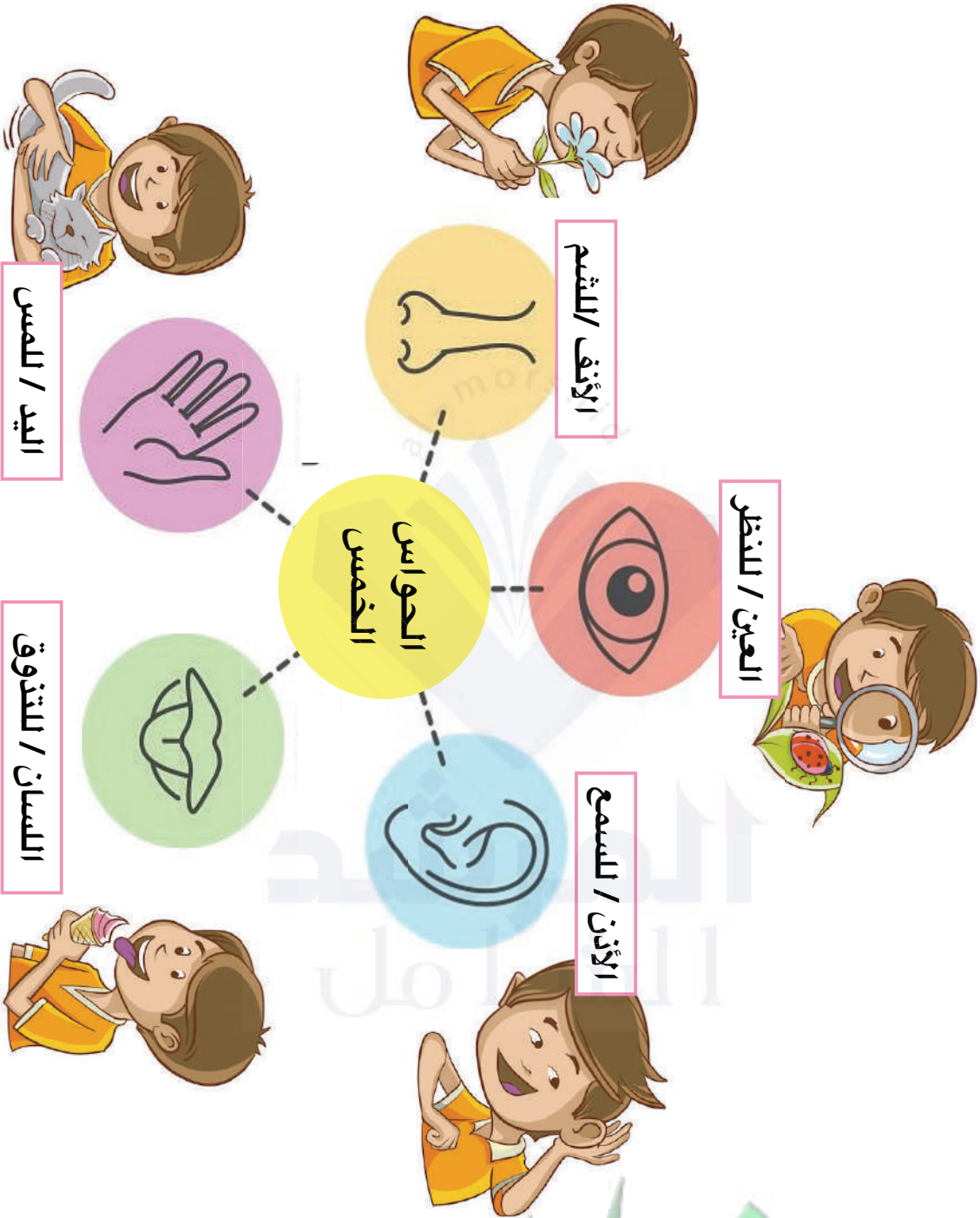
معاكم في الكويت
طفرة
KuwaitTeacher.Com




ما أجزاء أجسامنا؟



ما حواسنا ؟

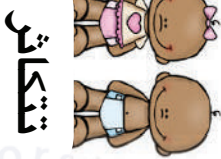


مكتبة الكويت
KuwaitTeacher.Com



ما خصائص الإنسان ؟

خصائص الكائنات الحية



تتكاثر



تتحرك




تنمو

الكائنات الحية هي :



النبات

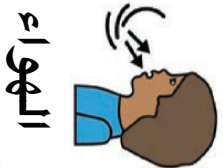


الحيوانات



الإنسان

الكائنات الحية تحتاج



الهواء



الماء



الغذاء

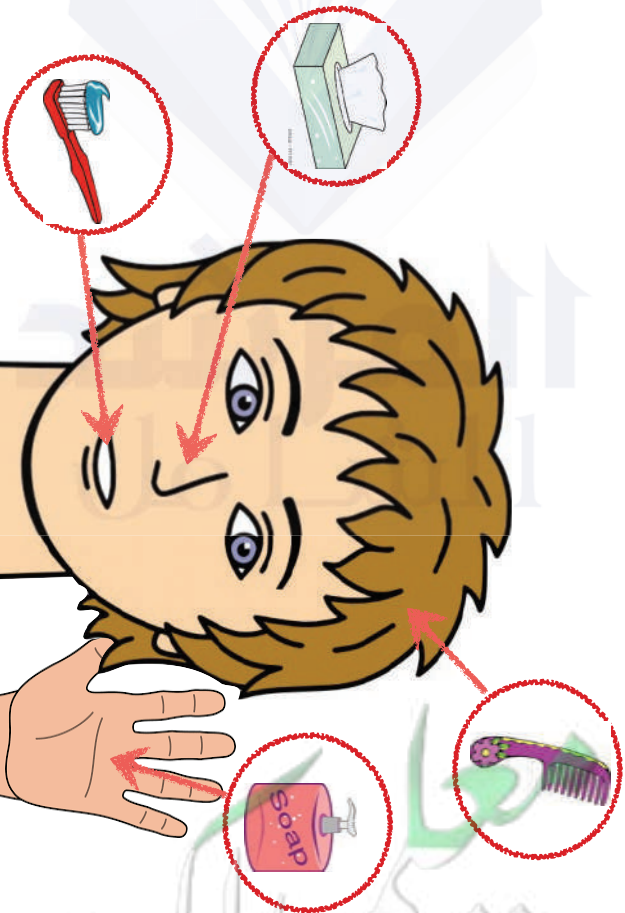


بعض السلوكيات السليمة للمحافظة على
أعضاء الحس



كيف نحافظ على أعضاء الحس ؟

ادوات النظافة تساعدني على المحافظة
أعضاء الحس



يجب أن يكون الطعام الصحي خيارنا دائما



غسل اليدين
بعد الأكل



إذا انتهيت أقول
الحمد لله



أحرص أن يكون
مكاني نظيفاً



لا آكل باليد اليسرى
و إفا باليمنى




قبل الأكل أقول:
بسم الله




غسل اليدين
قبل الأكل



ما الذي أستطيع أن أكله؟




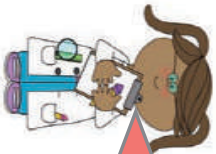
الأطعمة الصالحة للأكل لونها ورأحتها وشكلها شهوي وطازج



لا تتناول الطعام المكشوف



الأطعمة التي يتغير لونها وشكلها ورأحتها تصبح غير صالحة للأكل



لا حظ تاريخ انتهاء الأطعمة قبل ان تأكلها

كيف نعرف أننا ننمو؟

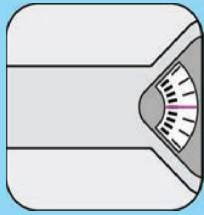


وزني يزيد



طولي يزيد


نقيس الوزن بالميزان



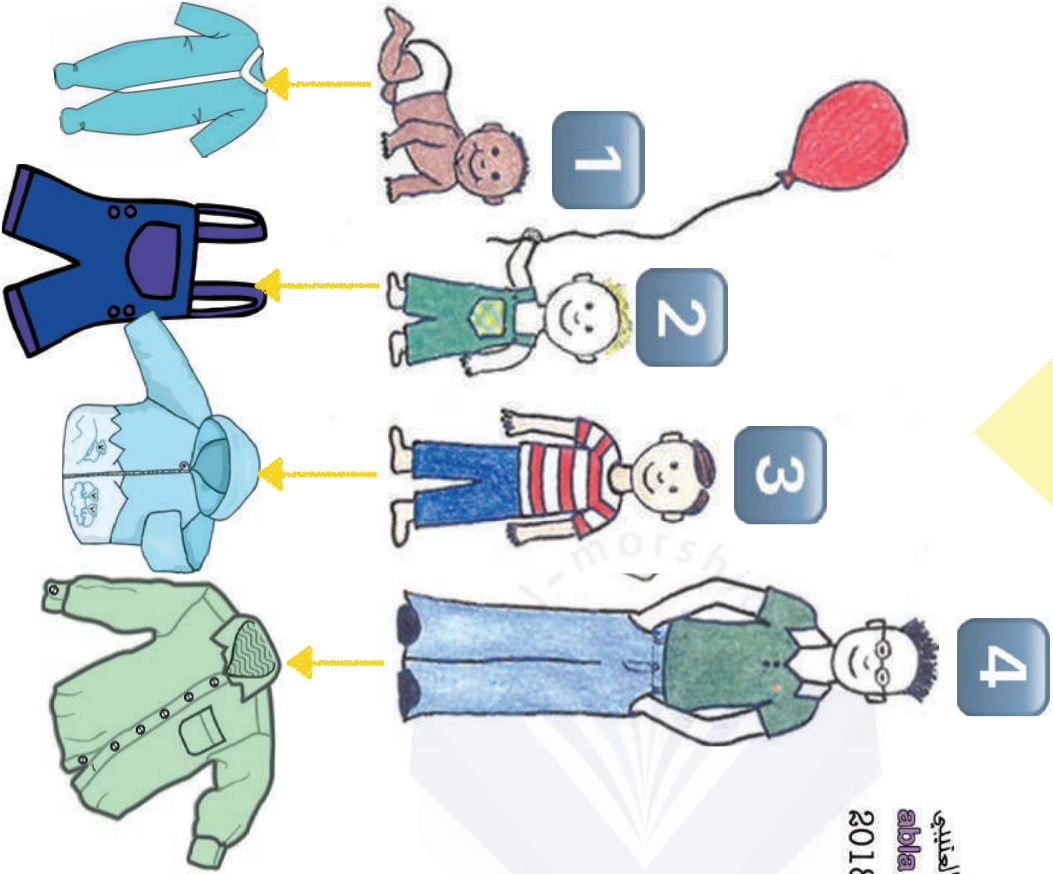
نقيس الطول بالتر



عنوان الدرس : أنمو





لكل مرحلة من مراحل النمو ملابس تناسبها



الله عز وجل العتيبي
Abala Moudini
2018/2019

عنوان الدرس : مراحل النمو

ملابسي تتغير
لأنني أنمو



درس: ما حالات المادة الثلاث؟

كل الأشياء حولنا مادة



الأشياء التي لا أستطيع الإمساك بها بيدي

الحالة الغازية

ليس لها شكل **تنتشر** في المكان
تتحكم بها عندما تكون في وعاء
مغلق مثلاً داخل بالون

الأشياء التي لا أستطيع الإمساك بها بيدي


الحالة السائلة

عندما تتسكب فإنها **تسيل** لا يمكن حملها باليد إلا إذا كانت داخل وعاء ويتغير شكلها

الأشياء التي أستطيع الإمساك بها بيدي

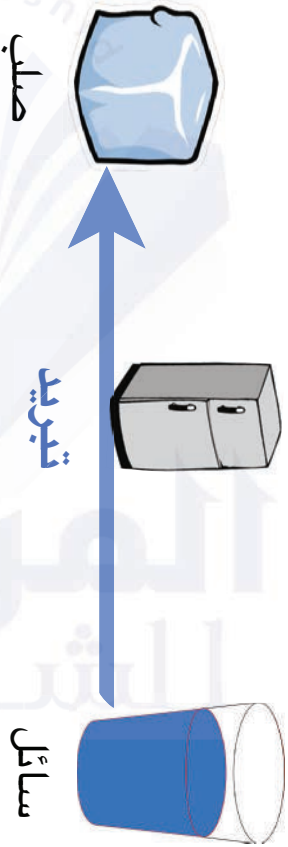
الحالة الصلبة

يمكن حملها باليد ولا يتغير شكلها أو حجمها





درس : الماء والجليد

يتحول الماء إلى جليد بالتبريد



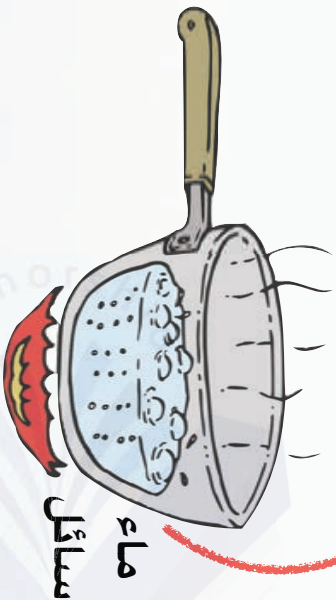
يتحول الجليد إلى ماء بالتسخين



درس : الماء والجليد وبخار الماء



بخار ماء
غاز

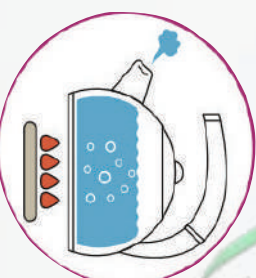
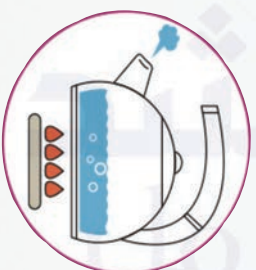


الماء يتحول إلى بخار ماء
بالتسخين



الماء المنسكب على الأرض يختفي

لأن الماء تحول إلى بخار



الماء يتقصر في الإبريق

لأن الماء يتحول إلى بخار



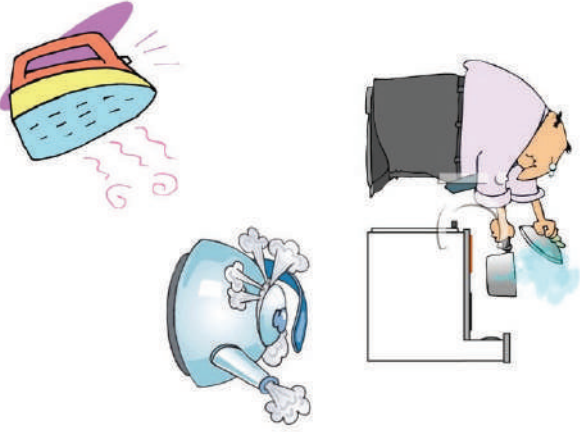
درس : ما الطرق الآمنة للتعامل مع الماء ؟

درس : ما الطرق الآمنة للتعامل مع بخار الماء ؟



التعامل الآمن مع بخار الماء

الابتعاد عن بخار الماء
لتجنب الحروق



التعامل الآمن مع الجليد

الحذر من ابتلاع الثلج

اتباع احتياطات السلامة
عند التزلج على الجليد



التعامل الآمن مع الماء

استخدم قدر الحاجة بدون إسراف

الحذر من الماء الساخن

