



أوراق عمل

للصف الأول

الوحدة الأولى

الفصل الدراسي الأول



KuwaitTeacher.Com




ورقة عمل للصف الأول
الوحدة الأولى
نموذج (1)

وزارة التربية
الإدارة العامة لمنطقة الأحمدي التعليمية
مدرسة صهيب بن سنان . أ . بلين

الاسم :
الصف : / 1

ب (لون  التي تقع في الخلف .



أ (أرسم  فوق  .




ج (ضع علامة ✓ علي  التي تقع علي يمين  .



د (ارسم  بين  .

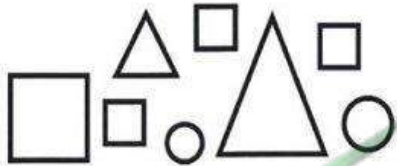
هـ (ضع علامة ✗ علي الشيء الذي لا ينتمي الي المجموعة :



و (اكمل النمط :



ي (حوِّط الصغير :



ن (صل الأشكال المتطابقة :




Math
رياضيات الأحمدي
الابتدائية

الاسم :
الصف : ١ / ١

ورقة عمل للصف الأول
الوحدة الأولى
نمذجة (ب)

وزارة التربية
الإدارة العامة لمنطقة الأحمدي التعليمية
مدرسة صهيب بن سنان . أ . بنين

ب (حوط الشخصية التي تقع في الخلف .



أ (أرسم أسفل



ج (ضع علامة ✓ علي التي تقع علي يسار



د (أرسم بين



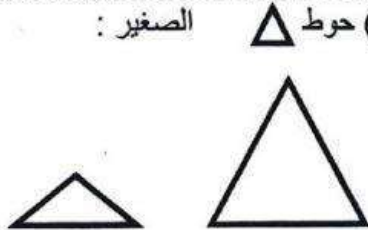
هـ (ضع علامة ✗ علي الشي الذي لا ينتمي الي المجموعة :



ن (اكمل النمط :



ك (حوط الصغير



و (صل الأشكال المتطابقة :



Math

رياضيات الأحمدي
الابتدائيةالاسم :
الصف : / ١ /ورقة عمل للصف الأول
الوحدة الأولى
نموذج (ج)وزارة التربية
الإدارة العامة لمنطقة الأحمدي التعليمية
مدرسة صهيب بن سنان . ١ . بنين

ب (لون) لون التي تقع في الامام.



أ (ارسم) تحت




ج (ضع علامة √ على التي تقع على يسار



د (ارسم) بين



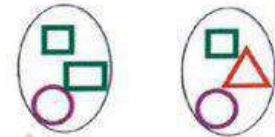
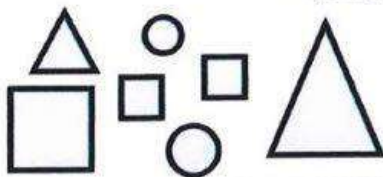
هـ (ضع علامة X على الشي الذي لا ينتمي الي المجموعة :



ن (اكمل النمط :



و (صل الأشكال المتطابقة :





أوراق عمل
للمصف الأول
الوحدة الثانية
الفصل الدراسي الأول



الاسم :
الصف : ١ /


ورقة عمل للصف الأول الوحدة الثانية نموذج (أ)

وزارة التربية
الإدارة العامة لشبكة الأحمدي التعليمية
مدرسة صهيب بن سنان - أ - بنين

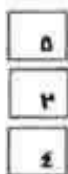
(أ) أكتب رمز العدد :




(ب) ضع علامة ✓ أسفل المجموعة الأقل



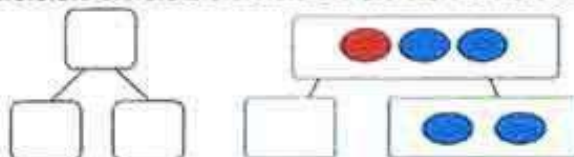
(ج) صل كل مجموعة برمز العدد المناسب .



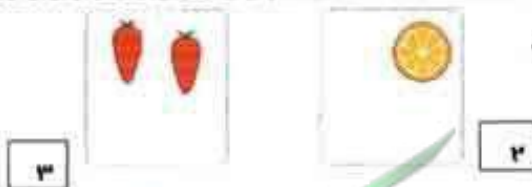
(د) من خلال خط الأعداد أكمل :



(هـ) أكمل :



(و) استكمل رسم العناصر بحسب العدد
الموضح رمزه .






ورقة عمل للصف الأول
الوحدة الثانية
نموذج (ب)

وزارة التربية
إدارة العامة لمنطقة الأحمدي التعليمية
مدرسة سهيب بن سلطان - أ. ب. ن.

الاسم:
الصف: / ١ /

(أ) اكتب رمز العدد:

(ب) ضع علامة ✓ أسفل المجموعة الأقل



(ج) لون ٣ عناصر

(د) من خلال خط الأعداد أكمل:

(ن) أكمل:

(و) استكمل رسم العناصر بحسب العدد الموضح ومزه.





ورقة عمل للصف الاول
الوحدة الثانية
تمزيق (ج)


وزارة التربية
الإدارة العامة لمنطقة الأحمدية التعليمية
مدرسة صهيب بن سنان ، أ. بنين



(أ) أكتب رمز العدد :



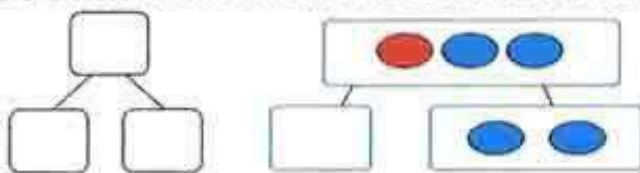
(ب) ضع علامة ✓ أسفل المجموعة الأكثر




(ج) لون ٤ عناصر



(د) من خلال خط الأعداد أكمل :



(ن) أكمل :



(و) استكمل رسم العناصر بحسب العدد
الموضح رمزه .

٤

٣





أوراق عمل
للمصف الأول
الوحدة الثالثة
الفصل الدراسي الأول



الاسم :
الصف : / ١ :

ورقة عمل للصف الأول
الوحدة الثالثة
تمرنج (١)

وزارة التربية
الإدارة العامة لمنطقة الأحمدي التعليمية
مدرسة صهيب بن سنان ، أ . بنين



(أ) اكتب رمز العدد :



(ب) قارن. اكتب رمز العلاقة المناسب (> أو < أو =)

١٢ ١١

٤ ٤

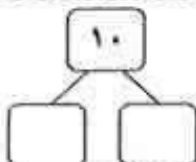
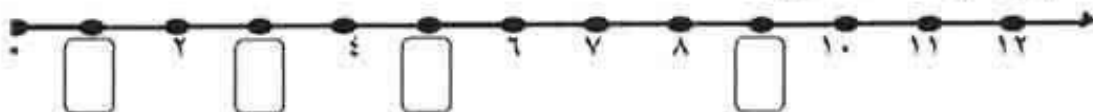
٠ ١٠



٩

(ج) استكمل رسم العناصر بحسب العدد الموضح.

(د) من خلال خط الأعداد أكمل



(ن) أكمل :





ورقة عمل للصف الأول
الوحدة الثالثة
تمزيق (ب)

وزارة التربية
الإدارة العامة لمنطقة الأحمدي التعليمية
مدرسة صهيب بن سنان ، أ. بنين

الاسم :
الصف : / ١



(أ) اكتب رمز العدد :



(ب) قارن. اكتب رمز العلاقة المناسب (> أو < أو =)

$6 \square 8$

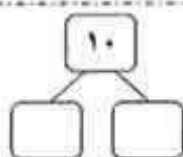
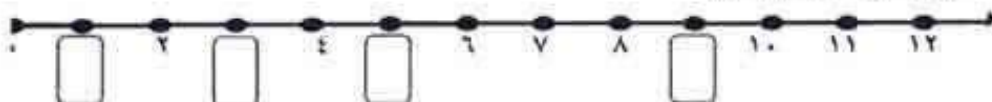
$4 \square 4$

$0 \square 9$

(ج) استكمل رسم العناصر بحسب العدد الموضح.



(د) من خلال خط الأعداد أكمل



(ن) أكمل :






الاسم :
الصف : ١ /

ورقة عمل للصف الأول
الوحدة الثالثة
نموذج (ج)

وزارة التربية
الإدارة العامة لمنطقة الأحمدية التعليمية
مدرسة صهيبي بن سلمان . أ . بنين



(أ) اكتب رمز العدد :



(ب) قارن. اكتب رمز العلاقة المناسب (> أو < أو =)

١٢ ١١

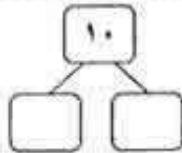
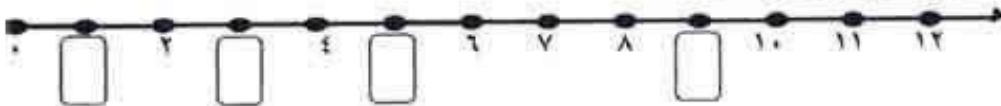
٩ ٩

٣ ٧

(ج) استكمل رسم العناصر بحسب العدد الموضح.



(د) من خلال خط الأعداد أكمل



(ن) أكمل :





أوراق عمل
للمصف الأول
الوحدة الرابعة
الفصل الدراسي الأول

ورقة عمل للمصف الأول
الوحدة الرابعة
نموذج (أ)

السؤال الأول: أكمل:




و يَكُونَانِ



= ١ - ٨

السؤال الثاني: اشطب لتطرح:



السؤال الثالث: أكمل

= ٢ - ٥

= ٣ + ٤

السؤال الرابع: استخدم القاعدة لتجمع:

اجمع ٣

٢
٣
٧





الاسم /
الصف /

ورقة عمل للصف الأول
الوحدة الرابعة
نموذج (ب)

وزارة التربية
الإدارة العامة لمنطقة الأحمدي التعليمية
مدرسة صهيب بن سنان. أ. بنين

السؤال الأول: أكمل:




و يَكُونان

السؤال الثاني: اشطب لتطرح:



= ٧ - ١



السؤال الثالث: أكمل

= ٥ - ٢

= ٣ + ٤

السؤال الرابع: استخدم القاعدة لتجمع:

<input type="text"/>	<input type="text"/>	٢
<input type="text"/>	اجم ٢	٣
<input type="text"/>		٥





الاسم /

الصف /

ورقة عمل للصف الأول
الوحدة الرابعة
تمزيج (ج)

وزارة التربية
الإدارة العامة لمنطقة الأحمدي التعليمية
مدرسة صهيب بن سنان، أ. بنين

السؤال الأول: أكمل:




يَكُونان و



= ١ - ٥

السؤال الثاني: اشطب لتطرح:



السؤال الثالث: أكمل

= ٢ - ٥

= ٣ + ٤

السؤال الرابع: استخدم القاعدة لتجمع:

اجمع ٢

٢
٦
٥

