



وزارة التربية

الإدارة العامة لمنطقة حولي التعليمية

التوجيه الفني للرياضيات

الاسم :

الصف :

الدرجة : ٢٠/.....

الاختبار التحصيلي (١) التجريبي

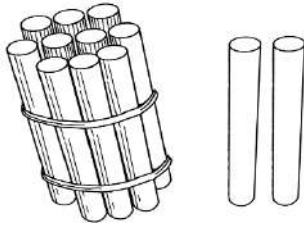
للفصل الأول الابتدائي

للعام الدراسي ٢٠٢٢ / ٢٠٢٣

السؤال الأول :


(أ) اكتب رمز العدد الممثل

٤



٢

(ب) استكمل رسم العناصر بحسب العدد الموضح رمزه .

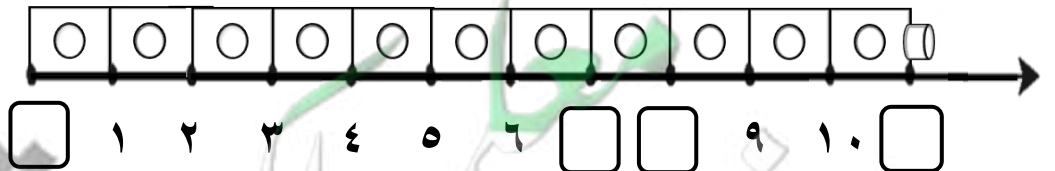


٣

٢

السؤال الثاني : أكمل .

(أ)



٣


(ب)

٥

السؤال الثالث : قارن بين العددين بوضع < أو > أو = .


٤

٢



٦

٩




٩

السؤال الرابع:

(أ) لون ٢  .




١



(ب) حوِّط .

٤

- الطبق الذي يحتوي على ٣ برتقالات



- العلبه التي بها ١٠ ألوان

