



# التاريخ

الكورس الأول

12



# التاريخ

الكورس الأول

12

# شلون تتفوق بدراستك

## منصة علا تخلي المذكرة أقوى

تبي أعلى الدرجات؟ لا تعتمد على المذكرة بروحها  
ادرس صح من الفيديوهات و الاختبارات في منصة علا

700

★ اختبارات ذكية تدربك  
حل الاختبارات الإلكترونية أول بأول  
عشان ترفع مستواك

🎬 فيديوهات تشرح لك  
تابع الفيديوهات و اسأل المعلم في علا وأنت  
تدرس من المذكرة عشان تضبط الدرس



اكتشف عالم التفوق مع منصة علا

لتشارك بالمادة و تستمتع بالشرح  
المميز صور أو اضغط على ال QR



# المعلق



هذه المذكرة تغطي المادة كاملة.

في حال وجود أي تغيير للمنهج أو تعليق جزء منه يمكنكم مسح رمز QR للتأكد من المقرر.




# المنقذ



أول ما تحتاج مساعدة بالمادة ، المنقذ موجود!

صور ال QR بكاميرا التلفون أو اضغط عليه إذا كنت تستخدم المذكرة من جهازك و يطلع لك فيديو يشرح لك.



صفحة معلق الكويث

# قائمة المحتوى

## 01 النهضة الأوروبية

01

- 5 مقدمة النهضة الأوروبية - العصور الوسطى  
9 عوامل قيام النهضة الأوروبية  
13 مظاهر النهضة الأوروبية: المظاهر الأدبية والفنية  
15 المظاهر الفنية  
18 المظاهر الدينية  
20 المظاهر السياسية

## 02 الكشوف الجغرافية

02

- 23 أسباب قيام حركة الكشوف الجغرافية  
26 رحلات الكشوف البرتغالية  
32 رحلات الكشوف الإسبانية  
36 رحلة أمريكو فسبوتشي  
39 رحلة فرديناند ماجلان  
42 الكشوف الإنجليزية  
53 الكشوف الفرنسية  
56 رحلات الكشوف للقرب الشمالي والجنوبي  
59 نتائج الرحلات والكشوف الجغرافية

## 03 الاستعمار الأوروبي

03

- 63 المفهوم والعوامل  
64 أشكال الاستعمار  
69 الاستعمار البرتغالي  
72 الاستعمار الإسباني  
74 الاستعمار الهولندي  
76 الاستعمار الفرنسي و الاستعمار الإنجليزي  
79 الاستعمار الروسي وأثار الاستعمار

## 04 الثورة الصناعية

04

- 81 الثورة الصناعية وعواملها  
83 مظاهر الثورة الصناعية  
90 نتائج الثورة الصناعية

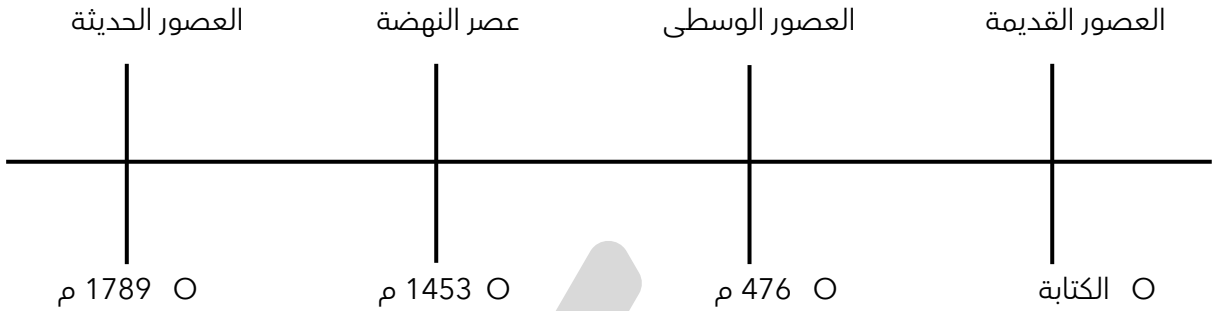


صفوة معلمي الكويت



# مقدمة النهضة الأوروبية - العصور الوسطى

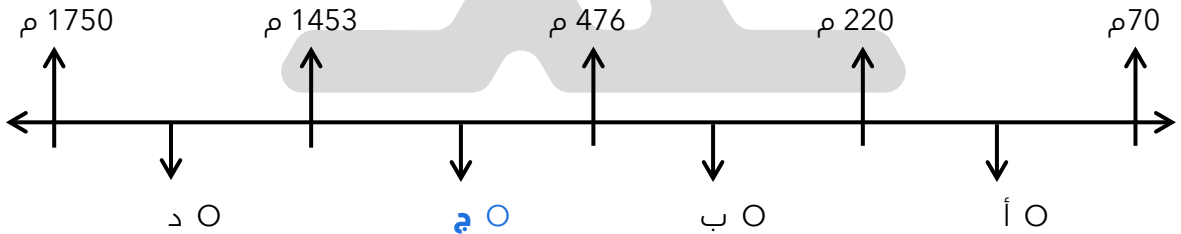
إن مصطلح نهضة في أوروبا يدل على أن أوروبا كانت تعاني من تخلف في العصور الوسطى .



عرف - العصور الوسطى

- هي الفترة التي عاشت فيها أوروبا في جهل وتخلف وبدأت منذ سقوط روما على يد القبائل الجرمانية عام 476 م
- الفترة التي عاشت فيها أوروبا قبل سطوع شمس النهضة

اختياري - فترة العصور الوسطى يمثلها على المخطط الزمني الحرف :

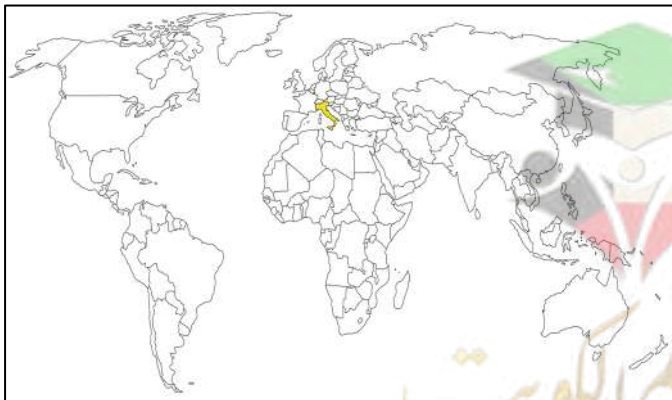


اكتب المصطلح - العصور التاريخية التي تميزت بسيطرة رجال الدين والنظام الإقطاعي .

( العصور الوسطى )

أكمل العبارات التالية :

☆ ممكن أن يأتي السؤال بصيغة أخرى: حدد علي الخريطة



مدينة سقطت على يد القبائل الجرمانية عام

476 م تسمى روما

العام الميلادي الذي سقطت فيه روما على

يد القبائل الجرمانية 476 م

القبائل التي أسقطت الإمبراطورية الرومانية

عام 476 م تسمى القبائل الجرمانية

عدد - سمات العصور الوسطى .

☆ ممكن أن يأتي السؤال بصيغة أخرى: ( علل عاشت أوروبا في العصور الوسطى في جهل وتخلف ) (فند العبارة التالية - عاشت أوروبا في العصور الوسطى في حالة من الازدهار) (دلل - عاش الناس في جهل وتخلف وحرموا من حرية التفكير والبحث العلمي )

- هيمنة الكنيسة الكاثوليكية على أوروبا روحياً وثقافياً
- ظهور النظام الإقطاعي
- الصراع الدائم بين البابوية والإمبراطورية

عدد - النتائج المترتبة على هيمنة الكنيسة الكاثوليكية على الناحيتين الروحية والثقافية في أوروبا خلال العصور الوسطى .

- ظهور النظام الإقطاعي
- الصراع الدائم بين البابوية والإمبراطورية
- عاش الناس في جهل وتخلف وحرموا من حرية التفكير والبحث العلمي

عرف - النظام الإقطاعي .

☆ ممكن أن يأتي السؤال بصيغة أخرى: **أكمل**

هو نظام تسبب في تقسيم المجتمع الأوروبي إلى مجتمع طبقي

عدد - النتائج المترتبة على ظهور النظام الإقطاعي .

كتب المدلول التاريخي المناسب - نظام ساد في أوروبا في العصور الوسطى وأدى إلى تقسيم المجتمع الأوروبي إلى مجتمع طبقي .  
( النظام الإقطاعي )

☆ ممكن أن يأتي السؤال بصيغة أخرى: (ما الآثار المترتبة على سيادة نظام الإقطاع في أوروبا في العصور الوسطى ) - (دلل - كان لظهور النظام الإقطاعي أثر واضح على المجتمع الأوروبي في العصور الوسطى ) - (فند - كان المجتمع الأوروبي في العصور الوسطى مجتمعاً متساوياً في الحقوق والواجبات )

- انقسام أوروبا إلى طبقتين
- طبقة عليا تضم رجال الدين
- طبقة سفلى تضم عبيد الأرض

عدد - تقسيم المجتمع الأوروبي إلى مجتمع طبقي في العصور الوسطى .

سبب ظهور النظام الإقطاعي

عدد - ماذا يحدث إذا - لم يظهر النظام الإقطاعي في أوروبا بالعصور الوسطى .

- لم يتسبب في تقسيم المجتمع الأوروبي إلى مجتمع طبقي
- لم يكن على قمة المجتمع مع رجال الكنيسة النبلاء والفرسان
- لم تكن في أسفل المجتمع طبقة العبيد التي حرمت من أي حقوق رغم تحملها الكثير من الأعباء والواجبات

عدد - نتائج المدلول التاريخي - طبقة اجتماعية عاشت في العصور الوسطى محرومة من أي حقوق رغم تحملها الكثير من الأعباء .  
( عبيد الأرض )



• اكتب فقرة مترابطة من سطرين مستخدماً الكلمات التالية : ( العصور الوسطى - الكنيسة الكاثوليكية - البابوية والإمبراطورية - البحث العلمي ) .

من سمات العصور الوسطى هيمنة الكنيسة الكاثوليكية على الناحيتين الروحية والثقافية والصراع الدائم بين البابوية والإمبراطورية وخلال تلك الفترة عاش الناس في جهل وتخلف ودرموا من حرية الفكر والبحث العلمي



تدرب و تفوق

اختبارات الكترونية ذكية

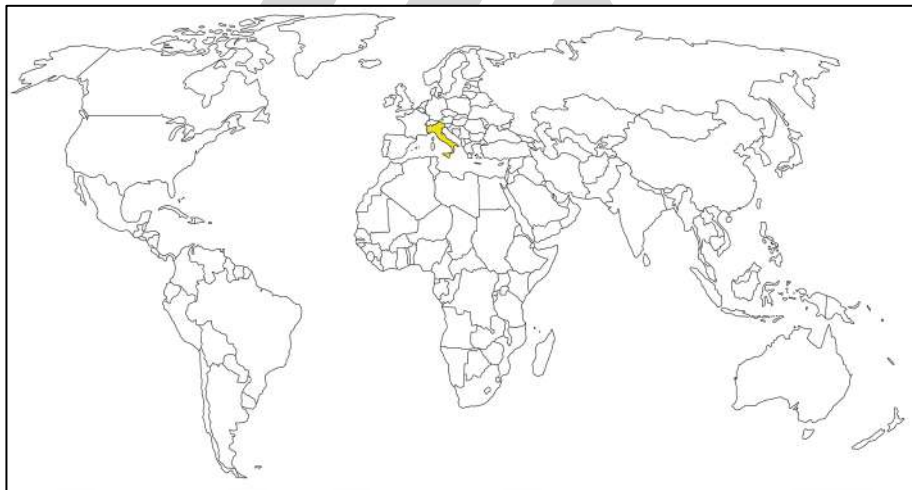


• عرف - النهضة الأوروبية .

هي الحركة التي انطلقت من إيطاليا إلى أنحاء أوروبا كافة بهدف إعادة اكتشاف أمجادها

• ما هو الدور الريادي الذي لعبته إيطاليا في إبراز ملامح تاريخ أوروبا الحديث والمعاصر انطلقت منها حركة النهضة ثم انتقلت إلى أنحاء أوروبا كافة

• حدد على خريطة العالم - الدولة التي انطلقت منها النهضة الأوروبية ( إيطاليا )



• ما تفسيرك - اعتبر المؤرخون سقوط العاصمتين ( روما والقسطنطينية ) نقطتي تحول في التاريخ .

- سقوط روما على يد القبائل الجرمانية عام 476م بداية العصور الوسطى
- الفتح العثماني لمدينة القسطنطينية عاصمة الدولة البيزنطية عام 1453 م بداية عصر النهضة والعصور الحديثة

• عرف - عصر النهضة .

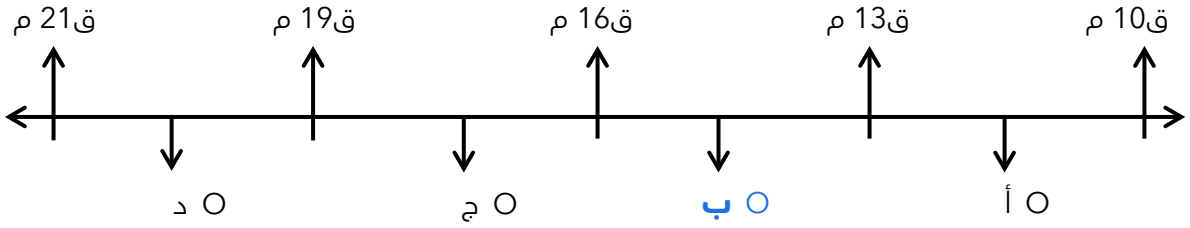
☆ ممكن أن يأتي السؤال بصيغة أخرى: أكمل

الفترة من القرن الثالث عشر الميلادي إلى القرن السادس عشر الميلادي

• اكتب المصطلح التاريخي الدال على العبارة - مرحلة انتقالية بين العصور الوسطى والعصور الحديثة .  
( عصر النهضة )



❑ اختياري - الفترة الزمنية التي أطلق عليها عصر النهضة الأوروبية يمثلها على المخطط الزمني الحرف :



**أكمل العبارات التالية :**

❑ العام الميلادي الذي دخل فيه العثمانيون القسطنطينية **1453 م**

❑ العاصمة البيزنطية التي دخلها العثمانيون في عام 1453 م تسمى **القسطنطينية**



❑ علل - تعتبر إيطاليا أسبق الدول الأوروبية إلى النهضة .

★ يمكن أن يأتي السؤال بصيغة أخرى: (دلل - أسبقية إيطاليا في حركة النهضة الأوروبية) (برهن - لعبت عوامل عدة في جعل إيطاليا نقطة انطلاق للنهضة الأوروبية )

- لعبت دور الوسيط التجاري بين موانئ البحر المتوسط
- وجود مركز البابوية فيها
- حلقة اتصال بين الشرق والغرب
- ماضي الإمبراطورية الرومانية

❑ عدد - النتائج المترتبة على عصر النهضة الأوروبية في إيطاليا .

- الاستفادة من الحضارات المجاورة
- تشجيع الأدباء والفنانين لتحقيق أهداف الكنيسة
- الرغبة في استعادة أمجادها العظيمة
- تحقيق المكاسب الاقتصادية



صفوة معلمي الكويت

🔴 صنف العوامل والنتائج التي جعلت إيطاليا في مقدمة حركة النهضة الأوروبية .

المصطلح	العامل	النتيجة
المجد القديم	ماضي الإمبراطورية الرومانية	الرغبة في استعادة أمجادها
الدور البابوي	وجود مركز البابوية فيها	تشجيع الأدباء والفنانين
الموقع الجغرافي	حلقة اتصال بين الشرق والغرب	الاستفادة من الحضارات المجاورة
الازدهار الاقتصادي	لعبت دور الوسيط التجاري بين موانئ البحر المتوسط	تحقيق المكاسب الاقتصادية التي ساهمت في إحداث النهضة

🔴 ماذا يحدث لو - لم تظهر النهضة الأوروبية في إيطاليا .

- ظلت أوروبا تعاني من الجهل والتخلف
- ظلت أوروبا تعاني من هيمنة الكنيسة الكاثوليكية



🎯 **تدرب و تفوق**

اختبارات الكترونية ذكية



النهضة الأوروبية

## عوامل قيام النهضة الأوروبية

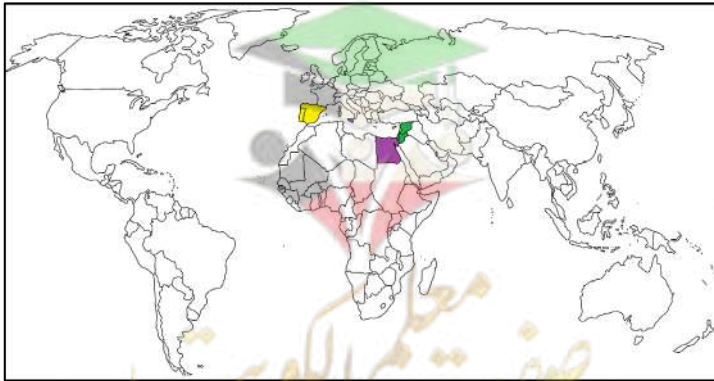
🔴 عدد - عوامل قيام النهضة الأوروبية .



🔴 دال على صحة العبارة التالية - ساهمت الحضارة الإسلامية بدور عظيم في قيام النهضة الأوروبية .

★ يمكن أن يأتي السؤال بصيغة أخرى: ( فند - يرى بعض المستشرقين بأن دور الحضارة الإسلامية ليس له أي أهمية في قيام النهضة الأوروبية )

- أمدت أوروبا بالإنجازات العلمية والأدبية والفنية
- مراكز انتقال الحضارة الإسلامية إلى أوروبا ( الأندلس - صقلية - الشام - مصر )



❑ ماذا يحدث لو - لم يتم اتصال أوروبا بالعلماء المسلمين .

لما أمد المسلمون أوروبا بالإنجازات العلمية والأدبية والفنية

❑ أكمل - الحضارة التي أمدت أوروبا بأعظم الإنجازات العلمية وكانت عاملاً في قيام النهضة الأوروبية تسمى الحضارة الإسلامية

❑ عرف - حركة إحياء الدراسات اليونانية القديمة .

هي الفترة التي امتدت من عام 1300م إلى عام 1500 م

❑ اختياري - امتدت حركة إحياء الدراسات اليونانية القديمة من القرن .

○ ( 16 - 17 )      ○ ( 15 - 16 )      ○ ( 14 - 15 )      ○ ( 14 - 16 )

❑ فسر - بذل المفكرون الأوروبيون جهداً كبيراً في إحياء الدراسات اليونانية القديمة .  
لاستعادة المجد الأدبي والعلمي العريق

❑ برهن على صحة العبارة التالية - بذل المفكرون الأوروبيون جهداً كبيراً في إحياء الدراسات اليونانية القديمة .

★ يمكن أن يأتي السؤال في صيغ أخرى: (عدد - جهود المفكرين الأوروبيين في إحياء الدراسات اليونانية القديمة) - (فند - لم يبذل المفكرون الأوروبيون جهداً كبيراً في إحياء الدراسات اليونانية القديمة) - (ما دور - المفكرين الأوروبيين في إحياء الدراسات اليونانية القديمة)

- تبادل علماء القسطنطينية وإيطاليا الزيارات العلمية
- تنافس الأمراء والأثرياء في إنشاء المكتبات
- ظهور الأكاديميات العلمية
- جهود أسرتي آل مديتشي في فلورنسا وآل سوفرزا في ميلانو لرعاية الحركة العلمية
- اختراع أحرف الطباعة المعدنية على يد الألماني حنا جوتنبرج في الفترة ( 1396 - 1468 م )

❑ فسر - تبادل علماء القسطنطينية وإيطاليا الزيارات العلمية .

بحثاً عن العلوم والفنون الإغريقية والإيطالية

❑ علل - تنافس الأمراء والأثرياء في إنشاء المكتبات ساعد في إحياء الدراسات اليونانية القديمة .

أدى إلى ازدهار مكتبات فلورنسا والبندقية بجانب مكتبة الفاتيكان

❑ ما العلاقة بين ظهور الأكاديميات العلمية في إيطاليا وإحياء الدراسات اليونانية القديمة .

ظهور الأكاديميات ساعد على إثراء الحركة العلمية



صفوة معلمي الكويت

## أكمل العبارات التالية :

☆ ممكن أن يأتي السؤال بصيغ أخرى: اختياري - عدد

٥ تنافس الأمراء والأثرياء في إنشاء المكتبات أدى إلى ازدهار مكتبات البندقية و فلورنسا بجانب مكتبة تسمى **الفايكان**

٥ الأسرة التي اهتمت بالحركة العلمية في مدينة فلورنسا تسمى **آل مديتشي**

٥ الأسرة التي اهتمت بالحركة العلمية في مدينة ميلانو تسمى **آل سوفرزا**

٥ مخترع أحرف الطباعة المعدنية يسمى **حنا جوتنبرج**

٥ حدد على خريطة العالم - الدولة التي ينتمي إليها المخترع حنا جوتنبرج **( ألمانيا )**



## لاحظ الصورة التالية ثم أجب عما يلي :

٥ من هو صاحب الصورة **حنا جوتنبرج**

٥ الإنجاز الذي قدمه

مكبس الطباعة ( أحرف الطباعة المعدنية )

٥ نتائج هذا الاختراع

- سهولة طباعة الكتب
- نشر جهود العلماء

٥ ماذا يحدث لو - لم يخترع حنا جوتنبرج أحرف الطباعة المعدنية

- صعوبة في طباعة الكتب
- صعوبة في نشر جهود العلماء





عدد - مراحل نمو المدن الأوروبية .



☆ ممكن أن يأتي السؤال بصيغ أخرى: (علل - عادت المدن الأوروبية إلى الظهور مرة أخرى في أواخر العصور الوسطى) (دلل - هناك من يعتبر إن النهضة الأوروبية هي وليدة نمو المدن) - (دلل - تحقق للمدن الأوروبية النمو والازدهار في عصر النهضة)

- تحالف المدن الصغيرة في شكل كومونات
- ظهور الطبقة الوسطى البرجوازية
- إنشاء المدارس بعيداً عن سيطرة الأديرة

### اختر الإجابة الصحيحة

عادت المدن الأوروبية إلى الظهور مرة أخرى في أواخر العصور .

- القديمة ○ **الوسطى** ○ الحديثة

تمكنت المدن الأوروبية من استعادة نشاطها التجاري وخاصة المدن التي امتلكت موانئ .

- برية ○ **بحرية** ○ جوية

### عرف ما يأتي :

☆ ممكن أن يأتي السؤال بصيغ أخرى: **أكمل - اختياري - اكتب المصطلح**

الكومونات .

هي تحالف المدن الصغيرة بعضها مع بعض مما يعطيها القوة والاستقلال

البرجوازية .

هي الطبقة الوسطى التي تحالفت مع الملوك لتحطيم النظام الإقطاعي

أكمل : طبقة أحدثت تغييراً كبيراً في ملامح المدن الأوروبية سياسياً واقتصادياً واجتماعياً تسمى **البرجوازية**

عدد - نتائج تحالف الطبقة الوسطى البرجوازية مع الملوك

- تحطيم النظام الإقطاعي
- حدث تغيير كبير في ملامح المدن الأوروبية سياسياً واقتصادياً واجتماعياً

اكتب فقرة تاريخية مترابطة مستعيناً بالكلمات التالية:

(( مدن أوروبية - كومونات - طبقة وسطى - ثورة ثقافية ))

تحالفت المدن الأوروبية في شكل كومونات مما منحها القوة والاستقلال وأدى إلى ظهور الطبقة الوسطى التي تحالفت مع الملوك لتحطيم النظام الإقطاعي مما أحدث تغييراً كبيراً في ملامح المدن الأوروبية سياسياً واقتصادياً واجتماعياً وتنتج عنه قيام ثورة ثقافية من خلال إنشاء المدارس بعيداً عن سيطرة الأديرة

من خلال الخريطة المقابلة - عدد - أهم المدن الإيطالية التي ساهمت في إحياء النهضة الأوروبية .



- روما
- فلورنسا
- نابولي
- جنوة



تدرب و تفوق

اختبارات الكترونية ذكية



النهضة الأوروبية

## مظاهر النهضة الأوروبية المظاهر الأدبية

عدد - مظاهر النهضة الأوروبية .

المظاهر السياسية

المظاهر الدينية

المظاهر الفنية

المظاهر الأدبية

علل - ازدهار الناحية الأدبية في عصر النهضة .

☆ ممكن أن يأتي السؤال بصيغة أخرى: ( لخص كيف ساهم الأدب في عصر النهضة )

- الاهتمام بدراسة الإنسان باعتباره محور الحياة
- تخليص الإنسان من القيود التي كبلت وحطت من فكره في العصور الوسطى
- جهود الإنسانيين

عرف - الإنسانيين .

هم أدباء عبروا في كتاباتهم الأدبية عن صورة الإنسان الذي يتصف بالإبداع والثقة في النفس والمحبة للحياة

❑ فسر - اهتمام الأدباء بدراسة الإنسان .

★ يمكن أن يأتي السؤال بصيغ أخرى: (فند - أهملت النهضة الأوروبية دراسة الإنسان ) - (فند - لم تبدي الحركة الأدبية في عصر النهضة اهتماماً بالإنسان )

- لأنه محور الحياة
- تخليصه من القيود التي كبلت فكره وقللت من مكانته في العصور الوسطى

❑ ماذا يحدث لو - لم يهتم الأدباء الإنسانيون بالإنسان .

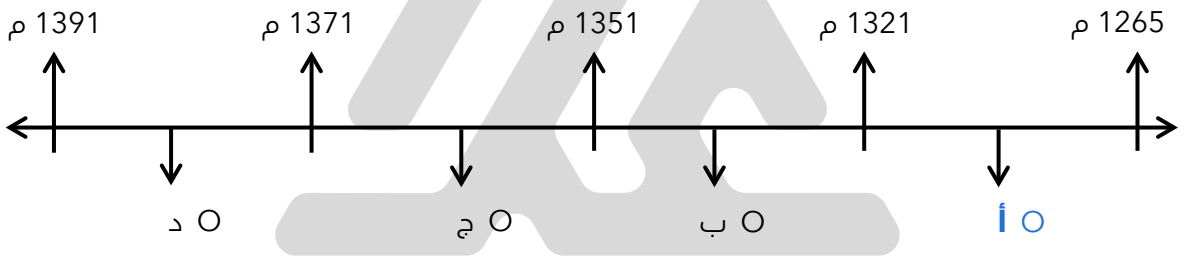
لما تخلص من القيود التي قللت من مكانته في العصور الوسطى

❑ عدد - أبرز أدباء عصر النهضة .

- دانتي ( 1265 - 1321 م )
- بترارك ( 1304 - 1374 م )
- بوكاشيو ( 1313 - 1375 م )
- أرياموس ( 1469 - 1536 م )

**اختر الإجابة الصحيحة :**

❑ الفترة التي تمثل حياة الأديب والشاعر دانتي على المخطط الزمني تحمل الحرف:



❑ الفترة من عام 1313 م حتى عام 1375 م تمثل حياة الأديب والشاعر :

- دانتي ○ بوكاشيو ○ أرياموس ○ بترارك ○

❑ علل - يعتبر دانتي من أعظم شعراء إيطاليا

- قدرته الفائقة على الوصف والتحليل
- تفوق موسيقى شعره
- سمو أفكاره وحيوية خياله

❑ عدد - أهم أعمال دانتي

- رواية الحياة الجديدة
- رواية الكوميديا الإلهية

**أكمل العبارات التالية :**

❑ الشاعر العربي الذي تأثر به دانتي في رواية الكوميديا الإلهية يسمى أبا العلاء المعري

❑ الرسالة التي تأثر بها دانتي في رواية الكوميديا الإلهية تسمى الفخران

❑ القصة التي تأثر فيها الأديب دانتي في كتابة الكوميديا الإلهية تسمى المعراج





## النهضة الأوروبية

## المظاهر الفنية

عدد - أهم معالم الحركة الفنية في عصر النهضة .

☆ ممكن أن يأتي السؤال بصيغ أخرى: (علل - ازدهار الناحية الفنية في عصر النهضة) - (لخص كيف ساهم الفن في عصر النهضة) - (دلل - لعبت التغيرات التي صاحبت عصر النهضة دوراً كبيراً في تفجير الطاقات الفنية لدى الفنانين) - (فند - لم يطرأ أي تغيير على الحركة الفنية في عصر النهضة)

- حرس الفنانون على محاكاة الفنون القديمة
- أصبح الإنسان هو المحور الرئيسي الذي تدور حوله الأعمال الفنية
- وجد الفنانون التشجيع والدعم الفني والمعنوي

عدد - النتائج المترتبة على التشجيع والدعم الفني والمعنوي للفنانين في عصر النهضة .

- أنتجوا أعظم أعمالهم الفنية
- حولوا المدن الأوروبية إلى متاحف فنية بشتى أنواع الإنتاج الفني في مجالات العمارة والنحت والتصوير

عدد - أبرز المجالات التي برز فيها الفنانون في عصر النهضة .

التصوير	النحت	العمارة	المجالات
ليوناردو دافنشي 1452 م - 1519 م رفائيل 1483 - 1520 م	دوناتللو 1386 - 1466 م مايكل أنجلو 1464 - 1575 م	فيليو برونيلسكي 1377 - 1447 م	الرواد

## اختر الإجابة الصحيحة :

الشخصيات	م
دوناتللو	1
روبرت بيرري	2
تشارلز ويلكز	3
مايكل أنجلو	4

أسماء رواد الحركة الفنية في النهضة الأوروبية في - الجدول المقابل يمثلهم الأرقام :

( 2 , 1 ) ○  
( 4 , 1 ) ○  
( 3 , 2 ) ○

المجال الذي اشتهر فيه الفنان مايكل أنجلو :

النحت ○ التصوير ○ العمارة ○ الرسم ○

❑ الصورة المقابلة لفنان يسمى :

○ ما يكل أنجلو

○ دوناتللو

○ ليوناردو دافنشي  
○ رفائيل



❑ الفنان الذي برز في مجال العمارة يسمى :

○ فيليو برونيلسكي

○ مايكل أنجلو

○ دوناتللو  
○ ليوناردو دافنشي

❑ الفترة من عام 1452 م إلى 1519 م تمثل حياة الفنان :

○ دافنشي

○ مايكل أنجلو

○ رفائيل  
○ دوناتللو

❑ اكتب فيما درست ما تعرفه عن دافنشي

★ ممكن أن يأتي السؤال بصيغة أخرى: ( علل - يطلق على دافنشي اسم عبقرى النهضة )

- فنان متعدد المواهب
- نبغ في الرسم والنحت والمعمار والرياضة والهندسة
- اهتم بالأدب والموسيقى والشعر وعلم التشريح

❑ عدد - أهم أعمال دافنشي

▪ لوحة العشاء الأخير

▪ لوحة الموناليزا أو الجيوكوندا

❑ عرف - الجيوكوندا

★ ممكن أن يأتي السؤال بصيغة أخرى: اكتب مدلول الصورة

هي لوحة الموناليزا

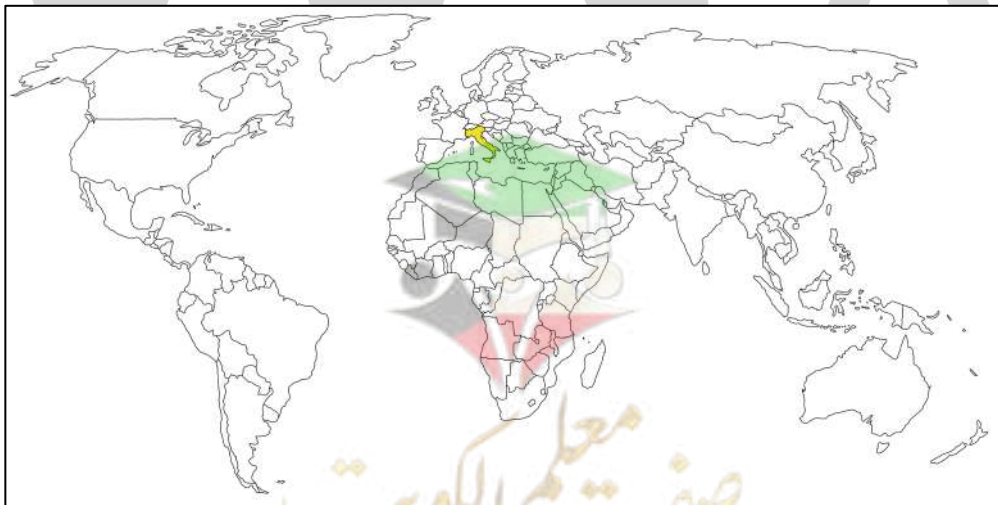


❑ أكمل العبارات التالية :

★ ممكن أن يأتي السؤال بصيغة أخرى: حدد على الخريطة

❑ البلدة التي ولد فيها دافنشي تسمى فنشي

❑ الدولة التي يوجد بها لوحة العشاء الأخير هي إيطاليا



- ٥ المدينة التي يوجد بها متحف اللوفر هي باريس
- ٥ المتحف الذي توجد فيه لوحة الموناليزا ( الجيوكندا ) يسمى اللوفر



لاحظ الصورة التي أمامك ثم أجب عما يلي :



- ٥ من هو صاحب الصورة دافنشي
- ٥ اللقب الذي يطلق عليه هو عبقري النهضة

٥ علل - يطلق على دافنشي اسم عبقري النهضة .

- فنان متعدد المواهب
- نبغ في الرسم والنحت
- اهتم بالأدب والموسيقى والشعر

٥ اكتب مدلول الصورة المقابلة :



العمارة في عصر النهضة



تدرب و تفوق

اختبارات الكترونية ذكية



❑ علل - قيام حركة الإصلاح الديني في أوروبا

★ ممكن أن يظهر السؤال في صيغة أخرى: (عدد- أسباب قيام حركة الإصلاح الديني)

- التنبيه لأهمية إصلاح الكنيسة
- الرغبة في التقدم العلمي
- اهتمام أوروبا بالحياة الدنيوية
- ظهور الكثير من المصلحين الذين نادوا بإصلاح الكنيسة

أكمل العبارات التالية:

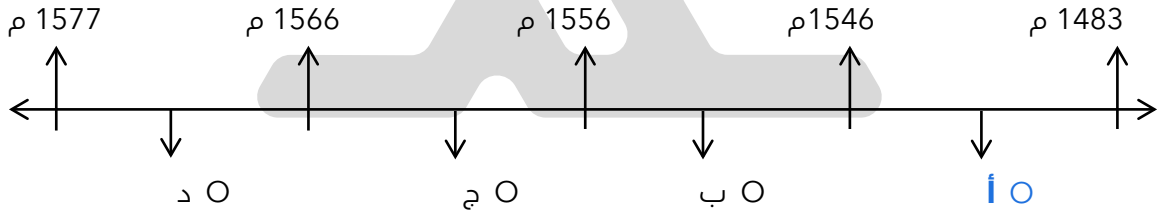
★ ممكن أن يأتي السؤال بصيغة أخرى: اختياري

❑ حركة أحدثت أكبر أثر في مجال حركة الإصلاح الديني في أوروبا تسمى حركة مارتن لوثر

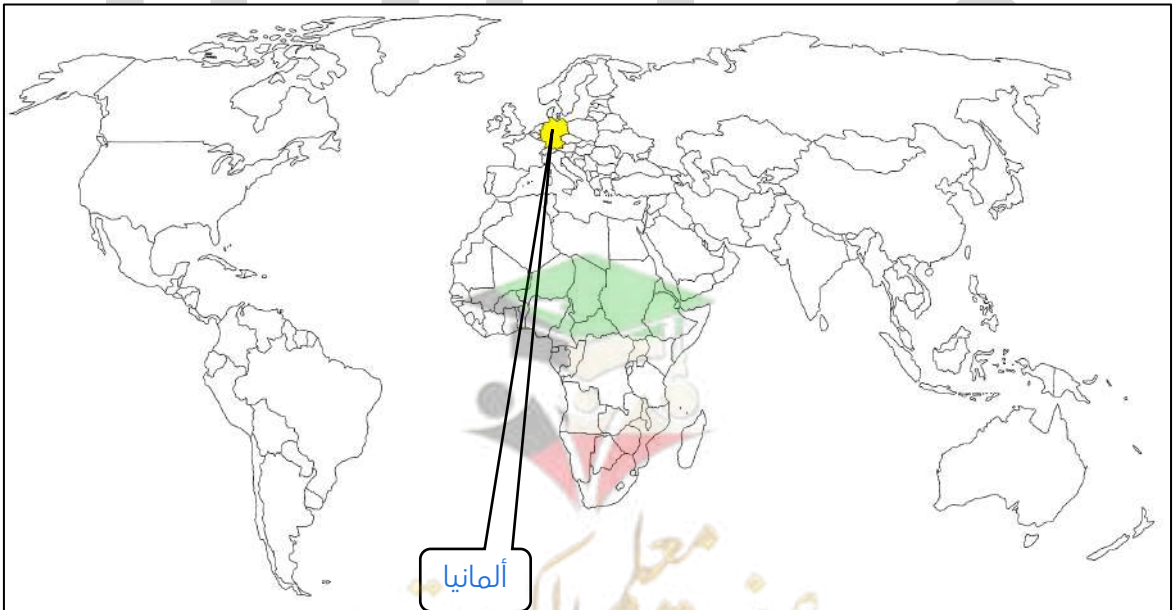
❑ الصورة المقابلة لرجل دين نادى بإصلاح الكنيسة يسمى مارتن لوثر



❑ اختياري: الفترة التي تمثل حياة رجل الإصلاح الديني مارتن لوثر



❑ حدد - الدولة التي ينتمي إليها رجل الإصلاح الديني - مارتن لوثر



## أكمل العبارات التالية:

★ ممكن أن يأتي السؤال بصيغة أخرى: اختياري

❏ العام الميلادي الذي علق فيه مارتن لوثر احتجاجاته على باب الكنيسة هو 1517 م

❏ الكنيسة التي علق عليها مارتن لوثر احتجاجاته تسمى وتنبرج

❏ عدد الحجج التي علقها مارتن لوثر على باب كنيسة وتنبرج ٩٥

❏ ماذا يحدث لو - لم ينادي مارتن لوثر بإصلاح أوضاع الكنيسة

لما حدث أكبر حركة إصلاح ديني في أوروبا

❏ عدد - مطالب مارتن لوثر

★ ممكن أن يأتي السؤال بصيغة أخرى: ( ما - دور مارتن لوثر في حركة الإصلاح الديني )  
فسر - على الرغم من أن مارتن لوثر لم يكن أول رجل ينادي بإصلاح الكنيسة فإن حركته أحدثت أكبر أثر في مجال الإصلاح الديني في أوروبا

- معارضة صكوك الغفران
- رفض احتكار البابا لتفسير الكتاب المقدس
- طلب إنقاص عدد الأديرة
- عارض الحج إلى روما
- السماح بزواج رجال الدين

❏ نفذ المطلوب مما بين القوسين :  
حركة الإصلاح الديني في أوروبا ( النتائج )

★ ممكن أن يأتي السؤال بصيغة أخرى: عدد

- صراع كبير بين أتباع مارتن لوثر والكنيسة
- ثورات وحروب
- نبهت إلى تحرير الكنيسة من مفاستها
- التخلص من هيمنة الكنيسة على حياة الناس في أوروبا

❏ ماذا يحدث لو لم تحدث حركة الإصلاح الديني في أوروبا

- ظلت أوروبا تعيش في العصور الوسطى المظلمة
- ظلت الكنيسة تسيطر على عقول الناس
- لم تتحرر الكنيسة من مفاستها
- ظلت صكوك الغفران سائدة حتى الآن



🎯 **تدرب و تفوق**

اختبارات الكترونية ذكية



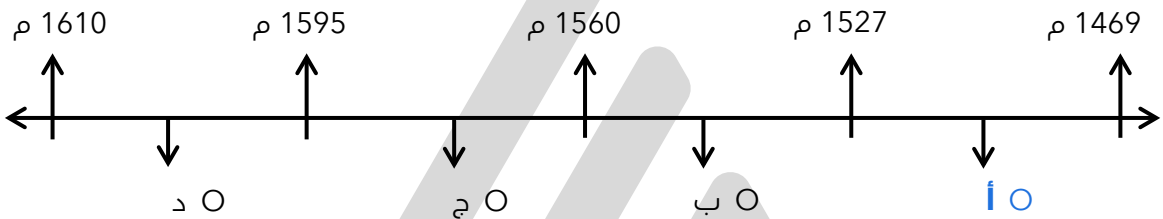
صفوة معلمي الكويت

## المظاهر السياسية



أكمل: الصورة المقابلة لسياسي رسم ملامح الحياة السياسية لعصر النهضة يسمى **نيقولا ماكيافيلي**

اختياري: الفترة الزمنية التي تمثل حياة السياسي نيقولا ماكيافيلي



دال - لم تكن الحياة السياسية بمعزل عن التطورات الأدبية والفنية خلال عصر النهضة

- ظهور المفكر السياسي نيقولا ماكيافيلي
- تأليف كتاب الأمير
- أصبح كتاب الأمير مرجعاً هاماً في أمور الحكم والسياسة في أوروبا

### أكمل العبارات التالية:

☆ ممكن أن يأتي السؤال بصيغة أخرى: **اختياري**

- المدينة التي عاش فيها نيقولا ماكيافيلي تسمى **فلورنسا**
- المنصب السياسي الذي اشتغله ماكيافيلي هو **سفير**
- السبب الذي دفع ماكيافيلي لكتابة أرائه السياسية يرجع إلى سقوط حكومة **فلورنسا**
- من أهم مؤلفات نيقولا ماكيافيلي كتاب يسمى **الأمير**
- العام الميلادي الذي ألف فيه ماكيافيلي كتاب الأمير هو **1513 م**

○ اكتب مما درست ما تعرفه عن نيقولا ماكيافيلي

- عاش في مدينة فلورنسا بإيطاليا
- كان على درجة كبيرة من الثقافة
- تولى العديد من المناصب السياسية
- اشتغل سفيراً لحكومة فلورنسا في العديد من الدول الأوروبية
- ألف كتاب الأمير



## ❏ عدد - آراء نيقولا ماكيافلي

☆ ممكن أن يأتي السؤال بصيغ أخرى: دلل- يعتبر كتاب الأمير مرجعاً هاماً في أمور الحكم والسياسة في أوروبا فند - أيد كتاب الأمير لنيقولا ماكيافلي المشاركة الشعبية في الحكم والسياسة

- تأييد نظام الحكم المطلق القائم على نظرية التفويض الإلهي
- إقرار مبدأ أن الغاية تبرر الوسيلة

## عرف

### ❏ نظرية التفويض الإلهي

الملوك يمثلون الله على الأرض ويستمدون سلطتهم من الله وليس من الشعب

### ❏ مبدأ الغاية تبرر الوسيلة

من حق الحاكم اتخاذ كل وسيلة تحقق استقرار حكمه حتى لو كان هذا يتعارض مع الدين أو الأخلاق

### ❏ ماذا يحدث لو - لم تسقط حكومة فلورنسا في إيطاليا

- لم يتفرغ لكتابة آرائه السياسية
- لما ألف ماكيافلي كتاب الأمير

## لاحظ الصورة التي أمامك ثم أجب عما يلي :

### ❏ من هو صاحب هذه الصورة

نيقولا ماكيافلي

### ❏ أهم مؤلفاته

كتاب الأمير

### ❏ آرائه

- تأييد نظام الحكم المطلق القائم على نظرية التفويض الإلهي
- إقرار مبدأ أن الغاية تبرر الوسيلة

### ❏ اختر من المجموعة ( أ ) ما يناسبها من المجموعة ( ب ) بوضع الرقم المناسب

القائمة ( أ )	الرقم المناسب	القائمة ( ب )
1- دانتي	2	الموناليزا
2- ليوناردو دافنشي	1	الكوميديا الإلهية
3- حنا جوتنبرج	4	الإصلاح الديني
4- مارتن لوثر	3	اختراع أحرف الطباعة المعدنية
		كتاب الأمير



أمامك في الجدول التالي مجموعة من الأحداث التاريخية ، اذكر صاحب الإنجاز

صاحب الإنجاز	الحدث التاريخي
حنا جوتنبرج	1- عالم ألماني اخترع أحرف الطباعة المعدنية
دانتي	2- شاعر إيطالي امتاز بالقدرة الفائقة على الوصف ومن أعماله الكوميديا الإلهية
دافنشي	3- رائد الحركة الفنية في مجال التصوير ومن أعماله لوحة الموناليزا



**تدرب و تفوق**

اختبارات الكترونية ذكية



U U L A





# أسباب قيام حركة الكشوف الجغرافية

❏ اذكر أهم ما يميز تاريخ أوروبا خلال القرنين الخامس عشر والسادس عشر الميلادي  
قيام حركة الكشوف الجغرافية

❏ عرف - الكشوف الجغرافية

هي حركة قامت بها أوروبا خلال القرنين 10 ، 16 م للتعرف على أراضي جديدة لم تكن معروفة من قبل

❏ أكمل : حركة ساعدت على تطور خريطة العالم حتى ظهرت لنا في وقتنا الحاضر بصورة كاملة تسمى  
الكشوف الجغرافية

❏ علل - قيام حركة الكشوف الجغرافية

★ ممكن أن يأتي السؤال بصيغ أخرى: ( اذكر- الدوافع وراء قيام حركة الكشوف الجغرافية )  
نفذ المطلوب منك مما بين القوسين  
كان لقيام حركة الكشوف الجغرافية واشتدادها بين الدول الأوروبية أسباب متعددة ( عددها )

- الدافع الاقتصادي
- الدافع الديني
- نمو الروح القومية
- زيادة المعارف الجغرافية وتقدم مجال الملاحة

❏ علل - يعتبر الدافع الاقتصادي أحد أهم أسباب حركة الكشوف الجغرافية

- البحث عن التوابل ومحاولة تخطي الوساطة التجارية الإسلامية
- حاجة أوروبا إلى الذهب والفضة ( المجاعة النقدية )
- كثرة الحروب في أوروبا أدت إلى أزمات اقتصادية
- العثور على أراضي جديدة بسبب زيادة عدد السكان

❏ اختياري : الدافع الاقتصادي لقيام أوروبا بحركة الكشوف الجغرافية هو الرغبة في :

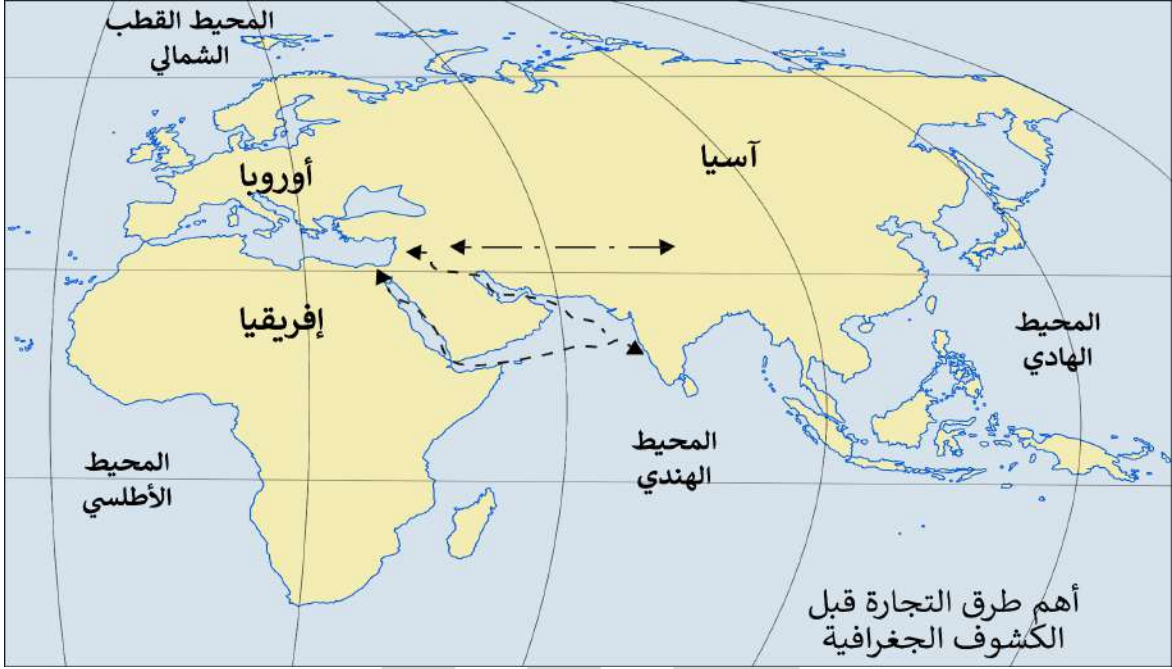
- نشر المسيحية
- زيادة المعلومات الجغرافية
- السيطرة ونشر مبادئها
- تخطي الوساطة التجارية الإسلامية

❏ أكمل : كانت الشعوب الأوروبية في النصف الثاني من القرن الخامس عشر تبحث عن التوابل



علل - كانت الشعوب الأوروبية تبحث عن التوابل في النصف الثاني من القرن الخامس عشر

- لمحاولة تخطي الوساطة التجارية الإسلامية
- سيطرتها على طرق التجارة
- الوصول إلى منابع التجارة الآسيوية والأفريقية



عرف - المجاعة النقدية

حاجة أوروبا إلى الذهب والفضة

علل - أهداف بعض الدول الأوروبية العثور على أراضي جديدة في حركة الكشوف الجغرافية

للسيطرة عليها لإيواء من ضاقت بهم أوطانهم بسبب زيادة عدد السكان



نفذ المطلوب منك مما بين القوسين الكشوف الجغرافية ( الدافع الديني )

☆ ممكن أن يأتي السؤال بصيغة أخرى:

فند العبارة " لم يهتم المكتشفون الأوروبيون بنشر المسيحية في المناطق المكتشفة "

- رغبة الدول الأوروبية في نشر المسيحية بالمناطق المكتشفة
- محاولة تطويق العالم الإسلامي
- تقوية الممالك المسيحية

فند - يختلف الدافع الديني للدول الأوروبية في الكشوف الجغرافية عنه في الحركة الاستعمارية

نشر الدين المسيحي

**دلل على صحة العبارات التالية**

نمو الروح القومية ساعدت أوروبا على القيام بالكشوف الجغرافية

- رغبة الدول الأوروبية القوية في السيطرة على شعوب الدول الضعيفة
- رغبة هذه الدول في التوسع وتكوين إمبراطوريات
- نشر نفوذها ومبادئها

❑ "سيطرت على الأوروبيين في عصر النهضة رغبة قوية لزيادة معلوماتهم الجغرافية "

- ظهور روح البحث العلمي
- تقدم علم الفلك واستخدام البوصلة والاسطرلاب
- التوصل إلى بناء سفن عملاقة عرفت باسم الكرافيل

❑ ساهمت الكشوف الجغرافية في تطور علوم الملاحة

- تقدم علم الفلك
- استخدام البوصلة والاسطرلاب
- التوصل إلى بناء سفن عملاقة سميت ( الكرافيل )

❑ اكتب مدلول الصور المقابلة



الاسطرلاب



الكرافيل

❑ عرف - الكرافيل

هي سفن عملاقة تميزت بكبر حجمها وزيادة أشرعتها ولديها القدرة على المغامرة في وسط المحيطات .



تدرب و تفوق

اختبارات الكترونية ذكية

U U L A



## رحلات الكشوف البرتغالية



أكمل : الدولة الأولى في مجال حركة الكشوف الجغرافية في نهاية القرن الخامس عشر الميلادي هي **البرتغال**

☆ ممكن أن يأتي السؤال بصيغة أخرى: حدد على الخريطة



## اختياري :

البرتغال أول من قامت بحركة الكشوف الجغرافية في نهاية القرن :

- الثالث عشر الميلادي  
 الرابع عشر الميلادي  
 الخامس عشر الميلادي  
 السادس عشر الميلادي

علل - تعتبر البرتغال هي أول من قامت بحركة الكشوف الجغرافية

- توافر الأدوات اللازمة لديهم من علم وخبرة وسفن متطورة
- استقرار الوضع في بلادهم

## أكمل :

اهتم البرتغاليون باكتشاف طريق جديد خارج نطاق مسطح مائي يسمى **البحر المتوسط**

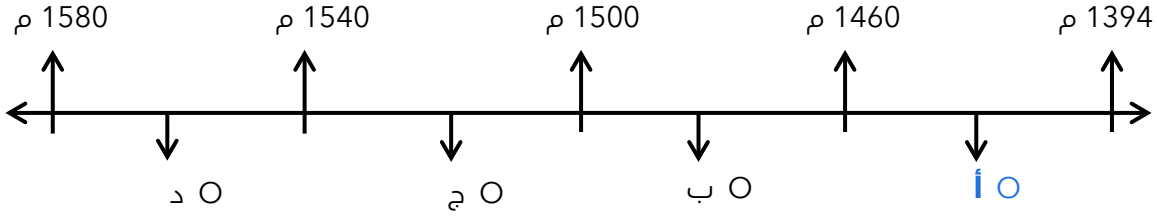
الرحلة الأولى : رحلة الأمير هنري الملاح

الصورة المقابلة تمثل الابن الثالث للملك جون الأول ويسمى **هنري الملاح ( هنري بن جونا )**

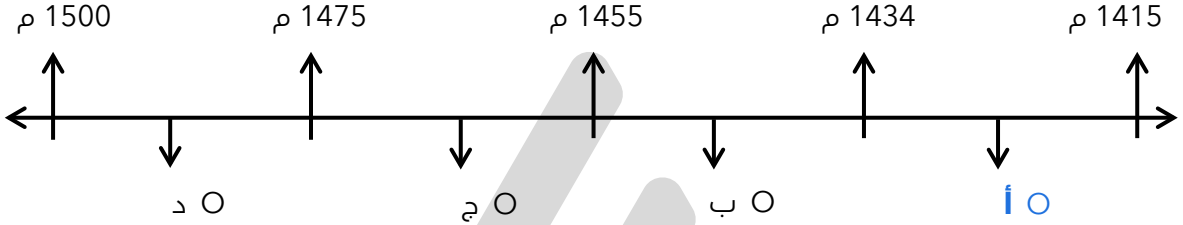


## اختر الإجابة الصحيحة :

الفقرة الزمنية التي تمثل حياة الأمير هنري الملاح



الفقرة الزمنية التي تمثل رحلة الأمير هنري الملاح تحمل على المخطط الزمني الحرف :



## أكمل العبارات التالية :

أول المحاولات الكشفية التي قام بها البرتغاليون رحلة الأمير هنري الملاح

الابن الثالث للملك جون الأول يسمى هنري الملاح

اختياري: بدأت الكشوف الجغرافية البرتغالية في عهد الملك :

○ جون الأول ○ مانويل الأول ○ جون الثاني ○ شارل الخامس

عدد - أهم أعمال الأمير هنري الملاح

☆ ممكن أن يأتي السؤال بصيغة أخرى: دلل - للأمير هنري الملاح دور هام في حركة الكشوف الجغرافية

- أنشأ مدرسة بحرية
- اهتم برسم الخرائط
- أنشأ مرصد بحري
- جلب علماء الفلك والرياضيات من إيطاليا وصقلية
- استعان بالمسلمين الذين كانت لهم دراية في المجال البحري

عدد - اهتمامات المدرسة البحرية التي أنشأها هنري الملاح

- تطوير الأدوات التي استخدمت في عملية الكشوف الجغرافية
- الاهتمام برسم الخرائط

اختياري: قام الأمير هنري الملاح ببناء المرصد البحري في الطرف:

- الجنوبي لشاطئ البرتغال
- الغربي لشاطئ البرتغال
- الشمالي لشاطئ البرتغال
- الشرقي لشاطئ البرتغال



## أكمل العبارات التالية :

☆ ممكن أن يظهر السؤال في صيغة اخرى: حدد على الخريطة

- ❑ المدينة التي تعتبر هي نقطة انطلاق رحلة الأمير هنري الملاح تسمى سبته
- ❑ العام الميلادي الذي بدأت فيه رحلة الأمير هنري الملاح 1415 م
- ❑ من المناطق التي حاول الوصول إليها هنري الملاح الحبشة و الهند
- ❑ المسطح المائي الذي صارت فيه سفن رحلة الأمير هنري الملاح بمحاذاة الساحل الغربي لقارة أفريقيا يسمى المحيط الأطلسي
- ❑ أرسل هنري الملاح البعث إلى الجنوب في المحيط الأطلسي بمحاذاة الساحل الغربي لقارة أفريقيا فوصلت إلى جزيرة تسمى الرأس الأخضر
- ❑ توقفت رحلات هنري الملاح عند ساحل دولة أفريقية تسمى غانا
- ❑ عدد - نتائج رحلة هنري الملاح

☆ ممكن أن يظهر السؤال في صيغة اخرى: عدد - اهم اكتشافات البرتغاليين في عهد هنري الملاح

- اكتشاف جزر ماديرا
- جزر أزور
- رأس بوجادور
- وصول الرحلات إلى ساحل جامبيا والسنغال

- ❑ أكمل : وصلت بحارة رحلة الأمير هنري الملاح إلى رأس بو جادور في عام 1434 م

- ❑ ارسم خط سير رحلة الأمير هنري الملاح



تدرب و تفوق

اختبارات الكترونية ذكية



## الرحلة الثانية : رحلة بارثولميودياز ( ١٤٨٦ م )



دلل - حققت الكشوف الجغرافية البرتغالية في عهد الملك جون الثاني نصراً عظيماً

- الوصول إلى الساحل الجنوبي لقارة أفريقيا في عام ١٤٨٨ م بقيادة بارثولميودياز
- اكتشاف طريق رأس الرجاء الصالح



### أكمل العبارات التالية :

- من أهم الكشوف الجغرافية البرتغالية في الرحلة الثانية كشف طريق يسمى رأس الرجاء الصالح
- الملك البرتغالي الذي تمت في عهده الرحلة الثانية يسمى جون الثاني
- العام الميلادي الذي وصلت فيه رحلة بارثولميودياز إلى الساحل الجنوبي لقارة أفريقيا 1488 م
- منطقة أطلق عليها بارثولميودياز رأس العواصف تسمى الساحل الجنوبي لقارة أفريقيا
- الملك البرتغالي الذي أطلق على منطقة رأس العواصف اسم رأس الرجاء الصالح يسمى جون الثاني
- المكتشف الذي أطلق على الساحل الجنوبي لقارة أفريقيا اسم رأس العواصف يسمى بارثولميودياز
- الملك البرتغالي الذي أطلق على الساحل الجنوبي لقارة أفريقيا اسم رأس الرجاء الصالح يسمى جون الثاني
- الاسم الآخر لطريق رأس العواصف هو رأس الرجاء الصالح
- فسر - تسمية بارثولميودياز للساحل الجنوبي لقارة أفريقيا برأس العواصف لكثرة العواصف التي واجهته في رحلته
- فند - لم يكن لبارثولميودياز دور في حركة الكشوف الجغرافية  
اكتشاف طريق رأس الرجاء الصالح 1488 م

❑ ماذا يحدث لو لم يصل الملاح بارثلميودياز إلى الساحل الجنوبي لقارة أفريقيا  
لما تمكن البرتغاليون من الوصول إلى الهند عبر رأس الرجاء الصالح



🎯 **تدرب و تفوق**

اختبارات الكترونية ذكية

**الرحلة الثالثة : رحلة فاسكودي جاما**

**اختر الإجابة الصحيحة :**

❑ الفترة الزمنية لرحلة فاسكودي جاما هي :

- ( 1497 م - 1499 م ) ○ ( 1501 م - 1503 م ) ○  
( 1499 م - 1501 م ) ○ ( 1503 م - 1505 م ) ○

❑ الملك البرتغالي الذي خرجت في عهده رحلة فاسكو دي جاما

- جون الأول ○ جون الثاني ○ مانويل الأول ○

❑ خرجت رحلة فاسكو دي جاما في 8 يوليو عام :

- 1497 م ○ 1498 م ○ 1499 م ○

❑ عدد السفن في رحلة فاسكو دي جاما

- ثلاث سفن ○ أربع سفن ○ خمس سفن ○ ست سفن ○

❑ المدينة التي خرجت منها رحلة فاسكو دي جاما تسمى :

- لشبونة ○ بورتو ○ براغا ○ أمادورا ○

**أكمل العبارات التالية :**

★ ممكن أن يظهر السؤال في صيغ أخرى: **اختياري - عرف**

❑ المنطقة التي وصل إليها فاسكو دي جاما في 20 مايو 1498 م تسمى **كلكتا**

❑ الساحل الغربي للهند يعرف باسم **ساحل الملبار**

❑ أول من استخدم رأس الرجاء الصالح للوصول إلى الهند يسمى **فاسكو دي جاما**

❑ الصورة المقابلة لرحلة في الكشوف الجغرافية تسمى رحلة **فاسكو دي جاما**

❑ اكتب مدلول الصورة المقابلة

فاسكو دي جاما يصل إلى كلكتا في الهند في 20 مايو عام 1498 م



ارسم خط سير رحلة فاسكو دي جاما



أكمل : المنطقة التي خرجت منها رحلة فاسكو دي جاما للعودة إلى البرتغال تسمى جوا

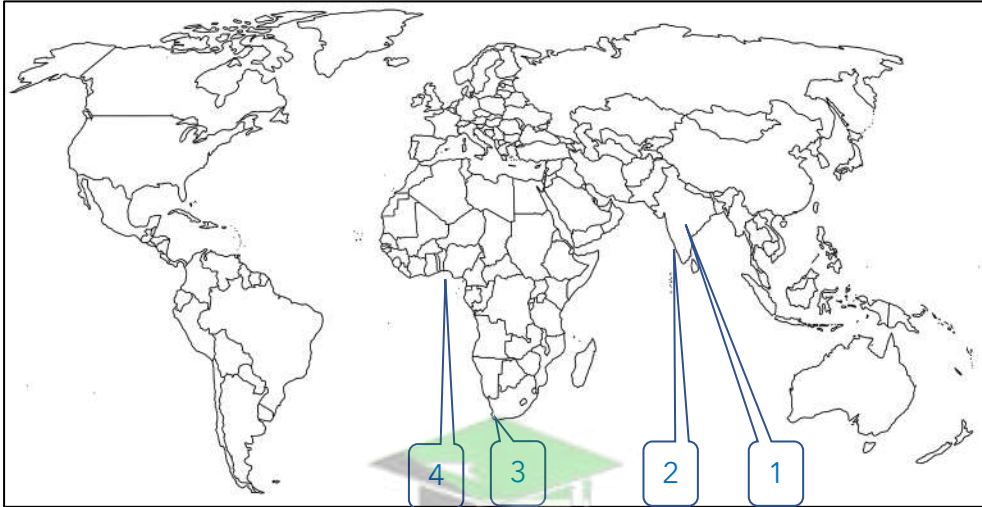
عدد- نتائج رحلة فاسكو دي جاما

☆ ممكن أن يظهر السؤال في صيغة اخرى: فند - لم تحقق رحلة فاسكو دي جاما نتائج إيجابية للبرتغال

- حقق أمل البرتغال في كشف طريق مباشر في الوصول إلى الهند
- أصبحت البرتغال في مركز متقدم في منطقة المحيط الهندي

أكمل : مسطح مائي أصبحت البرتغال فيه في مركز متقدم يسمى المحيط الهندي

لاحظ خريطة العالم ثم نفذ المطلوب منك



4 المنطقة التي توقفت عندها رحلة الأمير هنري الملاح تحمل على الخريطة الرقم

1 الدولة التي تعتبر مركز التوابل تحمل على الخريطة الرقم

2 كلكتا التي وصلت إليها رحلة فاسكو دي جاما تحمل على الخريطة الرقم

3 منطقة أطلق عليها رأس العواصف تحمل على الخريطة الرقم

3 ميناء سانت هيلينا يحمل على الخريطة الرقم

الملك	م
جون الأول	1
فرانسيس الأول	2
جون الثاني	3
مانويل الأول	4
هنري السابع	5

اختباري : الأرقام الدالة على أسماء ملوك ساهموا في حركة الكشوف الجغرافية البرتغالية يمثلها في الجدول المقابل :

( 4 - 3 - 1 ) ○  
( 5 - 4 - 2 ) ○

( 4 - 2 - 1 ) ○  
( 5 - 3 - 2 ) ○



تدرب و تفوق

اختبارات الكترونية ذكية



الكشوف الجغرافية

## رحلات الكشوف الإسبانية

أكمل العبارات التالية :

☆ ممكن أن يأتي السؤال بصيغة أخرى: حدد على الخريطة

الدولة الثانية في حركة الكشوف الجغرافية هي إسبانيا



الجهة التي اتجه إليها البرتغاليون في الكشوف الجغرافية هي الشرق

الجهة التي اتجه إليها الإسبان في الكشوف الجغرافية هي الغرب

المسطح المائي الذي عبره الإسبان في الكشوف الجغرافية يسمى المحيط الأطلسي

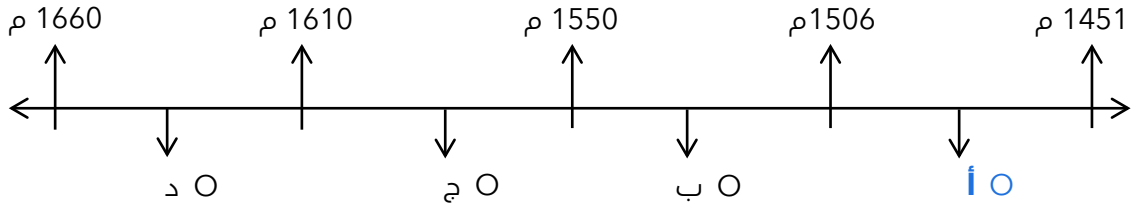
القارة التي وصل إليها الإسبان بعد عبور المحيط الأطلسي لتحقيق هدفهم هي القارة الآسيوية

ما هي أوجه الاختلاف بين الكشوف البرتغالية والكشوف الإسبانية من حيث الجهة

الكشوف الإسبانية	الكشوف البرتغالية
الغرب	الشرق

## الرحلة الأولى : كريستوفر كولمبس

❑ اختياري : الفترة الزمنية التي تمثل حياة كريستوفر كولمبس تحمل على المخطط الزمني الحرف :



### أكمل العبارات التالية :

- ❑ الدولة التي رفضت مشروع كولمبس بناء على توصية مستشاريه هي البرتغال.
- ❑ الدولة التي اتجه إليها كولمبس بعد رفض مستشاري ملك البرتغال مشروعه هي إسبانيا.
- ❑ ملوك إسبانيا اللذان رفضا مشروع كولمبس للمرة الأولى هما فرديناند وإيزابيلا.

### علل لما يلي

- ❑ رفض ملك البرتغال مشروع كولمبس  
بناء على توصية مستشاريه الذين رأوا أنه لا ضرورة للبحث عن طرق جديدة
- ❑ اتجه كولمبس إلى إسبانيا وقدم مشروعه إلى الملك فرديناند والملكة إيزابيلا ولكنها رفضت للمرة الأولى
- ★ يمكن أن يأتي السؤال بصيغة أخرى: علل رفض الملكة إيزابيلا مشروع كولمبس للمرة الأولى  
لأنها كانت مشغولة بالحرب مع المسلمين في الأندلس

### أكمل العبارات التالية :

★ يمكن أن يأتي السؤال بصيغة أخرى: **اختياري**



- ❑ الملكة الإسبانية التي قامت بتمويل مشروع كولمبس تسمى إيزابيلا.
- ❑ العام الميلادي الذي مولت فيه إيزابيلا مشروع كولمبس 1492 م.
- ❑ عدد الرحلات التي قام بها كولمبس 4 رحلات.

❑ اختياري : الملكة الإسبانية التي اكتشفت في عهدها جزر الهند الغربية هي :

- ماري ○ إيزابيث ○ **إيزابيلا** ○ فكتوريا

❑ عدد - المشاكل التي واجهت مشروع كولمبس

- رفض ملك البرتغال مشروع كولمبس
- رفض ملوك إسبانيا فرديناند وإيزابيلا مشروع كولمبس للمرة الأولى





❏ اكتب فيما درست ما تعرفه عن كريستوفر كولمبس

★ ممكن أن يأتي السؤال بصيغ أخرى: **أكمل - اختياري**

- إيطالي من مدينة جنوة
- ولد في عام 1451 م
- عمل لحساب الملكية الإسبانية
- اهتم بالشؤون البحرية في عام 1480 م
- قصد إسبانيا عام 1484 م في عهد فرديناند وإيزابيلا

### اختر الإجابة الصحيحة :

❏ المدينة التي ولد فيها كريستوفر كولمبس تسمى:

- جنوة ○ البندقية ○ فلورنسا ○ ميلانو

❏ العام الميلادي الذي ولد فيه كريستوفر كولمبس :

- 1450 م ○ 1451 م ○ 1452 م ○ 1453 م

❏ بدأت الكشوف الجغرافية الإسبانية في عهد الملك :

- مانويل الأول ○ إيزابيلا ○ جون الأول ○ شارل الخامس

❏ اكتب مدلول الصورة المقابلة

كريستوفر كولمبس



### تدرب و تفوق

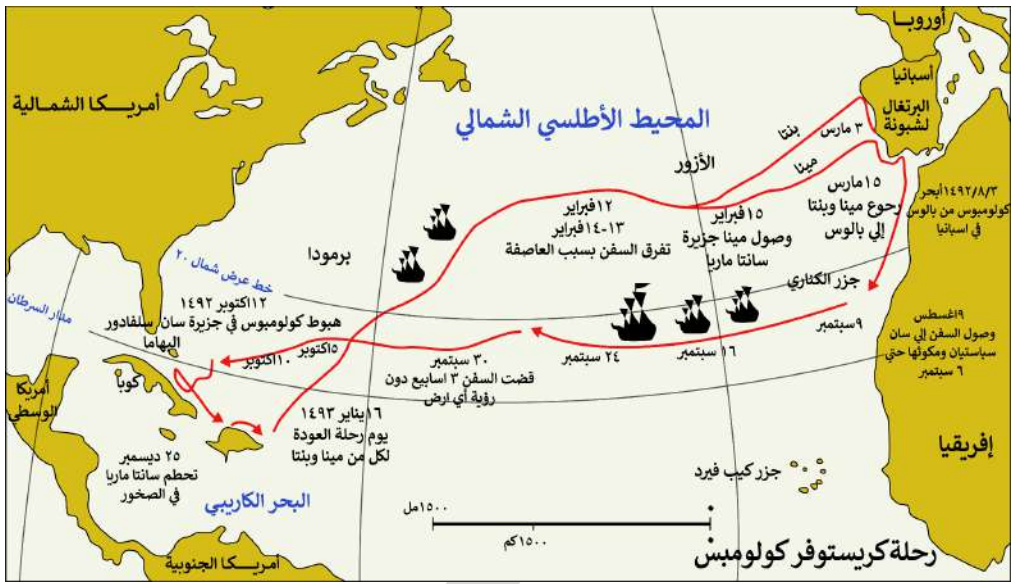
اختبارات الكترونية ذكية



❏ قارن بين رحلات كولمبس حسب الجدول التالي :

★ ممكن أن يأتي السؤال بصيغة أخرى: **عدد**

وجه المقارنة	الرحلة الأولى	الرحلة الثانية
السنة	1492 م	1493 م
النتائج	<ul style="list-style-type: none"><li>▪ اكتشاف جزر الأنتيل</li><li>▪ الكبرى والصغرى</li><li>▪ وصل إلى كوبا</li><li>▪ الإبحار إلى جزيرة هايتي</li></ul>	<ul style="list-style-type: none"><li>▪ اكتشاف جزر الدومينيكا</li><li>▪ سانت كروز</li><li>▪ بورتوريكو</li><li>▪ أبحر إلى الساحل الجنوبي لكوبا</li><li>▪ اكتشاف الساحل الشمالي لجاميكا</li></ul>



### أكمل العبارات التالية :

☆ ممكن أن يأتي السؤال بصيغ أخرى: **اختياري**

١. البهار الإيطالي الذي اكتشف جزر الأنتيل الكبرى والصغرى يسمى **كولمبس**
٢. الاسم الذي أطلق على جزيرتي الأنتيل الكبرى والصغرى هو **سان سلفادور**
٣. العام الميلادي الذي أبحر فيه كولمبس إلى جزيرة هايتي هو **1492 م**
٤. وصل كولمبس إلى كوبا في الرحلة **الأولى - 1492م**
٥. أطلق على السفينة التي تحطمت في رحلة كولمبس اسم **سانتا ماريا**

### اختر الإجابة الصحيحة :

١. جزر الدومينيكا وسانت كروز تم اكتشافهما في :  
 ○ الرحلة الأولى ○ **الرحلة الثانية** ○ الرحلة الثالثة ○ الرحلة الرابعة

٢. العام الميلادي الذي اكتشف فيه كولمبس الساحل الشمالي لجاميكا :  
 ○ 1492 م ○ **1493 م** ○ 1494 م ○ 1495 م

٣. قارن بين رحلات كولمبس حسب الجدول التالي :

☆ ممكن أن يأتي السؤال بصيغة أخرى: **عدد النتائج**

وجه المقارنة	الرحلة الثالثة	الرحلة الرابعة
السنة	1498 م	1502 م
النتائج	<ul style="list-style-type: none"> <li>وصل إلى جزيرة ترينداد</li> <li>اتجه إلى ساحل فنزويلا</li> <li>شاهد اندفاع كميات من المياه تندفع من خليج مصب نهر أورنيكو</li> </ul>	<ul style="list-style-type: none"> <li>وصل إلى ساحل أمريكا الوسطى</li> </ul>



☆ ممكن أن يأتي السؤال بصيغة أخرى: أكمل

١٥ العام الميلادي الذي وصل فيه كولمبس إلى جزيرة ترينداد :  
 ١٥١٩ م ○ ١٤٩٣ م ○ ١٤٩٨ م ○ ١٥٢٠ م ○

١٥ وصل كولمبس إلى ساحل أمريكا الوسطى عام ١٥٢٠ م في الرحلة :  
 ١٥١٩ م ○ الثانية ○ الثالثة ○ الرابعة ○

١٥ أكمل : شاهد كولمبس اندفاع كميات من المياه تندفع من خليج مصب نهر يسمى أورنيوكو

١٥ ماذا يحدث لو - لم تمول إيزابيلا مشروع كولمبس  
 ▪ لما وصل إلى جزر الهند الغربية ▪ لما قام بأربع رحلات



تدرب و تفوق

اختبارات الكترونية ذكية

الكشوف الجغرافية

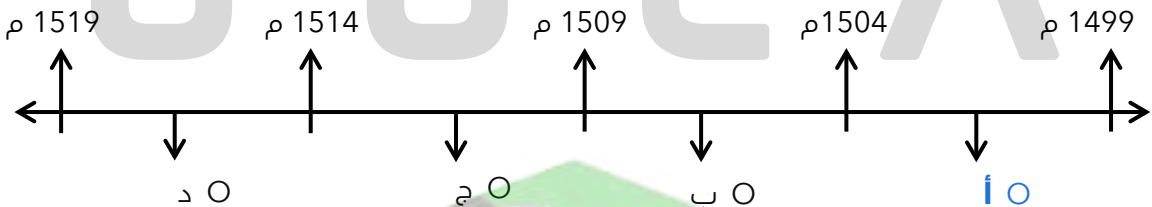
## رحلة أمريكو فسبوتشي



١٥ اكتب فيما درست ما تعرفه عن أمريكو فسبوتشي

- إيطالي من فلورنسا
- ولد عام ١٤٥١ م
- أصبح مدرساً لعلم الفلك والجغرافيا والملاحة

١٥ اختياري : الفترة الزمنية التي تمثل رحلة المكتشف أمريكو فسبوتشي تحمل على المخطط الزمني الحرف :



صفوة معلم الكويت

## أكمل العبارات التالية :

☆ ممكن أن يأتي السؤال بصيغ أخرى: **اختياري - حدد على الخريطة**

❑ مكتشف إيطالي الأصل قام بثلاث رحلات من أوروبا في الفترة ما بين 1499 م - 1504 م يسمى **أمريكو فسبوتشي**



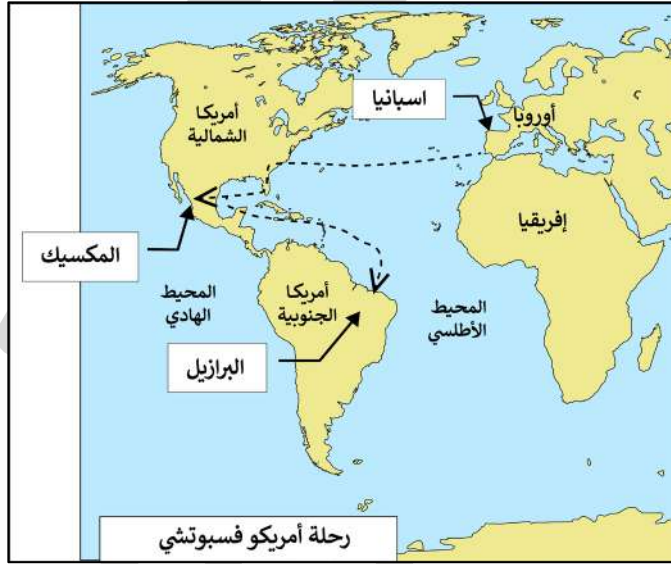
❑ الدولة التي ينتمي إليها أمريكو فسبوتشي تسمى **إيطاليا**

❑ الدولة التي عمل لحسابها أمريكو فسبوتشي في الكشوف الجغرافية تسمى **البرتغال**

❑ عدد الرحلات التي قام بها أمريكو فسبوتشي **ثلاث رحلات**

❑ عدد - النتائج المترتبة على رحلات أمريكو فسبوتشي

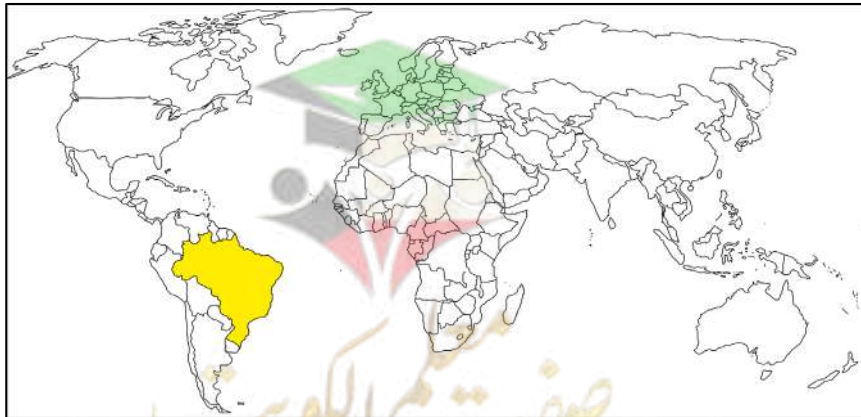
- اكتشاف ساحل المكسيك
- جزر الساحل الشرقي للولايات المتحدة
- ساحل أمريكا الجنوبية
- الوصول إلى البرازيل



## أكمل العبارات التالية :

☆ ممكن أن يأتي السؤال بصيغة أخرى: **حدد على الخريطة**

❑ الدولة التي اكتشفها المكتشف الإيطالي أمريكو فسبوتشي هي **البرازيل**

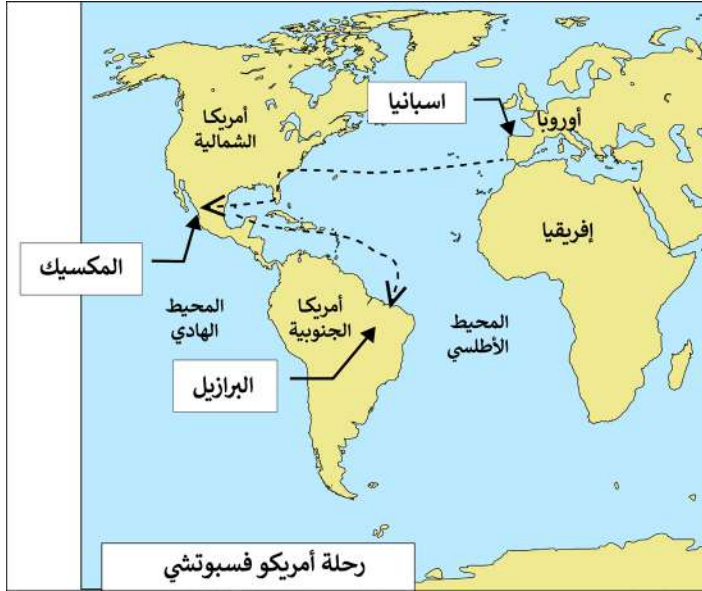


اختياري : العام الميلادي الذي سمي فيه أمريكا فسيو تشي العالم الجديد باسم أمريكا :  
1505 م ○ 1506 م ○ 1507 م ○

علل - تسمية العالم الجديد باسم أمريكا  
نسبة إلى أمريكا فسيو تشي

أكمل : أطلق على العالم الجديد الذي وصل إليه أمريكا فسيوتشي اسم أمريكا

ارسم خط سير رحلات أمريكا فسيوتشي



اكتب فقرة تاريخية مترابطة في حدود ثلاثة أسطر مستعيناً بالكلمات الآتية  
( العالم الجديد - فسيوتشي - ساحل المكسيك - البرازيل )

أمريكا فسيوتشي مكتشف إيطالي الأصل من مدينة فلورنسا قام بثلاث رحلات من أوروبا واتجه غرب المحيط الأطلسي وكانت نتيجة رحلاته اكتشاف ساحل المكسيك وجزر الساحل الشرقي للولايات المتحدة وكذلك ساحل أمريكا الجنوبية ثم وصل إلى البرازيل وأكد فيما بعد أنه قد وصل إلى عالم جديد وفي عام 1507 م سمي هذا العالم باسم أمريكا .

ما هي أوجه الشبه بين كل من كولمبس وأمريكا فسيوتشي

- كلاهما مكتشفين وملاحان
- كلاهما إيطاليان
- كلاهما وصل إلى العالم الجديد



تدرب و تفوق

اختبارات الكترونية ذكية

## رحلة فرديناند ماجلان

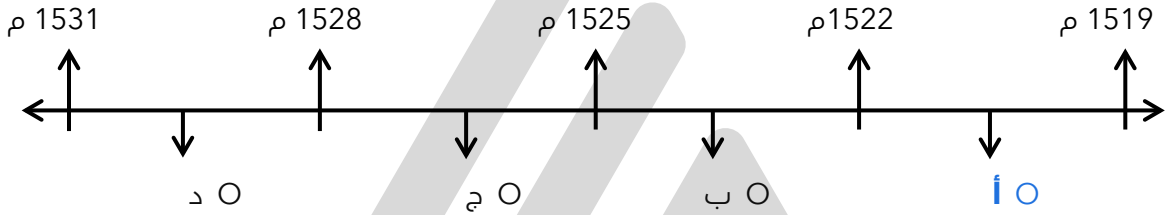


اكتب مدلول الصورة المقابلة

☆ ممكن أن يأتي السؤال بصيغة أخرى: **أكمل**

الرحلة ماجلان

اختياري : الفترة الزمنية التي تمثل رحلة فرديناند ماجلان تحمل على المخطط الزمني الحرف :



**أكمل العبارات التالية :**

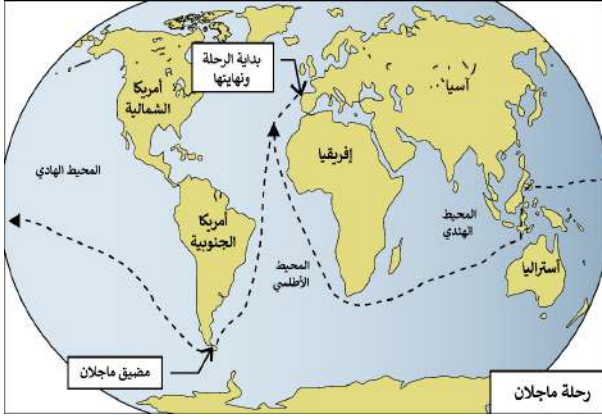
☆ ممكن أن يأتي السؤال بصيغة أخرى: **اختياري - اكتب المفهوم**

- الإمبراطور الإسباني الذي كلف ماجلان بالبحث عن طريق يؤدي إلى الهند مباشرة يسمى **شارل الخامس**
- المدينة الإسبانية التي خرجت منها رحلة ماجلان تسمى **إشبيلية**
- خرج ماجلان من إشبيلية في 18 أكتوبر عام **1519 م**
- الميناء الذي أبحرت منه رحلة ماجلان يسمى **سان لوكار**
- بعد خروج ماجلان من ميناء سان لوكار اتجه إلى الجنوب حتى وصل إلى ساحل البرازيل و **سان جوليان**
- القارة التي طاف حول شاطئها الشرقي فرديناند ماجلان هي **أمريكا الجنوبية**
- ممر مائي يفصل بين الطرف الجنوبي لأمريكا الجنوبية وجزيرة أرض النار يسمى **مضيق ماجلان**
- الجزيرة التي يفصل مضيق ماجلان بينها وبين أمريكا الجنوبية تسمى **أرض النار**
- المسطح المائي الذي عبر إليه ماجلان بعد عبوره مضيق ماجلان يسمى **المحيط الهادي**
- وصل فرديناند ماجلان إلى جزر الفلبين واكتشف جزيرة تسمى **ساما**
- قتل ماجلان في نزاع مع سكان إحدى جزر الفلبين في 27 إبريل عام **1521 م**

❑ علة - أهمية رحلة ماجلان

★ ممكن أن يأتي السؤال بصيغة أخرى: عدد - نتائج رحلة ماجلان

- اكتشاف مضيق ماجلان
- محيط سماه بالهادي
- جزيرة ساما



❑ أكمل العبارات التالية :

★ ممكن أن يأتي السؤال بصيغة أخرى: حدد على الخريطة



❑ الملاح الذي تولي قيادة الرحلة بعد مقتل ماجلان في الفلبين يسمى **جون سباستيان ديلاكانو**

❑ الدولة التي قتل فيها ماجلان تسمى **الفلبين**

❑ علة - تسمية الفلبين بهذا الاسم تكريماً للملك فيليب الثاني ابن شارل الخامس الذي قد تولي العرش

❑ أكمل العبارات التالية :

❑ دولة سميت نسبة إلى ابن شارل الخامس تسمى **الفلبين**

❑ بعد مغادرة حملة ديلاكانو الفلبين وصلت إلى جزر تسمى **بورنيو**

❑ عدد - الجزر التي مر عليها جون سباستيان ديلاكانو بعد مغادرة الفلبين

- جزر الملوك
- جزر التوابل

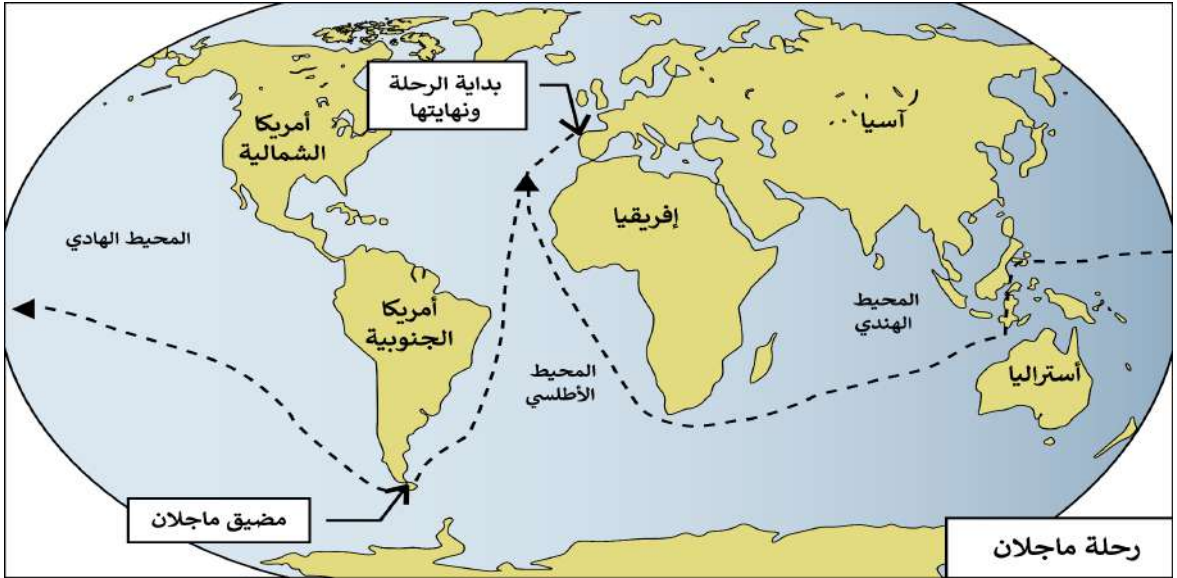


## أكمل العبارات التالية :

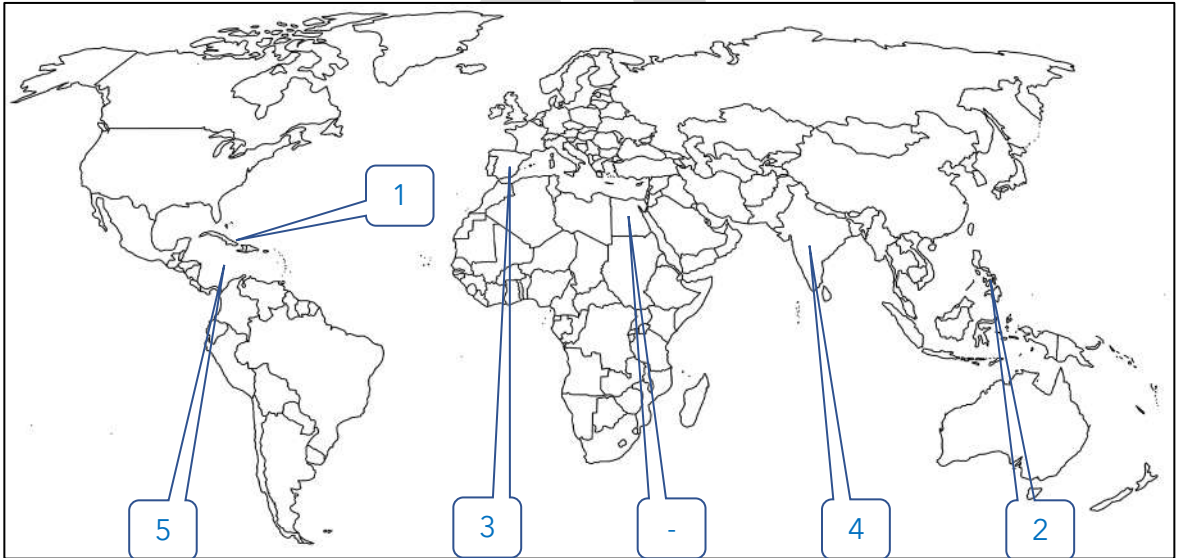
عادت حملة ديلاكانو إلى إسبانيا بعد أن عبروا المحيط الهندي مروراً بطريق يسمى رأس الرجاء الصالح

عدد السنوات التي استغرقتها رحلة ماجلان ثلاث سنوات

ارسم خط سير رحلة ماجلان



ضع رقم كل عبارة مما يلي في المربع المناسب على الخريطة



1- منطقة يعتبر كولمبس هو أول من وصل إليها

2- جزر قتل فيها الملاح ماجلان في صراعه مع السكان الأصليين

3- دولة يرجع إليها الفضل في اكتشاف جزر الهند الغربية

4- دولة تعد هي مركز التوابل

5- البحر الكاريبي



## الكشوف الجغرافية

## الكشوف الإنجليزية

علل - اهتمام إنجلترا برحلات الكشوف الجغرافية

للبحث عن طريق جديد إلى الصين وجزر الهند الشرقية

## اختر الإجابة الصحيحة :

دولة يعتبر دورها صغيراً في ميدان الكشوف الجغرافية بالنسبة لكل من البرتغال و إسبانيا :

إنجلترا ○ هولندا ○ إيطاليا ○ ألمانيا ○

الجهة التي سلكها الإنجليز في الكشوف الجغرافية هي :

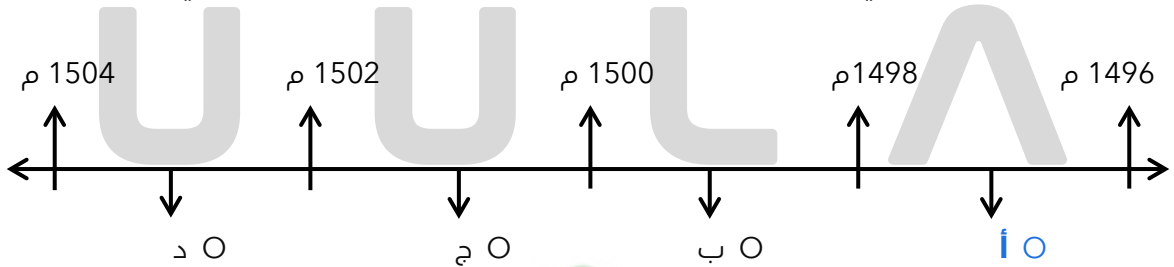
الشرق ○ الغرب ○  
شمال غرب المحيط الأطلسي ○ جنوب غرب المحيط الأطلسي ○

عدد - رحلات الكشوف الإنجليزية في الكشوف الجغرافية

- رحلة جون كابوت
- رحلة مارتن فروبشير
- رحلة جون ديفيز
- رحلة هنري هديسون
- رحلة جيمس كوك

## الرحلة الأولى : رحلة جون كابوت

اختياري : الفترة الزمنية التي تمثل رحلة المكتشف جون كابوت تحمل على المخطط الزمني الحرف :

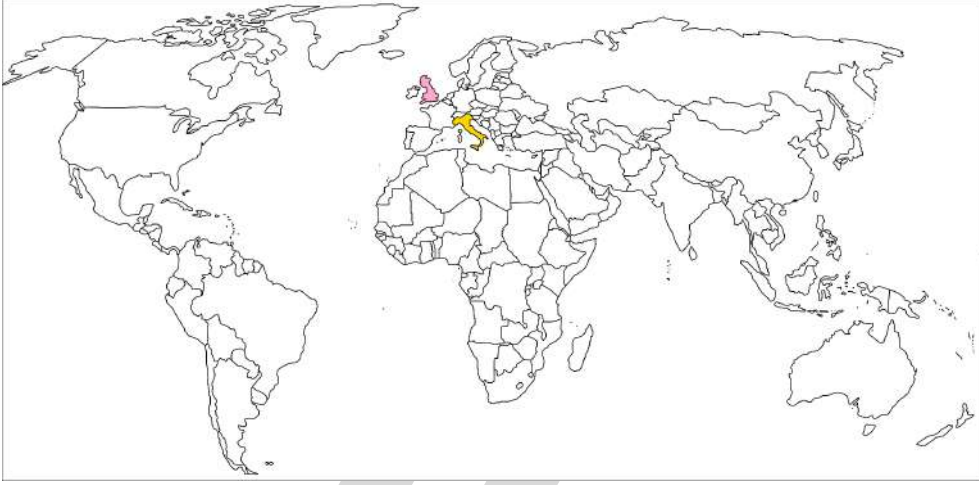




## أكمل العبارات التالية :

☆ ممكن أن يأتي السؤال بصيغة أخرى: حدد على الخريطة

- Q الدولة التي ينتمي إليها جون كابوت هي إيطاليا
- Q مدينة إيطالية نرح منها جون كابوت إلى إنجلترا تسمى البندقية
- Q الملك الإنجليزي الذي وصل في عهده جون كابوت إلى إنجلترا يسمى هنري السابع



## اختر الإجابة الصحيحة :

☆ ممكن أن يأتي السؤال بصيغة أخرى: أكمّل - حدد على الخريطة

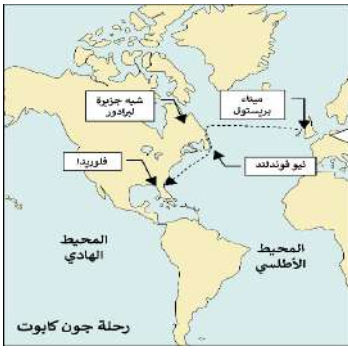
- Q خرج جون كابوت على رأس بعثة لاكتشاف أقاليم جديدة في عام :  
O 1495 م O 1496 م O 1497 م O 1498 م
- Q الملك الإنجليزي الذي خرجت في عهده رحلة جون كابوت :  
O جيمس الثاني O هنري السابع O وليم الثالث O شارل الثاني
- Q الميناء الذي خرجت منه رحلة جون كابوت :  
O بريستول O ليفربول O سان لوكار O لندن
- Q الدولة التي يقع فيها ميناء بريستول :  
O إنجلترا O إسبانيا O البرتغال O فرنسا
- Q أكمّل : المسطح المائي الذي عبره جون كابوت للوصول إلى شبه جزيرة لبرادور يسمى المحيط الأطلسي



عدد - النتائج المترتبة على رحلة جون كابوت

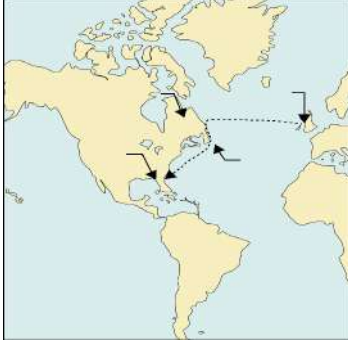
☆ ممكن أن يأتي السؤال بصيغة أخرى:  
اكتب دور جون كابوت في الكشوف الإنجليزية - اختياري - أكمل

- اكتشاف جزيرة نيوفوندلند
- شبه جزيرة لبرادور
- الشاطئ الشرقي لأمريكا الشمالية حتى فلوريدا



اختياري : الرحلة المقابلة لمكتشف يسمى :

- مارت فروبشير
- هنرس هيدسون
- جون ديفيز
- جو كابوت



ارسم خط سير رحلة جون كابوت

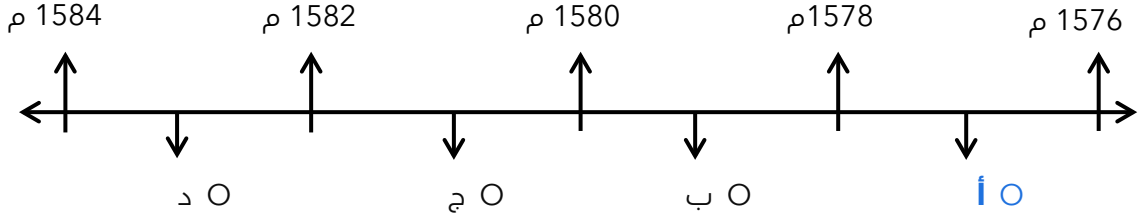


ما هي أوجه الشبه بين كل من كولمبس وجون كابوت

- كلاهما مكتشفين وملاحان
- كلاهما إيطاليان
- كلاهما وصل إلى العالم الجديد

## الرحلة الثانية : مارتن فروبشير

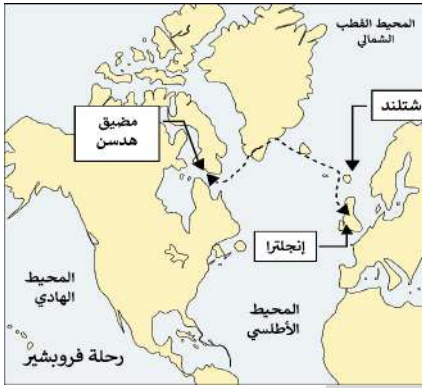
❑ اختياري: الفترة الزمنية التي تمثل رحلة المكتشف مارتن فروبشير تحمل على المخطط الزمني الحرف



❑ عدد - النتائج المترتبة على رحلات مارتن فروبشير

★ يمكن أن يأتي السؤال بصيغة أخرى: اكتب دور مارتن فروبشير في حركة الكشوف الجغرافية - اختياري - أكمل - حدد

- وصل إلى جزيرة شتلند
- وصل إلى جزيرة جرينلند
- اكتشاف مضيق هدرسن



## اختر الإجابة الصحيحة :

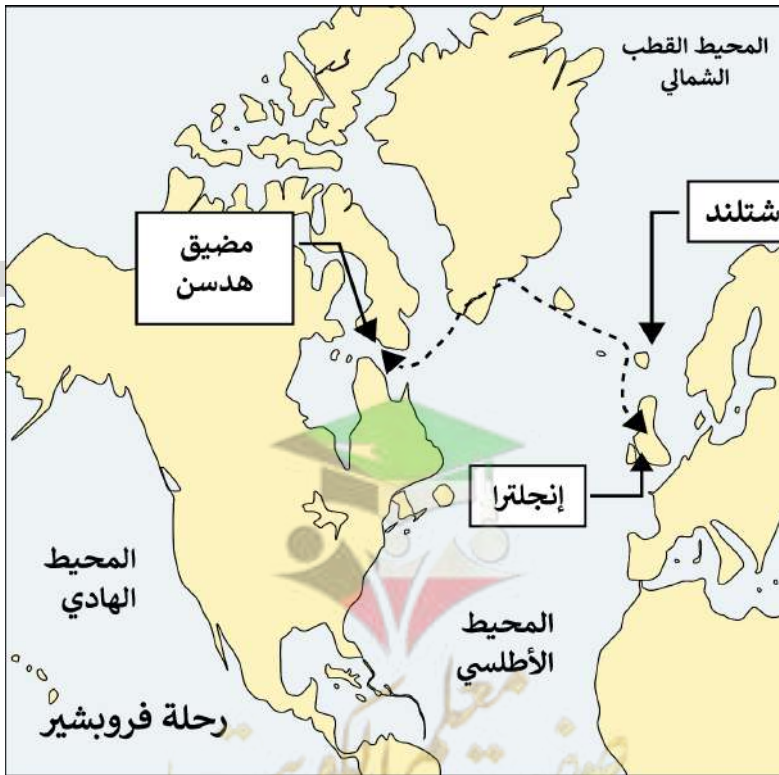
❑ الرحلة المقابلة لمكتشف يسمى :

- مارتن فروبشير
- جون كابوت
- هنرس هدرسون
- جون ديفيز

❑ مكتشف مضيق هدرسن يسمى :

- هنري هدرسن
- مارتن فروبشير
- جيمس كوك
- جون ديفيز

❑ ارسم خط سير رحلة مارتن فروبشير



قارن بين الاكتشافات كل من :

جون كابوت	مارتن فروبشير
<ul style="list-style-type: none"><li>اكتشف جزيرة نيوفوندلند</li><li>شبه جزيرة لبرادور</li></ul>	<ul style="list-style-type: none"><li>وصل إلى جزيرة شتلند</li><li>وصل إلى جزيرة جرينلند</li></ul>



تدرب و تفوق

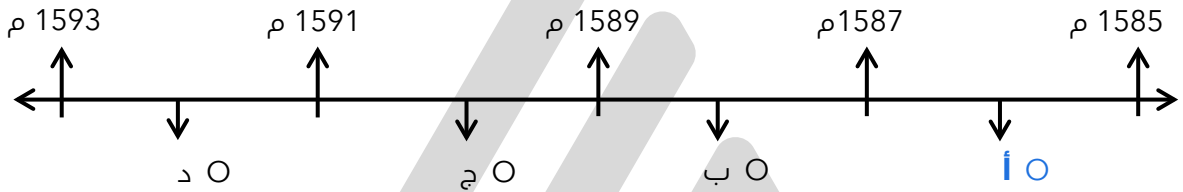
اختبارات الكترونية ذكية

الرحلة الثالثة : جون ديفيز

اختر الإجابة الصحيحة :



الفترة الزمنية التي تمثل رحلة المكتشف جون ديفيز تحمل على المخطط الزمني الحرف



الفترة من عام 1585 م - 1587 م تمثل رحلة المكتشف :

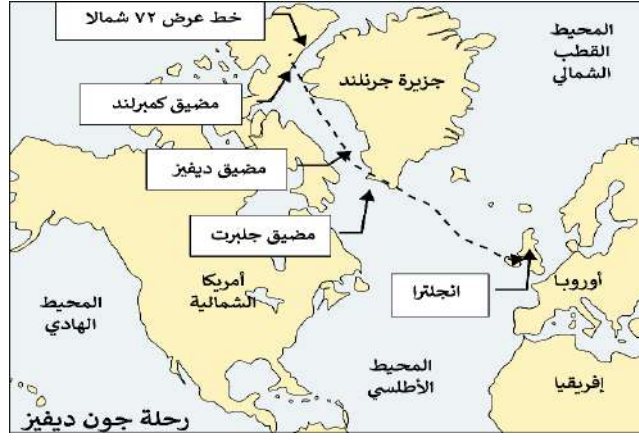
جون كابوت      جون ديفيز      مارتن فروبشير      هنري هدسن

عدد - نتائج رحلة جون ديفيز

ممكن أن يأتي السؤال بصيغ أخرى: بين دور جون ديفيز في الكشوف الجغرافية - اختياري - أكمل



- وصل إلى مضيق جيلبرت
- أبحر شمال غرب إلى مضيق ديفيز
- أتجه إلى شمال مضيق كمبرلند
- وصل إلى خط عرض 72 شمالاً



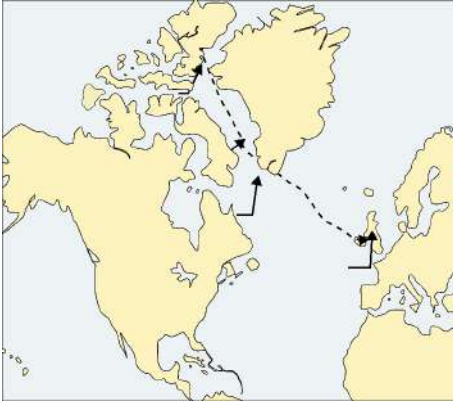
### اختر الإجابة الصحيحة :

المكتشف الذي وصل إلى خط عرض 72 شمالاً يسمى :

- جون كابوت  جون ديفيز  مارتن فروبشير  هنري هيدسن


الرحلة المقابلة تمثل رحلة الملاح :

- جون كابوت  جون ديفيز  مارتن فروبشير  هنري هيدسن



فرق بين نتائج الرحلات التالية

النتائج	رحلات الملاحون
<ul style="list-style-type: none"> <li>▪ اكتشاف ساحل المكسيك</li> <li>▪ الساحل الشرقي للولايات المتحدة</li> <li>▪ الوصول إلى البرازيل</li> </ul>	<ul style="list-style-type: none"> <li>▪ <b>أمريكو فسبوتشي</b></li> </ul>
<ul style="list-style-type: none"> <li>▪ وصل إلى مضيق جلبرت</li> <li>▪ وصل إلى مضيق كمبرلند</li> <li>▪ وصل إلى مضيق ديفيز</li> <li>▪ وصل إلى دائرة عرض 72 شمالاً</li> </ul>	<ul style="list-style-type: none"> <li>▪ <b>جون ديفيز</b></li> </ul>





## الرحلة الرابعة : هنري هدسون

### أكمل العبارات التالية :

٥ العام الميلادي الذي أبحر فيه هدسون إلى مضيق يقع في الشمال الشرقي من كندا **1610 م**

٥ خليج كان يظن هنري هدسون بأنه المحيط الهادي ولكنه في الواقع خليج ضخم يعرف حالياً باسم **خليج هدسون**

٥ عرف - خليج جيمس

هو ذراع من خليج هدسون

٥ فسر - تسمية النهر الكبير بنهر هدسون

تكريماً لهنري هدسون

### أكمل العبارات التالية :

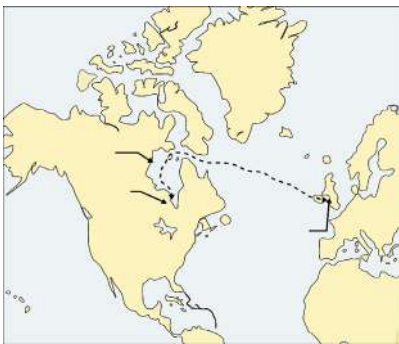
٥ النهر الكبير يطلق عليه اسم **نهر هدسون**

٥ المدينة العملاقة التي تقع على مصب نهر هدسون تسمى **نيويورك**

٥ اكتب دور هنري هدسون في الكشوف الجغرافية الإنجليزية

★ يمكن أن يأتي السؤال بصيغ أخرى: عدد - نتائج رحلة هنري هدسون ( حدد على الخريطة )

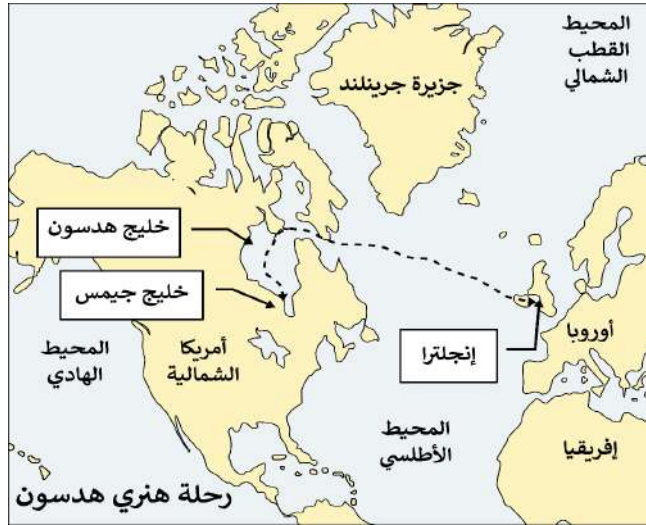
▪ خليج هدسون ▪ خليج جيمس ▪ نهر هدسون



٥ أكمل : الخريطة المقابلة تمثل رحلة المكتشف **هنري هدسون**



ارسم خط سير رحلة هنري هيدسون



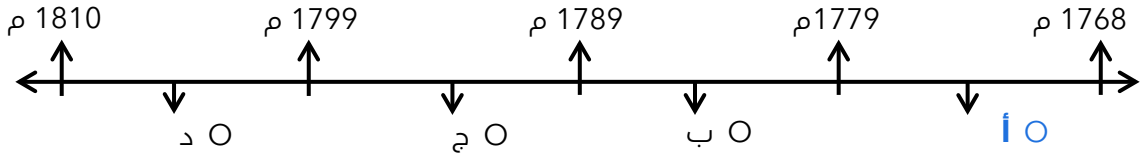
تدرب و تفوق

اختبارات الكترونية ذكية

الرحلة الخامسة : جيمس كوك

اختر الإجابة الصحيحة

الفترة الزمنية لرحلات جيمس كوك تحمل على المخطط الزمني الحرف :



الفترة الزمنية لرحلات جيمس كوك هي :

( 1587 م - 1585 م )  
( 1779 م - 1768 م )

( 1578 م - 1576 م )  
( 1610 م - 1600 م )

أكمل العبارات التالية :

الجهة التي اختارت جيمس كوك للعمل في خدمة الأبرالية الإنجليزية تسمى الجمعية الملكية

العام الميلادي الذي تم فيه اختيار جيمس كوك للعمل في خدمة الأبرالية الإنجليزية 1768م

عدد الرحلات التي أنجزها جيمس كوك خلال القرن الثامن عشر الميلادي 3 رحلات

اختياري : عدد الرحلات الاستكشافية الإنجليزية في القرن الثامن عشر :

ثلاث رحلات ○ أربع رحلات ○ خمس رحلات ○ ست رحلات



## عدد-النتائج المترتبة على رحلات جيمس كوك

Q الرحلة الأولى 1768 م - 1771 م

- الوصول إلى نيوزيلندا
- الساحل الشرقي لقارة أستراليا

Q الرحلة الثانية 1772م - 1775 م :

- اخترق مياه القطب الجنوبي المتجمد
- الثلج منعه من رؤية القارة القطبية الجنوبية

Q فسر - عدم رؤية جيمس كوك لقارة أنتاركتيكا ( القارة القطبية الجنوبية )

لأن الثلج وقف عقبه في طريقه ومنعه من رؤية القارة

Q الرحلة الثالثة 1776 م :

- وصل إلى جزر هاواي
- وصل إلى المحيط المتجمد الشمالي

## اختر الإجابة الصحيحة

Q مكتشف الساحل الشرقي لقارة أستراليا يسمى :

- هنري هيدسون ○ جيمس كوك ○ جون ديفيز ○ جون كابوت

Q الرحلة التي وصل فيها جيمس كوك إلى نيوزيلندا هي :

- الأولى ○ الثانية ○ الثالثة ○ الرابعة

Q المكتشف الذي منعه الثلج من رؤية القارة القطبية الجنوبية يسمى :

- جيمس كوك ○ جون ديفيز ○ صمويل هيرن ○ مارتن فروبشير

Q العام الميلادي الذي وصله فيه جيمس كوك إلى جزر هاواي :

- 1773 م ○ 1774 م ○ 1775 م ○ 1776 م

Q الملاح الإنجليزي الذي تمكن من الوصول إلى جزر هاواي ووصل إلى المحيط المتجمد الشمالي اسمه :

- جيمس كوك ○ فروبشير ○ جون كابوت ○ ديفيز

Q جزر وصل إليها الملاح جيمس كوك عام 1776 م اسمها

- هاواي ○ هايتي ○ أزور ○ الأنتيل الكبرى

Q القارة التي وصل جيمس كوك إلى سواحلها الشرقية في رحلته الأولى تسمى

- أستراليا ○ آسيا ○ أفريقيا ○ أمريكا الشمالية

## أكمل العبارات التالية :


٥ العام الميلادي الذي وصل فيه جيمس كوك إلى المحيط المتجمد الشمالي 1776 م

٥ الرحلة التي وصل فيها جيمس كوك إلى جزر هاواي والمحيط المتجمد الشمالي هي الرحلة الثالثة

٥ الساحل الذي صار جيمس كوك بمحاذاته حتى يصل إلى المحيط المتجمد الشمالي يسمى ساحل كندا

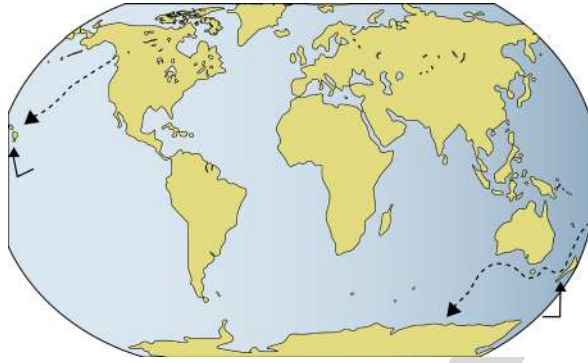
٥ أكمل الناقص في الجدول التالي

الدليل	النتيجة	السبب	ارتباطات
<ul style="list-style-type: none"> <li>الإشراف على الطريق البري في قارة آسيا</li> <li>الإشراف على الطرق المؤدية للهند والتي تربط المحيط الهندي بذراعي الخليج العربي والبحر الأحمر</li> </ul>	<ul style="list-style-type: none"> <li>سيطرة المسلمين على أهم الطرق التجارية البحرية</li> </ul>	<ul style="list-style-type: none"> <li>إشراف المسلمين على أهم المسطحات البحرية</li> <li>البراعة البحرية والتجارية للمسلمين</li> </ul>	الوساطة التجارية الإسلامية قبل الكشوف الجغرافية
<ul style="list-style-type: none"> <li>عرض مشروعه على ملك البرتغال فرفضه بناء على توصية مستشاريه</li> <li>توجه لملوك إسبانيا ولكنهم رفضوا لانشغالهم بالحرب مع المسلمين</li> <li>جدد الطلب وبالفعل مولته في عام 1492م بعد خروج المسلمين</li> </ul>	<ul style="list-style-type: none"> <li>قام بأربع رحلات إلى الغرب حيث اكتشف جزر الهند الغربية وبعض أجزاء من أمريكا الوسطى</li> </ul>	<ul style="list-style-type: none"> <li>رغبته في الوصول إلى الهند</li> </ul>	إصرار كريستوفر كولمبس على تنفيذ مشروعه
<ul style="list-style-type: none"> <li>انجز ثلاث رحلات استكشافية خلال القرن الثامن عشر الميلادي</li> </ul>	<ul style="list-style-type: none"> <li>تم اختياره بواسطة الجمعية الملكية عام 1768 م</li> </ul>	<ul style="list-style-type: none"> <li>تطوعه في خدمة الأميرالية الإنجليزية</li> </ul>	براعة جيمس كوك البحرية



قارن بين كل من الرحلة الأولى لكريستوفر كولمبس والرحلة الثالثة لجيمس كوك في الكشوف الجغرافية

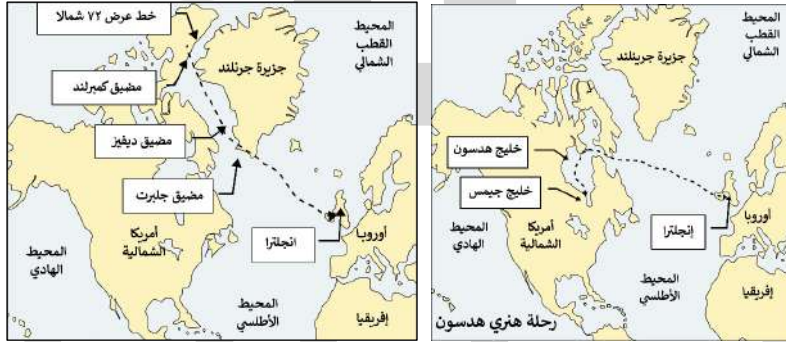
وجه المقارنة	الرحلة الأولى لكريستوفر كولمبس	الرحلة الثالثة لجيمس كوك
السنة	1492 م	1776 م
النتائج - المناطق المكتشفة	<ul style="list-style-type: none"> <li>اكتشاف جزر الأنتيل الكبرى والصغرى</li> <li>وصل إلى كوبا</li> <li>وصل إلى جزيرة هايتي</li> </ul>	<ul style="list-style-type: none"> <li>وصل إلى جزر هاواي</li> <li>وصل إلى المحيط المتجمد الشمالي</li> </ul>



اختياري - الرحلة المقابلة لمكتشف يسمى :

- جون كابوت  
 هنري هيدسون  
 جيمس كوك  
 جون ديفيز

لاحظ خرائط الكشوف الجغرافية التالية واستخرج منها :



الرحلة الكشفية ( 2 )

الرحلة الكشفية ( 1 )

الدولة التي سيرت الرحلتين رقم 1 ورقم 2 هي إنجلترا

أقصى نقطة وصل إليها الملاح جون ديفيز شمالاً هي دائرة عرض 72 شمالاً

النتائج التي ترتبت على الرحلة الكشفية الأولى

- خليج هيدسون
- خليج جيمس
- نهر هيدسون



تدرب و تفوق

اختبارات الكترونية ذكية

## الكشوف الفرنسية



## أكمل العبارات التالية :

☆ ممكن أن يأتي السؤال بصيغة أخرى: حدد على الخريطة

الكشوف التي كانت متأخرة عن البرتغال وإسبانيا وإنجلترا تسمى **الكشوف الفرنسية**

الدولة التي أرسلت رحلات كشفية لقارة أمريكا الشمالية خلال القرن السادس عشر هي **فرنسا**



من أهم رحلات الكشوف الفرنسية في القرن السادس عشر الميلادي تسمى **رحلات جاك كارتية**

عدد الرحلات التي قام بها جاك كارتية **أربع رحلات**

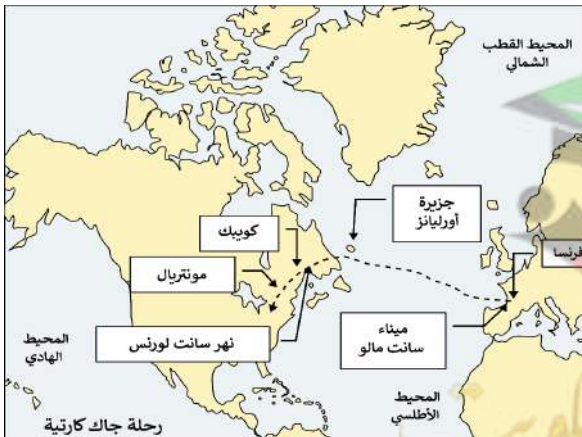
الملك الذي خرجت في عهده رحلات جاك كارتية يسمى **فرانسيس الأول**

اتجه جاك كارتية غرباً نحو العالم الجديد في 2 أبريل عام **1534 م**

الميناء الذي أبحر منه جاك كارتية يسمى **سانت مالو**

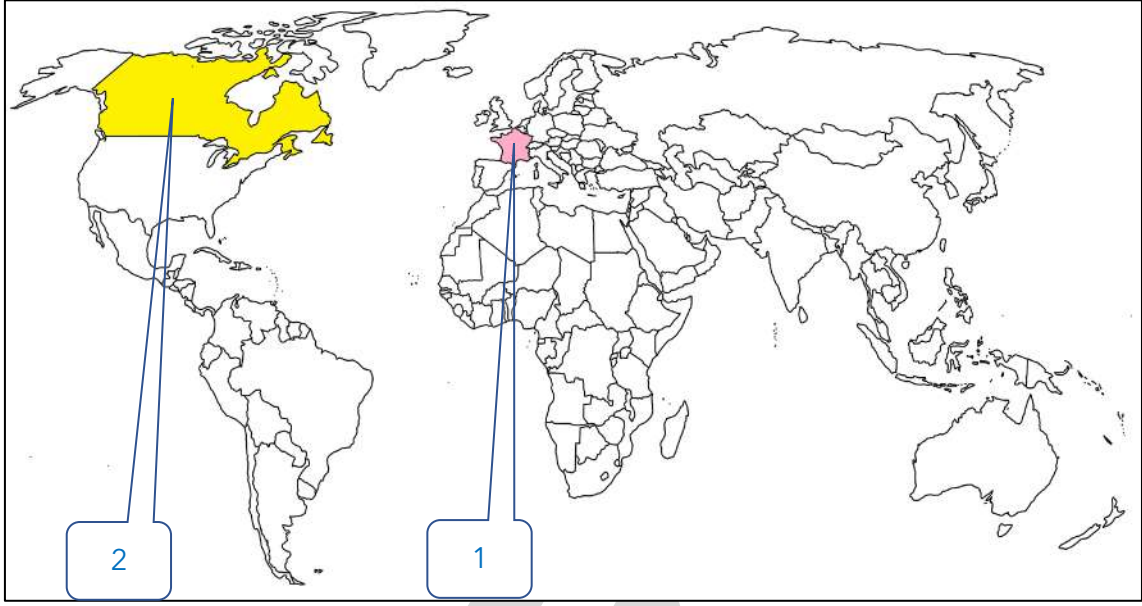
عدد - النتائج المترتبة على رحلات جاك كارتية

- اكتشف كندا
- نهر سانت لورنس
- جزيرة أورليانز
- وصل إلى منطقة مونتريل
- أسس مدينة كويك على نهر سانت لورنس



دلل - مبادرة فرنسا في إنشاء إمبراطورية فرنسية في أمريكا الشمالية

الوصول إلى ( ما وراء نهر سانت لورنس )  
مونتريل



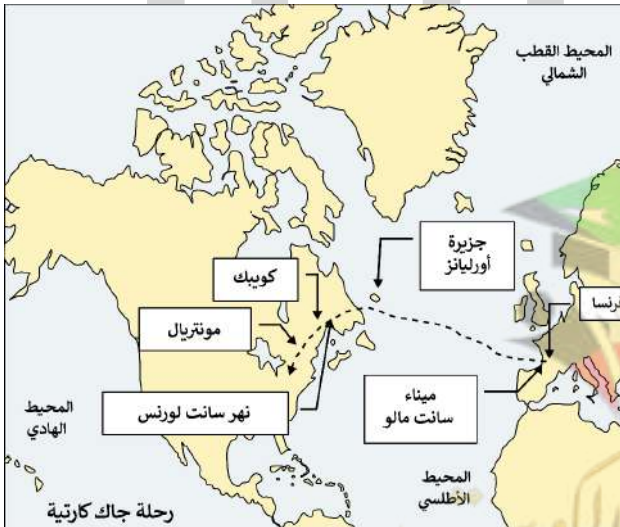
- 1 دولة يرجع إليها الفضل في اكتشاف كندا تحمل على الخريطة الرقم
- 2 الدولة التي اكتشفها جاك كارتييه تحمل على الخريطة الرقم

### أكمل العبارات التالية :

- 1 مكتشف يعتبر هو من طليعة الفرنسيين الذين اكتشفوا إقليم كندا يسمى **جاك كارتييه**
- 2 المنطقة التي تقع وراء نهر سانت لورنس تسمى حالياً باسم **مونتريال**
- 3 المدينة التي تأسست على نهر سانت لورنس وكانت مبادرة لإنشاء إمبراطورية فرنسية تسمى **كويك**

4 اكتب فقرة تاريخية مترابطة في حدود ثلاثة أسطر مستعينا بالكلمات الآتية ( جاك كارتييه - سانت مالو - كندا - سانت لورنس - كويك )

قام جاك كارتييه بأربع رحلات في عهد الملك فرانسيس الأول حيث أبحر من ميناء سانت مالو عبر المحيط الأطلسي نحو أمريكا الشمالية فاكشف كندا ونهر سانت لورنس وجزيرة أورليانز ووصل إلى ما وراء نهر سانت لورنس وهي منطقة حالياً تسمى مونتريال وتأسس مدينة كويك على نهر سانت لورنس



5 استعن بالمواقع الموضحة على خريطة الكشوف الجغرافية الفرنسية التي أمامك وعدد أربع إنجازات حققتها هذه الرحلة

- أبحر جاك كارتييه من ميناء سانت مالو عبر المحيط الأطلسي نحو أمريكا الشمالية فاكشف كندا
- اكتشف نهر سانت لورنس
- وصل إلى منطقة مونتريال
- أسس مدينة كويك على نهر سانت لورنس

اختباري : الترتيب الصحيح لرحلات الكشوف الجغرافية يمثله في الجدول التالي الحرف :

م	(أ)	(ب)	(ج)	(د)
1	الإسبانية	البرتغالية	الفرنسية	الإنجليزية
2	البرتغالية	الإسبانية	الإنجليزية	الفرنسية
3	الفرنسية	الإنجليزية	الإسبانية	البرتغالية
4	الإنجليزية	الفرنسية	البرتغالية	الإسبانية

أمامك مجموعة من المناطق التي اكتشفها الأوروبيون ، صنف حسب الجدول ( جزر الأنتيل - جزيرة نيوفوندلند - جزر ماديرا - كندا - مضيق هدرسن )

جون كابوت	جاك كارتية	كريستوفر كولمبس	الأمير هنري الملاح
جزيرة نيوفوندلند	كندا	جزر الأنتيل	جزر ماديرا

اختر من المجموعة ( ب ) ما يناسبها من المجموعة ( أ ) بوضع الرقم المناسب :

م	( أ ) شخصيات تاريخية	المكان المناسب	( ب ) أهم الأعمال
1	جون سباستيان ديكانو	3	أسس مدينة كوبيك
2	جون كابوت	-	ألف رواية الكوميديا الإلهية
3	جاك كارتية	2	اكتشف جزيرة نيوفوندلند
		1	وصل إلى جزر بورنيو والتوابل



تدرب و تفوق

اختبارات الكترونية ذكية

U U L A







# رحلات الكشوف للقطب الشمالي والجنوبي

❑ أكمل : بدأت اكتشافات المنطقة القطبية الشمالية في عام 1771م .

❑ دلل - ساهمت مجموعة من المكتشفين في اكتشافات المنطقة القطبية الشمالية

- صمويل هيرن 1789م
- ألكسندر ماكينزي 1792م - 1793م
- جون فرانكلين 1845م - 1847م
- روبرت ماكلور 1850م - 1854م
- روالد أموندسن 1903م - 1906م
- روبرت بيرري 1909م

❑ اكتب دور المكتشفين التاليين في مجال الكشوف الجغرافية

★ ممكن أن يأتي السؤال بصيغة أخرى: فند - لم يكن لصمويل هيرن دور في اكتشافات المنطقة القطبية الشمالية

## صمويل هيرن :

- اكتشف الأرض الواقعة بين خليج هدسن ونهر كوبر ماين
- قام بأول حملة استكشافية له في كندا منطلقاً من بحيرة أتاباسكا والهدف إيجاد طريق نحو المحيط الهادي



## الكسندر ماكينزي :

- اكتشف نهر ماكينزي
- نهر بيس
- بحيرة سليف الكبرى

## جون فرانكلين :

- بحث عن الممر الشمالي الغربي من خلال متاهة الجزر التي تقع شمال البر الرئيسي الكندي

## روبرت ماكلور :

- قاد الحملة الاستكشافية الأولى لعبور ممر الشمال الغربي لأمريكا الشمالية

## روالد أموندسن:

- أبحر من خلال متاهة الجزر ووصل إلى المحيط الهادي

## روبرت بيرري :

- تمكن من الوصول إلى القطب الشمالي

## أكمل العبارات التالية :

★ ممكن أن يأتي السؤال بصيغة أخرى: اختياري

- ❑ العام الميلادي الذي اكتشف فيه صمويل هيرن الأرض الواقعة بين خليج هدسون ونهر كوبر ماين 1789م
- ❑ قام صمويل هيرن بأول رحلة استكشافية له في كندا منطلقاً من بحيرة تسمى أتاباسكا
- ❑ هدف رحلة صمويل هيرن في كندا هو إيجاد طريق نحو مسطح مائي يسمى المحيط الهادي
- ❑ مكتشف نهر بيس وبحيرة سليف الكبرى يسمى ألكسندر ماكينزي



## اختر الإجابة الصحيحة :

☆ ممكن أن يأتي السؤال بصيغة أخرى: **أكمل**

❑ الفترة الزمنية التي وصل فيها ألكسندر ماكينزي إلى اكتشافاته هي :

- ( 1792 م - 1793 م )  
○ ( 1845 م - 1847 م )  
○ ( 1850 م - 1854 م )  
○ ( 1903 م - 1906 م )

❑ المكتشف الذي بحث عن الممر الشمالي الغربي من خلال متاهة الجزر يسمى :

- صمويل هيرن  
○ جون فرانكلين  
○ ألكسندر ماكينزي  
○ روبرت ماكلور

❑ قائد الحملة الاستكشافية الأولى لعبور ممر الشمال الغربي لأمريكا الشمالية يسمى

- روبرت ماكلور  
○ جون فرانكلين  
○ روالد أموندسن  
○ ألكسندر ماكينزي

❑ المكتشف الذي وصل إلى المحيط الهادي من خلال متاهة الجزر :

- روالد أموندسن  
○ روبرت ماكلور  
○ روبرت بيرري  
○ جون فرانكلين

❑ الفترة من عام 1903م - 1906م تمثل فترة المكتشف

- روالد أموندسن  
○ جون فرانكلين  
○ روبرت ماكلور  
○ ألكسندر ماكينزي

❑ العام الميلادي الذي وصل فيه روبرت بيرري إلى القطب الشمالي :

- 1906 م  
○ 1907 م  
○ 1908 م  
○ 1909 م

❑ المكتشف الذي تمكن من الوصول للقطب الشمالي يسمى :

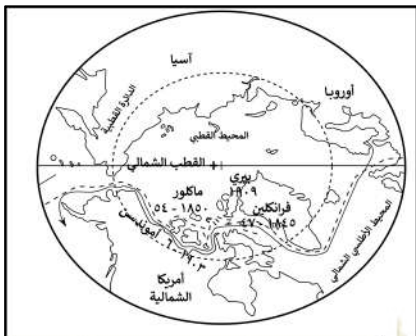
- روبرت بيرري  
○ صمويل هيرن  
○ جون فرانكلين  
○ روبرت ماكلور

❑ **أكمل العبارات التالية :**

❑ الصورة المقابلة لمكتشف يسمى **ألكسندر ماكينزي**



❑ الخريطة المقابلة تمثل **اكتشاف القطب الشمالي**



- ❑ دلل - ساهم مجموعة من المكتشفين في اكتشاف القطب الجنوبي وقارة أنتاركتيكا
- تشارلز ويلكز 1840م : قطع مسافة طويلة على طول ساحل قارة أنتاركتيكا و أثبت أنها كتلة ضخمة مغطاة بالثلج
- روالد أموندسن 1911 م : الوصول إلى القطب الجنوبي

### أكمل العبارات التالية :

☆ ممكن أن يأتي السؤال بصيغة أخرى: اختياري

- ❑ بدأ اكتشاف القطب الجنوبي مع بداية القرن التاسع عشر الميلادي
- ❑ القارة الوحيدة المجهولة بالنسبة للعالم حتى بداية أوائل القرن التاسع عشر الميلادي وتقع حول القطب الجنوبي تسمى أنتاركتيكا

❑ عرف - قارة أنتاركتيكا هي قارة غير أهلة بالسكان

### اختر الإجابة الصحيحة :

❑ المكتشف الذي قطع مسافة طويلة على طول ساحل قارة أنتاركتيكا و أثبت أنها كتلة ضخمة مغطاة بالثلج يسمى :

- ❑ **تشارلز ويلكز** ❑ روبرت بيرري ❑ روالد أموندسن ❑ روبرت ماكلور

❑ المكتشف الذي تمكن من الوصول للقطب الجنوبي يسمى :

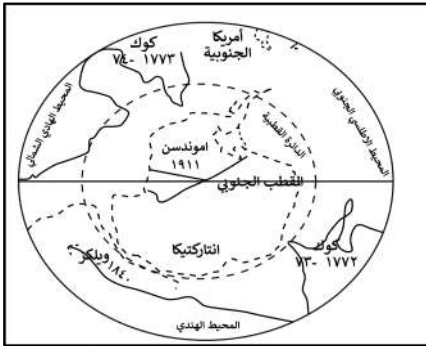
- ❑ روبرت بيرري ❑ تشارلز ويلكز ❑ **روالد أموندسن** ❑ روبرت ماكلور

❑ العام الميلادي الذي وصل فيه روالد أموندسن إلى القطب الجنوبي :

- ❑ 1910 م ❑ **1911 م** ❑ 1912 م ❑ 1913 م

❑ أكمل : الخريطة المقابلة تمثل

### اكتشاف القطب الجنوبي وقارة أنتاركتيكا



❑ صنف الشخصيات التالية حسب مكانها المناسب في الجدول التالي ( ماجلان - جاك كارتية - هنري الملاح - مارتن فروبشير - جون ديفيز )

الكشوف البرتغالية	الكشوف الإسبانية	الكشوف الإنجليزية	الكشوف الفرنسية
هنري الملاح	ماجلان	مارتن فروبشير جون ديفيز	جاك كارتية

❑ أكمل : المسطح المائي الذي شهد جميع حركات الكشوف الجغرافية يسمى المحيط الأطلسي



## الكشوف الجغرافية

## نتائج الرحلات والكشوف الجغرافية

عدد

## نتائج حركة الكشوف الجغرافية

- النتائج السياسية
- النتائج الاقتصادية
- النتائج الدينية
- النتائج العلمية والثقافية والفكرية
- النتائج الاجتماعية

## عدد - النتائج السياسية لحركة الكشوف الجغرافية

- تكوين دول وإمبراطوريات كبرى استعمارية
- تأسيس مراكز تجارية ساحلية والاستيطان بها

## دلل - أدت الكشوف الجغرافية إلى تكوين إمبراطوريات كبرى استعمارية

- إسبانيا : احتلت أمريكا الوسطى وأجزاء مهمة من أمريكا الجنوبية وجزر الفلبين
- البرتغال : احتلت البرازيل ومراكز تجارية على السواحل الأفريقية وسواحل الهند والخليج العربي

## عدد - النتائج الاقتصادية للكشوف الجغرافية

★ ممكن أن يأتي السؤال بصيغ أخرى: دلل على صحة العبارة « إن العلاقة التي تمت بين أوروبا والقارات الأخرى كانت ذات نتائج عظيمة في الاقتصاد العالمي »

- تحول طرق التجارة العالمية بين أوروبا وآسيا فقد ضعفت مكانة البحر المتوسط تجارياً
- تدفقت الثروات على أوروبا من البضائع والمعادن الثمينة
- نتيجة لتوفير البضائع والمال وازدياد النشاط التجاري الاقتصادي قامت صناعات جديدة
- ظهور البورصات المالية

## عدد - النتائج المترتبة على تدفق البضائع والمعادن الثمينة على أوروبا

- ارتفاع كبير في أسعار المواد الغذائية
- تضرر الفئات العامة والفلاحين بشكل كبير في القرن 16م
- اغتناء كبار التجار
- زادت أهمية البنوك
- نمت الطبقة البرجوازية التجارية

## علل - تضرر الفئات العامة والفلاحون بشكل كبير في القرن 16 م

بسبب فعل عدم التوازن ما بين العرض والطلب



صفوة معلمى الكويت

❏ أكمل : الطبقة التي نمت بعد تدفق الثروات على أوروبا تسمى البرجوازية التجارية

❏ عدد - النتائج المترتبة على توفير البضائع وازدياد النشاط التجاري الاقتصادي

- قامت صناعات جديدة
- زيادة رؤوس الأموال
- ظهرت الحاجة إلى الحصول على مستعمرات لتصريف مصنوعات الدولة
- الحصول على المواد الأولية اللازمة للصناعة

❏ علل - ظهرت الحاجة عند دول أوروبا للحصول على مستعمرات

★ ممكن أن يأتي السؤال بصيغة أخرى: **فسر**

- الحصول على المواد الأولية اللازمة للصناعة
- لتصريف مصنوعات الدولة

❏ عدد - النتائج الدينية لحركة الكشوف الجغرافية

★ ممكن أن يأتي السؤال بصيغة أخرى: **فند - لم تترك حركة الكشوف الجغرافية أي نتائج دينية اكتب - النتائج الدينية للكشوف الجغرافية**

- حاولت الدول المكتشفة نشر دينها في البلاد التي اكتشفتها
- التبشير بالمسيحية على المذهب الكاثوليكي

❏ نفذ المطلوب منك مما بين القوسين

الكشوف الجغرافية ( النتائج العلمية والثقافية والفكرية )

- أدى الاتصال بين أوروبا والقارات الأخرى إلى إنماء المعرفة وتقدم بعض العلوم
- تصحيح بعض المعلومات الجغرافية
- اتساع مجال البحوث التاريخية
- اختفاء بعض معالم الحضارات الوطنية القديمة لبعض الشعوب المكتشفة
- في علم الفلك ظهرت لعلماء الفلك مجموعة نجوم لم يتمكنا من رصدها إلا من النصف الجنوبي من الكرة الأرضية



**عدد لما يلي**

❏ النتائج المترتبة على الاتصال بين أوروبا والقارات الأخرى

- إنماء المعرفة
- تقدم بعض العلوم ( علم الجغرافيا - الاجتماع - النبات - الحيوان - البحار - الجيولوجيا )

❏ أهداف تقدم العلوم عقب حركة الكشوف الجغرافية

- تذليل المصاعب التي تواجه الناس
- تأمين حياة أكثر رضاء
- الاكتشافات والإنجازات التي حققها العلماء في مختلف المجالات كانت ميلاد عصر جديد في أوروبا والعالم

❏ علل تقدم العلوم في أوروبا في بداية العصر الحديث

بسبب الاتصال بين أوروبا والقارات الأخرى

## دال على صحة العبارة

أدى الاتصال بين أوروبا والقارات الأخرى إلى تقدم علم الجغرافيا

- تصحيح بعض المعلومات الجغرافية
- انقلاب جذري في المبادئ الأساسية التي يقوم عليها علم الجغرافيا
- القضاء على الأفكار التي كانت سائدة عن الأرض وحجمها وشكلها وقاراتها ومحيطاتها

أدى الاتصال بين أوروبا والقارات الأخرى إلى تقدم علم التاريخ

- اتساع مجال البحوث التاريخية
- علم التاريخ لم يعد قاصراً على العالم القديم بل شمل البلاد التي اكتشفت

أكمل : الحضارة التي كانت في أعين الأوروبيين وهي مركز البشرية تسمى الحضارة الإغريقية

دال على صحة العبارة - أدى الاتصال بين أوروبا والقارات الأخرى إلى تقدم علم الفلك

- كان الاعتقاد السائد منذ القدم هو أن الأرض هي محور الكون
- هي النظرية التي قدمها العالم اليوناني بطليموس في القرن الثاني الميلادي
- وبنى عليها أن الشمس والقمر والكواكب الأخرى تدور حول الأرض
- ومع القرن الثالث عشر الميلادي جاء عالم الفلك البولندي نيكولاس كوبرنيكوس بنظرية مخالفة
- توضح أن الشمس هي محور الكون وأن الكواكب الأخرى بما فيها الأرض تسير في مدارات حول الشمس

فرق بين كل مما يلي حسب الجدول

نظرية العالم اليوناني بطليموس	نظرية العالم البولندي نيكولاس كوبرنيكوس
الأرض هي محور الكون	الشمس هي محور الكون

## أكمل العبارات التالية :

العالم اليوناني الذي قدم نظرية الأرض هي محور الكون يسمى بطليموس

العالم البولندي الذي أتى بنظرية توضح أن الشمس هي محور الكون يسمى نيكولاس كوبرنيكوس

عدد - النتائج الاجتماعية لحركة الكشوف الجغرافية

☆ ممكن أن يأتي السؤال بصيغ أخرى: دال - أحدثت حركة الكشوف الجغرافية تغيرات اجتماعية فند - لم تكن هناك آثار بالغة الأهمية للكشوف الجغرافية في حياة أوروبا والعالم الجديد من الناحية الاجتماعية

- اعتمدت على سياسة إبادة السكان الأصليين
- جلب العبيد من أفريقيا وظهور تجارة الرق
- ظهور الطبقة الرأسمالية

دال - اعتمد الأوروبيون في حركة الكشوف الجغرافية على إبادة السكان الأصليين في العالم الجديد

- دمر المستعمرون الجدد مدناً كاملة
- القضاء على حضارة أهلها بعد أن استوطنوها
- نهب الثروات لسد احتياجاتهم

## أكمل العبارات التالية :

- ❑ السياسة التي اعتمد عليها الأوروبيون في العالم الجديد هي إبادة السكان الأصليين
- ❑ التجارة التي ظهرت نتيجة لجلب الأوروبيين العديد من أفريقيا إلى العالم الجديد اسمها تجارة الرق
- ❑ طبقة اجتماعية ظهرت في أوروبا بعد الكشوف ولعبت دوراً مهماً في أوروبا تسمى الرأسمالية



**تدرب و تفوق**

اختبارات الكترونية ذكية



U U L A





# المفهوم والعوامل



## عرف المفاهيم التالية :

☆ ممكن أن يأتي السؤال بصيغ أخرى: أكمل - اكتب المصطلح

### الاستعمار

تسيطر دولة ما بالاتفاقيات السياسية أو القوة العسكرية أو القوة الاقتصادية أو المال أو التفوق العلمي على دولة أو عدة دول لاستغلال مواردها وثرواتها لصالحها

### الاستعمار الأوروبي

استغلال دولة قوية لدولة أخرى ضعيفة بهدف السيطرة على مواردها الاقتصادية أو الانتفاع من موقعها الاستراتيجي أو من قوة الأيدي العاملة

أكمل : السيطرة المباشرة أو غير المباشرة على سياسة الدول الفقيرة وتعمل على توجيه الأمور السياسية والاقتصادية والثقافية والاجتماعية للدولة المستعمرة تعرف باسم **الاستعمار الأوروبي**

### عدد - عوامل قيام النظام الاستعماري الأوروبي

- العامل الاقتصادي
- العامل الاستراتيجي
- العامل السكاني
- العامل الديني والثقافي

### نفذ المطلوب منك مما بين القوسين

#### الاستعمار الأوروبي ( العامل الاقتصادي )

- رغبة الدول الأوروبية الاستعمارية في الحصول على المواد الأولية والأيدي العاملة الرخيصة
- تصريف المنتجات الصناعية الأوروبية في أسواق المستعمرات
- العمل على استثمار أموالهم في المستعمرات

#### الاستعمار الأوروبي ( العامل الاستراتيجي )

- استغلال المواقع الاستراتيجية لإقامة المحطات التجارية والقواعد العسكرية
- حماية خطوط المواصلات البحرية
- توفير خدمات للسفن التجارية

#### الاستعمار الأوروبي ( العامل السكاني )

- الثورة الصناعية ساعدت على الزيادة السكانية
- تحسن الخدمات الطبية ساعد على الزيادة السكانية الطبيعية في أوروبا
- زيادة عدد السكان في أوروبا أدى إلى اتباع سياسة التهجير
- العمل على تجنيد سكان المستعمرات لصالح الدول الاستعمارية

#### عرف - سياسة التهجير

هجرة أعداد كثيرة من سكان أوروبا إلى أقاليم المستعمرات

## ❑ الاستعمار الأوروبي ( العامل الديني والثقافي )

- ادعاء الدول الأوروبية بأن من واجبها نقل الحضارة الأوروبية للشعوب المتخلفة
- نشر الدين المسيحي عن طريق الإرساليات التبشيرية
- قيام الاستعمار بتشويه صورة الدول المستعمرة وبخاصة المستشرقون الذين شوها صورة الإسلام

## ❑ اكتب فقرة مترابطة مستعيناً بالكلمات التالية

(( الاستعمار الأوروبي - الحضارة الأوروبية - الإرساليات التبشيرية - المستشرقون ))

تعددت عوامل قيام الاستعمار الأوروبي حيث ادعت الدول الأوروبية أن من واجبها نقل الحضارة الأوروبية للشعوب المتخلفة لترفع من مستواها الاجتماعي والفكري والاقتصادي فقامت بنشر الدين المسيحي عن طريق الإرساليات التبشيرية وقام المستشرقون بتشويه صورة الإسلام الحقيقية



## 🎯 تدرب و تفوق

اختبارات الكترونية ذكية



## الاستعمار الأوروبي

# أشكال الاستعمار

## ❑ عدد - أشكال الاستعمار

★ ممكن أن يأتي السؤال بصيغة أخرى: ددل - للاستعمار أشكال متعددة

- الغزو العسكري
- الاستيطان
- المعاهدات والاتفاقيات الخاصة
- التفويض من المنظمات الدولية
- التمييز العنصري

## ❑ عرف - الغزو العسكري

الاحتلال بالقوة العسكرية

## ❑ ددل - دول تعرضت للاستعمار بشكل الغزو العسكري

- احتلال فرنسا للجزائر عام 1830 م
- احتلال إنجلترا لمصر عام 1882 م

## اختر الإجابة الصحيحة

★ ممكن أن يأتي السؤال بصيغ أخرى: أكمل - حدد على الخريطة

❑ العام الميلادي الذي تعرضت فيه الجزائر للاستعمار الفرنسي :

○ 1845 م

○ 1840 م

○ 1835 م

○ 1830 م

❑ دولة تعرضت للاحتلال بالقوة العسكرية عام 1830 م هي :

○ الأردن

○ تونس

○ مصر

○ الجزائر

الدولة الأوروبية التي احتلت الجزائر عام 1830 م بالقوة العسكرية تسمى :

- فرنسا  إنجلترا  ألمانيا  إيطاليا

العام الميلادي الذي احتلت فيه إنجلترا مصر :

- 1880 م  1881 م  1882 م  1883 م

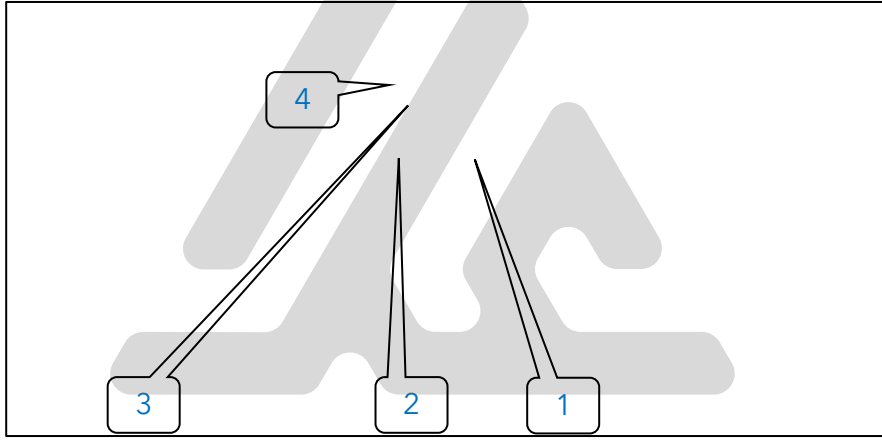
تعرضت مصر للاحتلال بالقوة العسكرية من قبل دولة أوروبية تسمى :

- فرنسا  إنجلترا  إيطاليا  ألمانيا

تعرضت الجزائر ومصر للاحتلال بشكل من أشكال الاستعمار يسمى :

- الغزو العسكري  الاستيطان   
المعاهدات والاتفاقيات الخاصة  التفويض من المنظمات الدولية

لاحظ خريطة العالم ثم نفذ المطلوب منك :



الدولة التي قامت بغزو الجزائر عام 1830 م تحمل على الخريطة الرقم

الدولة التي تعرضت للاحتلال بالقوة العسكرية عام 1882 م تحمل على الخريطة الرقم

الدولة التي قامت باحتلال مصر عام 1882 م تحمل على الخريطة الرقم

الدولة العربية التي تعرضت للاحتلال بالقوة العسكرية عام 1830 م تحمل على الخريطة الرقم



تدرب و تفوق

أختبارات الكترونية ذكية



عرف - الاستيطان

هجرة مجموعة من سكان دولة أجنبية قوية إلى دولة ضعيفة بهدف تملك الأرض وطرد السكان المحليين

عدد - أشكال الاستيطان

إرساليات تنصيرية

تجار ■ معلمي الكويت ■ سياح

❑ **دلل - تعرضت دول للاحتلال بشكل الاستيطان**

- هجرة الأوروبيين للعالم الجديد وطرد الهنود الحمر
- هجرة الأوروبيين لأستراليا وطرد السكان الأصليين
- الغزو الصهيوني لفلسطين

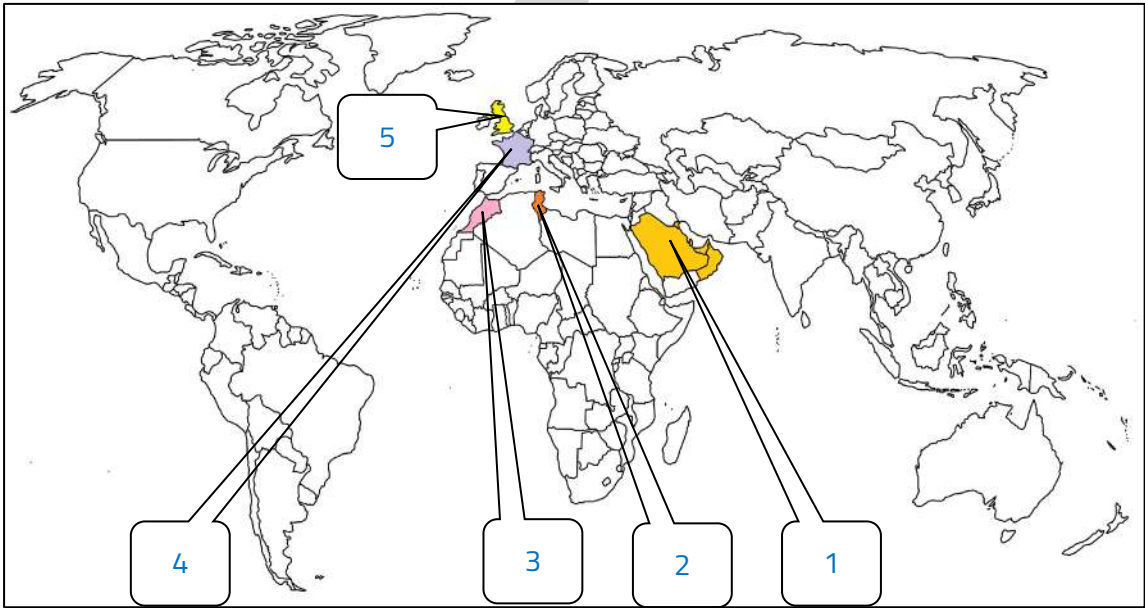
❑ **عرف - المعاهدات والاتفاقيات الخاصة**

عقد معاهدة حماية بين دولة أوروبية والدولة الضعيفة تحت ستار من الحجج والأسباب

❑ **اضرب أمثلة للمعاهدات والاتفاقيات الخاصة**

- حماية إنجلترا لمنطقة الخليج العربي
- حماية فرنسا لكل من تونس ومراكش

**لاحظ خريطة العالم ثم نفذ المطلوب منك :**



- ❑ **الدولة التي قامت بحماية منطقة الخليج العربي تحمل على الخريطة الرقم 5**
- ❑ **الدولة التي قامت بحماية كل من تونس ومراكش تحمل على الخريطة الرقم 4**
- ❑ **المنطقة التي قامت إنجلترا بحمايتها تحمل على الخريطة الرقم 1**
- ❑ **مراكش خضعت للحماية الفرنسية تحمل على الخريطة الرقم 3**
- ❑ **تونس خضعت للحماية الفرنسية تحمل على الخريطة الرقم 2**

❑ **اختياري : تعرضت كل من منطقة الخليج العربي وتونس ومراكش لشكل من أشكال الاستعمار يسمى :**

- الغزو العسكري
- الاستيطان
- التفويض من المنظمات الدولية
- **المعاهدات والاتفاقيات الخاصة**



قارن بين كل من حسب الجدول التالي :

☆ ممكن أن يأتي السؤال بصيغة أخرى: عدد أشكال التفويض من المنظمات الدولية

وجه المقارنة	الانتداب	الوصاية
<b>التعريف</b>	ظهر بعد الحرب العالمية الأولى وينص على انتداب الدول المنتصرة على إدارة شؤون الدول المهزومة بحجة التطور والاستقلال	ظهر بعد الحرب العالمية الثانية وينص على وضع المناطق التي كانت تحت النفوذ الألماني والإيطالي والياباني تحت اختيار دولة من الأمم المتحدة
<b>أمثلة</b>	<ul style="list-style-type: none"> <li>سوريا ولبنان تحت الانتداب الفرنسي</li> <li>فلسطين والأردن تحت الانتداب البريطاني</li> </ul>	<ul style="list-style-type: none"> <li>الصومال تحت الوصاية الإيطالية</li> <li>إقليم ناميبيا تحت وصاية اتحاد جنوب أفريقيا</li> </ul>

### أكمل العبارات التالية :

☆ ممكن أن يأتي السؤال بصيغة أخرى: اختياري

- شكل من أشكال التفويض من المنظمات الدولية ظهر بعد الحرب العالمية الأولى يسمى **الانتداب**
- العام الميلادي الذي ظهر فيه الانتداب **1919 م**
- الدولة التي انتدبت على سوريا ولبنان تسمى **فرنسا**
- الدولة التي انتدبت على فلسطين والأردن تسمى **بريطانيا**
- شكل من أشكال التفويض من المنظمات الدولية ظهر بعد الحرب العالمية الثانية يسمى **الوصاية**
- العام الميلادي الذي ظهرت فيه الوصاية **1945 م**
- الدولة التي وضعت تحت الوصاية الإيطالية تسمى **الصومال**
- إقليم ناميبيا وضع تحت وصاية **اتحاد جنوب أفريقيا**

### اختر الإجابة الصحيحة

وضعت سوريا ولبنان تحت الانتداب :

- الفرنسي  البريطاني  الإيطالي  الألماني

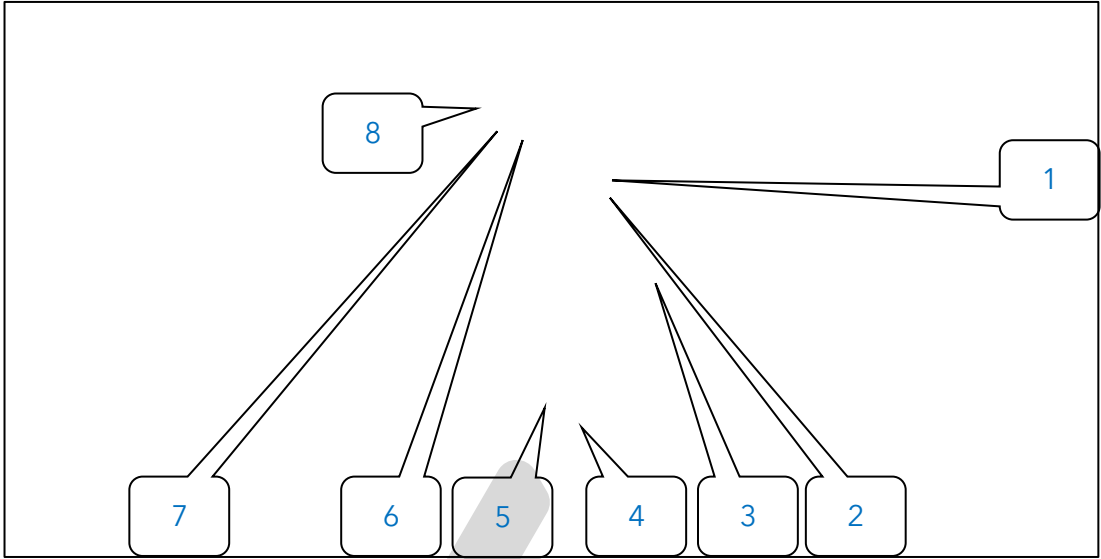
الدول التي وقعت تحت الانتداب البريطاني :

- سوريا ولبنان  الصومال وإقليم ناميبيا  مصر والجزائر  فلسطين والأردن

وضعت الصومال تحت الوصاية :

- الإيطالية  الفرنسية  البريطانية  الألمانية

## لاحظ خريطة العالم جيداً ثم نفذ المطلوب منك :



- 8 الدولة التي انتدبت على فلسطين والأردن بعد الحرب العالمية الأولى تحمل على الخريطة الرقم
- 3 دولة وضعت تحت الوصاية الإيطالية تحمل على الخريطة الرقم
- 1 الدولة التي وضعت تحت الانتداب الفرنسي تحمل على الخريطة الرقم
- 5 إقليم وقع تحت وصاية اتحاد جنوب أفريقيا يحمل على الخريطة الرقم
- 6 الدولة التي قامت بالوصاية على الصومال تحمل على الخريطة الرقم
- 4 الدولة التي قامت بالوصاية على إقليم ناميبيا تحمل على الخريطة الرقم
- 2 دولة وقعت تحت الانتداب البريطاني تحمل على الخريطة الرقم
- 7 الدولة التي انتدبت على سوريا عقب الحرب العالمية الأولى تحمل على الخريطة الرقم

عرف - التمييز العنصري

أسلوب استعماري قائم على التفرقة بين الناس في اللون والدين والجنس  
مثال : جنوب أفريقيا - ممارسات الصهاينة في فلسطين



تدرب و تفوق

اختبارات الكترونية ذكية





## الاستعمار البرتغالي



أكمل - أول شعب أوروبي قام بتأسيس إمبراطورية استعمارية فيما وراء البحار هم البرتغاليون

☆ ممكن أن يأتي السؤال بصيغة أخرى: حدد على الخريطة



عدد - مناطق النفوذ الاستعماري البرتغالي

☆ ممكن أن يأتي السؤال بصيغة أخرى: اكتب - عن مرحلة تأسيس الإمبراطورية البرتغالية

- احتل البرتغال في المحيط الأطلسي ( جزر ماديرا / الخالدات / (آزور) / جزر الرأس الأخضر / مراكز على شاطئ غينيا )
- احتلوا مراكز قوية على الشاطئ الشرقي لأفريقيا
- ووصل البرتغاليون في الشرق إلى الشاطئ الغربي للهند في عام 1498 م
- وفي مداخل البحر الأحمر احتل البحار البرتغالي البوكيرك جزيرة سوقطرة 1506 م ومسقط وهرمز في عام 1507 م
- احتل جوا في عام 1510 م وجعلها عاصمة للإمبراطورية البرتغالية في الشرق
- اتجهوا نحو مالقة وجزر الملوك حتى وصلوا الصين عام 1516 م
- وفي الغرب وصلوا إلى البرازيل في عام 1500 م

أكمل العبارات التالية :

☆ ممكن أن يأتي السؤال بصيغة أخرى: اختياري

- جزر الخالدات يطلق عليها اسم آزور
- العام الميلادي الذي وصل فيه البرتغاليون حملاتهم في الشرق على الشاطئ الغربي للهند 1498 م
- حاكم الهند الذي عقدت معه البرتغال معاهدة تجارية لانتزاع تجارة الشرق من أيدي المسلمين يسمى الزامرين ( سيد البحار )
- البحار البرتغالي الذي تركزت نفوذه في مداخل البحر الأحمر يسمى الفونسو دي البوكيرك

## اختر الإجابة الصحيحة :

★ ممكن أن يأتي السؤال بصيغة أخرى: أكمل

Q احتل البحار البرتغالي البوكيرك جزيرة سوقطرة في عام :

- 1505 م      ○ 1507 م      **○ 1506 م**      ○ 1508 م

Q مدينة تعتبر هي مفتاح الخليج العربي تسمى :

- مسقط      ○ الدوحة      ○ المنامة      ○ صلاة

Q العام الميلادي الذي استولى فيه البوكيرك على هرمز :

- 1505 م      ○ 1506 م      **○ 1507 م**      ○ 1508 م

Q عاصمة الإمبراطورية البرتغالية في الشرق هي :

- سوقطرة      ○ مسقط      **○ جوا**      ○ هرمز

Q المدينة العربية التي فشل البرتغاليون في الاستيلاء عليها :

- عدن      ○ جوا      ○ مسقط      ○ سوقطرة

Q نجح البرتغاليون في السيطرة على جوا في عام :

- 1507 م      ○ 1508 م      ○ 1509 م      **○ 1510 م**

Q الترتيب الزمني الصحيح لاستعمار الوطن العربي

- الجزائر - مصر - سوقطرة - هرمز - مصر      ○ سوقطرة - هرمز - الجزائر - مصر  
○ الجزائر - مصر - سوقطرة - هرمز - مصر      ○ سوقطرة - الجزائر - هرمز - مصر

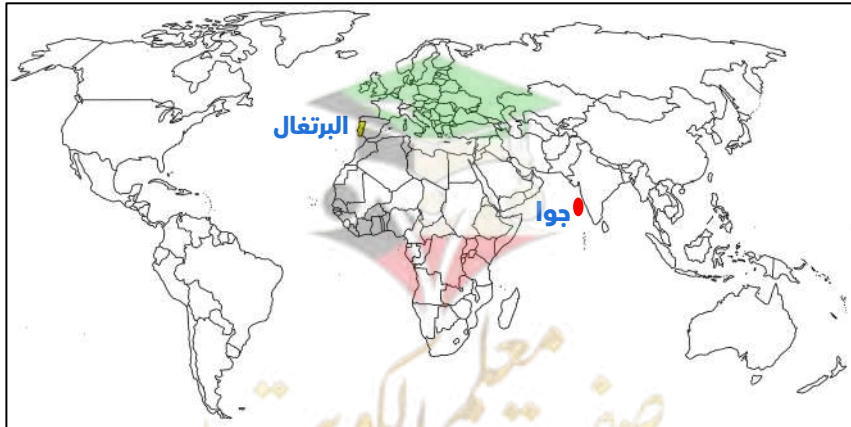
Q علل - عقد البرتغاليون معاهدة تجارية مع حاكم الهند

لانترعاج تجارة الشرق من أيدي المسلمين

## حدد - على خريطة العالم

Q عاصمة الإمبراطورية البرتغالية في الشرق جوا

Q دولة استعمارية سيطرت على هرمز عام 1507 م البرتغال





عدد - العوامل التي ساعدت البرتغاليين في تأسيس الإمبراطورية

☆ ممكن أن يأتي السؤال بصيغة أخرى: علل نجاح البرتغال في احتكار تجارة الشرق

- انشغال الدولة العثمانية بحربها مع الصفويين
- عدم توحيد القوى الإسلامية الكبرى ( الدولة العثمانية - الصفوية - المملوكية )
- تفكك بلاد الهند
- استخدام البرتغاليون سلاح البارود والأساطيل الضخمة

عدد - انهيار الإمبراطورية البرتغالية في الشرق

☆ ممكن أن يأتي السؤال بصيغة أخرى: دلل - انهيار الإمبراطورية البرتغالية في أواخر القرن السادس عشر ميلادي

- سوء إدارة المستعمرات وانتشار الرشوة
- قسوة البرتغاليين في معاملة السكان الأصليين وإجبارهم على اعتناق المسيحية
- السلطة كانت في يد نائب الملك في جوا ولقصر مدة حكمه كان يقوم بابتزاز الأموال وعدم الاعتناء بالمستعمرة
- منافسة الهولنديين والإنجليز للبرتغاليين في مجال الاستعمار
- فقدت البرتغال استقلالها وضمت للتاج الإسباني في عهد فيليب الثاني عام 1580 م ولمدة 60 عام

**اختر الإجابة الصحيحة :**

عدد - انهيارت الإمبراطورية البرتغالية في أواخر القرن :

- الخامس عشر الميلادي
- السادس عشر الميلادي
- السابع عشر الميلادي
- الثامن عشر الميلادي

عدد - جميع ما يلي دول نافست البرتغال في مجال الاستعمار ما عدا :

- ألمانيا
- إسبانيا
- هولندا
- إنجلترا

عدد - العام الذي ضُمت فيه البرتغال للتاج الإسباني في عهد الملك فيليب الثاني :

- 1580 م
- 1585 م
- 1590 م
- 1595 م

عدد - استمرت البرتغال تحت التاج الإسباني لمدة :

- 40 عاما
- 50 عاما
- 60 عاما
- 70 عاما

عدد - أكمل : الملك الإسباني الذي ضُمت في عهده البرتغال للتاج الإسباني يسمى **فيليب الثاني**

عدد - فند - لم يكن لنائب الملك البرتغالي أي سلطة في جوا

- كان هو المسؤول أمام الملك دون رقابة
- لقصر حكمه كان يقوم بابتزاز الأموال
- عدم الاعناء بالمستعمرة



**تدرب و تفوق**

اختبارات الكترونية ذكية



## الاستعمار الإسباني



الدولة الثانية في مجال الاستعمار الأوروبي هي إسبانيا

☆ ممكن أن يأتي السؤال بصيغة أخرى: حدد على الخريطة



اكتب فيما درست - كيف تأسست الإمبراطورية الإسبانية

- اتجه الإسبان في الكشوف الجغرافية نحو الغرب حيث جزر الهند الغربية والأمريكيتين
- اهتموا بالبحث عن الذهب والفضة في جزر الأنتيل
- كانت كوبا مقراً للاستعمار الإسباني
- احتلوا فلوريدا
- سيطروا على جواتيمالا وسلفادور وهندوراس وبنما وبيرو في النصف الأول من القرن السادس عشر
- أصبحت معظم أمريكا الجنوبية تحت سيطرة الإسبان ماعدا البرازيل
- في الشرق بسطوا نفوذهم على الفلبين

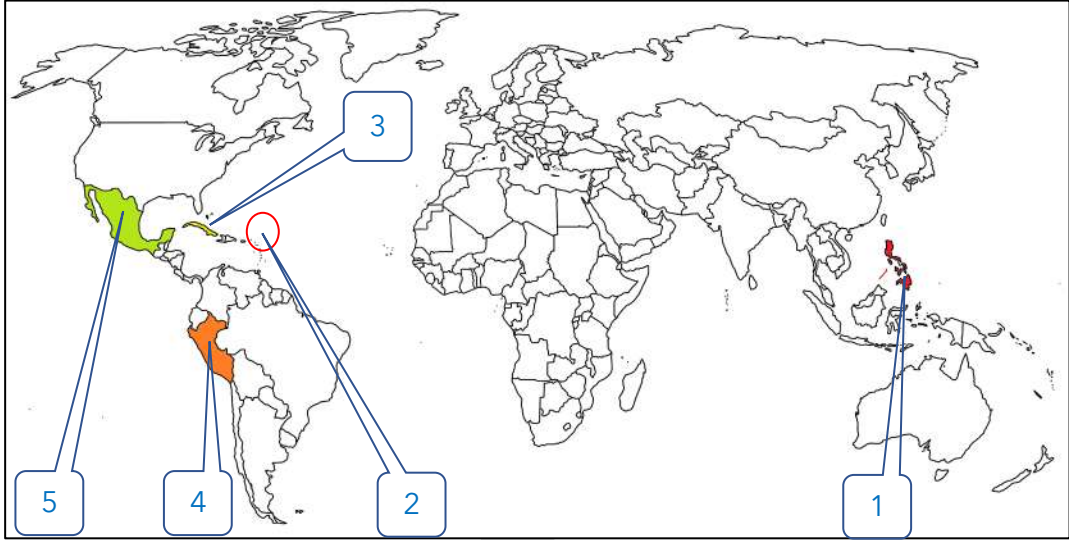
أكمل العبارات التالية :

☆ ممكن أن يأتي السؤال بصيغة أخرى: اختياري - حدد على الخريطة

- جزر اهتم فيها الإسبان بالبحث عن الذهب والفضة تسمى الأنтил
- دولة كانت مقراً للاستعمار الإسباني تسمى كوبا
- الدولة التي يوجد بها حضارتا الآزتك والماباس تسمى المكسيك
- الدولة التي يوجد بها حضارة الأنكا تسمى بيرو
- معظم قارة أمريكا الجنوبية كان تحت سيطرة الاستعمار الإسباني ما عدا دولة تسمى البرازيل
- استمر النفوذ الإسباني في قارة أمريكا الجنوبية لمدة ثلاثة قرون
- الاستعمار الإسباني بسط نفوذه على منطقة في الشرق تسمى الفلبين

فسر - تسمية الفلبين بهذا الاسم

نسبة إلى فيليب ابن ملك إسبانيا



- 3 الدولة التي يوجد بها مقر الاستعمار الإسباني تحمل على الخريطة الرقم
- 1 دولة سميت نسبة إلى ابن ملك إسبانيا تحمل على الخريطة الرقم
- 2 جزر اهتم فيها الإسبان بالبحث عن الذهب والفضة تحمل على الخريطة الرقم
- 4 الدولة التي يوجد بها حضارة الأنكا تحمل على الخريطة الرقم
- 5 الدولة التي يوجد بها حضارتا الآزتك والماباس تحمل على الخريطة الرقم



دلل على صحة العبارة التالية - سياسة الإسبان في مستعمراتهم

☆ ممكن أن يأتي السؤال بصيغ أخرى: عدد - سياسة الإسبان في مستعمراتهم

- التبشير بالدين المسيحي
- فتح الجامعات
- المعاملة القاسية للسكان
- إبادة الشعوب الأصلية
- الاستعانة بالزنج من أفريقيا للعمل في المناجم والمزارع

### علل لما يلي

انهيار الإمبراطورية الإسبانية

☆ ممكن أن يأتي السؤال بصيغة أخرى: فند - استمرت الإمبراطورية الإسبانية لفترات طويلة ولم تسقط

- استبداد الإسبان والمعاملة السيئة للشعوب الأصلية
- استغلال المستعمرات لمصلحة إسبانيا والملك
- تدفق الثروات على إسبانيا حرض القراصنة الإنجليزي والهولنديين والفرنسيين بالسطو على السفن الإسبانية
- تحطم الأسطول الإسباني - الأرمادا على يد الإنجليز عام 1588 م

هجوم القراصنة الإنجليزي والفرنسيين والهولنديين على السفن الإسبانية بسبب تدفق الثروات على إسبانيا

ضعف القوة البحرية الإسبانية في الربع الأخير من القرن السادس عشر بسبب تحطم الأسطول الإسباني الأرمادا على يد الإنجليز في عام 1588 م

❑ اذكر نتيجة تحطم الأسطول الإسباني ( الأرمادا ) عام 1588 م  
ضعف القوة البحرية الإسبانية

❑ عرف - الأرمادا

هو الأسطول الإسباني الذي تحطم على يد الإنجليز

❑ فرق بين كل من :

أسباب انهيار الإمبراطورية الإسبانية	أسباب انهيار الإمبراطورية البرتغالية
<ul style="list-style-type: none"><li>استبداد الإسبان والمعاملة السيئة للشعوب الأصلية</li><li>استغلال المستعمرات لمصلحة إسبانيا والملك</li><li>تحطم الأسطول الإسباني - الأرمادا على يد الإنجليز عام 1588 م</li></ul>	<ul style="list-style-type: none"><li>سوء إدارة المستعمرات وانتشار الرشوة</li><li>قسوة البرتغاليين في معاملة السكان الأصليين وإجبارهم على اعتناق المسيحية</li><li>منافسة الهولنديين والإنجليز للبرتغاليين في مجال الاستعمار</li></ul>



🎯 **تدرب و تفوق**

اختبارات الكترونية ذكية



الاستعمار الأوروبي

## الاستعمار الهولندي

**أكمل العبارات التالية :**

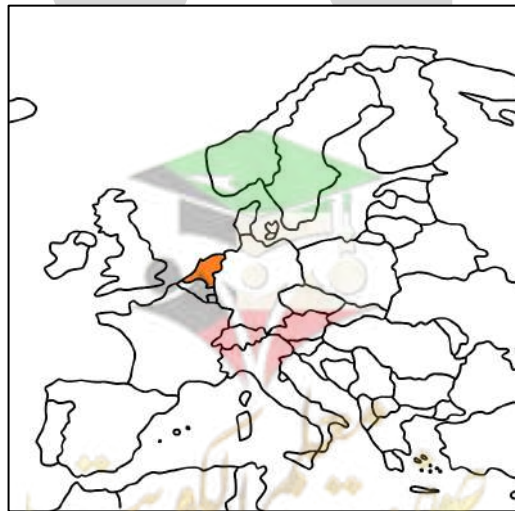
★ ممكن أن يأتي السؤال بصيغة أخرى: **اختياري**

❑ الإمبراطور الإسباني الذي ورث هولندا في القرن السادس عشر يسمى **شارل الخامس**

❑ الإمبراطور الإسباني الذي سمح للهولنديين بالتجارة في المستعمرات الإسبانية يسمى **شارل الخامس**

❑ المذهب الذي اعتنقه الهولنديون مع ظهور حركة الإصلاح الديني يسمى **البروتستانتية**

❑ العام الميلادي الذي حصلت فيه هولندا على استقلالها هو **1579 م**





❑ عدد - النتائج المترتبة على اعتناق هولندا المذهب البروتستانتى

- تعرضوا للاضطهاد من قبل الإسبان
- قاموا بالثورة ضد الحكم الإسباني
- حصول هولندا على استقلالها عام 1579 م

❑ فسر - قيام الثورة الهولندية ضد الحكم الإسباني

بسبب اعتناق الهولنديون المذهب البروتستانتى

❑ عدد - العوامل التي ساعدت على تفوق الهولنديين في نشاطهم البحري

- تحطيم الأسطول الإسباني الأرمادا
- استطاع الهولنديين تدمير أسطول الإسبان عام 1607 م
- ضم جميع الشركات فيما وراء البحار في شركة الهند الشرقية الهولندية عام 1602 م

❑ اكتب عن جهود الهولنديين في تأسيس امبراطوريتهم في بداية ق16 م

- إنشاء شركة الهند الشرقية الهولندية 1602 م
- مهاجمة المستعمرات البرتغالية في الهند وسيلان
- احتكار تجارة القرفة
- إنشاء العديد من المحطات على الساحل الغربي للهند
- نزلوا في مخا باليمن ونقلوا منها البن إلى أوروبا عام 1616 م
- تمكنوا من التجارة داخل الخليج العربي
- إنشاء محطة لهم في بندر عباس وأخرى في رأس الرجاء الصالح عام 1652 م

### أكمل العبارات التالية :

❑ العام الميلادي الذي أنشئت فيه شركة الهند الشرقية الهولندية عام 1602 م

❑ التجارة التي احتكرها الاستعمار الهولندي تسمى القرفة

❑ المدينة التي نقل منها الهولنديون البن إلى أوروبا تسمى مخا

❑ العام الميلادي الذي نقل فيه الهولنديون البن من اليمن إلى أوروبا هو 1616 م

❑ العام الميلادي الذي تم فيه إنشاء محطة رأس الرجاء الصالح 1652 م

❑ محطة كانت بداية الصراع بين الإنجليز والهولنديين تسمى رأس الرجاء الصالح

❑ فسر - قيام الاستعمار الهولندي ببناء محطة له في رأس الرجاء الصالح

لتزويد سفنهم بالماء والوقود

❑ ما تفسرك للحدث التالي : بالرغم من قوة الاستعمار الهولندي فإنه انهار أمام القوى الأوروبية الأخرى

☆ ممكن أن يأتي السؤال بصيغة أخرى: علل لم تعمر الإمبراطورية الهولندية لفترات طويلة

- هولندا أمة صغيرة غير قادرة على حماية الإمبراطورية
- الهولنديون كان اعتمادهم على التجارة فأهملوا الزراعة والصناعة
- السياسة الاستبدادية في المستعمرات
- منافسة الدول الأوروبية لها مثل إنجلترا وفرنسا

قارن بين كل مما يلي حسب الجدول التالي :

أوجه المقارنة	انهيار الإمبراطورية الاسبانية	انهيار الإمبراطورية الهولندية
الشبه	<ul style="list-style-type: none"><li>المعاملة السيئة والسياسة الاستبدادية</li><li>منافسة الإنجليز لهم</li></ul>	
الاختلاف	<ul style="list-style-type: none"><li>استغلال المستعمرات لصالح الملك</li><li>تدفق الثروات حرص القراصنة</li><li>الإنجليز والفرنسيين والهولنديين</li><li>بالسطو على سفنهم</li></ul>	<ul style="list-style-type: none"><li>هولندا أمة صغيرة غير قادرة على حماية الإمبراطورية</li><li>كان اعتمادهم على التجارة مما أدى إلى اهمال قطاع الزراعة والصناعة</li></ul>

ما هي أوجه الشبه بين كل من عوامل انهيار الإمبراطورية الهولندية والإمبراطورية البرتغالية

- السياسة الاستبدادية والمعاملة السيئة للسكان
- سوء الإدارة
- منافسة الإنجليز للإمبراطوريتين



تدرب و تفوق

اختبارات الكترونية ذكية



الاستعمار الأوروبي

## الاستعمار الفرنسي و الاستعمار الإنجليزي

أكمل العبارات التالية :

- توسع الاستعمار الفرنسي في القرن 16 على جبهتين هما أمريكا الشمالية و الهند
- العام الميلادي الذي تأسست فيه شركة الهند الشرقية الفرنسية 1664 م
- الملك الفرنسي الذي شجع على تأسيس شركة الهند الشرقية الفرنسية يسمى لويس 14
- ما دور الشخصية التالية : لويس الرابع عشر  
قامت شركة الهند الشرقية الفرنسية عام 1664 م بتشجيع منه وبرأس مال من خزنة الدولة

عد لما يلي

المناطق التي نجح الاستعمار الفرنسي باحتلالها عام 1701 م


- بوندشيري
- شندر ناجور
- سورات
- كاليكوت

العوامل التي ساعدت الفرنسيين في نجاحهم بالهند

☆ ممكن أن يأتي السؤال بصيغة أخرى: علل - نجاح فرنسا في إقليم الكرناتك

- اضمحلال النفوذ الهولندي
- انقسام الهند السياسي

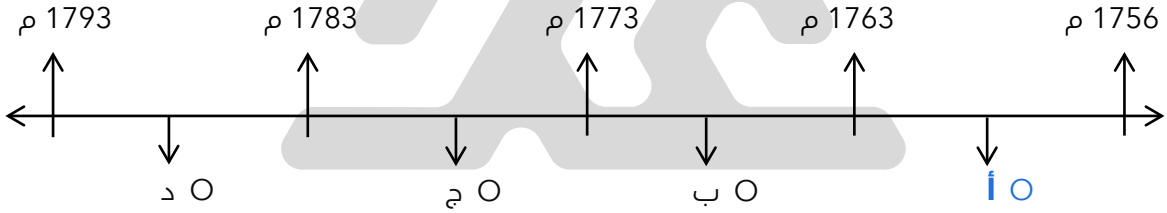
أكمل : الحرب التي نتجت عن تجاوز الاستعماريين الإنجليزي والفرنسي تسمى **حرب السنين السبع**



عدد - النتائج المترتبة تجاوز الاستعمار الفرنسي للاستعمار الإنجليزي

- الصدام المستمر بينهما
- حروب وصراعات
- حسمت بحرب السنين السبع

اختياري : حرب السنين السبع يمثلها على المخطط الزمني الحرف :



أكمل الجدول الناقص

حرب السنين السبع	
1756 م - 1763 م	السنة
إنجلترا × فرنسا	الأطراف
انفراد إنجلترا بكل من الهند وأمريكا الشمالية على حساب فرنسا	النتائج

ماذا يحدث لو : لم تقم حرب السنين السبع بين إنجلترا وفرنسا عام 1756 م - 1763 م  
لما انفردت إنجلترا في المستعمرات بكل من الهند وأمريكا الشمالية على حساب فرنسا

## أكمل العبارات التالية :

- Q الميناء الذي أبحر منه الملاحون الإنجليز في القرن السادس عشر يسمى : **بريستول**
- Q الملاح الذي وصل إلى العالم الجديد وشبه جزيرة لبرادور يسمى **جون كابوت**

## اختر الإجابة الصحيحة :

- Q الملكة التي تم في عهدها تأسيس مستعمرة فرجينيا :  
O إيزابيث O ماري الثانية O فيكتوريا
- Q العام الميلادي الذي تم فيه تأسيس مستعمرة فرجينيا :  
O 1605 م O 1606 م O **1607 م** O 1608 م

- Q عدد المستعمرات الإنجليزية على الساحل الشرقي لأمريكا الشمالية :  
O إحدى عشرة مستعمرة O **ثلاث عشرة مستعمرة**  
O اثنتا عشرة مستعمرة O أربع عشرة مستعمرة
- Q الساحل الذي تأسست عليه المستعمرات الإنجليزية يسمى :  
O الساحل الشرقي للهند O الساحل الشرقي لآسيا  
O **الساحل الشرقي لأمريكا الشمالية** O الساحل الغربي للهند

- Q عدد - المناطق التي اتجه إليها الإنجليز في أمريكا الوسطى  
▪ هندوراس ▪ جامايكا

- Q دال -ركز الإنجليز اهتمامهم على الهند

☆ ممكن أن يأتي السؤال بصيغة أخرى: **فسر**

- نظراً لثروتها الاقتصادية
- نجحوا في تأسيس مراكز لهم في سورات عام 1612 م
- تأسيس مركز مدراس في الهند



**تدرب و تفوق**

اختبارات الكترونية ذكية





# الاستعمار الروسي وآثار الاستعمار

## أكمل العبارات التالية :

- ❑ الاستعمار الذي اخترق قارة آسيا من الوسط للوصول إلى المحيط الهادي شرقاً يسمى الاستعمار الروسي
- ❑ وصل الاستعمار الروسي إلى المحيط الهادي شرقاً في القرن السادس عشر
- ❑ عدد - المناطق التي بسط فيه الاستعمار الروسي نفوذه
- الأراضي التي تقع إلى الشرق من جبال أورال
  - إخضاع سيبيريا
  - وصلوا إلى أطراف الصين من جهة الشمال الشرقي
- ❑ أكمل : الاستعمار الذي اشتهر بتجارة الفراء يسمى الاستعمار الروسي
- ❑ حدد على خريطة العالم - الدولة الاستعمارية التي اشتهرت في العمل بتجارة الفراء ( روسيا )



- ❑ اكتب فقرة تاريخية مترابطة في حدود سطرين مستعيناً بالكلمات التالية " الروس - جبال أورال - تجارة الفراء - الصين "

اخترق الروس قارة آسيا من الوسط حتى وصلوا إلى المحيط الهادي شرقاً في القرن السادس عشر فبسطوا نفوذهم على معظم الأراضي التي تقع إلى الشرق من جبال أورال وتمكنوا من السيطرة على سيبيريا والعمل بتجارة الفراء حتى وصلوا إلى أطراف الصين

- ❑ فرق بين كل مما يلي :

احتياجات أوروبا حديثاً	احتياجات أوروبا قديماً
السلع الاستهلاكية مثل السكر والشاي والقهوة والكافو والتبغ	التوابل المعادن النفيسة

## ❑ عرف - الميثاق الاستعماري

إن المستعمرة يجب عليها ألا تتاجر مع أي دولة إلا مع البلد المستعمر

## ❑ دلل - كانت المستعمرات تستغل حسب نظام الميثاق الاستعماري

- إن المستعمرة يجب عليها ألا تتاجر مع أي دولة إلا مع البلد المستعمر
- يجب على المستعمرة أن تتدخر المحاصيل للدولة الاستعمارية
- يجب على المستعمرة ألا تنشئ صناعات منافسة لها
- الدول الاستعمارية تفرض على المستعمرات البيع بسعر رخيص

## ❑ قارن بين آثار الاستعمار

★ ممكن أن يأتي السؤال بصيغ أخرى: دلل - للاستعمار آثار إيجابية وآثار سلبية  
فند - للاستعمار آثار إيجابية فقط - دلل - للاستعمار آثار إيجابية - دلل - للاستعمار آثار سلبية

الآثار السلبية	الآثار الإيجابية
<ul style="list-style-type: none"><li>▪ استغلال المستعمرات</li><li>▪ إلزام المستعمرات بإنتاج المواد الخام وشراء السلع المصنعة</li><li>▪ حطم المستعمرون الأنشطة التجارية والصناعية في المستعمرات</li><li>▪ فرض ثقافتهم على الشعوب المُستعمرة</li></ul>	<ul style="list-style-type: none"><li>▪ التنمية الاقتصادية للمستعمرات</li><li>▪ إدخال طرق الزراعة والصناعة والعلوم الطبية الغربية</li><li>▪ ربط المستعمرات بالنظام الاقتصادي العالمي</li><li>▪ إدخال النظام الديمقراطي في الحكم</li></ul>



## 🎯 تدرب و تفوق

اختبارات الكترونية ذكية

# U U L A







# الثورة الصناعية وعواملها

## عرف المفاهيم الآتية

الثورة

تغير كبير وسريع في المجتمع كله أو في جانب معين منه

الثورة الصناعية

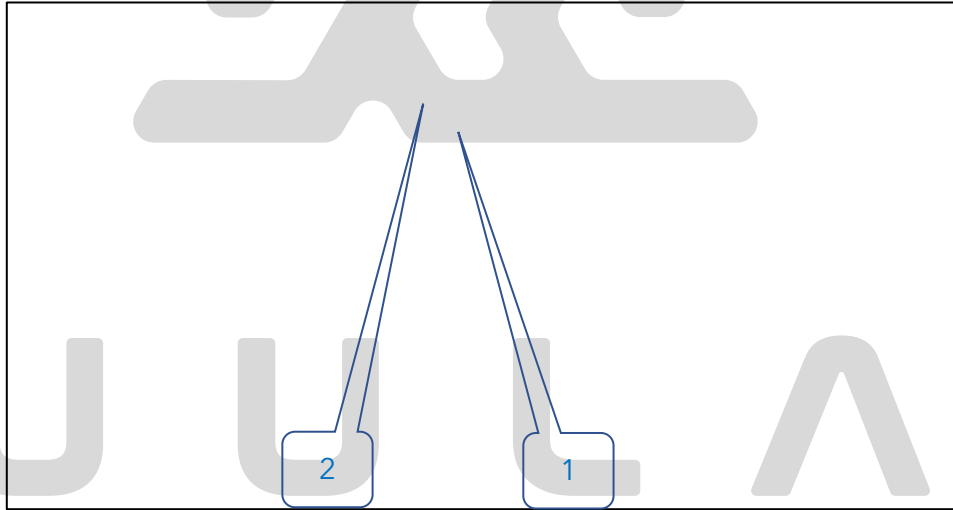
عملية تغيير شامل في أدوات الإنتاج ووسائله وحجمه وعلاقاته ومستواه وتبدل في أساليب التمويل والتسويق والتوزيع

لخص أحوال أوروبا الاقتصادية قبل قيام الثورة الصناعية

- الزراعة هي المحور الأساسي للدخل القومي لمعظم دول أوروبا
- غالبية السكان يعملون معتمدين على طاقتهم العضلية
- الحركة التجارية محدودة ومفككة

أكمل : المحور الأساسي للدخل القومي في أوروبا قبل الثورة الصناعية يسمى الزراعة

لاحظ الخريطة التالية ثم نفذ المطلوب منك



2

القاعدة التي انطلقت منها الثورة الصناعية تحمل على الخريطة الرقم

2

أولى دول أوروبا في مجال الثورة الصناعية

في مقدمة حركة النهضة الأوروبية ونقلت أوروبا من ظلمات العصور الوسطى إلى الآفاق المضيئة للعصور الحديثة تحمل على الخريطة الرقم

1

عدد - العوامل التي ساعدت إنجلترا على القيام بالثورة الصناعية

☆ ممكن أن يأتي السؤال بصيغ أخرى: علل - قيام الثورة الصناعية في إنجلترا  
فند - لم تمتلك إنجلترا أي من المقومات لقيام الثورة الصناعية

- الاستقرار الداخلي
- وفرة رأس المال
- سهولة الحصول على المواد الخام
- وجود القوى المحركة
- الأيدي العاملة الرخيصة
- تشجيع العلماء والمخترعين
- وجود أسطول تجاري كبير

عدد - دلل على صحة العبارة "الاستقرار الداخلي ساعد على قيام الثورة الصناعية"

- نجاح الثورة المجيدة في إنجلترا عام 1689م
- أصبحت بريطانيا تشهد استقراراً سياسياً مهد لنجاح الازدهار الاقتصادي

عدد - أكمل : العام الميلادي الذي قامت فيه الثورة المجيدة 1689 م

عدد - دلل - "وفرة رأس المال ساعدت على قيام الثورة الصناعية في إنجلترا"

- الكشوف الجغرافية جعلت إنجلترا مركزاً مالياً كبيراً
- أصبحت إنجلترا تتحكم في تجارة العالم
- أصبحت تمتلك ثروات مالية كبيرة
- سهولة تمويل عمليات الصناعات بأشكالها المختلفة

عدد - أكمل : المدينة الإنجليزية التي أصبحت تتحكم في المصارف الإنجليزية تسمى لندن

عدد - علل - سهولة حصول إنجلترا على المواد الخام

بسبب اتساع المستعمرات البريطانية

عدد - مصادر القوى المحركة التي توفرت لإنجلترا

- المساقط المائية
- الفحم

**دل على صحة العبارات التالية**

عدد - الأيدي العاملة الرخيصة ساعدت إنجلترا على القيام بالثورة الصناعية

- ساهمت في تشغيل المصانع بتكلفة بسيطة
- استخدام رأس المال في تغطية النفقات الأخرى للصناعة

عدد - تشجيع العلماء والمخترعين ساعد إنجلترا على القيام بالثورة الصناعية

- حرص الحكومة الإنجليزية وأصحاب رؤوس الأموال على دعم العلماء
- توفير الإمكانيات اللازمة لهم لإتمام اختراعاتهم وابتكاراتهم

عدد - امتلاك إنجلترا لأسطول تجاري كبير ساعدها على القيام بالثورة الصناعية

- سهل لإنجلترا عملية نقل المواد الخام إلى مصانعها
- إعادة تصديرها في شكل صناعات إلى أسواق العالم

❑ دال على صحة العبارة " السياسة والاقتصاد وجهان لعملة واحدة "

- الاستقرار الداخلي في إنجلترا مهد لنجاح الاقتصاد الإنجليزي وازدهاره
- حرص الحكومة الإنجليزية وأصحاب رؤوس الأموال على دعم جهود العلماء والمخترعين

❑ ما العلاقة بين الثورة الصناعية وتطور العديد من الصناعات

- الثورة الصناعية طورت الصناعات
- ظهور العديد من الاختراعات التي ساهمت في دفع عجلة الإنتاج الصناعي
- غيرت من أشكال الصناعات التقليدية إلى الصناعات المتطورة



🎯 **تدرب و تفوق**

اختبارات الكترونية ذكية



الثورة الصناعية

## مظاهر الثورة الصناعية

❑ عدد - أبرز العلماء الذين ساهموا في إحداث الثورة الصناعية في مجال المنسوجات

- جون كي
- جيمس هارجر يفز
- ريتشارد آر كرايت

❑ دال على صحة العبارة التالية " أحدثت الثورة الصناعية تغيرات كبيرة في مجال المنسوجات "

- في عام 1733 م اخترع العالم جون كي المكوك الطائر الذي أدى إلى زيادة سرعة النسيج
- في عام 1764 م اخترع جيمس هارجر يفز آلة يدوية للغزل والتي أدت إلى غزل ثمانية خيوط
- في عام 1769 م قام العالم ريتشارد آر كرايت باختراع الإطار المائي لكي يستخدم قوة الماء في عملية الغزل

❑ فسر - قيام جيمس هارجر يفز باختراع آلة يدوية للغزل

☆ ممكن أن يأتي السؤال بصيغة أخرى: اكتب - نتيجة اختراع جيمس هارجر يفز

لغزل ثمانية خيوط

**أكمل العبارات التالية**

☆ ممكن أن يأتي السؤال بصيغة أخرى: **اختياري**

❑ العام الميلادي الذي اخترع فيه العالم جون كي المكوك الطائر **1733 م**

❑ اختراع أدى إلى استخدام قوة الماء لعملية الغزل يسمى **الإطار المائي**

❑ العالم الذي اخترع آلة يدوية للغزل يسمى **جيمس هارجر يفز**



آلة يدوية للغزل للمخترع جيمس هارجر يفز



المكوك الطائر للمخترع جون كي

عدد - أبرز العلماء الذين ساهموا في إحداث الثورة الصناعية في مجال صناعة الآلات

- توماس نيوكمان
- جيمس وات

دلل على صحة العبارة التالية " أحدثت الثورة الصناعية تغييرات كبيرة في مجال صناعة الآلات "

☆ ممكن أن يأتي السؤال بصيغة أخرى: فند- لم تسهم الثورة الصناعية بأي اختراعات في مجال الآلات

- في عام 1712 م قام توماس نيو كمان باختراع المضخة البخارية الكابسة لإدارة الآلات بقوة البخار
- في عام 1765 م اخترع جيمس وات المضخة البخارية الدائرية الحركة لإدارة آلات الغزل والنسيج

اكتب نتيجة اختراع المضخة البخارية الكابسة

إدارة الآلات بقوة البخار

اختر الإجابة الصحيحة

☆ ممكن أن يأتي السؤال بصيغة أخرى: أكمل

مخترع المضخة البخارية الكابسة يسمى :

- توماس نيو كمان
- ريتشارد أركرايت

- هنري بسمر
- جون كي

العام الميلادي الذي اخترع فيه جيمس وات المضخة البخارية الدائرية الحركة :

1769 م

1765 م

1764 م

1712 م

المجال الذي برز فيه كل من توماس نيو كمان وجيمس وات يسمى :

النقل

المنسوجات

التعدين

الآلات



أكمل : الصورة المقابلة اختراع لعالم يسمى توماس نيو كمان

اكتب مدلول الصورة المقابلة  
آلة جيمس وات البخارية




### أكمل العبارات التالية

- صاحب تحضير الفولاذ من الحديد يسمى هنري بسمر
- العام الميلادي الذي قام فيه هنري بسمر بتحضير الفولاذ من الحديد 1856 م
- المجال الذي برز فيه هنري بسمر يسمى التعدين

اذكر - نتيجة اختراع هنري بسمر  
إنتاج آلات من الصلب

اكتب مدلول الصورة المقابلة  
هنري بسمر وتحضير الفولاذ من الحديد



### تدرب و تفوق

اختبارات الكترونية ذكية



عدد - أبرز العلماء الذين ساهموا في الثورة الصناعية في مجال النقل

- روبرت فولتن
- جورج ستيفنسن
- نيقولا أوتو
- ديملر وبنز
- رودلف ديزل

دلل على صحة العبارة التالية " أحدثت الثورة الصناعية تغيرات كبيرة في مجال النقل والمواصلات "

- في عام 1807 م اخترع روبرت فولتن السفن البخارية لتسيير السفن التجارية البخارية
- في عام 1814 م اخترع جورج ستيفنسن القاطرة البخارية وذلك لبداية سير السكك الحديدية
- نيقولا أوتو في عام 1876 م اخترع محرك رباعي الأشواط لتطوير السيارات
- في عام 1885 م قام ديملر وبنز باختراع سيارة البنزين لإنتاج سيارة البنزين الأولى
- قام رودلف ديزل في عام 1892 م باختراع محرك الاحتراق الداخلي ليستخدم الديزل كوقود للسيارات

اكتب نتيجة اختراع القاطرة البخارية

بداية سير السكك الحديدية

❑ فند - لم تسهم الثورة الصناعية بأي اختراعات في مجال النقل

- اختراع السفن البخارية
- القاطرة البخارية
- محرك رباعي الأشواط
- اختراع سيارة البنزين
- محرك الاحتراق الداخلي


### أكمل العبارات التالية

- ❑ العالم الذي اخترع السفن البخارية يسمى روبرت فولتن
- ❑ الاختراع الذي أدى إلى بداية سير السكك الحديدية يسمى القاطرة البخارية
- ❑ مخترع الاحتراق الداخلي يسمى رودلف ديزل
- ❑ العام الميلادي الذي اخترع فيه نيقولاس أوتو محرك رباعي الأشواط 1876 م
- ❑ المجال الذي برز في ديمرلر وبنز يسمى النقل

### اختر الإجابة الصحيحة

- ❑ نتيجة اختراع محرك الاحتراق الداخلي هي :
- **الديزل وقود للسيارات**
- تطوير السيارات
- إنتاج سيارة البنزين الأولى
- بداية سير السكك الحديدية
- ❑ نتيجة اختراع نيقولاس أوتو :
- تسيير السفن التجارية البخارية
- إنتاج سيارة البنزين الأولى
- **تطوير السيارات**
- الديزل وقود للسيارات

❑ اكتب مدلول الصور التالية :



بنز 1885 م



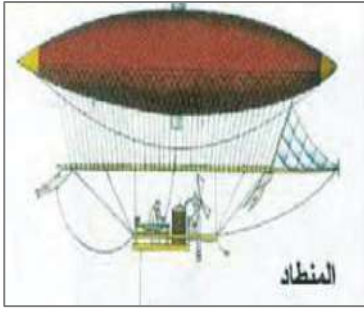
قاطرة جورج ستفينسن

❑ دلل على صحة العبارة التالية " أحدثت الثورة الصناعية تغيرات كبيرة في مجال الطيران "

- اختراع بلانشارد المنطاد عام 1785 م لعبور القنال الإنجليزي
- قيام الأخوان رايت باختراع طائرة ذات محرك بنزيني عام 1903 م لتطوير عالم الطيران




اكتب نتيجة اختراع المنطاد  
عبور القنال الإنجليزي



### أكمل العبارات التالية

- مخترع المنطاد عام 1785 م يسمى بلانشارد
- العام الميلادي الذي اخترع فيه الأخوان رايت طائرة البازين لتطوير عالم الطيران 1903 م



- عدد - أبرز العلماء الذين ساهموا في الثورة الصناعية في مجال الكهرباء
- اليساندرو فولتا
  - مايكل فاراداي
  - توماس إديسون

- دلل على صحة العبارة التالية " أحدثت الثورة الصناعية تغيرات كبيرة في مجال الكهرباء "

- اختراع البطارية الكهربائية على يد فولتا عام 1799م لتوليد تيار كهربائي ثابت
- اختراع مايكل فاراداي الدينامو عام 1831 م لاستخدام الطاقة الميكانيكية لتوليد طاقة كهربائية
- اختراع توماس إديسون المصباح الكهربائي عام 1877 م لاستخدام الكهرباء في الإضاءة

- ماذا يحدث لو - لم يخترع توماس إديسون المصباح الكهربائي
- عاش الناس في ظلام دامس فترة طويلة من الزمن معتمدين على الأساليب القديمة كالشموع ومصابيح الزيت

- اكتب نتيجة اختراع الدينامو

استخدام الطاقة الميكانيكية لتوليد الطاقة الكهربائية

### اختر الإجابة الصحيحة

- المجال الذي برز فيه اليساندرو فولتا هو :

- النقل ○ الكهرباء ○ المنسوجات ○ الاتصال والمواصلات ○

المخترع الذي استخدم الطاقة الميكانيكية لتوليد طاقة كهربائية يسمى :

○ مايكل فاراداي

○ بلانشارد

○ وليم ماركوني

○ توماس إديسون

الاختراع الذي أدى إلى استخدام الكهرباء في الإضاءة هو :

○ الدينمو

○ البطارية الكهربائية


○ المصباح الكهربائي

### أكمل العبارات التالية

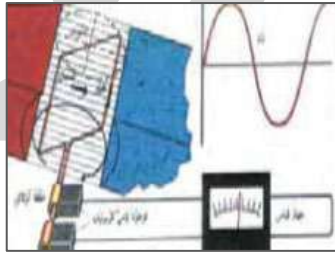
العالم الذي اخترع المصباح الكهربائي يسمى توماس إديسون

العام الميلادي الذي اخترع فيه مايكل فاراداي الدينمو 1831 م

اكتب المدلول المناسب بالنسبة لكل مما يلي



اليساندرو فولتا



مايكل فاراداي



تدرب و تفوق

اختبارات الكترونية ذكية



عدد - أبرز العلماء الذين ساهموا في الثورة الصناعية في مجال الاتصال والمواصلات

▪ صمويل موريس ▪ وليم ماركوني ▪ جراهام بل

دلل على صحة العبارة التالية " أحدثت الثورة الصناعية تغيرات كبيرة في مجال الاتصالات "

- اختراع صمويل موريس التلغراف الكهربائي عام 1837 م لإرسال الرسائل التلغرافية
- في عام 1896 م اخترع وليم ماركوني اللاسلكي - الراديو لبث الإشارات والأصوات
- قيام جراهام بل باختراع الهاتف عام 1876 م للاتصالات الهاتفية

## اكتب - نتيجة الاختراعات التالية :

التلغراف الكهربائي

إرسال الرسائل التلغرافية

اللاسلكي - الراديو


بث الإشارات والأصوات

## أكمل العبارات التالية

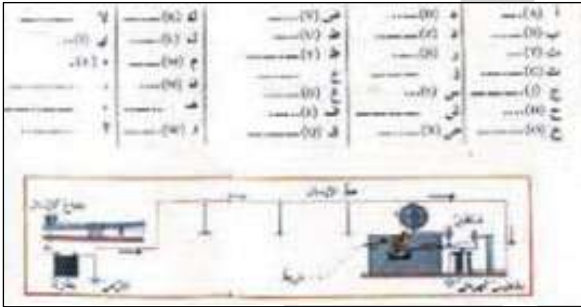
مخترع اللاسلكي - الراديو يسمى وليم ماركوني

صاحب اختراع التلغراف الكهربائي يسمى صمويل موريس

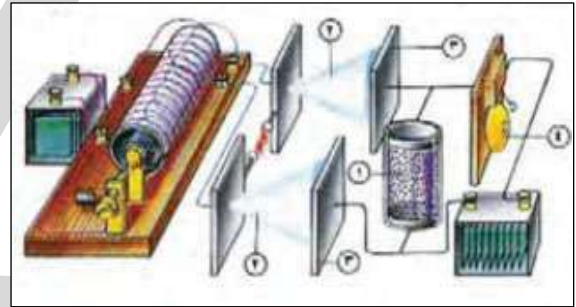
الصورة المقابلة للاختراع يسمى الهاتف



اكتب مدلول الصور التالية



لاسلكي ماركوني



تلغراف صمويل موريس

## صنف ما يلي حسب الجدول التالي

تحضير الفولاذ من الحديد - المكوك الطائر - السفن البخارية - المضخة البخارية الدائرية الحركة

النقل	التعدين	الآلات	المنسوجات
السفن البخارية	تحضير الفولاذ من الحديد	المضخة البخارية الدائرية الحركة	المكوك الطائر

وليم ماركوني - اليساندرو فولتا - بلانشارد

الاتصال والموصلات	الكهرباء	الطيران
وليم ماركوني	اليساندرو فولتا	بلانشارد

صنف الأسماء التالية حسب المجال الذي برز فيه ( هنري بسمر - توماس إديسون - جون كي - جورج ستيفنسن )

صناعة المنسوجات	مجال التعدين	مجال النقل	مجال الكهرباء
جون كي	هنري بسمر	جورج ستيفنسن	توماس إديسون

		<b>أوجه الاختلاف</b>
آلة يدوية للغزل	الهاتف - التليفون	<b>اسم الاختراع</b>
غزل ثمانية خيوط	الاتصالات الهاتفية	<b>أثر الاختراع</b>



### تدرب و تفوق

اختبارات الكترونية ذكية



### الثورة الصناعية

## نتائج الثورة الصناعية

عدد - نتائج الثورة الصناعية

- نتائج اقتصادية
- نتائج سياسية
- نتائج اجتماعية

نفذ المطلوب منك مما بين القوسين  
الثورة الصناعية ( النتائج الاقتصادية )

☆ ممكن أن يأتي السؤال بصيغة أخرى: برهن - أحدثت الثورة الصناعية تغيرات في أوروبا من الناحية الاقتصادية

- قيام المصانع الكبيرة
- انتعاش النشاط الاقتصادي
- اتساع النشاط التجاري
- ارتفاع الدخل القومي
- ظهور المدن الصناعية
- سيادة النظام الرأسمالي

ما هي أوجه الاختلاف بين الاقتصاد الأوروبي قبل الثورة الصناعية وبعدها

الاقتصاد الأوروبي بعد الثورة الصناعية	الاقتصاد الأوروبي قبل الثورة الصناعية
<ul style="list-style-type: none"> <li>ظهور المدن الصناعية</li> <li>ارتفاع الدخل القومي</li> <li>اتساع النشاط التجاري العالمي</li> </ul>	<ul style="list-style-type: none"> <li>الزراعة هي المحور الأساسي للدخل القومي</li> <li>غالبية السكان يعملون معتمدين على طاقتهم العضلية</li> <li>الحركة التجارية محدودة ومفككة</li> </ul>

دلل - انتعاش النشاط الاقتصادي في أوروبا عقب الثورة الصناعية

- من خلال حركة البنوك
- الوكالات التجارية
- مراكز التوزيع والتسويق

أكمل : النظام الاقتصادي الذي ساد أوروبا عقب الثورة الصناعية يسمى النظام الرأسمالي

❏ نفذ المطلوب منك مما بين القوسين  
الثورة الصناعية ( النتائج الاجتماعية )

★ ممكن أن يأتي السؤال بصيغة أخرى: برهن - أحدثت الثورة الصناعية في أوروبا تغيرات من الناحية الاجتماعية

- زيادة السكان في أوروبا وارتفاع مستوى المعيشة نتيجة لنمو الدخل القومي
- ظهور الصراع الطبقي بين طبقة العمال الكادحين والطبقة الرأسمالية
- انتشار الآراء الاشتراكية المضادة للفكر الرأسمالي

❏ أكمل : الآراء المضادة للفكر الرأسمالي تسمى الآراء الاشتراكية

★ ممكن أن يأتي السؤال بصيغة أخرى: **عرف**

❏ نفذ المطلوب منك مما بين القوسين  
الثورة الصناعية ( النتائج السياسية )

★ ممكن أن يأتي السؤال بصيغة أخرى: برهن - أحدثت الثورة الصناعية في أوروبا تغيرات من الناحية السياسية

- سيطرة الطبقة الرأسمالية على السلطة
- التسابق الاستعماري حول المستعمرات
- ظهور الأحزاب السياسية المدافعة عن حقوق العمال

❏ اختياري : نتيجة سياسية ترتبت على الثورة الصناعية :

- ظهور الصراع الطبقي
- ظهور المراكز الصناعية
- زيادة الإنتاج
- **سيطرة الطبقة الرأسمالية**

❏ علل - التسابق الاستعماري حول المستعمرات

- جلب المواد الخام
- جعلها أسواقاً للإنتاج الصناعي

❏ أكمل : الطبقة التي سيطرت على السلطة في أوروبا عقب الثورة الصناعية تسمى الرأسمالية



🎯 **تدرب و تفوق**

اختبارات الكترونية ذكية

