



# التاريخ

الكورس الأول

12



# التاريخ

الكورس الأول

12

# شلون تتفوق بدراستك

## منصة علا تخلي المذكرة أقوى

تبي أعلى الدرجات؟ لا تعتمد على المذكرة بروحها  
ادرس صح من الفيديوهات و الاختبارات في منصة علا

700

★ اختبارات ذكية تدربك  
حل الاختبارات الإلكترونية أول بأول  
عشان ترفع مستواك

🎬 فيديوهات تشرح لك  
تابع الفيديوهات و اسأل المعلم في علا وأنت  
تدرس من المذكرة عشان تضبط الدرس



اكتشف عالم التفوق مع منصة علا

لتشارك بالمادة و تستمتع بالشرح  
المميز صور أو اضغط على ال QR



UULA

# المعلق



هذه المذكرة تغطي المادة كاملة.

في حال وجود أي تغيير للمنهج أو تعليق جزء منه يمكنكم مسح رمز QR للتأكد من المقرر.



# المنقذ



أول ما تحتاج مساعدة بالمادة ، المنقذ موجود!

صور ال QR بكاميرا التلفون أو اضغط عليه إذا كنت تستخدم المذكرة من جهازك و يطلع لك فيديو يشرح لك.



صفحة معلق الكويث

# قائمة المحتوى

## 01 النهضة الأوروبية

01

- 5 مقدمة النهضة الأوروبية - العصور الوسطى  
9 عوامل قيام النهضة الأوروبية  
13 مظاهر النهضة الأوروبية: المظاهر الأدبية والفنية  
15 المظاهر الفنية  
18 المظاهر الدينية  
20 المظاهر السياسية

## 02 الكشوف الجغرافية

02

- 23 أسباب قيام حركة الكشوف الجغرافية  
26 رحلات الكشوف البرتغالية  
32 رحلات الكشوف الإسبانية  
36 رحلة أمريكو فسبوتشي  
39 رحلة فرديناند ماجلان  
42 الكشوف الإنجليزية  
53 الكشوف الفرنسية  
56 رحلات الكشوف للقرب الشمالي والجنوبي  
59 نتائج الرحلات والكشوف الجغرافية

## 03 الاستعمار الأوروبي

03

- 63 المفهوم والعوامل  
64 أشكال الاستعمار  
69 الاستعمار البرتغالي  
72 الاستعمار الإسباني  
74 الاستعمار الهولندي  
76 الاستعمار الفرنسي و الاستعمار الإنجليزي  
79 الاستعمار الروسي وآثار الاستعمار

## 04 الثورة الصناعية

04

- 81 الثورة الصناعية وعواملها  
83 مظاهر الثورة الصناعية  
90 نتائج الثورة الصناعية

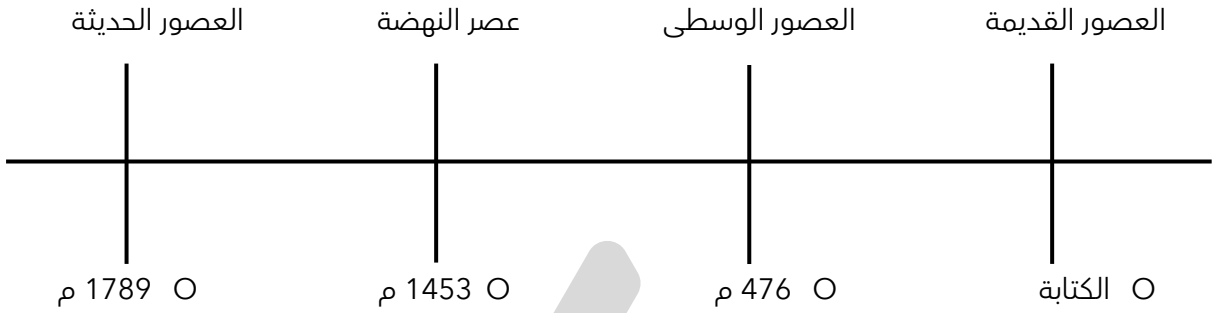


صفوة معلمي الكويت



# مقدمة النهضة الأوروبية - العصور الوسطى

إن مصطلح نهضة في أوروبا يدل على أن أوروبا كانت تعاني من تخلف في العصور الوسطى .



عرف - العصور الوسطى

---

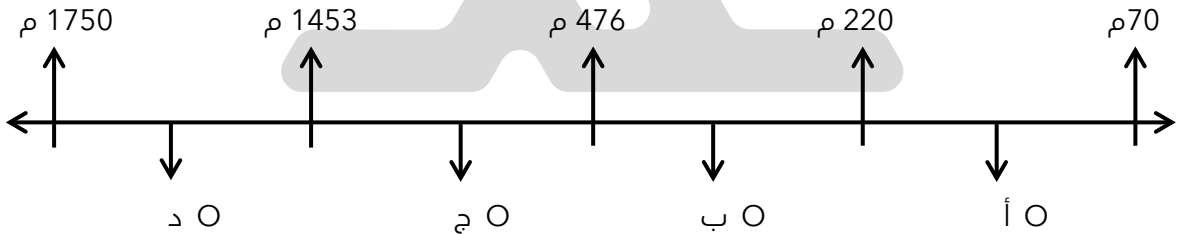


---



---

اختياري - فترة العصور الوسطى يمثلها على المخطط الزمني الحرف :



اكتب المصطلح - العصور التاريخية التي تميزت بسيطرة رجال الدين والنظام الإقطاعي .

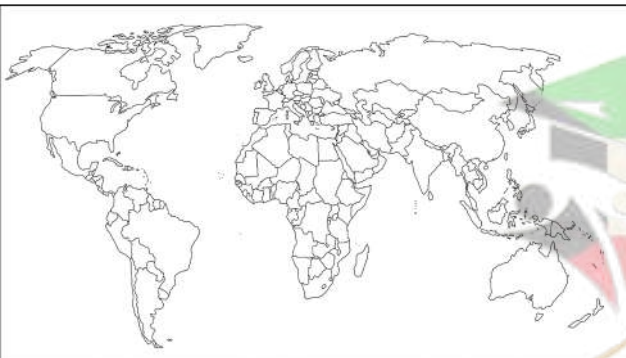
---



---

**أكمل العبارات التالية :**

☆ ممكن أن يأتي السؤال بصيغة أخرى: حدد علي الخريطة



مدينة سقطت على يد القبائل الجرمانية عام 476 م تسمى \_\_\_\_\_

العام الميلادي الذي سقطت فيه روما على يد القبائل الجرمانية \_\_\_\_\_

القبائل التي أسقطت الإمبراطورية الرومانية عام 476 م تسمى \_\_\_\_\_

عدد - سمات العصور الوسطى .

☆ ممكن أن يأتي السؤال بصيغة أخرى: ( علل عاشت أوروبا في العصور الوسطى في جهل وتخلف )  
(فند العبارة التالية - عاشت أوروبا في العصور الوسطى في حالة من الازدهار) ( دلل - عاش الناس في جهل وتخلف وجرموا من حرية التفكير والبحث العلمي )

عدد - النتائج المترتبة على هيمنة الكنيسة الكاثوليكية على الناحيتين الروحية والثقافية في أوروبا خلال العصور الوسطى .

عدد - النظام الإقطاعي .

☆ ممكن أن يأتي السؤال بصيغة أخرى: **أكمل**

عدد - اكتب المدلول التاريخي المناسب - نظام ساد في أوروبا في العصور الوسطى وأدى إلى تقسيم المجتمع الأوروبي إلى مجتمع طبقي .

عدد - النتائج المترتبة على ظهور النظام الإقطاعي .

☆ ممكن أن يأتي السؤال بصيغة أخرى: (ما الآثار المترتبة على سيادة نظام الإقطاع في أوروبا في العصور الوسطى ) -  
(دلل - كان لظهور النظام الإقطاعي أثر واضح على المجتمع الأوروبي في العصور الوسطى ) - (فند - كان المجتمع الأوروبي في العصور الوسطى مجتمعاً متساوياً في الحقوق والواجبات )

عدد - علل - تقسيم المجتمع الأوروبي إلى مجتمع طبقي في العصور الوسطى .

عدد - ماذا يحدث إذا - لم يظهر النظام الإقطاعي في أوروبا بالعصور الوسطى .

عدد - اكتب المدلول التاريخي - طبقة اجتماعية عاشت في العصور الوسطى محرومة من أي حقوق رغم تحملها الكثير من الأعباء .

اكتب فقرة مترابطة من سطرين مستخدماً الكلمات التالية : ( العصور الوسطى - الكنيسة الكاثوليكية - البابوية والإمبراطورية - البحث العلمي ) .



**تدرب و تفوق**

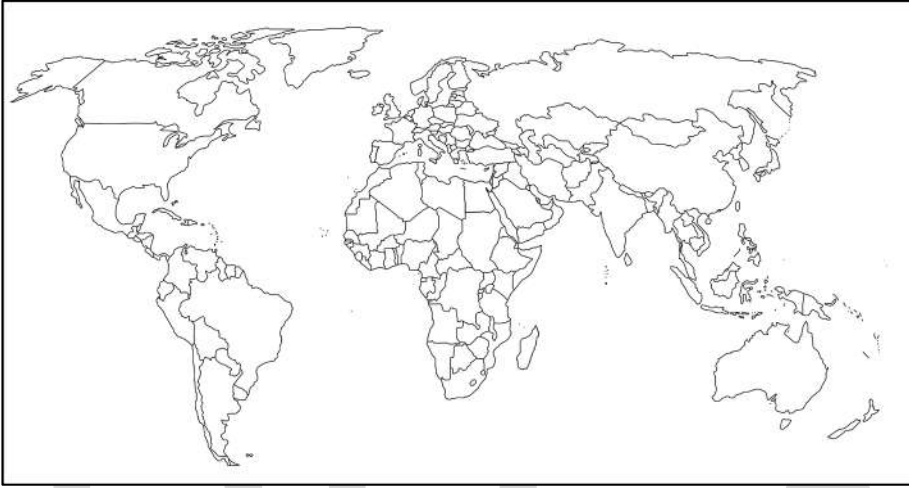
اختبارات الكترونية ذكية



ا عرف - النهضة الأوروبية .

ما هو الدور الريادي الذي لعبته إيطاليا في إبراز ملامح تاريخ أوروبا الحديث والمعاصر

حدد على خريطة العالم - الدولة التي انطلقت منها النهضة الأوروبية



ما تفسيرك - اعتبر المؤرخون سقوط العاصمتين ( روما والقسطنطينية ) نقطتي تحول في التاريخ .

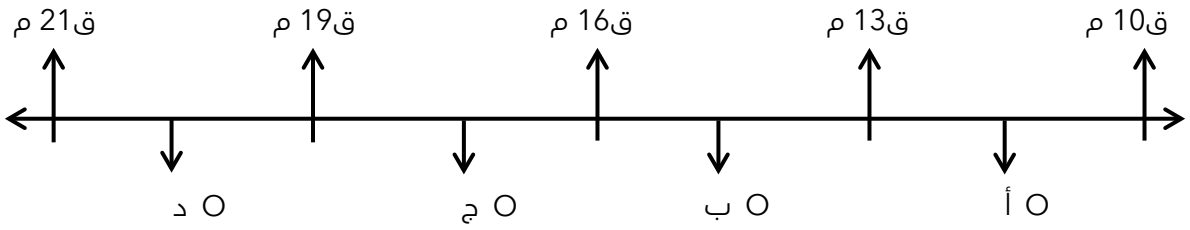
ا عرف - عصر النهضة .

☆ ممكن أن يأتي السؤال بصيغة أخرى: **أكمل**

اكتب المصطلح التاريخي الدال على العبارة - مرحلة انتقالية بين العصور الوسطى والعصور الحديثة .



❑ اختياري - الفترة الزمنية التي أطلق عليها عصر النهضة الأوروبية يمثلها على المخطط الزمني الحرف :



❑ أكمل العبارات التالية :

❑ العام الميلادي الذي دخل فيه العثمانيون القسطنطينية

❑ العاصمة البيزنطية التي دخلها العثمانيون في عام 1453 م تسمى



❑ علل - تعتبر إيطاليا أسبق الدول الأوروبية إلى النهضة .

★ يمكن أن يأتي السؤال بصيغة أخرى: (دلل - أسبقية إيطاليا في حركة النهضة الأوروبية) (برهن - لعبت عوامل عدة في جعل إيطاليا نقطة انطلاق للنهضة الأوروبية)

❑ عدد - النتائج المترتبة على عصر النهضة الأوروبية في إيطاليا .

🔴 صنف العوامل والنتائج التي جعلت إيطاليا في مقدمة حركة النهضة الأوروبية .

النتيجة	العامل	المصطلح
		المجد القديم
		الدور البابوي
		الموقع الجغرافي
		الازدهار الاقتصادي

🔴 ماذا يحدث لو - لم تظهر النهضة الأوروبية في إيطاليا .



🎯 **تدرب و تفوق**

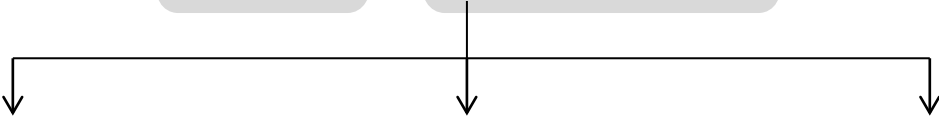
اختبارات الكترونية ذكية



النهضة الأوروبية

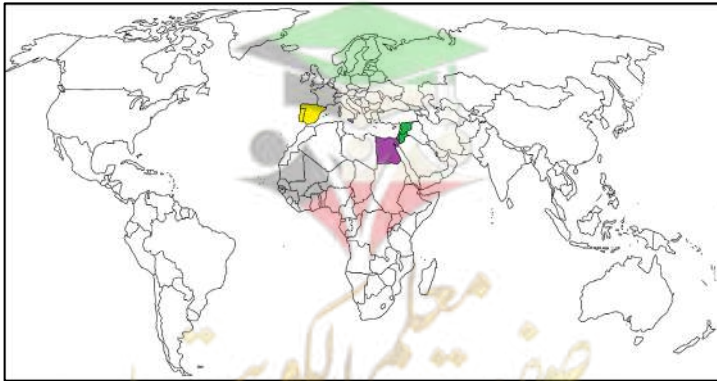
## عوامل قيام النهضة الأوروبية

🔴 عدد - عوامل قيام النهضة الأوروبية .



🔴 دال على صحة العبارة التالية - ساهمت الحضارة الإسلامية بدور عظيم في قيام النهضة الأوروبية .

★ يمكن أن يأتي السؤال بصيغة أخرى: ( فند - يرى بعض المستشرقين بأن دور الحضارة الإسلامية ليس له أي أهمية في قيام النهضة الأوروبية )



❑ ماذا يحدث لو - لم يتم اتصال أوروبا بالعلماء المسلمين .

❑ أكمل - الحضارة التي أمدت أوروبا بأعظم الإنجازات العلمية وكانت عاملاً في قيام النهضة الأوروبية تسمى

❑ عرف - حركة إحياء الدراسات اليونانية القديمة .

❑ اختياري - امتدت حركة إحياء الدراسات اليونانية القديمة من القرن .

○ ( 16 - 14 )      ○ ( 15 - 14 )      ○ ( 16 - 15 )      ○ ( 17 - 16 )

❑ فسر - بذل المفكرون الأوروبيون جهداً كبيراً في إحياء الدراسات اليونانية القديمة .

❑ برهن على صحة العبارة التالية - بذل المفكرون الأوروبيون جهداً كبيراً في إحياء الدراسات اليونانية القديمة .

★ يمكن أن يأتي السؤال في صيغ أخرى: (عدد - جهود المفكرين الأوروبيين في إحياء الدراسات اليونانية القديمة) - (فند - لم يبذل المفكرون الأوروبيون جهداً كبيراً في إحياء الدراسات اليونانية القديمة) - (ما دور - المفكرين الأوروبيين في إحياء الدراسات اليونانية القديمة)

❑ فسر - تبادل علماء القسطنطينية وإيطاليا الزيارات العلمية .

❑ علل - تنافس الأمراء والأثرياء في إنشاء المكتبات ساعد في إحياء الدراسات اليونانية القديمة .

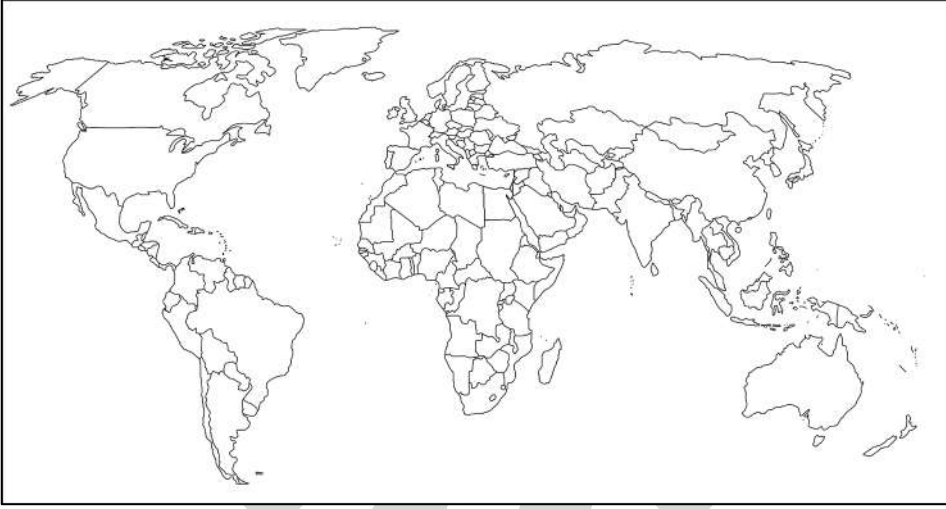
❑ ما العلاقة بين ظهور الأكاديميات العلمية في إيطاليا وإحياء الدراسات اليونانية القديمة .



## أكمل العبارات التالية :

☆ ممكن أن يأتي السؤال بصيغ أخرى: اختياري - عدد

- ٥ تنافس الأمراء والأثرياء في إنشاء المكتبات أدى إلى ازدهار مكتبات البندقية و فلورنسا بجانب مكتبة تسمى \_\_\_\_\_
- ٥ الأسرة التي اهتمت بالحركة العلمية في مدينة فلورنسا تسمى \_\_\_\_\_
- ٥ الأسرة التي اهتمت بالحركة العلمية في مدينة ميلانو تسمى \_\_\_\_\_
- ٥ مخترع أحرف الطباعة المعدنية يسمى \_\_\_\_\_
- ٥ حدد على خريطة العالم - الدولة التي ينتمي إليها المخترع حنا جوتنبرج \_\_\_\_\_



## لاحظ الصورة التالية ثم أجب عما يلي :




٥ من هو صاحب الصورة \_\_\_\_\_

٥ الإنجاز الذي قدمه \_\_\_\_\_



٥ نتائج هذا الاختراع \_\_\_\_\_

٥ ماذا يحدث لو - لم يخترع حنا جوتنبرج أحرف الطباعة المعدنية \_\_\_\_\_





عدد - مراحل نمو المدن الأوروبية .



☆ ممكن أن يأتي السؤال بصيغ أخرى: (علل - عادت المدن الأوروبية إلى الظهور مرة أخرى في أواخر العصور الوسطى ) ( دال - هناك من يعتبر إن النهضة الأوروبية هي وليدة نمو المدن ) - ( دال - تحقق للمدن الأوروبية النمو والازدهار في عصر النهضة )

### اختر الإجابة الصحيحة

عادت المدن الأوروبية إلى الظهور مرة أخرى في أواخر العصور .

- القديمة  الوسطى  الحديثة

تمكنت المدن الأوروبية من استعادة نشاطها التجاري وخاصة المدن التي امتلكت موانئ .

- برية  بحرية  جوية

### عرف ما يأتي :

☆ ممكن أن يأتي السؤال بصيغ أخرى: **أكمل - اختياري - اكتب المصطلح**

الكومونات .

البرجوازية .

أكمل : طبقة أحدثت تغييراً كبيراً في ملامح المدن الأوروبية سياسياً واقتصادياً واجتماعياً تسمى

عدد - نتائج تحالف الطبقة الوسطى البرجوازية مع الملوك

☆ اكتب فقرة تاريخية مترابطة مستعيناً بالكلمات التالية:  
( ( مدن أوروبية - كومونات - طبقة وسطى - ثورة ثقافية ) )

من خلال الخريطة المقابلة - عدد - أهم المدن الإيطالية التي ساهمت في إحياء النهضة الأوروبية .



---

---

---

---



تدرب و تفوق

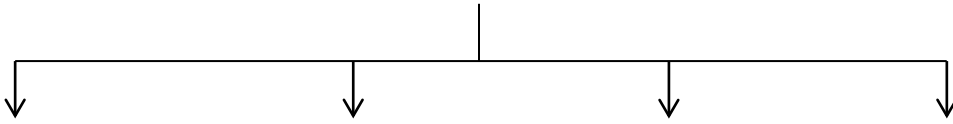
اختبارات الكترونية ذكية



النهضة الأوروبية

## مظاهر النهضة الأوروبية المظاهر الأدبية

عدد - مظاهر النهضة الأوروبية .



علل - ازدهار الناحية الأدبية في عصر النهضة .

☆ ممكن أن يأتي السؤال بصيغة أخرى: ( لخص كيف ساهم الأدب في عصر النهضة )

---

---

---

عرف - الإنسانيين .

---

---



❑ فسر - اهتمام الأدباء بدراسة الإنسان .

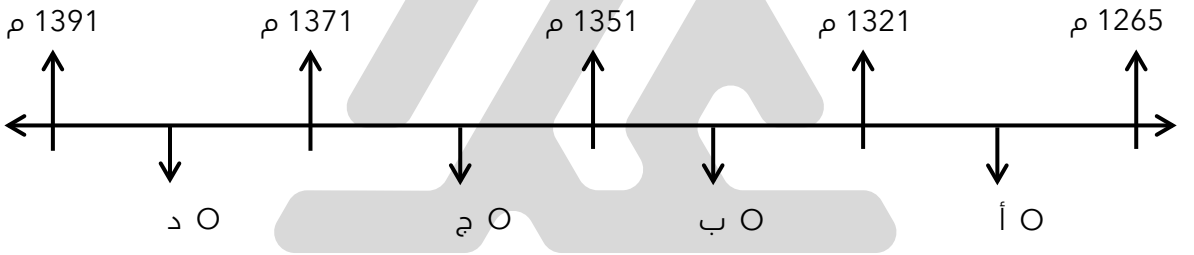
★ ممكن أن يأتي السؤال بصيغ أخرى: (فند - أهملت النهضة الأوروبية دراسة الإنسان ) - (فند - لم تبدي الحركة الأدبية في عصر النهضة اهتماماً بالإنسان )

❑ ماذا يحدث لو - لم يهتم الأدباء الإنسانيون بالإنسان .

❑ عدد - أبرز أدباء عصر النهضة .

**اختر الإجابة الصحيحة :**

❑ الفترة التي تمثل حياة الأديب والشاعر دانتي على المخطط الزمني تحمل الحرف:



❑ الفترة من عام 1313 م حتى عام 1375 م تمثل حياة الأديب والشاعر :

○ دانتي ○ بوكاشيو ○ أرزاموس ○ بترارك

❑ علل - يعتبر دانتي من أعظم شعراء إيطاليا

❑ عدد - أهم أعمال دانتي

**أكمل العبارات التالية :**

❑ الشاعر العربي الذي تأثر به دانتي في رواية الكوميديا الإلهية يسمى

❑ الرسالة التي تأثر بها دانتي في رواية الكوميديا الإلهية تسمى

❑ القصة التي تأثر فيها الأديب دانتي في كتابة الكوميديا الإلهية تسمى



## النهضة الأوروبية

## المظاهر الفنية



عدد - أهم معالم الحركة الفنية في عصر النهضة .

☆ ممكن أن يأتي السؤال بصيغ أخرى: (علل - ازدهار الناحية الفنية في عصر النهضة) - (لخص كيف ساهم الفن في عصر النهضة) - (دلل - لعبت التغيرات التي صاحبت عصر النهضة دوراً كبيراً في تفجير الطاقات الفنية لدى الفنانين) - (فند - لم يطرأ أي تغيير على الحركة الفنية في عصر النهضة)

عدد - النتائج المترتبة على التشجيع والدعم الفني والمعنوي للفنانين في عصر النهضة .

عدد - أبرز المجالات التي برز فيها الفنانون في عصر النهضة .

التصوير	النحت	العمارة	المجالات
			الرواد

## اختر الإجابة الصحيحة :

أسماء رواد الحركة الفنية في النهضة الأوروبية في - الجدول المقابل يمثلهم الأرقام :

الشخصيات	م
دوناتللو	1
روبرت بييري	2
تشارلز ويلكز	3
مايكل أنجلو	4

( 2 , 1 ) ○ ( 4 , 2 ) ○  
( 3 , 2 ) ○ ( 4 , 1 ) ○

المجال الذي اشتهر فيه الفنان مايكل أنجلو :

○ النحت ○ التصوير ○ العمارة ○ الرسم



❏ الصورة المقابلة لفنان يسمى :



○ ليوناردو دافنشي  
○ رفائيل

○ ما يكل أنجلو  
○ دوناتللو

❏ الفنان الذي برز في مجال العمارة يسمى :

○ دوناتللو  
○ ليوناردو دافنشي

○ فيليو برونيلسكي  
○ مايكل أنجلو

❏ الفترة من عام 1452 م إلى 1519 م تمثل حياة الفنان :

○ رفائيل  
○ دوناتللو

○ دافنشي  
○ مايكل أنجلو

❏ اكتب فيما درست ما تعرفه عن دافنشي

★ ممكن أن يأتي السؤال بصيغة أخرى: ( علل - يطلق على دافنشي اسم عبقرى النهضة )

❏ عدد - أهم أعمال دافنشي



❏ عرف - الجيوكودة

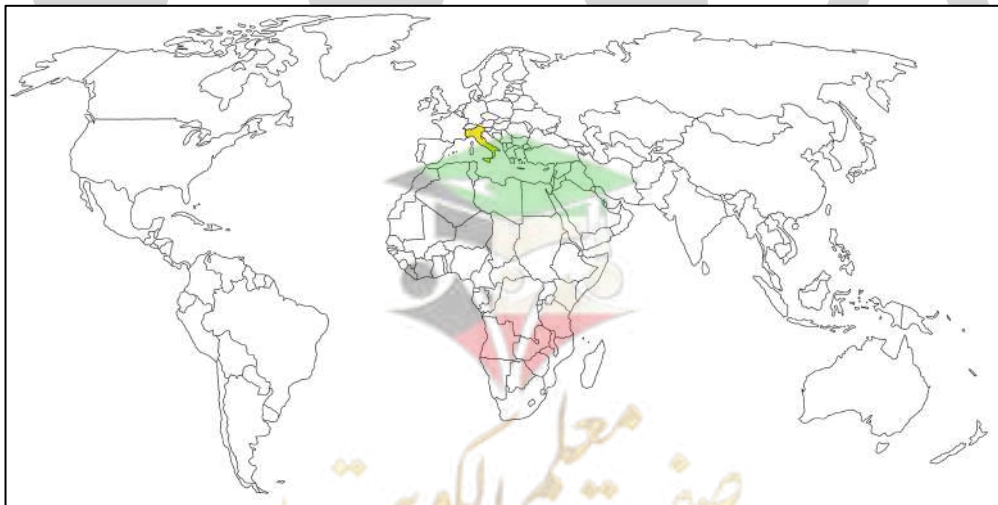
★ ممكن أن يأتي السؤال بصيغة أخرى: اكتب مدلول الصورة

❏ أكمل العبارات التالية :

★ ممكن أن يأتي السؤال بصيغة أخرى: حدد على الخريطة

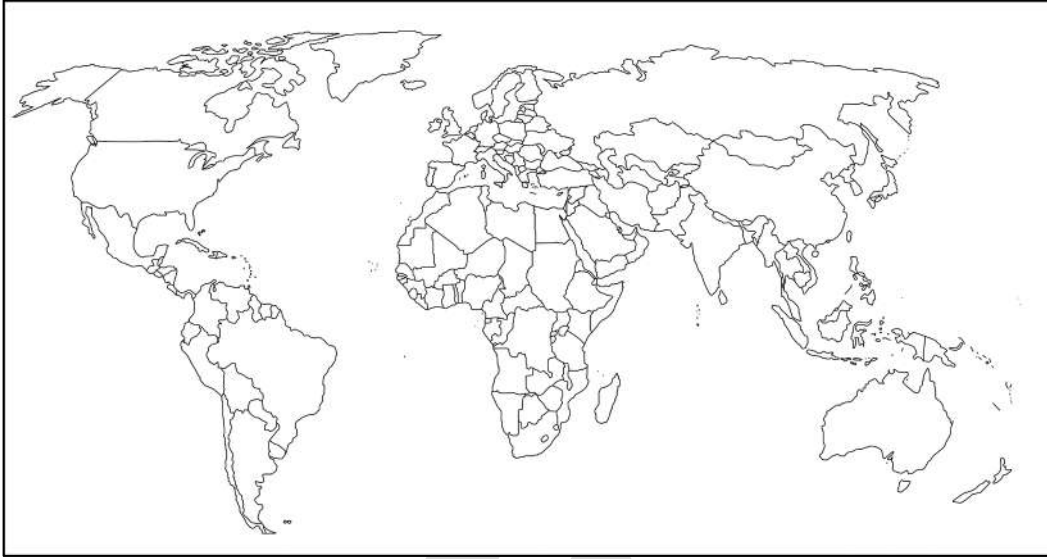
❏ البلدة التي ولد فيها دافنشي تسمى

❏ الدولة التي يوجد بها لوحة العشاء الأخير هي



المدينة التي يوجد بها متحف اللوفر هي \_\_\_\_\_

المتحف الذي توجد فيه لوحة الموناليزا ( الجيوكوندا ) يسمى \_\_\_\_\_



لاحظ الصورة التي أمامك ثم أجب عما يلي :



من هو صاحب الصورة \_\_\_\_\_

اللقب الذي يطلق عليه هو \_\_\_\_\_

علل - يطلق على دافنشي اسم عبقرى النهضة .

اكتب مدلول الصورة المقابلة :



تدرب و تفوق

اختبارات الكترونية ذكية



# المظاهر الدينية

❑ علل - قيام حركة الإصلاح الديني في أوروبا

★ ممكن أن يظهر السؤال في صيغة أخرى: (عدد- أسباب قيام حركة الإصلاح الديني)

---

---

---

---

## أكمل العبارات التالية:

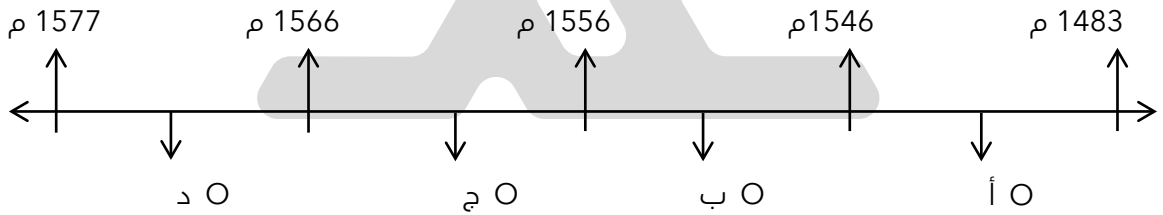
★ ممكن أن يأتي السؤال بصيغة أخرى: اختياري



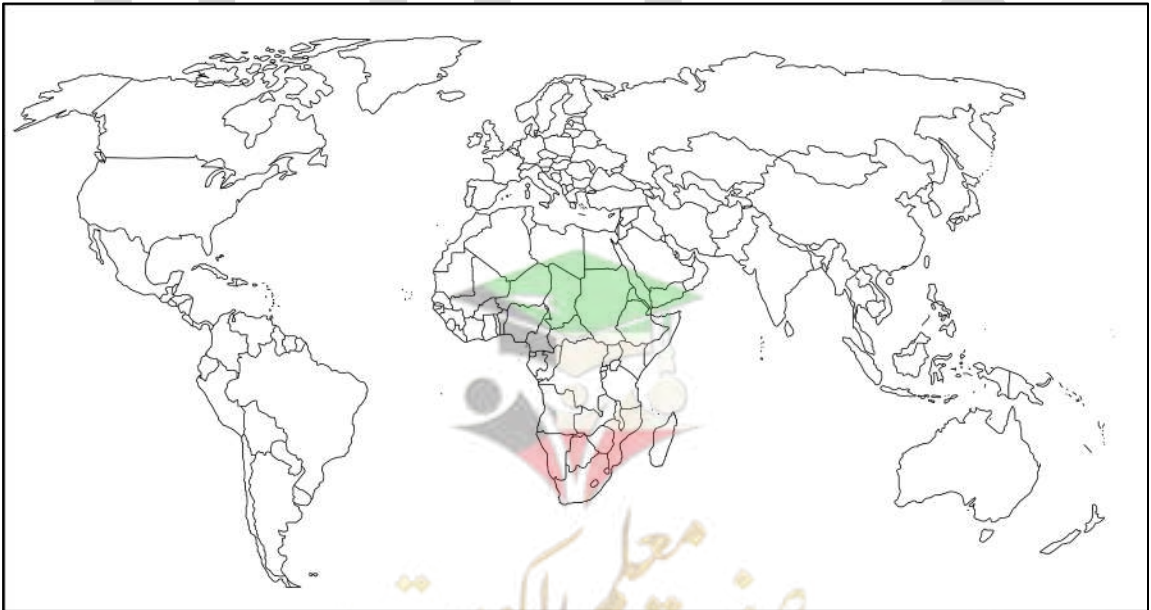
❑ حركة أحدثت أكبر أثر في مجال حركة الإصلاح الديني في أوروبا تسمى حركة \_\_\_\_\_

❑ الصورة المقابلة لرجل دين نادى بإصلاح الكنيسة يسمى \_\_\_\_\_

❑ اختياري: الفترة التي تمثل حياة رجل الإصلاح الديني مارتن لوثر



❑ حدد - الدولة التي ينتمي إليها رجل الإصلاح الديني - مارتن لوثر



## أكمل العبارات التالية:

★ ممكن أن يأتي السؤال بصيغة أخرى: اختياري

- ❑ العام الميلادي الذي علق فيه مارتن لوثر احتجاجاته على باب الكنيسة هو \_\_\_\_\_
- ❑ الكنيسة التي علق عليها مارتن لوثر احتجاجاته تسمى \_\_\_\_\_
- ❑ عدد الحجج التي علقها مارتن لوثر على باب كنيسة وتبرج \_\_\_\_\_
- ❑ ماذا يحدث لو - لم ينادي مارتن لوثر بإصلاح أوضاع الكنيسة

❑ عدد - مطالب مارتن لوثر

★ ممكن أن يأتي السؤال بصيغ أخرى: ( ما - دور مارتن لوثر في حركة الإصلاح الديني )  
فسر - على الرغم من أن مارتن لوثر لم يكن أول رجل ينادي بإصلاح الكنيسة فإن حركته أحدثت أكبر أثر في مجال الإصلاح الديني في أوروبا

❑ نفذ المطلوب مما بين القوسين :  
حركة الإصلاح الديني في أوروبا ( النتائج )

★ ممكن أن يأتي السؤال بصيغة أخرى: عدد

❑ ماذا يحدث لو لم تحدث حركة الإصلاح الديني في أوروبا



🎯 **تدرب و تفوق**

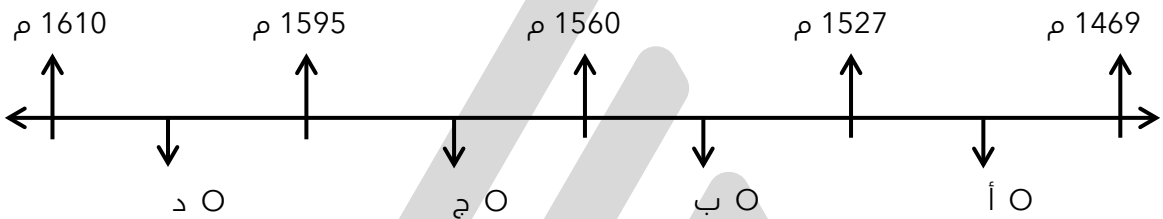
اختبارات الكترونية ذكية





❏ أكمل: الصورة المقابلة لسياسي رسم ملامح الحياة السياسية لعصر النهضة يسمى \_\_\_\_\_

❏ اختياري: الفترة الزمنية التي تمثل حياة السياسي نيقولا ماكيافلي



❏ دلل - لم تكن الحياة السياسية بمعزل عن التطورات الأدبية والفنية خلال عصر النهضة

## أكمل العبارات التالية:

★ ممكن أن يأتي السؤال بصيغة أخرى: اختياري

- ❏ المدينة التي عاش فيها نيقولا ماكيافلي تسمى \_\_\_\_\_
- ❏ المنصب السياسي الذي اشتغله ماكيافلي هو \_\_\_\_\_
- ❏ السبب الذي دفع ماكيافلي لكتابة أرائه السياسية يرجع إلى سقوط حكومة \_\_\_\_\_
- ❏ من أهم مؤلفات نيقولا ماكيافلي كتاب يسمى \_\_\_\_\_
- ❏ العام الميلادي الذي ألف فيه ماكيافلي كتاب الأمير هو \_\_\_\_\_

❏ اكتب مما درست ما تعرفه عن نيقولا ماكيافلي

---



---



---



---



---



عدد - آراء نيقولا ماكيافلي

☆ ممكن أن يأتي السؤال بصيغ أخرى: دلل- يعتبر كتاب الأمير مرجعاً هاماً في أمور الحكم والسياسة في أوروبا  
فند - أيد كتاب الأمير لنيقولا ماكيافلي المشاركة الشعبية في الحكم والسياسة

عرف

نظرية التفويض الإلهي

مبدأ الغاية تبرر الوسيلة

ماذا يحدث لو - لم تسقط حكومة فلورنسا في إيطاليا

لاحظ الصورة التي أمامك ثم أجب عما يلي :

من هو صاحب هذه الصورة



أهم مؤلفاته

آرائه

اختر من المجموعة ( أ ) ما يناسبها من المجموعة ( ب ) بوضع الرقم المناسب

القائمة ( أ )	الرقم المناسب	القائمة ( ب )
1- دانتي		الموناليزا
2- ليوناردو دافنشي		الكوميديا الإلهية
3- حنا جوتنبرج		الإصلاح الديني
4- مارتن لوثر		اختراع أحرف الطباعة المعدنية
		كتاب الأمير

أمامك في الجدول التالي مجموعة من الأحداث التاريخية ، اذكر صاحب الإنجاز

صاحب الإنجاز	الحدث التاريخي
	1- عالم ألماني اخترع أحرف الطباعة المعدنية
	2- شاعر إيطالي امتاز بالقدرة الفائقة على الوصف ومن أعماله الكوميديا الإلهية
	3- رائد الحركة الفنية في مجال التصوير ومن أعماله لوحة الموناليزا



**تدرب و تفوق**

اختبارات الكترونية ذكية



U U L A





# أسباب قيام حركة الكشوف الجغرافية

❑ اذكر أهم ما يميز تاريخ أوروبا خلال القرنين الخامس عشر والسادس عشر الميلادي

❑ عرف - الكشوف الجغرافية

❑ أكمل : حركة ساعدت على تطور خريطة العالم حتى ظهرت لنا في وقتنا الحاضر بصورة كاملة تسمى

❑ علل - قيام حركة الكشوف الجغرافية

★ ممكن أن يأتي السؤال بصيغ أخرى: ( اذكر- الدوافع وراء قيام حركة الكشوف الجغرافية )  
نفذ المطلوب منك مما بين القوسين  
كان لقيام حركة الكشوف الجغرافية واشتدادها بين الدول الأوروبية أسباب متعددة ( عددها )

❑ علل - يعتبر الدافع الاقتصادي أحد أهم أسباب حركة الكشوف الجغرافية

❑ اختياري : الدافع الاقتصادي لقيام أوروبا بحركة الكشوف الجغرافية هو الرغبة في :

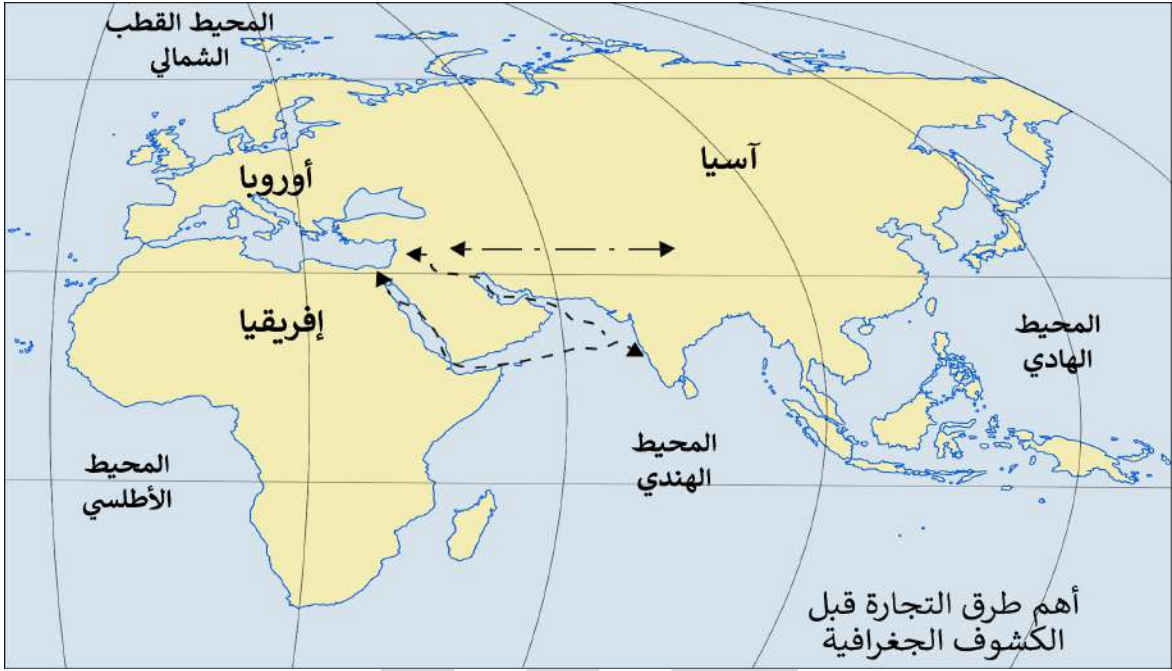
- نشر المسيحية  
○ زيادة المعلومات الجغرافية  
○ السيطرة ونشر مبادئها  
○ تخطي الوساطة التجارية الإسلامية

❑ أكمل : كانت الشعوب الأوروبية في النصف الثاني من القرن الخامس عشر تبحث عن





علل - كانت الشعوب الأوروبية تبحث عن التوابل في النصف الثاني من القرن الخامس عشر



عرف - المجاعة النقدية

علل - أهداف بعض الدول الأوروبية العثور على أراضي جديدة في حركة الكشوف الجغرافية



نفذ المطلوب منك مما بين القوسين الكشوف الجغرافية (الدافع الديني)

☆ ممكن أن يأتي السؤال بصيغة أخرى:  
فند العبارة "لم يهتم المكتشفون الأوروبيون بنشر المسيحية في المناطق المكتشفة"

فند - يختلف الدافع الديني للدول الأوروبية في الكشوف الجغرافية عنه في الحركة الاستعمارية

**دل على صحة العبارات التالية**

نمو الروح القومية ساعدت أوروبا على القيام بالكشوف الجغرافية

❑ "سيطرت على الأوروبيين في عصر النهضة رغبة قوية لزيادة معلوماتهم الجغرافية"

---

---

---

❑ ساهمت الكشوف الجغرافية في تطور علوم الملاحة

---

---

---

❑ اكتب مدلول الصور المقابلة



---

---

❑ عرف - الكرافيل

---



🎯 **تدرب و تفوق**

اختبارات الكترونية ذكية

U U L A



## رحلات الكشوف البرتغالية



أكمل : الدولة الأولى في مجال حركة الكشوف الجغرافية في نهاية القرن الخامس عشر الميلادي هي

☆ ممكن أن يأتي السؤال بصيغة أخرى: حدد على الخريطة



اختياري :

أكمال البرتغال أول من قامت بحركة الكشوف الجغرافية في نهاية القرن :

- الثالث عشر الميلادي  
 الرابع عشر الميلادي  
 الخامس عشر الميلادي  
 السادس عشر الميلادي

أعلل - تعتبر البرتغال هي أول من قامت بحركة الكشوف الجغرافية

U U L A

أكمل :

أهتم البرتغاليون باكتشاف طريق جديد خارج نطاق مسطح مائي يسمى



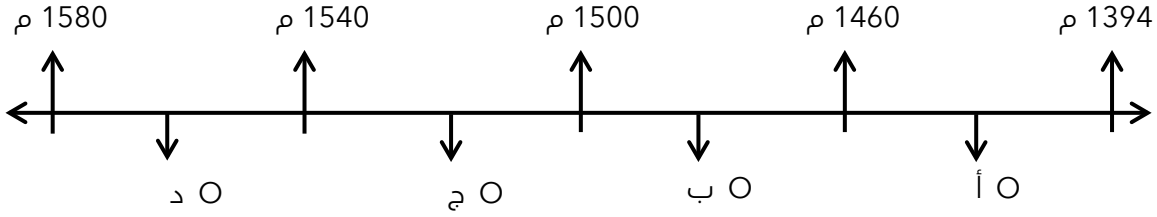
الرحلة الأولى : رحلة الأمير هنري الملاح

أالصورة المقابلة تمثل الابن الثالث للملك جون الأول ويسمى

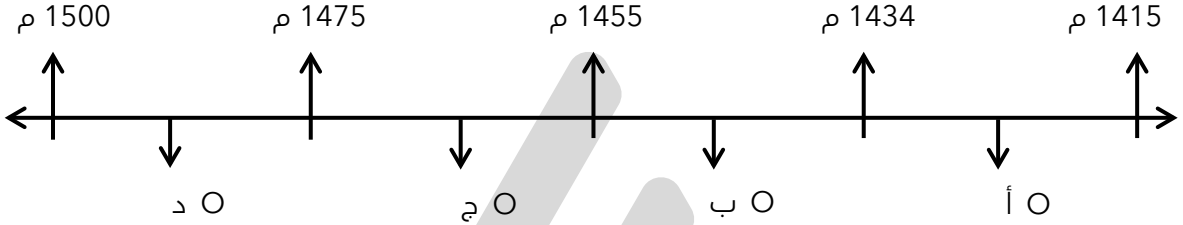


## اختر الإجابة الصحيحة :

الفقرة الزمنية التي تمثل حياة الأمير هنري الملاح



الفقرة الزمنية التي تمثل رحلة الأمير هنري الملاح تحمل على المخطط الزمني الحرف :



## أكمل العبارات التالية :

أول المحاولات الكشفية التي قام بها البرتغاليون رحلة

الابن الثالث للملك جون الأول يسمى

اختياري: بدأت الكشوف الجغرافية البرتغالية في عهد الملك :

جون الأول ○ مانويل الأول ○ جون الثاني ○ شارل الخامس ○

عدد - أهم أعمال الأمير هنري الملاح

☆ ممكن أن يأتي السؤال بصيغة أخرى: دلل - للأمير هنري الملاح دور هام في حركة الكشوف الجغرافية



U U L A

عدد - اهتمامات المدرسة البحرية التي أنشأها هنري الملاح

اختياري: قام الأمير هنري الملاح ببناء المرصد البحري في الطرف:

الشمالي لشاطئ البرتغال ○ الجنوبي لشاطئ البرتغال ○  
الشرقي لشاطئ البرتغال ○ الغربي لشاطئ البرتغال ○

صفوة معلم الكويت

## أكمل العبارات التالية :

☆ ممكن أن يظهر السؤال في صيغة اخرى: حدد على الخريطة

- ❑ المدينة التي تعتبر هي نقطة انطلاق رحلة الأمير هنري الملاح تسمى \_\_\_\_\_
- ❑ العام الميلادي الذي بدأت فيه رحلة الأمير هنري الملاح \_\_\_\_\_
- ❑ من المناطق التي حاول الوصول إليها هنري الملاح الحبشة و \_\_\_\_\_
- ❑ المسطح المائي الذي صارت فيه سفن رحلة الأمير هنري الملاح بمحاذاة الساحل الغربي لقارة أفريقيا يسمى \_\_\_\_\_
- ❑ أرسل هنري الملاح البعوث إلى الجنوب في المحيط الأطلسي بمحاذاة الساحل الغربي لقارة أفريقيا فوصلت إلى جزيرة تسمى \_\_\_\_\_
- ❑ توقفت رحلات هنري الملاح عند ساحل دولة أفريقية تسمى \_\_\_\_\_
- ❑ عدد - نتائج رحلة هنري الملاح

☆ ممكن أن يظهر السؤال في صيغة اخرى: عدد - اهم اكتشافات البرتغاليين في عهد هنري الملاح

---

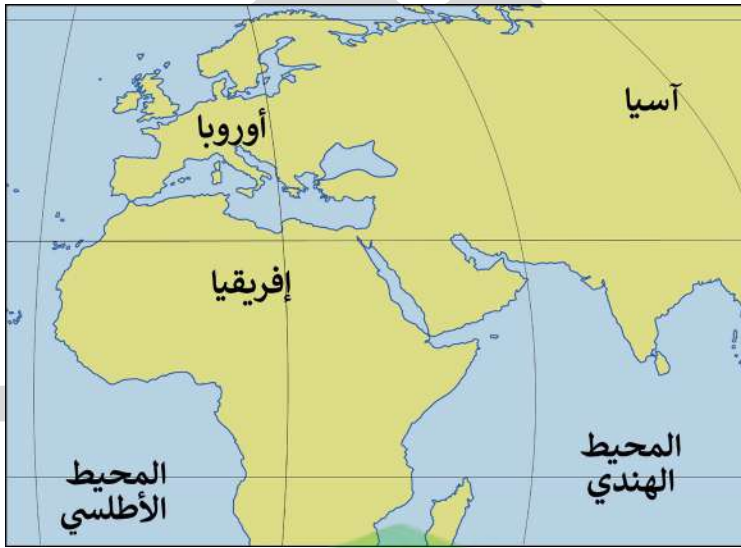
---

---

---

❑ أكمل : وصلت بحارة رحلة الأمير هنري الملاح إلى رأس بو جادور في عام \_\_\_\_\_

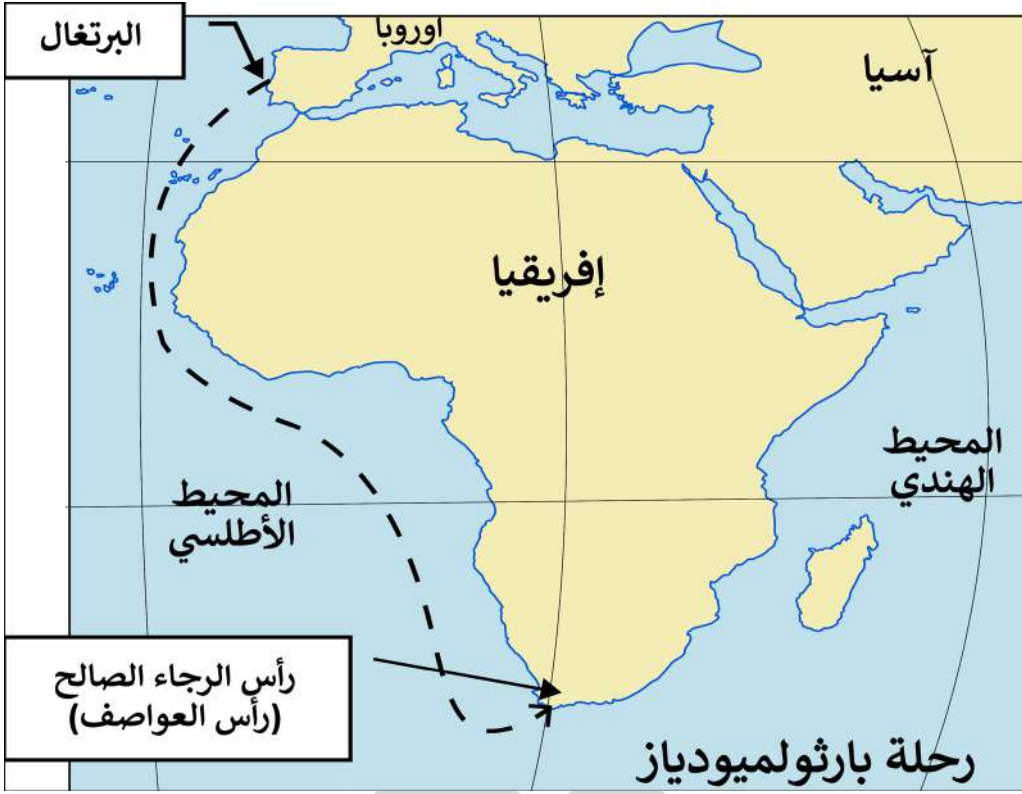
❑ ارسم خط سير رحلة الأمير هنري الملاح



تدرب و تفوق

اختبارات الكترونية ذكية

دلل - حققت الكشوف الجغرافية البرتغالية في عهد الملك جون الثاني نصراً عظيماً



أكمل العبارات التالية :

- من أهم الكشوف الجغرافية البرتغالية في الرحلة الثانية كشف طريق يسمى \_\_\_\_\_
- الملك البرتغالي الذي تمت في عهده الرحلة الثانية يسمى \_\_\_\_\_
- العام الميلادي الذي وصلت فيه رحلة بارثلميو دياز إلى الساحل الجنوبي لقارة أفريقيا \_\_\_\_\_
- منطقة أطلق عليها بارثلميو دياز رأس العواصف تسمى \_\_\_\_\_
- الملك البرتغالي الذي أطلق على منطقة رأس العواصف اسم رأس الرجاء الصالح يسمى \_\_\_\_\_
- المكتشف الذي أطلق على الساحل الجنوبي لقارة أفريقيا اسم رأس العواصف يسمى \_\_\_\_\_
- الملك البرتغالي الذي أطلق على الساحل الجنوبي لقارة أفريقيا اسم رأس الرجاء الصالح يسمى \_\_\_\_\_
- الاسم الآخر لطريق رأس العواصف هو \_\_\_\_\_
- فسر - تسمية بارثلميو دياز للساحل الجنوبي لقارة أفريقيا برأس العواصف \_\_\_\_\_
- فند - لم يكن لبارثلميو دياز دور في حركة الكشوف الجغرافية \_\_\_\_\_

ماذا يحدث لو لم يصل الملاح بارثلميودياز إلى الساحل الجنوبي لقارة أفريقيا



تدرب و تفوق

اختبارات الكترونية ذكية

الرحلة الثالثة : رحلة فاسكودي جاما

اختر الإجابة الصحيحة :

الفترة الزمنية لرحلة فاسكودي جاما هي :

- ( 1497 م - 1499 م )  ( 1501 م - 1503 م )   
( 1499 م - 1501 م )  ( 1503 م - 1505 م )

الملك البرتغالي الذي خرجت في عهده رحلة فاسكو دي جاما

- جون الأول  جون الثاني  مانويل الأول

خرجت رحلة فاسكو دي جاما في 8 يوليو عام :

- 1497 م  1498 م  1499 م

عدد السفن في رحلة فاسكو دي جاما

- ثلاث سفن  أربع سفن  خمس سفن  ست سفن

المدينة التي خرجت منها رحلة فاسكو دي جاما تسمى :

- لشبونة  بورتو  براغا  أمادورا

أكمل العبارات التالية :

☆ ممكن أن يظهر السؤال في صيغ أخرى: اختياري - عرف



المنطقة التي وصل إليها فاسكو دي جاما في 20 مايو 1498 م تسمى

الساحل الغربي للهند يعرف باسم

أول من استخدم رأس الرجاء الصالح للوصول إلى الهند يسمى

الصورة المقابلة لرحلة في الكشوف الجغرافية تسمى رحلة

اكتب مدلول الصورة المقابلة



ارسم خط سير رحلة فاسكو دي جاما



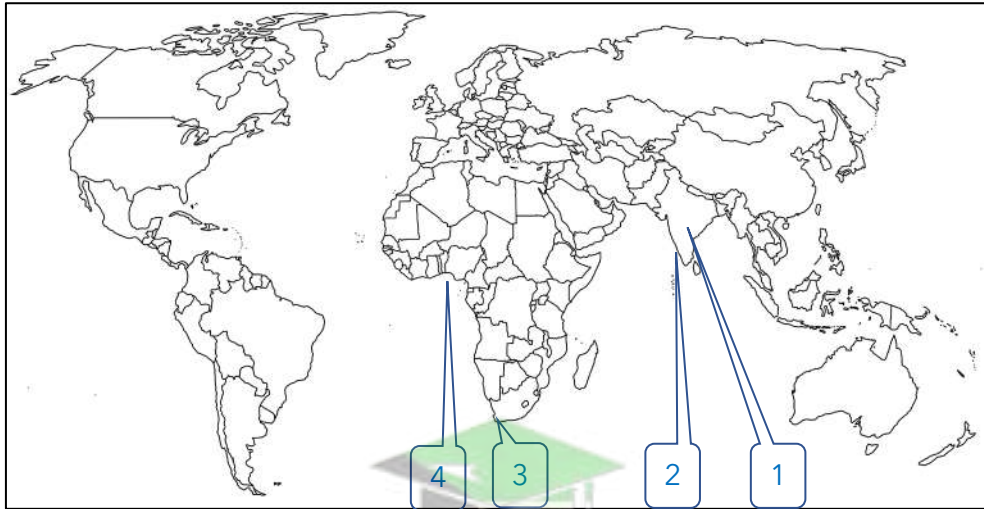
أكمل : المنطقة التي خرجت منها رحلة فاسكو دي جاما للعودة إلى البرتغال تسمى

عدد- نتائج رحلة فاسكو دي جاما

☆ ممكن أن يظهر السؤال في صيغة اخرى: فند - لم تحقق رحلة فاسكو دي جاما نتائج إيجابية للبرتغال

أكمل : مسطح مائي أصبحت البرتغال فيه في مركز متقدم يسمى

لاحظ خريطة العالم ثم نفذ المطلوب منك



المنطقة التي توقفت عندها رحلة الأمير هنري الملاح تحمل على الخريطة الرقم

الدولة التي تعتبر مركز التوابل تحمل على الخريطة الرقم

كلكتا التي وصلت إليها رحلة فاسكو دي جاما تحمل على الخريطة الرقم

منطقة أطلق عليها رأس العواصف تحمل على الخريطة الرقم

ميناء سانت هيلينا يحمل على الخريطة الرقم



الملك	م
جون الأول	1
فرانسيس الأول	2
جون الثاني	3
مانويل الأول	4
هنري السابع	5

اختباري : الأرقام الدالة على أسماء ملوك ساهموا في حركة الكشوف الجغرافية البرتغالية يمثلها في الجدول المقابل :

( 4 - 3 - 1 ) O

( 4 - 2 - 1 ) O

( 5 - 4 - 2 ) O

( 5 - 3 - 2 ) O



تدرب و تفوق

اختبارات الكترونية ذكية



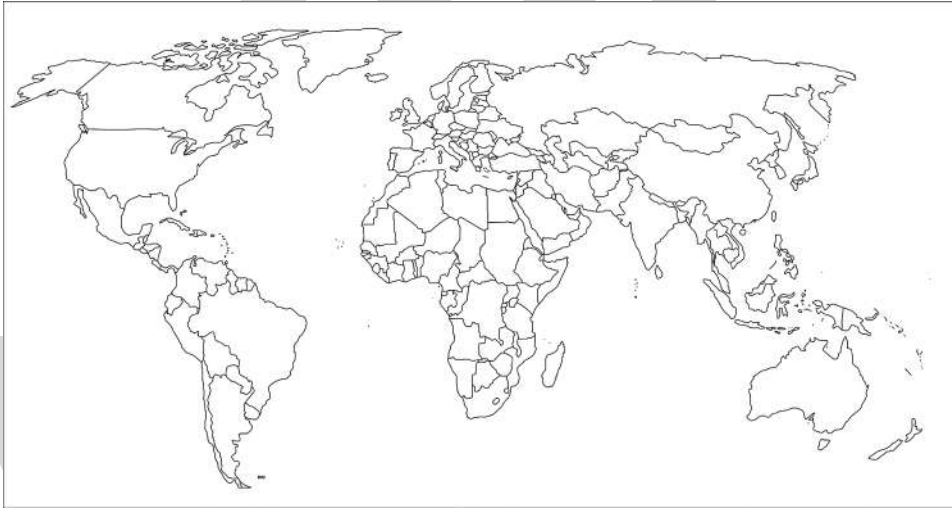
الكشوف الجغرافية

## رحلات الكشوف الإسبانية

أكمل العبارات التالية :

☆ ممكن أن يأتي السؤال بصيغة أخرى: حدد على الخريطة

الدولة الثانية في حركة الكشوف الجغرافية هي



الجهة التي اتجه إليها البرتغاليون في الكشوف الجغرافية هي

الجهة التي اتجه إليها الإسبان في الكشوف الجغرافية هي

المسطح المائي الذي عبره الإسبان في الكشوف الجغرافية يسمى

القارة التي وصل إليها الإسبان بعد عبور المحيط الأطلسي لتحقيق هدفهم هي

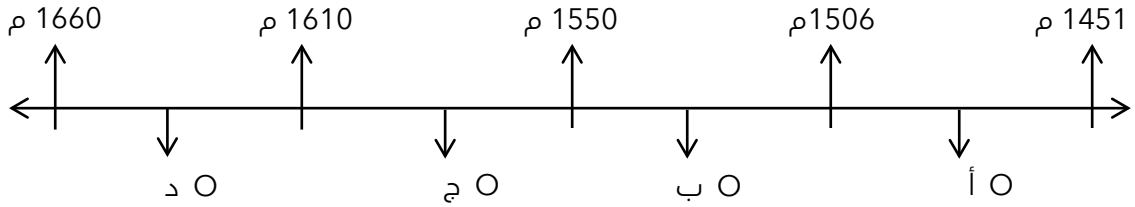
ما هي أوجه الاختلاف بين الكشوف البرتغالية والكشوف الإسبانية من حيث الجهة

الكشوف الإسبانية

الكشوف البرتغالية

## الرحلة الأولى : كريستوفر كولمبس

❑ اختياري : الفترة الزمنية التي تمثل حياة كريستوفر كولمبس تحمل على المخطط الزمني الحرف :



### أكمل العبارات التالية :

- ❑ الدولة التي رفضت مشروع كولمبس بناء على توصية مستشاريه هي \_\_\_\_\_
- ❑ الدولة التي اتجه إليها كولمبس بعد رفض مستشاري ملك البرتغال مشروعه هي \_\_\_\_\_
- ❑ ملوك إسبانيا اللذان رفضا مشروع كولمبس للمرة الأولى هما \_\_\_\_\_

### علل لما يلي

❑ رفض ملك البرتغال مشروع كولمبس

❑ اتجه كولمبس إلى إسبانيا وقدم مشروعه إلى الملك فرديناند والملكة إيزابيلا ولكنها رفضت للمرة الأولى

★ ممكن أن يأتي السؤال بصيغة أخرى: علل رفض الملكة إيزابيلا مشروع كولمبس للمرة الأولى

### أكمل العبارات التالية :

★ ممكن أن يأتي السؤال بصيغة أخرى: اختياري



- ❑ الملكة الإسبانية التي قامت بتمويل مشروع كولمبس تسمى \_\_\_\_\_
- ❑ العام الميلادي الذي مولت فيه إيزابيلا مشروع كولمبس \_\_\_\_\_
- ❑ عدد الرحلات التي قام بها كولمبس \_\_\_\_\_

❑ اختياري : الملكة الإسبانية التي اكتشفت في عهدها جزر الهند الغربية هي :

- ❑ ماري ❑ إيزابيث ❑ إيزابيلا ❑ فكتوريا

❑ عدد - المشاكل التي واجهت مشروع كولمبس



اكتب فيما درست ما تعرفه عن كريستوفر كولمبس

☆ ممكن أن يأتي السؤال بصيغ أخرى: **أكمل - اختياري**

---

---

---

---

---

### اختر الإجابة الصحيحة :

المدينة التي ولد فيها كريستوفر كولمبس تسمى:

- جنوة ○ البندقية ○ فلورنسا ○ ميلانو

العام الميلادي الذي ولد فيه كريستوفر كولمبس :

- 1450 م ○ 1451 م ○ 1452 م ○ 1453 م

بدأت الكشوف الجغرافية الإسبانية في عهد الملك :

- مانويل الأول ○ إيزابيلا ○ جون الأول ○ شارل الخامس

اكتب مدلول الصورة المقابلة



---

---

---



### تدرب و تفوق

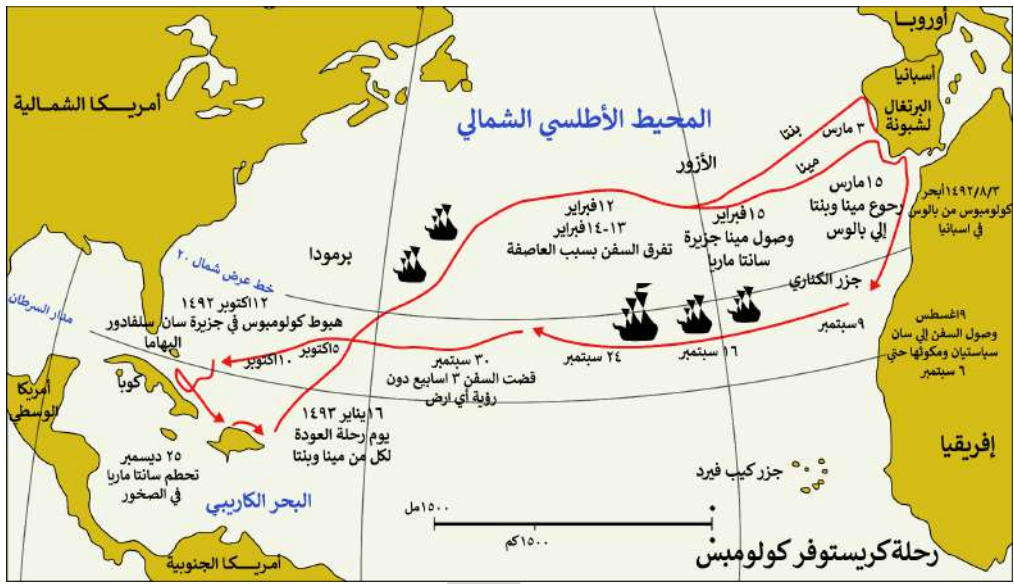
اختبارات الكترونية ذكية



قارن بين رحلات كولمبس حسب الجدول التالي :

☆ ممكن أن يأتي السؤال بصيغة أخرى: **عدد**

الرحلة الثانية	الرحلة الأولى	وجه المقارنة
		السنة
		النتائج



### أكمل العبارات التالية :

☆ ممكن أن يأتي السؤال بصيغ أخرى: **اختياري**

- البهار الإيطالي الذي اكتشف جزر الأنتيل الكبرى والصغرى يسمى \_\_\_\_\_
- الاسم الذي أطلق على جزيرتي الأنتيل الكبرى والصغرى هو \_\_\_\_\_
- العام الميلادي الذي أبحر فيه كولمبس إلى جزيرة هايتي هو \_\_\_\_\_
- وصل كولمبس إلى كوبا في الرحلة \_\_\_\_\_
- أطلق على السفينة التي تحطمت في رحلة كولمبس اسم \_\_\_\_\_

### اختر الإجابة الصحيحة :

- جزر الدومينيكا وسانت كروز تم اكتشافهما في : \_\_\_\_\_
- الرحلة الأولى ○ الرحلة الثانية ○ الرحلة الثالثة ○ الرحلة الرابعة

- العام الميلادي الذي اكتشف فيه كولمبس الساحل الشمالي لجاميكا : \_\_\_\_\_
- 1492 م ○ 1493 م ○ 1494 م ○ 1495 م

- قارن بين رحلات كولمبس حسب الجدول التالي :

☆ ممكن أن يأتي السؤال بصيغة أخرى: **عدد النتائج**

وجه المقارنة	الرحلة الثالثة	الرحلة الرابعة
السنة		
النتائج		

☆ ممكن أن يأتي السؤال بصيغة أخرى: أكمل

❑ العام الميلادي الذي وصل فيه كولمبس إلى جزيرة ترينداد :

- 1492 م      ○ 1493 م      ○ 1498 م      ○ 1502 م

❑ وصل كولمبس إلى ساحل أمريكا الوسطى عام 1502 م في الرحلة :

- الأولى      ○ الثانية      ○ الثالثة      ○ الرابعة

❑ أكمل : شاهد كولمبس اندفاع كميات من المياه تندفع من خليج مصب نهر يسمى \_\_\_\_\_

❑ ماذا يحدث لو - لم تمول إيزابيلا مشروع كولمبس



🎯 **تدرب و تفوق**

اختبارات الكترونية ذكية

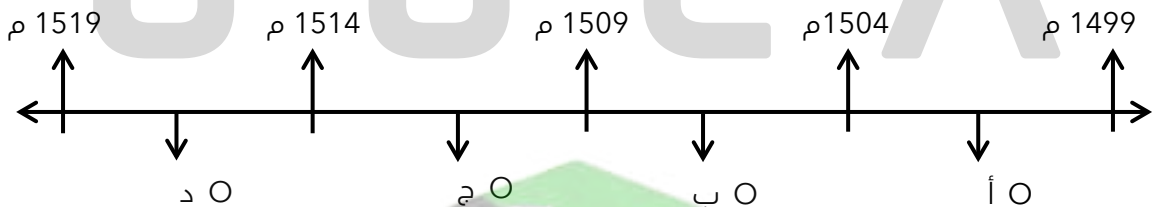


الكشوف الجغرافية

## رحلة أمريكو فسبوتشي

❑ اكتب فيما درست ما تعرفه عن أمريكو فسبوتشي

❑ اختياري : الفترة الزمنية التي تمثل رحلة المكتشف أمريكو فسبوتشي تحمل على المخطط الزمني الحرف :



صفوة معلم الكويت

## أكمل العبارات التالية :

☆ ممكن أن يأتي السؤال بصيغ أخرى: اختياري - حدد على الخريطة

❑ مكتشف إيطالي الأصل قام بثلاث رحلات من أوروبا في الفترة ما بين 1499 م - 1504 م يسمى

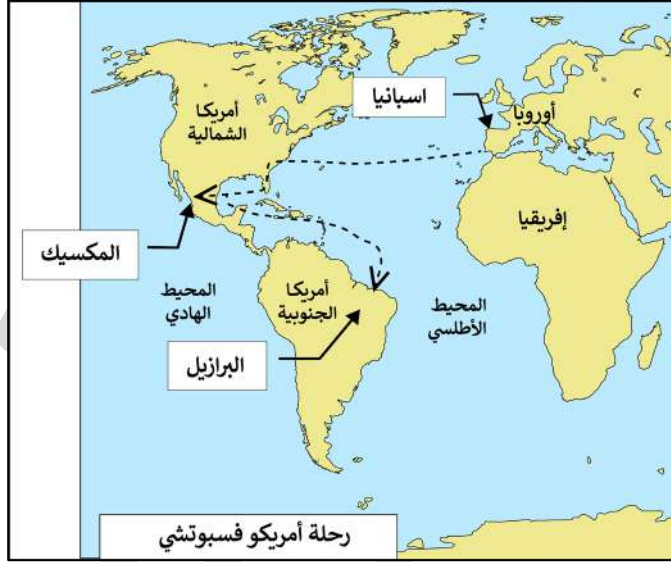


❑ الدولة التي ينتمي إليها أمريكو فسبوتشي تسمى \_\_\_\_\_

❑ الدولة التي عمل لحسابها أمريكو فسبوتشي في الكشوف الجغرافية تسمى \_\_\_\_\_

❑ عدد الرحلات التي قام بها أمريكو فسبوتشي \_\_\_\_\_

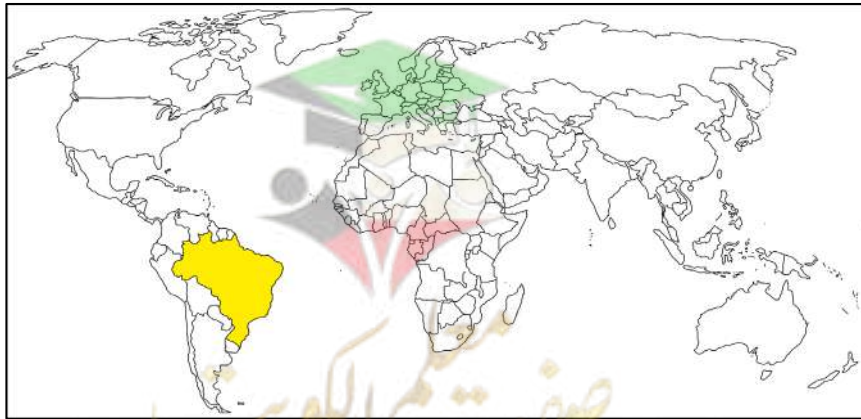
❑ عدد - النتائج المترتبة على رحلات أمريكو فسبو تشي



## أكمل العبارات التالية :

☆ ممكن أن يأتي السؤال بصيغة أخرى: حدد على الخريطة

❑ الدولة التي اكتشفها المكتشف الإيطالي أمريكو فسبوتشي هي \_\_\_\_\_

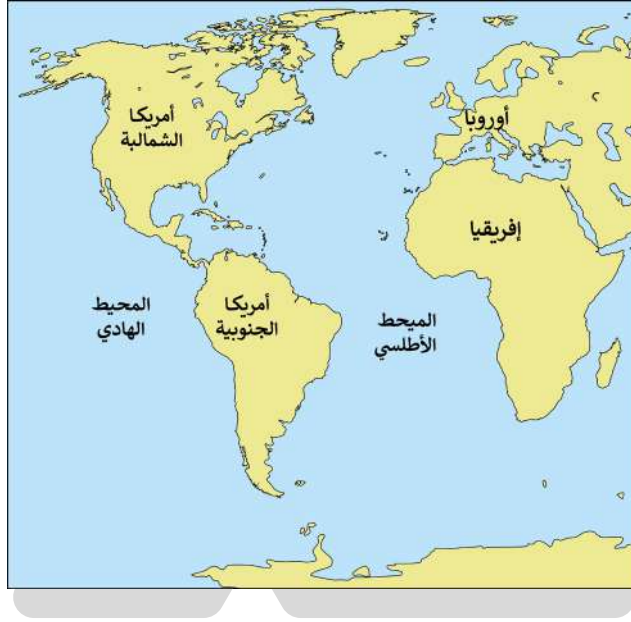


اختياري : العام الميلادي الذي سمى فيه أمريكا فسيو تشي العالم الجديد باسم أمريكا :  
1505 م ○ 1506 م ○ 1507 م ○ 1507 م ○

علل - تسمية العالم الجديد باسم أمريكا

أكمل : أطلق على العالم الجديد الذي وصل إليه أمريكا فسيوتشي اسم

ارسم خط سير رحلات أمريكا فسيوتشي



اكتب فقرة تاريخية مترابطة في حدود ثلاثة أسطر مستعيناً بالكلمات الآتية  
( العالم الجديد - فسيوتشي - ساحل المكسيك - البرازيل )


U U L L A

ما هي أوجه الشبه بين كل من كولمبس وأمريكا فسيوتشي



تدرب و تفوق

اختبارات الكترونية ذكية



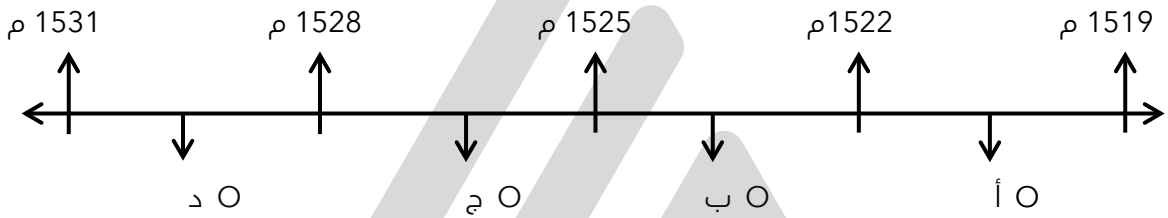
## رحلة فرديناند ماجلان



اكتب مدلول الصورة المقابلة

☆ ممكن أن يأتي السؤال بصيغة أخرى: **أكمل**

اختياري : الفترة الزمنية التي تمثل رحلة فرديناند ماجلان تحمل على المخطط الزمني الحرف :



**أكمل العبارات التالية :**

☆ ممكن أن يأتي السؤال بصيغة أخرى: **اختياري - اكتب المفهوم**

الإمبراطور الإسباني الذي كلف ماجلان بالبحث عن طريق يؤدي إلى الهند مباشرة يسمى

المدينة الإسبانية التي خرجت منها رحلة ماجلان تسمى

خرج ماجلان من إسبيلية في 18 أكتوبر عام

الميناء الذي أبحرت منه رحلة ماجلان يسمى

بعد خروج ماجلان من ميناء سان لوكار اتجه إلى الجنوب حتى وصل إلى ساحل البرازيل و

القارة التي طاف حول شاطئها الشرقي فرديناند ماجلان هي

ممر مائي يفصل بين الطرف الجنوبي لأمريكا الجنوبية وجزيرة أرض النار يسمى

الجزيرة التي يفصل مضيق ماجلان بينها وبين أمريكا الجنوبية تسمى

المسطح المائي الذي عبر إليه ماجلان بعد عبوره مضيق ماجلان يسمى

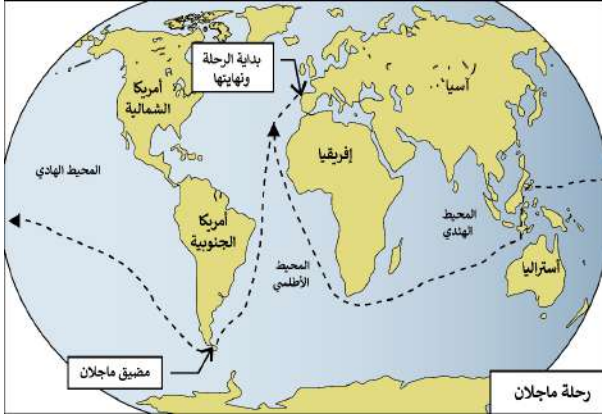
وصل فرديناند ماجلان إلى جزر الفلبين واكتشف جزيرة تسمى

قتل ماجلان في نزاع مع سكان إحدى جزر الفلبين في 27 إبريل عام



علل - أهمية رحلة ماجلان

ممكن أن يأتي السؤال بصيغة أخرى: عدد - نتائج رحلة ماجلان



---

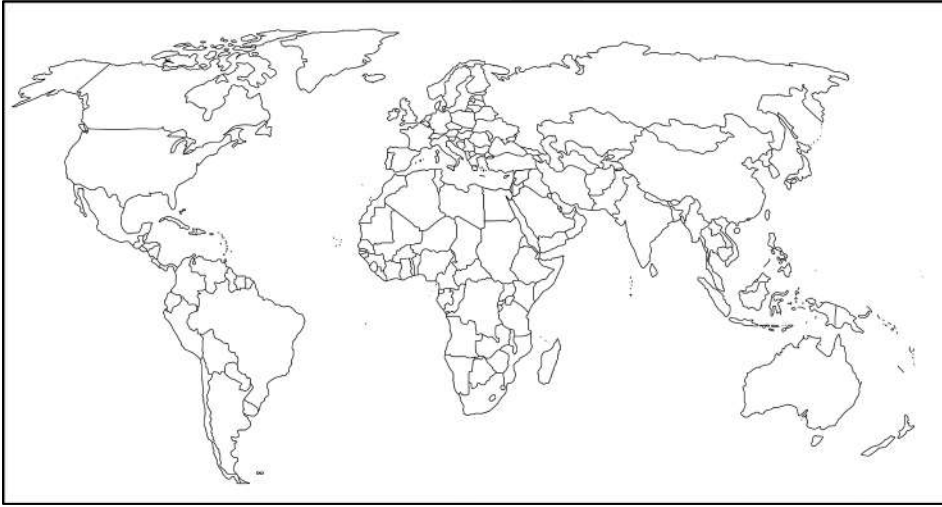
---

---

---

أكمل العبارات التالية :

ممكن أن يأتي السؤال بصيغة أخرى: حدد على الخريطة



الملاح الذي تولى قيادة الرحلة بعد مقتل ماجلان في الفلبين يسمى

الدولة التي قتل فيها ماجلان تسمى

علل - تسمية الفلبين بهذا الاسم

أكمل العبارات التالية :

دولة سميت نسبة إلى ابن شارل الخامس تسمى

بعد مغادرة حملة ديلكانو الفلبين وصلت إلى جزر تسمى

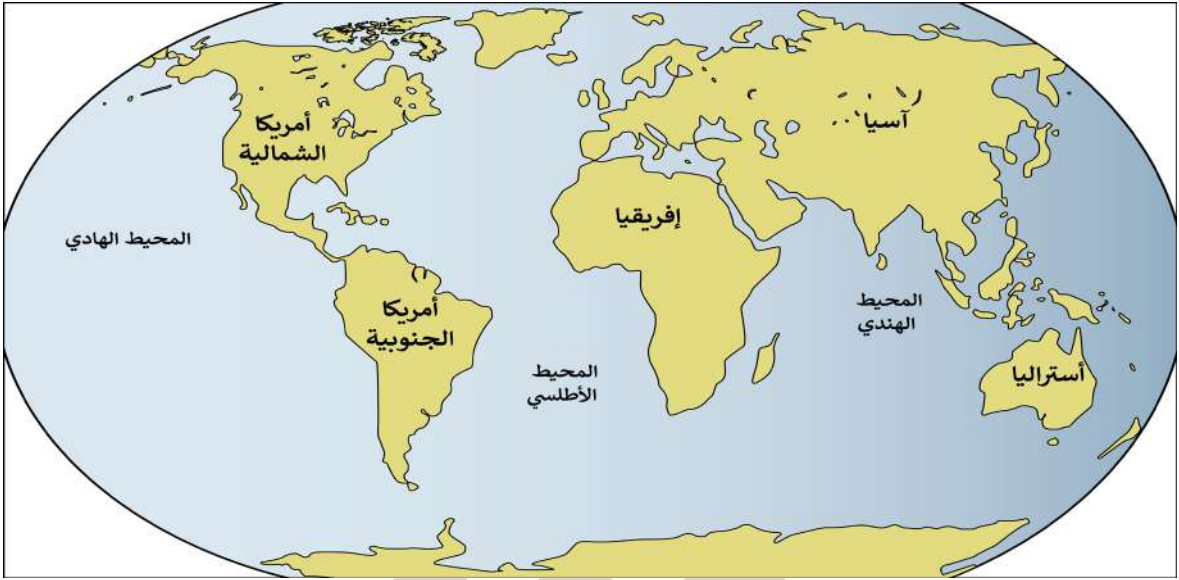
عدد - الجزر التي مر عليها جون سباستيان ديلكانو بعد مغادرة الفلبين

## أكمل العبارات التالية :

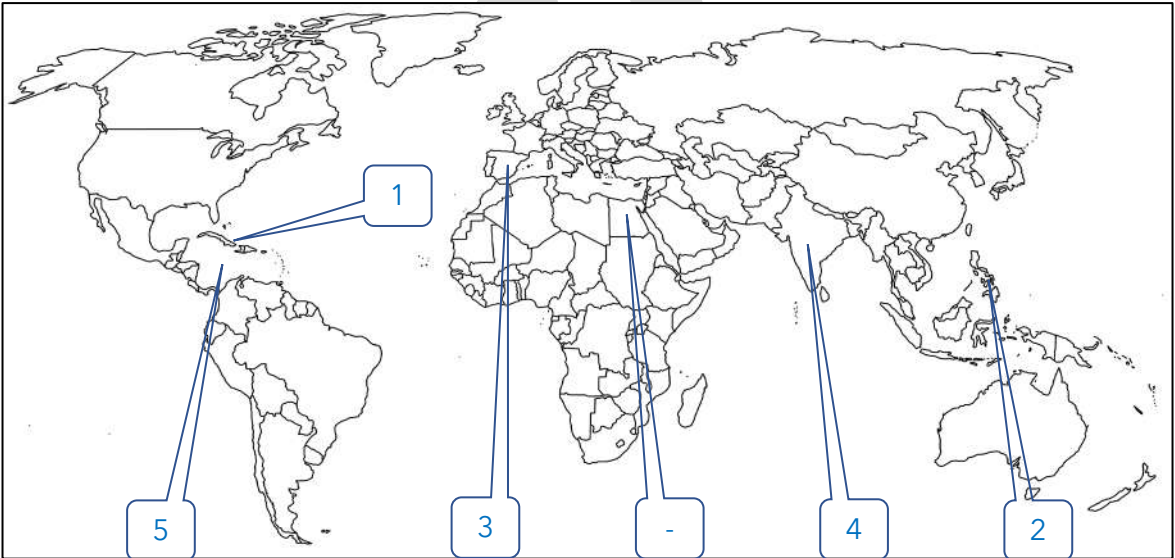
عادت حملة ديلاكانو إلى إسبانيا بعد أن عبروا المحيط الهندي مروراً بطريق يسمى \_\_\_\_\_

عدد السنوات التي استغرقتها رحلة ماجلان \_\_\_\_\_

ارسم خط سير رحلة ماجلان



ضع رقم كل عبارة مما يلي في المربع المناسب على الخريطة



1- منطقة يعتبر كولمبس هو أول من وصل إليها

2- جزر قتل فيها الملاح ماجلان في صراعه مع السكان الأصليين

3- دولة يرجع إليها الفضل في اكتشاف جزر الهند الغربية

4- دولة تعد هي مركز التوابل

5- البحر الكاريبي



## الكشوف الجغرافية

## الكشوف الإنجليزية

علل - اهتمام إنجلترا برحلات الكشوف الجغرافية

## اختر الإجابة الصحيحة :

دولة يعتبر دورها صغيراً في ميدان الكشوف الجغرافية بالنسبة لكل من البرتغال و إسبانيا :

○ إنجلترا ○ هولندا ○ إيطاليا ○ ألمانيا

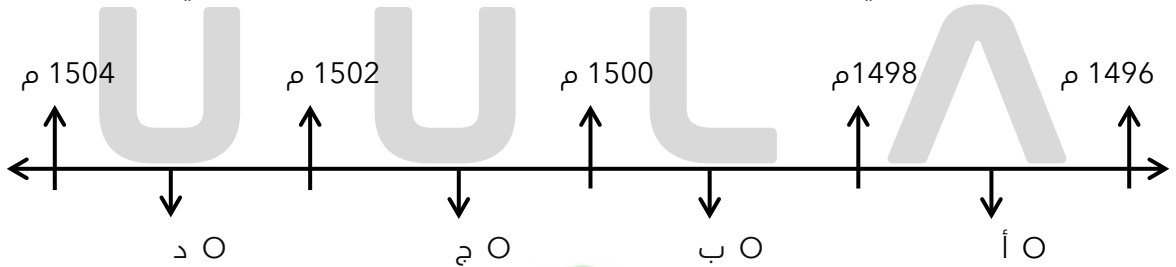
الجهة التي سلكها الإنجليز في الكشوف الجغرافية هي :

○ الشرق ○ الغرب  
○ شمال غرب المحيط الأطلسي ○ جنوب غرب المحيط الأطلسي

عدد - رحلات الكشوف الإنجليزية في الكشوف الجغرافية

## الرحلة الأولى : رحلة جون كابوت

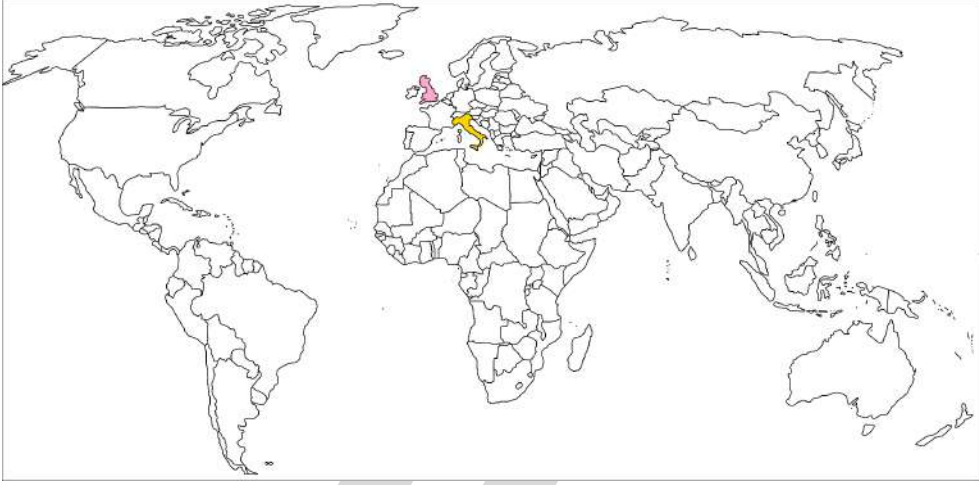
اختياري : الفترة الزمنية التي تمثل رحلة المكتشف جون كابوت تحمل على المخطط الزمني الحرف :



## أكمل العبارات التالية :

☆ ممكن أن يأتي السؤال بصيغة أخرى: حدد على الخريطة

- Q الدولة التي ينتمي إليها جون كابوت هي \_\_\_\_\_
- Q مدينة إيطالية نرح منها جون كابوت إلى إنجلترا تسمى \_\_\_\_\_
- Q الملك الإنجليزي الذي وصل في عهده جون كابوت إلى إنجلترا يسمى \_\_\_\_\_



## اختر الإجابة الصحيحة :

☆ ممكن أن يأتي السؤال بصيغة أخرى: أكمل - حدد على الخريطة

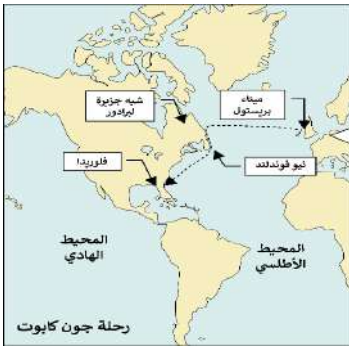
- Q خرج جون كابوت على رأس بعثة لاكتشاف أقاليم جديدة في عام :  
O 1495 م      O 1496 م      O 1497 م      O 1498 م
- Q الملك الإنجليزي الذي خرجت في عهده رحلة جون كابوت :  
O جيمس الثاني      O هنري السابع      O وليم الثالث      O شارل الثاني
- Q الميناء الذي خرجت منه رحلة جون كابوت :  
O بريستول      O ليفربول      O سان لوكار      O لندن
- Q الدولة التي يقع فيها ميناء بريستول :  
O إنجلترا      O إسبانيا      O البرتغال      O فرنسا
- Q أكمل : المسطح المائي الذي عبره جون كابوت للوصول إلى شبه جزيرة لبرادور يسمى \_\_\_\_\_



صفوة معلمي الكويت

عدد - النتائج المترتبة على رحلة جون كابوت

☆ ممكن أن يأتي السؤال بصيغة أخرى:  
اكتب دور جون كابوت في الكشوف الإنجليزية - اختياري - أكمل



---

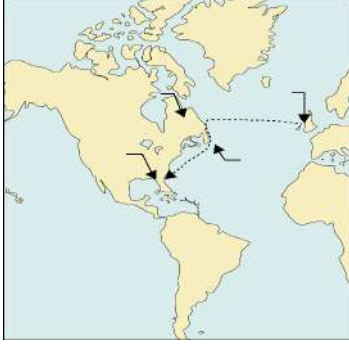
---

---

---

اختياري : الرحلة المقابلة لمكتشف يسمى :

- مارت فروبشير  
○ هنرس هدسون  
○ جو كابوت  
○ جون ديفيز



ارسم خط سير رحلة جون كابوت



ما هي أوجه الشبه بين كل من كولمبس وجون كابوت

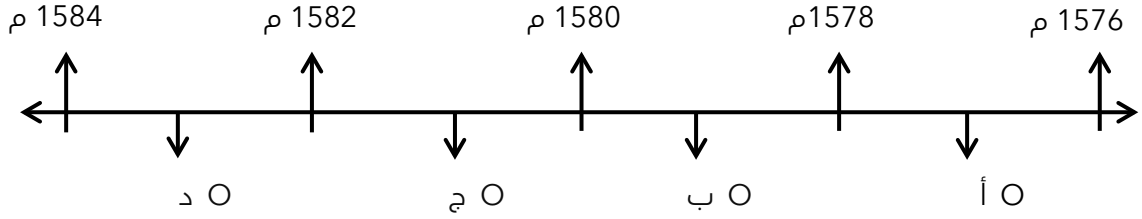
---

---

---

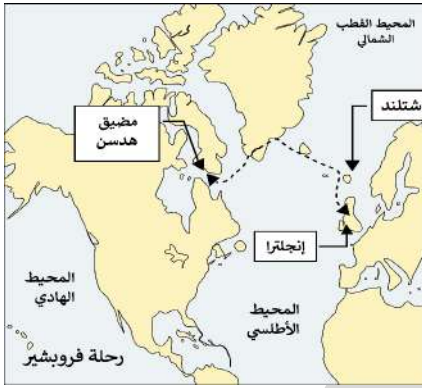
## الرحلة الثانية : مارتن فروبشير

❑ اختياري: الفترة الزمنية التي تمثل رحلة المكتشف مارتن فروبشير تحمل على المخطط الزمني الحرف



❑ عدد - النتائج المترتبة على رحلات مارتن فروبشير

★ يمكن أن يأتي السؤال بصيغة أخرى: اكتب دور مارتن فروبشير في حركة الكشوف الجغرافية - اختياري - أكمل - حدد



## اختر الإجابة الصحيحة :

❑ الرحلة المقابلة لمكتشف يسمى :

- جون كابوت  
○ جون ديفيز  
○ مارتن فروبشير  
○ هنرس هدرسون

❑ مكتشف مضيق هدرسن يسمى :

- هنري هدرسن  
○ مارتن فروبشير  
○ جيمس كوك  
○ جون ديفيز

❑ ارسم خط سير رحلة مارتن فروبشير



قارن بين اكتشافات كل من :

جون كابوت

مارتن فروبشير



تدرب و تفوق

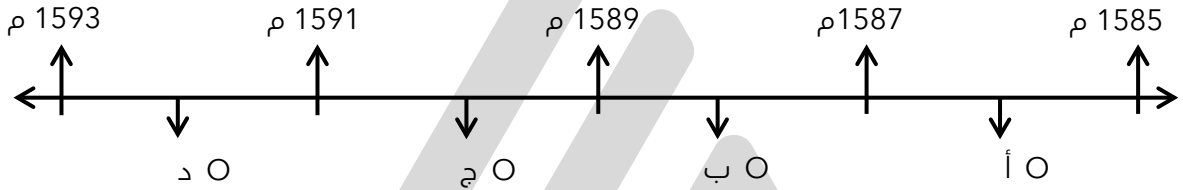
اختبارات الكترونية ذكية

الرحلة الثالثة : جون ديفيز

اختر الإجابة الصحيحة :



الفترة الزمنية التي تمثل رحلة المكتشف جون ديفيز تحمل على المخطط الزمني الحرف



الفترة من عام 1585 م - 1587 م تمثل رحلة المكتشف :

جون كابوت ○ جون ديفيز ○ مارتن فروبشير ○ هنري هيدسن ○

عدد - نتائج رحلة جون ديفيز

☆ ممكن أن يأتي السؤال بصيغ أخرى: بين دور جون ديفيز في الكشوف الجغرافية - اختياري - أكمل



---

---

---

---

---



صفوة معلم الكويت

ارسم خط سير رحلة جون ديفيز



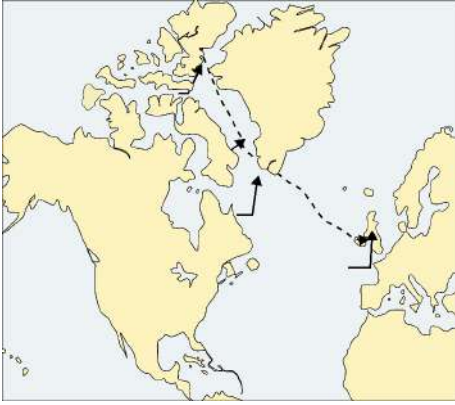
اختر الإجابة الصحيحة :

المكتشف الذي وصل إلى خط عرض 72 شمالاً يسمى :

- جون كابوت  جون ديفيز  مارتن فروبشير  هنري هيدسن

الرحلة المقابلة تمثل رحلة الملاح :

- جون كابوت  جون ديفيز  مارتن فروبشير  هنري هيدسن



فرق بين نتائج الرحلات التالية

النتائج	رحلات الملاحون
	▪ أمريكو فسبوتشي
	▪ جون ديفيز



## الرحلة الرابعة : هنري هيدسون

### أكمل العبارات التالية :

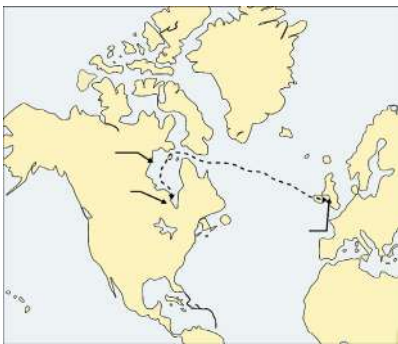
- ٥ العام الميلادي الذي أبحر فيه هيدسون إلى مضيق يقع في الشمال الشرقي من كندا \_\_\_\_\_
- ٥ خليج كان يظن هنري هيدسون بأنه المحيط الهادي ولكنه في الواقع خليج ضخم يعرف حالياً باسم \_\_\_\_\_

٥ عرف - خليج جيمس

٥ فسر - تسمية النهر الكبير بنهر هيدسون

### أكمل العبارات التالية :

- ٥ النهر الكبير يطلق عليه اسم \_\_\_\_\_
- ٥ المدينة العملاقة التي تقع على مصب نهر هيدسون تسمى \_\_\_\_\_
- ٥ اكتب دور هنري هيدسون في الكشوف الجغرافية الإنجليزية
- ★ يمكن أن يأتي السؤال بصيغ أخرى: عدد - نتائج رحلة هنري هيدسون ( حدد على الخريطة )



٥ أكمل : الخريطة المقابلة تمثل رحلة المكتشف

ارسم خط سير رحلة هنري هديسون



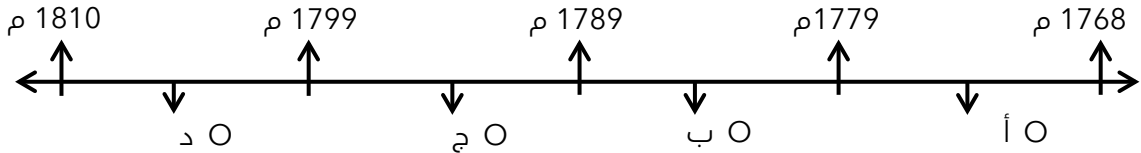
تدرب و تفوق

اختبارات الكترونية ذكية

الرحلة الخامسة : جيمس كوك

اختر الإجابة الصحيحة

الفترة الزمنية لرحلات جيمس كوك تحمل على المخطط الزمني الحرف :



الفترة الزمنية لرحلات جيمس كوك هي :

( 1587 م - 1585 م )  
( 1779 م - 1768 م )

( 1578 م - 1576 م )  
( 1610 م - 1600 م )

أكمل العبارات التالية :

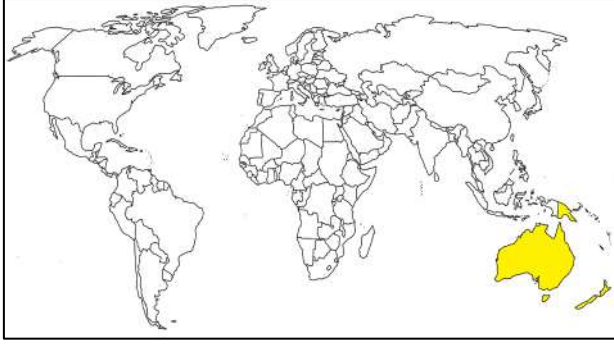
- الجهة التي اختارت جيمس كوك للعمل في خدمة الأبرالية الإنجليزية تسمى \_\_\_\_\_
- العام الميلادي الذي تم فيه اختيار جيمس كوك للعمل في خدمة الأبرالية الإنجليزية \_\_\_\_\_
- عدد الرحلات التي أنجزها جيمس كوك خلال القرن الثامن عشر الميلادي \_\_\_\_\_

اختياري : عدد الرحلات الاستكشافية الإنجليزية في القرن الثامن عشر :

- ثلاث رحلات      أربع رحلات      خمس رحلات      ست رحلات

## عدد-النتائج المترتبة على رحلات جيمس كوك

الرحلة الأولى 1768 م - 1771 م



الرحلة الثانية 1772م - 1775 م :

فسر - عدم رؤية جيمس كوك لقارة أنتاركتيكا ( القارة القطبية الجنوبية )

الرحلة الثالثة 1776 م :

## اختر الإجابة الصحيحة

مكتشف الساحل الشرقي لقارة أستراليا يسمى :

هنري هيدسون ○ جيمس كوك ○ جون ديفيز ○ جون كابوت ○

الرحلة التي وصل فيها جيمس كوك إلى نيوزيلندا هي :

الأولى ○ الثانية ○ الثالثة ○ الرابعة ○

المكتشف الذي منعه الثلج من رؤية القارة القطبية الجنوبية يسمى :

جيمس كوك ○ جون ديفيز ○ صمويل هيرن ○ مارتن فروبشير ○

العام الميلادي الذي وصله فيه جيمس كوك إلى جزر هاواي :

1773 م ○ 1774 م ○ 1775 م ○ 1776 م ○

الملاح الإنجليزي الذي تمكن من الوصول إلى جزر هاواي ووصل إلى المحيط المتجمد الشمالي اسمه :

جيمس كوك ○ فروبشير ○ جون كابوت ○ ديفيز ○

جزر وصل إليها الملاح جيمس كوك عام 1776 م اسمها

هاواي ○ هايتي ○ أزور ○ الأنتيل الكبرى ○

القارة التي وصل جيمس كوك إلى سواحلها الشرقية في رحلته الأولى تسمى

أستراليا ○ آسيا ○ أفريقيا ○ أمريكا الشمالية ○

## أكمل العبارات التالية :

- ٥ العام الميلادي الذي وصل فيه جيمس كوك إلى المحيط المتجمد الشمالي \_\_\_\_\_
- ٥ الرحلة التي وصل فيها جيمس كوك إلى جزر هاواي والمحيط المتجمد الشمالي هي \_\_\_\_\_
- ٥ الساحل الذي صار جيمس كوك بمحاذاته حتى يصل إلى المحيط المتجمد الشمالي يسمى \_\_\_\_\_

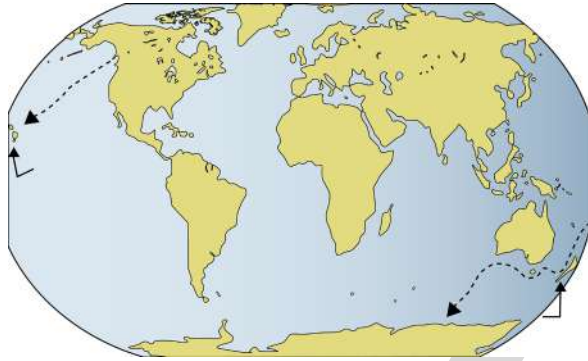
٥ أكمل الناقص في الجدول التالي

الدليل	النتيجة	السبب	ارتباطات
<ul style="list-style-type: none"> <li>الإشراف على الطريق البري في قارة آسيا</li> <li>الإشراف على الطرق المؤدية للهند والتي تربط المحيط الهندي بذراعي الخليج العربي والبحر الأحمر</li> </ul>	<ul style="list-style-type: none"> <li>سيطرة المسلمين على أهم الطرق التجارية البحرية</li> </ul>	<ul style="list-style-type: none"> <li>إشراف المسلمين على أهم المسطحات البحرية</li> <li>البراعة البحرية والتجارية للمسلمين</li> </ul>	
<ul style="list-style-type: none"> <li>عرض مشروعه على ملك البرتغال فرفضه بناء على توصية مستشاريه</li> <li>توجه لملوك إسبانيا ولكنهم رفضوا لانشغالهم بالحرب مع المسلمين</li> <li>جدد الطلب وبالفعل مولته في عام 1492م بعد خروج المسلمين</li> </ul>		<ul style="list-style-type: none"> <li>رغبته في الوصول إلى الهند</li> </ul>	<ul style="list-style-type: none"> <li>إصرار كريستوفر كولمبس على تنفيذ مشروعه</li> </ul>
<ul style="list-style-type: none"> <li>انجز ثلاث رحلات استكشافية خلال القرن الثامن عشر الميلادي</li> </ul>		<ul style="list-style-type: none"> <li>تطوعه في خدمة الأميرالية الإنجليزية</li> </ul>	<ul style="list-style-type: none"> <li>براعة جيمس كوك البحرية</li> </ul>



قارن بين كل من الرحلة الأولى لكريستوفر كولمبس والرحلة الثالثة لجيمس كوك في الكشوف الجغرافية

وجه المقارنة	الرحلة الأولى لكريستوفر كولمبس	الرحلة الثالثة لجيمس كوك
السنة		
النتائج - المناطق المكتشفة		



اختياري - الرحلة المقابلة لمكتشف يسمى :

- جون كابوت  
 هنري هيدسون  
 جيمس كوك  
 جون ديفيز

لاحظ خرائط الكشوف الجغرافية التالية واستخرج منها :



الرحلة الكشفية ( 2 )



الرحلة الكشفية ( 1 )

الدولة التي سيرت الرحلتين رقم 1 ورقم 2 هي

أقصى نقطة وصل إليها الملاح جون ديفيز شمالاً هي

النتائج التي ترتبت على الرحلة الكشفية الأولى



تدرب و تفوق

اختبارات الكترونية ذكية

## الكشوف الفرنسية

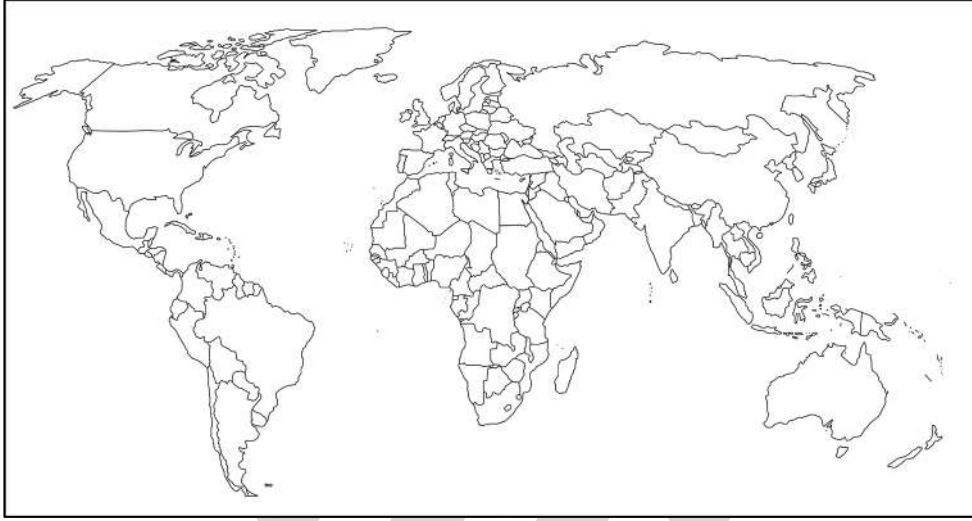


## أكمل العبارات التالية :

☆ ممكن أن يأتي السؤال بصيغة أخرى: حدد على الخريطة

الكشوف التي كانت متأخرة عن البرتغال وإسبانيا وإنجلترا تسمى

الدولة التي أرسلت رحلات كشفية لقارة أمريكا الشمالية خلال القرن السادس عشر هي



من أهم رحلات الكشوف الفرنسية في القرن السادس عشر الميلادي تسمى

عدد الرحلات التي قام بها جاك كارتية

الملك الذي خرجت في عهده رحلات جاك كارتية يسمى

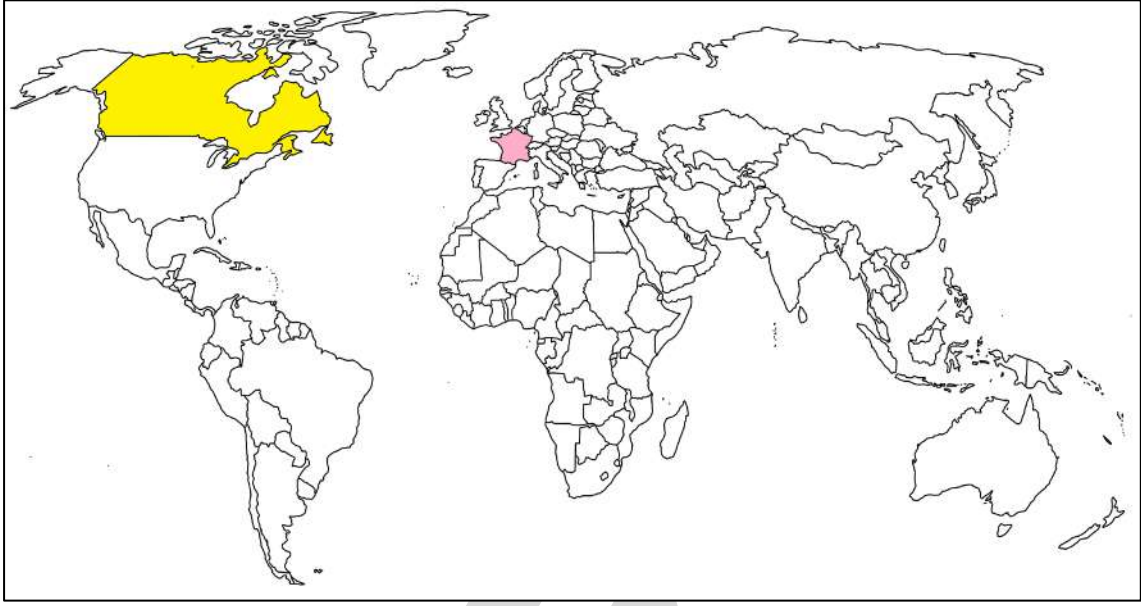
اتجه جاك كارتية غرباً نحو العالم الجديد في 2 أبريل عام

الميناء الذي أبحر منه جاك كارتية يسمى

عدد - النتائج المترتبة على رحلات جاك كارتية

دلل - مبادرة فرنسا في إنشاء إمبراطورية فرنسية في أمريكا الشمالية





دولة يرجع إليها الفضل في اكتشاف كندا تحمل على الخريطة الرقم \_\_\_\_\_

الدولة التي اكتشفها جاك كارتييه تحمل على الخريطة الرقم \_\_\_\_\_

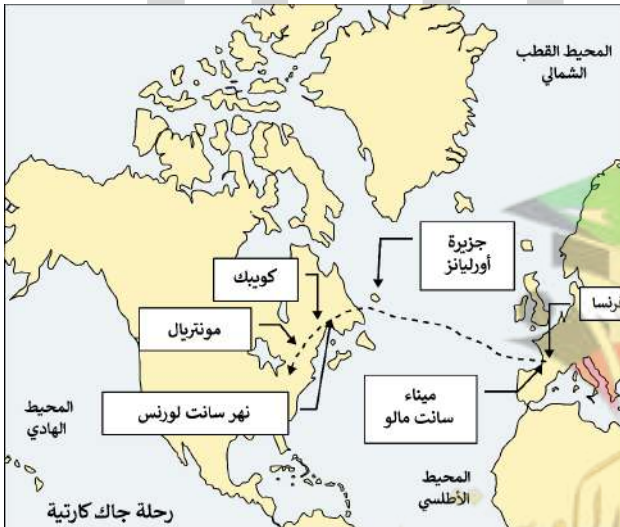
### أكمل العبارات التالية :

مكتشف يعتبر هو من طليعة الفرنسيين الذين اكتشفوا إقليم كندا يسمى \_\_\_\_\_

المنطقة التي تقع وراء نهر سانت لورنس تسمى حالياً باسم \_\_\_\_\_

المدينة التي تأسست على نهر سانت لورنس وكانت مبادرة لإنشاء إمبراطورية فرنسية تسمى \_\_\_\_\_

اكتب فقرة تاريخية مترابطة في حدود ثلاثة أسطر مستعينا بالكلمات الآتية  
( جاك كارتييه - سانت مالو - كندا - سانت لورنس - كويك )



استعن بالمواقع الموضحة على خريطة الكشوف الجغرافية الفرنسية التي أمامك وعدد أربع إنجازات حققتها هذه الرحلة

اختباري : الترتيب الصحيح لرحلات الكشوف الجغرافية يمثله في الجدول التالي الحرف :

م	( أ )	( ب )	( ج )	( د )
1	الإسبانية		الفرنسية	الإنجليزية
2	البرتغالية		الإنجليزية	الفرنسية
3	الفرنسية		الإسبانية	البرتغالية
4	الإنجليزية		البرتغالية	الإسبانية

أمامك مجموعة من المناطق التي اكتشفها الأوروبيون ، صنف حسب الجدول ( جزر الأنتيل - جزيرة نيوفوندلند - جزر ماديرا - كندا - مضيق هدرسن )

جون كابوت	جاك كارتية	كريستوفر كولمبس	الأمير هنري الملاح

اختر من المجموعة ( ب ) ما يناسبها من المجموعة ( أ ) بوضع الرقم المناسب :

م	( أ ) شخصيات تاريخية	المكان المناسب	( ب ) أهم الأعمال
1	جون سباستيان ديكانو		أسس مدينة كويك
2	جون كابوت		ألف رواية الكوميديا الإلهية
3	جاك كارتية		اكتشف جزيرة نيوفوندلند
			وصل إلى جزر بورنيو والتوابل



تدرب و تفوق

اختبارات الكترونية ذكية

U U L A







# رحلات الكشوف للقطب الشمالي والجنوبي

أكمل : بدأت اكتشافات المنطقة القطبية الشمالية في عام \_\_\_\_\_

دلل - ساهمت مجموعة من المكتشفين في اكتشافات المنطقة القطبية الشمالية

اكتب دور المكتشفين التاليين في مجال الكشوف الجغرافية

☆ ممكن أن يأتي السؤال بصيغة أخرى: فند - لم يكن لصمويل هيرن دور في اكتشافات المنطقة القطبية الشمالية



U U L A

أكمل العبارات التالية :

☆ ممكن أن يأتي السؤال بصيغة أخرى: اختياري

العام الميلادي الذي اكتشف فيه صمويل هيرن الأرض الواقعة بين خليج هدسون ونهر كوبر ماين \_\_\_\_\_

قام صمويل هيرن بأول رحلة استكشافية له في كندا منطلقاً من بحيرة تسمى \_\_\_\_\_

هدف رحلة صمويل هيرن في كندا هو إيجاد طريق نحو مسطح مائي يسمى \_\_\_\_\_

مكتشف نهر بيس وبحيرة سليف الكبرى يسمى \_\_\_\_\_

الفترة الزمنية التي وصل فيها ألكسندر ماكينزي إلى اكتشافاته هي :

- ( 1792 م - 1793 م ) ○ ( 1845 م - 1847 م ) ○  
( 1850 م - 1854 م ) ○ ( 1903 م - 1906 م ) ○

المكتشف الذي بحث عن الممر الشمالي الغربي من خلال متاهة الجزر يسمى :

- صمويل هيرن ○ ألكسندر ماكينزي ○  
جون فرانكلين ○ روبرت ماكلور ○

قائد الحملة الاستكشافية الأولى لعبور ممر الشمال الغربي لأمريكا الشمالية يسمى

- روبرت ماكلور ○ روالد أموندسن ○  
جون فرانكلين ○ ألكسندر ماكينزي ○

المكتشف الذي وصل إلى المحيط الهادي من خلال متاهة الجزر :

- روالد أموندسن ○ روبرت بيرن ○  
روبرت ماكلور ○ جون فرانكلين ○

الفترة من عام 1903م - 1906م تمثل فترة المكتشف

- روالد أموندسن ○ روبرت ماكلور ○  
جون فرانكلين ○ ألكسندر ماكينزي ○

العام الميلادي الذي وصل فيه روبرت بيرن إلى القطب الشمالي :

- 1906 م ○ 1907 م ○ 1908 م ○ 1909 م ○

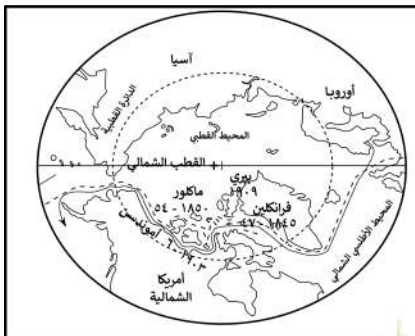
المكتشف الذي تمكن من الوصول للقطب الشمالي يسمى :

- روبرت بيرن ○ صمويل هيرن ○ جون فرانكلين ○ روبرت ماكلور ○



أكمل العبارات التالية :

الصورة المقابلة لمكتشف يسمى



الخريطة المقابلة تمثل

❑ دلل - ساهم مجموعة من المكتشفين في اكتشاف القطب الجنوبي وقارة أنتاركتيكا

---

---

---

### أكمل العبارات التالية :

☆ ممكن أن يأتي السؤال بصيغة أخرى: اختياري

❑ بدأ اكتشاف القطب الجنوبي مع بداية القرن \_\_\_\_\_

❑ القارة الوحيدة المجهولة بالنسبة للعالم حتى بداية أوائل القرن التاسع عشر الميلادي وتقع حول القطب الجنوبي تسمى \_\_\_\_\_

❑ عرف - قارة أنتاركتيكا

---

### اختر الإجابة الصحيحة :

❑ المكتشف الذي قطع مسافة طويلة على طول ساحل قارة أنتاركتيكا و أثبت أنها كتلة ضخمة مغطاة بالثلج يسمى :

❑ تشارلز ويلكز      ❑ روبرت بيرري      ❑ روالد أموندسن      ❑ روبرت ماكلور

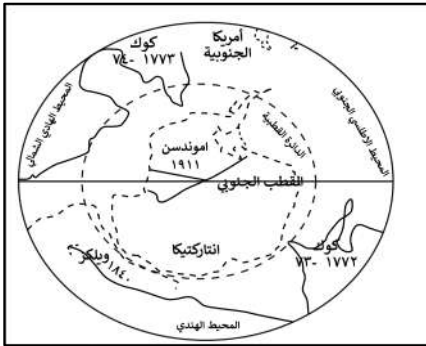
❑ المكتشف الذي تمكن من الوصول للقطب الجنوبي يسمى :

❑ روبرت بيرري      ❑ تشارلز ويلكز      ❑ روالد أموندسن      ❑ روبرت ماكلور

❑ العام الميلادي الذي وصل فيه روالد أموندسن إلى القطب الجنوبي :

❑ 1910 م      ❑ 1911 م      ❑ 1912 م      ❑ 1913 م

❑ أكمل : الخريطة المقابلة تمثل



❑ صنف الشخصيات التالية حسب مكانها المناسب في الجدول التالي ( ماجلان - جاك كارتبييه - هنري الملاح - مارتن فروبشير - جون ديفيز )

الكشوف البرتغالية	الكشوف الإسبانية	الكشوف الإنجليزية	الكشوف الفرنسية

❑ أكمل : المسطح المائي الذي شهد جميع حركات الكشوف الجغرافية يسمى



الكشوف الجغرافية

## نتائج الرحلات والكشوف الجغرافية

عدد

نتائج حركة الكشوف الجغرافية

عدد - النتائج السياسية لحركة الكشوف الجغرافية

دلل - أدت الكشوف الجغرافية إلى تكوين إمبراطوريات كبرى استعمارية

عدد - النتائج الاقتصادية للكشوف الجغرافية

☆ ممكن أن يأتي السؤال بصيغ أخرى: دلل على صحة العبارة  
« إن العلاقة التي تمت بين أوروبا والقارات الأخرى كانت ذات نتائج عظيمة في الاقتصاد العالمي »

عدد - النتائج المترتبة على تدفق البضائع والمعادن الثمينة على أوروبا



علل - تضرر الفئات العامة والفلاحون بشكل كبير في القرن 16 م

صفوة معلمى الكويت

❏ أكمل : الطبقة التي نمت بعد تدفق الثروات على أوروبا تسمى

❏ عدد - النتائج المترتبة على توفير البضائع وازدياد النشاط التجاري الاقتصادي

❏ علل - ظهرت الحاجة عند دول أوروبا للحصول على مستعمرات

★ ممكن أن يأتي السؤال بصيغة أخرى: **فسر**

❏ عدد - النتائج الدينية لحركة الكشوف الجغرافية

★ ممكن أن يأتي السؤال بصيغة أخرى: **فند** - لم تترك حركة الكشوف الجغرافية أي نتائج دينية اكتب - النتائج الدينية للكشوف الجغرافية



❏ نفذ المطلوب منك مما بين القوسين  
الكشوف الجغرافية ( النتائج العلمية والثقافية والفكرية )

**عدد لما يلي**

❏ النتائج المترتبة على الاتصال بين أوروبا والقارات الأخرى

❏ أهداف تقدم العلوم عقب حركة الكشوف الجغرافية

❏ علل تقدم العلوم في أوروبا في بداية العصر الحديث

## دلل على صحة العبارة

أدى الاتصال بين أوروبا والقارات الأخرى إلى تقدم علم الجغرافيا

---

---

---

أدى الاتصال بين أوروبا والقارات الأخرى إلى تقدم علم التاريخ

---

---

أكمل : الحضارة التي كانت في أعين الأوروبيين وهي مركز البشرية تسمى

دلل على صحة العبارة - أدى الاتصال بين أوروبا والقارات الأخرى إلى تقدم علم الفلك

---

---

فرق بين كل مما يلي حسب الجدول

نظرية العالم اليوناني بطليموس	نظرية العالم البولندي نيكولاس كوبرنيكوس

## أكمل العبارات التالية :

العالم اليوناني الذي قدم نظرية الأرض هي محور الكون يسمى

العالم البولندي الذي أتى بنظرية توضح أن الشمس هي محور الكون يسمى

عدد - النتائج الاجتماعية لحركة الكشوف الجغرافية

☆ ممكن أن يأتي السؤال بصيغ أخرى: ددل - أحدثت حركة الكشوف الجغرافية تغيرات اجتماعية فند - لم تكن هناك آثار بالغة الأهمية للكشوف الجغرافية في حياة أوروبا والعالم الجديد من الناحية الاجتماعية

---

---

دلل - اعتمد الأوروبيون في حركة الكشوف الجغرافية على إبادة السكان الأصليين في العالم الجديد

---

---



## أكمل العبارات التالية :

- \_\_\_\_\_ السياسة التي اعتمد عليها الأوروبيون في العالم الجديد هي
- \_\_\_\_\_ التجارة التي ظهرت نتيجة لجلب الأوروبيين العديد من أفريقيا إلى العالم الجديد اسمها
- \_\_\_\_\_ طبقة اجتماعية ظهرت في أوروبا بعد الكشوف ولعبت دوراً مهماً في أوروبا تسمى



**تدرب و تفوق**

اختبارات الكترونية ذكية



U U L A



## المفهوم والعوامل



## عرف المفاهيم التالية :

☆ ممكن أن يأتي السؤال بصيغ أخرى: أكمل - اكتب المصطلح

الاستعمار

الاستعمار الأوروبي

أكمل : السيطرة المباشرة أو غير المباشرة على سياسة الدول الفقيرة وتعمل على توجيه الأمور السياسية والاقتصادية والثقافية والاجتماعية للدولة المستعمرة تعرف باسم

عدد - عوامل قيام النظام الاستعماري الأوروبي

## نفذ المطلوب منك مما بين القوسين

الاستعمار الأوروبي ( العامل الاقتصادي )

الاستعمار الأوروبي ( العامل الاستراتيجي )

الاستعمار الأوروبي ( العامل السكاني )

عرف - سياسة التهجير





اكتب فقرة مترابطة مستعيناً بالكلمات التالية  
( الاستعمار الأوروبي - الحضارة الأوروبية - الإرساليات التبشيرية - المستشرقون ))



تدرب و تفوق

اختبارات الكترونية ذكية



الاستعمار الأوروبي

## أشكال الاستعمار

عدد - أشكال الاستعمار

☆ ممكن أن يأتي السؤال بصيغة أخرى: ددل - للاستعمار أشكال متعددة

عرف - الغزو العسكري

ددل - دول تعرضت للاستعمار بشكل الغزو العسكري

اختر الإجابة الصحيحة

☆ ممكن أن يأتي السؤال بصيغ أخرى: أكمل - حدد على الخريطة

العام الميلادي الذي تعرضت فيه الجزائر للاستعمار الفرنسي :

○ 1845 م

○ 1840 م

○ 1835 م

○ 1830 م

دولة تعرضت للاحتلال بالقوة العسكرية عام 1830 م هي :

○ الأردن

○ تونس

○ مصر

○ الجزائر

الدولة الأوروبية التي احتلت الجزائر عام 1830 م بالقوة العسكرية تسمى :

- فرنسا ○ إنجلترا ○ ألمانيا ○ إيطاليا ○

العام الميلادي الذي احتلت فيه إنجلترا مصر :

- 1880 م ○ 1881 م ○ 1882 م ○ 1883 م ○

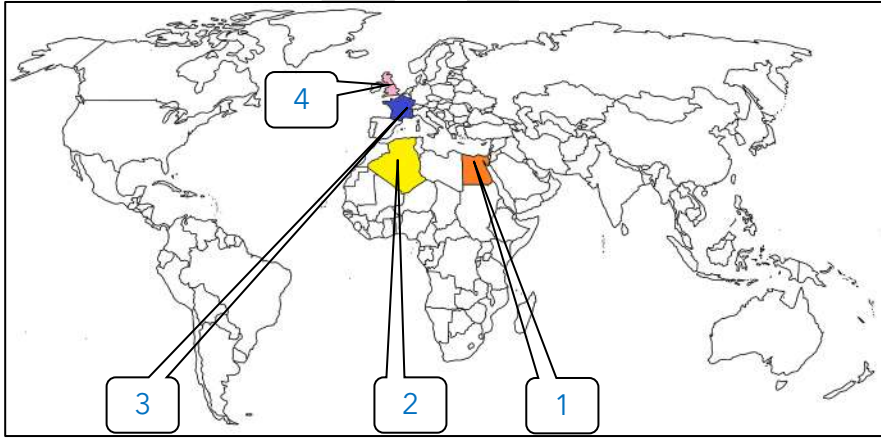
تعرضت مصر للاحتلال بالقوة العسكرية من قبل دولة أوروبية تسمى :

- فرنسا ○ إنجلترا ○ إيطاليا ○ ألمانيا ○

تعرضت الجزائر ومصر للاحتلال بشكل من أشكال الاستعمار يسمى :

- الغزو العسكري ○ الاستيطان ○  
المعاهدات والاتفاقيات الخاصة ○ التفويض من المنظمات الدولية ○

لاحظ خريطة العالم ثم نفذ المطلوب منك :



الدولة التي قامت بغزو الجزائر عام 1830 م تحمل على الخريطة الرقم

الدولة التي تعرضت للاحتلال بالقوة العسكرية عام 1882 م تحمل على الخريطة الرقم

الدولة التي قامت باحتلال مصر عام 1882 م تحمل على الخريطة الرقم

الدولة العربية التي تعرضت للاحتلال بالقوة العسكرية عام 1830 م تحمل على الخريطة الرقم



تدرب و تفوق

اختبارات الكترونية ذكية



عرف - الاستيطان

عدد - أشكال الاستيطان

❑ دال - تعرضت دول للاحتلال بشكل الاستيطان

---

---

---

❑ عرف - المعاهدات والاتفاقيات الخاصة

---

---

---

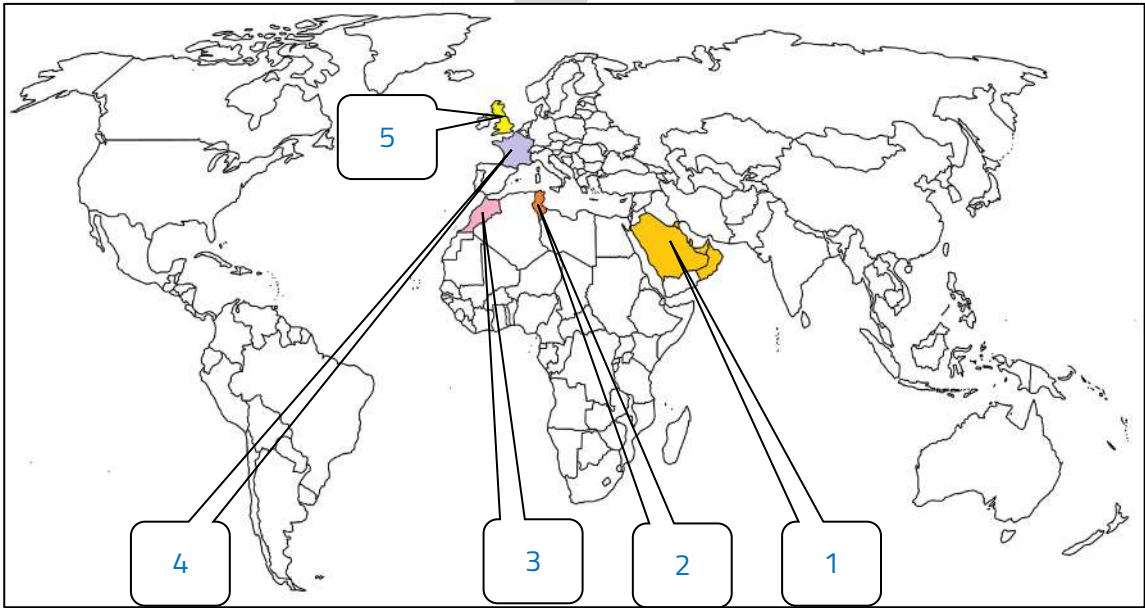
❑ اضرب أمثلة للمعاهدات والاتفاقيات الخاصة

---

---

---

❑ لاحظ خريطة العالم ثم نفذ المطلوب منك :



❑ الدولة التي قامت بحماية منطقة الخليج العربي تحمل على الخريطة الرقم

❑ الدولة التي قامت بحماية كل من تونس ومراكش تحمل على الخريطة الرقم

❑ المنطقة التي قامت إنجلترا بحمايتها تحمل على الخريطة الرقم

❑ مراكش خضعت للحماية الفرنسية تحمل على الخريطة الرقم

❑ تونس خضعت للحماية الفرنسية تحمل على الخريطة الرقم

❑ اختياري : تعرضت كل من منطقة الخليج العربي وتونس ومراكش لشكل من أشكال الاستعمار يسمى :

- التفويض من المنظمات الدولية
- المعاهدات والاتفاقيات الخاصة

- الغزو العسكري
- الاستيطان



قارن بين كل من حسب الجدول التالي :

☆ ممكن أن يأتي السؤال بصيغة أخرى: عدد أشكال التفويض من المنظمات الدولية

وجه المقارنة	الانتداب	الوصاية
التعريف		
أمثلة		

### أكمل العبارات التالية :

☆ ممكن أن يأتي السؤال بصيغة أخرى: اختياري

- شكل من أشكال التفويض من المنظمات الدولية ظهر بعد الحرب العالمية الأولى يسمى \_\_\_\_\_
- العام الميلادي الذي ظهر فيه الانتداب \_\_\_\_\_
- الدولة التي انتدبت على سوريا ولبنان تسمى \_\_\_\_\_
- الدولة التي انتدبت على فلسطين والأردن تسمى \_\_\_\_\_
- شكل من أشكال التفويض من المنظمات الدولية ظهر بعد الحرب العالمية الثانية يسمى \_\_\_\_\_
- العام الميلادي الذي ظهرت فيه الوصاية \_\_\_\_\_
- الدولة التي وضعت تحت الوصاية الإيطالية تسمى \_\_\_\_\_
- إقليم ناميبيا وضع تحت وصاية \_\_\_\_\_

### اختر الإجابة الصحيحة

○ وضعت سوريا ولبنان تحت الانتداب :

- الفرنسي      ○ البريطاني      ○ الإيطالي      ○ الألماني

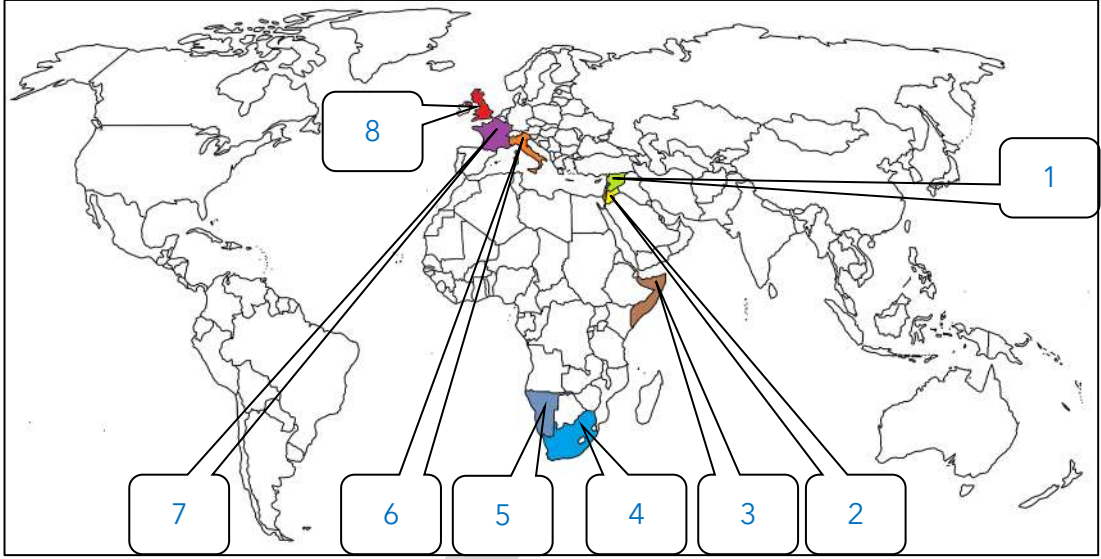
○ الدول التي وقعت تحت الانتداب البريطاني :

- سوريا ولبنان      ○ مصر والجزائر  
○ الصومال وإقليم ناميبيا      ○ فلسطين والأردن

○ وضعت الصومال تحت الوصاية :

- الإيطالية      ○ الفرنسية      ○ البريطانية      ○ الألمانية

## لاحظ خريطة العالم جيداً ثم نفذ المطلوب منك :



- \_\_\_\_\_ 1 الدولة التي انتدبت على فلسطين والأردن بعد الحرب العالمية الأولى تحمل على الخريطة الرقم
- \_\_\_\_\_ 2 دولة وضعت تحت الوصاية الإيطالية تحمل على الخريطة الرقم
- \_\_\_\_\_ 3 الدولة التي وضعت تحت الانتداب الفرنسي تحمل على الخريطة الرقم
- \_\_\_\_\_ 4 إقليم وقع تحت وصاية اتحاد جنوب أفريقيا يحمل على الخريطة الرقم
- \_\_\_\_\_ 5 الدولة التي قامت بالوصاية على الصومال تحمل على الخريطة الرقم
- \_\_\_\_\_ 6 الدولة التي قامت بالوصاية على إقليم ناميبيا تحمل على الخريطة الرقم
- \_\_\_\_\_ 7 دولة وقعت تحت الانتداب البريطاني تحمل على الخريطة الرقم
- \_\_\_\_\_ 8 الدولة التي انتدبت على سوريا عقب الحرب العالمية الأولى تحمل على الخريطة الرقم

عرف - التمييز العنصري



**تدرب و تفوق**

اختبارات الكترونية ذكية

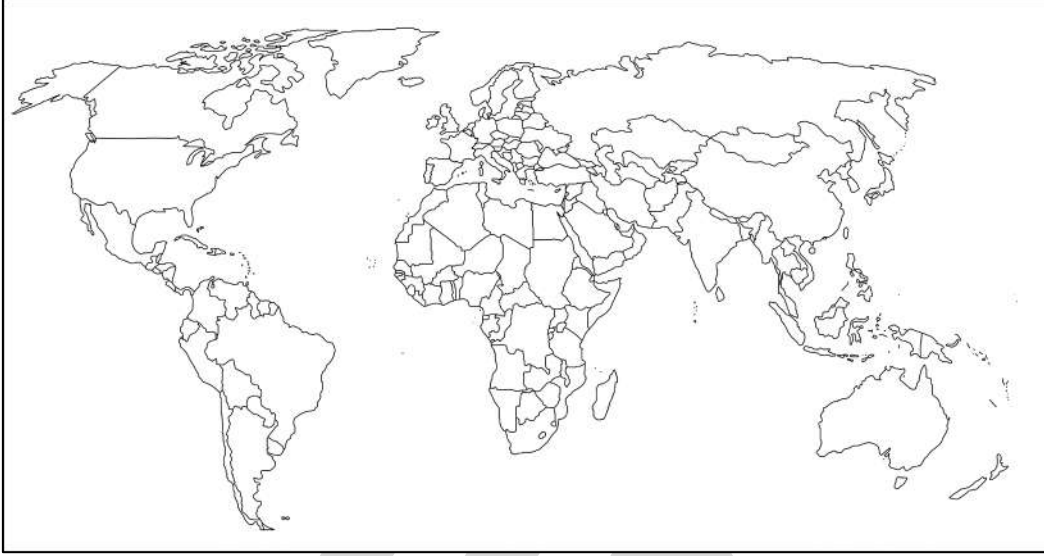


## الاستعمار البرتغالي



أكمل - أول شعب أوروبي قام بتأسيس إمبراطورية استعمارية فيما وراء البحار هم \_\_\_\_\_

★ يمكن أن يأتي السؤال بصيغة أخرى: حدد على الخريطة



أعدد - مناطق النفوذ الاستعماري البرتغالي

★ يمكن أن يأتي السؤال بصيغة أخرى: اكتب - عن مرحلة تأسيس الإمبراطورية البرتغالية

---

---

---

---

---

---

---

---

---

---

أكمل العبارات التالية :

★ يمكن أن يأتي السؤال بصيغة أخرى: اختياري

- أ جزر الخالدات يطلق عليها اسم \_\_\_\_\_
- أ العام الميلادي الذي وصل فيه البرتغاليون حملاتهم في الشرق على الشاطئ الغربي للهند \_\_\_\_\_
- أ حاكم الهند الذي عقدت معه البرتغال معاهدة تجارية لانتزاع تجارة الشرق من أيدي المسلمين يسمى \_\_\_\_\_
- أ البحار البرتغالي الذي تركزت نفوذه في مداخل البحر الأحمر يسمى \_\_\_\_\_

صفوة معلم الكويت

## اختر الإجابة الصحيحة :

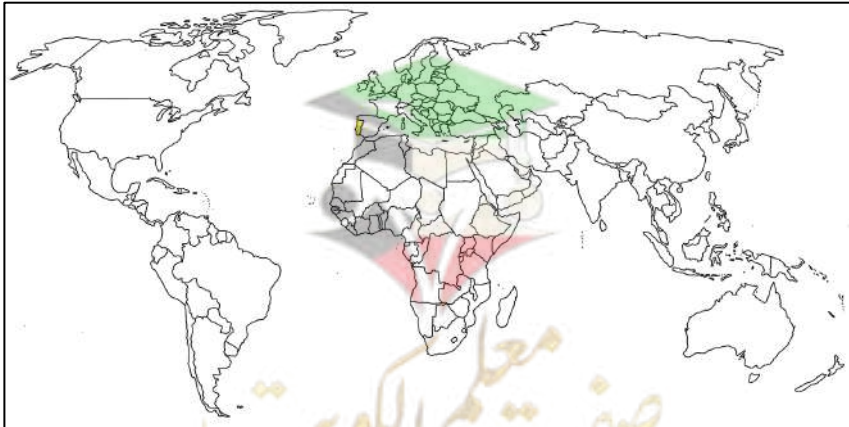
★ ممكن أن يأتي السؤال بصيغة أخرى: أكمل

١. احتل البحار البرتغالي البوكيرك جزيرة سوقطرة في عام :  
○ 1505 م      ○ 1506 م      ○ 1507 م      ○ 1508 م
٢. مدينة تعتبر هي مفتاح الخليج العربي تسمى :  
○ مسقط      ○ الدوحة      ○ المنامة      ○ صلاة
٣. العام الميلادي الذي استولى فيه البوكيرك على هرمز :  
○ 1505 م      ○ 1506 م      ○ 1507 م      ○ 1508 م
٤. عاصمة الإمبراطورية البرتغالية في الشرق هي :  
○ سوقطرة      ○ مسقط      ○ جوا      ○ هرمز
٥. المدينة العربية التي فشل البرتغاليون في الاستيلاء عليها :  
○ عدن      ○ جوا      ○ مسقط      ○ سوقطرة
٦. نجح البرتغاليون في السيطرة على جوا في عام :  
○ 1507 م      ○ 1508 م      ○ 1509 م      ○ 1510 م
٧. الترتيب الزمني الصحيح لاستعمار الوطن العربي  
○ الجزائر - مصر - سوقطرة - هرمز - مصر  
○ سوقطرة - هرمز - الجزائر - مصر
٨. علل - عقد البرتغاليون معاهدة تجارية مع حاكم الهند

## حدد - على خريطة العالم

١. عاصمة الإمبراطورية البرتغالية في الشرق

٢. دولة استعمارية سيطرت على هرمز عام 1507 م





عدد - العوامل التي ساعدت البرتغاليين في تأسيس الإمبراطورية

☆ ممكن أن يأتي السؤال بصيغة أخرى: علل نجاح البرتغال في احتكار تجارة الشرق

عدد - انهيار الإمبراطورية البرتغالية في الشرق

☆ ممكن أن يأتي السؤال بصيغة أخرى: دلل - انهيار الإمبراطورية البرتغالية في أواخر القرن السادس عشر ميلادي

### اختر الإجابة الصحيحة :

انهارت الإمبراطورية البرتغالية في أواخر القرن :

- الخامس عشر الميلادي  السادس عشر الميلادي  
 السابع عشر الميلادي  الثامن عشر الميلادي

جميع ما يلي دول نافست البرتغال في مجال الاستعمار ما عدا :

- ألمانيا  إسبانيا  هولندا  إنجلترا

العام الذي ضمت فيه البرتغال للتاج الإسباني في عهد الملك فيليب الثاني :

- 1580 م  1585 م  1590 م  1595 م

استمرت البرتغال تحت التاج الإسباني لمدة :

- 40 عاما  50 عاما  60 عاما  70 عاما

أكمل : الملك الإسباني الذي ضمت في عهده البرتغال للتاج الإسباني يسمى

عدد - لم يكن لنائب الملك البرتغالي أي سلطة في جوا



تدرب و تفوق

اختبارات الكترونية ذكية



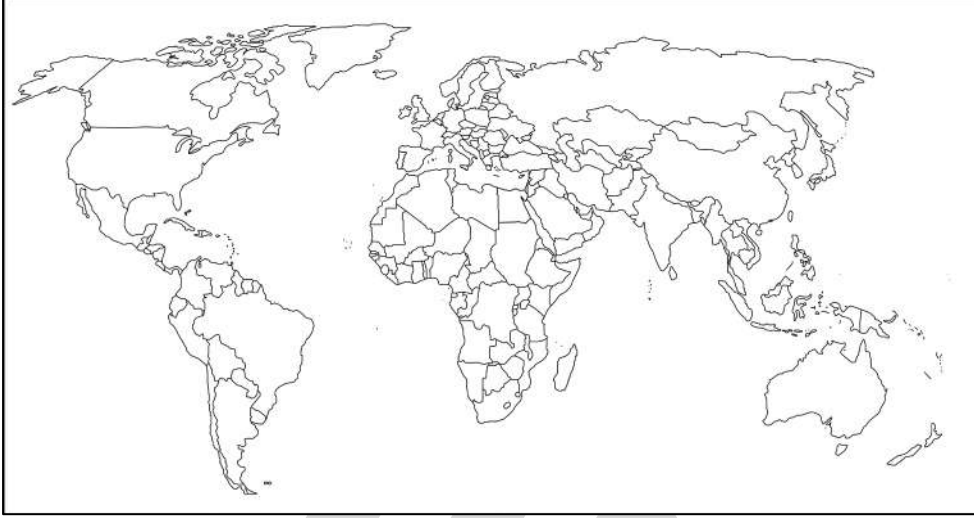


## الاستعمار الإسباني



الدولة الثانية في مجال الاستعمار الأوروبي هي \_\_\_\_\_

☆ ممكن أن يأتي السؤال بصيغة أخرى: حدد على الخريطة



اكتب فيما درست - كيف تأسست الإمبراطورية الإسبانية

---



---



---



---



---



---

أكمل العبارات التالية :

☆ ممكن أن يأتي السؤال بصيغة أخرى: اختاري - حدد على الخريطة

جزر اهتم فيها الإسبان بالبحث عن الذهب والفضة تسمى

دولة كانت مقراً للاستعمار الإسباني تسمى

الدولة التي يوجد بها حضارتا الآزتك والماباس تسمى

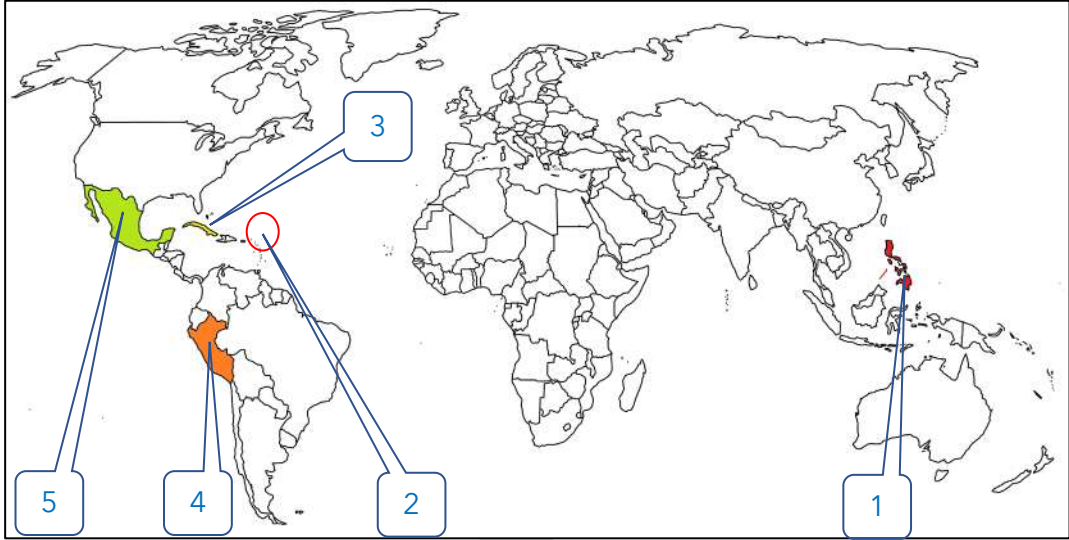
الدولة التي يوجد بها حضارة الأنكا تسمى

معظم قارة أمريكا الجنوبية كان تحت سيطرة الاستعمار الإسباني ما عدا دولة تسمى

استمر النفوذ الإسباني في قارة أمريكا الجنوبية لمدة

الاستعمار الإسباني بسط نفوذه على منطقة في الشرق تسمى

فسر - تسمية الفلبين بهذا الاسم



- \_\_\_\_\_ ❶ الدولة التي يوجد بها مقر الاستعمار الإسباني تحمل على الخريطة الرقم
- \_\_\_\_\_ ❷ دولة سميت نسبة إلى ابن ملك إسبانيا تحمل على الخريطة الرقم
- \_\_\_\_\_ ❸ جزر اهتم فيها الإسبان بالبحث عن الذهب والفضة تحمل على الخريطة الرقم
- \_\_\_\_\_ ❹ الدولة التي يوجد بها حضارة الأنكا تحمل على الخريطة الرقم
- \_\_\_\_\_ ❺ الدولة التي يوجد بها حضارتا الأزتك والماباس تحمل على الخريطة الرقم



❶ ددل على صحة العبارة التالية - سياسة الإسبان في مستعمراتهم

★ ممكن أن يأتي السؤال بصيغ أخرى: عدد - سياسة الإسبان في مستعمراتهم

---



---



---



---

### علل لما يلي

❶ انهيار الإمبراطورية الإسبانية

★ ممكن أن يأتي السؤال بصيغة أخرى: فند - استمرت الإمبراطورية الإسبانية لفترات طويلة ولم تسقط

---



---



---



---

❶ هجوم القرصنة الإنجليزي والفرنسيين والهولنديين على السفن الإسبانية

❶ ضعف القوة البحرية الإسبانية في الربع الأخير من القرن السادس عشر

❑ اذكر نتيجة تحطم الأسطول الإسباني ( الأرمادا ) عام 1588 م

❑ عرف - الأرمادا

❑ فرق بين كل من :

أسباب انهيار الإمبراطورية الإسبانية	أسباب انهيار الإمبراطورية البرتغالية



🎯 **تدرب و تفوق**

اختبارات الكترونية ذكية



الاستعمار الأوروبي

## الاستعمار الهولندي

أكمل العبارات التالية :

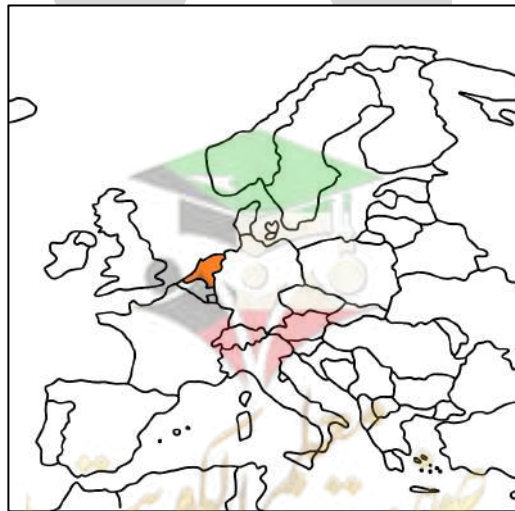
★ ممكن أن يأتي السؤال بصيغة أخرى: **اختياري**

❑ الإمبراطور الإسباني الذي ورث هولندا في القرن السادس عشر يسمى \_\_\_\_\_

❑ الإمبراطور الإسباني الذي سمح للهولنديين بالتجارة في المستعمرات الإسبانية يسمى \_\_\_\_\_

❑ المذهب الذي اعتنقه الهولنديون مع ظهور حركة الإصلاح الديني يسمى \_\_\_\_\_

❑ العام الميلادي الذي حصلت فيه هولندا على استقلالها هو \_\_\_\_\_



❑ عدد - النتائج المترتبة على اعتناق هولندا المذهب البروتستانتية

---

---

---

❑ فسر - قيام الثورة الهولندية ضد الحكم الإسباني

---

---

---

❑ عدد - العوامل التي ساعدت على تفوق الهولنديين في نشاطهم البحري

---

---

---

❑ اكتب عن جهود الهولنديين في تأسيس امبراطوريتهم في بداية ق16 م

---

---

---

---

---

---

---

---

### أكمل العبارات التالية :

❑ العام الميلادي الذي أنشئت فيه شركة الهند الشرقية الهولندية عام \_\_\_\_\_

❑ التجارة التي احتكرها الاستعمار الهولندي تسمى \_\_\_\_\_

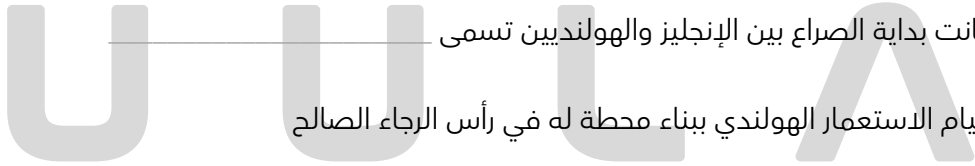
❑ المدينة التي نقل منها الهولنديون البُن إلى أوروبا تسمى \_\_\_\_\_

❑ العام الميلادي الذي نقل فيه الهولنديون البن من اليمن إلى أوروبا هو \_\_\_\_\_

❑ العام الميلادي الذي تم فيه إنشاء محطة رأس الرجاء الصالح \_\_\_\_\_

❑ محطة كانت بداية الصراع بين الإنجليز والهولنديين تسمى \_\_\_\_\_

❑ فسر - قيام الاستعمار الهولندي ببناء محطة له في رأس الرجاء الصالح \_\_\_\_\_



❑ ما تفسيرك للحدث التالي : بالرغم من قوة الاستعمار الهولندي فإنه انهار أمام القوى الأوروبية الأخرى

★ ممكن أن يأتي السؤال بصيغة أخرى: علل لم تعمر الإمبراطورية الهولندية لفترات طويلة

---

---

---


---

---

---

---

---



قارن بين كل مما يلي حسب الجدول التالي :

أوجه المقارنة	انهيار الإمبراطورية الاسبانية	انهيار الإمبراطورية الهولندية
الشبه		
الاختلاف		

ما هي أوجه الشبه بين كل من عوامل انهيار الإمبراطورية الهولندية والإمبراطورية البرتغالية



تدرب و تفوق

اختبارات الكترونية ذكية



الاستعمار الأوروبي

## الاستعمار الفرنسي و الاستعمار الإنجليزي

أكمل العبارات التالية :

- توسع الاستعمار الفرنسي في القرن 16 على جبهتين هما أمريكا الشمالية و \_\_\_\_\_
- العام الميلادي الذي تأسست فيه شركة الهند الشرقية الفرنسية \_\_\_\_\_
- الملك الفرنسي الذي شجع على تأسيس شركة الهند الشرقية الفرنسية يسمى \_\_\_\_\_
- ما دور الشخصية التالية : لويس الرابع عشر \_\_\_\_\_

عدد لما يلي

المناطق التي نجح الاستعمار الفرنسي باحتلالها عام 1701 م

العوامل التي ساعدت الفرنسيين في نجاحهم بالهند

☆ ممكن أن يأتي السؤال بصيغة أخرى: علل - نجاح فرنسا في إقليم الكرنك

أكمل : الحرب التي نتجت عن تجاوز الاستعماريين الإنجليزي والفرنسي تسمى



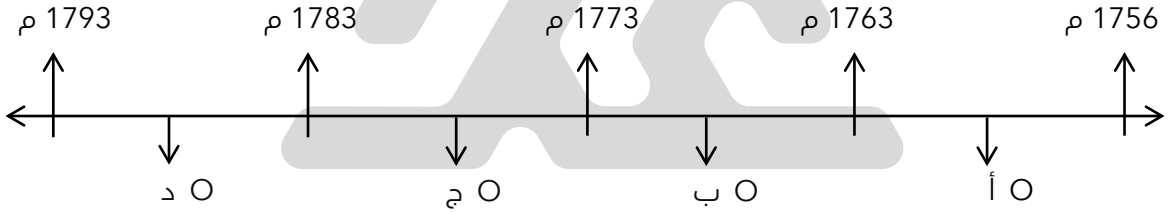
عدد - النتائج المترتبة تجاوز الاستعمار الفرنسي للاستعمار الإنجليزي

---

---

---

اختياري : حرب السنين السبع يمثلها على المخطط الزمني الحرف :



أكمل الجدول الناقص

حرب السنين السبع	
	السنة
	الأطراف
	النتائج

ماذا بحث لو : لم تقم حرب السنين السبع بين إنجلترا وفرنسا عام 1756 م - 1763 م

---



## أكمل العبارات التالية :

الميناء الذي أبحر منه الملاحون الإنجليز في القرن السادس عشر يسمى :

الملاح الذي وصل إلى العالم الجديد وشبه جزيرة لبرادور يسمى

## اختر الإجابة الصحيحة :

الملكة التي تم في عهدها تأسيس مستعمرة فرجينيا :

○ إليزابيث ○ ماري الثانية ○ فيكتوريا

العام الميلادي الذي تم فيه تأسيس مستعمرة فرجينيا :

○ 1605 م ○ 1606 م ○ 1607 م ○ 1608 م

عدد المستعمرات الإنجليزية على الساحل الشرقي لأمريكا الشمالية :

○ إحدى عشرة مستعمرة ○ اثنتا عشرة مستعمرة  
○ ثلاث عشرة مستعمرة ○ أربع عشرة مستعمرة

الساحل الذي تأسست عليه المستعمرات الإنجليزية يسمى :

○ الساحل الشرقي للهند ○ الساحل الغربي للهند  
○ الساحل الشرقي لآسيا ○ الساحل الشرقي لأمريكا الشمالية

عدد - المناطق التي اتجه إليها الإنجليز في أمريكا الوسطى

دلل -ركز الإنجليز اهتمامهم على الهند

☆ ممكن أن يأتي السؤال بصيغة أخرى: **فسر**



**تدرب و تفوق**

اختبارات الكترونية ذكية



# الاستعمار الروسي وآثار الاستعمار

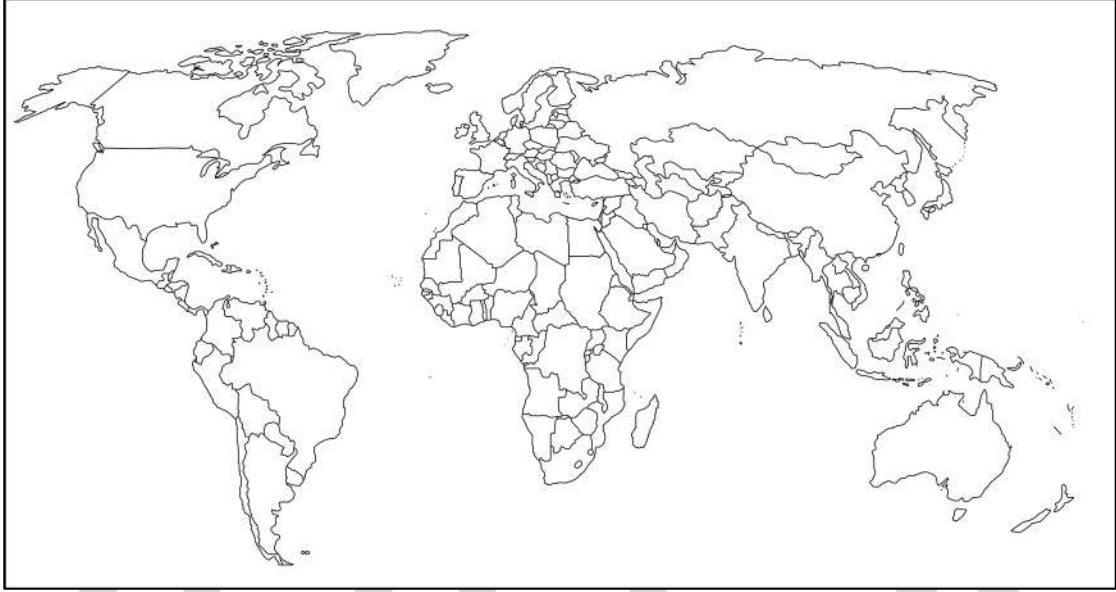


## أكمل العبارات التالية :

- ❑ الاستعمار الذي اخترق قارة آسيا من الوسط للوصول إلى المحيط الهادي شرقاً يسمى \_\_\_\_\_
- ❑ وصل الاستعمار الروسي إلى المحيط الهادي شرقاً في القرن \_\_\_\_\_
- ❑ عدد - المناطق التي بسط فيه الاستعمار الروسي نفوذه \_\_\_\_\_

❑ أكمل : الاستعمار الذي اشتهر بتجارة الفراء يسمى \_\_\_\_\_

❑ حدد على خريطة العالم - الدولة الاستعمارية التي اشتهرت في العمل بتجارة الفراء



❑ اكتب فقرة تاريخية مترابطة في حدود سطرين مستعيناً بالكلمات التالية " الروس - جبال أورال - تجارة الفراء - الصين "

❑ فرق بين كل مما يلي :

احتياجات أوروبا حديثاً

احتياجات أوروبا قديماً



دلل - كانت المستعمرات تستغل حسب نظام الميثاق الاستعماري

قارن بين آثار الاستعمار

☆ ممكن أن يأتي السؤال بصيغ أخرى: دلل- للاستعمار آثار إيجابية وآثار سلبية  
فند - للاستعمار آثار إيجابية فقط - دلل - للاستعمار آثار إيجابية - دلل - للاستعمار آثار سلبية

الآثار السلبية	الآثار الإيجابية



تدرب و تفوق

اختبارات الكترونية ذكية

U U L A





# الثورة الصناعية وعواملها

## عرف المفاهيم الآتية

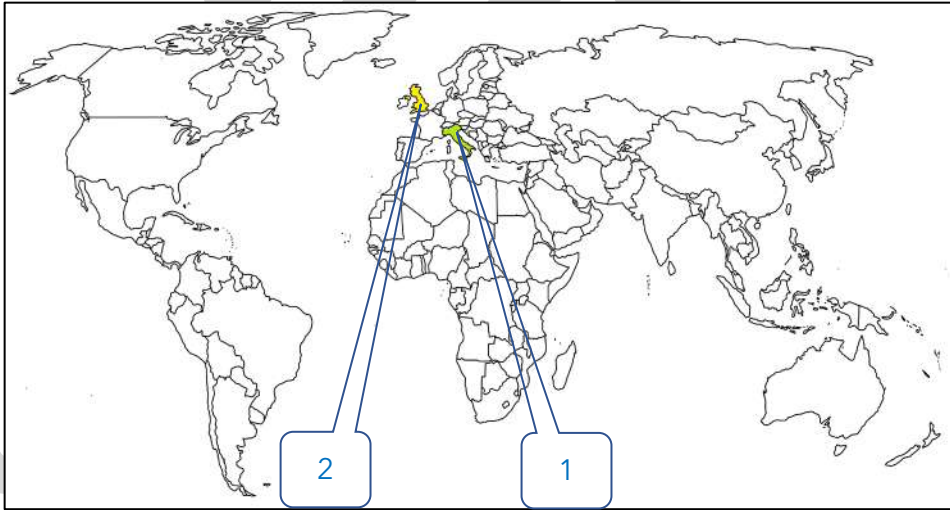
الثورة

الثورة الصناعية

لخص أحوال أوروبا الاقتصادية قبل قيام الثورة الصناعية

أكمل : المحور الأساسي للدخل القومي في أوروبا قبل الثورة الصناعية يسمى

لاحظ الخريطة التالية ثم نفذ المطلوب منك



القاعدة التي انطلقت منها الثورة الصناعية تحمل على الخريطة الرقم

أولى دول أوروبا في مجال الثورة الصناعية

في مقدمة حركة النهضة الأوروبية ونقلت أوروبا من ظلمات العصور الوسطى إلى الآفاق المضيئة للعصور الحديثة تحمل على الخريطة الرقم



❑ عدد - العوامل التي ساعدت إنجلترا على القيام بالثورة الصناعية

☆ ممكن أن يأتي السؤال بصيغ أخرى: علل - قيام الثورة الصناعية في إنجلترا  
فند - لم تمتلك إنجلترا أي من المقومات لقيام الثورة الصناعية

❑ دلل على صحة العبارة "الاستقرار الداخلي ساعد على قيام الثورة الصناعية"

❑ أكمل : العام الميلادي الذي قامت فيه الثورة المجيدة \_\_\_\_\_

❑ دلل - "وفرة رأس المال ساعدت على قيام الثورة الصناعية في إنجلترا"

❑ أكمل : المدينة الإنجليزية التي أصبحت تتحكم في المصارف الإنجليزية تسمى \_\_\_\_\_

❑ علل - سهولة حصول إنجلترا على المواد الخام

❑ عدد - مصادر القوى المحركة التي توفرت لإنجلترا

**دلل على صحة العبارات التالية**

❑ الأيدي العاملة الرخيصة ساعدت إنجلترا على القيام بالثورة الصناعية

❑ تشجيع العلماء والمخترعين ساعد إنجلترا على القيام بالثورة الصناعية

❑ امتلاك إنجلترا لأسطول تجاري كبير ساعدها على القيام بالثورة الصناعية

❏ دال على صحة العبارة "السياسة والاقتصاد وجهان لعملة واحدة"

\_\_\_\_\_

\_\_\_\_\_

❏ ما العلاقة بين الثورة الصناعية وتطور العديد من الصناعات

\_\_\_\_\_

\_\_\_\_\_



**تدرب و تفوق**

اختبارات الكترونية ذكية



الثورة الصناعية

## مظاهر الثورة الصناعية

❏ عدد - أبرز العلماء الذين ساهموا في إحداث الثورة الصناعية في مجال المنسوجات

\_\_\_\_\_

❏ دال على صحة العبارة التالية "أحدثت الثورة الصناعية تغيرات كبيرة في مجال المنسوجات"

\_\_\_\_\_

\_\_\_\_\_

❏ فسر - قيام جيمس هارجر يفز باختراع آلة يدوية للغزل

★ ممكن أن يأتي السؤال بصيغة أخرى: اكتب - نتيجة اختراع جيمس هارجر يفز

\_\_\_\_\_

**أكمل العبارات التالية**

★ ممكن أن يأتي السؤال بصيغة أخرى: اختياري

❏ العام الميلادي الذي اخترع فيه العالم جون كي المكوك الطائر \_\_\_\_\_

❏ اختراع أدى إلى استخدام قوة الماء لعملية الغزل يسمى \_\_\_\_\_

❏ العالم الذي اخترع آلة يدوية للغزل يسمى \_\_\_\_\_

صفوة معلمى الكويت



عدد - أبرز العلماء الذين ساهموا في إحداث الثورة الصناعية في مجال صناعة الآلات

دلل على صحة العبارة التالية " أحدثت الثورة الصناعية تغييرات كبيرة في مجال صناعة الآلات "

☆ ممكن أن يأتي السؤال بصيغة أخرى: فند- لم تسهم الثورة الصناعية بأي اختراعات في مجال الآلات

اكتب نتيجة اختراع المضخة البخارية الكابسة

اختر الإجابة الصحيحة

☆ ممكن أن يأتي السؤال بصيغة أخرى: أكمل

مخترع المضخة البخارية الكابسة يسمى :

○ توماس نيو كمان  
○ ريتشارد أركرايت

○ هنري بسمر  
○ جون كي

العالم الميلادي الذي اخترع فيه جيمس وات المضخة البخارية الدائرية الحركة :

○ 1769 م

○ 1765 م

○ 1764 م

○ 1712 م

المجال الذي برز فيه كل من توماس نيو كمان وجيمس وات يسمى :

○ النقل

○ المنسوجات

○ التعدين

○ الآلات

أكمل : الصورة المقابلة اختراع لعالم يسمى



اكتب مدلول الصورة المقابلة



### أكمل العبارات التالية

صاحب تحضير الفولاذ من الحديد يسمى \_\_\_\_\_

العام الميلادي الذي قام فيه هنري بسمر بتحضير الفولاذ من الحديد \_\_\_\_\_

المجال الذي برز فيه هنري بسمر يسمى \_\_\_\_\_

اذكر - نتيجة اختراع هنري بسمر

اكتب مدلول الصورة المقابلة



### تدرب و تفوق

اختبارات الكترونية ذكية



عدد - أبرز العلماء الذين ساهموا في الثورة الصناعية في مجال النقل



دلل على صحة العبارة التالية " أحدثت الثورة الصناعية تغيرات كبيرة في مجال النقل والمواصلات "

اكتب نتيجة اختراع القاطرة البخارية

❑ فد - لم تسهم الثورة الصناعية بأي اختراعات في مجال النقل

---

---

---


### أكمل العبارات التالية

- ❑ العالم الذي اخترع السفن البخارية يسمى \_\_\_\_\_
- ❑ الاختراع الذي أدى إلى بداية سير السكك الحديدية يسمى \_\_\_\_\_
- ❑ مخترع الاحتراق الداخلي يسمى \_\_\_\_\_
- ❑ العام الميلادي الذي اخترع فيه نيقولاس أوتو محرك رباعي الأشواط \_\_\_\_\_
- ❑ المجال الذي برز في ديمرلر وبنز يسمى \_\_\_\_\_

### اختر الإجابة الصحيحة

- ❑ نتيجة اختراع محرك الاحتراق الداخلي هي :
- إنتاج سيارة البنزين الأولى
- الديزل وقود للسيارات
- بداية سير السكك الحديدية
- تطوير السيارات
- ❑ نتيجة اختراع نيقولاس أوتو :
- تسيير السفن التجارية البخارية
- إنتاج سيارة البنزين الأولى
- تطوير السيارات
- الديزل وقود للسيارات

❑ اكتب مدلول الصور التالية :



❑ دلل على صحة العبارة التالية " أحدثت الثورة الصناعية تغييرات كبيرة في مجال الطيران "

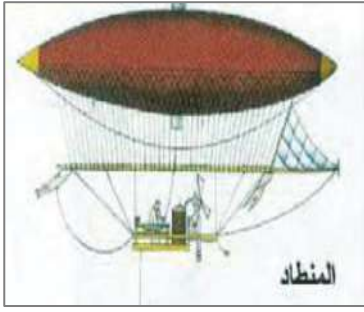
---

---

---



اكتب نتيجة اختراع المنطاد



### أكمل العبارات التالية

مخترع المنطاد عام 1785 م يسمى \_\_\_\_\_

العام الميلادي الذي اخترع فيه الأخوان رايت طائرة البازين لتطوير عالم الطيران \_\_\_\_\_



عدد - أبرز العلماء الذين ساهموا في الثورة الصناعية في مجال الكهرباء

دلل على صحة العبارة التالية " أحدثت الثورة الصناعية تغييرات كبيرة في مجال الكهرباء "

ماذا يحدث لو - لم يخترع توماس إديسون المصباح الكهربائي

اكتب نتيجة اختراع الدينمو

### اختر الإجابة الصحيحة

المجال الذي برز فيه اليساندرو فولتا هو :

- النقل ○ الكهرباء ○ المنسوجات ○ الاتصال والمواصلات



المخترع الذي استخدم الطاقة الميكانيكية لتوليد طاقة كهربائية يسمى :

- وليم ماركوني  
○ مايكل فاراداي  
○ توماس إديسون  
○ بلانشارد

الاختراع الذي أدى إلى استخدام الكهرباء في الإضاءة هو :

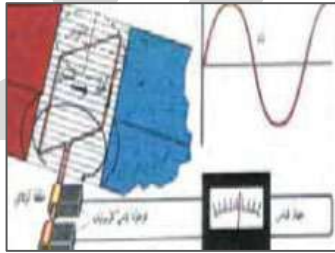

- البطارية الكهربائية  
○ الدينمو  
○ المصباح الكهربائي

### أكمل العبارات التالية

العالم الذي اخترع المصباح الكهربائي يسمى \_\_\_\_\_

العام الميلادي الذي اخترع فيه مايكل فاراداي الدينمو \_\_\_\_\_

اكتب المدلول المناسب بالنسبة لكل مما يلي



### تدرب و تفوق

اختبارات الكترونية ذكية



عدد - أبرز العلماء الذين ساهموا في الثورة الصناعية في مجال الاتصال والمواصلات



دل على صحة العبارة التالية " أحدثت الثورة الصناعية تغيرات كبيرة في مجال الاتصالات "

\_\_\_\_\_

\_\_\_\_\_

\_\_\_\_\_

## اكتب - نتيجة الاختراعات التالية :

التلغراف الكهربائي


اللاسلكي - الراديو

## أكمل العبارات التالية

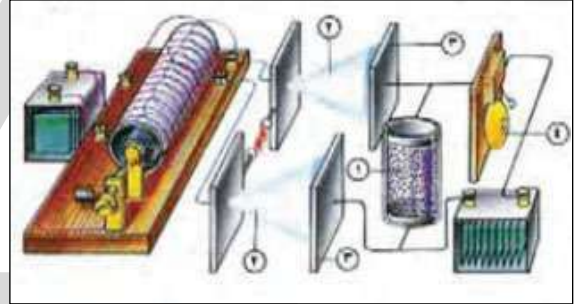
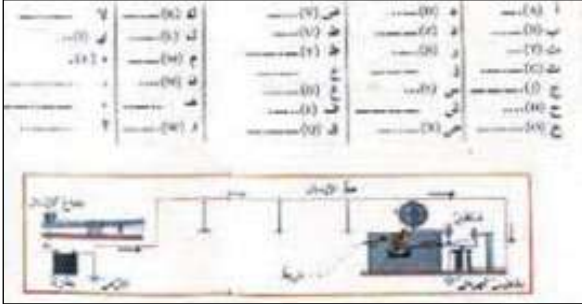
مخترع اللاسلكي - الراديو يسمى \_\_\_\_\_

صاحب اختراع التلغراف الكهربائي يسمى \_\_\_\_\_

الصورة المقابلة لاختراع يسمى \_\_\_\_\_



اكتب مدلول الصور التالية



## صنف ما يلي حسب الجدول التالي

تحضير الفولاذ من الحديد - المكوك الطائر - السفن البخارية - المضخة البخارية الدائرية الحركة

النقل	التعدين	الآلات	المنسوجات



وليم ماركوني - اليساندرو فولتا - بلانشارد

الاتصال والموصلات	الكهرباء	الطيران

صنف الأسماء التالية حسب المجال الذي برز فيه  
( هنري بسمر - توماس إديسون - جون كي - جورج ستيفنسن )

صناعة المنسوجات	مجال التعدين	مجال النقل	مجال الكهرباء

قارن بين كل من :

		<b>أوجه الاختلاف</b>
		<b>اسم الاختراع</b>
		<b>أثر الاختراع</b>



**تدرب و تفوق**

اختبارات الكترونية ذكية



الثورة الصناعية

## نتائج الثورة الصناعية

عدد - نتائج الثورة الصناعية

نفذ المطلوب منك مما بين القوسين  
الثورة الصناعية ( النتائج الاقتصادية )

☆ ممكن أن يأتي السؤال بصيغة أخرى: برهن - أحدثت الثورة الصناعية تغيرات في أوروبا من الناحية الاقتصادية

ما هي أوجه الاختلاف بين الاقتصاد الأوروبي قبل الثورة الصناعية وبعدها

الاقتصاد الأوروبي بعد الثورة الصناعية

الاقتصاد الأوروبي قبل الثورة الصناعية

دلل - انتعاش النشاط الاقتصادي في أوروبا عقب الثورة الصناعية

أكمل : النظام الاقتصادي الذي ساد أوروبا عقب الثورة الصناعية يسمى

❏ نفذ المطلوب منك مما بين القوسين  
الثورة الصناعية ( النتائج الاجتماعية )

★ ممكن أن يأتي السؤال بصيغة أخرى: برهن - أحدثت الثورة الصناعية في أوروبا تغيرات من الناحية الاجتماعية

---

---

---

❏ أكمل : الآراء المضادة للفكر الرأسمالي تسمى \_\_\_\_\_

★ ممكن أن يأتي السؤال بصيغة أخرى: **عرف**

❏ نفذ المطلوب منك مما بين القوسين  
الثورة الصناعية ( النتائج السياسية )

★ ممكن أن يأتي السؤال بصيغة أخرى: برهن - أحدثت الثورة الصناعية في أوروبا تغيرات من الناحية السياسية

---

---

---

❏ اختياري : نتيجة سياسية ترتبت على الثورة الصناعية :

- زيادة الإنتاج  
○ سيطرة الطبقة الرأسمالية  
○ ظهور الصراع الطبقي  
○ ظهور المراكز الصناعية

❏ علل - التسابق الاستعماري حول المستعمرات

---

---

❏ أكمل : الطبقة التي سيطرت على السلطة في أوروبا عقب الثورة الصناعية تسمى \_\_\_\_\_



🎯 **تدرب و تفوق**

اختبارات الكترونية ذكية

