

١٠

٤

السؤال الأول : ضع علامة ( ✓ ) للإجابة الصحيحة و خطأ للإجابة ( X ) :

١- العين تساعدك على سماع صوت الجرس (     )

٢- الإنسان لديه أربع حواس (     )

السؤال الثاني : اختر الإجابة الصحيحة بوضع علامة في المربع

١- العضو الذي يساعدنا على تذوق الطعام هو










٢- حدد الساخن

٤









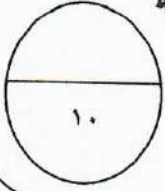

السؤال الثالث : طابق من المجموعة ( أ ) بما يناسبها من المجموعة ( ب )

المجموعة ( ب )	المجموعة ( أ )
	<p>استخدم للمحافظة على نظافة اليدين</p> <p>أستخدم لتناول الطعام</p>

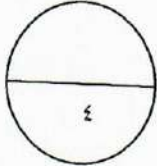
٢

امتحان (٢) في مادة العلوم للصف الأول الابتدائي للوحدة التعليمية الثانية

للعام الدراسي (٢٠١٧/٢٠١٨م)



السؤال الأول: ضع علامة ( ) للعبارة الصحيحة و علامة (x) للعبارة خاطئة في كل مما يأتي:

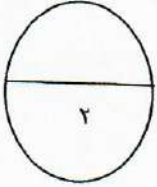


( )

١- الانسان كائن حي يكبر و ينمو

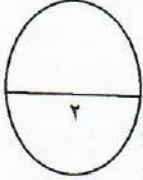
( )

٢- الطعام الغير مكشوف مضر لصحتنا



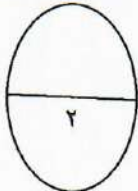
السؤال الثاني: حوّل الأجوبة الصحيحة فيما يلي:

١- من الأكل المضر للصحة:



السؤال الثالث: صل الملابس بما يناسبها من الصور المقابلة فيما يلي:

مجموعة (ب)	مجموعة (أ)



السؤال الرابع: أنا ألون ملابس الولد فيما يلي:





السؤال الأول : ضع علامه ( ✓ ) للاجابة الصحيحه و علامه ( X ) للاجابة الخطأ :

١- تجف الملابس بحرارة الشمس ( )

٢- نغسل السيارة بأستخدام خرطوم المياه ( )

السؤال الثاني : اختر الإجابة الصحيحة بوضع علامة في المربع

إذا اردنا صنع مكعبات الثلج نضع الماء في




أتعرف على ألوان علم الكويت بأستخدام



السؤال الثالث : طابق بين الصور و الكلمات المناسبة



غازية



سائلة

