

التاريخ

الكورس الأول

10



التاريخ

الكورس الأول

10

شلون تتفوق بدراستك

منصة علا تخلي المذكرة أقوى

تبي أعلى الدرجات؟ لا تعتمد على المذكرة بروحها
ادرس صح من الفيديوهات و الاختبارات في منصة علا

700

★ **اختبارات ذكية تدربك**
حل الاختبارات الإلكترونية أول بأول
عشان ترفع مستواك

🎬 **فيديوهات تشرح لك**
تابع الفيديوهات و اسأل المعلم في علا وأنت
تدرس من المذكرة عشان تضبط الدرس



اكتشف عالم التفوق مع منصة علا

لتشترك بالمادة و تستمتع بالشرح
المميز صور أو اضغط على ال QR



المعلق



هذه المذكرة تغطي المادة كاملة.

في حال وجود أي تغيير للمنهج أو تعليق جزء منه يمكنكم مسح رمز QR للتأكد من المقرر.



المنقذ



أول ما تحتاج مساعدة بالمادة ، المنقذ موجود!

صور ال QR بكاميرا التلفون أو اضغط عليه إذا كنت تستخدم المذكرة من جهازك و يطلع لك فيديو يشرح لك.



قائمة المحتوى

01 معالم الكويت الجغرافية

01

5	الموقع والمساحة
6	التضاريس
9	جزر الكويت
11	المناخ
14	السكان

02 معالم الكويت الاقتصادية والحضارية

02

17	الأنشطة الاقتصادية قديماً
20	الأنشطة الاقتصادية قديماً النشاط البحري
27	الأنشطة الاقتصادية قديماً النشاط البري
29	الأنشطة الاقتصادية قديماً: الحرف اليدوية
31	المعالم الحضارية لدولة الكويت

03 نشأة الكويت

03

36	نشأة الكويت 1613م
40	اختيار آل صباح لحكم الكويت
44	الحاكم الثاني الشيخ عبدالله الأول بن صباح بن جابر (1763 م - 1814 م)
46	الحاكم الثالث: الشيخ جابر الأول بن عبد الله الصباح: 1814 م - 1859 م
48	حكام الكويت (الرابع - الخامس - السادس)
51	النمو التجاري و الاقتصادي للكويت تحت حكم آل صباح

04 الكويت والتنافس الاستعماري

04

53	التنافس الاستعماري الأوروبي على منطقة الخليج العربي من القرن 16 - 19 م
56	التنافس الاستعماري الأوروبي على منطقة الخليج العربي من القرن 16 - 19 م
59	الشيخ مبارك الصباح (1896 م - 1915 م)

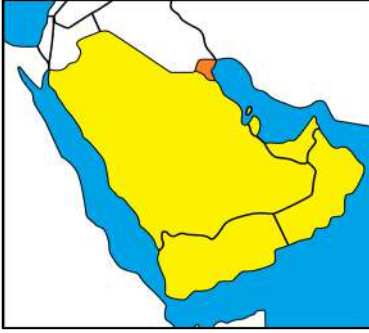




الموقع والمساحة

علل - أهمية دراسة موقع أي دولة

☆ ممكن أن يأتي السؤال بصيغة أخرى: عدد - أهداف



أكمل العبارات التالية:

☆ ممكن أن يأتي السؤال بصيغة أخرى: اختياري



تقع دولة الكويت بالنسبة لشبه الجزيرة العربية في جهة

تقع دولة الكويت بالنسبة للخليج العربي في جهة

الدولة التي تحد الكويت من جهة الشمال والشمال الغربي تسمى

الدولة التي تحد الكويت من جهة الجنوب والجنوب الغربي تسمى

المسطح المائي الذي يحده دولة الكويت من ناحية الشرق يسمى

تقع الكويت بين خطي عرض _____ شمال خط الاستواء.

تقع الكويت بين خطي طول _____ شرق خط جرينتش.

تبلغ مساحة دولة الكويت حوالي _____ كم².


علل - أهمية الموقع الجغرافي المتميز للكيان السياسي لدولة الكويت

☆ ممكن أن يأتي السؤال بصيغة أخرى: عدد - خصائص الموقع الاستراتيجي المتميز للكيان السياسي لدولة الكويت

U U L A

علل - الكويت البوابة والمدخل الطبيعي لشمال شرق الجزيرة العربية

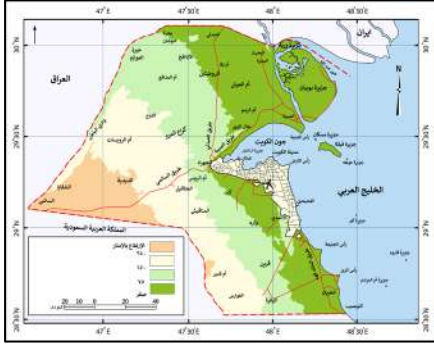
علل - الكويت أحد أهم الموانئ في شمال إقليم الإحساء





معالم الكويت الجغرافية

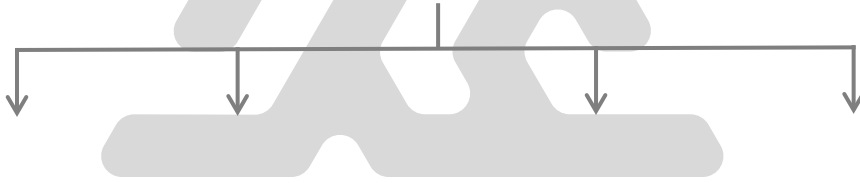
التضاريس



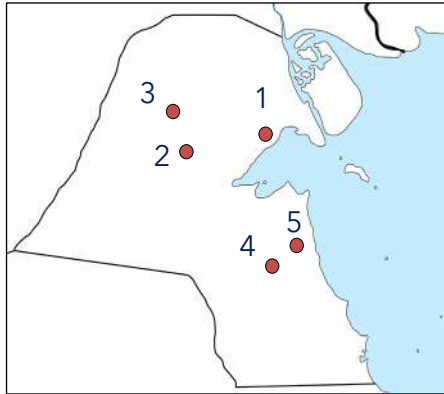
أكمل العبارات التالية:

- ❑ الخريطة المقابلة تمثل _____
- ❑ ينحدر سطح دولة الكويت تدريجياً في اتجاه من الغرب إلى _____
- ❑ المسطح المائي الذي ينحدر سطح دولة الكويت اتجاهه يسمى _____
- ❑ أعلى ارتفاع فوق مستوى سطح البحر في المناطق الغربية لدولة الكويت _____

❑ س عدد أنواع المظاهر التضاريسية في دولة الكويت



لاحظ خريطة دولة الكويت الصماء ثم نفذ المطلوب منك :

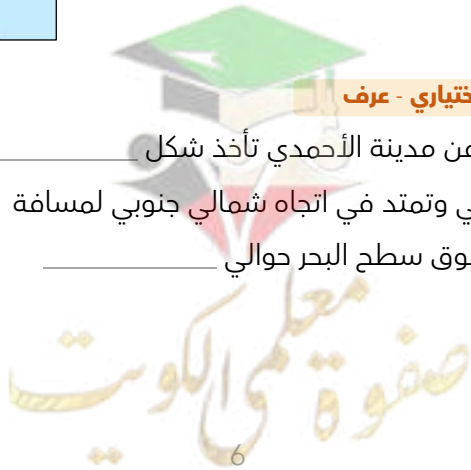


- ❑ الرقم (1) يمثل تل يصل ارتفاعه إلى 137 متر يسمى _____
- ❑ الرقم (2) يمثل تلال يبلغ ارتفاعها نحو 183م تسمى _____
- ❑ تلال اللياح يمثلها على الخريطة الرقم _____
- ❑ تل وارة يمثلها على الخريطة الرقم _____
- ❑ مدينة الأحمدى يمثلها على الخريطة الرقم _____

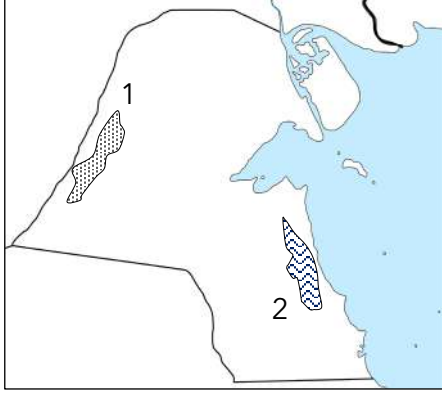
أكمل العبارات التالية:

☆ ممكن أن يأتي السؤال بصيغ أخرى: اختياري - عرف

- ❑ تل برقان وتل وارة في الجنوب من مدينة الأحمدى تأخذ شكل _____
- ❑ الهضبة التي تأخذ الشكل الطولي وتمتد في اتجاه شمالي جنوبي لمسافة ٣٠ كم تسمى _____
- ❑ أقصى ارتفاع لهضبة الأحمدى فوق سطح البحر حوالي _____



- ❑ وادي يفصل بين الحدود الكويتية العراقية لمسافة 150 كم يسمى _____
- ❑ الحدود التي يسير معها وادي الباطن بالنسبة لدولة الكويت تسمى _____
- ❑ اختياري : الحدود التي يسير معها وادي الباطن بالنسبة لدولة الكويت :
 الشمالية الجنوبية الشرقية الغربية



لاحظ خريطة دولة الكويت الصماء ثم نفذ المطلوب منك

- ❑ هضبة الأحمدي يمثلها على الخريطة الرقم _____
- ❑ وادي الباطن يمثله على الخريطة الرقم _____



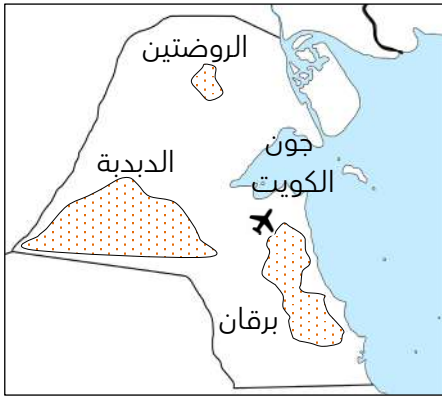
تدرب و تفوق

اختبارات الكترونية ذكية



أكمل العبارات التالية:

★ يمكن أن يأتي السؤال بصيغ أخرى: **عرف - اختياري**



❑ سهل يحتل مساحة كبيرة في غرب وجنوب دولة الكويت يسمى _____

❑ سهل يقع في شمال الكويت وهي أرض منبسطة تنحدر نحو الشرق والشمال الشرقي يسمى _____

❑ سهل يمتد من جونا الكويت باتجاه الجنوب موازياً لخط الساحل يسمى _____

❑ السهل الذي يقع فيه تلال وارة وبرقان والقرين يسمى _____

❑ ارتفاع سهل برقان بين الصفر عند الساحل وفي الداخل حوالي _____

❑ أكبر الحقول النفطية في دولة الكويت يسمى _____

❑ علل - سهل برقان أشهر السهول الموجودة في دولة الكويت



❶ صنف المظاهر التضاريسية التالية في دولة الكويت حسب الجدول التالي
جال الزور - كراع المرو - اللياح - برقان - وارة - القرين - الباطن - الدبدبة - الروضتين - الأحمدى

★ ممكن أن يأتي السؤال بصيغة أخرى : دلل على صحة العبارة - تتنوع وتتعدد التضاريس في الكويت

سهول	هضاب	وديان	تلل
			الجنوب
			الشمال

❷ اكتب المفهوم الدال على العبارات التالية :

★ ممكن أن يأتي السؤال بصيغة أخرى: عرف

العبارة	المفهوم
هضبة تأخذ الشكل الطولي وتمتد في اتجاه شمالي جنوبي لمسافة 30 كم	
الحد الفاصل بين الحدود الكويتية العراقية بمسافة 150 كم ويسير مع الحدود الغربية للكويت	
سهل يحتل مساحة كبيرة في غرب وجنوب دولة الكويت	
يقع في شمال الكويت وهي أرض منبسطة تنحدر نحو الشرق والشمال الشرقي	
يمتد من جوف الكويت باتجاه الجنوب موازياً لخط الساحل ويقع فيه تلال وارة وبرقان والقرين	

❸ أكمل طبيعة الأراضي في دولة الكويت ذات طبيعة _____

❹ علل - تعتبر الزراعة في الكويت محصورة في بعض المناطق

❺ عدد - المناطق الصالحة للزراعة في دولة الكويت

❻ " الكويت جيولوجياً جزء من الكتلة العربية " دلل على صحة العبارة

❼ صوب ما تحته خط

التصويب	العبارة
	يتكون سطح الكويت بشكل عام من سهول طينية
	يتكون سطح الكويت من سهول رملية منبسطة تتخللها بعض الجبال قليلة الارتفاع
	ينحدر سطح الكويت نحو الشمال

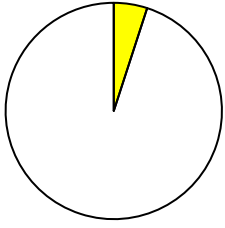


معالم الكويت الجغرافية

جزر الكويت

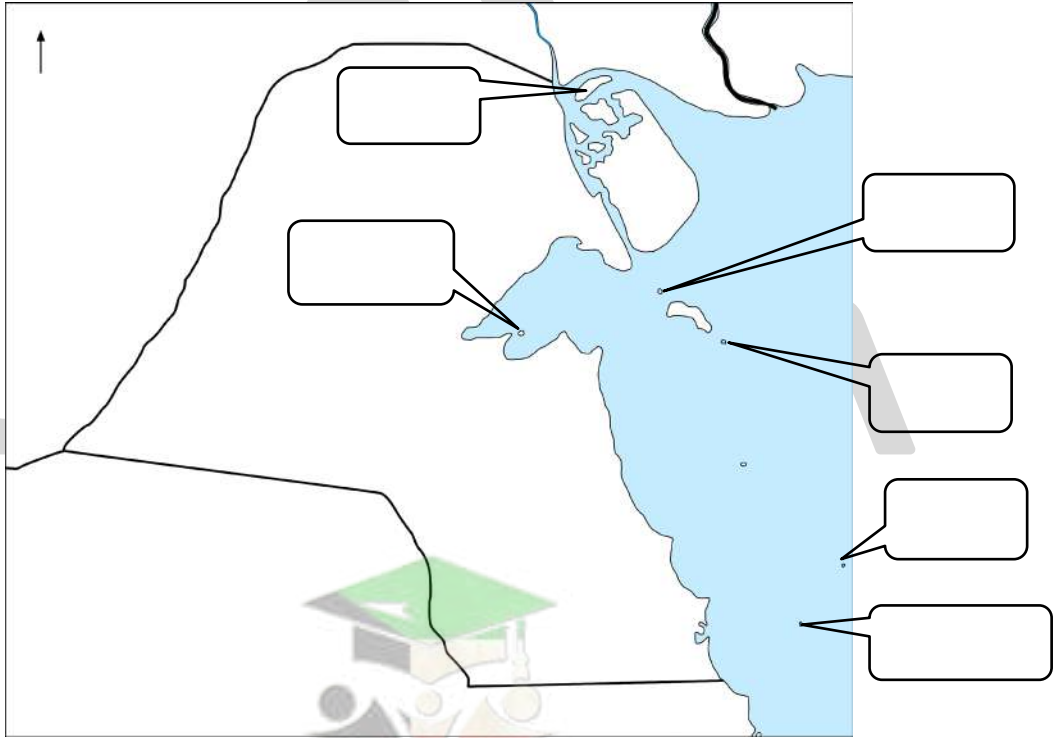
أكمل العبارات التالية:

☆ ممكن أن يأتي السؤال بصيغة أخرى: اختياري



- ١ عدد الجزر الكويتية _____
- ٢ أكبر الجزر الكويتية هي جزيرة _____
- ٣ نسبة جزيرة بوبيان من المساحة الإجمالية لدولة الكويت _____
- ٤ جزيرة اصبحت جزءاً من ميناء منطقة الشويخ بعد ردم الجزء المحصور بينها وبين الساحل هي _____
- ٥ رتب الجزر الكويتية حسب موقعها من الشمال إلى الجنوب في الجدول التالي

--	--	--	--	--	--	--	--	--	--



علل لما يلي :

- ١ جزيرة وربة وبوبيان كانت مطمعاً ومطلباً دائماً للعراق

جزيرة فيلكا لها أهمية تاريخية

☆ ممكن أن يأتي السؤال بصيغة أخرى: علل- فيلكا أهم الجزر الكويتية من حيث التاريخ



جزيرة فيلكا أصبحت غير مأهولة بالسكان بعد عام 1990 م

☆ ممكن أن يأتي السؤال بصيغة أخرى: أكمل

اختر الإجابة الصحيحة :

أحد الجزر الكويتية كانت تسمى قديماً إيكاروس :

مسكان وربة فيلكا أم النمل

الجزر الكويتية غير مأهولة بالسكان قبل عام 1990م ما عدا جزيرة :

بوبيان وربة فيلكا عوهه

آخر الجزر التابعة لدولة الكويت من ناحية الشمال :

بوبيان وربة عوهه فيلكا

آخر الجزر الكويتية من ناحية الجنوب جزيرة :

أم النمل كُبر أم المرادم قاروه

جزيرة صغيرة المساحة تقع في ناحية الجنوب الشرقي من فيلكا والمسافة بينهما 12 ميل :

أم النمل عوهه قاروه أم المرادم

جزيرة تقع في الجنوب من جزيرة فيلكا وتبعد عنها 19.5 ميل :

كُبر بوبيان عوهه أم النمل

جزيرة كُبر مساحتها تقارب من مساحة جزيرة :

وربة أم النمل عوهه فيلكا

أصغر الجزر الكويتية مساحة :

عوهه و وربة
مسكان و قاروه
أم النمل وكُبر
مسكان وأم النمل

الجزيرة الثانية من حيث المساحة في دولة الكويت :

وربة فيلكا أم النمل عوهه



معالم الكويت الجغرافية المناخ

علل - اختلاف المناخ بين مناطق دول العالم

دلل على صحة العبارة " الموقع الفلكي له تأثير في مناخ دولة الكويت "

فرق بين المميزات المناخية لدولة الكويت في الفصول الأربعة

الشتاء	الصيف

الخريف	الربيع

عدد- مميزات المطر في الكويت

علل - دولة الكويت إحدى المناطق المتميزة جغرافياً ومناخياً بمنطقة الخليج العربي

☆ ممكن أن يأتي السؤال بصيغة أخرى: عدد- مميزات مناخ دولة الكويت

❑ علل - جفاف وقلّة الرطوبة في دولة الكويت

❑ " الموارد المائية في دولة الكويت شحيحة " دلل على صحة العبارة

❑ عدد أهم المناطق التي تنحصر فيها المياه الصالحة للاستهلاك الآدمي بدولة الكويت



🎯 **تدرب و تفوق**

اختبارات الكترونية ذكية



❑ عدد أنواع الرياح في دولة الكويت



❑ قارن بين كل من :

★ ممكن أن يأتي السؤال بصيغ أخرى: **أكمل - اختياري**

الرياح	الرياح الشمالية الغربية	الجنوبية الشرقية " الكوس "
المميزات		
الآثار		

علل ما يلي :

❑ تمتاز الرياح الشمالية الغربية بالجفاف

❑ تمتاز الرياح الجنوبية الشرقية (الكوس) بأنها رطبة و دافئة



قارن بين كل من :

☆ ممكن أن يأتي السؤال بصيغ أخرى: **أكمل - اختياري**

الرياح	السموم	العواصف الترابية " السرايات "
المميزات		
الآثار		

علل - سقوط الأمطار في الكويت في أواخر الربيع وأوائل الصيف

اختر الإجابة الصحيحة :

الفترة الزمنية التي تهب فيها الرياح الشمالية الغربية على دولة الكويت

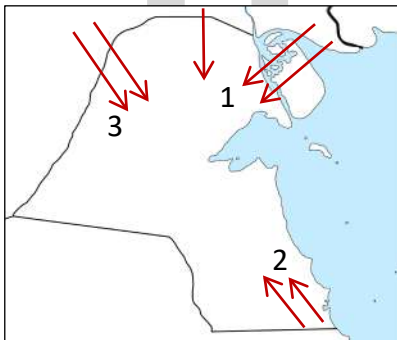
- وقت الظهيرة
○ فصل الصيف
○ أواخر الربيع وأوائل الصيف
○ معظم أيام السنة

الفترة الزمنية التي تهب فيها رياح السموم دولة الكويت

- وقت الظهيرة
○ فصل الشتاء
○ فصل الخريف
○ معظم أيام السنة

ظاهرة فُناخية تهب في أواخر الربيع وأوائل الصيف

- الشمالية الغربية
○ السموم
○ الكوس
○ العواصف الترابية



أمامك خريطة دولة الكويت اكتب الرقم الدال على العبارات التالية :

- رياح الكوس يمثلها الرقم _____
الرياح الشمالية الغربية يمثلها الرقم _____
رياح السموم يمثلها الرقم _____



صفوة معلمي الكويت

اكتب المفهوم العلمي الدال على العبارات التالية

☆ ممكن أن يأتي السؤال بصيغة أخرى: **عرف**

المفهوم	العبرة
	رياح تهب معظم أيام السنة وهي رياح تسبب انخفاض درجة الحرارة في فصل الصيف
	رياح رطبة دافئة تهب من الجنوب الشرقي تسبب رفع درجة الحرارة وزيادة الرطوبة في فصل الصيف
	رياح جافة جداً تهب وقت الظهيرة وتنخفض معها الرطوبة النسبية وذات درجات حرارة عالية
	تهب في أواخر الربيع وأوائل الصيف فتثير الغبار مصحوبة بعواصف رعدية يسقط بسببها المطر الشديد



تدرب و تفوق

اختبارات الكترونية ذكية



معالم الكويت الجغرافية

السكان


ا " لم تكن الكويت منذ القدم منطقة مهجورة أو خالية من السكان " - دلل على صحة العبارة .

☆ ممكن أن يأتي السؤال بصيغة أخرى: **أكمل**

ا علل - ارتباط أصول السكان في الكويت ارتباطاً وثيقاً بالتركيبة السكانية لشبه الجزيرة العربية

ا عرف - إقليم البحرين

ا عدد- عناصر البناء السياسي التي افتقدتها الكويت قبل نزول العتوب بها



❑ علل - أهمية السلطة في البناء السياسي لأي دولة

❑ أكمل - أحد عناصر البناء السياسي التي تضفي الطابع السياسي على المكان والرعية وتدير شؤونها وتحكمها ويدين لها الجماعات بالولاء والطاعة تسمى _____

أكمل العبارات التالية :

★ ممكن أن يأتي السؤال بصيغة أخرى: اختياري

❑ المعلومات السكانية لدولة الكويت في الفترات القديمة اقتصرت على _____

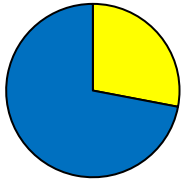
❑ العام الميلادي الذي جرى فيه أول تعداد سكاني في الكويت بشكل موثق _____

❑ أمير الكويت الذي جرى في عهده أول تعداد سكاني للكويت هو الشيخ _____

❑ الدائرة التي قامت بأول تعداد سكاني في الكويت تسمى _____

❑ نسبة عدد السكان من غير الكويتيين (الوافدين) من إجمالي عدد السكان 2141465 نسمة عام 1990م _____

❑ نسبة عدد السكان الكويتيين من إجمالي عدد سكان دولة الكويت عام 1990م _____



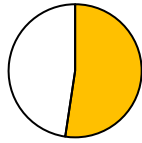
الكويتيين
الوافدين

اختر الإجابة الصحيحة :

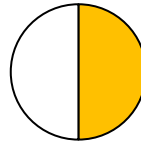
❑ نسبة عدد السكان من غير الكويتيين (الوافدين) في دولة الكويت عام 1990 م يمثلها الجزء المظلل في الدائرة التي تحمل الحرف _____



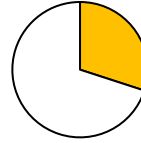
د



ج

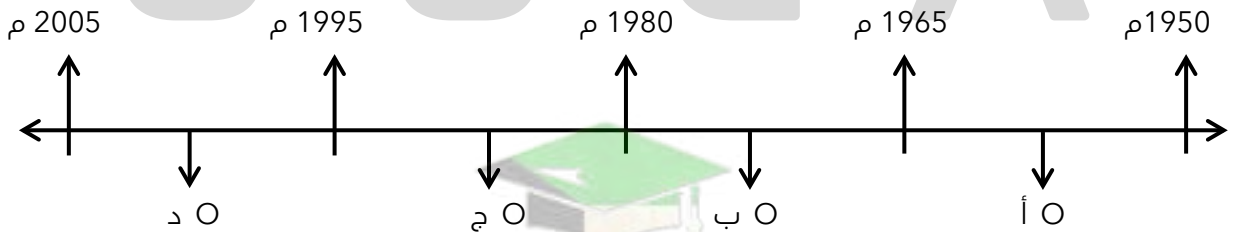


ب



أ

❑ فترة حكم الشيخ عبد الله السالم الصباح يمثلها على المخطط الزمني الحرف _____



تدرب و تفوق

اختبارات الكترونية ذكية



علل - تعرض وضع السكان في الكويت لتغيرات كبيرة في عام 1990 م

☆ ممكن أن يأتي السؤال بصيغ أخرى:
فند العبارة - استمر وضع السكان في الكويت دون تغير عام 1990 م
علل - قلة عدد الوافدين بعد 1990 م

علل - ما أثر الغزو العراقي لدولة الكويت عام 1990 م على عدد السكان

علل - ادرس الجدول المقابل لعدد السكان في دولة الكويت ثم أجب عن الأسئلة التالية:

الإجمالي	الوافدون	الكويتيون	العام

علل - أكمل : حاكم دولة الكويت عام 2014 م سمو الأمير الشيخ

علل - أكمل الجهة التي أصدرت الإحصائيات السكانية عام 2014 م تسمى

علل - استنتج حقيقة واحدة من الجدول



تدرب و تفوق

اختبارات الكترونية ذكية

U U L A





الأنشطة الاقتصادية قديماً

❑ " عُرِفَ المجتمع الكويتي قديماً قبل اكتشاف النفط أنه مجتمع بسيط " - دلال على صحة العبارة

❑ علل للتجارة دور مهم في انفتاح الكويت على الشعوب والثقافات المختلفة

❑ أكمل: الأساس الذي قام عليه اقتصاد المجتمع الكويتي البسيط الغوص و _____

❑ علل تميز النشاط الاقتصادي للمجتمع الكويتي القديم بالتنوع

❑ فرق بين الأنشطة الاقتصادية للمجتمع الكويتي قديماً

النشاط البري	النشاط البحري

❑ دلال- للنشاط البحري والبري أثر كبير في المجتمع الكويتي قبل عصر اكتشاف النفط

❑ عدد أهم الطرق التجارية القديمة

❑ علل- الأهمية الاقتصادية للخليج العربي قديماً

★ ممكن أن يأتي السؤال بصيغ أخرى:
علل- الخليج العربي حلقة اتصال ومحطة تبادل حضاري وإنساني لمختلف الشعوب التي استوطنت أراضيه-
علل- الخليج العربي أهم الطرق التجارية قديماً



عرف - طريق الحرير

اختياري : طريق الحرير أحد أهم الطرق التجارية الدولية في العالم القديم يبدأ من دولة :
○ الهند ○ الصين ○ إندونيسيا ○ عُمان ○

فرق بين مسارات طريق الحرير

طريق الحرير البري	طريق الحرير البحري

فرق بين كل من

الفرع الأول لطريق الحرير البحري	الفرع الثاني لطريق الحرير البحري

اختياري : الميناء الذي يبدأ منه طريق الحرير البحري

○ بومباي ○ شنغهاي ○ كانتون ○ مسقط ○

U U L A



لاحظ الخريطة التي أمامك ثم نفذ المطلوب منك بكل دقة



حدد مسار طريق الحرير البري بالرمز

حدد مسار طريق الحرير البحري بالرمز

عدد أسماء المسطحات التي يمر بها طريق الحرير البحري

أكمل : الذراع الشرقي للمحيط الهندي في شبه الجزيرة العربية يسمى



تدرب و تفوق

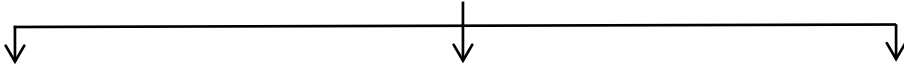
اختبارات الكترونية ذكية





الأنشطة الاقتصادية قديماً النشاط البحري

❏ عدد- أنواع الأنشطة الاقتصادية في دولة الكويت قديماً



علل لما يلي :

❏ اتجاه معظم السكان الكويتيين قديماً إلى العمل في النشاط البحري

☆ ممكن أن يأتي السؤال بصيغة أخرى:
علل - النشاط البحري هو النشاط السائد قديماً على الرغم من مشاركة النشاط البري

❏ لعب المناخ دوراً مهماً في اتجاه معظم السكان الكويتيين قديماً إلى العمل في النشاط البحري

❏ أكمل المخطط السهمي: أنواع الأنشطة الاقتصادية البحرية في الكويت قديماً



❏ علل - انتعشت حرفة صيد الأسماك في دولة الكويت قديماً

❏ أهم أنواع الأسماك في دولة الكويت



❏ عدد أهم طرق صيد الأسماك قديماً في دولة الكويت

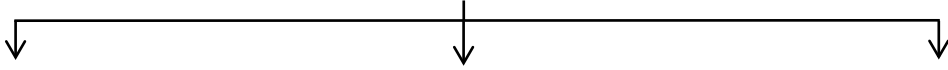


أكمل العبارات التالية :

☆ ممكن أن يأتي السؤال بصيغة أخرى: **عرف**

- طريقة من طرق صيد الأسماك قديماً في الكويت تصنع من القصب تسمى _____
- طريقة من طرق صيد الأسماك قديماً في الكويت بواسطة سنارة لوضع الطعام تسمى _____
- طريقة الصيد التي تتجمع فيها الأسماك حول سراج يحمله الصياد فيقوم بضربه بألة حادة تسمى _____

○ عدد أنواع سفن الصيد في دولة الكويت قديماً



○ عدد أماكن الصيد في دولة الكويت قديماً



○ عدد العوامل التي ساعدت على ازدهار صناعة السفن

○ علل - للموقع الجغرافي لدولة الكويت دور مهم في نشأة و تطور صناعة السفن

○ فسر - تمتع الكويت بواجهة بحرية طويلة ساعد في تطور صناعة السفن

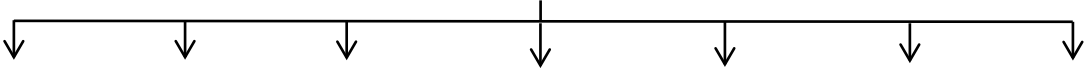
○ فرق بين كل من

☆ ممكن أن يأتي السؤال بصيغة أخرى: **عرف**

القلاف	الأستاذ	العمائر الساحلية



❏ عدد أنواع السفن في دولة الكويت قديماً



❏ " اعتزاز دولة الكويت بتراثها البحري " دال على صحة العبارة

❏ اكتب مدلول الصور التالية :



🎯 **تدرب و تفوق**

اختبارات الكترونية ذكية



❏ علل - أهمية البحر قديماً بالنسبة للكويتيين الأوائل



❏ علل- لعب البحر دور مهم في تشكيل طبيعة وشكل المجتمع الكويتي

❏ علل- ارتباط حرفة الغوص على اللؤلؤ بحياة الكويتيين ارتباطاً وثيقاً منذ التأسيس

أكمل العبارات التالية :

☆ ممكن أن يأتي السؤال بصيغ أخرى: **فرق - اختياري**

❏ أشهر حرفة مارسها أهل الكويت منذ نشأة بلدهم وحتى أوائل الخمسينات من القرن ٢٠ تسمى

❏ بداية موسم الغوص يسمى

❏ بداية موسم الغوص في دولة الكويت قديماً في شهر

❏ نهاية موسم الغوص تسمى

❏ انتهاء موسم الغوص في دولة الكويت قديماً في سبتمبر أو شهر



❑ الأماكن التي تكثر فيها منابت المحار المحتوي على اللؤلؤ تسمى _____

❑ من أهم مسميات اللؤلؤ في دولة الكويت قديماً دانة و _____

❑ الحرفة الموسمية التي ضمت أغلب رجال الكويت وشبابها تسمى _____

❑ اكتب عن دور البحارة في حرفة الغوص على اللؤلؤ

❑ عدد أشهر السفن المستخدمة في الغوص على اللؤلؤ

علل لما يلي :

★ ممكن أن يأتي السؤال بصيغة أخرى: **اختياري**

❑ كساد تجارة الغوص على اللؤلؤ في الكويت

❑ إصدار الشيخ أحمد الجابر الصباح قانون الغواصين عام ١٩٤٠ م

❑ دلل على اهتمام الشيخ أحمد الجابر الصباح بحرفة الغوص على اللؤلؤ

❑ عرف - قانون الغواصين

❑ عدد أهم المهن التي اشتهر بها العاملون على سفن الغوص



❑ عرف - النوخذة

عدد الصفات التي يجب أن تتوافر في النوخة



عرف المفاهيم التالية :

☆ ممكن أن يأتي السؤال بصيغ أخرى: فرق - أكمل - اختياري

المجدي

الغيص

السيب

النهام

الرضيف

الطواش

اختياري : صاحب الحق في إعطاء إذن للبحارة بمغادرة السفينة هو :


الطواش ○

النوخذة ○

النهام ○

المجدي ○

العاملون في حرفة الغوص



دلل على صحة العبارة " حرفة الغوص لها تأثير على أهل الكويت "



تدرب و تفوق

اختبارات الكترونية ذكية





أكمل : الركن الأساسي للاقتصاد الكويتي قديماً يسمى _____

علل لما يلي

أخذ الكويتيون بأسباب التجارة

الكويت من المراكز المهمة في التجارة الدولية

جذب الكويت المزيد من التجارة والتجار لموانئها

إقرار الرسوم الجمركية في الكويت

عرف - الترانزيت

أكمل العبارات التالية :

★ يمكن أن يأتي السؤال بصيغ أخرى: **اختياري - عرف**

العام الميلادي الذي تأسست فيه دولة الكويت _____

بداية موسم السفر يسمى _____

بداية الدشة (موسم السفر) تكون في شهر _____

نهاية موسم السفر يسمى _____

نهاية موسم السفر (الإغلاق) في شهر _____

ينتهي موسم السفر مع هبوب رياح تعرف محلياً باسم _____

موسم السفر كان يبدأ بتوجه السفن إلى _____

علل - إغلاق موسم السفر في شهر مايو

" جال الأسطول الكويتي التجاري مياه الخليج العربي والمحيط الهندي والبحر الأحمر " دلل على صحة العبارة

❑ فند - لم يتخذ حكام الكويت قديماً أي قرارات تساعد على النمو التجاري والاقتصادي

☆ ممكن أن يأتي السؤال بصيغ أخرى: عدد - الإجراءات التي اتخذتها السلطات الكويتية للاهتمام بالتجارة

❑ عدد- النتائج المترتبة على الإجراءات التي اتخذتها السلطات الكويتية للاهتمام بالتجارة

❑ علل - عمدت السلطة في الكويت قديماً على عدم رفع الضرائب والمكوس

علل :

❑ اهتمام السلطة الكويتية بالتجارة البرية والنقل البري

❑ شكلت التجارة البرية عنصراً مكملاً للنشاط التجاري البحري

❑ عدد أهم الواردات المحملة على السفن الكويتية



تدرب و تفوق

اختبارات الكترونية ذكية





الأنشطة الاقتصادية قديماً النشاط البري

٥- علل- التكامل بين النشاطين البري والبحري يمثل وجهاً لهذا المجتمع البسيط

٥- عدد- أنواع النشاط البري



أكمل العبارات التالية :

- ٥ الحرفة الأساسية لسكان البادية في دولة الكويت هي _____
- ٥ ترتبط حرفة الرعي في دولة الكويت بشكل أساسي بموسم _____
- ٥ تعتمد حرفة الرعي في دولة الكويت على نباتات موسمية مثل _____ و _____
- ٥ تعتمد حرفة الرعي على نباتات معمرة مثل _____ و _____
- ٥ صنف النباتات التالية حسب الجدول التالي
الحمض - جويضان - الثندا - الربلة

نباتات معمرة	نباتات موسمية

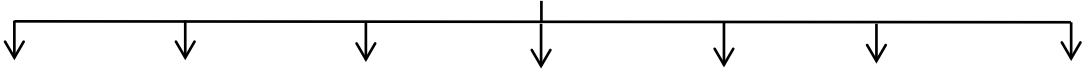
٥- علل- تراجع حرفة الرعي في دولة الكويت في وقتنا الحالي

٥- عدد - الصعوبات التي تواجه الزراعة في دولة الكويت قديماً

٥- برهن - نجاح الكويتيين في التكيف مع البيئة قديماً وامتهان الزراعة

☆ ممكن أن يأتي السؤال بصيغة أخرى: عدد الوسائل التي استخدمها الكويتيون لاحتراق مهنة الزراعة قديماً

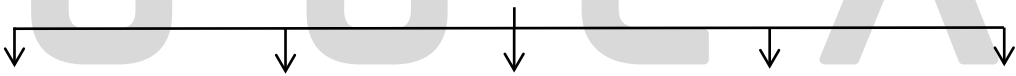
عدد أهم المناطق الزراعية في الكويت قديماً



عدد - أهم المحاصيل التي تزرع في الكويت قديماً

أكمل : أشجار استخدمها الكويتيون قديماً كمصدات للرياح تسمى _____

عدد النباتات البرية المهمة التي تنمو في الكويت



تدرب و تفوق

اختبارات الكترونية ذكية



الأنشطة الاقتصادية قديماً الحرف اليدوية

❏ علل - أهمية الحرف اليدوية في الكويت قديماً

❏ عدد المهن الحرفية القديمة في الكويت



❏ قارن بين كل من

أهم الأعمال	التعريف	الحرفة
		النجار
		الحداد
		الصفار
		التناك
		القفاص
		السدو


❏ فرق بين كل من

☆ ممكن أن يأتي السؤال بصيغ أخرى: أكمل - عرف - اختياري

النداف	الحيك

المفهوم	التعريف
الصخين	
المنز	
الرك	
العدول (العدل)	
المزاود	

اكتب مدلول الصور



صنف الكلمات التالية حسب الجدول
الأبواب - السكاكين - التنك - الرك - العدول - خياطة الملابس

الحداد	النجار	القصاص	التناك	الحياك	السدو



تدرب و تفوق

اختبارات الكترونية ذكية



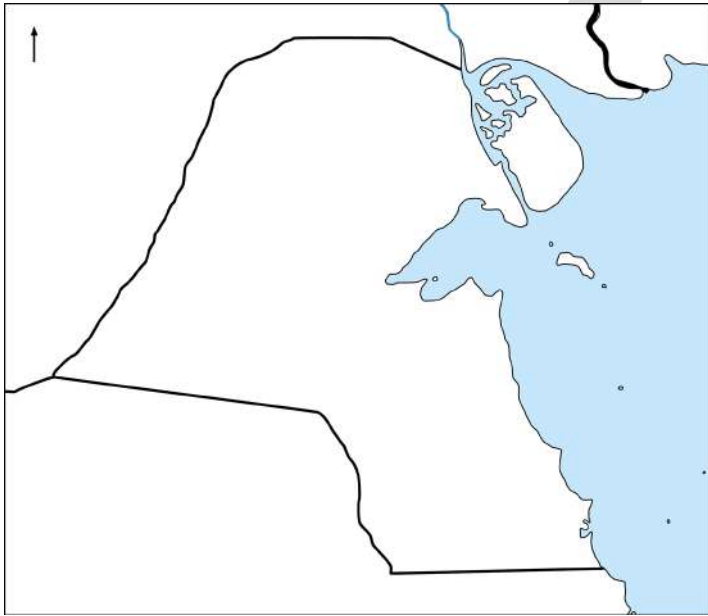


المعالم الحضارية لدولة الكويت

ع - علل - لعبت دولة الكويت دوراً مهماً في التواصل الحضاري ما بين حضارات شمال الخليج وجنوبه

ع - دلل - تشير الدراسات الأثرية رصد آثار الإنسان القديم في مناطق مختلفة من أرض الكويت

لاحظ خريطة دولة الكويت ثم نفذ المطلوب منك بكل دقة



ع - ظلل جزيرة فيلكا

ع - حدد المواقع التاريخية (منطقة تل وارة - سهل برقان - الصبية - كاظمة)

ع - عدد - أهم مراحل التطور الحضاري لدولة لكويت قديماً

ع " لمنطقة الصبية قيمة وأهمية أثرية كبيرة " دلل على صحة العبارة

☆ ممكن أن يأتي السؤال بصيغة أخرى: عدد أهم اثار حضارة العبيد الموجودة في منطقة الصبية



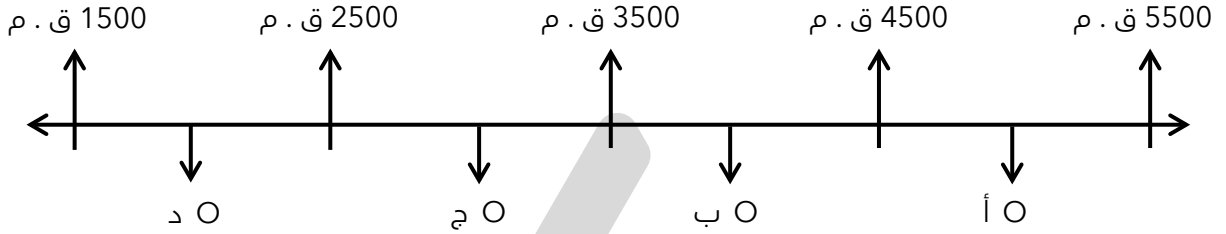
أكمل العبارات التالية :

★ ممكن أن يأتي السؤال بصيغة أخرى: اختياري

- ❑ يرجع تاريخ أقدم الحفريات الجيولوجية في منطقة الصبية إلى الفترة ما بين _____ مليون سنة
- ❑ الحضارة التي برهنت على استقلال منطقة الصبية عن حضارة بلاد الرافدين تسمى _____
- ❑ الصورة المقابلة تمثل أقدم قارب في منطقة الخليج العربي يسمى _____



❑ اختياري : حضارة العبيد على المخطط السهمي يمثلها الحرف



تدرب و تفوق

اختبارات الكترونية ذكية



❑ عدد - أهم الاكتشافات في جزيرة أم النمل

اختر الإجابة الصحيحة :

- ❑ وقعت أرض الكويت في فلك الحضارة الإغريقية في النصف الثاني من :
 - الألف الأول ق . م
 - الألف الثاني ق . م
 - الألف الثالث ق . م
 - الألف الرابع ق . م

❑ تمثال الطين المحروق في جزيرة أم النمل ينتمي للحضارة :

- العبيد
- الإغريقية
- دلمون
- بلاد الرافدين

❑ الدلائل التي كشفت عن الحضارة الإغريقية في الكويت في جزيرتي :

- عوهه و وربة
- أم النمل و فيلكا
- بوبيان و مسكان
- أم المرادم و فيلكا

❑ " لا توجد دلائل على الوجود الإغريقي في جزيرة فيلكا " فند العبارة



أكمل العبارات التالية :

- ❑ استمر الوجود الإغريقي على جزر جون الكويت حتى بداية القرن _____
- ❑ بدأت أعمال التنقيب الأثري في جزيرة فيلكا عام _____



تدرب و تفوق

اختبارات الكترونية ذكية

أكمل العبارات التالية :

- ❑ أقدم آثار جزيرة فيلكا ترجع لحضارة تسمى _____
- ❑ لعبت جزيرة فيلكا دوراً رئيسياً في منطقة الخليج خلال الألفين الثالث و _____
- ❑ جزيرة فيلكا مركزاً من مراكز حضارة تسمى _____
- ❑ الحضارة التي لعبت دور الوسيط التجاري بين حضارات الهند وبلاد الرافدين تسمى _____
- ❑ علل- لعبت جزيرة فيلكا دوراً رئيسياً في منطقة الخليج العربي خلال الألفين الثالث والثاني قبل الميلاد

★ يمكن أن يأتي السؤال بصيغة أخرى:
علل- الكويت همزة وصل بين حضارة بلاد الرافدين شمالاً وحضارة بلاد السند جنوباً

- ❑ عدد أبرز آثار حضارة دلمون في جزيرة فيلكا

- ❑ عدد استخدامات الختم الدلموني

- ❑ علل - تنوع الأهمية الأثرية في جزيرة فيلكا



تدرب و تفوق

اختبارات الكترونية ذكية



❏ " صبغت الكويت بصبغة إسلامية منذ ظهور الإسلام " دال على صحة العبارة

❏ أكمل الجدول التالي :

★ ممكن أن يأتي السؤال بصيغ أخرى: **أكمل - اختياري**

معركة ذات السلاسل	
	العام الهجري
	مكان المعركة
	الأطراف
	النتيجة

❏ **أكمل العبارات التالية :**

- ❏ العام الهجري الذي وقعت فيه معركة ذات السلاسل بين الفرس والمسلمين _____
- ❏ العام الهجري المؤرخ على العملات الأموية المكتشفة في الكويت _____
- ❏ منطقة الشقايا ووادي الباطن تقع على طريق قديماً يسمى _____

❏ اكتب مدلول الصور التالية



❑ فرق بين أهم الأثار في المناطق التالية

الصبية	أم النمل	فيلكا	كاظمة	أم العيش	الشقايا ووادي الباطن

اختياري :

❑ مراحل التطور الحضاري لدولة الكويت من الأقدم إلى الأحدث

- العُبيد - الدلمونية - الأغريرية - الإسلامية
- الدلمونية - العُبيد - الإسلامية - الإغريقية
- الإغريقية - العُبيد - الدلمونية - الإسلامية

أكمل العبارات التالية

❑ العام الميلادي الذي تم فيه آخر اكتشاف أثري في دولة الكويت

❑ المنطقة التي تم فيها آخر اكتشاف أثري في دولة الكويت تسمى



تدرب و تفوق

اختبارات الكترونية ذكية

U U L A





نشأة الكويت 1613م

أكمل العبارات التالية :

☆ ممكن أن يأتي السؤال بصيغة أخرى: اختياري

- ❑ جاءت تسمية كويت من تصغير كلمة تسمى _____
- ❑ القلعة أو الحصن الصغير يسمى _____
- ❑ أطلق مؤرخو الجزيرة العربية على الحصون المتعددة ذات القلاع والأسوار اسم _____
- ❑ بعد اختيار الحاكم من آل صباح بدأت الكويت مسماها الجديد انتهاء الكوت إلى _____
- ❑ المرتفع أو التل الصغير يسمى _____
- ❑ اسم كان يطلق قديماً في الكويت على مرتفع بهيئة القريب من قصر السيف يسمى _____
- ❑ المرتفع الذي نشأت حوله وفوقه مدينة الكويت ويقع بالقرب من قصر السيف يسمى _____
- ❑ عرف المفاهيم التالية

المفهوم	التعريف
الكوت	
القرن	
القرين	
مرتفع بهيئة	

❑ عدد الأسماء التي أطلقت على الكويت قديماً

U U L A

علل لما يلي :

❑ تسمية الكويت بهذا الاسم

❑ بناء القلاع قديماً في الكويت



تدرب و تفوق

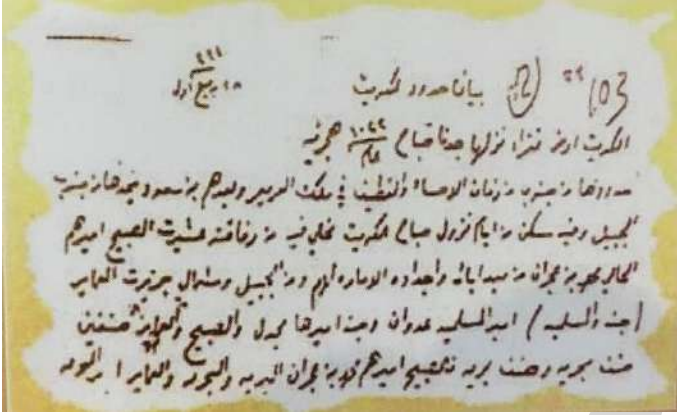
اختبارات الكترونية ذكية



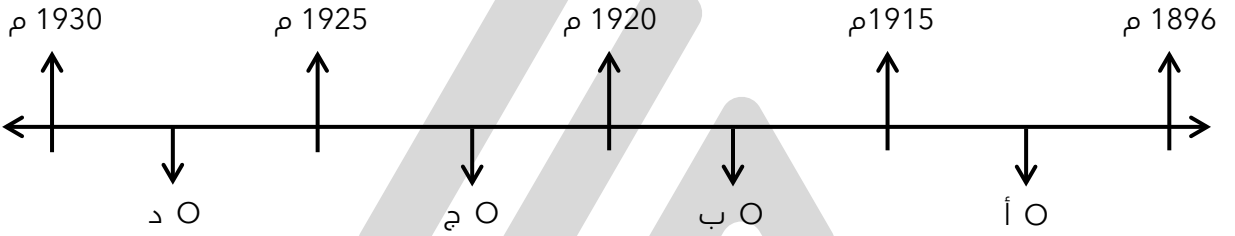
أكمل : العام الميلادي الذي نشأت فيه الكويت هو _____

دلل " نشأة الكويت في عام 1613 م "

اكتب مدلول الصورة المقابلة



اختياري : الفترة الزمنية التي تمثل فترة حكم الشيخ مبارك الصباح



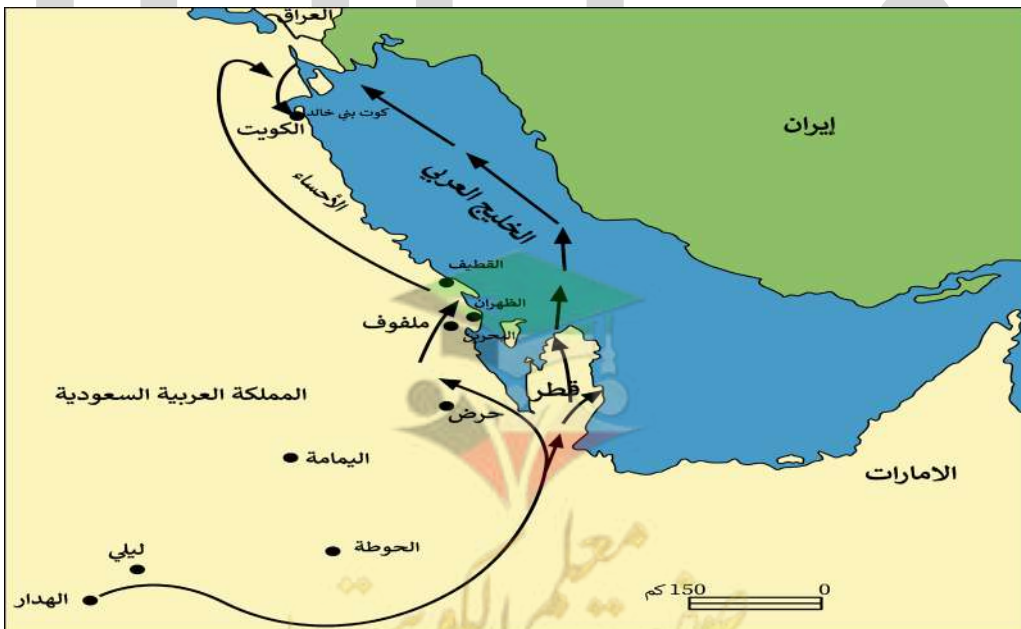
أكمل العبارات التالية :

مجموعة أسر ذات ارتباط قبلي متمائل نزوحاً من منطقة الهدار ليستقروا بالقرب من منطقة حصن الكوت عرفوا باسم _____

المنطقة التي خرجت منها العتوب في شبه الجزيرة العربية تسمى _____

القبيلة التي دخلوا في حمايتها العتوب تسمى _____

قبل انتهاء الكوت إلى العتوب كان تحت سيطرة قبيلة تسمى _____



عدد النتائج المترتبة على وقوع الكوت تحت حماية قبيلة بني خالد

عدد سمات وخصائص المجتمع الجديد في منطقة الكوت

عدد خطوات تنظيم المهاجرون لشؤون مجتمعهم الجديد (الكوت)

علل - اختيار صباح الأول حاكماً للمجتمع الجديد

عرف المفاهيم التالية

العتوب

قبيلة عنزة

أكمل - أبرز القبائل التي تنتمي لها عشائر العتوب تسمى _____

عدد أسباب هجرة العتوب

أكمل ما يلي :

أول حاكم في تاريخ الكويت يسمى _____

المنطقة التي كان تسوطنها العتوب بشبه الجزيرة العربية تسمى _____

مساكن العتوب في نجد تسمى _____

عدد - أشهر الأسر التي تنتمي للعتوب

فسر- تسمية العتوب بهذا الاسم



أكمل : الدولة التي شكلت محطة الاستقرار الأولى بالنسبة للعتوب هي _____

علل - شكلت قطر محطة الاستقرار الأولى بالنسبة للعتوب

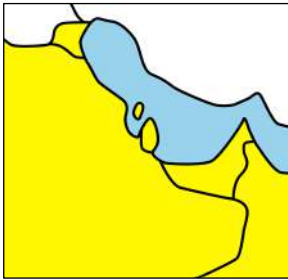
أكمل العبارات التالية :

المنطقة التي استقر فيها العتوب في قطر بالقرب من الزبارة تسمى _____

استقر العتوب في منطقة الفريحة بقطر لمدة _____

" قبائل العتوب تعلموا أنشطة جديدة في منطقة الفريحة " (عددها)

علل - هجرة العتوب من قطر



لاحظ الخريطة التي أمامك ثم أجب عما يليها من أسئلة

ارسم أسهم على الخريطة المقابلة توضح (خط سير هجرة العتوب) من موطنهم الأصلي (الهدار) إلى محطة الاستقرار الأولى (قطر)



من خلال الخريطة التي أمامك : أذكر خط سير هجرة العتوب إلى الكويت

عدد النتائج المترتبة - على حدوث الخلاف بين العتوب وآل مسلم حكام قطر





اختيار آل صباح لحكم الكويت

دلل على صحة العبارة " الكويت لم يحكمها أجنبي عن القوم الذين أسسوها ولم ينفرد بالأمر والنهي فيها أحد سواهم "

عدد - الخصائص السياسية للكويت ومظاهر السيادة في البدايات الأولى بعد التأسيس

اقرأ ثم أجب عما يلي :

دخلت ثلاث أسر عربية ذات شأن هي آل صباح وآل جلاهمة وآل خليفة تحدوهم عوامل المصلحة والطموح في التحالف واستقرت على بقعة من الأرض على الساحل الشمالي الغربي من الخليج تسمى الكويت.

من القائل

عدد أسباب اختيار الشيخ صباح الأول للحكم

☆ ممكن أن يأتي السؤال بصيغة أخرى: علل اختيار الشيخ صباح الأول للحكم

علل- اختيار الكويتيين هذه المنطقة رغم البيئة الصحراوية الطاردة

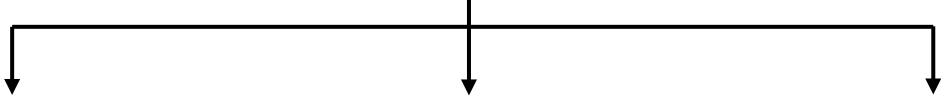
عدد - صفات المجتمع الكويتي الوليد في عهد الشيخ صباح الأول

أكمل العبارات التالية :

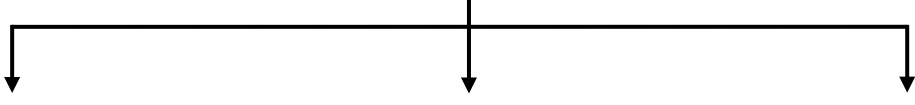
حاكم الكويت الذي أصبحت في عهده الكويت مركز جذب سكاني يسمى _____
حاكم الكويت الذي بدأت في عهده تتحدد بقية التراتيب التنظيمية للمجتمع الكويتي الجديد يسمى _____

علل- خروج الهجرات الفردية من الصحراء المحيطة (البادية) إلى الكويت

٥ أكمل المخطط السهمي تقسيم المهام بين الأسر الثلاث الكبيرة



٥ عدد مراحل تأسيس الحكم لآل صباح



٥ اختياري المرحلة التي شهدت اختيار آل الصباح لحكم الكويت وانتهاء التحالف الثلاثي
○ المرحلة الأولى ○ المرحلة الثانية ○ المرحلة الثالثة

٥ أكمل : قبيلة امتدت نفوذها من قطر جنوباً حتى حدود البصرة شمالاً بمحاذاة ساحل الخليج العربي تسمى

٥ عدد - النتائج المترتبة على ارتباط الكويت بنفوذ بني خالد

٥ عدد - التهديدات والأخطار المحيطة بالإمارة الوليدة (الكويت)

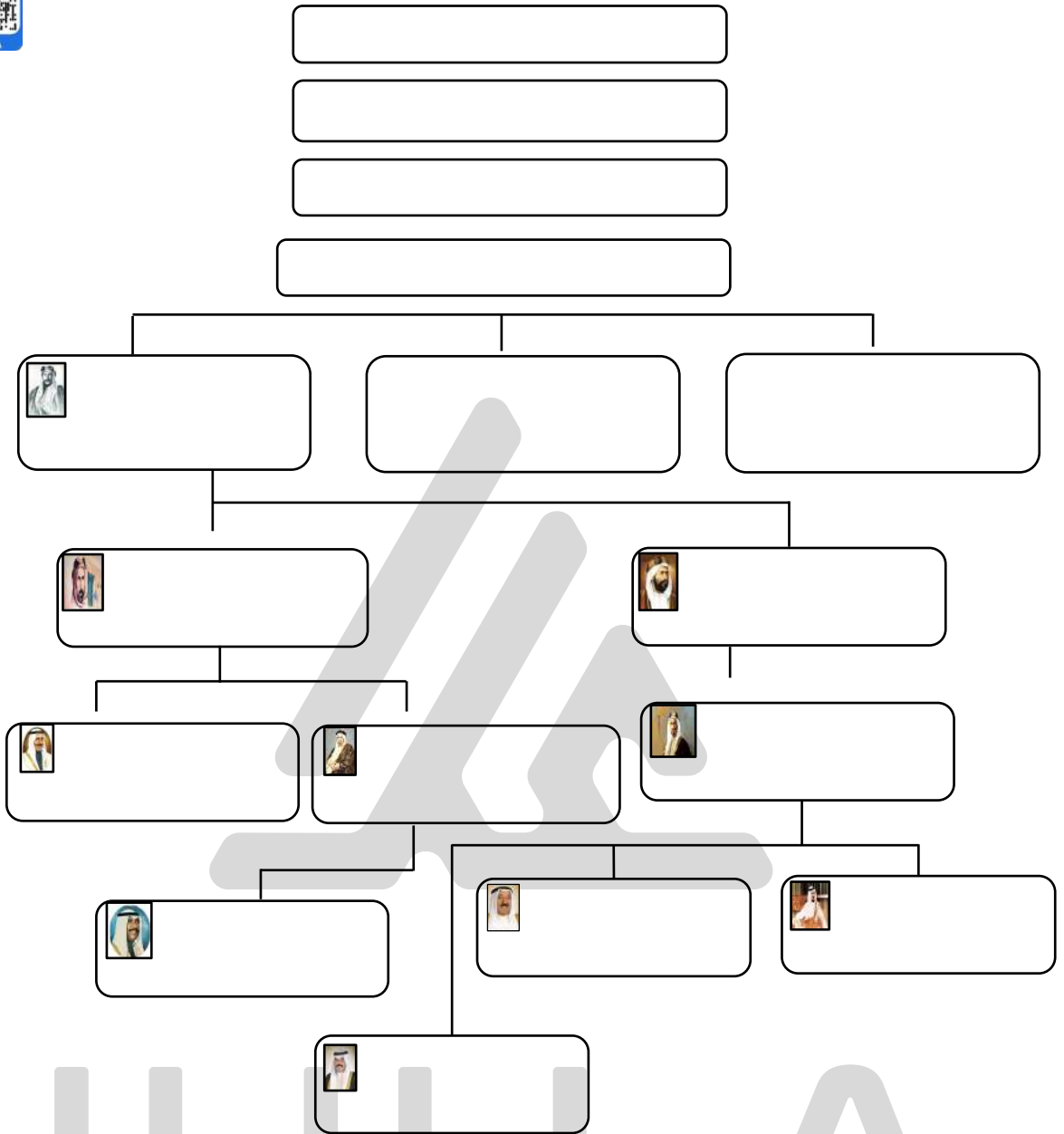
٥ دلل على صحة العبارة - " التهديدات والأخطار المحيطة بالإمارة الوليدة (الكويت) كانت لها أثر إيجابي "

☆ ممكن أن يأتي السؤال بصيغة أخرى:
الصراع بين العثمانيين وبني خالد من جهة والسعوديين وبني خالد من جهة أخرى له أثر إيجابي على الإمارة الوليدة



تدرب و تفوق

اختبارات الكترونية ذكية



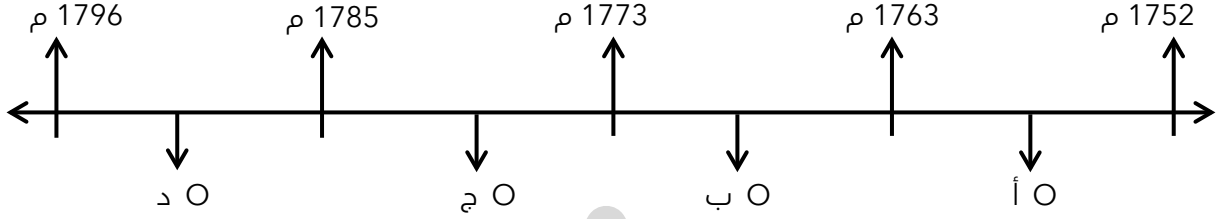
U U L L A A



الحاكم الأول : الشيخ صباح الأول بن جابر (1752 م - 1763 م)

أكمل : الحاكم الأول للكوييت يسمى الشيخ _____

اختياري : الحرف الذي يمثل فترة حكم الشيخ صباح الأول على المخطط الزمني التالي :



علل - يعد اختيار صباح الأول البداية الحقيقية لظهور الكويت كياناً سياسياً منظماً

★ ممكن أن يأتي السؤال بصيغ أخرى:
عدد أهم الأحداث التي وقعت في عهد الشيخ صباح الأول
عدد الأسباب التي جذبت المهاجرين إلى الكويت في عهد الشيخ صباح الأول



تدرب و تفوق

اختبارات الكترونية ذكية

U U L A

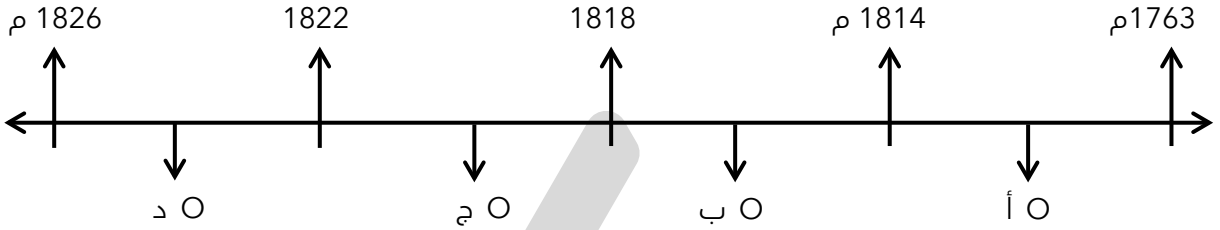




الحاكم الثاني الشيخ عبدالله الأول بن صباح بن جابر (1763 م - 1814 م)

أكمل : الحاكم الثاني للكويت يسمى الشيخ _____

اختياري : الحرف الذي يمثل فترة حكم الشيخ عبد الله الأول على المخطط الزمني التالي



عدد - صفات الشيخ عبد الله الأول بن صباح

عدد - المناطق التي وصلت إليها تجارة الكويت في عهد الشيخ عبد الله الأول

عدد - أهم الأحداث التي وقعت زمن الشيخ عبد الله الأول

أكمل ما يلي :

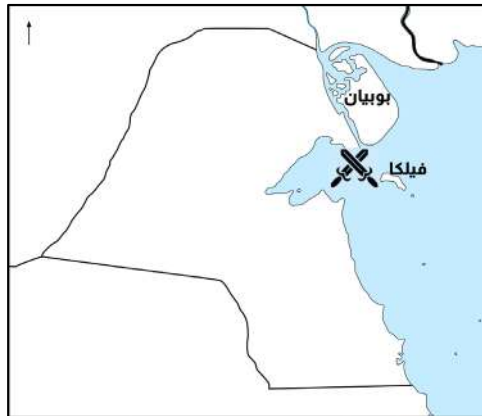
العام الميلادي الذي وقعت فيه معركة الرقة هو _____

أول معركة بحرية في تاريخ إمارة الكويت تسمى _____

محل معروف بقرب جزيرة فيلكا الكويتية يسمى _____

أول امتحان حقيقي لقوة الكويت وقدرتها على الدفاع عن نفسها
معركة تسمى _____

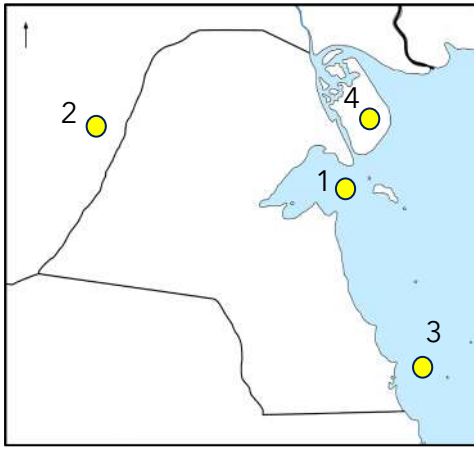
عدد - أسباب معركة الرقة البحرية



معركة الرقة البحرية



صفوة معلمي الكويت



- اختياري : تعرضت البصرة لنكبات على يد الفرس في الفترة من
- (1775 - 1779 م) (1776 - 1777 م)
- (1774 - 1778 م) (1775 - 1778 م)

أكمل : القوة البحرية التي تمتلك أكبر الأساطيل وأقواها بشمال الخليج في عام ١٧٨٣ م تسمى _____

- اختياري : معركة الرقة البحرية على الخريطة المقابلة يمثلها الرقم
- 1 2
- 3 4

عدد - نتائج معركة الرقة البحرية

علل - نصب الكويتيون المدافع على الشاطئ بعد معركة الرقة

أكمل الجدول التالي

معركة الرقة	
	السنة
	الأطراف
	الأسباب
	النتائج

أكمل ما يلي :

حاكم الكويت الذي تم في عهده بناء السور الأول يسمى _____

العام الميلادي الذي تم فيه بناء سور الكويت الأول _____

علل - بناء سور الكويت الأول عام 1797 م



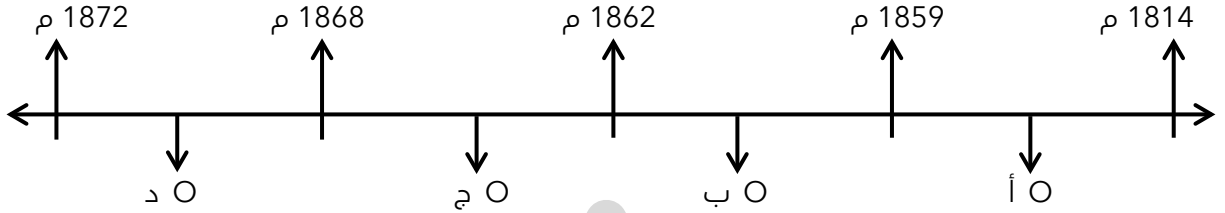
تدرب و تفوق

اختبارات الكترونية ذكية



الحاكم الثالث : الشيخ جابر الأول بن عبد الله الصباح : 1814 م - 1859 م

اختياري : الحرف الذي يمثل فترة حكم الشيخ جابر الأول على المخطط الزمني التالي :



صف أحوال الكويت قبل وفاة الشيخ عبد الله الأول بن صباح



أكمل العبارات التالية :

- تولى الشيخ جابر الأول حكم الكويت بعد وفاة أبوه الشيخ _____
- الدولة التي كان يوجد بها الشيخ جابر الأول عند وفاة والده الشيخ عبد الله الأول هي _____
- العام الميلادي الذي تم فيه تولي الشيخ جابر الأول حكم الكويت _____
- حاكم الكويت الثالث الذي اشتهر بجابر العيش هو الشيخ _____

عدد سمات وصفات الشيخ جابر الأول

علل - الشيخ جابر الأول بن عبد الله الصباح اشتهر بجابر العيش

اقرأ ثم أجب :

كان حليماً كريماً يضرب بكرمه المثل لكثرة ما يتصدق به على الفقراء والمساكين " وكان يطبخ الأرز للفقراء وله عريش قرب بيته يجتمعون فيه ويقدم لهم الطعام "

من المقصود بالعبارة

علام تدل هذه العبارة

أكمل ما يلي :

٥ العام الميلادي الذي قام فيه الكابتن البريطاني ج. بروكس برحلته للخليج _____

٥ عمر الشيخ جابر الأول عند زيارة الكابتن البريطاني للخليج في عام 1830 م حوالي _____

٥ عدد - أهم كتابات ج. بروكس عن الشيخ جابر بن عبد الله عام 1830 م _____

اقرأ ثم أجب :

٥ إن لأهل الكويت علينا حقاً عظيماً، ولو كانت تحت يدي ثروة طائلة لقمتم بحاجة الفقراء والمحتاجين منها إلى أن يموتوا

٥ من القائل _____

٥ عدد - أهم أعمال الشيخ جابر الأول _____

☆ ممكن أن يأتي السؤال بصيغة أخرى: **أكمل**

٥ عدد مطالب نائب المقيم السياسي البريطاني في الخليج من الشيخ جابر الأول _____

علل :

٥ رفض الشيخ جابر الأول طلبات المقيم السياسي البريطاني _____



٥ تعد فترة حكم الشيخ جابر الأول فترة ازدهار بحري لإمارة الكويت _____

تدرب و تفوق

اختبارات الكترونية ذكية

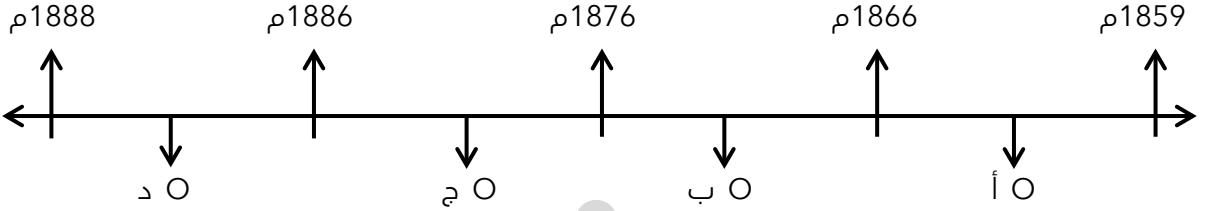


صفوة معلمي الكويت



حكام الكويت (الرابع - الخامس - السادس)

اختياري : الفترة الزمنية التي تمثل حكم الشيخ صباح الثاني بن جابر :



أكمل ما يلي :

حاكم الكويت الرابع الذي تقدمت التجارة في عهده يسمى _____

حاكم الكويت الرابع الذي ألغى الرسوم احتراماً لرغبة أبناء شعبه يسمى _____

علل - تقدمت التجارة في عهد الشيخ صباح الثاني بن جابر بشكل كبير

أكمل ما يلي :

المعتمد البريطاني في الخليج الذي زار الكويت عام 1865 م والذي أشاد بالتقدم الاقتصادي والتجاري الذي حققته الكويت يسمى _____

العام الميلادي الذي زار فيه المعتمد البريطاني في الخليج " لويس بيبي " دولة الكويت هو _____

اقرأ ثم أجب عما يلي :

احتفظت الكويت بعهده باستقلالها دوماً حتى في الوقت الذي خضعت فيه هرمز ومسقط والبحرين والاحساء لحكم الأجنبي ، وإن أهل الكويت أكثر أهل الخليج حباً للحرية والإقدام

الفائل

المناسبة

عدد :

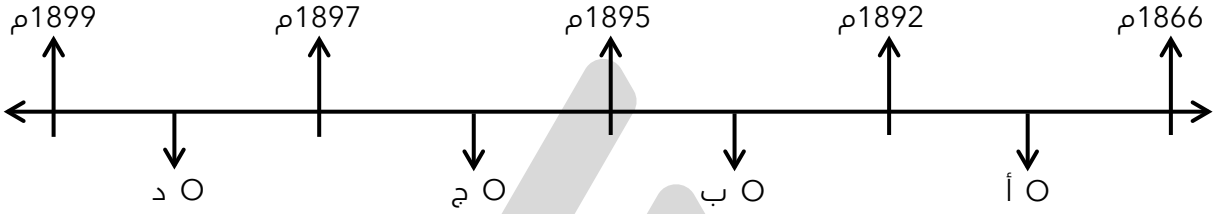
أهم الزيارات المهمة التي حدثت في عهد الشيخ صباح الثاني بن جابر

أهم الأعمال والأحداث في عهد الشيخ صباح الثاني بن جابر



الحاكم الخامس : الشيخ عبدالله بن صباح الثاني (1866م - 1892 م)

اختياري : الفترة الزمنية التي تمثل حكم الشيخ عبد الله بن صباح الثاني :



عدد - صفات الشيخ عبد الله بن صباح الثاني

أكمل : العام الميلادي الذي ساعد فيه الشيخ عبد الله بن صباح الثاني حملة مدحت باشا على إقليم الإحساء

عدد أهم الأحداث في عهد الشيخ عبد الله بن صباح الثاني

ممكن أن يأتي السؤال بصيغة أخرى:
عدد المساعدات التي قدمها الشيخ عبد الله بن صباح الثاني لحملة مدحت باشا عام 1871 م

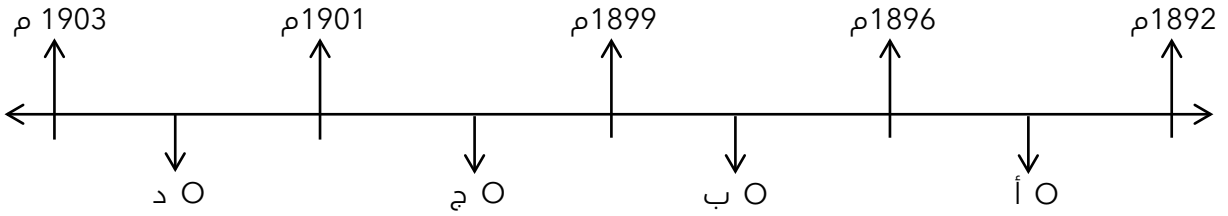
أكمل : الوالي العثماني الذي ذكر في مذكراته أن السفن الثمانية التي نقلت المؤن الحربية كانت تابعة لحاكم الكويت يسمى _____





الحاكم السادس : الشيخ محمد بن صباح (1892م - 1896م)

اختياري : الفترة الزمنية التي تمثل حكم الشيخ محمد بن صباح :



عدد - صفات الشيخ محمد بن صباح

أكمل ما يلي :

- حاكم الكويت الذي ساعده في الحكم أخواه الشيخان جراح ومبارك يسمى _____
- الشيخ الذي تولي الشؤون المالية في عهد الشيخ محمد بن صباح يسمى _____
- الشيخ الذي تولي شؤون البادية والجيش في عهد الشيخ محمد بن صباح يسمى _____
- العام الميلادي الذي استقبل فيه الشيخ محمد بن صباح أسرة الأمير عبد الرحمن آل سعود _____
- مؤسس الدولة السعودية الثالثة يسمى _____
- أذكر الحدث السياسي في عهد الشيخ محمد بن صباح الثاني _____

اختر للمجموعة (أ) ما يرتبط بها من المجموعة (ب) بوضع الرقم المناسب :

م	المجموعة (أ)	الرقم المناسب	المجموعة (ب)
1	تقدمت التجارة في عهده بشكل كبير وألغى الرسوم احتراماً لأبناء شعبه		الشيخ عبد الله الأول
2	ساعد العثمانيين في حملة " مدحت باشا " على إقليم الإحساء عام 1871م		الشيخ صباح الثاني بن جابر
3	وقعت معركة الرقة في عهده عام 1783 م		الشيخ عبد الله بن صباح الثاني
4			الشيخ جابر الأول



تدرب و تفوق

اختبارات الكترونية ذكية



النمو التجاري و الاقتصادي للكويت تحت حكم آل صباح

عدد أهم القرارات التي اتخذها حكام الكويت و ساعدت على النمو التجاري والاقتصادي للكويت

☆ ممكن أن يأتي السؤال بصيغة أخرى: **فند**

أكمل العبارات التالية :

العام الميلادي الذي انتقلت فيه الوكالة البريطانية من البصرة إلى الكويت للمرة الأولى هو _____

العام الميلادي الذي انتقلت فيه الوكالة البريطانية من البصرة إلى الكويت للمرة الثانية هو _____

عدد - النتائج المترتبة على اهتمام حكام الكويت بالنمو التجاري والاقتصادي للكويت

شرح ما العلاقة بين الاستقرار الأمني والازدهار التجاري

علل - نمو وازدهار الكويت في ظل حكم آل صباح

☆ ممكن أن يأتي السؤال بصيغة أخرى: **عدد عوامل**

U U L A A

علل - لعب الموقع الاستراتيجي للكويت دوراً في نمو و ازدهار دولة الكويت تحت حكم آل صباح

عرف - تجارة المسابرة



❑ علل - تجارة المسابرة لها دوراً في نمو وازدهار الكويت

❑ علل - النظام الاقتصادي الدقيق لعب دوراً في نمو وازدهار الكويت

دلل على صحة العبارة :

❑ " هوية الكويت تشكلت مبكراً منذ عملية التأسيس على يد العتوب "

❑ علل - عملية تأسيس الكويت مثلت نموذجاً مختلفاً

☆ ممكن أن يأتي السؤال بصيغة أخرى: **فسر**

❑ اكتب فقرة تاريخية مترابطة مستعيناً بالكلمات الآتية
(هوية الكويت - العتوب - النواة الأولى - حكم آل صباح)



تدرب و تفوق

اختبارات الكترونية ذكية





التنافس الاستعماري الأوروبي على منطقة الخليج العربي من القرن 16 - 19 م

اختياري : سعى الأوروبيون بداية بالبرتغاليين للسيطرة على الخليج العربي في مطلع القرن

○ الخامس عشر

○ السابع عشر

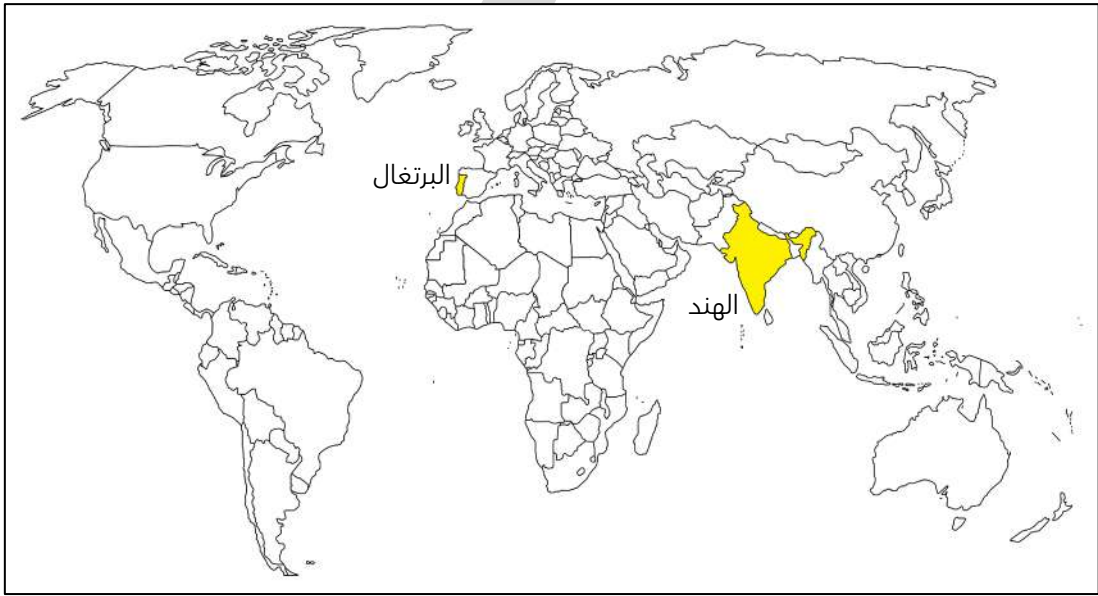
○ الرابع عشر

○ السادس عشر

أكمل العبارات التالية :

أول دولة أوروبية سعت للسيطرة على الخليج العربي في مطلع القرن السادس عشر هي _____

دولة تعد مركزاً للتوابل في جنوب شرق آسيا تسمى _____



علل - لعب البرتغاليون والهولنديون دوراً مهماً في تاريخ الاستعمار الأوروبي للخليج العربي في مطلع القرن السادس عشر

عدد دوافع قيام حركة الكشوف الجغرافية

أولاً: البرتغاليون

أكمل : أسوأ النظم الاستعمارية في الخليج العربي يسمى _____

ع -السيطرة البرتغالية من أسوأ النظم الاستعمارية في الخليج العربي

ع - عدد - التغيرات التي وقعت على البرتغاليين في الشرق في أواخر القرن السادس عشر

علل لما يلي :

ع - التواجد البرتغالي في منطقة الخليج العربي تعرض للانهاك التدريجي

ع أهمية اليعاربة في منطقة الخليج العربي في أواخر القرن السادس عشر

ع اتجاه الاستعمار البرتغالي إلى مهادنة الدول المستعمرة



تدرب و تفوق

اختبارات الكترونية ذكية



ثانيا : الهولنديين

أكمل العبارات التالية :

ع الدولة التي برز وجودها بالشرق في أواخر القرن السادس عشر تسمى _____

ع العام الميلادي الذي خرج فيه أول أسطول هولندي إلى آسيا وبلغ جزر الهند الشرقية هو _____

ع - عدد - أهم الأعمال التي قام بها الهولنديين في منطقة آسيا وشرقها

أكمل العبارات التالية :

- ❑ الشركة التي تحرك الأسطول الهولندي لإنشائها في آسيا تسمى _____
- ❑ عمل الهولنديون على عقد معاهدات مع حكام منطقة الخليج العربي باسم _____
- ❑ الميناء الذي اتخذه الهولنديين مركزاً تجارياً لهم يسمى _____
- ❑ التجارة التي سيطر عليها الهولنديين في الشرق تسمى _____

❑ فند العبارة - استمر التفوق السريع للهولنديين في آسيا لفترة طويلة

☆ ممكن أن يأتي السؤال بصيغة أخرى: علل - التفوق السريع للهولنديين في منطقة آسيا و الشرق لم يستمر طويلا



تدرب و تفوق

اختبارات الكترونية ذكية



U U L A





التنافس الاستعماري الأوروبي على منطقة الخليج العربي من القرن 16 - 19 م

ثالثا : البريطانيون

❑ أكمل : المسطح المائي الذي كان مطمعا للاستعمار البريطاني يسمى _____

❑ علل - زيادة حدة التنافس بين البريطانيين والهولنديين

عدد :

❑ الممتلكات الهولندية التي استولت عليها بريطانيا

❑ النتائج المترتبة على انهيار النفوذ الهولندي

علل لما يلي :

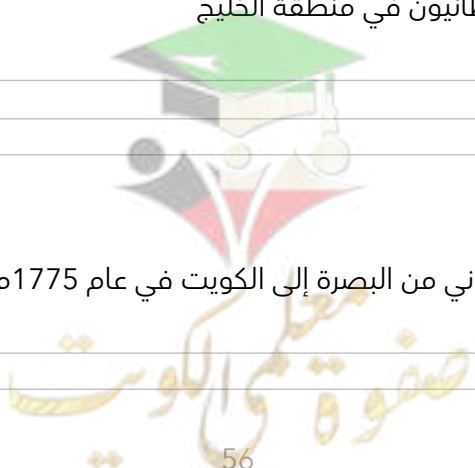
❑ اهتمام البريطانيين بالسيطرة على الخليج العربي

❑ قيام بريطانيا بتوسيع نفوذها السياسي والعسكري في الخليج

❑ عدد الأعمال التي قام بها البريطانيون في منطقة الخليج

علل لما يلي :

❑ نقل مركز البريد و التجارة البريطاني من البصرة إلى الكويت في عام 1775م



❑ اضطرار بريطانيا للعودة إلى الكويت مرة أخرى واتخاذها مقراً مؤقتاً لهم في الفترة ما بين (1793م - 1795م)

أكمل ما يلي :

❑ العام الميلادي الذي نقل فيه البريطانيون مركز البريد والتجارة إلى الكويت من البصرة للمرة الأولى هو _____

❑ العام الميلادي الذي نقل فيه البريطانيون مركز البريد والتجارة إلى الكويت من البصرة للمرة الثانية _____

❑ العام الميلادي الذي تم فيه توقيع اتفاقية الحماية بين الكويت وبريطانيا هو _____

❑ اتفاقية أصبحت الكويت بموجبها خاضعة للحماية البريطانية بشكل مباشر تسمى _____

❑ دال - أهمية الكويت بالنسبة لبريطانيا في نهاية القرن الثامن عشر الميلادي _____



تدرب و تفوق

اختبارات الكترونية ذكية



❑ دال كانت العلاقة الكويتية - العثمانية علاقة اسمية _____

❑ أكمل : العام الذي ساعدت فيه الكويت الدولة العثمانية بقيادة (مدحت باشا) بحملته لاستعادة إقليم الإحساء _____

❑ علل - مساعدة الكويت للدولة العثمانية في حملة مدحت باشا عام 1871 م _____

❑ أكمل : والي بغداد العثماني الذي أصدر فرمان يحدد فيه علاقة الكويت بالدولة العثمانية يسمى _____

عدد :

❑ الأسس التي حددها الفرمان العثماني في علاقة الكويت بالدولة العثمانية _____

أهم ما جاء في الفرمان العثماني إلى شيخ الكويت

لاحظ خريطة أوروبا الصماء أمامك

حدد الدول الاستعمارية (البرتغال - هولندا - إنجلترا)



تدرب و تفوق

اختبارات الكترونية ذكية

U U L A



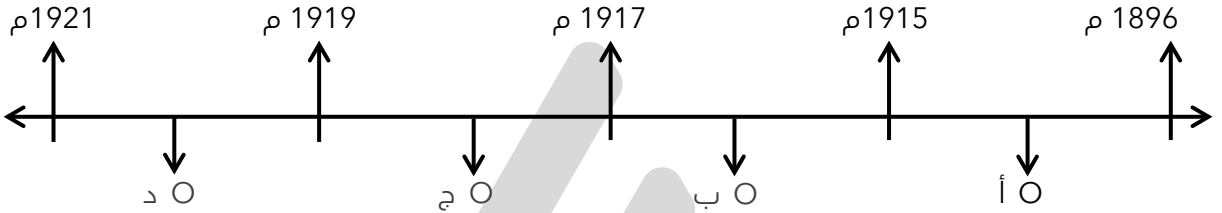


الشيخ مبارك الصباح (1896 م - 1915 م)



أكمل : الصورة المقابلة تمثل الحاكم السابع لدولة الكويت ويسمى

اختياري : الحرف الذي يمثل فترة حكم الشيخ مبارك الصباح :



علل - فترة حكم الشيخ مبارك فترة حاسمة في تاريخ الإمارة

☆ ممكن أن يأتي السؤال بصيغة أخرى : علل - الشيخ مبارك كان حاكماً مطلقاً للكويت

علل - صارت الإمارة في ظل حكم الشيخ مبارك الصباح نحو المزيد من الاستقرار

أولاً : الأوضاع الداخلية

دلل على صحة العبارة " بدأ الشيخ مبارك التعامل مع الأوضاع الداخلية والخارجية في إمارة الكويت بمنتهى الحذر والحيلة "

عدد أهم المجالات الداخلية في عهد الشيخ مبارك بن صباح

❑ دال على صحة العبارة " حرص الشيخ مبارك الصباح على حفظ الأمن وتشجيع التجارة "

★ ممكن أن يأتي السؤال بصيغة أخرى:
فند - لم تلقى التجارة أي اهتمام من قبل الشيخ مبارك الصباح أثناء فترة حكمه



❑ دال - اهتمام الشيخ مبارك الصباح بالتعليم

أكمل ما يلي :

❑ العام الميلادي الذي أنشأت فيه المدرسة المباركية هو

❑ أولى المدارس النظامية الأهلية في الكويت تسمى

❑ دال - اهتمام الشيخ مبارك الصباح بالصحة

❑ أكمل : العام الميلادي الذي تأسست فيه المستشفى الأمريكي

❑ دال - اهتمام الشيخ مبارك الصباح بالجيش



تدرب و تفوق

اختبارات الكترونية ذكية



ثانياً : الأوضاع الخارجية

❑ عدد الأطماع الدولية تجاه الكويت في عهد الشيخ مبارك الصباح



❑ لخص الأطماع الروسية نحو تعزيز نفوذها في الكويت في نهاية القرن التاسع عشر الميلادي

❑ عرف - (مشروع كابنيست)

❑ فرق بين السبب المعلن والسبب الحقيقي لخطوات روسيا للتأثير على الشيخ مبارك الصباح في القرن التاسع عشر الميلادي

السبب الحقيقي	السبب المعلن

❑ دلل على صحة العبارة " تعامل الشيخ مبارك الصباح مع التحركات الروسية بكل حذر "

الألمان

أكمل العبارات التالية:

❑ المشروع الألماني الذي رفضه الشيخ مبارك الصباح يسمى خط سكة حديد

❑ العام الميلادي الذي استقبل فيه الشيخ مبارك الصباح البعثة الألمانية

❑ المنطقة التي استقبل فيها الشيخ مبارك الصباح البعثة الألمانية تسمى

❑ علل - مجئ البعثة الألمانية للكويت عام 1900 م

❑ علل - رفض الشيخ مبارك الصباح أن يكون للألمان أي مشاريع اقتصادية فوق أراضيهم

الدولة العثمانية

عدد - أسباب رفض الشيخ مبارك الصباح مشروع سكة الحديد مع الدولة العثمانية

☆ ممكن أن يأتي السؤال بصيغة أخرى: **علل**

عدد - دلل - على براعة الشيخ مبارك الصباح السياسية بعلاقته مع الدولة العثمانية

عدد - اكتب ردة فعل العثمانيين على عقد الشيخ مبارك اتفاقية الحماية 1899 م

عدد - علل - فشل التهديدات والتحركات العثمانية ضد الشيخ مبارك

عدد - برهن على عدم تبعية الكويت للدولة العثمانية

البريطانيون

عدد - الخطوات التي قام بها الشيخ مبارك في تأمين وضع الإمارة في مجمل تحركات السياسية

عدد - علل - سعت بريطانيا للتقارب مع الشيخ مبارك

عدد- النتائج المترتبة على التقارب البريطاني مع الشيخ مبارك الصباح



اتفاقية الحماية 1899 م وآثرها على الكويت

علل

تزايد رغبة الشيخ مبارك في تأمين وضع إمارة الكويت عام 1899 م

علل- أهمية اتفاقية الحماية 1899م لدولة الكويت

عدد الجوانب الإيجابية والسلبية لاتفاقية الحماية 1899 م

☆ ممكن أن يأتي السؤال بصيغة أخرى: فرق

الجوانب الإيجابية لاتفاقية الحماية 1899 م	الجوانب السلبية لاتفاقية الحماية 1899 م

علل - حرص بريطانيا على أن تبقى اتفاقية الحماية مع الكويت سرية

اكتب مدلول الصور التالية :

الاتفاقيات والمعاهدات
اتفاقية الحماية (1899) البريطانية الكويتية الأولى
تم توقيعها في 23 من شهر كانون الثاني سنة 1899م بين الشيخ مبارك الصباح وحاكم الكويت آنذاك السير هيرلاند كورنواليس. نصت الاتفاقية على أن الكويت تصبح تحت الحماية البريطانية، مما يعني أن بريطانيا تتولى مسؤولية الدفاع عن الكويت وتأمين حدودها الخارجية، بينما تحتفظ الكويت بحكمها الداخلي. كانت هذه الاتفاقية خطوة مهمة في تأمين مستقبل الكويت كدولة مستقلة.



صفوة معلمى الكويت

اقرأ الفقرة التاريخية التالية ثم أجب عما يليها :

(للكويت أهمية كبيرة بالنسبة لبريطانيا كمكان آمن ، لذلك سعت بريطانيا لتطوير وتوثيق علاقاتها مع الكويت من خلال عدة خطوات حتى توجت هذه العلاقة بعقد اتفاقية الحماية عام 1899م والتي نصت على أن يلزم حاكم الكويت (الشيخ مبارك الصباح) نفسه وارثيه وخلفه في الحكم بالألا يتنازل أو يبيع أو يؤجر أو يرهن أو يعطي للاستغلال لأي غرض كان أي جزء من مقاطعته لأي حكومة أو رعايا أي سلطة بدون الموافقة السابقة للحكومة البريطانية)

ماهي أسباب توقيع اتفاقية الحماية

اذكر بند من بنود اتفاقية الحماية

ما أهمية الاتفاقية لدولة الكويت



تدرب و تفوق

اختبارات الكترونية ذكية



الشيخ مبارك الصباح وقيام الدولة السعودية الثالثة 1902 م

أكمل - العام الميلادي الذي قامت فيه الدولة السعودية الثالثة

اكتب باختصار عن : مساعدة الشيخ مبارك الصباح لقيام الدولة السعودية الثالثة 1902م

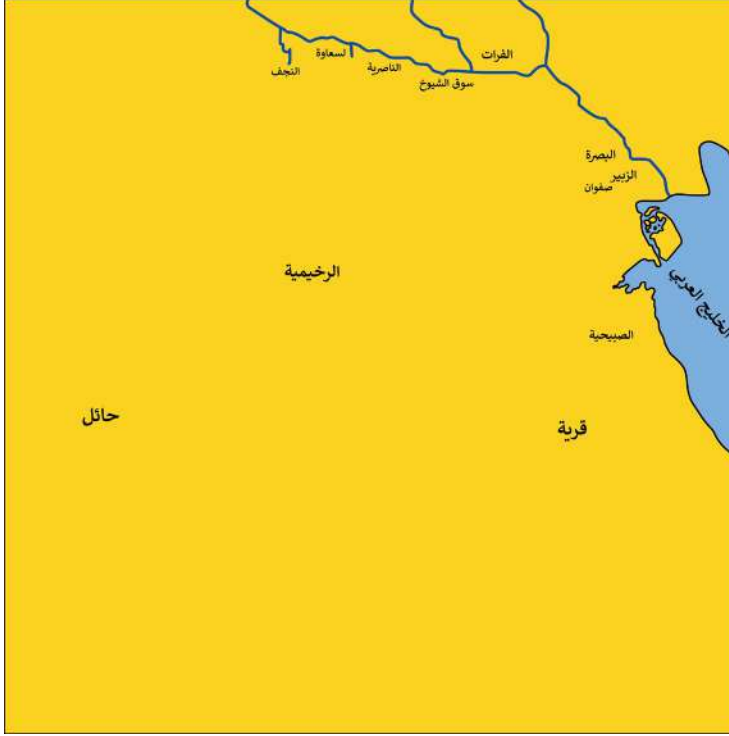
اكتب مدلول الصورة التي أمامك



أكمل - عدد السنوات التي استقر بها عائلة عبد العزيز آل سعود في الكويت

لخص سياسة الشيخ مبارك الاستقلالية

حدد علي الخريطة التالية ما يلي : معركة الصريف - معركة هدية - الرياض - الكويت - مدينة الجهراء



أكمل ما يلي :

العام الميلادي الذي وقعت فيه أحداث معركة الصريف

العام الميلادي الذي وقعت فيه أحداث معركة هدية

دل " الشيخ مبارك كان يقف بقوة في وجه أي سياسة تنتقص من سيادة الكويت "



(لقد قاومت هذا طيلة عمري ، وانت تطالبني بالموافقة على ذلك)

القائل :

المناسبة :

لخص سياسة الكويت الخارجية في عهد الشيخ مبارك الصباح

برهن - على دور الشيخ مبارك الصباح في ترسيخ دعائم استقرار الامارة

أكمل - العام الميلادي الذي توفي فيه الشيخ مبارك الصباح

اختر الإجابة الصحيحة : استمرت فترة حكم الشيخ مبارك الصباح قرابة

- خمسة عشر عام
 خمسة وعشرين عام

- عشرة أعوام
 عشرين عام



تدرب و تفوق

اختبارات الكترونية ذكية

U U L A

