




# الاجتماعيات

الكورس الأول





# الاجتماعيات

الكورس الأول

7

# شلون تتفوق بدراستك

منصة علا تخلي المذكرة أقوى

تبي أعلى الدرجات؟ لا تعتمد على المذكرة بروحها  
ادرس صح من الفيديوهات و الاختبارات في منصة علا

700

★ اختبارات ذكية تدربك  
حل الاختبارات الإلكترونية أول بأول  
عشان ترفع مستواك

🎬 فيديوهات تشرح لك  
تابع الفيديوهات و اسأل المعلم في علا وأنت  
تدرس من المذكرة عشان تضبط الدرس



اكتشف عالم التفوق مع منصة علا

لتشارك بالمادة و تستمتع بالشرح  
المميز صور أو اضغط على ال QR



# المعلق



هذه المذكرة تغطي المادة كاملة.

في حال وجود أي تغيير للمنهج أو تعليق جزء منه يمكنكم مسح رمز QR للتأكد من المقرر.




# المنقذ



أول ما تحتاج مساعدة بالمادة ، المنقذ موجود!

صور ال QR بكاميرا التلفون أو اضغط عليه إذا كنت تستخدم المذكرة من جهازك و يطلع لك فيديو يشرح لك.



# قائمة المحتوى

## 01 البيئة الطبيعية في الوطن العربي

01

- 5 تعريف الوطن العربي  
9 موقع الوطن العربي وحدوده  
12 الموقع الفلكي للوطن العربي  
14 الموقع النسبي للوطن العربي  
16 أهمية موقع الوطن العربي

## 02 ملامح السطح في الوطن العربي

02

- 17 الجبال  
21 الهضاب  
22 السهول

## 03 المناخ والنبات الطبيعي والثروة المائية

03

- 26 المناخ في الوطن العربي  
31 مناخ الوطن العربي في فصل الصيف والشتاء  
33 النبات الطبيعي في الوطن العربي  
39 الثروة المائية في الوطن العربي

## 04 الوطن العربي مهد الحضارات والديانات السماوية

04

- 45 الأهمية الحضارية للوطن العربي  
47 الحضارة المصرية القديمة  
50 حضارة بلاد الرافدين  
54 حضارة جنوب غرب شبه الجزيرة العربية (بلاد اليمن)  
57 حضارة دلمون (البحرين)  
59 الوطن العربي مهد الديانات السماوية الثلاث  
60 الحضارة العربية الإسلامية



# تعريف الوطن العربي



هو مجموعة الدول العربية التي يجمعها عدد من السمات المشتركة مثل اللغة والدين ويمتد ضمن قارتين آسيا وأفريقيا

## الوطن العربي

اكتب مدلول الخريطة المقابلة :



خريطة الوطن العربي السياسية

## أكمل العبارات التالية:

☆ ممكن أن يأتي السؤال بصيغة أخرى: اختياري

- ٥. يمتد الوطن العربي ضمن قارتي أفريقيا و آسيا
- ٥. مساحة واسعة من الأرض تمتد ضمن قارتين من أكبر قارات العالم مساحة الوطن العربي
- ٥. اللغة الرسمية للدول العربية تسمى اللغة العربية
- ٥. الدين الذي يجمع الدول العربية يسمى الدين الإسلامي
- ٥. عدد دول الوطن العربي 22 دولة
- ٥. دولة عربية تتكون من اتحاد أربع جزر مستقلة تقع شمال جزيرة مدغشقر تسمى جمهورية جزر القمر الاتحادية الإسلامية
- ٥. المحيط الذي تقع فيه دولة جزر القمر يسمى المحيط الهندي



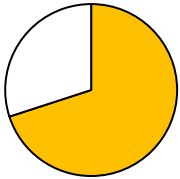
٥. عاصمة جمهورية جزر القمر تسمى موروني

٥. العام الميلادي الذي انضمت فيه جزر القمر لجامعة الدول العربية 1993م

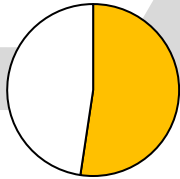
٥. تبلغ مساحة الوطن العربي 13.500 مليون كم<sup>2</sup>

٥. أصبحت مساحة الوطن العربي 13.500 مليون كم<sup>2</sup> بعد انفصال دولة جنوب السودان عن جمهورية اسمها السودان

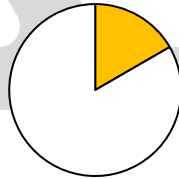
٥. اختياري : نسبة مساحة الوطن العربي من جملة مساحة العالم يمثلها الجزء المظلل في الدائرة التي تحمل الحرف :



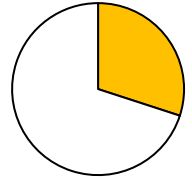
د



ج



ب



أ



تدرب و تفوق

اختبارات الكترونية ذكية



أكمل العبارات التالية:

☆ ممكن أن يأتي السؤال بصيغة أخرى: اختياري



الدولة العربية	العاصمة	الكويت	قطر	السعودية	عمان	الإمارات	البحرين
الكويت	الكويت	الدوحة	الرياض	مسقط	أبو ظبي	المنامة	



الأردن	سوريا	فلسطين	لبنان	العراق	اليمن	الدولة العربية
عمان	دمشق	القدس	بيروت	بغداد	صنعاء	العاصمة



موريتانيا	المغرب	الجزائر	تونس	ليبيا	مصر	الدولة العربية
نواكشوط	الرباط	الجزائر	تونس	طرابلس	القاهرة	العاصمة



جزر القمر	الصومال	جيبوتي	السودان	الدولة العربية
موروني	مقديشيو	جيبوتي	الخرطوم	العاصمة



تدرب و تفوق

اختبارات الكترونية ذكية

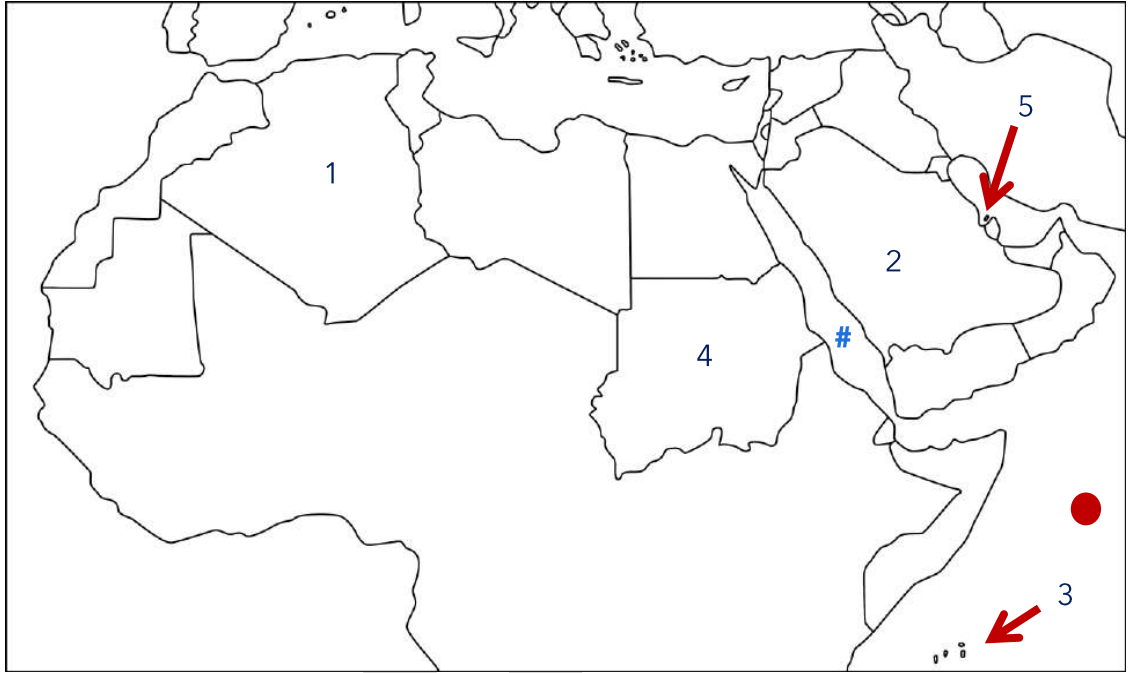
U U L A







## لاحظ خريطة الوطن العربي الصماء ثم اكتب الرقم الدال على كل مما يلي :



- ٥ أكبر دولة عربية من حيث المساحة في الجناح الآسيوي يمثلها الرقم ( 2 )
- ٥ أصغر دولة عربية من حيث المساحة في الجناح الآسيوي يمثلها الرقم ( 5 )
- ٥ أكبر دولة عربية من حيث المساحة في الجناح الأفريقي يمثلها الرقم ( 1 )
- ٥ أصغر دولة عربية من حيث المساحة في الجناح الأفريقي يمثلها الرقم ( 3 )
- ٥ دولة عربية انضمت لجامعة الدول العربية عام 1993م يمثلها الرقم ( 3 )

٥ الشكل ( ● ) يمثل مسطح مائي يسمى المحيط الهندي

٥ حدد بالرمز # البحر الذي يفصل الجناح الآسيوي عن الجناح الأفريقي

٥ أكمل : لغة القرآن الكريم تسمى اللغة العربية

٥ علل - اللغة العربية ساهمت في تكوين هوية واحدة للدول العربية

- الدول العربية تتكلم اللغة العربية
- اللغة العربية لغة القرآن الكريم
- ساهمت في اختلاط الدول ثقافياً وحضارياً
- كونت شعوب المنطقة وطناً كبيراً له عاداته وتقاليده

٥ عدد - مقومات الهوية العربية

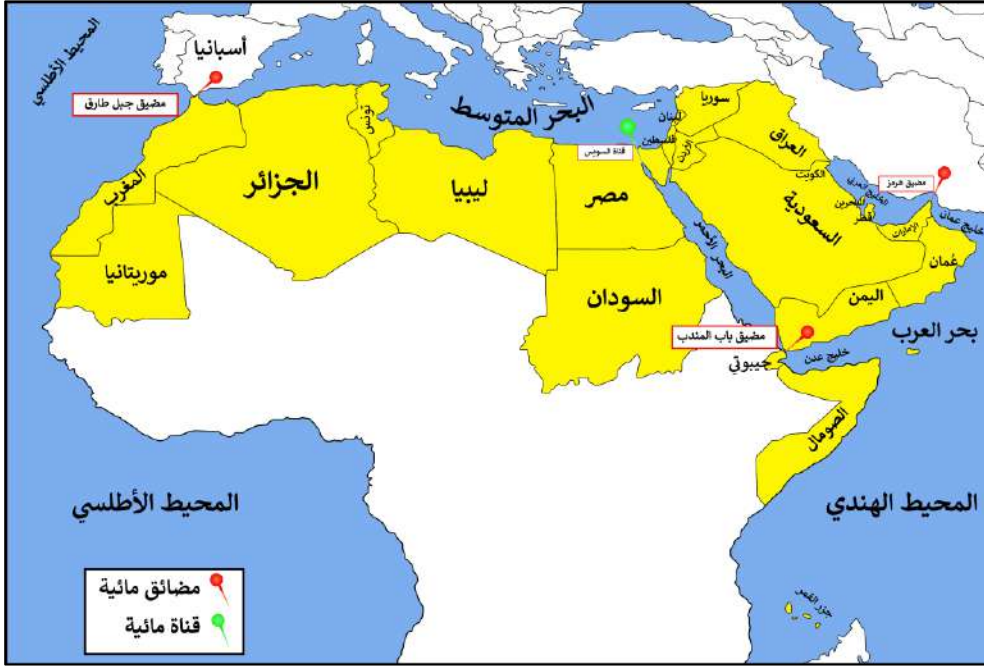




البيئة الطبيعية في الوطن العربي

## موقع الوطن العربي وحدوده

اكتب مدلول الخريطة المقابلة



الموقع الإستراتيجي للوطن العربي

الموقع الاستراتيجي

أي موقع ذي مكانة مهمة بين دول العالم

المسطحات المائية

جميع أشكال المياه على سطح الأرض مثل البحار والخلجان والمحيطات والبحيرات والأنهار

القناة

مجرى مائي صناعي ضيق يشق لأغراض الري أو النقل

المضيق

ممر مائي ضيق يصل بين بحرين أو محيطين أو أي مساحتين كبيرتين نسبيًا من الماء

علل يتمتع الوطن العربي بموقع استراتيجي مهم

☆ ممكن أن يأتي السؤال بصيغة أخرى: علل- موقع الوطن العربي تتجدد أهميته على مر العصور

- يقع في وسط العالم ويتحكم في طرق التجارة
- يطل على عدة مسطحات مائية

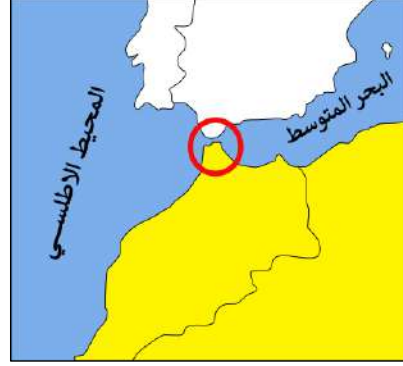
عدد الصفات الأساسية التي يتمتع بها موقع الوطن العربي

- حلقة وصل بين الشرق والغرب وبين الشمال والجنوب
- يشرف على مضائق وممرات مائية مهمة

اكتب مدلول الخرائط التالية



قناة السويس



مضيق جبل طارق



مضيق هرمز



مضيق باب المندب



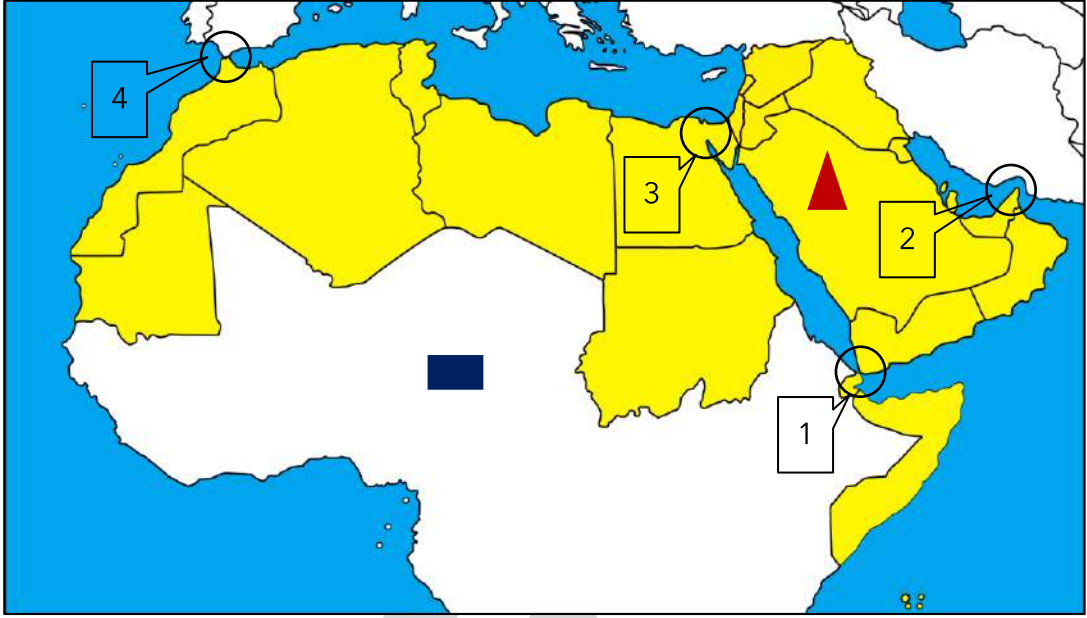
تدرب و تفوق

اختبارات الكترونية ذكية





## لاحظ خريطة الوطن العربي الصماء ثم اكتب الرقم الدال على كل مما يلي :



- ❑ ( 2 ) مضيق يصل بين الخليج العربي وخليج عمان يمثله الرقم
- ❑ ( 1 ) مضيق يصل بين خليج عدن والبحر الأحمر يمثله الرقم
- ❑ ( 3 ) القناة التي تصل بين البحر المتوسط والبحر المتوسط يمثله الرقم
- ❑ ( 4 ) مضيق يصل بين البحر المتوسط والمحيط الأطلسي يمثله الرقم
- ❑ القسم الأكبر من الوطن العربي يمتد في القارة التي تمثلها الرمز
- ❑ ( 3 ) الدولة العربية التي تشرف على قناة السويس يمثله الرقم


❑ صنف المسطحات المائية في الوطن العربي حسب الجدول التالي

مضايق	محيطات	خلجان	بحار
هرمز باب المنذب جبل طارق	المحيط الهندي المحيط الأطلسي	الخليج العربي خليج عمان خليج عدن	البحر المتوسط البحر الأحمر بحر العرب



**تدرب و تفوق**

اختبارات الكترونية ذكية





# الموقع الفلكي للوطن العربي

الموقع الفلكي هو نقطة من الكرة الأرضية يتحدد موقعها بخطوط الطول ودوائر العرض

اكتب مدلول الشكل

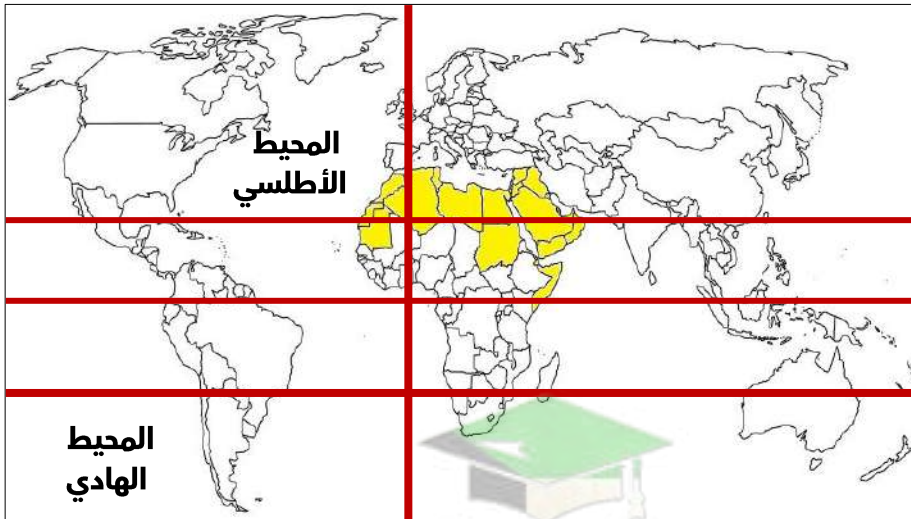


خطوط الطول ودوائر العرض

قارن بين كل من :

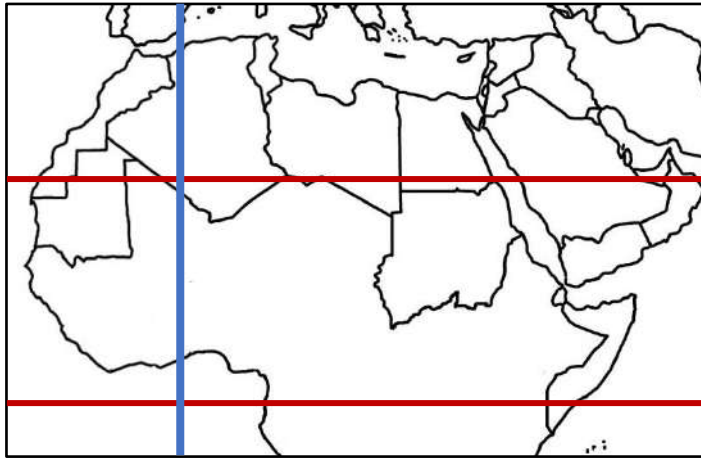
☆ ممكن أن يأتي السؤال بصيغ أخرى: **أكمل - اختياري**

المقارنة	خطوط الطول	دوائر العرض
<b>التعريف</b>	خطوط وهمية تقسم الكرة الأرضية لقسمين شرقي وغربي	خطوط وهمية تقسم الكرة الأرضية لقسمين شمالي وجنوبي
<b>العدد</b>	360	180
<b>الخط الرئيسي</b>	غرينتش	الاستواء
<b>مميزاته</b>	معرفة التوقيت	تقسيم الأرض لنطاقات حرارية



خط غرينتش





مدار السرطان

خط الاستواء

خط جرينتش

### أكمل العبارات التالية:

- ❑ المسطح المائي الذي يحده الوطن العربي من ناحية الغرب يسمى المحيط الأطلسي
- ❑ المسطحات المائية التي تحده الوطن العربي من ناحية الشرق بحر العرب و الخليج العربي
- ❑ يمتد الوطن العربي من خط الاستواء جنوباً وشمالاً إلى بحر يسمى المتوسط
- ❑ الدولة العربية التي يمر بها خط الاستواء تسمى الصومال
- ❑ الدولة العربية التي يمر بها خط جرينتش تسمى الجزائر
- ❑ الدائرة العرضية الرئيسية التي تقسم الكرة الأرضية إلى قسمين متساويين شمالي وجنوبي تسمى خط الاستواء
- ❑ خط الطول الرئيسي الذي يقسم الكرة الأرضية إلى قسمين متساويين شرقي وغربي يسمى خط غرينتش
- ❑ " يمر خط العرض الرئيسي في إحدى دول الوطن العربي "
  - اسم خط العرض الرئيسي خط الاستواء
  - اسم الدولة العربية التي يمر بها خط العرض الرئيسي الصومال
- ❑ " يمر خط الطول الرئيسي في إحدى دول الوطن العربي "
  - اسم خط الطول الرئيسي خط غرينتش
  - اسم الدولة العربية التي يمر بها خط العرض الرئيسي الجزائر



تدرب و تفوق

اختبارات الكترونية ذكية



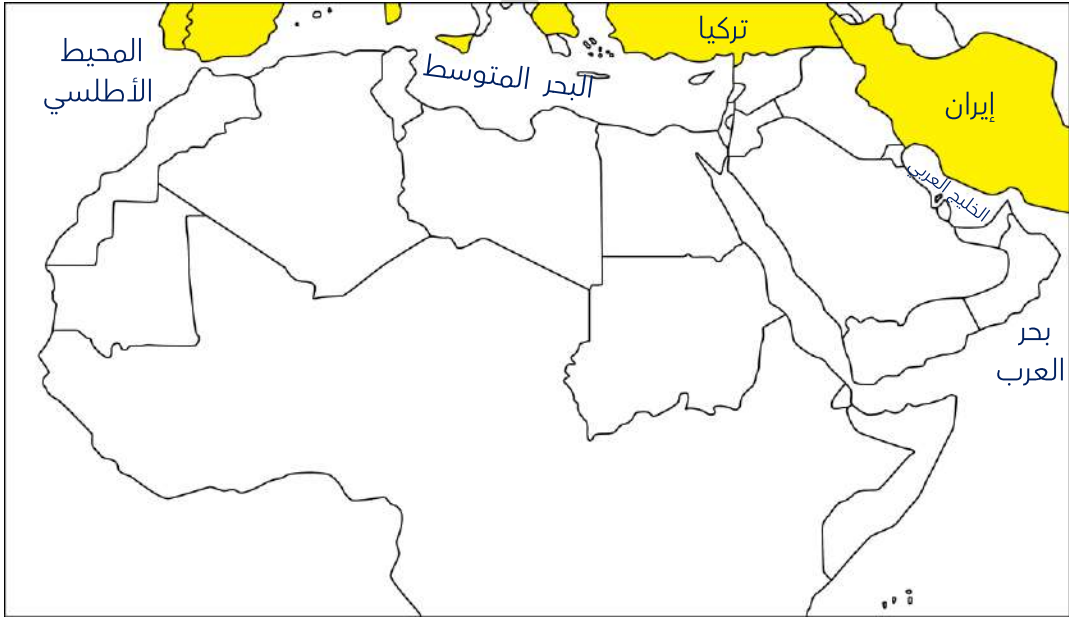
# الموقع النسبي للوطن العربي

الموقع النسبي هو موقع الدولة بالنسبة لليابسة والماء

اكتب عن الموقع النسبي للوطن العربي

☆ ممكن أن يأتي السؤال بصيغة أخرى: " للوطن العربي حدودٌ بحرية وبرية " دلل على صحة العبارة

- يحدّه من الشمال البحر المتوسط وتركيا
- يحدّه من الشرق إيران والخليج العربي
- يحدّه من الغرب المحيط الأطلسي



## أكمل العبارات التالية:

- القارة المجاورة للوطن العربي من جهة الشمال تسمى **أوروبا**
- المسطح المائي الذي يحد الوطن العربي من ناحية الغرب يسمى **المحيط الأطلسي**
- المسطحات المائية التي تحد الوطن العربي من ناحية الشرق بحر العرب و **الخليج العربي**
- موقع الوطن العربي بالنسبة لقارة آسيا جهة **الجنوب الغربي**
- موقع الوطن العربي بالنسبة لقارة أفريقيا **شمال وشمال شرق أفريقيا**
- الحدود البرية للوطن العربي شمالاً مع دولة تسمى **تركيا**
- الحدود البرية للوطن العربي شرقاً مع دولة تسمى **إيران**
- الحدود البحرية للوطن العربي شمالاً بحر يسمى **المتوسط**

صفوة معلمي الكويت

اكتب مدلول الخريطة المقابلة :



الخريطة السياسية للوطن العربي

فرق بين كل من :

الموقع النسبي	الموقع الفلكي
هو موقع الدولة بالنسبة لليابسة والماء	هو نقطة من الكرة الأرضية يتحدد موقعها بخطوط الطول ودوائر العرض

**اختر الإجابة الصحيحة**

الدولة التي تحد الوطن العربي من ناحية الشمال:

المغرب

تشاد

إيران

تركيا

المسطح المائي الذي يحد الوطن العربي من ناحية الغرب :

المحيط الأطلسي

المحيط الهندي

الخليج العربي

البحر الأحمر



**تدرب و تفوق**

اختبارات الكترونية ذكية



# أهمية موقع الوطن العربي



عدد أهمية موقع الوطن العربي

- الأهمية الجغرافية للوطن العربي
- الأهمية الاقتصادية للوطن العربي
- الأهمية الحضارية والثقافية للوطن العربي

علل - للوطن العربي أهمية جغرافية

☆ ممكن أن يأتي السؤال بصيغة أخرى: تنافس الدول الاستعمارية للاستيلاء على الوطن العربي منذ القرن 18 الميلادي

- يتمتع بموقع استراتيجي مهم وقت السلم والحرب
- يقع وسط العالم
- يطل على مسطحات مائية ذات أهمية للتجارة العالمية

عدد - النتائج المترتبة على الأهمية الجغرافية للوطن العربي

- تنافس الدول الاستعمارية للاستيلاء عليه منذ القرن 18 الميلادي
- تقسيمه لعدة دول
- قاومت الدول الاستعمار للحصول على استقلالها

علل - تنافس الدول الاستعمارية للاستيلاء على الوطن العربي منذ القرن 18 الميلادي

بسبب أهمية موقع الوطن العربي الجغرافية

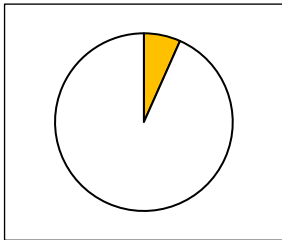
اختياري : القرن الميلادي الذي تنافست فيه الدول الاستعمارية للاستيلاء على الوطن العربي

- 17 الميلادي
- 18 الميلادي
- 19 الميلادي

علل - الأهمية الاقتصادية للوطن العربي

☆ ممكن أن يأتي السؤال بصيغة أخرى: علل- يتمتع الوطن العربية بأهمية اقتصادية منذ القدم

- منطقة عبور لحركة الملاحة والتجارة العالمية
- جسر يربط بين قارات العالم الثلاث ( أوروبا وأفريقيا وآسيا )
- ظهور النفط بكميات كبيرة في منطقة الخليج العربي وشمال أفريقيا
- سكان الوطن العربي يشكلون 5% من سكان العالم



علل - الأهمية الحضارية والثقافية للوطن العربي

- قامت على أرضه حضارات عديدة
- هبطت على أرضه الديانات السماوية وانتشرت في العالم

عدد الديانات السماوية التي هبطت على أرض الوطن العربي

- الإسلام
- المسيحية
- اليهودية

تدرب و تفوق

اختبارات الكترونية ذكية



# الجبال

اكتب مدلول الصورة المقابلة



مظاهر السطح

عدد ملاحم السطح في الوطن العربي



هو كل ما ارتفع من الأرض وله قمة لا يقل ارتفاعها عن 1000 متر

**الجبل**

أرض مرتفعة سطحها مستو وتمتد على مساحة كبيرة

**الهضاب**

مساحة كبيرة من سطح الأرض تتميز باستوائها وقله ارتفاعها

**السهول**

كل ما ارتفع من الأرض ويقل ارتفاعه عن 1000 متر

**التلال**

U U L A



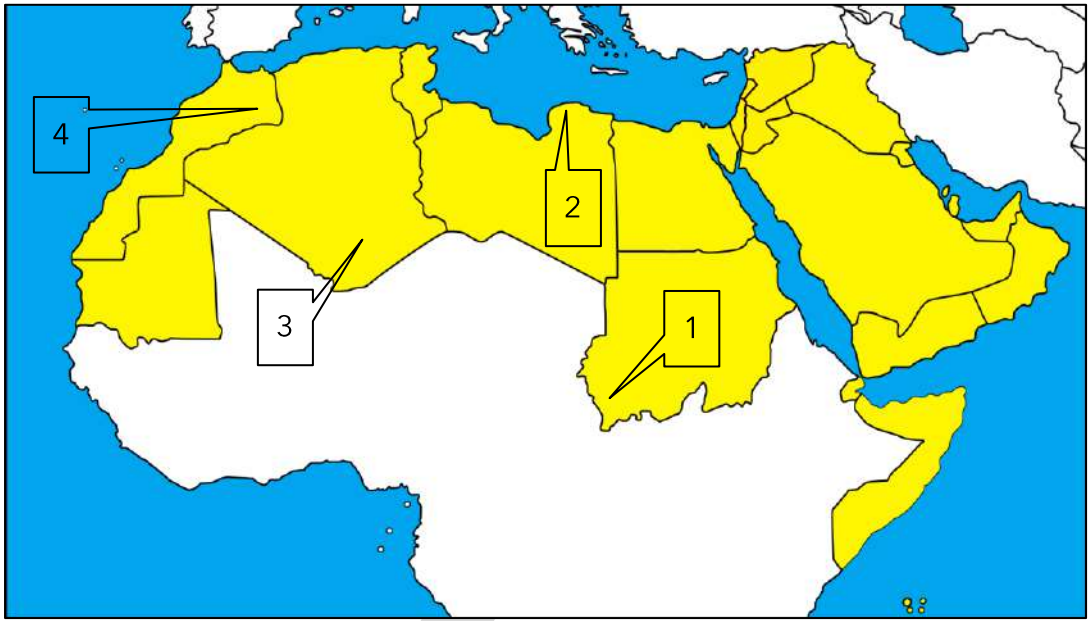


تدرب و تفوق

اختبارات الكترونية ذكية

# UULA





### الجنح الآسيوي

عُمان	1	الجبل الأخضر يمثل الرقم
اليمن	2	جبال اليمن يمثلها الرقم
اليمن السعودية	3	جبال عسير يمثلها الرقم
السعودية	4	جبال الحجاز يمثلها الرقم
العراق	5	جبل شيخا دار يمثل الرقم
سوريا	6	جبل قاسيون يمثل الرقم
سوريا	7	جبل الشيخ يمثل الرقم

### الجنح الأفريقي

مصر السودان	8	سلاسل جبال البحر الأحمر يمثلها الرقم
السودان	9	جبل مرة يمثل الرقم
ليبيا	10	الجبل الأخضر يمثل الرقم
الجزائر	11	جبال الأحجار يمثلها الرقم
الجزائر المغرب	12	جبال أطلس يمثلها الرقم



صفوة معلمي الكويت

## أكمل العبارات التالية:

٥ جبل مرة في دولة السودان يبلغ ارتفاعه 3042 م



٥ الصورة المقابلة تمثل جبل مرة

٥ جبال أطلس يبلغ ارتفاعها 4167 م

٥ جبال عسير يبلغ ارتفاعها 3015 م

٥ جبل قاسيون يبلغ ارتفاعه 1151 م

## اختر الإجابة الصحيحة

٥ الدولة العربية التي يوجد فيها جبل مرة

السودان

الجزائر

السعودية

مصر

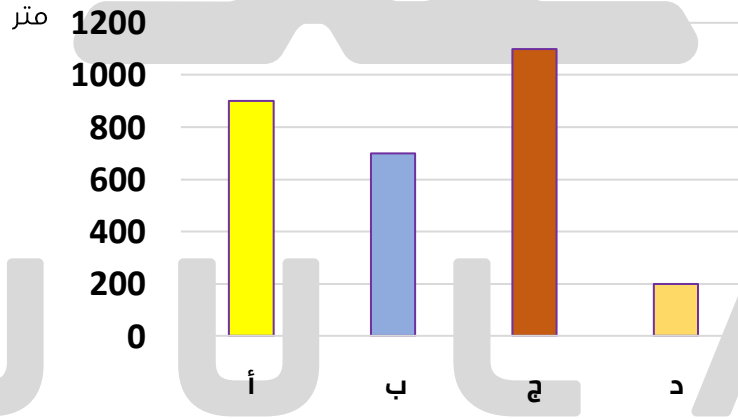
٥ الجبل يمثله على الشكل المقابل الحرف

أ

ب

ج

د



تدرب و تفوق

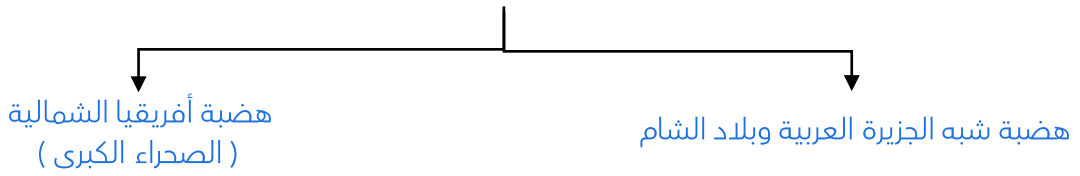
اختبارات الكترونية ذكية



صفوة معلمي الكويت



عدد أقسام الهضاب في الوطن العربي



أكمل : أكثر الأشكال التضاريسية انتشاراً في الوطن العربي تسمى **الهضاب**

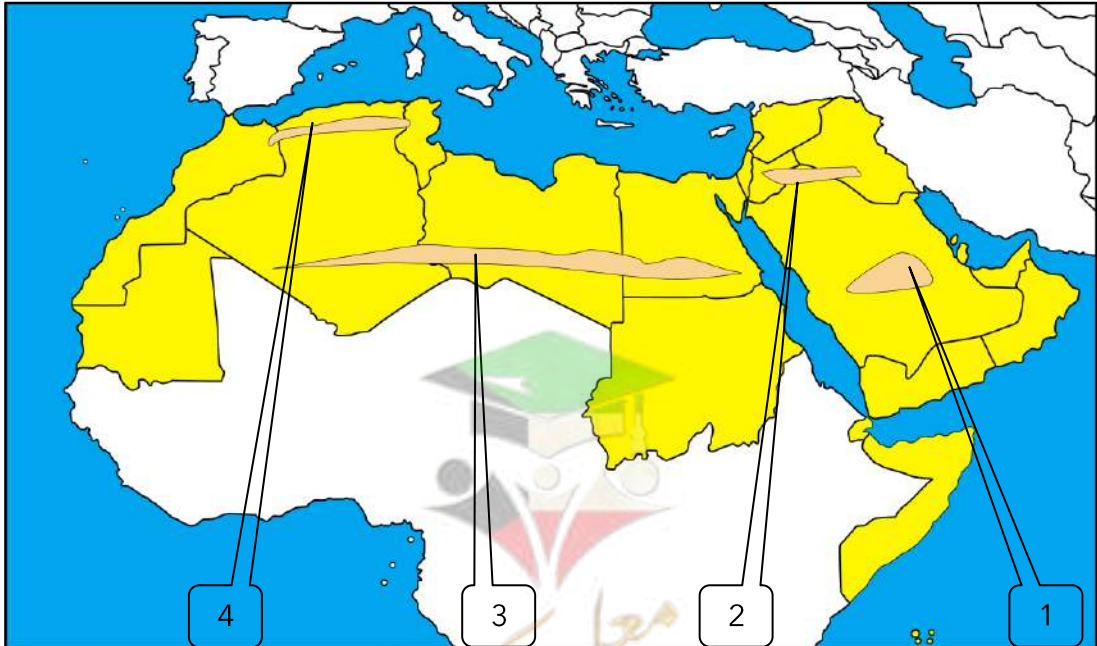
علل - تعد الهضاب أكثر الأشكال التضاريسية انتشاراً في الوطن العربي

- تشغل مساحات واسعة تمتد من أقصى الشرق إلى أقصى الغرب
- تغطي معظم أرجاء الوطن العربي

أكمل الجدول التالي :

أهم الهضاب في الوطن العربي في الجناح الأفريقي		أهم الهضاب في الوطن العربي في الجناح الآسيوي	
الدولة التي تقع فيها	اسم الهضبة	الدولة التي تقع فيها	اسم الهضبة
مصر - ليبيا - الجزائر	الصحراء الكبرى	السعودية	نجد
تونس - الجزائر - المغرب	الشطوط	السعودية - العراق - الأردن	بادية الشام

لاحظ خريطة الوطن العربي الصماء ثم اكتب الرقم الدال على كل مما يلي :



هضبة تقع وسط شبه الجزيرة يمثلها الرقم ( 1 )

( 2 )

( 4 )

( 3 )

هضبة بادية الشام يمثلها الرقم

هضبة الشطوط يمثلها الرقم

هضبة الصحراء الكبرى يمثلها الرقم



تدرب و تفوق

اختبارات الكترونية ذكية

ملاحح السطح في الوطن العربي

## السهول

فرق بين كل من :

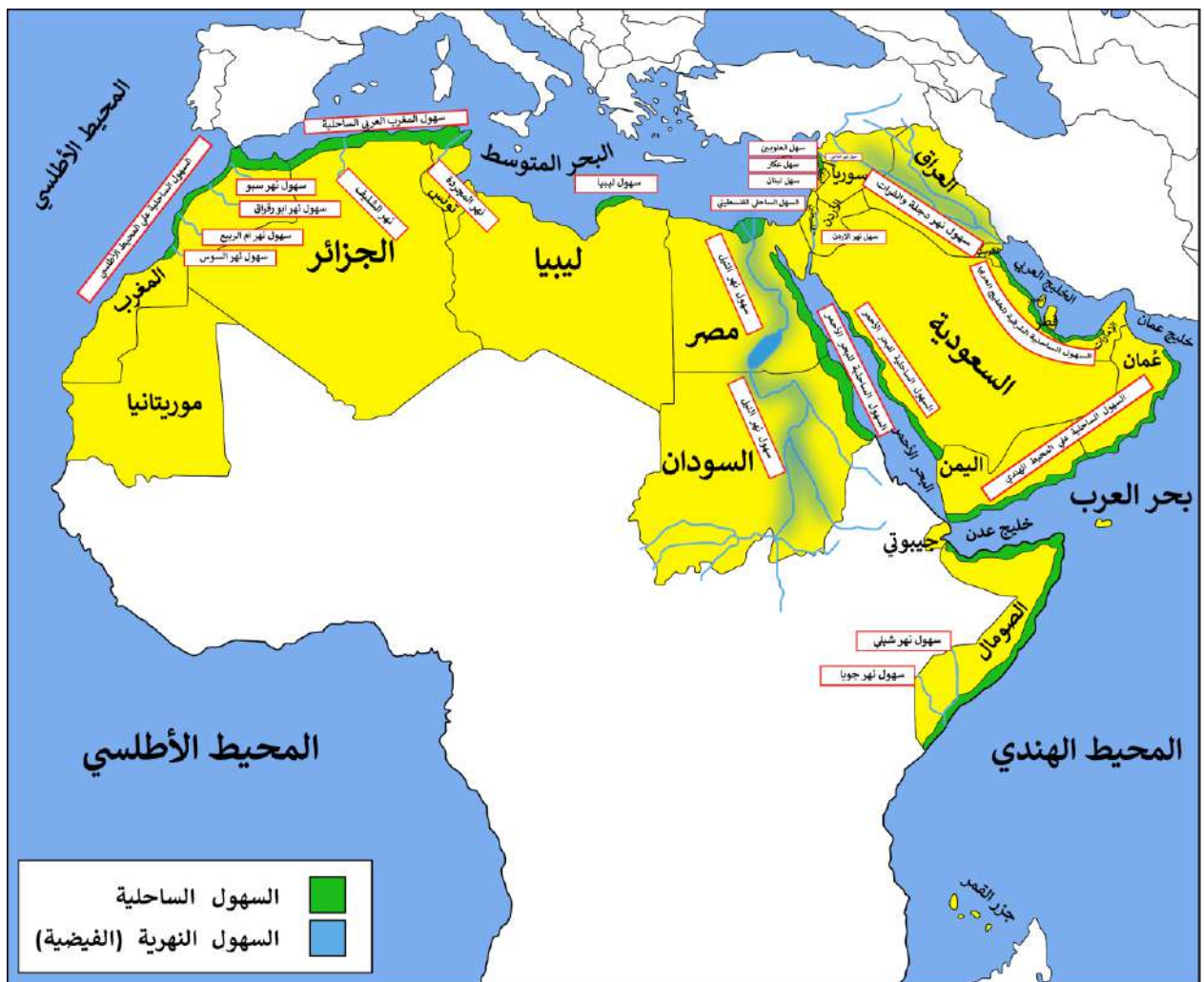
☆ ممكن أن يأتي السؤال بصيغة أخرى: عرف



السهول الساحلية	السهول الفيضية ( النهرية )
هي الأراضي المنبسطة التي تجاور سواحل البحار والمحيطات	هي الأراضي المنخفضة التي تكونت من التربة التي حملتها مياه الأنهار

U U L A





### السهول في الوطن العربي في الجناح الآسيوي

اسم السهل	نوعه	الدول التي يقع فيها
سهول المحيط الهندي	ساحلي	عمان - اليمن
السهول الشرقية للخليج العربي	ساحلي	الإمارات - قطر - البحرين - السعودية - الكويت
سهول البحر الأحمر	ساحلي	السعودية
السهل الفلسطيني	ساحلي	فلسطين
سهل لبنان - عكار	ساحلي	لبنان
سهل العلويين	ساحلي	سوريا
سهول دجلة والفرات	فيضي	العراق - سوريا
سهل نهر الأردن	فيضي	الأردن
سهل نهر العاصي	فيضي	سوريا



**تدرب و تفوق**

اختبارات الكترونية ذكية





## السهول في الوطن العربي في الجناح الأفريقي

اسم السهل	نوعه	الدول التي يقع فيها السهل
سهول المحيط الهندي	ساحلي	الصومال - جزر القمر
سهول البحر الأحمر	ساحلي	مصر - السودان
سهول ليبيا	ساحلي	ليبيا
سهول المغرب العربي الساحلية	ساحلي	تونس - الجزائر - المغرب
سهول المحيط الأطلسي	ساحلي	المغرب
سهول نهر النيل	فيضي	مصر - السودان
نهر مجردة	فيضي	تونس
نهر الشليف	فيضي	الجزائر
سهول نهر سبو - نهر أبو رقراق أم الربيع - السوس	فيضي	المغرب
سهول شبيلي سهول جوبا	فيضي	الصومال

لاحظ الخريطة التالية ونفذ المطلوب منك بكل دقة :



- 1 ( ) سهول المحيط الهندي يمثلها الرقم
- 2 ( ) نهر دجلة يوجد في دولة عربية في الجناح الآسيوي يمثلها الرقم
- 3 ( ) نهرالمجردة يوجد في دولة عربية في الجناح الأفريقي يمثلها الرقم
- 4 ( ) نهر النيل يوجد في دولة عربية في الجناح الأفريقي يمثلها الرقم
- 5 ( ) نهر الشليف يوجد في دولة عربية في الجناح الأفريقي يمثلها الرقم
- 6 ( ) نهر أم الربيع يوجد في دولة عربية في الجناح الأفريقي يمثلها الرقم

اختياري : سهول نهر جوبا توجد في دولة عربية:

- السودان
- المغرب

- الصومال
- لبنان

علل - تركز السكان في مناطق السهول الفيضية في الوطن العربي لتوافر عوامل الجذب من تربة صالحة للزراعة ومياه عذبة

انسب الكلمات التالية إلى مكانها المناسب في الجدول التالي :  
أطلس - سبو - الشطوط - عسير - بادية الشام - نجد - ليبيا

سهول	هضاب	جبال
سبو - ليبيا	الشطوط - نجد - بادية الشام	أطلس - عسير



تدرب و تفوق

اختبارات الكترونية ذكية

U U L A





# المناخ في الوطن العربي

## أكمل العبارات التالية :

❑ إذا قلنا إنّ اليوم حارٌّ ومعتدل ليلاً وإن اتّجاه الرياح جنوبية غربية أو شمالية شرقية فإننا نتحدث عن الطقس خلال هذا اليوم

❑ إذا تكلمنا عن حالة الجو خلال فصل الصيف أو الشتاء فإننا نتحدث عن المناخ

❑ عدد مميزات مناخ دولة الكويت

- حار جاف صيفاً
- معتدل بارد شتاءً

هو حالة الجو خلال فترة زمنية طويلة من حيث درجة الحرارة والرطوبة والأمطار والرياح

**المُنَاخ**

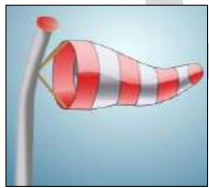
هو حالة الجو في مكان لمدة قصيرة تتراوح بين يوم أو عدة أيام

**الطقس**

وزن الهواء فوق أي مكان

**الضغط الجوي**

❑ عدد عناصر المناخ



❑ اختياري: الصورة التي أمامك تمثل عنصر من عناصر المناخ :

- درجة الحرارة
- الأمطار

- الرياح
- الرطوبة

❑ عدد - العوامل التي تؤثر في مناخ الوطن العربي

- الموقع بالنسبة لدوائر العرض
- القرب أو البعد عن المسطحات المائية
- التضاريس
- الرياح

❑ علل - الموقع بالنسبة لدوائر العرض يؤثر في مناخ الوطن العربي .

- يؤثر القرب أو البعد عن خط الاستواء في مناخ الإقليم
- الأماكن القريبة من خط الاستواء تتميز بارتفاع درجة حرارتها على مدار أيام السنة

❑ علل - القرب أو البعد عن المسطحات المائية يؤثر في مناخ الوطن العربي.

★ ممكن أن يأتي السؤال بصيغة أخرى: ددل - للمسطحات المائية تأثير في المناخ

المدن الساحلية أكثر اعتدالاً في المناخ صيفاً وأدفاً نسيبياً شتاءً لأن البحر يلف من درجة حرارتها

❑ علل - المدن الساحلية أكثر اعتدالاً في المناخ صيفاً وأدفاً نسيبياً شتاءً

لأن البحر يلف من درجة حرارتها



تدرب و تفوق

اختبارات الكترونية ذكية



❑ علل - تؤثر التضاريس في المناخ بصورة مباشرة

▪ درجة الحرارة ▪ توزيع كمية الأمطار

❑ ددل - تؤثر التضاريس في المناخ بصورة مباشرة من ناحية درجة الحرارة في الوطن العربي

▪ ترتفع درجة الحرارة في بعض المدن مثل الرياض والقاهرة  
▪ تنخفض درجة الحرارة في الفصل نفسه في المناطق المرتفعة مثل جبال سوريا ولبنان والطائف في السعودية

❑ علل - الرياح تؤثر في مناخ الدول العربية

لأنها تؤثر من ناحية ارتفاع وانخفاض درجة الحرارة وكمية الأمطار ونسبة الرطوبة

❑ ما ذا يحدث إذا مرت الرياح على بحار محملة ببخار الماء .

▪ تسبب سقوط الأمطار ▪ ارتفاع الرطوبة

❑ ماذا يحدث إذا هبت الرياح من منطقة جافة .

لا تسقط مطراً

❑ ماذا يحدث إذا هبت الرياح من منطقة باردة .

سوف تنخفض درجة الحرارة

❑ ماذا يحدث إذا هبت الرياح من منطقة حارة

سوف ترتفع درجة الحرارة

❑ علل - هبوب الرياح من منطقة جافة لا تسقط مطراً

لأن الرياح تأخذ صفة المنطقة التي تمر بها

الإقليم	إقليم صناعي	إقليم صحراوي
يعني أنه منطقة أو مكان	يعني منطقة صناعية	يعني منطقة صحراوية

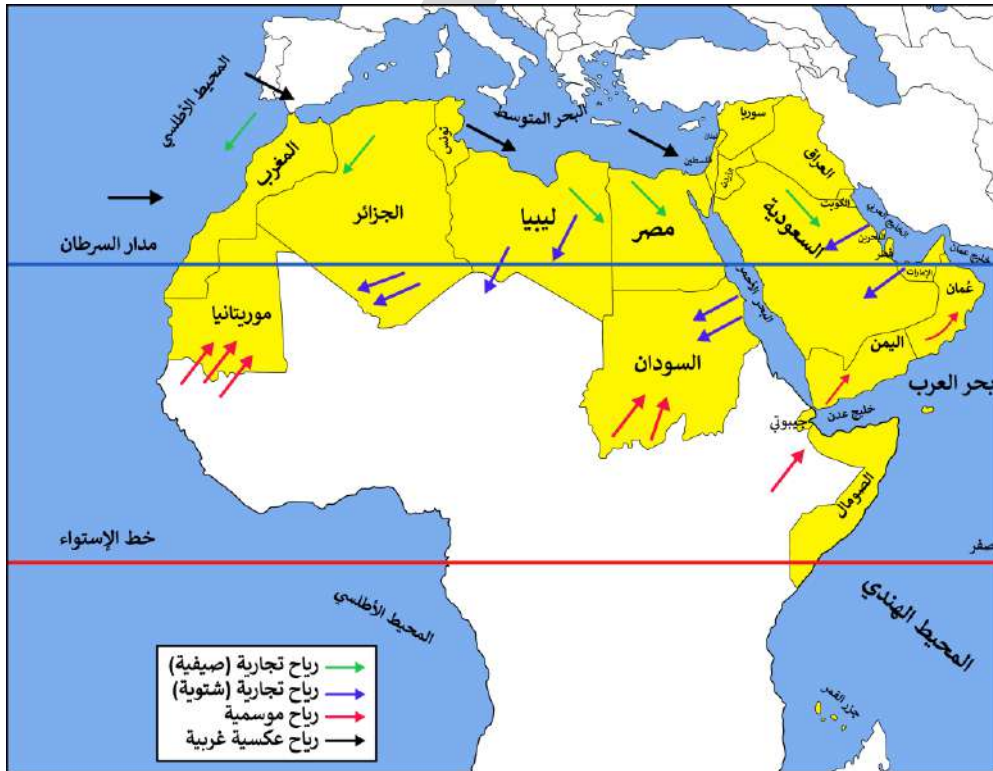


## تدرب و تفوق

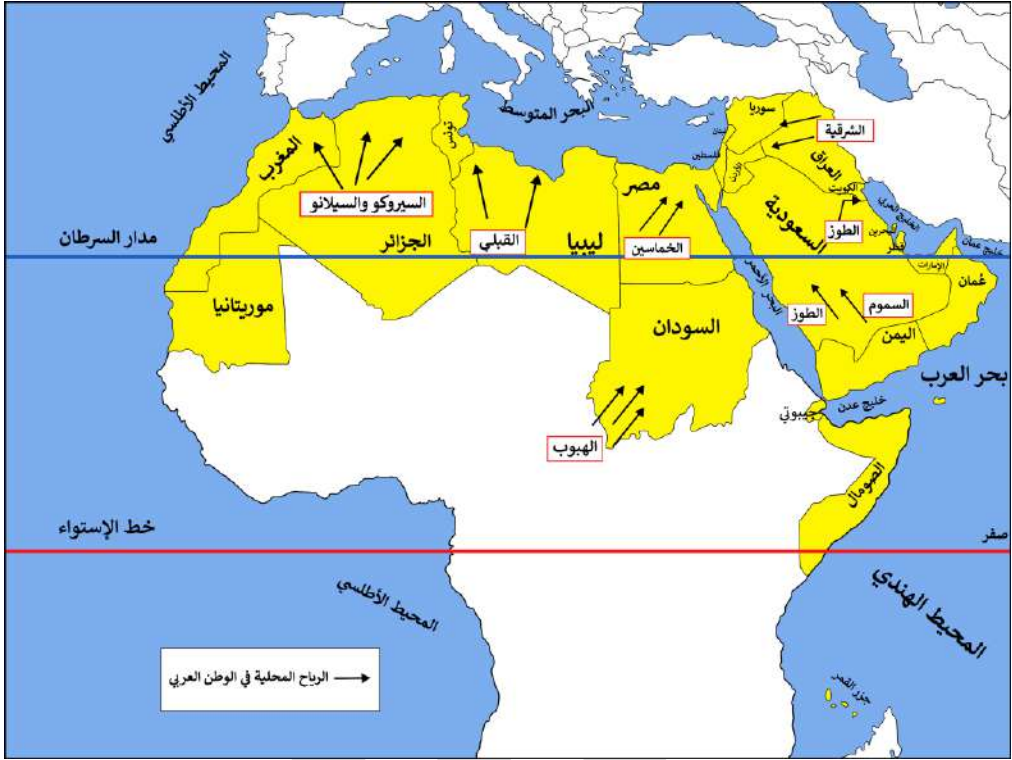
اختبارات الكترونية ذكية



## خريطة الرياح الصيفية والشتوية في الوطن العربي



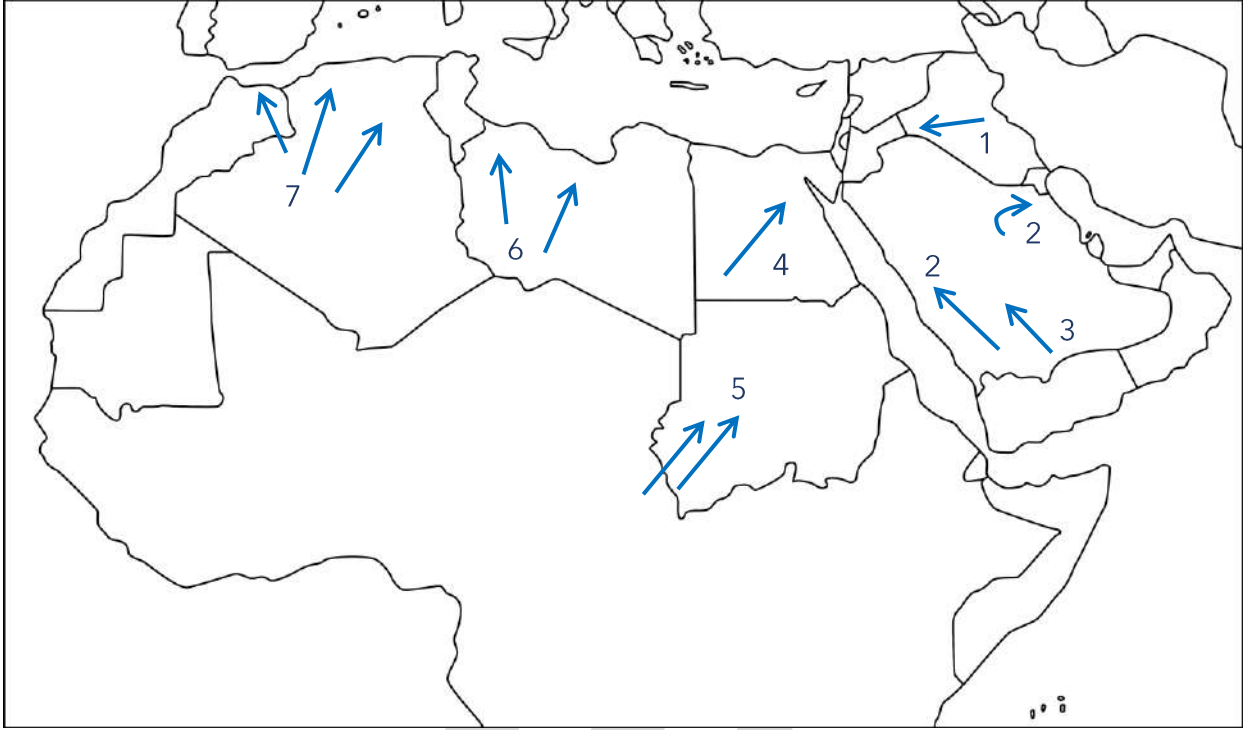
## خريطة الرياح المحلية في الوطن العربي



U U L A



لاحظ خريطة الوطن العربي الصماء ثم اكتب الرقم الدال على كل مما يلي :



- ( 1 )  رياح الشرقية يمثلها الرقم
- ( 2 )  رياح الطوز يمثلها الرقم
- ( 3 )  رياح السموم يمثلها الرقم
- ( 4 )  رياح الخماسين يمثلها الرقم
- ( 5 )  رياح الهبوب يمثلها الرقم
- ( 6 )  رياح القبلي يمثلها الرقم
- ( 7 )  رياح السيروكو والسيلانو يمثلها الرقم

اختر الإجابة الصحيحة :

- الرياح التي لا تنتمي للرياح المحلية في الوطن العربي
- الطوز  السموم  القبلي  عكسية غربية
- تهب رياح الخماسين على دولة عربية في الجناح الأفريقي
- السودان  السعودية  مصر  تونس



صفوة معلمي الكويت

أكمل الجدول التالي :

الدولة	اسم الرياح المحلية
العراق	الشرقية
السعودية	الطوز
السعودية	السموم
السودان	الهبوب
مصر	الخماسين
ليبيا	القبلي
الجزائر - المغرب	السيروكو والسولانو



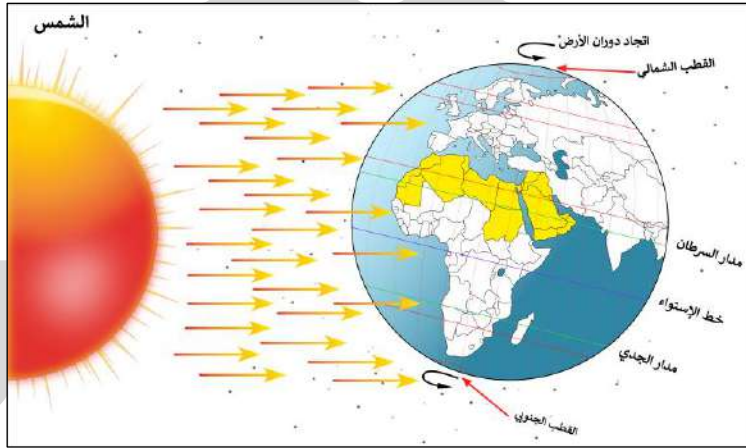
تدرب و تفوق

اختبارات الكترونية ذكية



## المناخ والنبات الطبيعي والثروة المائية مناخ الوطن العربي في فصل الصيف والشتاء

اكتب مدلول الصورة



أشعة الشمس ومناخ الوطن العربي

فرق بين كل من :

### مناخ الوطن العربي في الشتاء

- الشمس عمودية على المنطقة الواقعة بين خط الاستواء ومدار الجدي
- ترتفع الحرارة في جنوب الوطن العربي
- تقل الحرارة كلما اتجهنا شمالاً

### مناخ الوطن العربي في الصيف

- الشمس عمودية في المنطقة بين خط الاستواء ومدار السرطان
- ترتفع الحرارة في وسط الوطن العربي ( صحراء )
- الحرارة معتدلة على سواحل البحر المتوسط
- وشمال الوطن العربي



❑ علل - ترتفع الحرارة في وسط الوطن العربي صيفاً  
الشمس عمودية في المنطقة بين خط الاستواء ومدار السرطان

❑ علل - ترتفع الحرارة في جنوب الوطن العربي شتاءً  
الشمس عمودية على المنطقة الواقعة بين خط الاستواء ومدار الجدي

### اختر الإجابة الصحيحة

❑ يحدث فصل الصيف في الوطن العربي عندما تكون الشمس عمودية على المنطقة الواقعة بين كل من :

○ خط الاستواء ومدار السرطان

○ خط الاستواء ومدار الجدي

○ خط الاستواء وخط جرينتش

○ خط الاستواء والقطب الشمالي

❑ الفصل السائد في الوطن العربي عندما تكون الشمس عمودية في المنطقة بين خط الاستواء ومدار الجدي:

○ الشتاء

○ الخريف

○ الصيف

○ الربيع



تدرب و تفوق

اختبارات الكترونية ذكية

U U L A



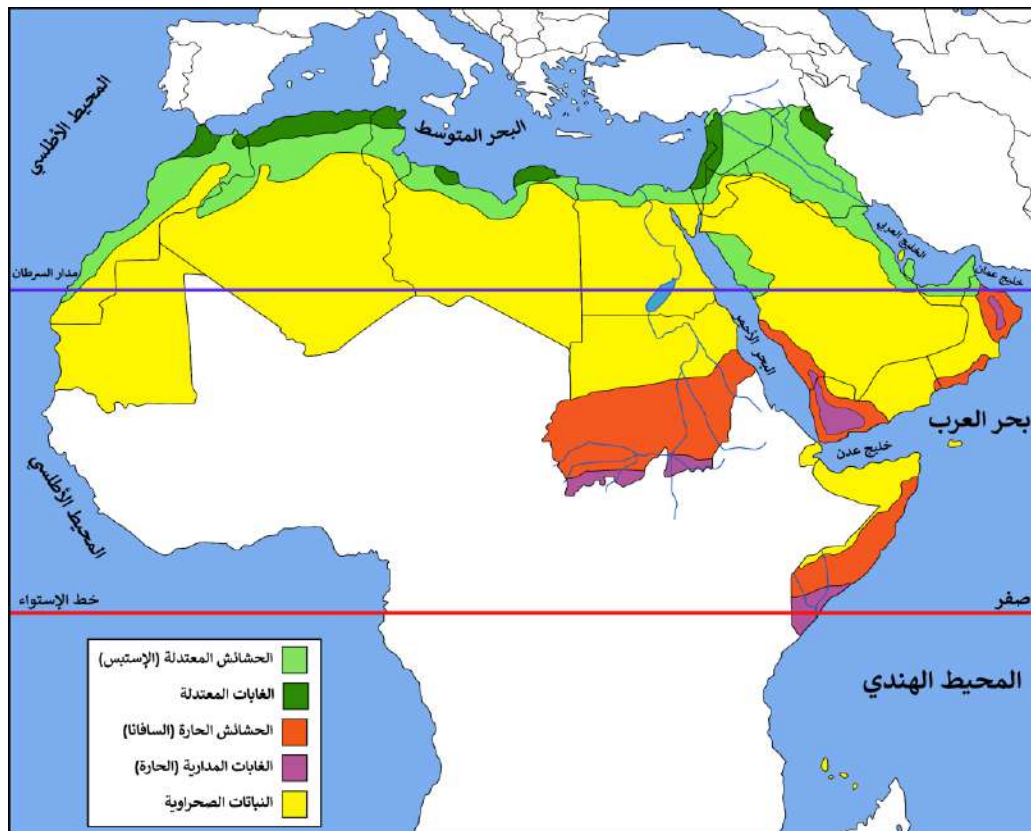


# النبات الطبيعي في الوطن العربي

هو النبات الذي ينمو تلقائياً عقب سقوط المطر دون تدخل من الإنسان

النبات الطبيعي

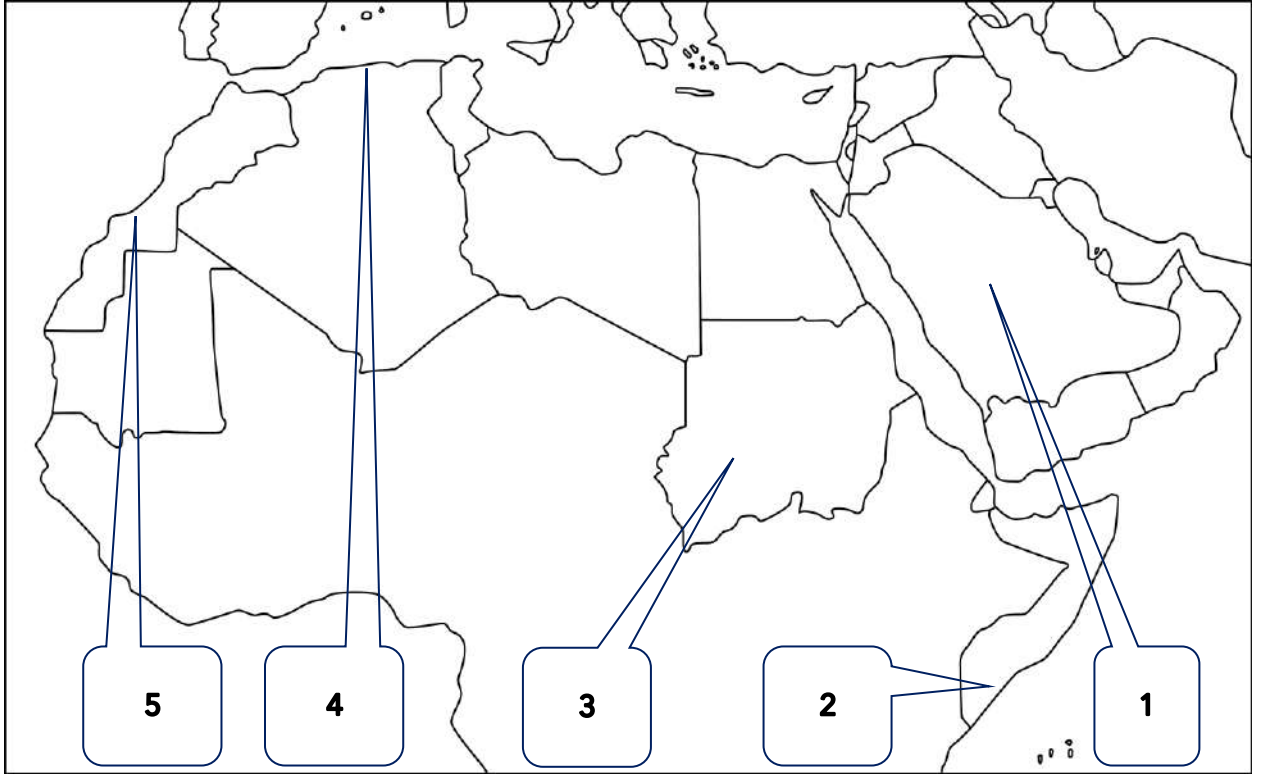
اكتب مدلول الخريطة المقابلة



توزيع النبات الطبيعي في الوطن العربي

U U L A





- ٥ الغابات المعتدلة تحمل على الخريطة الرقم ( 4 )
- ٥ النباتات الصحراوية تحمل على الخريطة الرقم ( 1 )
- ٥ الحشائش الحارة ( السافانا ) تحمل على الخريطة الرقم ( 3 )
- ٥ الحشائش المعتدلة ( الاستبس ) تحمل على الخريطة الرقم ( 5 )
- ٥ الغابات المدارية الحارة تحمل على الخريطة الرقم ( 2 )

٥ عدد العوامل المؤثرة في تنوع النبات الطبيعي في الوطن العربي

- نوع التربة
- المناخ

٥ علل - التربة من العوامل المؤثرة في تنوع النبات الطبيعي بالوطن العربي

لأن التربة هي التي تمد النبات بالغذاء وهي متنوعة

٥ علل - للمناخ تأثير في تنوع النبات الطبيعي بالوطن العربي

- نتيجة اختلاف درجات الحرارة
- نتيجة لاختلاف كمية الأمطار ومواسمها



تدرب و تفوق

اختبارات الكترونية ذكية



الحياة النباتية في الوطن العربي



قارن بين كل من :

☆ ممكن أن يأتي السؤال بصيغ أخرى: عدد - علل

الغابات المعتدلة	الغابات المدارية	اوجه المقارنة
<ul style="list-style-type: none"> <li>عدم كثافتها</li> <li>بعضها يكون دائم الخضرة</li> <li>بعضها تتساقط أوراقه في فصل الشتاء</li> </ul>	<ul style="list-style-type: none"> <li>ضخامة أشجارها وجذوعها</li> <li>تشابك أغصانها</li> <li>أوراقها عريضة</li> <li>ارتفاعها كبير</li> </ul>	مميزاتها
الأرز - العرعر - الصنوبر الحلبي البلوط - السنديان - الزيتون - التفاح الحمضيات - الفواكه الأخرى البرية	الساج - الماهوجني - التاك - الأبنوس السدر - الأثل - السنط	أسماء أهم الأشجار
يستخدم لحاء البلوط والسنديان في صناعة الفلين	أخشابها تستخدم في البناء - صناعة الأثاث	استخداماتها

اكتب مدلول الصور التالية



الغابات المعتدلة



الغابات المدارية الحارة

اختر الإجابة الصحيحة

إقليم الغابات الذي تنتشر فيه أشجار الأرز يسمى

- الغابات الاستوائية  
○ الغابات الموسمية

- الغابات المدارية  
○ الغابات المعتدلة

أهم أشجار الغابات المدارية الحارة :

○ الساج

○ السنديان

○ العرعر

○ البلوط

أشجار تنمو في الوطن العربي تستخدم في صناعة الفلين :

○ الساج

○ البلوط

○ العرعر

○ الأبنوس

**لاحظ العلم الذي أمامك فهو لدولة عربية في الجناح الآسيوي:**



○ اسم هذه الدولة العربية لبنان

○ ما اسم النبات المرسوم على علم هذه الدولة الأرز

○ ما اسم الغابات التي ينتمي إليها هذا النبات الغابات المعتدلة



**تدرب و تفوق**

اختبارات الكترونية ذكية



○ قارن بين كل من :

وجه المقارنة	الحشائش الحارة	الحشائش المعتدلة
الاسم	السافانا	الاستبس
التعريف	هي حشائش طويلة يختلف نوعها حسب كمية المطر	هي حشائش قصيرة نوعاً ما تنمو خلال موسم سقوط الأمطار
الأهمية الاقتصادية	تربي عليها الماشية	صناعة الورق والجلود والحصر تربي عليها الأغنام والإبل والخيول والحمير

○ اكتب مدلول الصور التالية



الحشائش المعتدلة ( الإستبس )



الحشائش الحارة ( السافانا )

○ عدد أقسام السافانا

- طويلة
- متوسطة
- قصيرة

○ علل - اختلاف أنواع حشائش السافانا في الوطن العربي

حسب كمية الأمطار

❑ اختياري : حشائش الأستبس في بلاد المغرب تسمى :

○ الصبار

○ الحنظل

○ السنوبر

○ العرفج

❑ لاحظ الصور التي أمامك ثم أجب الأسئلة التالية :

❑ ما أسم النبات في الصور المقابلة

( أ ) الصبار

( ب ) النخيل ( نباتات صحراوية )



ب



أ

❑ عدد الوسائل التي تتخذها النباتات الصحراوية لمقاومة الجفاف

★ ممكن أن يأتي السؤال بصيغة أخرى: عدد أهم الخصائص النباتية للنباتات الصحراوية

- جذورها طويلة
- القدرة على تخزين المياه
- تحمي نفسها بلحاء سميك وأوراق إبرية

❑ علل - النباتات الصحراوية لها قدرة على تخزين المياه

لأنها تحمي نفسها بلحاء سميك وأوراق إبرية

❑ اكتب مدلول الصورة المقابلة



النباتات الصحراوية

❑ عدد أهم الحيوانات السائدة في الوطن العربي

- الإبل - الماعز - الضب - الأرناب البرية
- الحشرات كالجراد والعقارب والخنفساء
- الطيور كالصقور واليوم والحباري
- الزواحف كالأفاعي
- الحيوانات القارضة كالفتران والجربوع

❑ اكتب مدلول الصور التالية:



الضب




الحباري



العقرب



الجربوع



## لاحظ الصورة التي أمامك ثم أجب الأسئلة التالية:

❏ ما اسم هذا الحيوان : الجمل

❏ ما لقب هذا الحيوان : سفينة الصحراء

❏ ما الصفات التي يمتاز بها :

- السير مسافات طويلة في الصحراء
- تحمل الجوع والعطش لأوقات طويلة

❏ أكمل الجدول التالي :

التوزيع الجغرافي ( أين تنتشر )	نوع
الصومال - السودان - اليمن - عمان - السعودية	الغابات المدارية الحارة
المغرب - الجزائر - تونس - ليبيا - فلسطين - لبنان الأردن - سوريا - العراق	الغابات المعتدلة
الصومال - السودان - اليمن - عمان - السعودية	الحشائش الحارة
المغرب - الجزائر - تونس - ليبيا - مصر - فلسطين - الأردن - سوريا - العراق - الكويت - السعودية - قطر - الإمارات - عمان	الحشائش المعتدلة
جزر القمر - الصومال - جيبوتي - السودان - مصر - ليبيا - تونس - الجزائر - موريتانيا - فلسطين - الأردن - العراق - السعودية - الإمارات - عمان - اليمن	نباتات صحراوية



تدرب و تفوق

اختبارات الكترونية ذكية



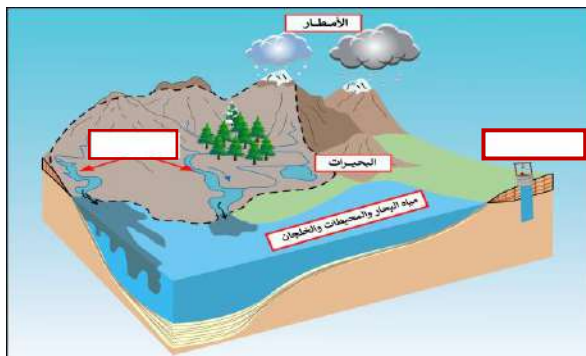


# الثروة المائية في الوطن العربي

عدد مصادر المياه في الوطن العربي



لاحظ الصورة التي أمامك لإكمال العبارات الآتية بما يناسبها :



الصورة المقابلة تمثل .

مصادر المياه في الوطن العربي

اذكر العناصر الناقصة .

- المياه الجوفية
- الأنهار

مجري مائي عذب ينحدر على الدوام لينتهي إلى بحر أو إلى نهر آخر أو ينتهي تدريجياً في الصحراء

**النهر**

أكمل : أهم مصادر المياه في الوطن العربي وتمتاز بأنها مياه عذبة تسمى **الأنهار**



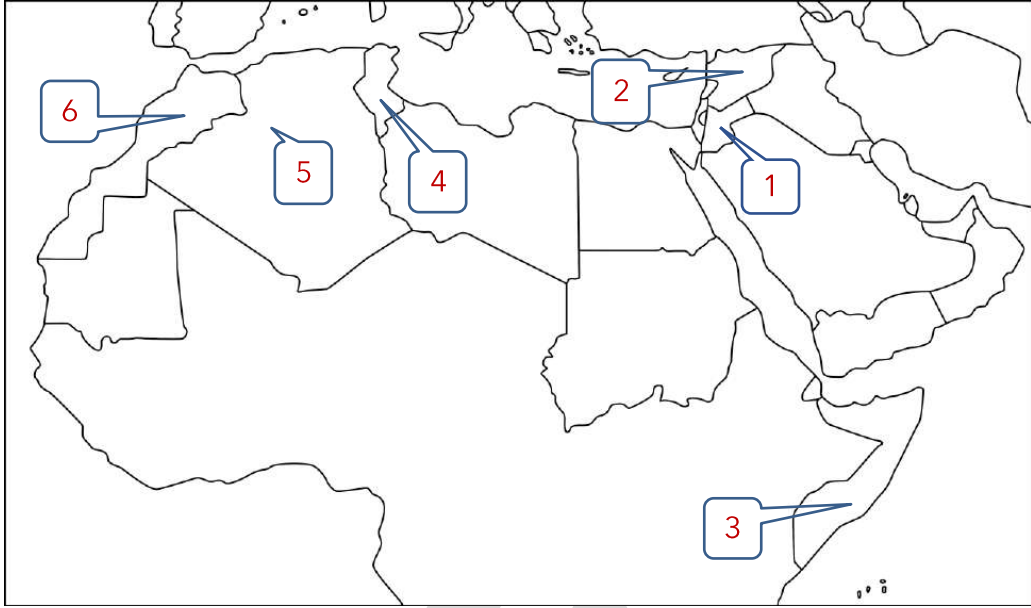
اكتب مدلول الخريطة .

خريطة أهم الأنهار في الوطن العربي





لاحظ خريطة الوطن العربي الصماء ثم اكتب الرقم الدال على كل مما يلي :



ارسم مجرى نهر النيل	الأردن	نهر الأردن يمثل الرقم 1
	سوريا	نهر العاصي يمثل الرقم 2
	الصومال	نهر شبيلي ونهر جوبا يمثلها الرقم 3
ارسم نهري دجلة والفرات	تونس	نهر المجردة يجري في دولة عربية يمثلها الرقم 4
	الجزائر	نهر الشليف يجري في دولة عربية يمثلها الرقم 5
أنهار ( سبو - أبو رقرق - أم الربيع - السوس ) تجري في دولة عربية يمثلها الرقم 6		

أكمل : يصب نهر دجلة والفرات في مسطح مائي يسمى الخليج العربي

عدد صفات المطر في الوطن العربي

- تذبذب كميتها بين عام وآخر وتسقط في أيام معدودة
- تكاد تقتصر على الأطراف الشمالية والجنوبية
- الأمطار قليلة بصفة عامة ما عدا المناطق التي تقع من ورائها الجبال مثل سواحل المغرب ولبنان



تدرب و تفوق

اختبارات الكترونية ذكية



عدد - أشكال المياه الجوفية في الوطن العربي



هي المياه التي توجد في جوف الأرض ( باطن الأرض )

المياه الجوفية

الماء الجاري وهو مجرى صغير مائي في الأرض

الأفلاج

مسطح مائي تحيط به اليابسة من جميع الجهات

البحيرة

### أكمل العبارات التالية:

☆ ممكن أن يأتي السؤال بصيغة أخرى: اختياري

- ٥ تنتشر الآبار في المناطق الصخرية حيث توجد في الوحدات
- ٥ المناطق التي تنتشر فيها الواحات تسمى المناطق الصخرية
- ٥ المياه الجوفية لها مصادر منها الأمطار
- ٥ تتم الاستفادة من مياه البحار المالحة بعد تحليلها
- ٥ الدول التي تتبع طريقة تحليل مياه البحر تقل فيها مصادر المياه العذبة
- ٥ تنتشر تحليل مياه البحر في دول الخليج العربي و ليبيا
- ٥ العام الميلادي الذي اعتمدت فيه دولة الكويت اعتماداً كاملاً على تحليل مياه البحر 1953م
- ٥ أول محطة لتحليل مياه البحر في دولة الكويت عام 1953م تسمى الشويخ
- ٥ أهم محطات تحليل مياه البحر في دولة الكويت الشويخ و الدوحة



- ٥ المنطقة التي يوجد فيها أهم محطات تحليل مياه البحر في المملكة العربية السعودية تسمى الإحساء
- ٥ الدولة العربية التي يوجد بها محطات رأس عبود وأبو فنتاس لتحليل مياه البحر تسمى قطر

٥ اختياري : من محطات تحليل مياه البحر في دولة الكويت محطة :

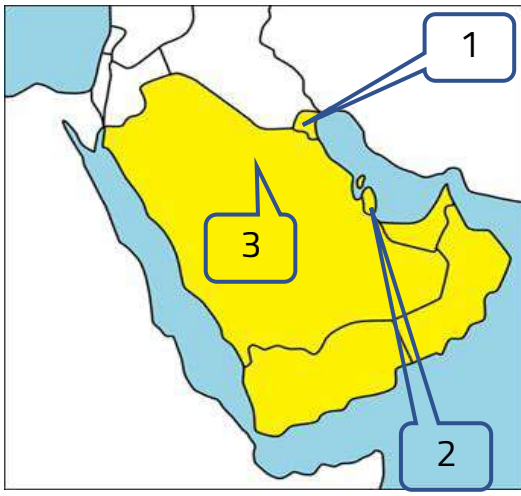
- رأس عبود ○ أبو فنتاس ○ الشويخ ○ الإحساء



تدرب و تفوق

اختبارات الكترونية ذكية





### لاحظ الخريطة التالية ثم أجب عما يلي :

- الدولة العربية التي توجد فيها محطة الشويخ يمثلها الرقم **1**
- الدولة العربية التي توجد فيها محطة أبو فنطاس يمثلها الرقم **2**
- الدولة العربية التي تنتشر فيها محطات تحلية المياه في منطقة الإحساء يمثلها الرقم **3**

بماذا تفسر اتجاه عدد من الدول العربية إلى البحار لتأمين حاجاتها من المياه العذبة بسبب قلة مصادر المياه العذبة

دلل - تعتمد دول الخليج العربية على مياه البحار المالحة بعد تحليتها

- تتعتمد دولة الكويت اعتماداً كاملاً على تحلية المياه منذ بداية 1953م
- تنتشر في السعودية محطات لتحلية المياه أهمها منطقة الإحساء
- توجد في قطر محطات لتحلية المياه كمحطة رأس عبود وأبو فنطاس
- تنتشر في الإمارات محطات لتحلية المياه

عدد المسطحات المائية التي تعتمد عليها دول الخليج في تحلية مياه البحر

- الخليج العربي
- خليج عمان



### تدرب و تفوق

اختبارات الكترونية ذكية



نسبة استخدام المياه المحلاة	
النسبة	الدولة
55%	الكويت
31%	البحرين
8%	السعودية
27%	الإمارات
38%	قطر
5%	ليبيا

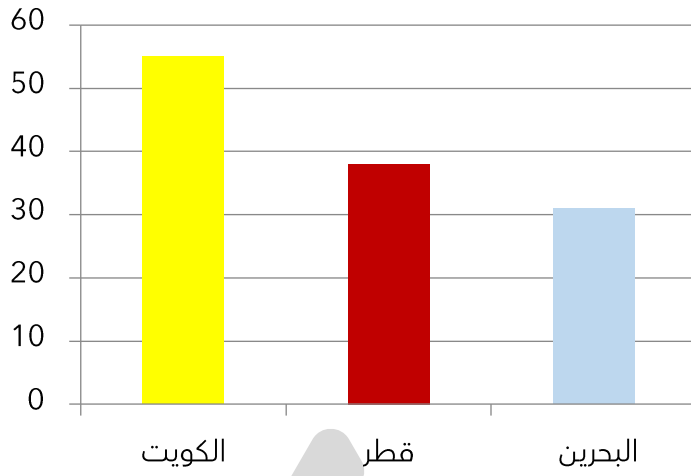
### لاحظ الجدول الذي أمامك ثم أجب عما يلي :

أكثر الدول العربية إنتاجاً للمياه المحلاة الكويت

رتب الدول الثلاث الأولى تنازلياً من حيث نسبة استخدام المياه المحلاة.

الكويت - قطر - البحرين

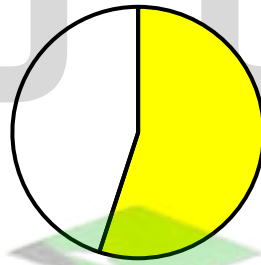
حول نسبة استخدام الدول الثلاث الأولى للأعمدة بيانية .



حول نسبة استخدام ( ليبيا - الإمارات - السعودية ) للأعمدة بيانية .



حول نسبة استخدام المياه المحلاة في دولة الكويت لدائرة بيانية



دولة الكويت

اختياري : نسبة استخدام دولة الكويت من مياه البحر المحلاة

8% ○

27% ○

38% ○

55% ○

❏ اقترح مما درست حلول مناسبة للمحافظة على الثروة المائية.

- ترشيد استخدام المياه والحد من التبذير في المنازل
- الحد من هدر المياه في عمليات الري
- تنظيم عملية الاستفادة من المياه الجوفية ومنع تسرب الأملاح إليها
- تطوير استعمال مياه الصرف الصحي المعالجة في الزراعة
- إقامة البحيرات والسدود لتجميع مياه الأمطار والسيول للاستفادة منها وقت الجفاف
- توقيع اتفاقيات مع الدول المشاركة ودول المنبع لتحقيق المصالح العربية

❏ عدد الوسائل الحديثة للحد من هدر المياه في عمليات الري

- الري بالرش
- الري بالتنقيط المحوري

❏ بالاستعانة بالصور التالية اذكر أهم مصادر المياه الرئيسية في الوطن العربي



الأنهار



الأمطار



البحار



تدرب و تفوق

اختبارات الكترونية ذكية

U U L A





# الأهمية الحضارية للوطن العربي

كل ما يطرأ على المجتمع من تقدم وتطور ورفي في جميع نواحي الحياه الدينية والسياسية والاقتصادية والاجتماعية والفكرية

## الحضارة

عدد عوامل ( مقومات ) قيام الحضارة

☆ ممكن أن يأتي السؤال بصيغة أخرى: علل - كان الوطن العربي مركزاً للحضارات المختلفة عبر التاريخ



عدد أهم الحضارات القديمة في الوطن العربي



اكتب مدلول الصور التالية



آثار تدمر



أسد بابل



الأهرامات



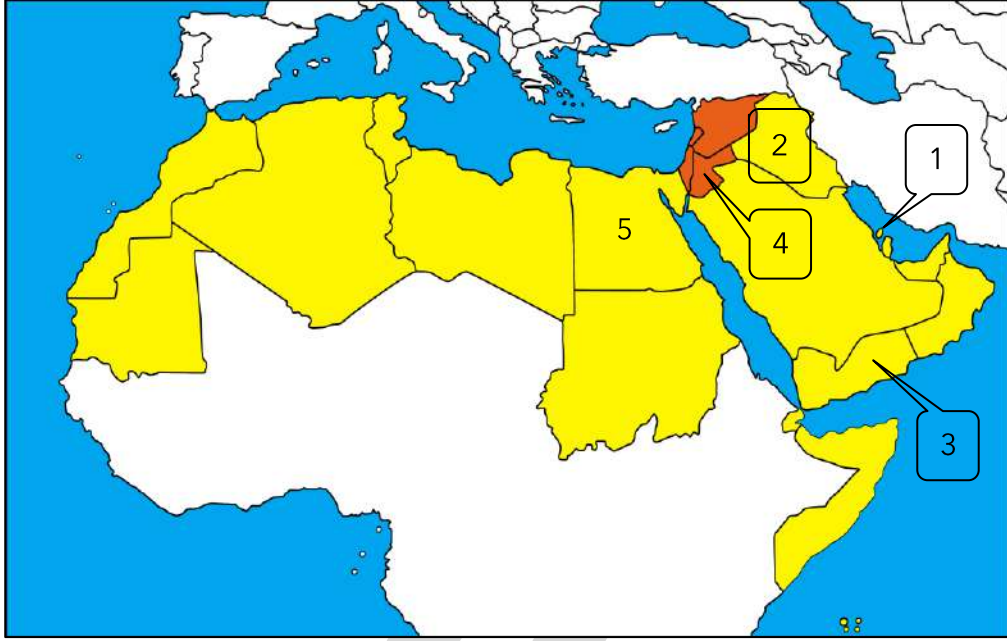
سد مأرب



معبد باربار



## لاحظ خريطة الوطن العربي الصماء ثم اكتب الرقم الدال على كل مما يلي :



- ( 1 ) يعتبر معبد باربار مظهرًا من مظاهر حضارة قديمة في الوطن العربي يمثلها الرقم
  - ( 2 ) يعتبر أسد بابل مظهرًا من مظاهر حضارة قديمة في الوطن العربي يمثلها الرقم
  - ( 3 ) يعتبر سد مأرب مظهرًا من مظاهر حضارة قديمة في الوطن العربي يمثلها
  - ( 4 ) تعتبر آثار تدمر مظهرًا من مظاهر حضارة قديمة في الوطن العربي يمثلها
  - ( 5 ) تعتبر الأهرامات مظهرًا من مظاهر حضارة قديمة في الوطن العربي يمثلها
- علل- الحضارات التي قامت في الوطن العربي بلغت درجة كبيرة من الرقي والتقدم

- برعت في الفنون والآداب والعلوم
- تقدمت في مجالات الزراعة والصناعة والتجارة



**تدرب و تفوق**

اختبارات الكترونية ذكية





# الوطن العربي مهد الحضارات والديانات السماوية


## الحضارة المصرية القديمة

### لاحظ الصورة المقابلة ثم أجب عما يلي



- ❑ الصورة المقابلة تمثل قطعة أثرية ترجع لحضارة تسمى الحضارة المصرية القديمة
- ❑ القطعة الأثرية المقابلة توجد في متحف يسمى المتحف المصري
- ❑ كم عمر هذه القطعة الأثرية آلاف السنين

### أكمل العبارات التالية :



- ❑ الورق المستخدم في الكتابة عند المصريين القدماء يسمى الورق البردي
- ❑ حضارة من الحضارات القديمة في العالم والأكثر آثاراً ولا تزال بعض آثارها قائمة حتى الوقت الحاضر تسمى الحضارة المصرية القديمة

❑ علل- للعوامل الطبيعية دور مهم في قيام الحضارة المصرية القديمة وتطورها

- حمايتها من الغزوات
- استقرار سكانها
- سهولة الدفاع عنها
- ممارستها للأنشطة المختلفة

❑ عدد العوامل التي ساعدت على قيام الحضارة المصرية القديمة

★ ممكن أن يأتي السؤال بصيغة أخرى: عدد العوامل الطبيعية التي ساعدت على قيام الحضارة المصرية القديمة

- تنوع الصخور والمعادن
- امتداد الصحراء
- نهر النيل
- اعتدال المناخ وجفافه

❑ اختر للقائمة ( ب ) ما يناسبها من القائمة ( أ ) بكتابة الرقم المناسب :

م	( أ )	الرقم المناسب	( ب )
1	ربط بين أجزاء البلاد من الشمال إلى الجنوب وساعد على الاستقرار	2	اعتدال المناخ وجفافه
2	المحافظة على الآثار من التلف	3	تنوع الصخور والمعادن
3	ساعد المصريين على نحت التماثيل وبناء المعابد	4	امتداد الصحراء
4	جعل الحضارة المصرية في أمن وحماية طبيعية	1	نهر النيل

صفوة معلم الكويت



عدد أهم مظاهر الحضارة المصرية القديمة

- الحياة الاقتصادية
- المعتقدات الدينية
- العلوم والفنون

" نشطت الحياة الاقتصادية في مصر القديمة " دلت على صحة العبارة

- تقدمت الزراعة وتطورت أساليبها
- تنوع المحاصيل مثل القمح وتربية الماشية
- برع المصريون القدماء في الصناعة وخاصة صناعة الأواني الفخارية والمعدنية

فرق بين كل من :

☆ ممكن أن يأتي السؤال بصيغة أخرى: عدد

أهم صناعات الحضارة المصرية القديمة	أهم محاصيل الحضارة المصرية القديمة
الأواني الفخارية - الأواني المعدنية الملابس الكتانية - السفن - الورق	القمح - الفواكه - البقول - الكتان

البعث والخلود عودة الحياة إلى الجسم بعد الموت



مراحل التحنيط

علل - اهتمام المصريين القدماء بتحنيط الجثث وبناء القبور  
لأنهم اعتقدوا أن الحياة تعود إلى الجسم بعد الموت ( البعث والخلود )

ما النتائج المترتبة على اعتقاد المصريون القدماء بالبعث والخلود

- حرصوا على تحنيط جثث موتاهم
- اهتموا ببناء القبور
- إقامة المعابد الفخمة للآلهة

عدد العلوم والفنون التي تقدم فيها المصريون القدماء

- الفلك
- الكيمياء
- التحنيط
- النحت
- البناء
- الكتابة





فن النحت



بناء الأهرامات

الهيروغليفية

أكمل - عرفت الكتابة المصرية القديمة باسم

أ	ب	ج	د
هـ	و	ز	ح
ط	ي	ك	ل
م	ن	س	ع
ف	ق	ظ	ش
ص	ض	ط	ظ
ك	ي	هـ	د
ر	ق	ظ	ن



تدرب و تفوق

اختبارات الكترونية ذكية

U U L A





## حضارة بلاد الرافدين

هي بلاد ما بين النهرين ويطلق عليها حالياً اسم العراق

**بلاد الرافدين**



### أكمل العبارات التالية:

- ❑ حضارة بلاد الرافدين قامت بين نهري دجلة و **الفرات**
- ❑ حضارة سميت بلاد ما بين النهرين قديماً ويطلق عليها حالياً اسم **العراق**
- ❑ عدد الشعوب التي سيطرت على بلاد الرافدين في تاريخها القديم **خمس شعوب**
- ❑ الخريطة المقابلة تمثل **الممالك التي قامت في بلاد الرافدين**



❑ علل - تعدد أسماء الحضارات في بلاد الرافدين

- سيطرت خمس شعوب متتالية على بلاد الرافدين
- سميت تلك الحضارات بأسماء المناطق والمدن التي قامت فيها

❑ عدد أهم الحضارات التي قامت في بلاد الرافدين ( خمس حضارات )



❑ علل - بلاد الرافدين كانت موطناً للعديد من الحضارات القديمة

☆ يمكن أن يأتي السؤال بصيغة أخرى: عدد- عوامل قيام الحضارة في بلاد الرافدين

- الموقع الممتاز
- خصوبة التربة
- وفره المياه العذبة

❑ عدد أهم المظاهر الحضارية في بلاد الرافدين

- الحياة الاقتصادية
- العلوم والفنون
- الحياة الفكرية

عدد الأنشطة الاقتصادية التي مارسها سكان بلاد الرافدين

- الزراعة
- التجارة
- الصناعة

علل - ازدهرت الزراعة في حضارات بلاد الرافدين


☆ ممكن أن يأتي السؤال بصيغة أخرى: علل - عرف سكان بلاد الرافدين الزراعة

- خصوبة تربتها
- سعة سهولها
- وفرة مياهها

عدد الأعمال التي قام بها سكان بلاد الرافدين في مجال الزراعة

- أقاموا السدود على الأنهار
- تجفيف المستنقعات
- استصلاح الأراضي

اكتب مدلول الصورة المقابلة



طبيعة بلاد الرافدين

" كان لبلاد الرافدين نشاط تجاري مع بلدان الأقاليم المجاورة " دلل على صحة العبارة

☆ ممكن أن يأتي السؤال بصيغة أخرى: فرق

- استوردوا المعادن والأحجار والأخشاب
- صدروا المنتجات الزراعية والمنسوجات خاصة الصوفية

دلل- تنوعت الصناعات في بلاد الرافدين

☆ ممكن أن يأتي السؤال بصيغة أخرى: عدد الصناعات التي اشتهرت بها حضارة بلاد الرافدين

اشتهروا بصناعة الحلي والأواني الفخارية

اكتب مدلول الصور التالية



آنية فخارية تعود للعصر الأكادي



عقد بابلي



دلل- تطورت العلوم والفنون لدي سكان بلاد الرافدين

☆ ممكن أن يأتي السؤال بصيغة أخرى: عدد

- برعوا في علوم الهندسة والحساب والفلك والطب
- أهم الفنون لديهم فن النحت والبناء والرسم و الأواني الفخارية

عدد العلوم التي اشتهر بها سكان بلاد الرافدين

- الهندسة
- الحساب
- الفلك
- الطب

عدد الفنون التي اشتهر فيها سكان بلاد الرافدين

- النحت
- الرسم
- البناء
- الأواني الفخارية

اكتب مدلول الصور المقابلة



فن النحت



حدائق بابل المعلقة

أكمل العبارات التالية:

- تعتبر حدائق بابل مظهر من مظاهر حضارة تسمى بلاد الرافدين
- الكتابة التي اشتهرت في حضارة بلاد الرافدين تسمى المسمارية
- الكتابة المسمارية حروفها تشبه المسار
- عدد حروف الكتابة المسمارية 600 حرف



صفوة معلمي الكويت

أ	ب	ح	د
و	ز	ح	ط
ش	س	ع	ف
س	ع	ف	م
ث	ج	د	هـ
د	هـ	و	ز
ر	ق	ك	ل

من أقدم أنواع الكتابة في العالم وحروفها تشبه المسامير تسمى **المسمارية**

اختياري: الحضارة التي اخترعت الكتابة المسمارية في بلاد الرافدين

- السومريون
- الكلدانيون
- البابليون
- الآشوريون

عدد الأدوات المستخدمة في الكتابة المسمارية

- ألواح من الطين الطري
- أقلام تشبه المسامير



لاحظ الصورة التي أمامك ثم أجب عما يلي :

اكتب - اسم الشخصية الموضحة في الصورة : **حمورابي**

أكمل - الحضارة التي ظهر فيها تسمى **بلاد الرافدين - البابلية**

دل على انتشار الأمن والأمان في عهده .

ظهرت في بلاد الرافدين شرائع قانونية قديمة أهمها شريعة حمورابي

اكتب في ضوء دراستك ما تعرفه عن شريعة حمورابي

☆ ممكن أن يأتي السؤال بصيغة أخرى: **اختياري**

- احتوت الشريعة على 282 مادة قانونية
- اعتمدت على مبدأ السن بالسن والعين بالعين
- أدت إلى انتشار الأمن والأمان في البلاد

اكتب النتيجة المترتبة التي حققتها شريعة حمورابي في بلاد الرافدين

انتشار الأمن والأمان في البلاد

**اختر الإجابة الصحيحة**

أشهر ملوك الحضارة البابلية في العراق ملك يسمى

- سبأ
- حمورابي
- بلقيس
- رمسيس

الصورة المقابلة تمثل

- مسلة حمورابي
- مراحل التحنيط



عدد مظاهر الحياة الفكرية في بلاد الرافدين

- اختراع السومريون نوعاً من الكتابة عرفت بالكتابة المسمارية
- ظهرت شرائع قانونية أهمها شريعة حمورابي



تدرب و تفوق

اختبارات الكترونية ذكية



الوطن العربي مهد الحضارات والديانات السماوية

## حضارة جنوب غرب شبه الجزيرة العربية ( بلاد اليمن )

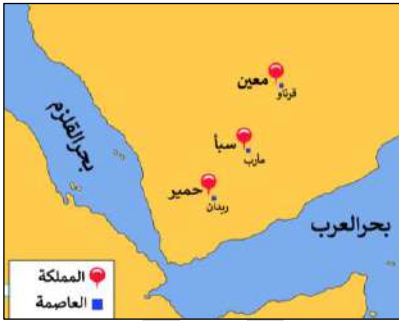
علل - تعد منطقة جنوب غرب شبه الجزيرة العربية من أكثر مناطق شبه الجزيرة ملائمة لقيام الحضارة

☆ ممكن أن يأتي السؤال بصيغة أخرى: اقتصر ظهور المجتمعات الحضارية في بلاد اليمن

- توافر المياه العذبة
- المناخ المناسب لقيام الزراعة
- الموقع الذي يسمح بقيام النشاط التجاري

عدد أهم الدويلات التي ظهرت في منطقة جنوب غرب شبه الجزيرة العربية

- معين
- سبأ
- حمير




قارن بين كل من :

☆ ممكن أن يأتي السؤال بصيغة أخرى: اختياري - أكمل

حضارة حمير	حضارة سبأ	حضارة معين	اوجه المقارنة
115ق.م - 525 م	950 - 115 ق . م	650 - 1300 ق . م	الفترة الزمنية
جنوب بلاد اليمن	وسط بلاد اليمن	شمال بلاد اليمن	الموقع بالنسبة لبلاد اليمن
ريدان	مأرب	قرناو	العاصمة ( أهم المدن )
مائدة قرابين	نقش سبأ بالخط المسند	مدينة بثل الدينية	أهم المعالم



مائدة قرابين



نقش سبأ



مدينة بثل الدينية

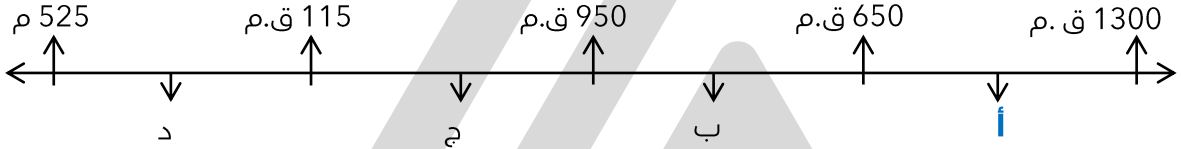
### اختر الإجابة الصحيحة

تأسست حضارة بلاد اليمن منذ :

○ الألف الثالث ( ق. م )  
○ الألف الرابع ( ق. م )

○ الألف الأول ( ق. م )  
○ الألف الثاني ( ق. م )

الفترة الزمنية التي تمثل حضارة معين يمثلها على المخطط الزمني الحرف



اقرأ الآية الكريمة ثم أجب عما يليها من أسئلة :

( إِبْرِي وَجَدْتُ امْرَأَةً تَمْلِكُهُمْ وَأُوتِيَتْ مِنْ كُلِّ شَيْءٍ وَلَهَا عَرْشٌ عَظِيمٌ )

من هي الملكة التي ذكرت في الآية الكريمة . بلقيس

ما اسم المملكة التي حكمتها . سبأ

المملكة أحد حضارات . بلاد اليمن

اذكر سبب توليها الحكم .

لأن أباه شراحيل بن مالك بن الريان ملك اليمن ولم يكن له أبناء غيرها

عدد المظاهر الحضارية لحضارة جنوب غرب شبه الجزيرة العربية

- المشاريع الزراعية
- التجارة
- الأبجدية بالخط المسند



" اشتهر سكان جنوب غرب شبه الجزيرة العربية بالمشاريع الزراعية " دلل على صحة العبارة

- تنظيم الري عن طريق بناء السدود أشهرها سد مأرب
- أشهر منتجاتها الزراعية الموز واللبن والقرفة







الطبيعة في اليمن



بقايا مأرب

علل - أهل اليمن أسياد التجارة العربية

- سيطروا على الطرق التجارية
- امتدت تجارتهم بين شمال شبه الجزيرة العربية وجنوبها
- التبادل التجاري مع الحضارات المجاورة لها

أقامت حضارة بلاد اليمن علاقات تجارية مع حضارات أخرى ( أذكرها )

- حضارة بلاد الرافدين
- حضارة مصر القديمة
- حضارة بلاد الشام

### أكمل العبارات التالية:

الخط الذي عرف في بلاد اليمن يسمى الخط المسند

الخط المستخدم في الشكل المقابل يسمى الخط المسند

عدد الحروف التي تتألف منها الأبجدية في بلاد اليمن 29 حرف



اقرن بين كل من :

أوجه المقارنة	حضارة بلاد اليمن	حضارة بلاد الرافدين
أسماء الحضارات التي قامت بها	حضارة معين حضارة سبأ حضارة حمير	السومريون - الأكاديون الكلدانيون - البابليون الآشوريون
اسم الكتابة	الأبجدية بالخط المسند	الكتابة المسمارية



تدرب و تفوق

اختبارات الكترونية ذكية





## حضارة دلمون ( البحرين )

### أكمل العبارات التالية :

- ٥ يطلق على البحرين قديماً قبل الفتح الإسلامي اسم أوال
- ٥ الدولة العربية التي أقيمت فيها حضارة دلمون تسمى مملكة البحرين
- ٥ علل أطلق على البحرين قديماً اسم أوال  
نسبة إلى صنم اسمه أوال كانت تعبده قبيلة وائل التي حكمت البحرين آنذاك



- ٥ أكمل - قبيلة حكمت البحرين قديماً وكانت تعبد صنم أوال تسمى قبيلة وائل

- ٥ علل - قامت دلمون وسط حضارات الشرق القديم
- لموقعها وسط الخليج العربي
  - كانت مركزاً مهماً للمواصلات والتجارة البحرية للبلدان المطلة على الخليج العربي والحضارات المجاورة

- ٥ علل - تعد حضارة دلمون مركزاً مهماً للمواصلات والتجارة  
لموقعها وسط الخليج العربي

- ٥ عدد - الحضارات المجاورة لحضارة دلمون

- حضارة بلاد الرافدين
- بلاد اليمن

- ٥ عدد الأنشطة الاقتصادية في حضارة دلمون

☆ ممكن أن يأتي السؤال بصيغة أخرى: دلمون - تنوع نشاط السكان الاقتصادي في حضارة دلمون

- مارسوا الزراعة
- صيد الأسماك
- الغوص على اللؤلؤ



☆ ممكن أن يأتي السؤال بصيغة أخرى: اختياري



قتم لحضارة دلمون



رأس الثور

صنف الكلمات التالية حسب الجدول التالي :  
نقش سبأ - الأهرامات - مسلة حمورابي - رأس الثور

الحضارة المصرية القديمة	حضارة دلمون	حضارة بلاد الرافدين	حضارة بلاد اليمن
الأهرامات	رأس الثور	مسلة حمورابي	نقش سبأ



تدرب و تفوق

اختبارات الكترونية ذكية

U U L A





# الوطن العربي مهد الديانات السماوية الثلاث

علل - يعتبر الوطن العربي مهد الديانات السماوية

لأن الديانات السماوية الثلاث اليهودية والمسيحية والإسلامية نزلت في الوطن العربي

عدد الديانات التي ظهرت في الوطن العربي

☆ ممكن أن يأتي السؤال بصيغ أخرى: **عرف - أكمل**

- الديانة اليهودية : التي نزلت على سيدنا موسى عليه السلام وكتابها التوراة
- الديانة المسيحية : التي نزلت على سيدنا عيسى بن مريم عليه السلام وكتابها الإنجيل
- الديانة الإسلامية : الإسلام خاتم الرسالات السماوية ونزل القرآن الكريم على سيدنا محمد صلواته وسلامه

صنف الأسماء التالية حسب الجدول :

( القرآن الكريم - سيدنا موسى عليه السلام - التوراة - سيدنا محمد صلواته وسلامه - الإنجيل - سيدنا عيسى عليه السلام )

الكتاب	الني	الديانة
القرآن الكريم	سيدنا محمد <small>صلواته وسلامه</small>	الإسلام
الإنجيل	سيدنا عيسى عليه السلام	المسيحية
التوراة	سيدنا موسى عليه السلام	اليهودية

## أكمل العبارات التالية :

العام الميلادي الذي نزل فيه القرآن الكريم على سيدنا محمد صلواته وسلامه **610 م**

نزل القرآن الكريم على سيدنا محمد صلواته وسلامه في **مكة المكرمة**

الكتاب الذي تكفل الله سبحانه وتعالى بحفظه من التحريف والتغيير **القرآن الكريم**

اكتب أسماء الأماكن المقدسة الموجودة في الصور التالية :



المسجد النبوي



المسجد الحرام



المسجد الأقصى



**تدرب و تفوق**

اختبارات الكترونية ذكية



## الحضارة العربية الإسلامية

❑ عدد أهم الأسس التي بنيت عليها حضارة العرب في ظل الإسلام

- الصلاة في نظامها ومواقيتها يترتب عليها نظافة البدن والروح
- الصوم والزكاة التي تحقق التكافل الاجتماعي
- مبادئ الإسلام الشورى العدل والمساواة

❑ أكمل : الرابطة الأساسية التي ربطت أجزاء الحضارة الإسلامية بعضها ببعض هي اللغة العربية.

❑ علل - كانت أوروبا قديماً تعيش في عصور الظلام

بسبب سيطرة الكنيسة على عقول الناس

### أكمل العبارات التالية

❑ الحضارة التي أسهمت في إثراء الحضارة الأوروبية في القرن العاشر الميلادي تسمى الحضارة العربية الإسلامية

❑ الحضارة العربية الإسلامية لها فضل في إثراء الحضارة الأوروبية منذ القرن العاشر الميلادي.

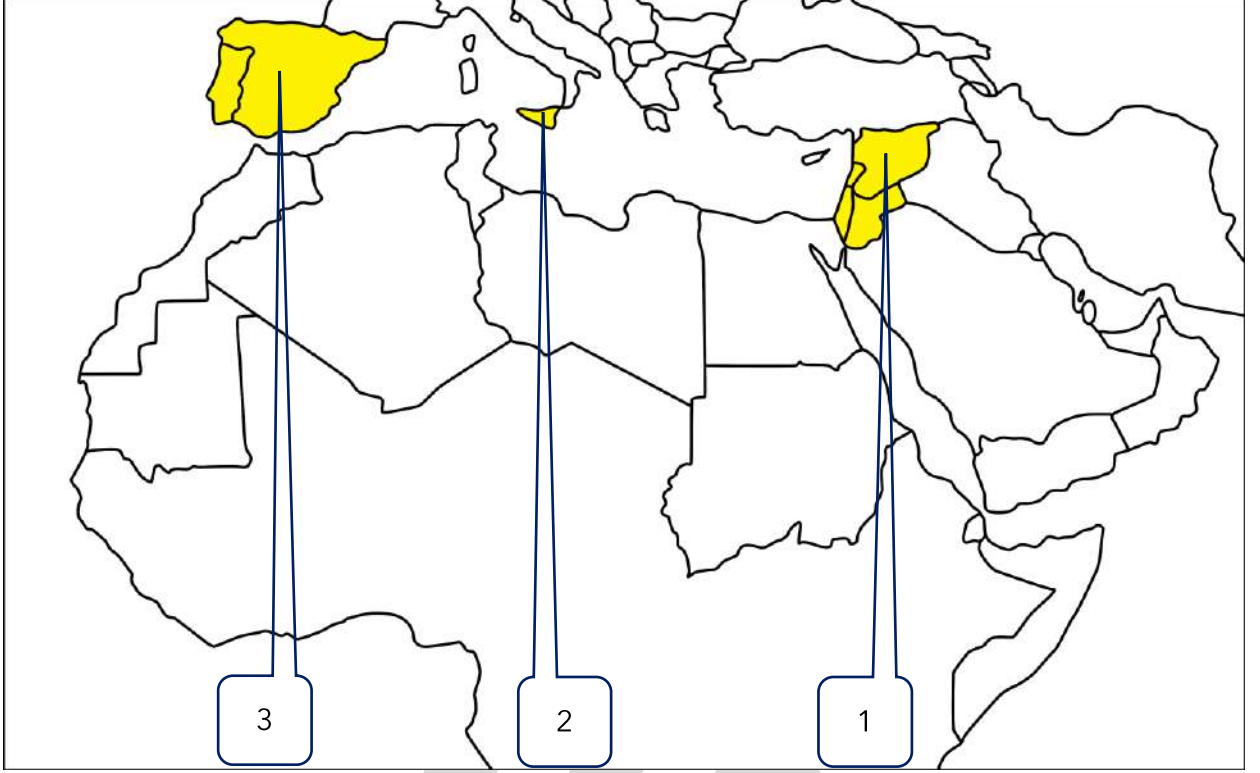
❑ عدد مراكز انتقال الحضارة العربية الإسلامية إلى أوروبا

- بلاد الأندلس
- صقلية
- الاحتلال الصليبي لبلاد الشام

U U L A



لاحظ الخريطة التالية ونفذ المطلوب منك بكل دقة :



( 1 )

( 2 )

( 3 )

بلد الشام يمثلها على الخريطة الرقم

صقلية يمثلها على الخريطة الرقم

بلاد الأندلس يمثلها الرقم

" برع العرب المسلمون (الحضارة الإسلامية) في الجانب المعماري " دال على صحة العبارة



جامع المنصور



قصر الحمراء



مسجد قرطبة



تدرب و تفوق

اختبارات الكترونية ذكية