



الاجتماعيات

الكورس الأول

8



الاجتماعيات

الكورس الأول

8

شلون تتفوق بدراستك

منصة علا تخلي المذكرة أقوى

تبي أعلى الدرجات؟ لا تعتمد على المذكرة بروحها
ادرس صح من الفيديوهات و الاختبارات في منصة علا

700

★ **اختبارات ذكية تدربك**
حل الاختبارات الإلكترونية أول بأول
عشان ترفع مستواك

🎬 **فيديوهات تشرح لك**
تابع الفيديوهات و اسأل المعلم في علا وأنت
تدرس من المذكرة عشان تضبط الدرس



اكتشف عالم التفوق مع منصة علا

لتشترك بالمادة و تستمتع بالشرح
المميز صور أو اضغط على ال QR



UULA

المعلق



هذه المذكرة تغطي المادة كاملة.

في حال وجود أي تغيير للمنهج أو تعليق جزء منه يمكنكم مسح رمز QR للتأكد من المقرر.



المنقذ



أول ما تحتاج مساعدة بالمادة ، المنقذ موجود!

صور ال QR بكاميرا التلفون أو اضغط عليه إذا كنت تستخدم المذكرة من جهازك و يطلع لك فيديو يشرح لك.



قائمة المحتوى

01 لمحة تاريخية عن الحضارة الإسلامية

01

- 5 الحضارة الإسلامية
7 لمحة تاريخية
8 أسس الحضارة الإسلامية
12 مظاهر الحضارة الإسلامية

02 المظاهر العمرانية ومراكز إشعاع الحضارة الإسلامية

02

- 18 المظاهر العمرانية
22 العمائر المدنية
25 مظاهر الحياة الاجتماعية
26 مظاهر الإنجازات العلمية والثقافية
30 مراكز إشعاع الحضارة الإسلامية ودورها في النهضة الأوروبية الحديثة

03 البيئة الطبيعية للعالم الإسلامي

03

- 34 الموقع
36 التضاريس
41 الهضاب
43 السهول

04 المناخ والثروات

04

- 48 المناخ
51 تأثير البيئة الطبيعية على الاقتصاد والمجتمع
54 الثروة المعدنية
56 الثروة الزراعية والسمكية





هي كل ما يطرأ على المجتمع من تقدم وتطور في الجانب المادي أو الروحي

الحضارة

❏ فرق بين كل من

الجوانب الروحية	الجوانب المادية
العلوم - الفكر - الأدب - الأخلاق - السياسة - الثقافة	المساجد - القصور - المستشفيات - المكتبات - الاختراعات - الأدوات

النهضة العلمية والفكرية والأدبية التي انعكست على العالم أجمع و زودته بكافة المجالات و العلوم

الحضارة الإسلامية



أكمل ما يلي :

❏ الدولة التي قامت في المدينة المنورة على يد رسول الله ﷺ تسمى الدولة الإسلامية

❏ قامت الدولة الإسلامية في المدينة المنورة على يد الرسول ﷺ

❏ المكان الذي انطلقت منه الحضارة الإسلامية يسمى المدينة المنورة

❏ القرن الذي ظهرت فيه الحضارة الإسلامية هو القرن الثامن الميلادي

❏ انطلق شعاع الحضارة الإسلامية ليضيء نور شتى بقاع الأرض في كافة الميادين - عددها العلمية - الثقافية - الفكرية - الاقتصادية - السياسية - الاجتماعية - العمرانية - الفنون

❏ دلال - لم تأت الحضارة الإسلامية من العدم

☆ ممكن ان يأتي السؤال بصيغة أخرى: علل كان هناك أسس ثابتة للنهضة الشاملة في الحضارة الإسلامية

- حث الدين الإسلامي على العلم والتعلم
- السعي في الأرض والاستفادة من خيراتها
- استفادة المسلمين في تطوير حضارتهم من الحضارات الأخرى
- تنوع الثقافات والفنون

❏ علل - تسمية الحضارة الإسلامية بهذا الاسم

- لأن اللغة العربية وسيلة التعبير عنها
- الإسلام يمثل روحها وجوهرها



تدرب و تفوق

اختبارات الكترونية ذكية



- الحضارة البيزنطية
- اليونانية

عدد - الحضارات التي استفادت منها الحضارة الإسلامية

- الحضارة الفارسية
- الحضارة الصينية
- الحضارة الهندية
- الرومانية

أكمل ما يلي :

الحضارة المجاورة للحضارة الإسلامية من جهة الشمال والشمال الشرقي تسمى **الحضارة الفارسية**

الحضارة المجاورة للحضارة الإسلامية من جهة الشمال والشمال الغربي تسمى **الحضارة البيزنطية**

اكتب مدلول الخريطة المقابلة

شبه الجزيرة العربية قديماً والحضارات المجاورة لها



عدد " لم تستفد الحضارة الإسلامية من الحضارات المجاورة

استفادت من خلال ترجمة علومها وتسخيرها في النهضة العلمية

عدد - النتائج المترتبة على اندماج الشعوب الأخرى مع العرب في الدين الإسلامي

- تنوع الثقافات والعلوم والفنون
- تطور الحضارة الإسلامية
- تطور العلوم العقلية والعلوم النقلية

عدد - تنوع الثقافات والفنون في الحضارة الإسلامية

بسبب اندماج العرب مع الشعوب الأخرى في الدين الإسلامي

عدد - فرق بين أنواع العلوم

☆ ممكن ان يأتي السؤال بصيغة أخرى: عدد

العلوم النقلية	العلوم العقلية
الحديث - الفقه - تفسير القرآن - التاريخ	الرياضيات - الفيزياء - الكيمياء - الفلسفة - الفلك



تدرب و تفوق

اختبارات الكترونية ذكية



لمحة تاريخية

❑ برهن " براعة المسلمين في فن العمارة وتميزوا بالتجارة والصناعة والزراعة "

☆ ممكن ان يأتي السؤال بصيغة أخرى: **دلل**

- في مجال العمارة : تميزوا بعمارة المساجد والقصور
- في التجارة : وصلت تجارة المسلمين إلى إندونيسيا
- في الصناعة : برزت صناعات مثل صناعة السيوف والسفن و الحلي
- في الزراعة : شق قنوات الري وعمل شبكات المياه

❑ دلل " تفاعل الإسلام مع شعوب العالم وثقافته "

- استوعبت الحضارة الإسلامية شعوباً عديدة مثل (الفرس والترك والأفارقة والآسيويين والهنود والأوروبيين)
- احترام عاداتهم وتقاليدهم وخصوصياتهم
- التأثير على جوانب عدة من الحياة في الدولة الإسلامية وبالذات العلمية منها

أكمل ما يلي :

- ❑ الحضارة التي ساهمت في نهضة الحضارة الأوروبية الحديثة تسمى **الحضارة الإسلامية**
- ❑ عدد المؤلفات التي قام بتأليفها العالم المسلم (البيروني) **180 مؤلفاً**
- ❑ من أشهر مؤلفات العالم المسلم البيروني كتاب يسمى **الصيدلة في الطب**
- ❑ اكتشف العالم المسلم البيروني معادلة باسمه تعرف باسم **معادلة نصف قطر الأرض**
- ❑ العالم المسلم صاحب كتاب الصيدلة في الطب يسمى **البيروني**

❑ اختياري: معادلة نصف قطر الأرض سميت باسم

- معادلة البيروني ○ معادلة الفرابي ○ معادلة الكندي ○ معادلة الرازي

❑ عدد - أهم إنجازات وأعمال العالم المسلم (البيروني)


- ألف في الرياضيات والفلك والتاريخ والجغرافيا
- بلغت عدد مؤلفاته 180 مؤلفاً
- اكتشف معادلة حساب نصف قطر الأرض (معادلة البيروني)
- أشهر مؤلفاته كتاب (الصيدلة في الطب)

أكمل المخططات السهمية التالية

❑ الحضارات المجاورة للحضارة الإسلامية

الحضارة البيزنطية

الحضارة الفارسية



الشعوب التي كونت الحضارة الإسلامية



تدرب و تفوق

اختبارات الكترونية ذكية



لمحة تاريخية عن الحضارة الإسلامية

أسس الحضارة الإسلامية

عدد أسس الحضارة الإسلامية

ممكن ان يأتي السؤال بصيغة أخرى: للحضارة الإسلامية أسس قوية ثابتة انطلقت منها- دال


الحضارات الأخرى



اللغة العربية



الدين الإسلامي



علل اللغة العربية من أسس الحضارة الإسلامية

لغة القرآن الكريم

لأن العرب وغير العرب يتكلمون بها

علل يتكلم العرب وغير العرب اللغة العربية

لأنها لغة القرآن الكريم

أكمل ما يلي :

العام الميلادي الذي اعتمدت فيه الجمعية العامة للأمم المتحدة اللغة العربية ضمن اللغات الرسمية هو 1973 م

يحتفل العالم باللغة العربية من كل عام في يوم يوافق 18 ديسمبر

عدد اللغات الرسمية في الأمم المتحدة قبل عام 1973 م

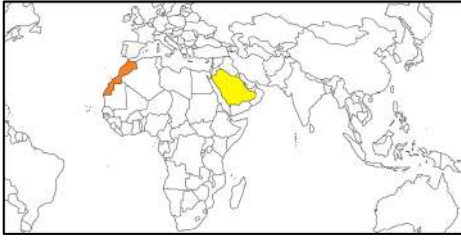
الإسبانية

الفرنسية

الإنجليزية

الروسية

الصينية



عدد الدول التي اقترحت على الجمعية العامة للأمم المتحدة ادخال اللغة العربية ضمن اللغات الرسمية لها

- المملكة العربية السعودية
- مملكة المغرب

أكمل العالم اليوناني الذي اخترع جدول الضرب يسمى **فيثاغورس**



عدد - خصائص الحضارة الإسلامية

ممكن ان يأتي السؤال بصيغة أخرى: أكمل المخطط السهمي

- حضارة تسامح
- حضارة إنسانية
- حضارة عالمية
- حضارة شمولية
- حضارة إيمان وعمل



تدرب و تفوق

اختبارات الكترونية ذكية

علل - الحضارة الإسلامية حضارة تسامح

ممكن ان يأتي السؤال بصيغة أخرى: ددل - تميزت الحضارة الإسلامية بالطابع الإنساني

- اهتمت بالأخلاق والبناء والعمران
- وفتحت المجال أمام الإنسان للعمل و الإبداع

" لم يعرف التاريخ أمة أرحم من العرب (المسلمين) والرحمة والعدل عندهم متلازمان "

من قائل العبارة: **غوستاف لوبون**

المناسبة: **حديثه عن الحضارة الإسلامية**

أكمل ما يلي :

المفكر الفرنسي الذي قال إنَّ الرحمة والعدل عند المسلمون متلازمان يسمى **غوستاف لوبون**

المفكر الفرنسي الذي قال لقد فاق العرب (المسلمون) كل من سبقهم من الأمم وظهرت قوتهم الإبداعية في مختلف الفنون يسمى **غوستاف لوبون**

دلل - الحضارة الإسلامية حضارة إيمان وعمل

- دفعت المسلمين إلى العمل والاجتهاد
- نتج عنها التنمية والإبداع
- حفظ التراث ونقله
- حققت للإنسانية نهضة علمية وزراعية واقتصادية

علل- الحضارة الإسلامية حضارة إنسانية

- تميزت باحترامها للأديان
- ساوت بين الشعوب دون النظر للعرق واللون والدين
- حثت الشعوب على مواصلة دورهم الحضاري تحت مظلة الإسلام

علل - الحضارة الإسلامية حضارة عالمية

- جاءت رسالة الإسلام للبشر كافة
- الإسلام ساوى بين الشعوب المختلفة
- انتشار الإسلام في كافة بقاع الأرض

علل - الحضارة الإسلامية حضارة شمولية

- شملت كافة مناهج الحياة الروحية والعقلية والجمالية والأخلاقية
- طغت الآثار الإسلامية في كافة العالم
- اقتبس الأوروبيون كثيراً من مظاهر المدن الإسلامية

علل - اقتبس الأوروبيون كثيراً من مظاهر المدن الإسلامية

لشموليتها على كافة جوانب الحياة من فن وزخرفة وعمارة إسلامية كعمارة المساجد والقصور والبيمارستانات

هي دار المرضى أو المستشفى ومراكز الصيدلة والتحليل وصناعة الأدوية

البيمارستانات

اختر من المجموعة (أ) ما يناسبها من المجموعة (ب) بوضع الرقم المناسب

م	الآية الكريمة	الرقم	خصائص الحضارة الإسلامية
1	(ولا تعتدوا إن الله لا يحب المعتدين)	3	حضارة عالمية
2	(وقل اعملوا فسيرى الله عملكم ورسوله والمؤمنون)	1	حضارة تسامح
3	(وما أرسلناك إلا كافة للناس بشيراً ونذيراً)	2	حضارة إيمان وعمل



تدرب و تفوق

اختبارات الكترونية ذكية



عدد - آثار الحضارة الإسلامية على دولة الكويت

☆ يمكن ان يأتي السؤال بصيغة أخرى: ددل " انعكس أثر خصائص الحضارة الإسلامية على دولة الكويت "

- نشأ الشعب الكويتي على الحب والاحترام والعدل والمساواة
- مد يد العون للمسلمين وغير المسلمين
- العمل على فعل الخير من خلال تأسيس المؤسسات والجمعيات الخيرية
- ظهور شخصيات بارزة في مجال العمل الإنساني مثل الشيخ (صباح الأحمد) والدكتور (عبد الرحمن السميّط)



عدد - أهم الجمعيات الخيرية والمؤسسات الكويتية العاملة في المجال الإنساني

- بيت الزكاة الكويتي
- الهيئة الخيرية الإسلامية العالمية

أكمل ما يلي :

- ❑ العام الميلادي الذي لقب فيه الشيخ صباح الأحمد بلقب قائد العمل الإنساني هو 2014 م
- ❑ أمير الكويت الذي حصل على لقب قائد العمل الإنساني في يوم 9 سبتمبر عام 2014 م يسمى الشيخ صباح الأحمد الصباح
- ❑ الداعية الكويتي البارز في مجال العمل الإنساني والخيري يسمى الدكتور عبد الرحمن السميّط



تدرب و تفوق

اختبارات الكترونية ذكية



U U L A





مظاهر الحضارة الإسلامية

عدد مظاهر الحضارة الإسلامية

- المظاهر الاجتماعية
- الإنجازات العلمية والثقافية
- المظاهر السياسية والإدارية
- المظاهر الاقتصادية
- المظاهر العمرانية

اختياري

توفي الرسول ﷺ في 12 من ربيع الأول عام

14 هـ

13 هـ

12 هـ

11 هـ

أكمل ما يلي :

☆ ممكن ان يأتي السؤال بصيغة أخرى: اختياري

11 هـ

العام الهجري الذي توفي فيه الرسول ﷺ

المكان الذي اجتمع فيه المسلمون بعد وفاة الرسول ﷺ لاختيار خليفة لهم يسمى **سقيفة بني ساعدة**أول حاكم للدولة الإسلامية بعد الرسول ﷺ يسمى **أبو بكر الصديق**أول منصب إداري جديد في الدولة الإسلامية بعد وفاة الرسول ﷺ هو **الخليفة**

علل ظهور منصب الخليفة في الدولة الإسلامية

إدارة شؤون المسلمين في الدين والدنيا بعد وفاة الرسول ﷺ

علل - ظهور العديد من المناصب الإدارية في الدولة الإسلامية

بسبب اتساع الدولة الإسلامية

عدد - المناصب الإدارية التي ظهرت مع اتساع الدولة الإسلامية

- الوالي
- الوزير
- الحاجب
- القاضي

أكمل ما يلي :

الخليفة الراشد الثاني في الدولة الإسلامية يسمى **عمر بن الخطاب**الخليفة الراشد الذي استحدث منصب المحتسب يسمى **عمر بن الخطاب**الوظيفة التي استحدثها الخليفة عمر بن الخطاب تسمى **المحتسب**الدولة التي ظهرت في عهدها ممالك وسلطنات وإمارات هي **الدولة العباسية**

رتب الخلفاء الراشدين ترتيباً تصاعدياً من حيث فترة توليهم الخلافة

☆ ممكن ان يأتي السؤال بصيغة أخرى: اختياري

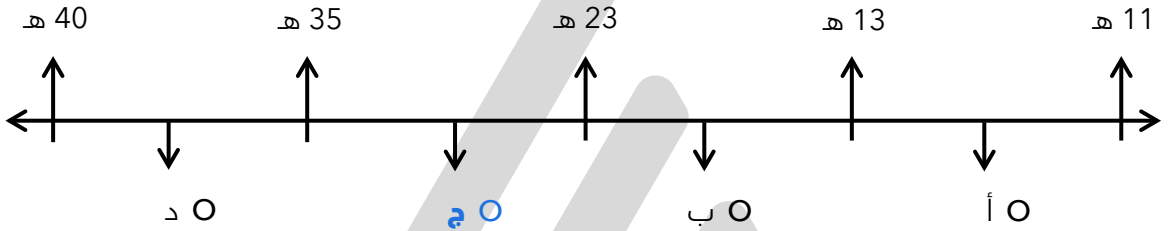
- 1- أبو بكر الصديق (11 هـ - 13 هـ)
- 2- عُمر بن الخطاب (13 هـ - 23 هـ)
- 3- عثمان بن عفان (23 هـ - 35 هـ)
- 4- علي بن أبي طالب (35 هـ - 40 هـ)

اختر الإجابة الصحيحة

العام الهجري الذي تولى فيه عمر بن الخطاب الخلافة

- 11 هـ 13 هـ 23 هـ 35 هـ

على المخطط الزمني فترة حكم الخليفة عثمان بن عفان يمثلها الحرف



تدرب و تفوق

اختبارات الكترونية ذكية



علل - اهتمت الحضارة الإسلامية بالموارد الاقتصادية والمالية

- ل دورها في تقدم البلاد وازدهار الحضارة
- توفر أسباب العيش الكريم



عدد المجالات الاقتصادية في الحضارة الإسلامية

☆ ممكن ان يأتي السؤال بصيغة أخرى: عدد - المظاهر الاقتصادية في الحضارة الإسلامية

- الزراعة
- الصناعة
- التجارة



أكمل : المصدر الاقتصادي المهم للحضارة الإسلامية يسمى الزراعة

علل - اهتمام الحضارة الإسلامية بالزراعة

☆ ممكن ان يأتي السؤال بصيغة أخرى: علل - اهتمام الحضارة الإسلامية بالموارد المائية

منبعه الإيمان حيث دعا الله تعالى إلى السعي في الأرض وزراعتها والأكل مما رزقهم الله منها

عدد - جهود المسلمين في مجال الزراعة

- شق القنوات
- إقامة السدود
- تنظيم وسائل الري

اكتب مدلول الصورة المقابلة **حفر الترع**



أكمل العبارات التالية :

المدينة التي أقامت فيها الحضارة الإسلامية ديواناً للماء تسمى **مرو في خراسان**

خراسان قديماً تعرف حالياً باسم **إيران**

علل " اهتمام الحضارة الإسلامية بمجال الصناعة "

☆ ممكن ان يأتي السؤال بصيغة أخرى: **فسر**

من أجل استثمار الموارد الطبيعية المتوفرة بها

عدد أهم الصناعات التي ظهرت في الحضارة الإسلامية

- صناعة السفن
- صناعة الأدوية
- الصناعات الخشبية
- صناعة الأسلحة
- صناعة المنسوجات
- صناعة الورق
- صناعة الخزف والمعادن

اكتب مدلول الصورة التالية

أرابيسك



صناعة خشبية ذات طابع مميز برع فيها العرب


الأرابيسك

فسر - علل " تسمية صناعة الأرابيسك بهذا الاسم "

نسبة إلى العرب

اكتب مدلول الصورة التالية

الصناعات في الحضارة الإسلامية



تدرب و تفوق

اختبارات الكترونية ذكية



- علل - لقيت التجارة تشجيعاً كبيراً في الحضارة الإسلامية
- دورها الكبير في التبادل التجاري مع المناطق المجاورة
- ساهمت في نشر الدين الإسلامي
- الموقع الاستراتيجي للعالم الإسلامي

علل : لعب الموقع الإستراتيجي للعالم الإسلامي دور في ازدهار التجارة لأنه يمتلك العديد من الخطوط التجارية البرية والبحرية مما أدى إلى ازدهار صادراته وواردته

فرق بين صادرات وواردات العالم الإسلامي

الواردات	الصادرات
الأخشاب - التوابل - الذهب	التمور - الفواكه - اللبان - الخيول العربية

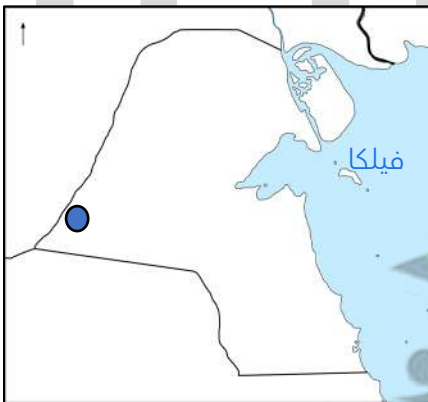
أكمل ما يلي:

★ ممكن ان يأتي السؤال بصيغة أخرى: **اختباري**

- منطقة في الكويت كانت قديماً محطة لاستراحة قوافل الحجاج تسمى **الشجي (الشقايا حالياً)**
- الطريق الذي لقي اهتماماً من خلفاء الدولة العباسية في الكويت يسمى **الشجي (الشقايا حالياً)**
- الجزيرة الكويتية التي رصدت فيها قربتان تعودان إلى العصر الإسلامي تسمى **فيلكا**
- القرية التي تقع شمال جزيرة فيلكا في العصر الإسلامي تسمى **القرينية**
- القرية التي تقع في وسط جزيرة فيلكا في العصر الإسلامي تسمى **القصور**
- عدد - القرى التي تعود للعصر الإسلامي في جزيرة فيلكا
 - القرينية
 - القصور

عدد - الأنشطة الاقتصادية في جزيرة فيلكا في العهد الإسلامي

- التجارة
- الغوص على اللؤلؤ
- الزراعة
- الرعي



عدد - المناطق التي تعود للعصر الإسلامي في دولة الكويت

- منطقة الشقايا
- جزيرة فيلكا



تدرب و تفوق

اختبارات الكترونية ذكية



علل - تطور موارد بيت مال المسلمين بسبب تطور المظاهر الاقتصادية في الحضارة الإسلامية

أذكر نتيجة تطور موارد بيت مال المسلمين ساهم في دعم الكثير من المشاريع الإسلامية

عدد - موارد بيت مال المسلمين

- الزكاة
- الخراج
- الجزية
- الوقف الإسلامي

أكمل ما يلي:

ركن من أركان الإسلام يخرجها المسلمون الأغنياء للفقراء تعرف باسم الزكاة

نسبة زكاة الأموال النقدية التي حال عليها الحول بواقع 2.5%

عدد - الثروات التي تجب عليها الزكاة

- الأموال النقدية
- الإبل
- المواشي
- التجارة

علل - تسمية الزكاة بهذا الاسم

لما فيها من تزكية للنفس وتطهيرها

ضريبة الأرض الزراعية التي تخرج مبلغاً معيناً من ناتج المحصول الزراعي **الخراج**

أكمل - أهم مورد لبيت مال المسلمين في العصور الوسطى يسمى الخراج

عدد - استخدامات الخراج في الحضارة الإسلامية

☆ ممكن ان يأتي السؤال بصيغة أخرى: علل أهمية الخراج كمورد مالي للدول في الحضارة الإسلامية

- حماية ثغور الدول في الحضارة الإسلامية
- منح العطاء للجند

فرق بين كل من

الوقف الإسلامي	الجزية
صدقة جارية يوقفها المرء في حياته لوجه الخير والبر	مبلغ مالي يدفعه الرجال غير المسلمين من أهل الذمة مما من هم قادرين على حمل السلاح نظير حماية الدولة لهم

عدد - استخدامات الوقف الإسلامي

- سد حاجة الفقراء والمساكين والمرضى
- نشر العلم
- بناء المدارس ودور الأيتام

أكمل : الجهة المسؤولة عن الوقف في الكويت في الوقت الحالي تسمى الأمانة العامة للأوقاف



U U L A





المظاهر العمرانية

عدد - المظاهر العمرانية في الحضارة الإسلامية

- المساجد
- القصور
- المدارس
- المباني الفخمة المتعددة

عدد - مميزات المظاهر العمرانية في الحضارة الإسلامية

- الأسوار
- القباب
- المآذن
- المنابر
- الخزاف

عدد- أشهر الأسوار في الحضارة الإسلامية

- سور الإحصاء
- سور القاهرة
- سور بغداد

مجموعة من مكعبات الزجاج الملون والشفاف وقطع من الحجر الأبيض والأسود وقطع الخزف

الفسيفساء

اكتب مدلول الصور التالية



الطرز المعماري في المسجد الكبير في دولة الكويت

أكمل ما يلي:

☆ ممكن ان يأتي السؤال بصيغة أخرى: اختياري

- عدد طراز معماري في الكويت صمم على الطراز الأندلسي يسمى **المسجد الكبير**
- عدد القصر الذي شيد مقابل المسجد الكبير يسمى **قصر السيف**
- عدد العام الميلادي الذي تم فيه افتتاح المسجد الكبير في دولة الكويت **1986 م**
- عدد أمير البلاد الذي تم في عهده افتتاح المسجد الكبير يسمى **الشيخ جابر الأحمد الصباح**
- عدد الطراز المعماري الذي صمم عليه المسجد الكبير في الكويت يسمى الطراز **الأندلسي الإسلامي**

اكتب فيما يلي مما درست - المسجد الكبير بدولة الكويت

- أهم المظاهر العمرانية في الكويت
- له إطلالة جميلة ومنظر بديع
- يقع في قلب العاصمة مقابل قصر السيف
- تم افتتاحه عام 1986 م في عهد الشيخ جابر
- صمم وفق الطراز الأندلسي الإسلامي





❶ لاحظ الصورة التي أمامك ثم أجب عما يلي
الاسم الموضح في الصورة المقابلة

سيدنا محمد صلى الله عليه وسلم

❷ أين توجد الصورة

جامع ابن طولون



🎯 **تدرب و تفوق**

اختبارات الكترونية ذكية



العماير الدينية والمدنية:

دار للعبادة تقام فيها الصلوات وخطبة الجمعة والتعليم الديني

المساجد

❶ عدد أشهر المساجد التاريخية في العالم الإسلامي

- الكعبة المشرفة
- المسجد النبوي
- المسجد الأقصى المبارك
- المسجد الأموي
- جامع عمرو بن العاص
- الجامع الأزهر
- جامع الزيتونة
- جامع قرطبة
- مسجد السلطان أحمد
- مسجد عمر بن الخطاب

❷ عدد المساجد الرئيسية الثلاثة

- الكعبة المشرفة
- المسجد النبوي
- المسجد الأقصى المبارك

❸ أكمل الجدول التالي :

الدولة	المدينة	اسم المسجد
المملكة العربية السعودية	مكة المكرمة	الكعبة المشرفة
المملكة العربية السعودية	المدينة المنورة	المسجد النبوي
فلسطين المحتلة	القدس الشريف	المسجد الأقصى المبارك

❹ اكتب مدلول الصور التالية :



المسجد الأقصى المبارك



المسجد النبوي في المدينة المنورة



الكعبة المشرفة في مكة المكرمة

أكمل ما يلي:

- المسجد الذي تتجه إليه أبصار المسلمين وأفئدتهم في كل صلاة يسمى الكعبة المشرفة
- المسجد الذي رفع قواعده نبي الله إبراهيم وابنه اسماعيل عليهما السلام يسمى الكعبة المشرفة
- الفترة الزمنية التي استغرقها بناء المسجد النبوي تقدر بنحو شهرين
- عدد أبواب حجرات المسجد الذي كان مجاوراً لحجرات الرسول ﷺ باب واحد
- الخليفة الأموي الذي ضُمت في عهده حجرات الرسول ﷺ إلى المسجد النبوي يسمى عبد الملك بن مروان

علل - إنشاء المسجد النبوي الشريف في المدينة المنورة ليكون مركزاً دينياً وسياسياً وثقافياً للدولة الإسلامية الجديدة

أكمل ما يلي:

- أحد أكبر المساجد في العالم و أول القبليتين في الإسلام يسمى المسجد الأقصى
- البلدة القديمة التي يقع فيها المسجد الأقصى المبارك القدس الشريف
- عدد أجزاء المسجد الأقصى
- قبة الصخرة
 - المسجد القبلي
 - المصلى المرواني



تدرب و تفوق

اختبارات الكترونية ذكية



أكمل الجدول التالي :

☆ ممكن ان يأتي السؤال بصيغة أخرى: اختياري

اسم المسجد	المدينة أو الدولة
المسجد الأموي	دمشق
جامع عمرو بن العاص	الفسطاط
الجامع الأزهر	القاهرة
جامع الزيتونة	تونس
جامع قرطبة	الأندلس (إسبانيا)
مسجد السلطان أحمد	إسطنبول
مسجد عمر بن الخطاب	دومة الجندل (المملكة العربية السعودية)

اكتب مدلول الصور التالية :



مسجد السلطان أحمد
(الجامع الأزرق) في إسطنبول



مسجد عمر بن الخطاب بدومة
الجنندل في المملكة العربية
السعودية

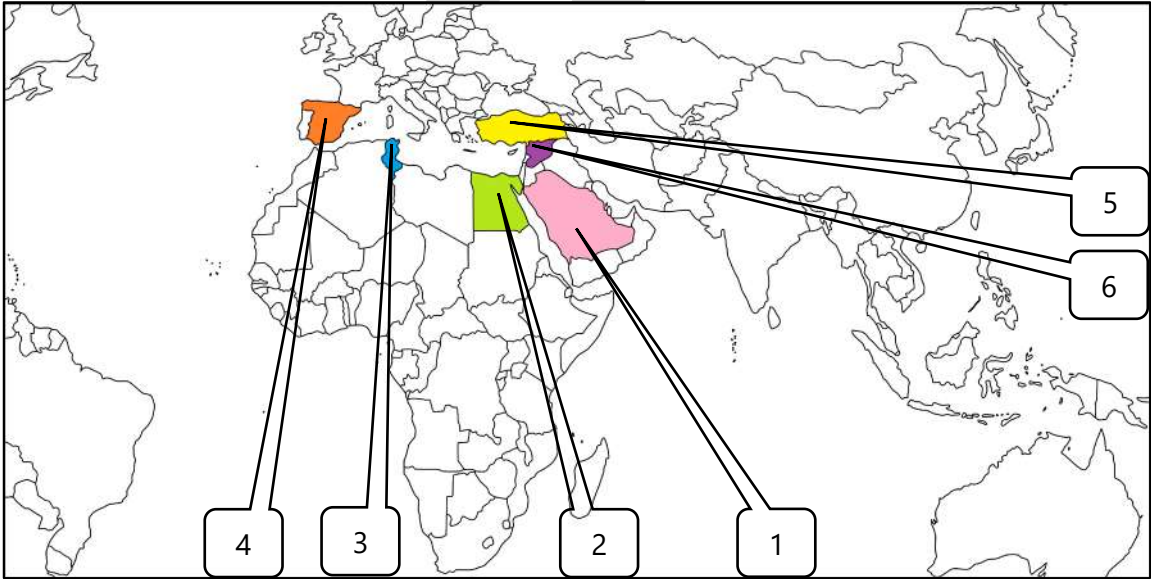


المسجد الأموي في دمشق

أكمل ما يلي:

- المسجد الإسلامي المشهور الذي يوجد في مدينة الفسطاط يسمى عمرو بن العاص
- المدينة التي يوجد بها مسجد عمرو بن العاص هي الفسطاط
- المدينة التي يوجد بها الجامع الأزهر هي القاهرة

لاحظ خريطة العالم الإسلامي جيدا ثم نفذ المطلوب منك :



- المدينة التي يوجد بها مسجد السلطان أحمد يمثلها على الخريطة الرقم 5
- الرقم (4) على الخريطة يشير إلى منطقة بها مسجد قرطبة تسمى الأندلس (أسبانيا)
- الرقم (1) على الخريطة يشير إلى دولة بها الحرمين الشريفين ومسجد دومة الجنندل هي المملكة العربية السعودية
- الدولة التي يوجد بها الجامع الأزهر وجامع عمرو بن العاص تحمل على الخريطة الرقم 2
- المدينة التي يوجد بها المسجد الأموي تحمل على الخريطة الرقم 6
- الدولة التي يوجد بها مسجد الزيتونة تحمل على الخريطة الرقم 3



تدرب و تفوق

اختبارات الكترونية ذكية



العماير المدنية

هي مقر الحاكم والمكان الذي يضم المؤسسات الإدارية كالوزارة والدواوين وأحياناً تكون قصور صحراوية لتنزه الخلفاء

القصور

عدد أهم المؤسسات الإدارية في الدولة الإسلامية

- الوزارة
- الدواوين

علل - أهمية القصور في الدولة الإسلامية

- مقر الحاكم والمكان الذي يضم المؤسسات الإدارية
- قصور صحراوية لتنزه الخلفاء

عدد - أهم القصور في الدولة الإسلامية

- قصر الخضراء
- قصر عمرة
- قصر الرصافة

أكمل الجدول التالي :

القصر	المدينة والدولة	الشخصية التي قامت ببناءه
قصر الخضراء	دمشق	معاوية بن أبي سفيان
قصر عمرة	الأردن	يزيد بن الوليد
قصر الرصافة	سوريا	هشام بن عبد الملك
قصر الحمراء	غرناطة (إسبانيا)	

اكتب مدلول الصور التالية :



قصر الرصافة بسوريا



قصر عمرة



قصر الخضراء



قصر الحمراء في غرناطة في الأندلس - إسبانيا حالياً

اشتقت من الدمقس وهو نوع من الحرير الذي اشتهرت به تلك المدينة قبل الإسلام

دمشق

القصر الذي يقع في الأراضي الممتدة في شمال الصحراء السورية وجنوب نهر الفرات في العراق يسمى قصر الرصافة

الخليفة الأموي الذي بنى قصر الخضراء في دمشق يسمى معاوية بن أبي سفيان

الخليفة الذي بنى قصر عمرة في الأردن يسمى يزيد بن الوليد

الخليفة الذي بنى قصر الرصافة في سوريا يسمى هشام بن عبد الملك

نموذج مميز للعمارة الإسلامية في مدينة غرناطة يسمى قصر الحمراء

المدينة التي يوجد بها قصر الحمراء هي غرناطة

الأندلس تعرف حالياً باسم إسبانيا

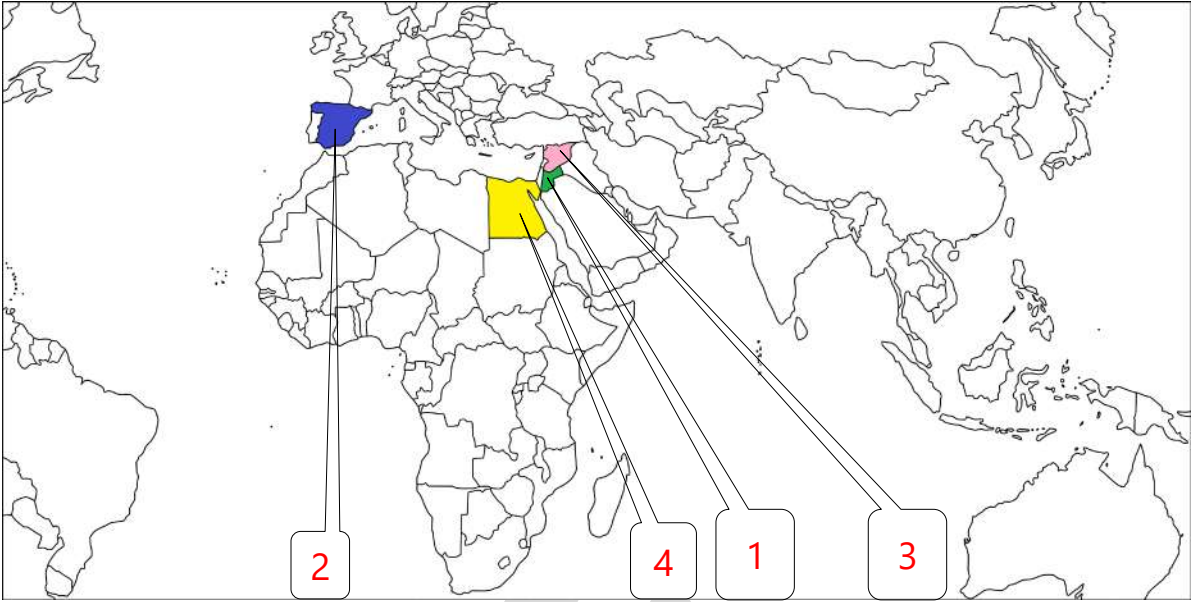
اكتب فيما درست ما تعرفه عن قصر الحمراء

- نموذج مميز للعمارة الإسلامية
- يقع في مدينة غرناطة بالأندلس
- يتميز بالجدران والسقوف المزخرفة من الجص مزينة بأوراق النباتات
- من أجمل أجزائه ساحة الأسود مع النافورة



U U L A





(3)

الدولة التي يوجد بها قصر الخضراء وقصر الرصافة يمثلها على الخريطة رقم

(1)

الدولة التي يوجد بها قصر عمرة يمثلها على الخريطة رقم

(2)

الدولة التي يوجد بها قصر الحمراء يمثلها على الخريطة رقم

صح ما تحته خط في العبارات التالية:

التصحيح	العبرة
معاوية بن أبي سفيان	بني قصر الخضراء في عهد الخليفة الوليد بن عبد الملك
سوريا	قصر الرصافة في الأردن
غرناطة	يقع قصر الحمراء في مدينة قرطبة

فرق بين كل من

العمائر المدنية في الحضارة الإسلامية	العمائر الدينية في الحضارة الإسلامية
<ul style="list-style-type: none"> ▪ قصر الخضراء ▪ قصر عمرة ▪ قصر الرصافة 	<ul style="list-style-type: none"> ▪ الكعبة المشرفة ▪ المسجد النبوي ▪ المسجد الأقصى



تدرب و تفوق

اختبارات الكترونية ذكية



مظاهر الحياة الاجتماعية

عدد أبرز المظاهر الاجتماعية والدينية الإسلامية

- كانت حياة المسلمين بسيطة في مسكنهم وملبسهم
- التسامح والعدالة
- تنوع الفئات الاجتماعية مثل الحكام ورجال الدين
- الاحتفال بالأعياد كعيدي الفطر والأضحى
- سماع القصص والحكايات المحببة للناس

عدد - الفئات الاجتماعية في الحضارة الإسلامية :

- الحكام
- الخدم
- رجال الدين
- أهل الذمة
- التجار

هم النصارى واليهود الذين ظلوا على دينهم مع دفع الجزية

أهل الذمة

هي مجالس تحكى فيها القصص والحكايات المحببة للناس

مجالس القصص والوعاظ

عدد - بعض القصص التي ورد ذكرها في القرآن الكريم

- قصة أهل الكهف
- قصة موسى مع أهله
- قصة فرعون وغيرها



تدرب و تفوق

اختبارات الكترونية ذكية

U U L A



مظاهر الإنجازات العلمية والثقافية



عدد - العوامل التي أدت إلى ازدهار العلم وظهور العلماء

☆ ممكن ان يأتي السؤال بصيغة أخرى: علل - ازدهار الناحية العلمية والثقافية عند المسلمين

- تشجيع العلماء وتمويل القيادات السياسية لهم
- التنافس العلمي بين الدول الإسلامية
- حركة التعريب (الترجمة) للكتب القديمة اليونانية والهندية والفارسية
- الرخاء الاقتصادي

أكمل ما يلي:

☆ ممكن ان يأتي السؤال بصيغة أخرى: عرف

عدد حركة ترجمة الكتب القديمة اليونانية والفارسية والهندية للعربية تسمى **التعريب**

عدد الخليفة العباسي الذي شجع على العلم وحركة الترجمة يسمى **المأمون**

عدد أهم المراكز العلمية في الحضارة الإسلامية



مدينة تقع في محافظة شرق أذربيجان شمال غرب إيران

مراغة

أكمل ما يلي:

عدد المدينة التي يوجد بها بيت الحكمة تسمى **بغداد**

عدد الدولة التي يوجد بها المرصد الفلكي هي **أذربيجان**

عدد المدينة التي يوجد بها المرصد الفلكي تسمى **مراغة**

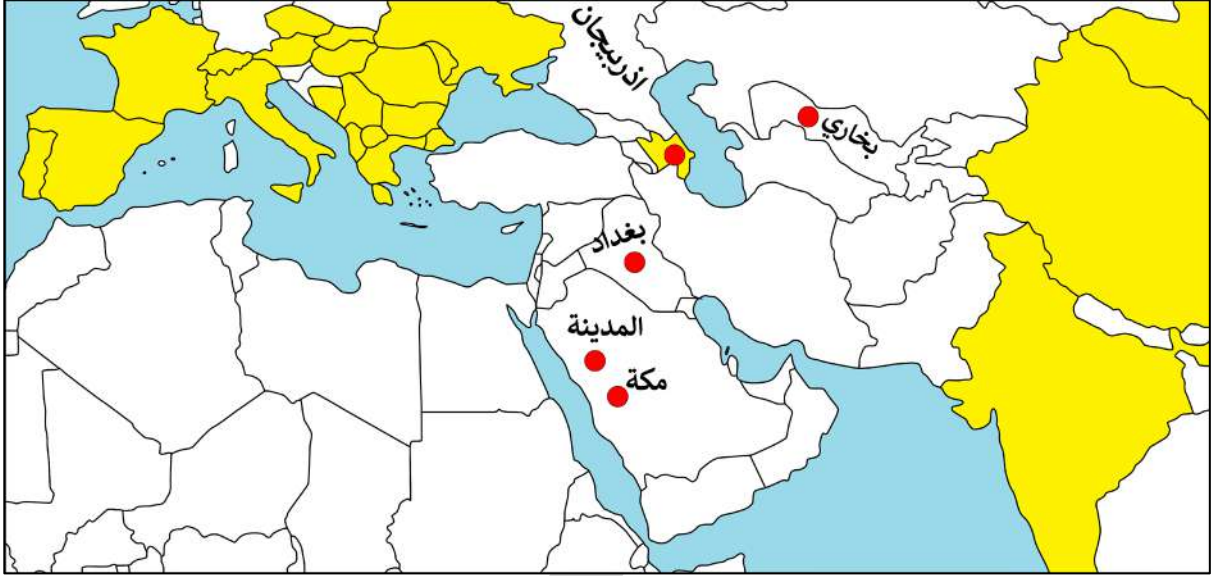
عدد الدولة التي يوجد بها مجمع باي كليان تسمى **أوزباكستان**

عدد المدينة التي يوجد بها مجمع باي كليان تسمى **بخارى**



صفوة معلمي الكويت

وزع أسماء المدن التي ظهرت فيها المراكز العلمية في الحضارة الإسلامية



تدرب و تفوق

اختبارات الكترونية ذكية



اختر الإجابة الصحيحة :

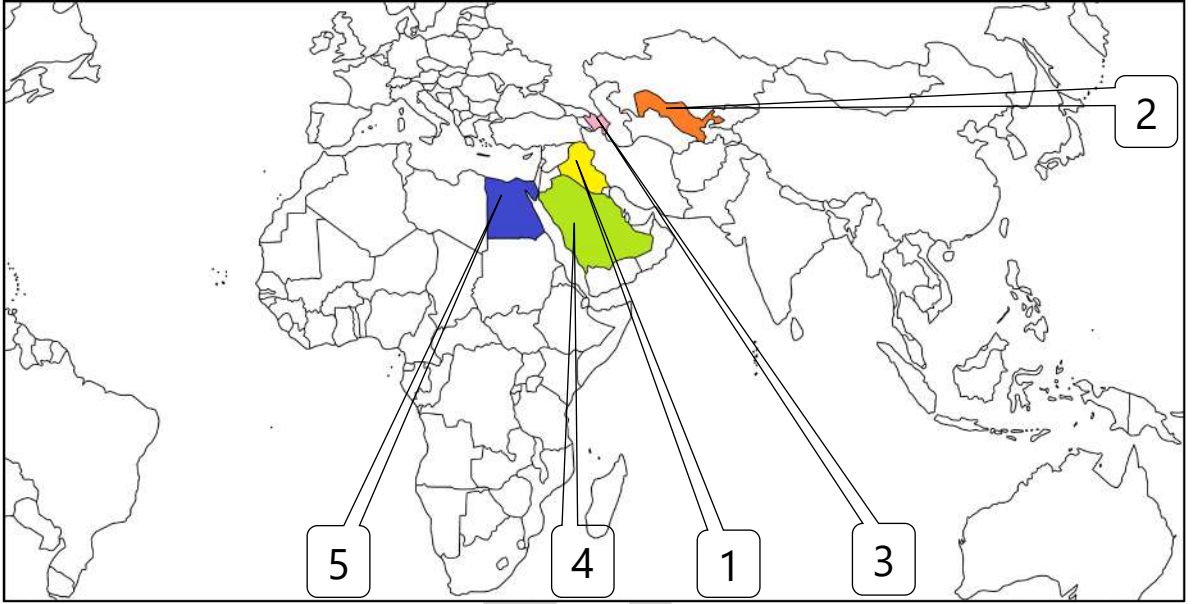
يعتبر مجمع باي كليان أحد المراكز العلمية للحضارة الإسلامية ويقع في مدينة بخاري بغداد المدينة المنورة

يعتبر المرصد الفلكي أحد المراكز العلمية للحضارة الإسلامية ويقع في مدينة مراغة بخاري مكة المكرمة المدينة المنورة

U U L A



لاحظ خريطة العالم الإسلامي جيداً ثم نفذ المطلوب منك:



(4)

الدولة التي يوجد بها المسجد الحرام والمسجد النبوي

(1)

الدولة التي يوجد بها بيت الحكمة يمثلها على الخريطة رقم

(3)

الدولة التي يوجد بها المرصد الفلكي يمثلها على الخريطة رقم

(2)

الدولة التي يوجد بها مجمع باي كليان يمثلها على الخريطة رقم



تدرب و تفوق

اختبارات الكترونية ذكية



عدد - العلماء الذين ساهموا في نهضة الحضارة الإسلامية

☆ ممكن ان يأتي السؤال بصيغة أخرى: فند - لم تزر الحضارة الإسلامية بالعلماء المسلمين في مختلف المجالات



▪ الجاحظ



▪ الحسن بن الهيثم



▪ الخوارزمي



▪ البكري



▪ أبو بكر الرازي

أكمل ما يلي:

☆ ممكن ان يأتي السؤال بصيغة أخرى: اختياري



العالم المسلم الذي يرجع إليه الفضل في تطوير فكرة الكاميرا يسمى **الحسن بن الهيثم**

الكاميرا كلمة اشتقت من كلمة أخرى هي **قُمرة**

العالم المسلم صاحب كتاب الجبر والمقابلة يسمى **الخوارزمي**

المجال الذي برز فيه الخوارزمي هو **الجبر**

العالم المسلم صاحب كتاب " الحاوي في الطب " يسمى **أبو بكر الرازي**

العالم المسلم صاحب كتاب الحيوان يسمى **الجاحظ**

عدد الكتب التي ألفها الجاحظ تقدر بحوالي **350 كتاب**

اكتب فيما درست ما تعرفه عن الجاحظ

- عالم مسلم ألف 350 كتاب أهمها كتاب الحيوان
- كان يراقب سلوك الحيوانات عن طريق التجارب ويدرس أعضائها الداخلية
- يميل في كتاباته إلى تسلية القارئ
- انفرد بملاحظاته الذكية
- بحث الجاحظ في علوم الفكر والأدب

قارن بين كل من

الخوارزمي	أبو بكر الرازي	أوجه المقارنة
الجبر	الطب	المجال الذي اشتهر به
الجبر والمقابلة	الحاوي في الطب	أهم مؤلفاته



تدرب و تفوق

اختبارات الكترونية ذكية





مراكز إشعاع الحضارة الإسلامية ودورها في النهضة الأوروبية الحديثة

عدد النتائج المترتبة على امتداد الحضارة العربية الإسلامية لمساحات كبيرة من العالم

- انتشار مراكز الإشعاع الحضاري
- كانت بمثابة النجوم التي تشع الضوء لتتير الظلمات في كثير من بقاع العالم

عدد مراكز إشعاع الحضارة الإسلامية إلى أوروبا



اكتب مدلول الخرائط التالية



الدول الحديثة مراكز إشعاع الحضارة الإسلامية

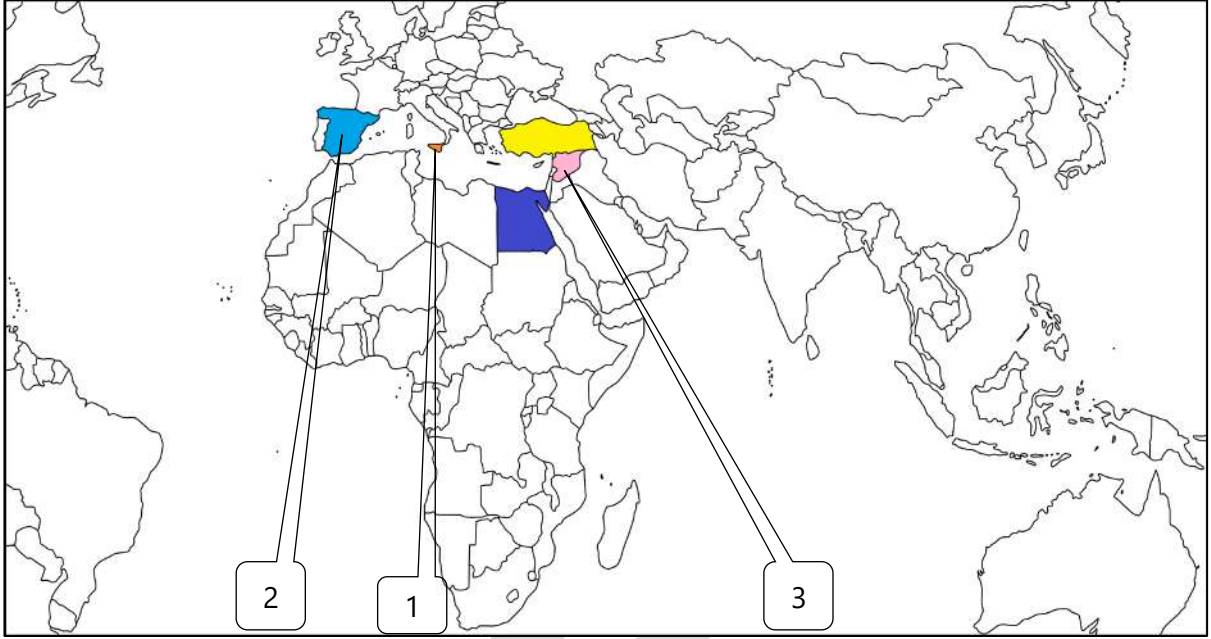
اختر من المجموعة (أ) ما يناسبها من المجموعة (ب) بوضع الرقم المناسب

الرقم	(أ) مراكز إشعاع الحضارة الإسلامية إلى أوروبا	الرقم المناسب	(ب) الدولة الحالية التي تمثلها
1	بلاد الأندلس	3	سوريا - لبنان - الأردن - فلسطين
2	صقلية	-	طنجة
3	بلاد الشام	2	إيطاليا
		1	أسبانيا والبرتغال



صفوة معلمي الكويت

لاحظ خريطة العالم الإسلامي جيداً ثم نفذ المطلوب منك



(2)

(3)

(1)

بلد الأندلس يمثلها على الخريطة رقم

بلد الشام يمثلها على الخريطة رقم

صقلية يمثلها على الخريطة رقم



تدرب و تفوق

اختبارات الكترونية ذكية



علل - أثرت الحضارة الإسلامية في الحضارة العالمية

ممكن ان يأتي السؤال بصيغة أخرى:
 ★ علل الحضارة الإسلامية تحتل مكانة مرتفعة بين الحضارات الكبرى في تاريخ البشرية

- تواصلها وتفاعلها مع الحضارات المجاورة
- حركة الترجمة والعلاقات التجارية نقلت الحضارة الإسلامية لأوروبا
- تدين أوروبا بالفضل الكبير للحضارة الإسلامية

علل - تدين أوروبا بالفضل الكبير للحضارة الإسلامية

★ ممكن ان يأتي السؤال بصيغة أخرى: فند - لم يكن للحضارة الإسلامية دور في نهضة الحضارة الأوروبية

لأنها كانت السبب في النهضة الصناعية والعلمية والأوروبية الحديثة

عدد - المجالات العلمية التي استفادت منها أوروبا من الحضارة الإسلامية

- مجال الفلسفة
- مجال الجغرافيا
- مجال استخراج المياه الجوفية

أكمل العبارات التالية :

العالم المسلم الذي استفادت أوروبا من مؤلفاته في مجال الفلسفة يسمى الكندي

العالم الإنجليزي الذي تأثر بكتاب الكندي في الهندسة في القرن السابع الهجري يسمى روجر بيكون

أهم مؤلفات العالم الفيلسوف الكندي كتابه في الهندسة

فسر- تسمية العالم الفيلسوف الكندي بهذا الاسم

نسبة إلى قبيلة كندة اليمنية

دلل - "تأثر الحضارة الأوروبية والعالمية بالحضارة الإسلامية في مجال الفلسفة "

تأثير الفيلسوف المسلم (الكندي) في العالم الإنجليزي روجر بيكون في القرن السابع الهجري



تدرب و تفوق

اختبارات الكترونية ذكية



أكمل ما يلي:

العالم المسلم الذي استفادت أوروبا من مؤلفاته في مجال الجغرافيا يسمى الشريف الإدريسي

العالم المسلم الذي ترجم الأوروبيون كتابه " نزهة المشتاق في اختراق الآفاق " يسمى الشريف الإدريسي

العالم المسلم الذي تأثر الأوروبيين بكتابه عن كروية الأرض هو الإدريسي

اكتب عن آراء الأوروبيين عن كروية الأرض قبل ترجمة مؤلفات الإدريسي

- الأرض مسطحة
- لو أبحر مركب في المحيط الأطلسي نحو الغرب لسقط عند حافة الأرض

دلل - تأثر الحضارة الأوروبية والعالمية بالحضارة الإسلامية في مجال الجغرافيا

- ترجمة كتاب نزهة المشتاق في اختراق الآفاق
- تأثر الأوروبيين بكلام الإدريسي عن كروية الأرض
- غامر بعضهم وركب المحيط واتجه نحو الغرب
- اكتشف أن الأرض كروية
- اكتشف الأمريكتين

أكمل العبارات التالية :

الخريطة المقابلة تسمى خريطة الإدريسي

النظرية التي أثبتتها الخريطة المقابلة تسمى كروية الأرض



دلل - تأثر الحضارة الأوروبية والعالمية بالحضارة الإسلامية في مجال استخراج المياه الجوفية

- الاستفادة من شبكة موارد المياه الجوفية التي أقامها المسلمون
- الاستفادة من براعة المسلمين في شق القنوات ومد المجاري الجوفية
- صناعة هذه القنوات من الخزف أو الفخار المتناسك
- وضع الرصاص في جوانب أنابيب المياه لحفظها من كل دنس

صفوة معلم الكويت

- ٥ المدينة التي استفاد منها الأوروبيون من شبكة موارد المياه الجوفية للمسلمين تسمى **مجريط**
- ٥ مدينة مدريد الحالية عاصمة إسبانيا تعرف قديماً باسم **مجريط**
- ٥ الطائر الذي استغله المسلمون في نقل البريد الجوي اسمه **الحمام الزاجل**



٥ دلل- استفاد الأوروبيون من طريقة المسلمين في نقل الرسائل جواً

- عن طريق الحمام الزاجل حيث تحمل الحمامة رسالة موجزة ومستعجلة .
- كان يقام لها أبراج خاصة في جميع أنحاء الدولة .
- تنقل الحمامة الرسالة من مركز إلى مركز حتى يصل البريد .



تدرب و تفوق

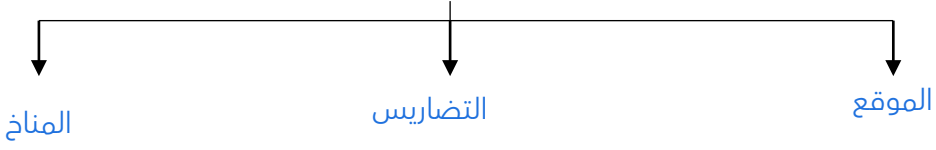
اختبارات الكترونية ذكية

قائمة المفاهيم والمصطلحات - الوحدة الأولى

- هي كل ما يطرأ على المجتمع من تقدم وتطور في الجانب المادي أو الروحي **الحضارة**
- النهضة العلمية والفكرية والأدبية التي انعكست على العالم أجمع و زودته بكافة المجالات و العلوم **الحضارة الإسلامية**
- ما يدفعه أهل الذمة (اليهود والنصارى) من القادرين على حمل السلاح نظير حماية الدولة لهم **الجزية**
- هي ركن من أركان الإسلام يخرجها المسلمون الأغنياء المستحقين من الفقراء ، وتجب الزكاة في الأموال النقدية بواقع 2.5 % كما تجب على الثروات الأخرى **الزكاة**
- كل ما يفرض على الأراضي الزراعية **الخراج**
- عبارة عن صدقة جارية يوقفها المرء في حياته لوجه الخير والبر **الوقف الإسلامي**
- صناعة خشبية ذات طابع مميز برع فيها العرب **الأرابيسك**
- مجموعة من مكعبات الزجاج الملون والشفاف وقطع من الحجر الأبيض والأسود وكذلك القطع الخزفية **الفسيفساء**
- وهم النصارى واليهود الذين ظلوا على دينهم مع دفع الجزية **أهل الذمة**



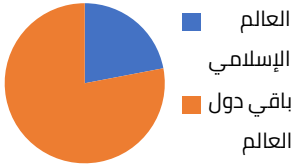
عدد - أنواع البيئة الطبيعية لدول العالم الإسلامي المعاصرة



علل - يشغل العالم الإسلامي موقعاً جغرافياً مهماً على خريطة العالم

- يتواجد دول العالم الإسلامي في أربع قارات
- يمتد في القارات القديمة آسيا وأفريقيا وأوروبا بالإضافة إلى أمريكا الجنوبية
- يتصل ببقية العالم بسهولة

أكمل ما يلي:



مساحة العالم الإسلامي من إجمالي مساحة العالم يقدر بنحو **32 مليون كم²**

نسبة مساحة العالم الإسلامي من جملة مساحة العالم تقدر بحوالي **22.2%**

يقع العالم الإسلامي بين خطي طول **18 غرباً إلى 141 شرقاً**

يقع العالم الإسلامي بين دائرتي عرض **13 جنوباً إلى 55 شمالاً**

عدد القارات التي يمتد بها العالم الإسلامي **4 قارات**

آسيا وأفريقيا وأوروبا تسمى بالقارات **القديمة**

العالم الإسلامي يمتد في القارات القديمة وقارة أخرى تسمى **أمريكا الجنوبية**

القارة التي يوجد بها أكبر عدد للدول الإسلامية تسمى **آسيا**

عدد الدول الإسلامية في قارة آسيا **27 دولة**

عدد الدول الإسلامية في قارة أفريقيا **26 دولة**

قارة أوروبا تضم دولتين إسلاميتين هما ألبانيا **والبوسنة والهرسك**

القارة التي تضم دولتين من دول العالم الإسلامي تسمى **أوروبا**

الدولة الإسلامية الوحيدة التي تقع في قارة أمريكا الجنوبية تسمى **سورينام**

اختياري:

أكبر الدول الإسلامية من حيث المساحة هي

السعودية

سورينام

الجزائر

كازاخستان

أصغر دول العالم الإسلامي من حيث المساحة هي

ماليزيا

جيبوتي

البحرين

جمهورية المالديف



تدرب و تفوق

اختبارات الكترونية ذكية

U U L A






هي أشكال سطح الأرض

التضاريس

عدد الأشكال التضاريسية في العالم الإسلامي

أكمل : العلاقة بين تنوع التضاريس واتساع مساحة الأرض علاقة **طردية**

علل - تنوع التضاريس في دول العالم الإسلامي

- اتساع رقعة العالم الإسلامي حيث يبلغ مساحته 32 مليون كم²
- امتداد العالم الإسلامي في أربع قارات من أصل سبعة قارات

عرف ما يلي

☆ ممكن ان يأتي السؤال بصيغة أخرى: **اكتب المفهوم العلمي**

السهول () أجزاء فسيحة من الأرض تتميز باستوائها وقلّة ارتفاعها

الهضبة () أرض مرتفعة سطحها مستوٍ وتمتد لمساحة واسعة

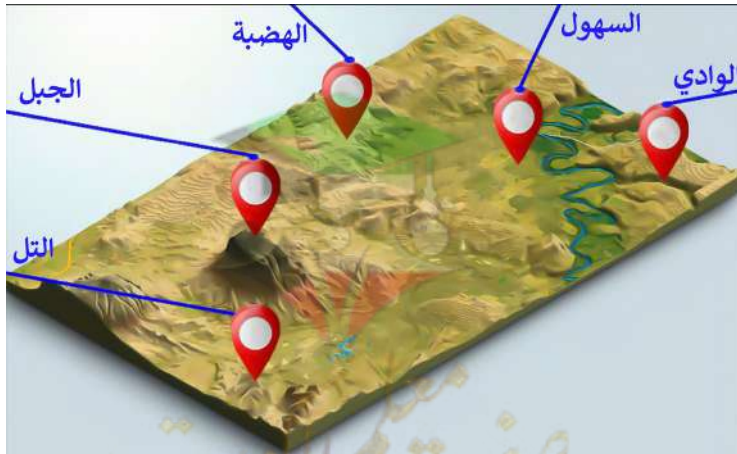
الوادي () حوض أو منخفض طبيعي على سطح الأرض

فرق بين كل من

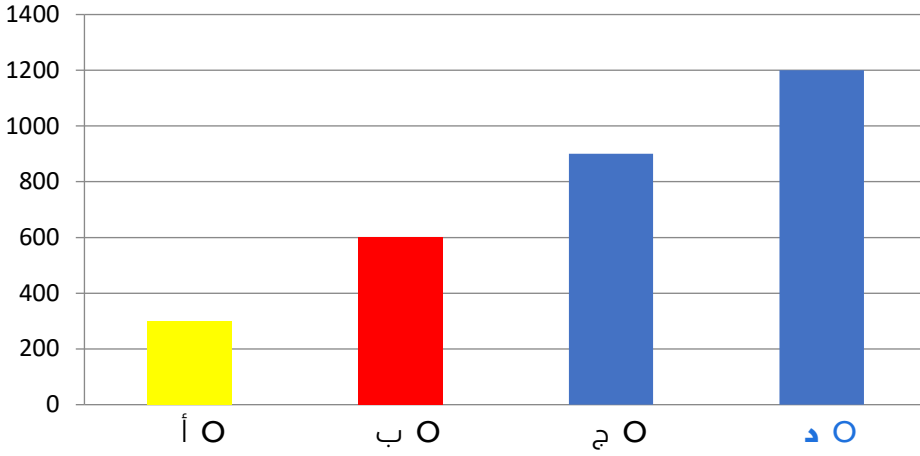
☆ ممكن ان يأتي السؤال بصيغة أخرى: **عرف**

التل	الجبل
يشبه الجبل ولكن ارتفاعه أقل من 1000 م	كل قمة لا يقل ارتفاعها عن 1000 م تقريباً

لاحظ الشكل المقابل ثم اكتب الظواهر التضاريسية



اختياري: الجبل يمثل في الرسم البياني المقابل الحرف **د**



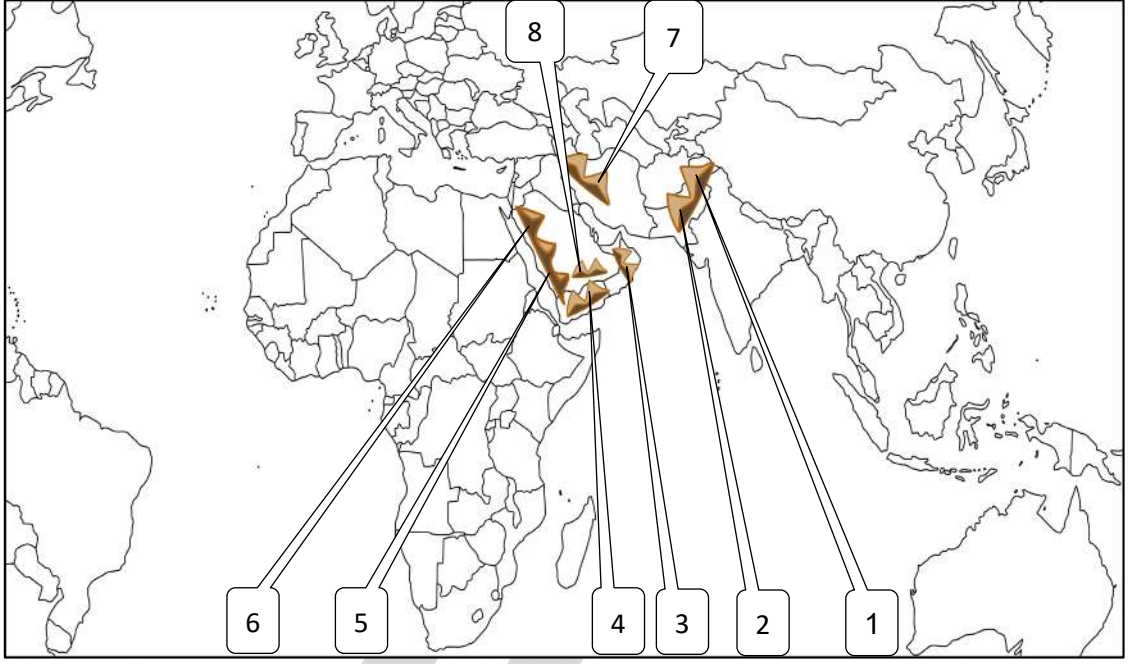
تدرب و تفوق
اختبارات الكترونية ذكية

U U L A





لاحظ خريطة العالم الإسلامي الصماء ثم اكتب الرقم الدال على كل مما يلي



جبال قارة آسيا		
الدولة	الرقم الدال	الجبل
السعودية	6	جبال الحجاز
السعودية	8	جبال السروات
السعودية	5	جبال عسير
إيران	7	جبال زاغروس
عُمان	3	الجبل الأخضر
اليمن	4	مرتفعات اليمن
باكستان	2	جبال باكستان
كشمير	1	جبال كشمير

❶ عـلل - تسمية مرتفعات الحجاز بهذا الاسم

لأنها تحجز سهل تهامة عن هضبة نجد في الشرق

الجـاز

❶ أكمل : المرتفعات التي تضم مكة المكرمة تسمى

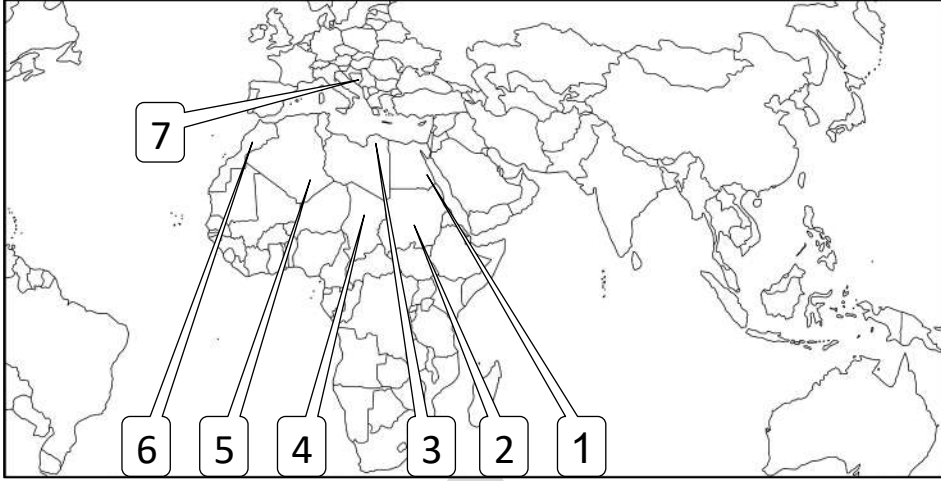


🎯 **تدرب و تفوق**

اختبارات الكترونية ذكية



لاحظ خريطة العالم الإسلامي الصماء ثم اكتب الرقم الدال على كل مما يلي



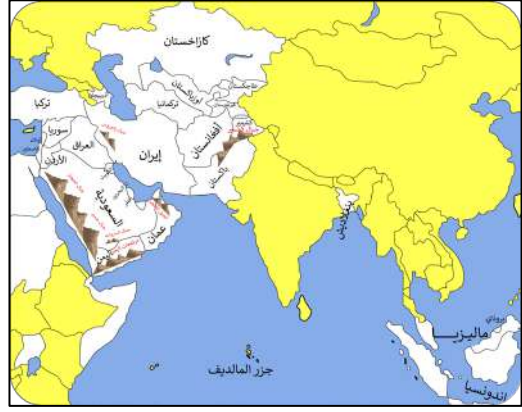
جبال قارة افريقيا		
الدولة	الرقم الدال	الجبل
مصر - السودان	1	سلسلة جبال البحر الأحمر
السودان	2	جبل مرة
ليبيا	3	الجبل الأخضر
تشاد	4	جبال تيبستي
الجزائر	5	جبال الأحجار
الجزائر - المغرب	6	جبال أطلس
قارة أوروبا		
البوسنة والهرسك وألبانيا	7	جبال الألب الدينارية



اختياري: الجزء المظلل في الخريطة المقابلة يمثل قمة جبال :

- جوليا ناتوب
- تيبستي
- عسير
- الألب الدينارية

- علل- قلة عدد السكان في المناطق الجبلية
- انخفاض الضغط الجوي
 - ارتفاع درجة الحرارة
 - صعوبة التنقل
 - ندرة المياه



أهم الجبال في العالم الإسلامي



تدرب و تفوق

اختبارات الكترونية ذكية

U U L A



الهضاب



ضع علامة (√) على الشكل الذي يمثل الهضبة



(√)

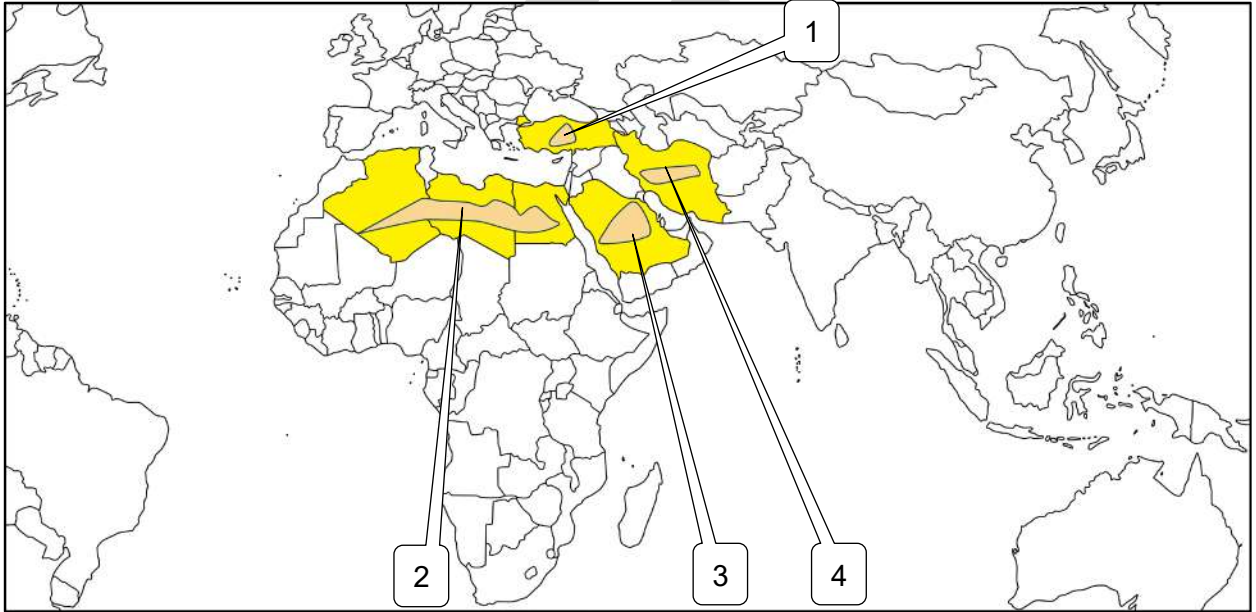


()



()

لاحظ خريطة العالم الإسلامي ثم نفذ المطلوب منك:



الدولة الإسلامية التي يوجد بها هضبة الأناضول تحمل على الخريطة رقم 1

الرقم (2) على الخريطة يشير إلى هضبة تسمى **هضبة الصحراء الكبرى - هضبة أفريقيا الشمالية**

هضبة نجد يمثلها على الخريطة الرقم 3

الهضبة الإيرانية يمثلها على الخريطة الرقم 4

فرق بين كل من

الهضاب في إفريقيا

هضبة الصحراء الكبرى
(هضبة أفريقيا الشمالية)

الهضاب في آسيا

الهضبة الإيرانية
هضبة نجد
هضبة الأناضول

من أكبر الهضاب في العالم وتمتد من ساحل المحيط الأطلسي غرباً إلى مرتفعات البحر الأحمر شرقاً



علل - تعتبر هضبة الصحراء الكبرى من التضاريس المتميزة في العالم الإسلامي

- تعد من أكبر الهضاب في العالم
- تمتد من ساحل المحيط الأطلسي غرباً إلى مرتفعات البحر الأحمر شرقاً

أكمل - هضبة تقع في الكويت ويبلغ امتدادها 30 كم تسمى هضبة الأحمدى



تدرب و تفوق

اختبارات الكترونية ذكية



U U L A





عدد - أنواع السهول في العالم الإسلامي

السهول الفيضية

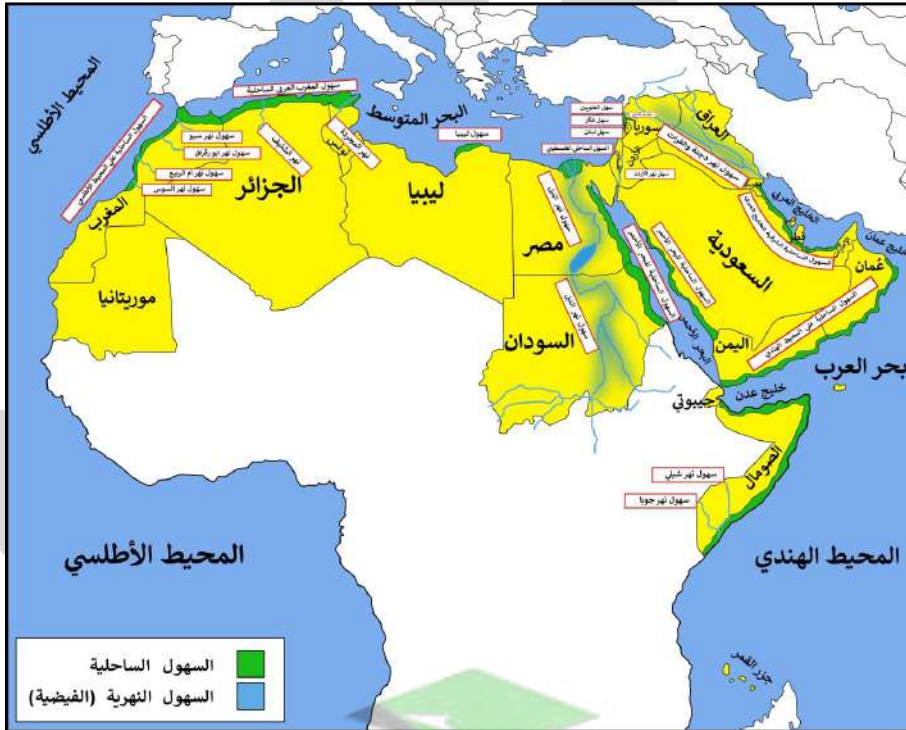
السهول الساحلية

• فرق بين كل من :

السهول الفيضية	السهول الساحلية
الأراضي تكونت من التربة التي حملتها مياه الأنهار	الأراضي التي تمتد بجوار سواحل البحار والمحيطات

• علل - أهمية السهول في العالم الإسلامي

- تستخدم كموانئ طبيعية .
- تشييد المدن
- تركيز السكان فيها لسهولة التنقل



السهول في العالم الإسلامي في آسيا

اسم السهل	نوعه	الدول التي يقع فيها
سهول المحيط الهندي	ساحلي	عمان - اليمن
السهول الشرقية للخليج العربي	ساحلي	الإمارات - قطر - البحرين - السعودية - الكويت
سهول البحر الأحمر	ساحلي	السعودية
السهل الفلسطيني	ساحلي	فلسطين
سهل لبنان - عكار	ساحلي	لبنان
سهل العلويين	ساحلي	سوريا
سهول دجلة والفرات	فيضي	العراق - سوريا
سهل نهر الأردن	فيضي	الأردن
سهل نهر العاصي	فيضي	سوريا



تدرب و تفوق

اختبارات الكترونية ذكية

U U L A





السهول في العالم الإسلامي في أفريقيا

اسم السهل	نوعه	الدول التي يقع فيها السهل
سهول المحيط الهندي	ساحلي	الصومال - جزر القمر
سهول البحر الأحمر	ساحلي	مصر - السودان
سهول ليبيا	ساحلي	ليبيا
سهول المغرب العربي الساحلية	ساحلي	تونس - الجزائر - المغرب
سهول المحيط الأطلسي	ساحلي	المغرب
سهول نهر النيل	فيضي	مصر - السودان
نهر مجردة	فيضي	تونس
نهر الشليف	فيضي	الجزائر
سهول نهر سبو - نهر أبو رقرق أم الربيع - السوس	فيضي	المغرب
سهول شبيلي سهول جوبا	فيضي	الصومال



تدرب و تفوق

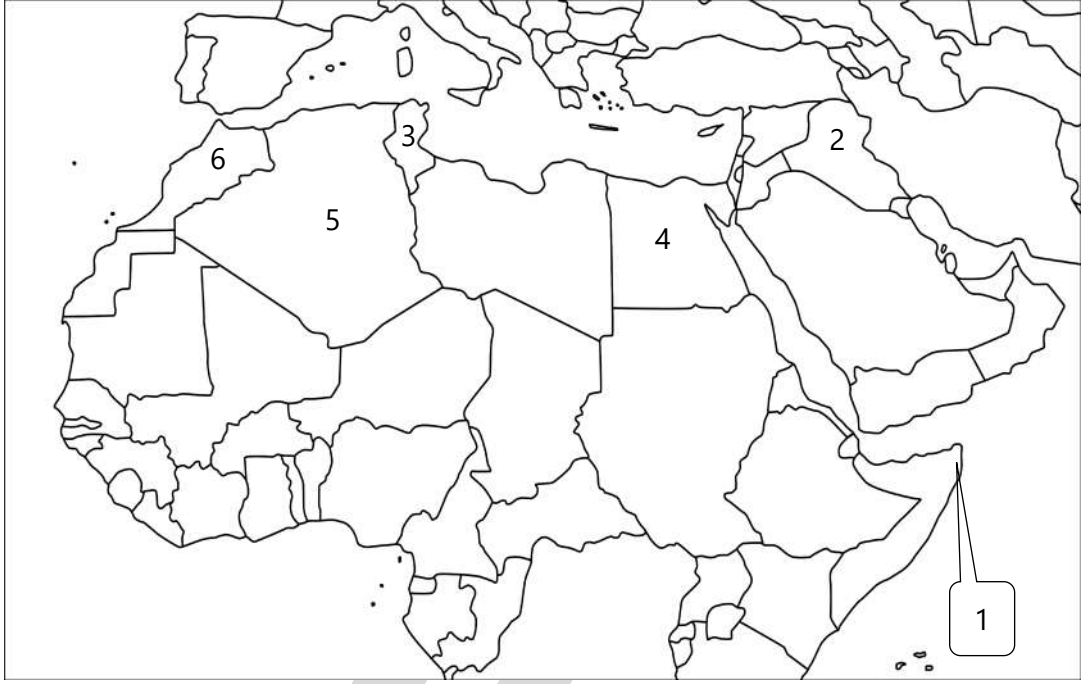
اختبارات الكترونية ذكية

U U L A





لاحظ الخريطة التالية ونفذ المطلوب منك بكل دقة :



- سهل المحيط الهندي يمثلها الرقم (1)
- نهر دجلة يوجد في دولة إسلامية يمثلها على الخريطة الرقم (2)
- نهر المجردة يوجد في دولة إسلامية يمثلها على الخريطة الرقم (3)
- نهر النيل يوجد في دولة إسلامية يمثلها على الخريطة الرقم (4)
- نهر الشليف يوجد في دولة إسلامية يمثلها على الخريطة الرقم (5)
- نهر أم الربيع يوجد في دولة إسلامية يمثلها الرقم (6)

○ صنف الظواهر التالية حسب الجدول التالي:
سهل دجلة - سهل نهر الشليف - سهول ليبيا - سهول البحر الأحمر - سهول لبنان

السهول الفيضية	السهول الساحلية
سهل دجلة سهل نهر الشليف	سهول ليبيا سهول البحر الأحمر سهول لبنان

○ اختياري: سهول نهر جوبا توجد في دولة عربية :

○ المغرب

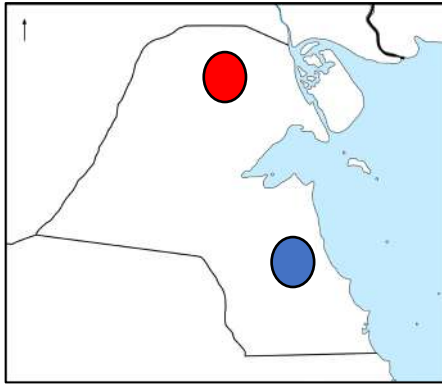
○ السودان

○ لبنان

○ الصومال



أكمل العبارات التالية :



- ❑ أشهر السهول في دولة الكويت يسمى **برقان** .
- ❑ سهل يمتد من جون الكويت باتجاه الجنوب موازياً لخط الساحل يسمى **برقان** .
- ❑ السهل الذي يقع في جنوب دولة الكويت يسمى **برقان** .
- ❑ أرض منبسطة تنحدر نحو الشرق والشمال الشرقي في دولة الكويت تسمى **سهل الروضتين** .
- ❑ السهل الذي يقع في شمال دولة الكويت يسمى **الروضتين** .

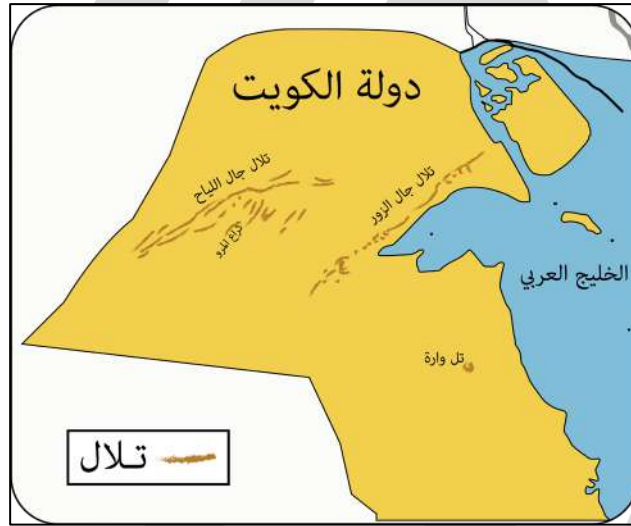
❑ اكتب مدلول الصور التالية :



تل جال الزور



تل وارة



التلال بدولة الكويت

❑ فرق بين كل من

تلال الكويت التي تقع في الجنوب

تل وارة

تلال الكويت التي تقع في الشمال

تلال جال اللياح - كراع المرو - جال الزور



تدرب و تفوق

اختبارات الكترونية ذكية



❏ فرق بين كل من

الطقس	المناخ
حالة الجو في مكان لمدة قصيرة تتراوح بين يوم أو عدة أيام	هو حالة الجو في فترة زمنية طويلة من حيث عناصره

❏ عدد عناصر الطقس والمناخ

- درجة الحرارة
- الرطوبة
- الأمطار
- الضغط الجوي

❏ عدد العوامل التي ساعدت على تنوع المناخ في دول العالم الإسلامي

★ ممكن ان يأتي السؤال بصيغة أخرى: علل تنوع المناخ في دول العالم الإسلامي

- امتداد دول العالم الإسلامي على مساحة شاسعة
- الموقع بالنسبة لدوائر العرض
- الإطلالة على عدة مسطحات مائية في معظم أجزائه
- التنوع في التضاريس (جبال - هضاب - سهول - وديان)

هو مساحة من الأرض تتصف بعناصر مناخية متشابهة

الإقليم المناخي



🎯 **تدرب و تفوق**

اختبارات الكترونية ذكية

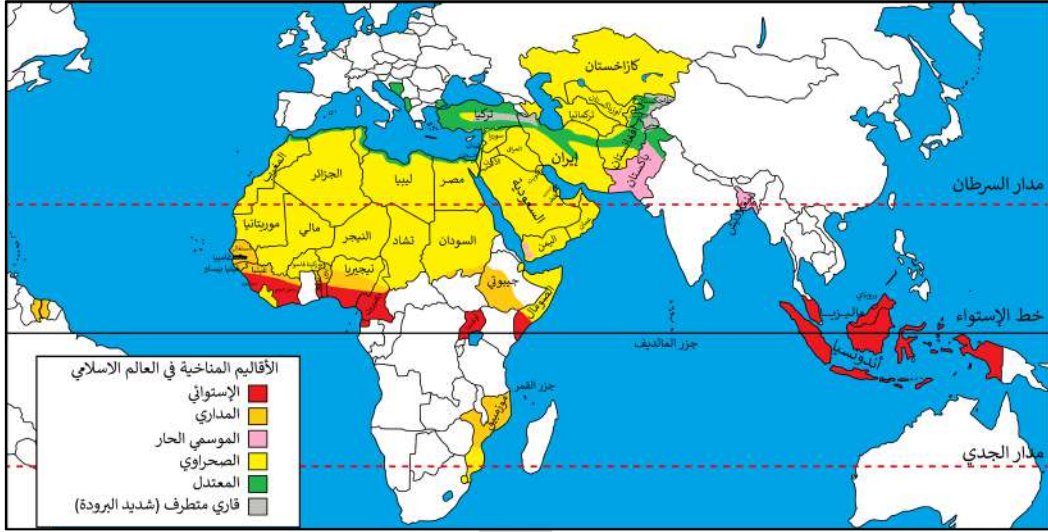


❏ عدد - الأقاليم المناخية التي توجد بدول العالم الإسلامي

- إقليم المناخ الاستوائي الحار ممطر طوال العام
- إقليم المناخ الموسمي الحار الممطر صيفاً
- إقليم المناخ المداري أمطاره صيفية تقل عن الإقليم الموسمي
- إقليم المناخ المعتدل الدافئ ممطر شتاءً وحار صيفاً
- إقليم المناخ القاري الصحراوي الحار



خريطة الأقاليم المناخية لدول العالم الإسلامي



قارن بين كل من :

اقليم المناخ الموسمي	اقليم المناخ الاستوائي	وجه المقارنة
حار ممطر صيفاً	حار ممطر طوال العام	مميزاته المناخية
بنغلاديش - باكستان - عمان - اليمن	ماليزيا - إندونيسيا - دول غرب أفريقيا	توزيعه في الدول

اقليم المناخ المعتدل	اقليم المناخ المداري	وجه المقارنة
دافئ ممطر شتاءً	ممطر صيفاً	مميزاته المناخية
البانيا- البوسنة والهرسك - تركيا	السنغال - غينيا - بنين - نيجيريا - موزمبيق	توزيعه في الدول

اقليم المناخ القاري الصحراوي	وجه المقارنة
حار	مميزاته المناخية
دول الخليج - كازاخستان - مصر - ليبيا - الجزائر - تشاد	توزيعه في الدول

أكمل ما يلي :

❑ الإقليم المناخي الذي تقع فيه دولة الكويت يسمى اقليم المناخ القاري الصحراوي الحار

❑ أكبر الأقاليم المناخية انتشاراً في دول العالم الإسلامي اسمه اقليم المناخ القاري الصحراوي

❑ الإقليم المناخي الذي تقع فيه دولتي ماليزيا واندونيسيا يسمى الاستوائي الحار الممطر طوال العام

❑ علل - ارتفاع الكثافة السكانية في الكويت رغم وقوعها في الإقليم الصحراوي الحار

- توافر الموارد الطبيعية مثل النفط
- توافر فرص العمل



الصحراء الكبرى



مدينة الكويت



لاحظ الصورة التي أمامك ثم أجب عما يلي

ما اسم الصحراء الموضحة في الصورة المقابلة
الصحراء الكبرى

القارة التي تقع فيها تسمى **أفريقيا**

علل - انخفاض الكثافة السكانية فيها
لأنها تقع في نطاق الإقليم الصحراوي الحار



تدرب و تفوق

اختبارات الكترونية ذكية

U U L A





تأثير البيئة الطبيعية على الاقتصاد والمجتمع

❏ علل - تنوع الموارد الطبيعية في العالم الإسلامي

- العالم الإسلامي يمتد على مساحات شاسعة من اليابسة
- تنوع التضاريس والمناخ

❏ عدد - الثروات الطبيعية في دول العالم الإسلامي

★ ممكن ان يأتي السؤال بصيغة أخرى: دلل - تنوع الثروات الطبيعية في العالم الإسلامي

- ثروات الطاقة والمعادن
- الثروة الزراعية
- الثروة السمكية

❏ عدد- ثروات الطاقة والمعادن في العالم الإسلامي

- النفط والغاز الطبيعي
- الثروات المعدنية

أكمل ما يلي :

★ ممكن ان يأتي السؤال بصيغة أخرى: اختياري



❏ نسبة إنتاج العالم الإسلامي من النفط الخام من إجمالي الإنتاج العالمي يقدر بنحو **41.5%**

❏ نسبة احتياطي العالم الإسلامي من النفط الخام من إجمالي الاحتياطي العالمي يقدر بنحو **58.5%**

❏ نسبة إنتاج العالم الإسلامي من الغاز الطبيعي من إجمالي الإنتاج العالمي يقدر بنحو **36%**

❏ فرق بين كل من


إنتاج النفط	احتياطي النفط
كميات النفط المستخرجة من باطن الأرض	كميات النفط المخزونة في باطن الأرض ولم تستخرج بعد



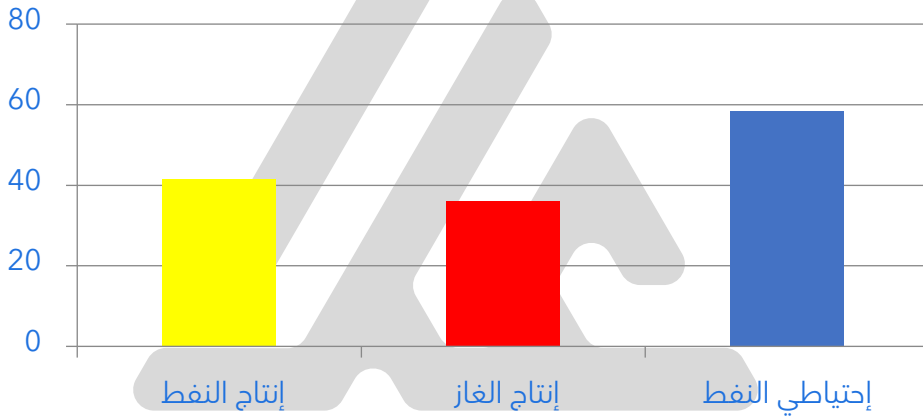
ادرس الجدول المقابل ثم أجب عما يليها من أسئلة

ثروات الطاقة والمعادن في العالم الإسلامي		
احتياطي النفط	إنتاج الغاز	إنتاج النفط الخام
% 58.5	%36	% 41.5

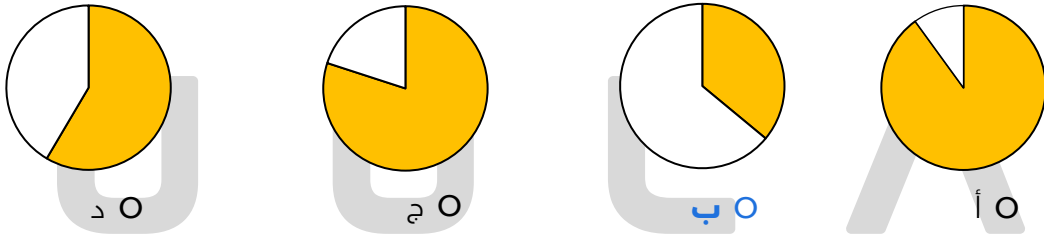
٥ حول نسبة إنتاج النفط والغاز الطبيعي لدوائر بيانية



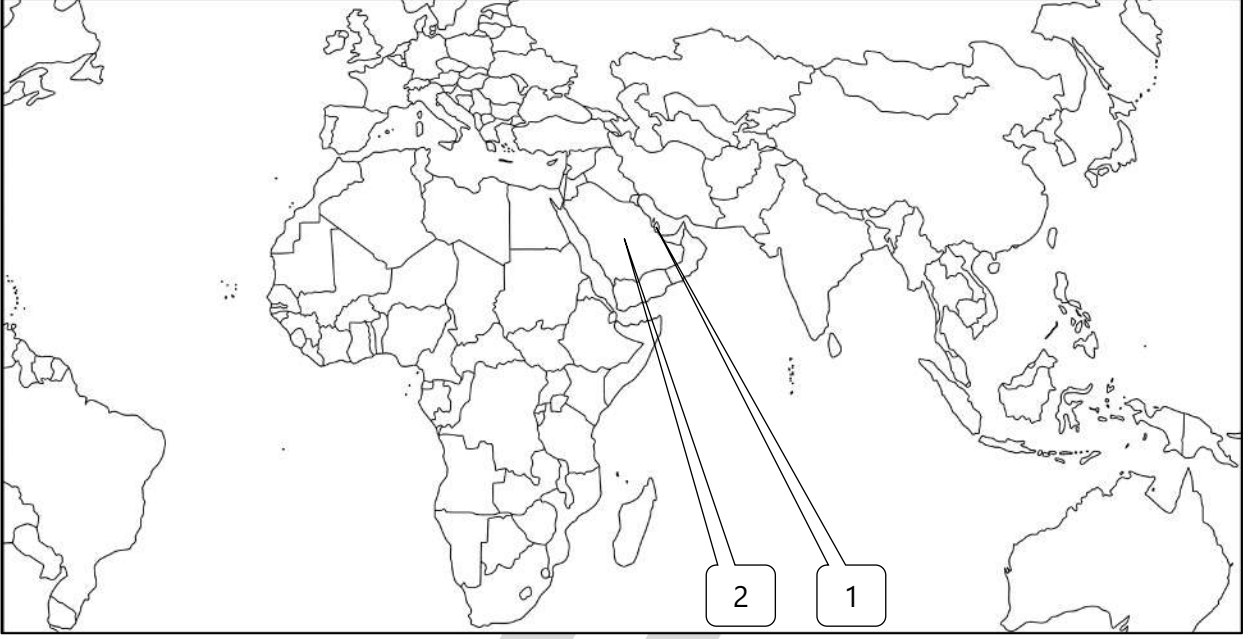
٥ حول الجدول إلى أعمدة بيانية



٥ اختياري: نسبة إنتاج الغاز يمثلها الجزء المظلل في الدائرة البيانية التي تحمل الحرف ب



لاحظ الخريطة التالية ثم نفذ المطلوب منك :



(2)

أولى دول العالم الإسلامي في إنتاج النفط تحمل الرقم

(1)

أولى دول العالم الإسلامي في إنتاج الغاز الطبيعي تحمل الرقم

(1)

أكبر حقل غاز طبيعي في العالم الإسلامي يحمل الرقم



تدرب و تفوق

اختبارات الكترونية ذكية

U U L A



الثروة المعدنية



عدد أهم المعادن في العالم الإسلامي



معدن خام يستخدم في محطات الطاقة النووية

اليورانيوم

لاحظ الجداول ثم أجب على الأسئلة التالية :

الفضة		الذهب		اليورانيوم	
النسبة	الدولة	النسبة	الدولة	النسبة	الدولة
% 3.6	كازاخستان	% 3.4	أوزباكستان	% 41	كازاخستان
% 3.6	إندونيسيا	% 2.4	السودان	% 4.3	أوزباكستان
% 0.7	تركيا	% 2.3	إندونيسيا	% 7.2	النيجر
% 0.7	المغرب	% 1.7	كازاخستان	% 0.1	باكستان
% 0.2	أوزباكستان	% 1.5	مالي		

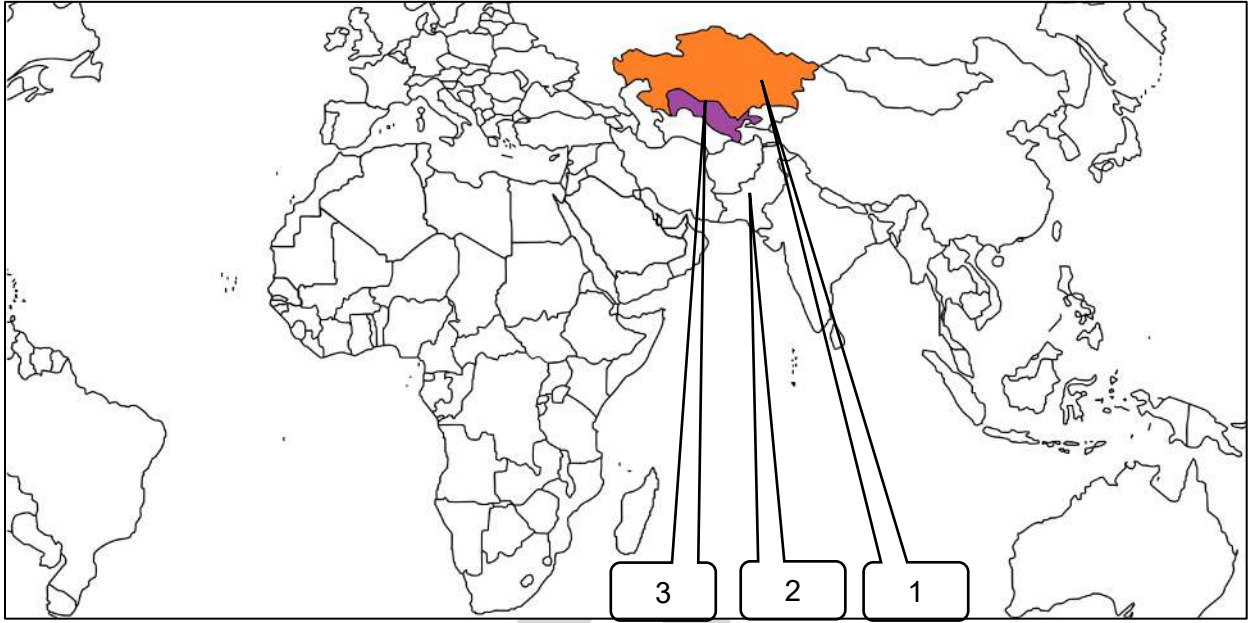
الدولة الإسلامية الأولى إنتاجاً لمعدن اليورانيوم هي **كازاخستان**

أولى دول العالم الإسلامي إنتاجاً للذهب هي **أوزباكستان**

الدول التي تحتل المركز الأول في إنتاج الفضة بالعالم الإسلامي كازاخستان ودولة تسمى **إندونيسيا**



لاحظ خريطة العالم الإسلامي ثم نفذ المطلوب منك



- أولى دول العالم الإسلامي إنتاجاً لمعدن اليورانيوم تحمل الرقم (1)
- أولى دول العالم الإسلامي إنتاجاً لمعدن الذهب تحمل الرقم (3)



تدرب و تفوق

اختبارات الكترونية ذكية

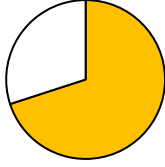
U U L A



الثروة الزراعية والسمكية



أكمل ما يلي :



الثروة التي تعتبر هي المصدر الرئيسي لإنتاج الغذاء تسمى الثروة الزراعية

نسبة المسلمين الذين يشتغلون في الزراعة من إجمالي سكان العالم الإسلامي تمثل 70%

علل - أهمية الثروة الزراعية بالنسبة لسكان العالم الإسلامي

- المصدر الرئيسي لإنتاج الغذاء
- يعمل بها 70% من سكان العالم الإسلامي
- تمثل الدخل الرئيسي للدولة
- تعتبر مادة خام لكثير من الصناعات

عدد - العوامل التي ساعدت على زيادة الإنتاج الزراعي في دول العالم الإسلامي

- التربة الخصبة
- المناخ
- كثرة السكان والأيدي العاملة
- سقوط الأمطار
- وجود البحيرات والأنهار والآبار

عدد- أهم المحاصيل الزراعية في العالم الإسلامي

- الحبوب

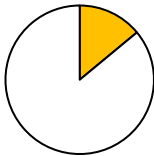


- الفلات النقدية



أكمل

نسبة إنتاج العالم الإسلامي من الحبوب من جملة الإنتاج العالمي يقدر بنحو 14%



عدد- النتائج المترتبة على إنتاج العالم الإسلامي من الحبوب 14% من الإنتاج العالمي

- لا يمتلك غذاءه
- ليس لديه اكتفاء ذاتي

صفوة معلم الكويت

اكتب أسماء الحبوب الغذائية في الشكل التالي



الأرز



القمح



الذرة

عدد - الدول التي يتركز فيها زراعة الأرز في العالم الإسلامي

بنغلاديش

باكستان

إندونيسيا

ماليزيا

علل - تركز زراعة الأرز في ماليزيا وباكستان وإندونيسيا وبنغلاديش

بسبب سقوط الأمطار ووفرة المياه



تدرب و تفوق

اختبارات الكترونية ذكية



المحاصيل التي تزرع من أجل التصدير مثل الجوت

الغلات النقدية

هو نبات ينمو في المناطق الاستوائية والموسمية ويصنع منه الحبال والأحذية والحقائب والأقمشة الخشنة

الجوت

علل - أهمية محصول الجوت

لأنه يدخل في العديد من الصناعات مثل صناعة الحبال والأحذية والحقائب والأقمشة الخشنة

عدد مراحل تصنيع الحبال والأحذية من نبات الجوت

- تؤخذ أعصانه وتوضع تحت الماء وتطمر بالطين
- بعد أيام تستخرج وتغزل ويصنع منها الحبال والأحذية





المطاط الطبيعي



قصب السكر



الموز



العنب



الجوت



القطن



التمر

فواكه وثمار	غلات نقدية
العنب - الموز - التمر	قصب السكر - المطاط الطبيعي - القطن - الجوت

❏ فرق بين كل من

الغلات النقدية	الحبوب
القطن - الجوت - المطاط الطبيعي	الذرة - القمح - الأرز

❏ عدد - مصادر إنتاج الأسماك في دول العالم الإسلامي

- مصادر طبيعية مثل (المحيطات والبحار والمياه العذبة)
- مصادر غير طبيعية مثل (الاستزراع السمكي)

❏ فرق بين مصادر إنتاج الأسماك في دول العالم الإسلامي

☆ ممكن ان يأتي السؤال بصيغة أخرى: **أكمل المخطط السهمي**

مصادر طبيعية	مصادر غير طبيعية
<ul style="list-style-type: none"> ▪ المحيطات ▪ البحار ▪ المياه العذبة 	<ul style="list-style-type: none"> ▪ الاستزراع السمكي

أكمل ما يلي :

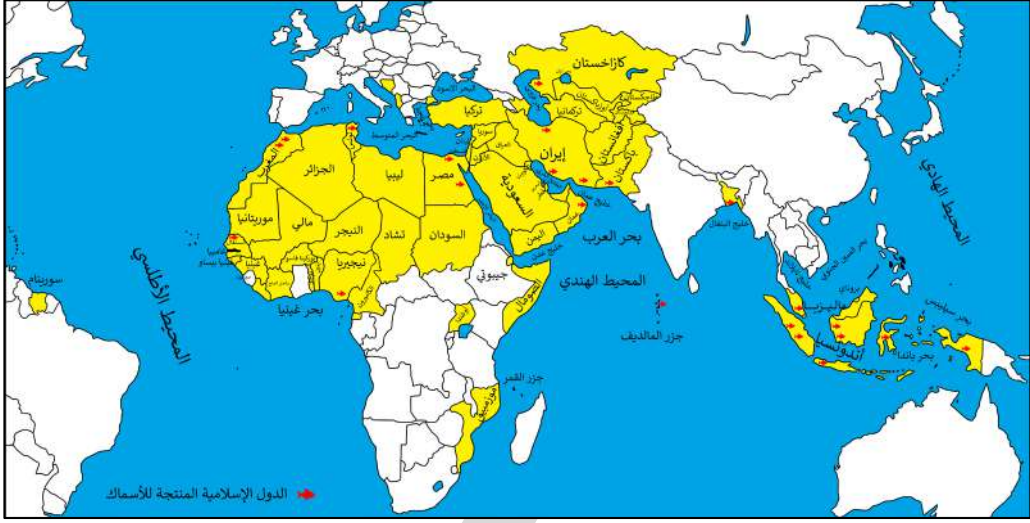
❏ الدولة الإسلامية التي تحتل المركز الثاني على مستوى العالم

في الإنتاج البحري لعام 2014 م هي إندونيسيا

❏ المصدر غير الطبيعي لإنتاج الأسماك يسمى

الاستزراع السمكي





أسماء الدول الإسلامية التي تطل على أكثر من سطح مائي

- أندونيسيا
- تركيا
- ماليزيا
- السعودية
- مصر
- المغرب

أسماء الدول الإسلامية التي لا تطل على سطح مائي

- أفغانستان
- مالي
- تشاد
- النيجر
- كازاخستان



تدرب و تفوق

اختبارات الكترونية ذكية

U U L A



قائمة المفاهيم والمصطلحات - الوحدة الثانية :

هو مساحة الأرض تتصف بعناصر مناخية متشابهة	إقليم مناخي
أرض مرتفعة سطحها مستوٍ ، وتمتد لمساحة كبيرة	هضبة
هو كل مرتفع له قمة لا يقل ارتفاعه عن 1000 متر تقريباً وإذا قل ارتفاعه يصبح تل	جبل
أجزاء فسيحة من الأرض تتميز باستوائها وقلة ارتفاعها	سهول
حوض أو منخفض طبيعي على سطح الأرض	وادي
يشبه الجبل ، ولكن ارتفاعه أقل من 1000 متر	التل
عبارة عن الأحوال الجوية وتغيراتها خلال فترة زمنية طويلة لا تقل في العادة عن 30 سنة	مناخ
هي عبارة عن أشكال سطح الأرض	التضاريس
معدن خام يستخدم في محطات الطاقة النووية	يورانيوم
هي كمية النفط المخزونة في باطن الأرض ولم تستخرج بعد	احتياطي النفط
نبات ينمو في المناطق الاستوائية والموسمية ، تؤخذ أغصانه وتوضع تحت الماء وتطمر الطين بعد أيام تستخرج ، وتغزل ، ويصنع منها الحبال والأحذية والحقائب والأقمشة الخشبية .	الجوت