

# تاريخ الكويت

الكورس الثاني

10



# تاريخ الكويت

الكورس الثاني

10

معلمة الكويت  
كفؤة الكويت  
KuwaitTeacher.Com

# شلون تتفوق بحراستك

طريقة علا المتكاملة للدراسة تشمل الاستفادة من المذكرة و الفيديوهات و الاختبارات



## ⚠ علا تخلي المذكرة أقوى

تبي أعلى الدرجات؟ لا تعتمد على المذكرة بروحها - ادرس صح من الفيديوهات و الاختبارات

## اختبارات ذكية تدريك

حل الاختبارات الالكترونية أول بأول عشان ترفع مستواك



## فيديوهات تشرح لك

تابع الفيديوهات و انت تدرس المذكرة عشان تضبط الدرس



.....

## اشترك بالمادة

احرص على تفعيل اشتراكك عشان تستفيد أكثر ما تقدر



اكتشف عالم التفوق مع باقات علا  
ادرس جميع مواد مرحلتك باشتراك واحد بسعر خيالي

Kuwaitteacher.Com

# المنقذ

أقوى مذكرة صارت الحين أقوى و أقوى مع خاصية  
المنقذ للمساعدة الفورية

## شنو المنقذ؟

امسح الباركود بكاميرا تلفونك  
وتعرف على طريقة استخدام المنقذ



## شنو فائدة هالخاصية؟

أول ما تحتاج مساعدة بالمادة , المنقذ بينقذك .

امسح الباركود بكاميرا التلفون أو اضغط عليه إذا كنت فاتح  
المذكرة من جهازك و يطلع لك فيديو الشرح.

KuwaitTeacher.Com

## 01

### الأوضاع الداخلية والخارجية في الكويت

- 5 الشيخ جابر بن مبارك الصباح ( 1915 – 1917م )  
8 الشيخ سالم بن مبارك الصباح ( 1917 – 1921م )  
10 الشيخ أحمد الجابر الصباح ( 1921م – 1950م )

## 02

### استقلال دولة الكويت

- 17 الشيخ عبد الله السالم الصباح ( 1950 – 1965 م )  
23 الشيخ صباح السالم الصباح ( 1965 – 1977 م )  
26 الشيخ جابر الأحمد الصباح ( 1977 – 2006 م )  
32 سعد العبد الله السالم الصباح ( 2006 – 2006 م )  
34 الشيخ /صباح الأحمد الصباح ( 2006 – 2020 م )  
43 صاحب السمو أمير دولة الكويت  
الشيخ /نواف الأحمد الجابر الصباح حفظه الله ورعاه

## 03

### العلاقات الكويتية العراقية

- 49 نظرة تاريخية على جذور العلاقة الكويتية - العراقية  
67 التحرير - ترسيم الحدود الكويتية العراقية

## 04

### رؤية الكويت الجديدة

- 71 رؤية الكويت الجديدة  
76 نماذج لبعض المشاريع من الخطة التنموية لمستقبل دولة الكويت الجديدة  
79 مشروع مبادرة الوقود البيئي لمؤسسة البترول الكويتية  
86 الكويت الجديدة في 2035م مشروع استغلال الجزر الكويتية



# الشيخ جابر بن مبارك الصباح (1915 - 1917 م)

أكمل ما يلي:

ممکن أن يظهر السؤال في صيغة اخرى: اختياري



س حاكم الكويت الثامن هو الشيخ

س الصورة المقابلة تمثل حاكم دولة الكويت يسمى الشيخ

س حاكم الكويت الذي اتسم بالطبيعة العادئة وسلامة الصدر والحلم يسمى

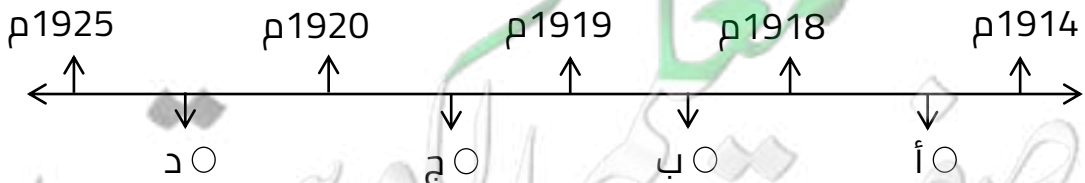
س الفترة الزمنية ما بين عام 1915 م إلى 1917 م تمثل فترة حكم الشيخ

س الحدث التاريخي الذي شهدته فترة حكم الشيخ جابر بن مبارك الصباح هو

س حاكم الكويت الذي عاصر الحرب العالمية الأولى (1914 - 1918 م) هو

س الشيخ الذي اتبع أسلوب أبيه في الحكم هو

س اختياري الفترة الزمنية التي تمثل الحرب العالمية الأولى يمثلها على المخطط الزمني الحرف:



س علل تعتبر فترة حكم الشيخ جابر بن مبارك فترة دقيقة ومختلفة الاتجاهات

س عدد - سمات الشيخ جابر بن مبارك الصباح ( جابر المبارك )

س عدد أهم الأعمال التي وقعت في عهد الشيخ جابر بن مبارك

أكمل

اختياري

ممکن أن يظهر السؤال في صيغة اخرى:  
فند " لم يكن للشيخ جابر بن مبارك أي أعمال هامة خلال فترة حكمه"

س أكمل : حاكم الكويت الذي ألغى ضريبة الثلث على العقارات يسمى الشيخ



تدرب و تفوق

اختبارات الكترونية



س علل عقد بريطانيا مؤتمراً في الكويت عام 1916 م؟

أكمل ما يلي:

ممکن أن يظهر السؤال في صيغة اخرى: اختياري

س العام الميلادي الذي عقدت فيه بريطانيا مؤتمراً في الكويت أثناء الحرب العالمية الأولى

س أمير نجد الذي حضر مؤتمر بريطانيا في الكويت عام 1916 م هو



س أمير الأهواز الذي حضر مؤتمر بريطانيا في الكويت عام 1916 م هو

س رئيس المؤتمر البريطاني في الكويت عام 1916 م هو

س اختر الإجابة الصحيحة - العام الميلادي الذي عقدت فيه بريطانيا مؤتمراً في الكويت أثناء الحرب العالمية الأولى:

○ 1916 م

○ 1911 م

○ 1919 م

○ 1914 م

اقرأ ثم أجب عما يلي:

" إن جل قصدنا من هذا الاجتماع هو دعم مسائل الأمة العربية

س من القائل:

س لمن وجهت هذه الرسالة:

" إن اجتماعنا في الكويت كان يهدف إلى دعم مسائل الأمة العربية  
وصيانة حقوقها "

س من القائل:

س لمن وجهت هذه الرسالة:

س فرق بين السبب المعلن والغير معلن لعقد مؤتمر بريطانيا عام 1916 م مع بعض زعماء العرب

| السبب المعلن     |
|------------------|
|                  |
| السبب الغير معلن |
|                  |



تدرب و تفوق  
اختبارات الكترونية





# الأوضاع الداخلية والخارجية للكويت

## الشيخ سالم بن مبارك الصباح ( 1917 – 1921 م )

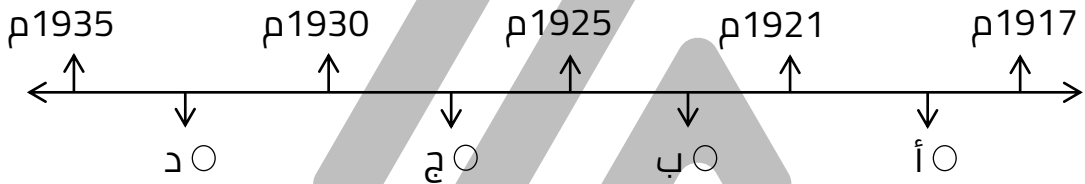
**أكمل ما يلي:**



**س** الحاكم التاسع لدولة الكويت هو الشيخ

**س** الفترة الزمنية من عام 1917 إلى 1921 م تمثل فترة حكم

**س** اختياري - الفترة الزمنية التي تمثل حكم الشيخ سالم بن مبارك:



**س** عدد سمات الشيخ سالم بن مبارك الصباح؟

**نفذ المطلوب منك مما بين القوسين**

**س** الشيخ سالم بن مبارك : (أعماله)

ممكن أن يظهر السؤال في صيغة اخرى:  
فند " لم يكن للشيخ سالم بن مبارك الصباح أي أعمال هامة خلال فترة حكمه "

**س** الشيخ سالم بن مبارك : (اكتب أهم الأحداث الهامة)

## أكمل العبارات التالية

ممکن أن يظهر السؤال في صيغة اخرى: اختياري

س العام الميلادي الذي وقعت فيه حرب الجبراء .....

س مظهر معماري تم بنائه في عهد الشيخ سالم بن مبارك يسمى .....

س اختياري - السور الذي تم بناءه في عهد الشيخ سالم بن مبارك الصباح:

○ السور الأول ○ السور الثاني ○ السور الثالث ○ السور الرابع

س علل بناء الشيخ سالم بن مبارك السور الثالث ؟

## أكمل العبارات التالية

س العام الميلادي الذي أكدت فيه الاتفاقية الإنجليزية العثمانية على حدود الكويت .....

س الوكيل السياسي البريطاني في الكويت عام 1920 م اسمه .....

س علل أهمية الاتفاقية الإنجليزية العثمانية عام 1913م؟

س فند " لم يحرص الشيخ سالم بن مبارك على تأكيد حدود دولة الكويت "

س علل إرسال رسالة من قبل الشيخ سالم بن مبارك إلى الوكيل السياسي البريطاني في عام 1920 م ؟



تدرب و تفوق  
اختبارات الكترونية



# الأوضاع الداخلية والخارجية للكويت الشيخ أحمد الجابر الصباح ( 1921م – 1950م )

## أكمل العبارات التالية



س الحاكم العاشر لدولة الكويت هو الشيخ

س الفترة الزمنية ما بين ( 1921 – 1950 م ) تمثل فترة حكم الشيخ

س تولى الشيخ أحمد الجابر حكم دولة الكويت في عام 1921م وذلك بعد وفاة عمه الشيخ

س اختر الإجابة الصحيحة - تولى الشيخ أحمد الجابر حكم دولة الكويت وعمره

○ 35 سنة ○ 36 سنة ○ 37 سنة ○ 38 سنة

س الأمير الذي كان موفداً إليه الشيخ أحمد الجابر عام 1921 م في الرياض يسمى

س دلل تولى الشيخ أحمد الجابر الصباح في فترة عصيبة من فترات السياسة الخارجية

يمكن أن يظهر السؤال في صيغة أخرى:  
عدد أبرز القضايا المهمة التي تعامل معها الشيخ أحمد الجابر بعد توليه الحكم

عرف

المسابقة

معلمة  
مفتوحة  
KuwaitTeacher.Com

س علل كان الشيخ أحمد الجابر حذراً في التعامل مع بريطانيا؟

س أكمل العام الميلادي الذي وقعت فيه معاهدة العقير .....



تدرب و تفوق  
اختبارات الكترونية



## إدارة الشؤون الداخلية في عهد الشيخ أحمد الجابر

أكمل المخطط السهمي التالي:

س مجالات إدارة الشؤون الداخلية في عهد الشيخ أحمد الجابر



س دلل على صحة العبارة " طراً مع بداية حكم الشيخ أحمد الجابر تغييرات على مستوى المشاركة في القرار والشورى بين الحاكم والمحكوم "

ممكن أن يظهر السؤال في صيغة اخرى:  
فند " لم يشهد عهد الشيخ أحمد الجابر أي تغييرات على مستوى المشاركة في القرار بين الحاكم والمحكوم

# U U L A

أكمل العبارات التالية

ممكن أن يظهر السؤال في صيغة اخرى: عرف

س المجلس الذي تشكل عام 1921 م من وجهاء أهل الكويت في عهد الشيخ أحمد الجابر يسمى .....

س العام الميلادي الذي أنشأ فيه أول مجلس بلدي في الكويت .....

س العام الميلادي الذي أنشأ فيه أول مجلس تشريعي في الكويت .....

س علل لم يستمر مجلس الشورى طويلاً ؟

ممكن أن يظهر السؤال في صيغة اخرى: ( فند ) استمر مجلس الشورى طويلاً ؟

س قارن بين كل من:

| المجلس      | مجلس الشورى                               | المجلس البلدي                             | المجلس التشريعي                           |
|-------------|---|---|---|
| سنة التأسيس | -----                                     | -----                                     | -----                                     |
| المهام      | -----<br>-----<br>-----<br>-----<br>----- | -----<br>-----<br>-----<br>-----<br>----- | -----<br>-----<br>-----<br>-----<br>----- |

س اختياري : حل الصراعات بين التجار في الأسواق من مهام  
○ مجلس الشورى ○ المجلس البلدي ○ المجلس التشريعي



تدرب و تفوق  
اختبارات الكترونية



ثانياً: المجال الثقافي والتعليمي

س دلل على صحة العبارة " اهتمام الشيخ أحمد الجابر بالمجال الثقافي والتعليمي؟

أكمل العبارات التالية

س العام الميلادي الذي أنشأت فيه المدرسة الأحمدية .....

س الحي الكويتي الذي أنشأ فيه المدرسة الأحمدية عام 1921 م يسمى

س المبلغ الذي شيدت به المدرسة الأحمدية عام 1921 م هو

س عدد - المساهمين في تشييد بناء المدرسة الأحمدية عام 1921 م

س عدد - مكونات المدرسة الأحمدية قبل عام 1943 م

### أكمل العبارات التالية

س العام الميلادي الذي أضيف فيه عدد من الغرف للمبنى الأول للمدرسة الأحمدية

س العام الميلادي الذي أعيد فيه بناء المدرسة الأحمدية كلياً

س المجلس الذي تم تأسيسه عام 1936 م مهمته الإشراف على تأسيس المدارس والإنفاق عليها يسمى

س العام الميلادي الذي أنشأ فيه مجلس المعارف

س أوجد العلاقة بكتابة فقرة مترابطة بالاستعانة بالكلمات التالية:  
المدرسة الأحمدية - حي القبله - 1948م

س علل - إعادة بناء المدرسة الأحمدية كلياً عام 1948 م

س أكمل عدد الناخبين الذين تم دعوتهم من أهالي الكويت لانتخاب أعضاء مجلس المعارف \_\_\_\_\_.



تدرب و تفوق  
اختبارات الكترونية



## ثالثاً: المجال الاقتصادي

س عدد أهم التغيرات الاقتصادية في عهد الشيخ أحمد الجابر

س عدد أهم الإنجازات في المجال الاقتصادي في عهد الشيخ أحمد الجابر

ممکن أن يظهر السؤال في صيغ أخرى:  
فند العبارة " نما الاقتصاد الكويتي في عهد الشيخ أحمد الجابر نتيجة التطور في مجال الزراعة " دلل : اهتمام الشيخ أحمد الجابر بالمجال الاقتصادي

## أكمل العبارات التالية

س أول اتفاقية امتياز للنفط في الكويت ( بحرة ) في عام \_\_\_\_\_.

س بداية حفر النفط في حقل برقان عام \_\_\_\_\_.

س إنتاج النفط بكميات تجارية في حقل برقان عام \_\_\_\_\_.

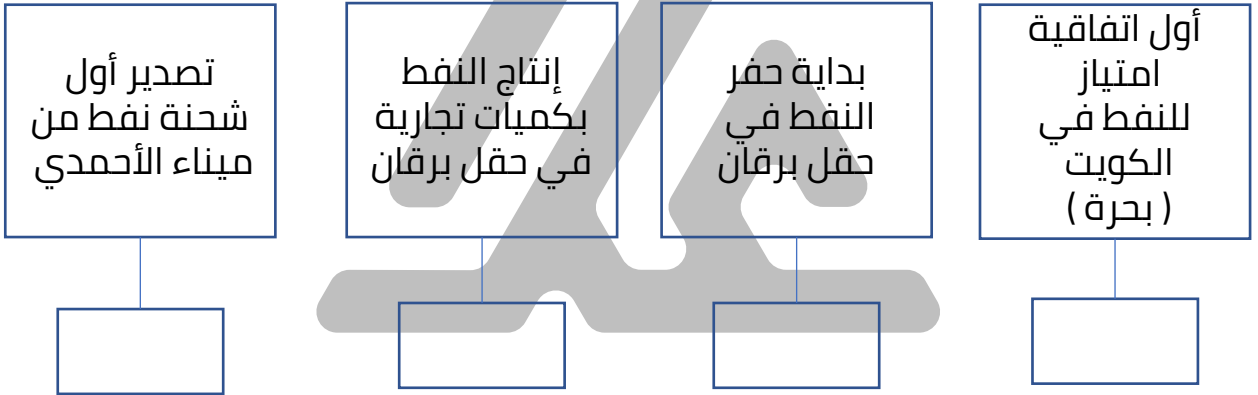
س العام الذي تم فيه تصدير أول شحنة نفط من ميناء الأحمدية \_\_\_\_\_.



س اختر من المجموعة ( أ ) ما يناسبها من المجموعة ( ب ) بوضع الرقم المناسب:

| م | ( أ )                                       | الرقم المناسب | ( ب )  |
|---|---|---------------|--------|
| 1 | تصدير أول شحنة نفط من ميناء الأحمدي         | -----         | 1934م  |
| 2 | بداية حفر النفط في حقل برقان                | -----         | 1936م  |
| 3 | أول اتفاقية امتياز للنفط في الكويت ( بحرة ) | -----         | 1938م  |
| 4 | إنتاج النفط بكميات تجارية في حقل برقان      | -----         | 1946م  |
| 5 |   | -----         | 1921 م |

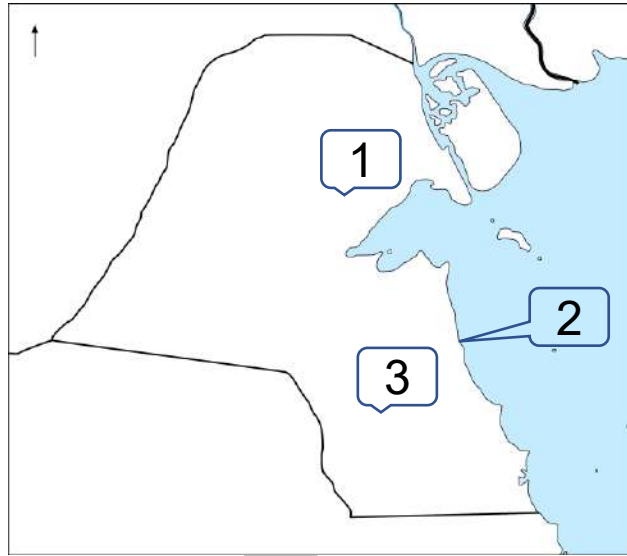
س أكمل المخطط السهمي التالي



U U L A

معلمة في الكويت  
Kwailteacher.Com

## أمامك خريطة دولة الكويت الصماء - أكتب الرقم الدال على العبارات التالية



**س** حقل بحرة يمثل على الخريطة الرقم

**س** بداية حفر النفط في دولة الكويت يمثل على الخريطة الرقم

**س** ميناء الأحمدى يمثل على الخريطة الرقم



**تدرب و تفوق**

اختبارات الكترونية

# U U L A

معلمة في الكويت  
Kwwaitteacher.Com

# الشيخ عبد الله السالم الصباح ( 1950 – 1965 م )



أكمل ما يلي:

س الحاكم الحادي عشر للكويت يسمى

س النجل الأكبر للشيخ سالم المبارك الصباح هو

س الفترة الزمنية بين عام 1950 – 1965 م تمثل فترة حكم

س حاكم الكويت الذي تولى شؤون البلاد الإدارية والمالية في عهد الشيخ أحمد الجابر هو

س العام الميلادي الذي تولى فيه الشيخ عبد الله السالم إمارة الكويت رسمياً

س حاكم الكويت الذي أصبحت في عهده دولة مستقلة ذات سيادة تامة يسمى

س حاكم الكويت الذي أصبح في عهده لدولة الكويت نظام دستوري يحكمها يسمى

س عدد الألقاب التي حصل عليها الشيخ عبدالله السالم الصباح

س عل - لقب الشيخ عبد الله السالم الصباح بأبو الاستقلال



تدرب و تفوق

اختبارات الكترونية



# الشيخ عبدالله السالم والاستقلال

**س** دلل على صحة العبارة التالية " الشيخ عبد الله السالم الصباح له دور في استقلال الكويت "

## أكمل العبارات التالية:

ممكّن أن يظهر السؤال في صيغة اخرى: اختياري

- س** العام الميلادي الذي حصلت فيه الكويت على استقلالها .....
- س** الاتفاقية التي استبدلت باتفاقية الحماية عام 1899 م تسمى .....
- س** العام الميلادي الذي انضمت فيه الكويت إلى جامعة الدول العربية .....
- س** حاكم الكويت الذي انضمت في عهده الكويت إلى جامعة الدول العربية ومنظمة الأمم المتحدة هو .....
- س** العام الميلادي الذي انضمت فيه الكويت إلى منظمة الأمم المتحدة .....
- س** علل تأخر انضمام الكويت لمنظمة الأمم المتحدة؟

## لاحظ الصورة المقابلة ثم أجب عن الأسئلة التالية:



**س** ما اسم حاكم دولة الكويت في الصورة المقابلة؟

**س** ما اسم الاتفاقية الجديدة التي استبدلت بها اتفاقية الحماية المعقودة عام 1899 م؟

## الدستور والحياة النيابية:

علل لما يلي:

س تشكل الدساتير أهمية كبرى في حياة الأوطان والأمم؟

س اهتمام الشيخ عبد الله السالم الصباح بوضع الدستور الكويتي؟

س دعوة الشيخ عبد الله السالم إلى انتخاب مجلس تأسيسي؟

س دلل الشيخ عبد الله السالم مؤمن بالشورى والمشاركة الشعبية في الحكم؟

س عرف - الدستور

س إطلاق لقب ( أبو الدستور ) على الشيخ عبد الله السالم الصباح؟



تدرب و تفوق  
اختبارات الكترونية

## أكمل العبارات التالية

**س** العام الميلادي الذي تم فيه التصديق على الدستور الكويتي هو .....

**س** عدد مواد الدستور الكويتي .....

**س** فرق بين مواد الدستور:

ممكن أن يظهر السؤال في صيغة اخرى: أذكر نص المواد التالية من الدستور الكويتي

|       |                |
|-------|----------------|
| ..... | المادة الأولى  |
| ..... | المادة الثانية |
| ..... | المادة الرابعة |

## صوّب ما تحته خط في العبارات التالية:

**س** مادة الدستور الكويتي التي تنص على أن الدين الرسمي للدولة هو الإسلام هي المادة الرابعة

**س** مادة الدستور الكويتي التي تنص على أن الكويت دولة عربية ذات سيادة تامة وجزء من الأمة العربية هي المادة الثانية

**س** مادة الدستور الكويتي التي تنص على أن الكويت إمارة وراثية في ذرية المغفور له الشيخ مبارك الصباح هي المادة الأولى

## أكمل العبارات التالية:

**س** العام الميلادي الذي جرت فيه أول انتخابات لمجلس الأمة الكويتي عام .....

**س** عدد النواب الذين يمثلون الأمة في عام 1963 م .....

**س** عدد الدوائر في مجلس الأمة الكويتي عام 1963 م .....

س العام الميلادي جرت فيه أول انتخابات لمجلس الأمة الكويتي بنظام العشر دوائر



تدرب و تفوق  
اختبارات الكترونية



## سياسة الشيخ عبدالله السالم الخارجية

س دل " مد الشيخ عبد الله السالم يد التعاون إلى جميع دول العالم العربي "

أكمل العبارات التالية:

س أول مؤسسة إنمائية في الشرق الأوسط تقوم بالمساهمة في تحقيق الجهود الإنمائية والاقتصادية للدول العربية والنامية تسمى

س العام الميلادي الذي تأسس فيه الصندوق الكويتي للتنمية هو

س المؤسسة الإنمائية التي تأسست في نفس عام استقلال دولة الكويت تسمى

س حاكم الكويت الذي تأسس في عهده الصندوق الكويتي للتنمية يسمى الشيخ

س برهن على صحة العبارة " أهمية الصندوق الكويتي للتنمية "

س فند العبارة " دولة الكويت لا يذكر لها دور في مد يد العون للدول النامية "



س أوجد العلاقة بكتابة فقرة مترابطة بالاستعانة بالكلمات التالية:  
الصندوق الكويتي - 1961م - تحقيق الإنماء



تدرب و تفوق  
اختبارات الكترونية



U U L A A

معلمة في الكويت  
Kuwaitteacher.Com

# الشيخ صباح السالم الصباح ( 1965 – 1977 م )



أكمل ما يلي:



س الحاكم الثاني عشر لدولة الكويت هو

س الفترة الزمنية بين عام 1965 – 1977 م تمثل فترة حكم

س أول ولي للعهد في تاريخ دولة الكويت هو


س العام الميلادي الذي عُين فيه الشيخ صباح السالم كأول ولياً للعهد في تاريخ دولة الكويت

س الحاكم الثاني بعد استقلال دولة الكويت هو

س أول وزير للخارجية في تاريخ دولة الكويت بالوزارة الأولى في عام 1962 م هو الشيخ

## أولاً: السياسة الداخلية في عهد الشيخ صباح السالم الصباح

س عدد مجالات السياسة الداخلية في عهد الشيخ صباح السالم



**س** عدد أبرز التطورات الداخلية في عهد الشيخ صباح السالم؟

أكمل

دل

ممكن أن يظهر السؤال في صيغة اخرى:

**س** دل - اهتمام الشيخ صباح السالم الصباح بالمجال الإسكاني

**أكمل :**

**س** الوزارة التي أشرفت على توزيع مساكن لذوي الدخل المحدود في عهد الشيخ صباح السالم هي .....

**س** العام الميلادي تم فيه إنشاء جامعة الكويت .....

**س** حاكم الكويت الذي أنشأت في عهده جامعة الكويت هو .....

**س** العام الميلادي الذي تم فيه تأميم النفط بدولة الكويت هو .....

**س** حاكم دولة الكويت الذي استحدث في عهده نظام التجنيد الإلزامي يسمى .....



**تدرب و تفوق**

اختبارات الكترونية



**ثانياً: السياسة الخارجية في عهد الشيخ صباح السالم الصباح**

**س** فند العبارة التالية " لم تحرص دولة الكويت في عهد الشيخ صباح السالم الصباح على دعم العديد من القضايا العربية »

ممكن أن يظهر السؤال في صيغة اخرى:  
دل على صحة العبارة " لدولة الكويت دوراً بارزاً في دعم القضايا العربية "

Kuwaitteacher.Com

## س وازن بين السياسة الداخلية والخارجية في عهد الشيخ صباح السالم

ممکن أن يظهر السؤال في صيغة أخرى:  
"شهدت الكويت في عهد الشيخ صباح السالم تطوراً على الصعيد الداخلي والخارجي" دلل على صحة العبارة

| السياسة الخارجية        | السياسة الداخلية        |
|-------------------------|-------------------------|
| -----<br>-----<br>----- | -----<br>-----<br>----- |

س فرق بين كل من الشيخ أحمد الجابر والشيخ صباح السالم من حيث إنجازاتهم في المجال الثقافي والتعليمي

| الشيخ صباح السالم       | الشيخ أحمد الجابر       |
|-------------------------|-------------------------|
| -----<br>-----<br>----- | -----<br>-----<br>----- |



تدرب و تفوق  
اختبارات الكترونية

# U U L A

معاً نعلم الكويت  
قفوة  
KuwaitTeacher.Com

# الشيخ جابر الأحمد الصباح ( 1977 – 2006 م )



أكمل ما يلي:



س الحاكم الثالث عشر لدولة الكويت هو الشيخ

س الأمير الثالث بعد استقلال الكويت هو

س الفترة الزمنية من عام 1977 م – 2006 م تمثل فترة حكم الشيخ

س حاكم الكويت الذي تميزت شخصيته بحب الخير والعطاء والحكمة يسمى الشيخ

س الشيخ جابر الأحمد دخل الحياة السياسية مبكراً وعمره

س العام الميلادي الذي عُين فيه الشيخ جابر الأحمد رئيساً للأمن في الأحمدي

س عدد السنوات التي قضاها الشيخ جابر الأحمد في منصب رئيس الأمن في الأحمدي

س العام الميلادي الذي تولى فيه الشيخ جابر الأحمد الصباح رئاسة الدائرة المالية

س العام الميلادي الذي تغيرت فيه الدائرة المالية إلى وزارة المالية

س أول وزير للمالية والتجارة والصناعة في دولة الكويت يسمى

مجموعة من الكويت  
KuwaitTeacher.Com

## اختر الإجابة الصحيحة:

س تولى الشيخ جابر الأحمد رئاسة الوزراء عقب وفاة الشيخ عبد الله السالم في  
11 / 30:

- 1963 م      ○ 1964 م      ○ 1965 م      ○ 1966 م

س تولى الشيخ جابر الأحمد الصباح مقاليد الحكم في 12 / 31

- 1975 م      ○ 1976 م      ○ 1977 م      ○ 1978 م

س حاكم الكويت الذي شهدت فترة حكمه الغزو العراقي لدولة الكويت هو:

- سعد العبد الله      ○ عبد الله السالم  
○ أحمد الجابر      ○ جابر الأحمد

س تعرضت دولة الكويت للغزو العراقي في 2 / 8 " أغسطس " عام:

- 1989 م      ○ 1990 م  
○ 1991 م      ○ 1992 م

س الدولة التي غزت الكويت عام 1990 م يمثلها على الخريطة الرقم



- 1      ○ 2  
○ 3      ○ 4

س العام الميلادي الذي تحررت فيه الكويت من الغزو العراقي

- 1990 م      ○ 1991 م  
○ 1992 م      ○ 1993 م

س لقب أمير القلوب يطلق على الشيخ

- سعد العبد الله      ○ عبد الله السالم  
○ أحمد الجابر      ○ جابر الأحمد

س علل إطلاق لقب " أمير القلوب " على الشيخ جابر الأحمد الصباح؟



تدرب و تفوق  
اختبارات الكترونية



س عدد أبرز المناصب التي تقلدها الشيخ جابر الأحمد الصباح قبل توليه مقاليد الحكم

س عدد النتائج المترتبة على تولي الشيخ جابر الأحمد الصباح رئاسة الدائرة المالية؟

س علل - سعى الشيخ جابر الأحمد إلى تعديل الامتيازات الممنوحة للمجففة للشركات الأجنبية في القطاع النفطي؟

أولاً: سياسة الشيخ جابر الأحمد الداخلية في شتى المجالات

س عدد إنجازات الشيخ جابر الأحمد الصباح الداخلية في مختلف المجالات؟

ممکن أن يظهر السؤال في صيغة اخرى: دلل - أولى اهتمامات الشيخ جابر الشؤون الداخلية بدولة الكويت

معاكم في الكويت  
طفرة في الكويت  
KuwaitTeacher.Com



س ضع عنواناً مناسباً للصور التالية:



تدرب و تفوق  
اختبارات الكترونية



## ثانياً: سياسة الشيخ جابر الخارجية

س عدد إنجازات الشيخ جابر الأحمد الصباح الخارجية

ممكن أن يظهر السؤال في صيغة أخرى: دلل - حرص الشيخ جابر الأحمد الصباح على إقامة علاقات الود والتفاهم والمصالح المتبادلة مع معظم شعوب العالم

لاحظ الصورة التي أمامك ثم أجب عن الأسئلة التالية:

س ما اسم المجلس الذي يرمز له الشعار المقابل؟

س من صاحب فكرة إنشاء هذا المجلس؟

س في أي عام تم إنشاء هذا المجلس؟



**س** اختياري - صاحب فكرة إنشاء مجلس التعاون الخليجي في عام 1981 م هو:

- الملك فهد  
○ الشيخ زايد  
○ السلطان قابوس  
○ الشيخ جابر الأحمد

**دلل على صحة العبارات التالية:**

**س** إيجابية مواقف دولة الكويت الخارجية في عهد الشيخ جابر الأحمد

---

---

---

**س** تأثر دولة الكويت بالحرب العراقية الإيرانية من عام 1980 – 1988 ؟

ممكن أن يظهر السؤال في صيغة اخرى: عدد النتائج المترتبة على الحرب العراقية الإيرانية

---

**س** فرق بين سياسة الشيخ جابر الأحمد الصباح الداخلية والخارجية:

| الخارجية                                  | الداخلية                                  |
|---|---|
| -----<br>-----<br>-----<br>-----<br>----- | -----<br>-----<br>-----<br>-----<br>----- |

**س** فرق بين كل من

| السياسة الخارجية للشيخ جابر الأحمد        | السياسة الخارجية للشيخ صباح السالم        |
|---|---|
| -----<br>-----<br>-----<br>-----<br>----- | -----<br>-----<br>-----<br>-----<br>----- |

KuwaitTeacher.Com

س اختر من المجموعة (أ) ما يناسبها من المجموعة (ب) بوضع الرقم المناسب:

| م | (أ)   | الرقم المناسب | (ب)              |
|---|---|---------------|------------------|
| 1 | تغيير اسم الدائرة المالية إلى وزارة المالية | -----         | 31 / 12 / 1977 م |
| 2 | تولي الشيخ جابر الأحمد رئاسة الوزراء        | -----         | 2 أغسطس 1990 م   |
| 3 | تقلد الشيخ جابر الأحمد حكم دولة الكويت      | -----         | 17 / 1 / 1962 م  |
| 4 | الغزو العراقي لدولة الكويت                  | -----         | 26 فبراير 1991 م |
| 5 | تحرير دولة الكويت من الغزو العراقي          | -----         | 30 / 11 / 1965 م |



تدرب و تفوق  
اختبارات الكترونية

U U L A

معلمة في الكويت  
Kwaitteacher.Com

# سعد العبد الله السالم الصباح ( 2006 – 2006 م )



أكمل ما يلي:



س الحاكم الرابع عشر لدولة الكويت هو

س لقب يطلق على الشيخ سعد العبد الله السالم الصباح هو

اقرأ الفقرة التالية ثم أجب عما يلي:

" نحن جميعاً في سفينة واحدة نبحر فيها في بحر مملوء بالصخور  
المرجانية تتصاعد وتتكاثر من حولها الأمواج والعواصف والسحب  
..... "

س من القائل:

س علام يدل هذا الخطاب:

س عدد أهم المناصب التي تقلدها الشيخ سعد العبد الله قبل توليه الحكم في عام 2006 م

يمكن أن يظهر السؤال في صيغة أخرى: **أكمل**

معا  
مفتوحة  
KuwaitTeacher.Com

س عدد الألقاب التي حصل عليها الشيخ سعد العبد الله السالم الصباح؟

س علل يطلق على الشيخ سعد العبد الله السالم الصباح بطل التحرير والتعمير

ممكن أن يظهر السؤال في صيغة أخرى:  
دلل: استحقاق الشيخ سعد العبد الله السالم الصباح لقب بطل التحرير والتعمير

س علل حظي الشيخ سعد العبد الله بلقب الأمير الوالد؟

س فسر تنازل الشيخ سعد العبد الله السالم الصباح عن الحكم؟

س أكمل العام الميلادي الذي توفي فيه الشيخ سعد العبد الله السالم الصباح



تدرب و تفوق  
اختبارات الكترونية

U U L A

معلمة  
مفتوحة  
KuwaitTeacher.Com

# الشيخ / صباح الأحمد الصباح ( 2006 – 2020 م )



أكمل ما يلي:



س الحاكم الخامس عشر لدولة الكويت هو الشيخ

س العام الميلادي الذي ولد فيه الشيخ صباح الأحمد  
بمدينة الكويت

س الابن الرابع للشيخ أحمد الجابر الصباح هو  
الشيخ

س المدرسة التي تلقى فيها الشيخ صباح الأحمد الصباح تعليمه  
تسمى

س تولى الشيخ صباح الأحمد حكم الكويت بعد تنازل الأمير الراحل الشيخ

س العام الميلادي الذي تولى فيه الشيخ صباح الأحمد حكم الكويت

س أوجد العلاقة بكتابة فقرة مترابطة بالاستعانة بالكلمات التالية:  
الشيخ صباح الأحمد - 1929 م - تنازل الشيخ سعد العبد الله - الشيخ أحمد الجابر

U U L A

مفتوحة الكويت  
KuwaitTeacher.Com

س عدد أبرز المناصب التي تولها الشيخ صباح الأحمد قبل توليه الحكم

س علل تعيين الشيخ صباح الأحمد وزيراً للخارجية

أكمل ما يلي:

س أقدم وزير للخارجية على مستوى العالم العربي هو

س لقب يطلق على الشيخ صباح الأحمد الصباح هو

س آخر المناصب السياسية التي شغلها الشيخ صباح الأحمد الصباح قبل توليه الحكم هو

س علل يطلق على الشيخ صباح الأحمد عميد الدبلوماسيين العرب؟

س عدد النتائج المترتبة على تولي الشيخ صباح الأحمد الصباح منصب وزير الخارجية عام 1963م

U U L A



تدرب و تفوق  
اختبارات الكترونية



" علينا أن ندرك أن التعاون الإيجابي المثمر بين السلطتين التشريعية والتنفيذية قدر حتمي لتحقيق النقلة النوعية نحو التغيير والإصلاح ودفع مسيرة البناء والتنمية إلى الأمام , وأن الإرادة الوطنية الواعية سبيلنا إلى الإمساك بكل مقومات النجاح والإبداع والتميز والتخلي بالمزيد من رحابة الصدر وتقبل الرأي الآخر والتزام الموضوعية في مختلف الظروف والأحوال وتغليب الصالح العام , ونبذ التحزب والأهواء الطائفية والقبلية والفئوية الضيقة , لتبقى الكويت دائماً هي الرابع الأول والأكبر "

س من القائل:

س المناسبة:

س العام الميلادي:

س عدد أهم ما دعا إليه الشيخ صباح الأحمد الكويتيين في مجلس الأمة عام 2006 م

U U L A

أكمل العبارات التالية :



س العام الميلادي الذي رفع فيه الشيخ صباح الأحمد العلم الكويتي في منظمة الأمم المتحدة هو

س رفع الشيخ صباح الأحمد الصباح العلم الكويتي في منظمة الأمم المتحدة عام 1963 م في يوم



س رقم عضوية الكويت في هيئة الأمم المتحدة تحمل رقم .....



س أكتب مدلول الصورة المقابلة



تدرب و تفوق  
اختبارات الكترونية



## المساعدات الكويتية في عهد الأمير الشيخ صباح الأحمد بصمة إنسانية وعالمية

س دلل: للشيخ صباح الأحمد بصمة إنسانية عالمية

ممكّن أن يظهر السؤال في صيغة أخرى:  
عدد المساعدات الكويتية في عهد الأمير الشيخ صباح الأحمد



ممکن أن يظهر السؤال في صيغة أخرى: اختياري

س الدولة التي تعرضت لإعصار سيدر الذي قتل وجرح الآلاف تسمى .....

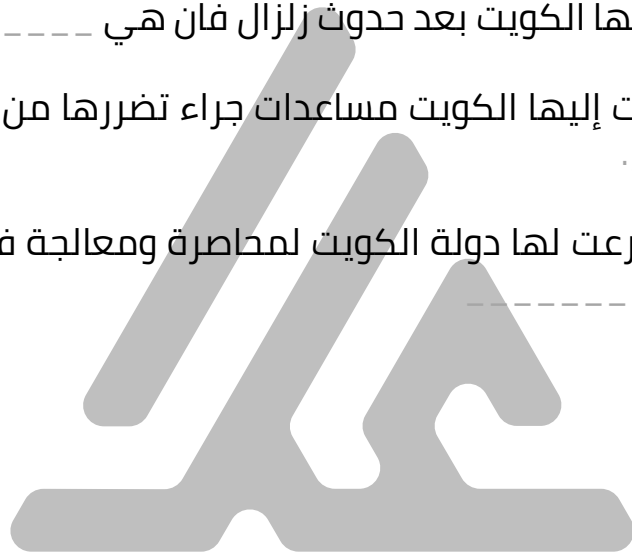
س الدولة التي قدمت لها الكويت مساعدات بعد تعرضها لتسونامي تسمى .....

س الدولة التي قدمت لها الكويت مساعدات بعد آثار الجفاف والمجاعة التي تعرضت لها تسمى .....

س الدولة التي دعمتها الكويت بعد حدوث زلزال فان هي .....

س الدولة التي قدمت إليها الكويت مساعدات جراء تضررها من إعصار هايان تسمى .....

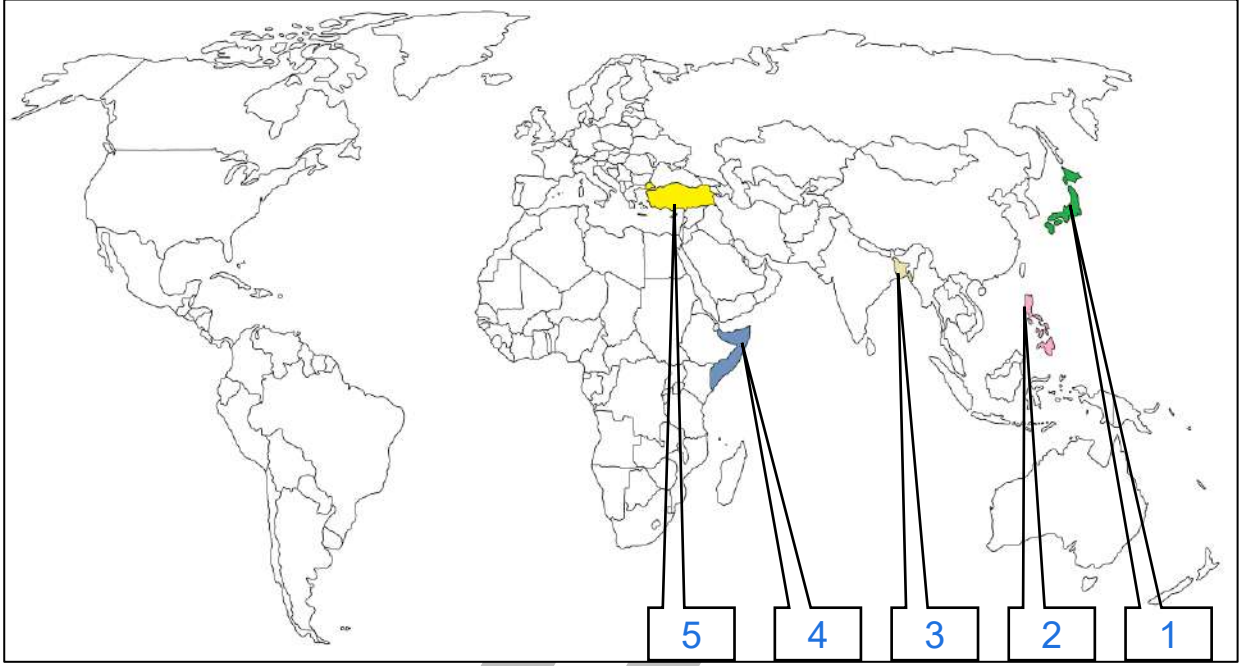
س المنظمة التي تبرعت لها دولة الكويت لمحاورة ومعالجة فيروس إيبولا تسمى .....



U U L A

معلمة  
مفتونة  
في الكويت  
KuwaitTeacher.Com

س لاحظ الخريطة التالية ثم نفذ المطلوب منك



س الدولة التي تعرضت لإعصار سيذر الذي قتل وجرح الآلاف تحمل على الخريطة الرقم ----

س الدولة التي قدمت لها الكويت مساعدات بعد تعرضها لتسونامي تحمل على الخريطة الرقم ----

س الدولة التي قدمت لها الكويت مساعدات بعد آثار الجفاف والمجاعة التي تعرضت لها تحمل على الخريطة الرقم ----

س الدولة التي دعمتها الكويت بعد حدوث زلزال فان تحمل على الخريطة الرقم ----

س الدولة التي قدمت إليها الكويت مساعدات جراء تضررها من إعصار هايان تحمل على الخريطة الرقم ----



تدرب و تفوق

اختبارات الكترونية

مفوعة في الكويت  
KuwaitTeacher.Com



## دل على صحة العبارات التالية

س " قدمت الكويت الكثير من التبرعات للمنظمات في مجال الصحة

س " ساهمت الكويت في حملات الإغاثة الإنسانية منذ بداية الأزمة السورية في عام 2011 م

س عدد - الجمعيات والهيئات التي ساهمت في حملات الإغاثة الإنسانية منذ بداية الأزمة السورية في عام 2011 م

س علل - دعم الكويت لأهالي غزة في عام 2014 م

U U L A

معلمة  
مفتوحة  
KuwaitTeacher.Com

# الكويت مركز للإنسانية في عهد الشيخ صباح الصباح



س أكمل : العام الميلادي الذي اختير فيه الشيخ صباح الأحمد قائداً للعمل الإنساني .....

س علل اختيار منظمة الأمم المتحدة دولة الكويت مركزاً للعمل الإنساني

س دلل اعتراف منظمة الأمم المتحدة بدور الكويت الرائد في العمل الإنساني

س عدد - جهود الشيخ صباح الأحمد على الصعيد العربي

س عدد - جهود الشيخ صباح الأحمد على الصعيد الخليجي

س علل - أهمية توحيد الكلمة بين الدول العربية الخليجية

ممكن أن يظهر السؤال في صيغة اخرى: علل - أهمية العمل الخليجي المشترك

س صنف ألقاب الحكام وفق الجدول التالية:

بطل التحرير – أبو الدستور – أمير القلوب – بطل التعمير – عميد الدبلوماسيين –  
أبو الاستقلال – قائد العمل الإنساني- الأمير الوالد

| الشيخ | عبد الله السالم | جابر الأحمد | سعد العبد الله | صباح الأحمد |
|-------|-----------------|-------------|----------------|-------------|
| اللقب | -----           | -----       | -----          | -----       |

س اختر من المجموعة ( أ ) ما يناسبها من المجموعة ( ب ) بوضع الرقم المناسب:

| م | ( أ )                        | الرقم المناسب | ( ب )         |
|---|------------------------------|---------------|---------------|
| 1 | الشيخ سالم بن مبارك الصباح   | -----         | 1915 – 1917 م |
| 2 | الشيخ عبد الله السالم الصباح | -----         | 1917 – 1921 م |
| 3 | الشيخ جابر بن مبارك الصباح   | -----         | 1921 – 1950 م |
| 4 | الشيخ أحمد الجابر الصباح     | -----         | 1950 – 1965 م |
| 5 | الشيخ جابر الأحمد الصباح     | -----         | 1965 – 1977 م |
| 6 | الشيخ صباح السالم الصباح     | -----         | 1977 – 2006 م |



تدرب و تفوق

اختبارات الكترونية

معاً  
صفوة  
كويت  
KuwaitTeacher.Com



# صاحب السمو أمير دولة الكويت الشيخ / نواف الأحمد الجابر الصباح حفظه الله ورعاه

أكمل ما يلي

ممکن أن يظهر السؤال في صيغة اخرى: اختياري

- س** حاكم الكويت السادس عشر يسمى الشيخ .....
- س** العام الميلادي الذي توفي فيه الشيخ صباح الأحمد الصباح هو .....
- س** تولى الشيخ نواف الأحمد مسند الإمارة في 30 سبتمبر عام .....
- س** صدر مرسوم أميري بتعيين الشيخ نواف الأحمد ولياً للعهد بتاريخ 6 فبراير عام .....
- س** تمت مبايعة الشيخ نواف الأحمد ولياً للعهد في عام 2006 م يوم .....
- س** ولد الشيخ نواف الأحمد في 25 يونيو عام .....
- س** دلل - النشأة في بيوت الحكم كان لها أثر إيجابي على الشيخ نواف الأحمد

U U L A

معا في الكويت  
قفوة  
KuwaitTeacher.Com



س عدد المناصب الرسمية التي تولها الشيخ نواف الأحمد الجابر الصباح

---

---

---

---

---

---

---

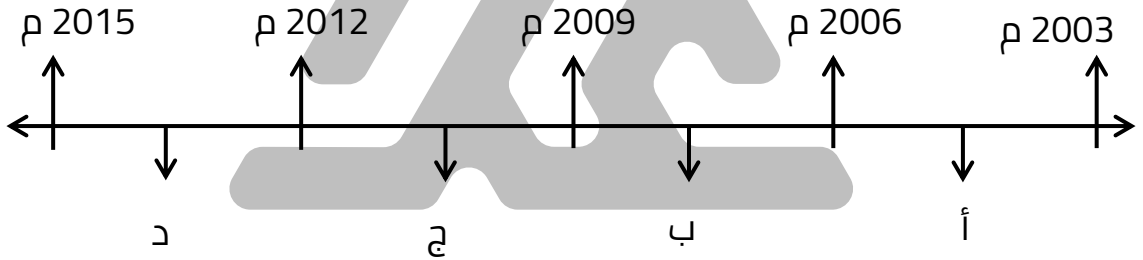
---

---

---

اختر الإجابة الصحيحة من بين البدائل التالية

س تولى الشيخ نواف الأحمد حقيبة وزارة الداخلية في الفترة التي يمثلها على المخطط الزمني الحرف



س حقيبة وزارة كُلف بها الشيخ نواف الأحمد عند تشكيل أول حكومة كويتية بعد حرب تحرير الكويت وعودة الشرعية هي

- وزارة الشؤون الاجتماعية والعمل  
○ وزارة الدفاع  
○ وزارة الداخلية

س العام الميلادي الذي أصبح فيه الشيخ نواف الأحمد محافظاً لمنطقة حولي

- 1962 م  
○ 1963 م  
○ 1964 م  
○ 1965 م



تدرب و تفوق  
اختبارات الكترونية

KuwaitTeacher.Com





## أكمل ما يلي

ممکن أن يظهر السؤال في صيغة اخرى: اختياري

س منطقة تحولت من قرية إلى مركز حضاري وسكني متميز يعج بالنشاط التجاري والاقتصادي تسمى .....

س المؤسس الحقيقي لوزارة الداخلية بشكلها الحديث يسمى .....

س حاكم الكويت الذي استحدث مستشفى خاص لنزلاء دور الرعاية أثناء توليه حقيبة وزارة الشؤون الاجتماعية والعمل يسمى .....

س دل - للشيخ نواف الأحمد إنجاز كبير في منطقة حولي

ممکن أن يظهر السؤال في صيغة اخرى:  
( فند لم يكن للشيخ نواف الأحمد أي إنجاز يذكر في منطقة حولي )

س عل - الشيخ نواف الأحمد المؤسس الحقيقي لوزارة الداخلية بشكلها الحديث

س دل - للشيخ نواف بصمة في وزارة الشؤون الاجتماعية عندما تولاه في عام 1991 م

## أكمل العبارات التالية

ممکن أن يظهر السؤال في صيغة اخرى: اختياري

س العام الميلادي الذي عقد فيه المؤتمر العربي التاسع للهندسة المالية للمنظمات

س المدينة التي عقد فيها المؤتمر العربي التاسع للهندسة المالية للمنظمات 2006 م تسمى

س الجمعية التي منحت شهادة عضوية الزمالة الفخرية للشيخ نواف الأحمد عام 2006 تسمى



تدرب و تفوق  
اختبارات الكترونية



س عدد - الأوسمة المهداة لحضرة صاحب السمو الشيخ نواف الأحمد

## أكمل العبارات التالية

س القلادة التي منحها رئيس دولة فلسطين للشيخ نواف الأحمد في 13 نوفمبر عام 2018 م تسمى

س الرئيس الفلسطيني الذي منح قلادة الكنعانيين الكبرى للشيخ نواف الأحمد في عام 2018 م يسمى

س العام الميلادي الذي قُلد فيه الشيخ نواف الأحمد بقلادة الكنعانيين الكبرى

س الوسام الذي تلقاه الشيخ نواف الأحمد من رئيسة جمهورية الأرجنتين عام 2011 م يسمى

س رئيسة جمهورية الأرجنتين التي منحت الشيخ نواف الأحمد وسام المحرر الجنرال سان مارتين في 1 أغسطس عام 2011 م تسمى

**س** العام الميلادي الذي منح فيه الشيخ نواف الأحمد وسام المحرر الجنرال سان مارتين هو \_\_\_\_\_

**س** الوسام الذي مُنح للشيخ نواف الأحمد من قبل ملك مملكة إسبانيا يسمى \_\_\_\_\_

**س** الملك الإسباني الذي منح وسام طوق الاستحقاق المدني للشيخ نواف الأحمد يسمى \_\_\_\_\_

**س** منح الشيخ نواف الأحمد وسام طوق الاستحقاق المدني من مملكة إسبانيا في 23 مايو من عام \_\_\_\_\_

**س** الوسام الذي حصل عليه الشيخ نواف الأحمد في 23 مايو 2008 م يسمى وسام \_\_\_\_\_

**س** الوطن يستحق ..... والمواطنون يتطلعون إلى إنجاز حقيقي ملموس يلبي طموحاتهم في حاضر آمن ومستقبل واعد من القائل :

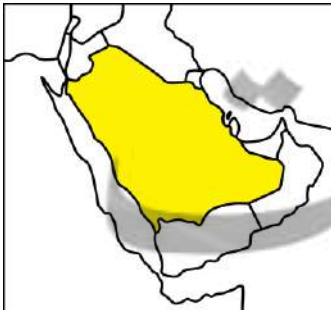
**س** دلل - حرص الشيخ نواف الأحمد على الأمن والسلام المحلي والخليجي والعالمي

### أكمل العبارات التالية

**س** العام الميلادي الذي ترأس فيه الشيخ نواف الأحمد وفد دولة الكويت في الدورة 41 للمجلس الأعلى لمجلس التعاون لدول الخليج العربية عام \_\_\_\_\_

**س** المحافظة التي تم فيها انعقاد الدورة 41 لمجلس التعاون لدول الخليج العربية عام 2021 م تسمى \_\_\_\_\_

**س** الدولة التي عقد بها الدورة 41 لمجلس التعاون لدول الخليج العربية عام 2021 م تسمى \_\_\_\_\_



س صف الشيوخ التالية أسماؤهم كلاً في مكانه حسب الجدول التالي  
( الشيخ عبد الله السالم - الشيخ صباح السالم - الشيخ أحمد الجابر - الشيخ سالم المبارك

|               |               |                 |               |
|---------------|---------------|-----------------|---------------|
| -----         | -----         | -----           | -----         |
| 1965 - 1977 م | 1921 - 1950 م | 1950 م - 1965 م | 1917 - 1921 م |



تدرب و تفوق  
اختبارات الكترونية



U U L A A

معلمة في الكويت  
Kuwaitteacher.Com



# نظرة تاريخية على جذور العلاقة الكويتية - العراقية

عَرَف

الجوار الجغرافي

**س** " لم تكن هناك عوائق حدودية تفصل بين الكويت والعراق قديماً " دلل على صحة العبارة

ممكن أن يظهر السؤال في صيغة اخرى: **فند**

**س** اكتب عن: العلاقات الاقتصادية والاجتماعية بين الكويت والعراق قديماً

ممكن أن يظهر السؤال في صيغة اخرى:  
( ارتبط الكويت والعراق منذ القدم بعلاقات اقتصادية واجتماعية قديمة ) دلل على صحة العبارة

**س** عدد مشاكل الحدود الكويتية العراقية ؟

**مشكلة الحدود في العهد العراقي العثماني**

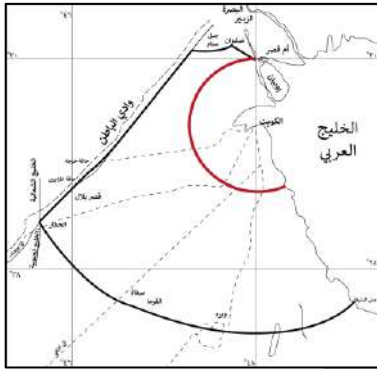
**س** علل - أهمية قضية الحدود لأي دولة

س " نشبت خلافات بشأن الحدود بين الكويت والعراق أيام الدولة العثمانية " دال على صحة العبارة

س " عدم تبعية الكويت للعراق والدولة العثمانية قديماً " دال على صحة العبارة

أكمل العبارات التالية:

ممكن أن يظهر السؤال في صيغة اخرى: اختياري



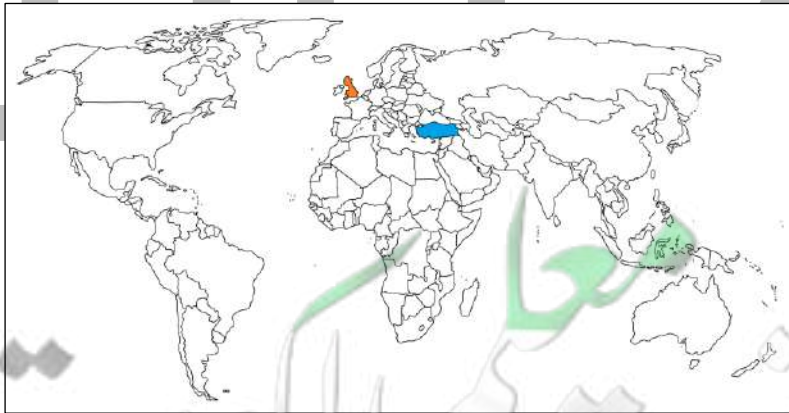
س الخريطة المقابلة تمثل حدود دولة الكويت وفق اتفاقية \_\_\_\_\_

س أطراف اتفاقية حدود الكويت عام 1913 م بين الدولة العثمانية ودولة تسمى \_\_\_\_\_

س الاتفاقية التي حدثت من المطامع المزعومة في عهد العراق العثماني تسمى \_\_\_\_\_

س اختياري - الدولة التي عقدت معها الكويت اتفاقية الحماية عام 1899م:

- بريطانيا  
○ فرنسا  
○ الدولة العثمانية  
○ البرتغال



تدرب و تفوق  
اختبارات الكترونية



# مشكلة الحدود في العهد العراقي الملكي

## أكمل العبارات التالية:

ممکن أن يظهر السؤال في صيغة اخرى: اختياري

س الملك الأول على مملكة العراق الهاشمية يسمى .....

س العام الميلادي الذي اختير فيه الملك فيصل بن الحسين ملك على مملكة العراق الهاشمية .....

س العام الميلادي الذي حاول العراقيون التحرش بحدود الكويت ومحاولة ضمها لبعض الأتلاف .....

س علل - محاولة العراق الملكي في ضم الكويت لبعض الأتلاف

## أكمل العبارات التالية:

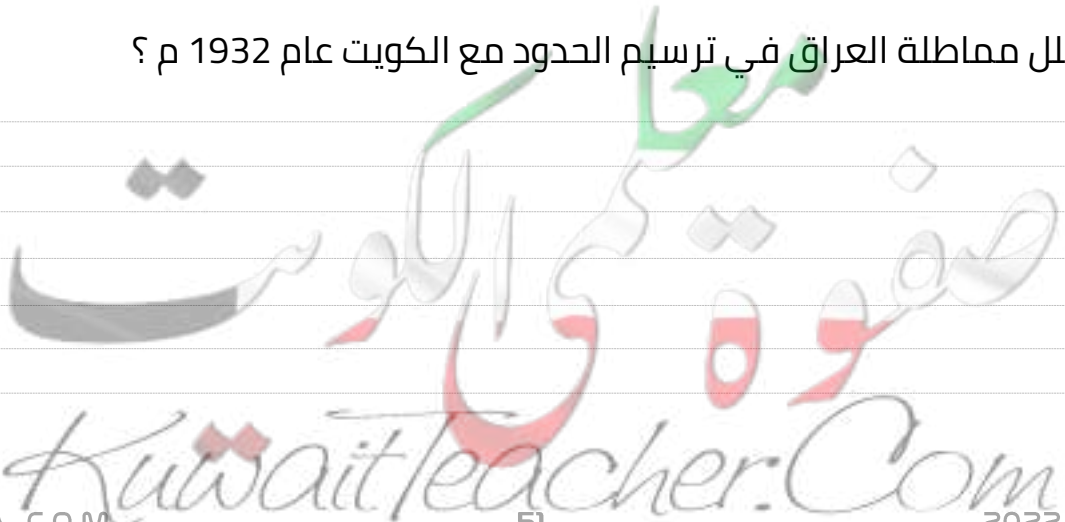
س الشيخ الذي في عهده اعترف العراق رسمياً بحدوده مع الكويت عام 1932م يسمى .....

س تم تبادل المراسلات بين حاكم الكويت والحكومة العراقية عام 1932م بواسطة .....

س فرق بين كل من الممارسات الكويتية العراقية عام 1932م

| السبب المعلن | السبب الغير معلن |
|--------------|------------------|
| -----        | -----            |
| -----        | -----            |
| -----        | -----            |

س علل مماثلة العراق في ترسيم الحدود مع الكويت عام 1932 م ؟



## أكمل العبارات التالية:

س العام الميلادي الذي شهدت الكويت توتر في الخطاب السياسي الموجه نحوها من الملك غازي بن فيصل .....

س الإذاعة التي أطلق منها الملك غازي بن فيصل دعوى بضم الكويت للعراق تسمى .....

س القصر الذي استخدمه الملك غازي بن فيصل للتحريض ضد الكويت يسمى قصر .....

س عدد - الادعاءات التي أطلقها الملك غازي بن فيصل في إذاعة قصر الزهور

س علل - تجميد تهديدات الملك غازي بن فيصل للكويت فترة من الوقت



تدرب و تفوق  
اختبارات الكترونية



## أكمل العبارات التالية:

س الدولتان العربيتان اللتان نشأ بينهما الاتحاد الهاشمي هما العراق و دولة تسمى .....

س تميزت العلاقات الكويتية - العراقية بالهدوء النسبي في القرن 20 خلال فترة الأربعينات و أوائل .....



س الدولتان العربيتان اللتان نشأ بينهما الاتحاد الهاشمي هما العراق و دولة تسمى .....

س حاكم الكويت الذي رفض طلب اقتراح نوري السعيد بضم الكويت للاتحاد الهاشمي 1958م هو .....



علل لما يلي:

س مطالبة العراق بانضمام الكويت للاتحاد الهاشمي؟

س علل - رفض الشيخ عبد الله السالم الانضمام إلى الاتحاد الهاشمي

س تفكك الاتحاد الهاشمي بين العراق والأردن؟

س ما النتائج المترتبة على: انقلاب الضباط الأحرار في العراق عام 1958م؟

أكمل:

س قائد الانقلاب الدموي في العراق عام 1958م يسمى .....

س اختياري - أول رئيس للعراق في العهد الجمهوري:

- |                                      |                                      |
|--------------------------------------|--------------------------------------|
| <input type="radio"/> نوري السعيد    | <input type="radio"/> فيصل بن الحسين |
| <input type="radio"/> عبدالكريم قاسم | <input type="radio"/> غازي بن فيصل   |



تدرب و تفوق

اختبارات الكترونية





# مشكلة الحدود الكويتية - في العهد العراقي الجمهوري

أكمل العبارات التالية:

س أعلنت الكويت استقلالها في 19 يونيو عام .....

س الولاية العثمانية التي ادعى عبد الكريم قاسم بأن الكويت تابعة لها تسمى .....

س رئيس وزراء العراق الذي طالب بتبعية الكويت للعراق عام 1961م يسمى .....

س دلل - لم يمهّل عبد الكريم قاسم الشعب الكويتي بالتمتع فرحة الاستقلال

س "عدم اهتمام دولة الكويت بتهديدات رئيس العراق عبد الكريم قاسم" دلل على صحة العبارة

س علل - مشكلة الحدود الكويتية العراقية في عهد عبد الكريم قاسم ؟

ممكن أن يظهر السؤال في صيغة اخرى:  
عدد - أسباب مطالبة الرئيس العراقي عام 1961م بضم الكويت للعراق

س علل - طمع عبد الكريم قاسم في النفط الكويتي

س " مطالبات العراق عام 1961م منعت دولة الكويت من الانضمام للمنظمات الدولية " فند العبارة

ممكن أن يظهر السؤال في صيغة اخرى: اثبت خطأ العبارة

س اختياري - العام الميلادي الذي انضمت فيه دولة الكويت لجامعة الدول العربية:  
○ 1961م ○ 1962م ○ 1963م ○ 1964م

س " استمر العراق في تهديد دولة الكويت بعد مطالبات عام 1961م " دلل على صحة العبارة

ممكن أن يظهر السؤال في صيغة اخرى: أكتب ما تعرفه عن " أزمة الصامته "

س عدد النتائج المترتبة على هجوم القوات العراقية على مركز الصامته عام 1973م

أكمل العبارات التالية:

س المركز الحدودي لدولة الكويت الذي هاجمته القوات العراقية عام 1973م اسمه .....

س حاكم الكويت الذي حدثت في عهده أزمة الصامته يسمى

عزف

الصامته

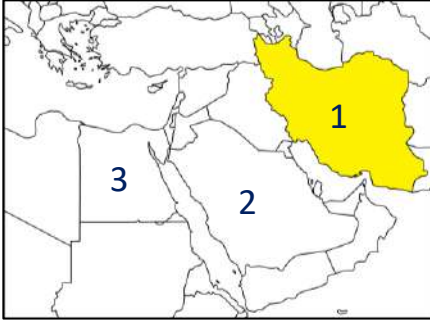


تدرب و تفوق  
اختبارات الكترونية



# الغزو العراقي البائد لدولة الكويت

أكمل العبارات التالية:



س عدد سنوات الحرب العراقية الإيرانية .....

س الدولة التي خاضت حرب استمرت 8 سنوات مع العراق تحمل على الخريطة المقابلة الرقم .....

س الرئيس العراقي الذي قام بالتصعيد ضد الكويت في يوليو عام 1990م يسمى .....

س عدد أسباب افتعال العراق الأزمة السياسية مع الكويت في يوليو 1990م؟

س عدد أبرز اتهامات العراق لافتعال أزمة سياسية مع الكويت في يوليو عام 1990م

س عدد مطالبات النظام العراقي من الكويت في شهر يوليو 1990م

ممكن أن يظهر السؤال في صيغة اخرى:  
علل : فشل المفاوضات في مؤتمر جدة عام 1990م



UULA

معا  
طفوة  
KuwaitTeacher.Com

## أكمل العبارات التالية:



س المؤتمر الذي فشل في حل الخلافات بين العراق والكويت عام 1990 م  
يسمى .....

س الصور المقابلة تمثل .....



س الغزو العراقي البائد لدولة الكويت  
فجر يوم 2 أغسطس عام .....



## تدرب و تفوق

اختبارات الكترونية

س فرق بين مراحل الاجتياح الغاشم العراقي للأراضي الكويتية؟

| اليوم الأول ( الخميس ) 2-8-1990م | اليوم الثاني ( الجمعة ) 3-8-1990م |
|----------------------------------|-----------------------------------|
| -----                            | -----                             |
| -----                            | -----                             |
| -----                            | -----                             |
| -----                            | -----                             |
| -----                            | -----                             |
| -----                            | -----                             |
| -----                            | -----                             |

معاً  
صقوة في الكويت  
KuwaitTeacher.Com

س عدد المعارك التي خاضها الجيش الكويتي مع القوات الغازية في الجبراء؟

أكمل العبارات التالية:

س القصر الذي استهدفته القوات العراقية في ساعات الغزو الأولى يسمى



س اليوم الثاني من أغسطس سيطرت القوات العراقية على معظم الأراضي الكويتية عدا جزيرة تسمى

س الرئيس العراقي الذي قام بالتصعيد ضد الكويت في يوليو عام 1990م يسمى

س الدولة التي توجه إليها الأمير الشيخ جابر وولي عهده تسمى

س المقر المؤقت للحكومة الكويتية خلال الغزو العراقي في مدينة تسمى

س علل أهمية دور الحكومة الكويتية المؤقتة في الطائف؟



تدرب و تفوق

اختبارات الكترونية

معلمي الكويت  
مفتوحة  
KuwaitTeacher.Com



# موقف المجتمع الدولي ومؤتمر القمة العربية في القاهرة

**س** " إدانة المجتمع الدولي للعدوان العراقي على دولة الكويت عام 1990 م " دلل على صحة العبارة

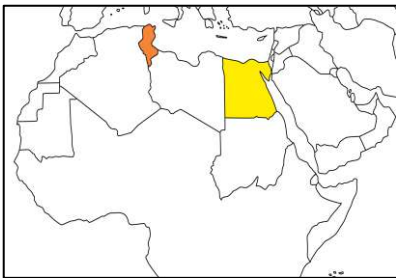
## أكمل العبارات التالية:

**س** أول قرار لمجلس الأمن الدولي والذي ينص على الانسحاب الفوري الغير مشروط للنظام العراقي ( صدام حسين ) من دولة الكويت يحمل الرقم \_\_\_\_\_

**س** الرئيس الذي دعا إلى عقد قمة عربية طارئة في يوم 10 أغسطس 1990 م يسمى \_\_\_\_\_

**س** س المدينة العربية التي عقدت بها القمة العربية الطارئة بتاريخ 10 أغسطس 1990 م تسمى \_\_\_\_\_

**س** عدد الدول المشاركة في القمة العربية الطارئة في 10 أغسطس 1990 م \_\_\_\_\_



**س** الدولة العربية الوحيدة التي غابت عن القمة العربية الطارئة في أغسطس 1990 م تسمى \_\_\_\_\_

**س** عدد الرؤساء والملوك الذين حضروا القمة العربية الطارئة في 10 أغسطس عام 1990 م \_\_\_\_\_

**س** عدد البعثات التي حضرت القمة العربية الطارئة في 10 أغسطس عام 1990 م \_\_\_\_\_

**س** المنظمة التي حضرت القمة العربية الطارئة في 10 أغسطس عام 1990 م تسمى \_\_\_\_\_

س عدد الدول الأعضاء في الجامعة العربية عام 1990م.....

س الدولة التي قدمت مشروع قرار في اجتماع قمة القاهرة 1990 م يدين العدوان العراقي على الكويت تسمى .....

س عدد بنود مشروع المملكة العربية السعودية في القمة العربية أغسطس 1990م؟

س عدد - أحداث الجلسة الصباحية لقمة القاهرة عام 1990 م

س علل - خلق جواً مشحوناً من التوتر في الجلسة الصباحية لقمة القاهرة 1990 م

س علل - رفع الجلسة الصباحية لقمة القاهرة 1990 م

U U L A



تدرب و تفوق  
اختبارات الكترونية



س أكمل : عقدت الجلسة المسائية المغلقة لقمة القاهرة في 10 أغسطس عام 1990 م في تمام الساعة .....

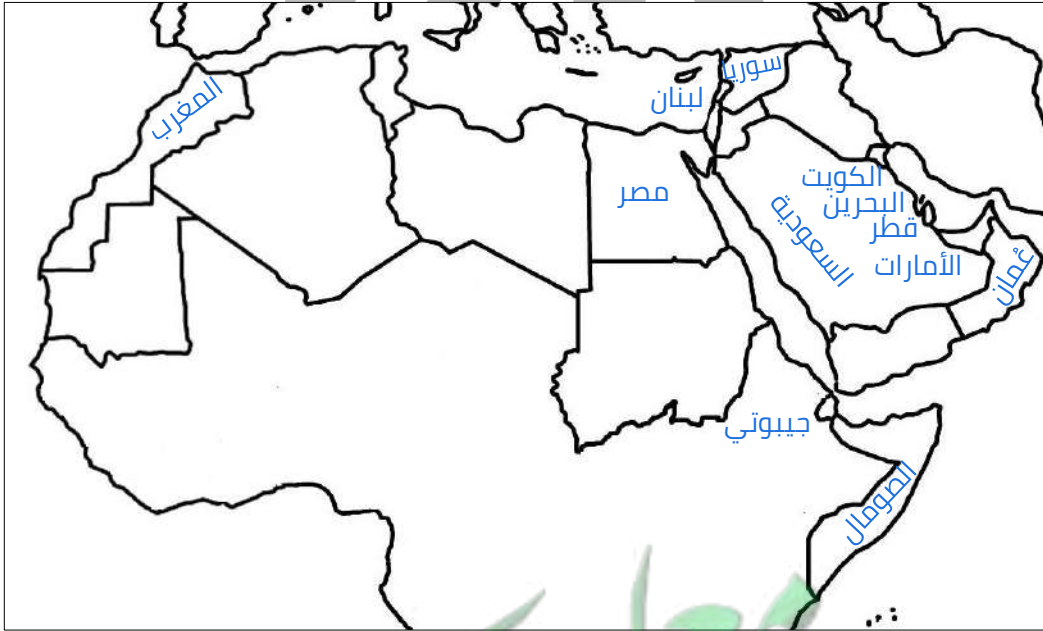
KuwaitTeacher.Com



س عدد - أحداث الجلسة المسائية المغلقة لقمة القاهرة عام 1990 م

س أكمل عدد الدول العربية التي وافقت على مشروع القرار السعودي .....

س عدد - أسماء الدول العربية التي وافقت على قرار القمة العربية 10 أغسطس 1990م



س اختياري - جميع ما يلي الدول العربية التي وافقت على قرار القمة العربية الطارئة أغسطس 1990م ما عدا:

○ سوريا  
○ البحرين

○ اليمن  
○ مصر

**س** " أزمة الغزو العراقي كشفت عن عمق وتباين الاختلاف العربي - العربي "   
دلل على صحة العبارة

ممکن أن يظهر السؤال في صيغة أخرى:   
دلل على صحة العبارة " أزمة الغزو العراقي كشفت عن فقدان القدرة حول التوحد حول موقف حاسم "



**تدرب و تفوق**   
اختبارات الكترونية



## (مؤتمر جدة الشعبي) السلطة الكويتية وإدارة أزمة الغزو العراقي من الخارج



**س** أكمل : المدينة التي اتخذت منها الحكومة الكويتية مقراً مؤقتاً   
 للإدارة أزمة الغزو من الخارج تسمى .....

**أقرأ الفقرة التالية ثم أجب عما يليها من أسئلة:**

" كان اتصالي مع صاحب السمو في تلك اللحظات المصيرية والاتفاق معه   
 على الخروج من قصر دسمان أفضل وأخطر قرار في حياتي , إنها العناية   
 الإلهية التي أنقذت الشرعية وأنقذت الكويت .... فقد كان الفارق بين   
 خروجنا من قصر دسمان وبداية هجومهم عليه لا يتجاوز نصف ساعة "

**س** من قائل هذه العبارة:

**س** المناسبة:

معاكم في الكويت   
 صفوة   
 KuwaitTeacher.Com

س عدد - أدوار ومهام حكومة الكويت الشرعية في مدينة الطائف

ممكن أن يظهر السؤال في صيغة أخرى:  
دل - مارست حكومة الكويت الشرعية من الطائف دورها ومهامها بكل وطنية وتحدي

س أكمل : المشهد التاريخي الجديد للشعب الكويتي بعد أزمة 1961 م يسمى

س علل مؤتمر جدة الشعبي جسد متانة العلاقة بين الشعب الكويتي وحكومته؟



تدرب و تفوق  
اختبارات الكترونية



المقاومة الكويتية

س دل - منذ الساعات الأولى للغزو العراقي كان هناك رفضاً شعبياً واسعاً

س " عاملت القوات العراقية الشعب الكويتي معاملة حسنة في فترة الغزو " فند العبارة

ممکن أن يظهر السؤال في صيغة اخرى:  
أكتب ردة فعل العراق من الرفض الشعبي والتمسك بالشرعية الكويتية

س اكتب فيما يلي - دور المقاومة الكويتية للعدوان الغاشم 1990 م .

ممکن أن يظهر السؤال في صيغة اخرى:  
دل على متانة الروابط بين الشعب الكويتي وحكومته عام 1990 م

س علل - قيام المقاومة بمسح أسماء وأرقام الأحياء والبيوت

أكمل العبارات التالية:

س الموقعة الشهيرة التي وقعت في 24 فبراير عام 1991 م بين المقاومين الكويتيين وبين جنود الغزو العراقي تسمى .....

س قائد موقعة بيت القرين يسمى .....

س عدد القتلى من مجموعة بيت القرين في 24 فبراير 1991 م حوالي .....

مفتوحة الكويت  
KuwaitTeacher.Com

س عدد أهم أعمال مجموعة بيت القرين؟

لاحظ الجدول المقابل ثم اجب عما يلي :

|               |                                  |
|---------------|----------------------------------|
| قائد المجموعة | سيد هادي سيد محمد علوي           |
| عضو           | عامر فرج العنزي                  |
| عضو           | يوسف خضر يوسف علي                |
| عضو           | بدر ناصر عبد الله العيدان        |
| عضو           | إبراهيم علي صفر منصور            |
| عضو           | عبد الله عبد النبي مندني         |
| عضو           | خليل خير الله عبد الكريم البلوشي |
| عضو           | خالد أحمد محمد الكندري           |
| عضو           | حسين غلوم رضا                    |
| عضو           | مبارك علي صفر المنصور            |
| عضو           | جاسم محمد علي غلوم               |
| عضو           | محمد عثمان علي الشايح            |

س ضع عنواناً مناسباً للجدول :

س عدد أعضاء مجموعة بيت القرين

س دلل - حادثة بيت القرين ستظل مشهداً تاريخياً يعكس مدى تكاتف ووحدة الكويتيين أثناء الغزو

س ضع عنواناً مناسباً للصور التالية:



تدرب و تفوق  
اختبارات الكترونية

U U L A

معلمة في الكويت  
KuwaitTeacher.Com

# التحرير - ترسيم الحدود الكويتية العراقية



أكمل العبارات التالية:

س الصور المقابلة تمثل



س عدد الدول التي شكلت ائتلاف عسكري ضد العراق

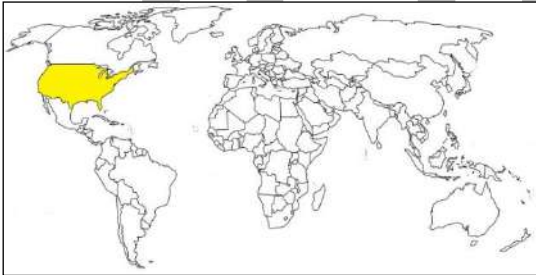
س العام الميلادي الذي تشكلت فيه قوات درع الجزيرة عام

س الاسم الذي أطلق على معركة تحرير الكويت هو

س بدأت معركة تحرير الكويت أو ( عاصفة الصحراء ) فجر يوم الخميس الموافق

س الدولة التي قادت معركة عاصفة الصحراء تسمى

س علل تشكيل ائتلاف عسكري بقيادة الولايات المتحدة ضد العراق؟



عرّف

عاصفة الصحراء

س " الضربات الجوية لقوات الائتلاف مهدت لتحرير دولة الكويت " دلل على صحة العبارة



## أكمل العبارات التالية:

س بدأت الحرب البرية لتحرير الكويت فجر يوم .....

س عدد مجموعات الجيش البري لتحرير الكويت .....

س فرق بين مهام مجموعات الجيش البري لتحرير دولة الكويت:

| المجموعة الثالثة | المجموعة الثانية | المجموعة الأولى | المهام |
|------------------|------------------|-----------------|--------|
| -----            | -----            | -----           |        |

## ضع خطأ تحت الخيار الصحيح:

يمكن أن يظهر السؤال في صيغة اخرى: **أكمل**

س تم تحرير دولة الكويت رسمياً عام 1991 في يوم:

- 20 فبراير ○ 24 فبراير ○ 26 فبراير ○ 28 فبراير

س الفترة الزمنية لاحتلال النظام العراقي البائد لدولة الكويت

- خمسة شهور ○ ستة شهور ○ سبعة شهور ○ ثمانية شهور

س أولى الأراضي الكويتية المحررة من احتلال النظام العراقي البائد:

- فيلكا ○ بويان ○ كبر ○ قاروة

س أول القيادات من آل الصباح التي قدمت إلى الكويت بعد التحرير مباشرة الشيخ:

- صباح الأحمد ○ سعد العبدالله ○ جابر الأحمد ○ جابر المبارك

س الشيخ الذي ترأس أول اجتماع لمجلس الوزراء على أرض الكويت بعد التحرير:

- صباح الأحمد ○ سعد العبدالله ○ جابر الأحمد ○ جابر المبارك

س الشيخ الذي تحررت في عهده دولة الكويت من الغزو العراقي الغاشم عام

1991م:

- صباح الأحمد ○ سعد العبدالله ○ جابر الأحمد ○ جابر المبارك





تدرب و تفوق  
اختبارات الكترونية



س عدد أشكال الدمار التي خلفها العراق بعد انتهاء الغزو العراقي

اختر الإجابة الصحيحة :

س عدد آبار النفط الكويتية التي احرقها ودمرها النظام العراقي قبل الانسحاب:

○ 727 بئر ○ 737 بئر ○ 773 بئر ○ 777 بئر

س المدة التي استمرت فيها آبار النفط الكويتية مشتعلة بعد انتهاء الحرب

○ ستة شهور ○ سبعة شهور ○ ثمانية شهور ○ تسعة شهور

أكمل العبارات التالية

س رقم القرار الذي أصدره مجلس الأمن الدولي وينص على التزام الدول الأعضاء بسيادة دولة الكويت

س العام الميلادي الذي أصدر فيه مجلس الأمن قرار رقم ( 687 ) هو

س عدد أهم بنود قرار مجلس الأمن رقم 687 ؟

U U L A

اختياري:

يمكن أن يظهر السؤال في صيغة اخرى: أكمل

س أعلنت لجنة الأمم المتحدة عن انتهائها من تخطيط الحدود بين الكويت والعراق في منتصف إبريل عام:

○ 1990 ○ 1991 ○ 1992 ○ 1993

س القرار الذي أصدره مجلس الأمن والذي ينص على اعتماد ترسيم الحدود بين الكويت والعراق عام 1993م رقم :

833 ○

660 ○

848 ○

687 ○

س وزير الخارجية الكويتي الذي أرسل خطاباً للأمين العام للأمم المتحدة في مايو 1993م معرباً عن تقدير الكويت التاريخي للأمم المتحدة الشيخ:

○ سالم الصباح

○ صباح الأحمد

○ صباح السالم

○ ناصر المحمد

س عدد قرارات الأمم المتحدة ضد العدوان العراقي على دولة الكويت:

---

---

---

---

---

---

---

---

س قارن بين كل من:

| السبب الحقيقي للغزو العراقي على دولة الكويت        | السبب المعلن للغزو العراقي على دولة الكويت         |
|--|--|
| -----<br>-----<br>-----<br>-----<br>-----<br>----- | -----<br>-----<br>-----<br>-----<br>-----<br>----- |



تدرب و تفوق

اختبارات الكترونية

مفوعة كويتي  
KuwaitTeacher.Com

# رؤية الكويت الجديدة

أكمل العبارات التالية:

س الشعار المقابل يمثل



س أمير دولة الكويت صاحب رؤية دولة الكويت بحلول عام 2035 يسمى



س عدد أهداف خطة التنمية الوطنية لتحويل دولة الكويت إلى مركز إقليمي ( رؤية الكويت 2035 م )

ممكن أن يظهر السؤال في صيغة أخرى:  
عدد الملامح الرئيسية لكويت المستقبل بحلول 2035م

U U L A

عرّف

التنمية المستدامة

ت



تدرب و تفوق  
اختبارات الكترونية

KuwaitTeacher.Com



س علل يبدأ مستقبل دولة الكويت برؤية ؟

س عدد اتجاهات استراتيجية رؤية الكويت؟

س علل خطة التنمية لمستقبل الكويت تعتمد على ركائز واستراتيجية عمل؟

س عدد ركائز صناعة مستقبل الكويت الجديدة؟

س أكمل - عدد ركائز خطة التنمية وصناعة المستقبل في الكويت الجديدة . . . . .

س أكتب كيفية تحقيق مكانة دولية متميزة لدولة الكويت الجديدة

س علل - مكانة الكويت الدولية محل ثقة من قبل العالم



تدرب و تفوق  
اختبارات الكترونية



س " للكويت مكانة متميزة دوليا فيما تقوم به من أعمال إنسانية خلال الكوارث " دال على صحة العبارة



س عل اهتمام دولة الكويت بتطوير البنية التحتية ؟

س عدد أهم المشاريع الرئيسية لتطوير البنية التحتية لدولة الكويت ؟

ممكن أن يظهر السؤال في صيغة اخرى:  
دال - اهتمام دولة الكويت بتطوير البنية التحتية

س عل تطوير نظام التعليم في دولة الكويت

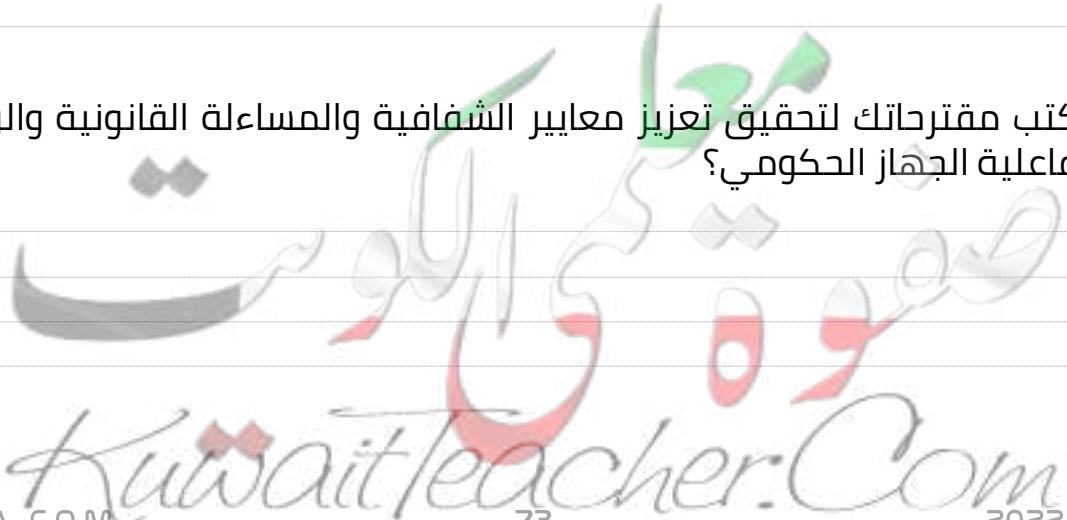
عزف

البيروقراطية

U U L L A

س عل أهمية إصلاح الممارسات الإدارية والبيروقراطية في دولة الكويت ؟

س اكتب مقترحاتك لتحقيق تعزيز معايير الشفافية والمساءلة القانونية والرقابية وفعالية الجهاز الحكومي؟





تدرب و تفوق  
اختبارات الكترونية



س " اهتمام حكومة الكويت بجودة الخدمات الصحية والرعاية الوقائية "  
دلل على صحة العبارة

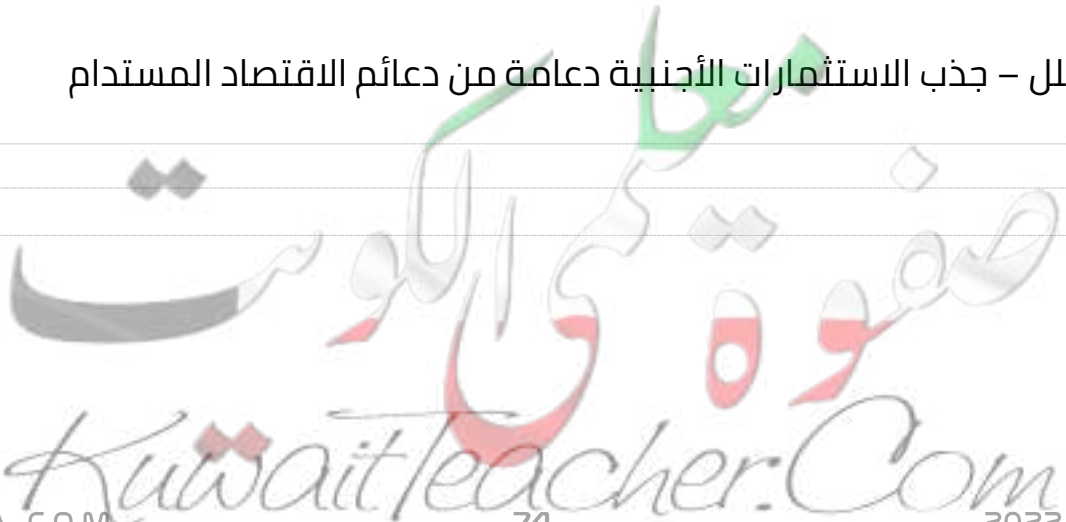
ممكن أن يظهر السؤال في صيغة اخرى:  
عدد أهم مشاريع دولة الكويت في مجال الرعاية الصحية

س علل أهمية تطوير وتنوع الاقتصاد الكويتي؟

س أكتب مقترحاتك لتطوير اقتصاد متنوع مستدام للكويت؟

س عدد - دعائم الاقتصاد المستدام؟

س علل - جذب الاستثمارات الأجنبية دعامة من دعائم الاقتصاد المستدام



## أقرأ الفقرة التالية ثم أجب عما يليها من أسئلة:

"أن البلاد تواجه تحدياً يهدد مسيرتها يتمثل في الانخفاض الهائل في إيرادات الدولة جراء انهيار أسعار النفط في العالم، ما أحدث عجزاً كبيراً في الموازنة العامة للدولة"

س من القائل:

س المناسبة:

س دلل على حرص الشيخ صباح الأحمد على إدارة المواطن وإيجاد حلول اقتصادية متنوعة؟

س عدد أهم المشاريع لتحقيق بيئة معيشية مستدامة في دولة الكويت؟

ممكن أن يظهر السؤال في صيغة أخرى:  
دلل / دولة الكويت تسعى لبيئة معيشية مستدامة



تدرب و تفوق  
اختبارات الكترونية



# نماذج لبعض المشاريع من الخطة التنموية لمستقبل دولة الكويت الجديدة

**س** عدد مشاريع الخطة التنموية لمستقبل دولة الكويت الجديدة؟

**س** اختياري - ليس من مشاريع الخطة التنموية لمستقبل دولة الكويت الجديدة:

ميناء مبارك المبارك

ميناء الأحمدى

المطار الجديد

دار الأوبرا

## مشروع مستشفى الشيخ جابر

**س** " مستشفى الشيخ جابر صرح من صروح الكويت " دلل على صحة العبارة

U U L A

معا  
طفرة في الكويت  
KuwaitTeacher.Com



## أكمل العبارات التالية:



س الصورة المقابل تمثل صرح طبي في دولة الكويت اسمه .....

س صرح من صروح الكويت صنف كأكبر مستشفى في الشرق الأوسط يسمى .....

س تبلغ الطاقة الاستيعابية لمستشفى الشيخ جابر الأحمد حوالي .....

س أول مستشفى في الكويت يخصص فيه قسم للحوادث والكوارث يسمى .....

س المرتبة التي تحتلها مستشفى الشيخ جابر من حيث المساحة والطاقة الاستيعابية عالمياً .....

س عدد مصاعد مستشفى الشيخ جابر .....

س عدد المنصات الخاصة لهبوط المروحيات في مستشفى الشيخ جابر .....

س عدد الأبراج الخاصة بغرف المرضى بمستشفى الشيخ جابر .....

س عدد طوابق أبراج غرف المرضى بمستشفى الشيخ جابر .....

س عدد مداخل مستشفى الشيخ جابر .....

س تبلغ المساحة الاجمالية لمستشفى الشيخ جابر .....

## مشروع مركز الشيخ جابر الأحمد الثقافي (دار الأوبرا)

## أكمل العبارات التالية:



س معلم ثقافي وتحفة معمارية استغرق تصميمه وإنجازه 22 شهر مستوحاة من العمارة الإسلامية يسمى .....

س عدد مباني مركز الشيخ جابر الأحمد الثقافي .....

س الشكل الذي يأخذه مركز الشيخ جابر الأحمد الثقافي

س عدد المسارح في المبنى الواحد في دار الأوبرا

س عدد قاعات الحفلات والمؤتمرات والمعارض والوثائق التاريخية في دار الأوبرا

س تقدر مساحة مركز الشيخ جابر الأحمد الثقافي بـ

س عدد أهداف مشروع مركز الشيخ جابر الثقافي؟

يمكن أن يظهر السؤال في صيغة اخرى: دار الأوبرا



تدرب و تفوق  
اختبارات الكترونية



## مشروع المطار الجديد

س عدد مساهمات الإدارة العامة للطيران المدني لتطوير مطار الكويت الدولي؟



U L A

أكمل العبارات التالية:

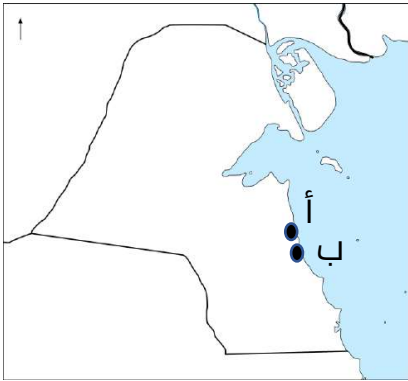
س يهدف مشروع المطار الجديد زيادة كمية الشحن الجوي من 600 ألف طن في السنة إلى

س عدد طائرات الشحن التي يهدف مشروع مطار الكويت الجديد لاستيعابها

# مشروع مبادرة الوقود البيئي لمؤسسة البترول الكويتية

عرّف

مشروع مبادرة الوقود البيئي



لاحظ الخريطة المقابلة ثم أجب عن الأسئلة التالية:

**س** مصفاة كانت الطاقة الإنتاجية لها 270 ألف برميل يومياً تحمل على الخريطة الحرف

**س** مصفاة كانت الطاقة الإنتاجية لها 466 ألف برميل يومياً تحمل على الخريطة الحرف

**س** علل تطوير دولة الكويت مصفاة ميناء عبدالله والأحمدية؟

## مشروع مدينة جنوب المطلاع



**س** أكمل أكبر مشروع إسكاني في تاريخ دولة الكويت هو مدينة

**س** علل تعتبر مدينة جنوب المطلاع أكبر مشروع إسكاني في تاريخ دولة الكويت؟

يمكن أن يظهر السؤال في صيغة اخرى:  
مشروع مدينة جنوب المطلاع أضخم المشاريع الإسكانية دلل على صحة العبارة



تدرب و تفوق  
اختبارات الكترونية



## مشروع مبنى الجامعة الجديد

أكمل العبارات التالية:



س أحد أكبر المشاريع الإنشائية في الشرق الأوسط للارتقاء بالتعليم الجامعي في دولة الكويت يسمى

س المنطقة التي تقع فيها مدينة صباح السالم الجامعية تسمى

س تبلغ المساحة الاجمالية المقام عليها مدينة صباح السالم الجامعية نحو

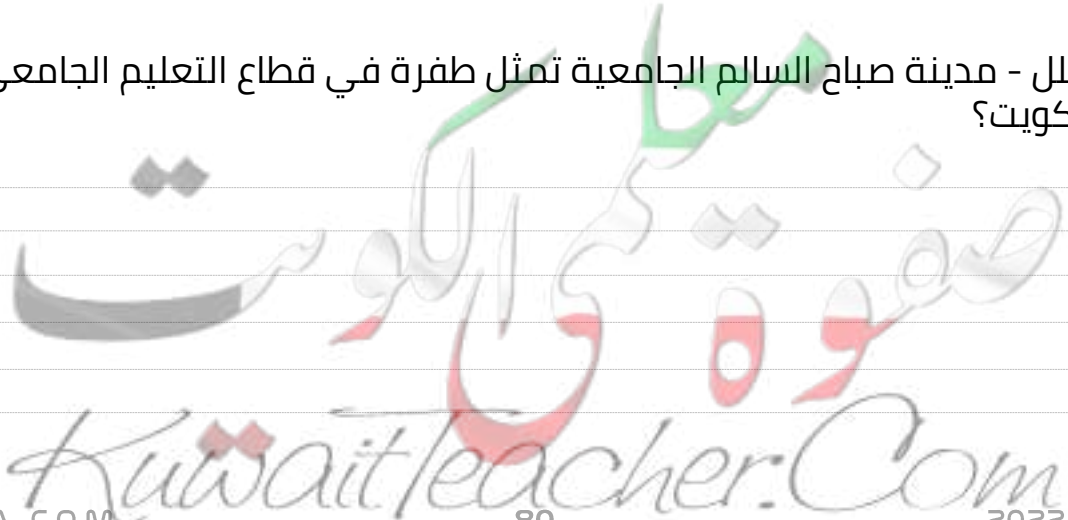
س علل - حرص دولة الكويت على الارتقاء بالتعليم الجامعي

عدد

س أهداف مشروع مدينة صباح السالم الجامعية؟

س علل - تعد مدينة صباح السالم الجامعية الأكبر في منطقة الشرق الأوسط

س علل - مدينة صباح السالم الجامعية تمثل طفرة في قطاع التعليم الجامعي في الكويت؟



# مشروع مصفاة الزور

أكمل العبارات التالية:



س أكبر مصفاة في العالم تبني بمرحلة واحدة تسمى

س الطاقة الانتاجية اليومية لمصفاة الزور من الوقود الذي يحتوي على معدل منخفض من الكبريت نحو

س تبلغ طاقة التكرير النفط الكويتية يومياً

س علل تتمتع مصفاة الزور بمرونة عالية؟

## مشروع جسر الشيخ جابر

أكمل العبارات التالية:



س أطول جسر بحري في العالم يسمى

س يربط جسر الشيخ جابر مدينة الكويت بمدينة تسمى

س " جسر الشيخ جابر أطول جسر بحري في العالم " دلل على صحة العبارة

س علل / انشاء مشروع جسر الشيخ جابر ؟

ممكن أن يظهر السؤال في صيغة اخرى: أهمية مشروع جسر الشيخ جابر



تدرب و تفوق  
اختبارات الكترونية



## مشروع معالجة النفايات الصلبة

عزف

النفايات الصلبة



س عدد أنواع ( أمثلة ) النفايات الصلبة؟

أكمل العبارات التالية:

س المنطقة التي يقع فيها مشروع معالجة النفايات الصلبة تسمى .....

س اخطر أنواع النفايات على البيئة تسمى .....

س علل انشاء مشروع معالجة النفايات الصلبة بكبد؟

## مدينة صباح الأحمد البحرية

أكمل العبارات التالية:

س أول وأكبر مشروع يشيد بالكامل من قبل القطاع الخاص في دولة الكويت يسمى مدينة .....

س تقع مدينة صباح الأحمد البحرية في منطقة تسمى .....





س علل تعد مدينة صباح الأحمد البحرية عملاً حضارياً مميزاً على مستوى العالم؟



## مشروع ميناء مبارك الكبير

أكمل العبارات التالية:

س يشكل مشروع ميناء مبارك الكبير البحري خطوة مهمة لإحياء طريق يسمى .....

س ميناء مبارك الكبير يشكل نقله نوعية في قطاع تجارة .....

س علل مشروع ميناء مبارك الكبير من أهم مشاريع التنمية في دولة الكويت؟

س عدد - وسائل النقل المساعدة لميناء مبارك الكبير في ربط الأرض بالبحر

س علل - مشروع ميناء مبارك الكبير سيساهم في انفتاح البلاد على العالم تجارياً واقتصادياً

ممكن أن يظهر السؤال في صيغة أخرى:  
علل- مشروع ميناء مبارك الكبير أحد العناصر الأساسية لتحويل دولة الكويت لمركز تجاري ومالي عالمي



تدرب و تفوق  
اختبارات الكترونية



# مشروع طريق الجهراء

عرّف

مشروع طريق الجهراء



أكمل العبارات التالية:

س مشروع يعد أحد أكبر الطرق متعددة الأدوار في العالم يسمى

س يبلغ طول الجسور العلوية في مشروع طريق الجهراء

س العام الميلادي الذي بدأ فيه العمل بمشروع طريق الجهراء

س العام الميلادي الذي انتهى فيه العمل بمشروع طريق الجهراء

س علل أهمية مشروع طريق الجهراء

ممكن أن يظهر السؤال في صيغة أخرى:  
عدد النتائج المترتبة على مشروع طريق الجهراء

# مشروع شبكة السكك الحديدية

عرّف

مشروع شبكة السكك الحديدية

مفتوحة  
للجميع  
KuwaitTeacher.Com



س علل أهمية مشروع شبكة السكك الحديدية في دولة الكويت؟



---

---

---

---

---

س أكتب المفهوم العلمي الدال على العبارات التالية :

ممكن أن يظهر السؤال في صيغة اخرى: **عرف**

| العبارات   | المفهوم العلمي |
|--|----------------|
| صرح من صروح الكويت صنف كأكبر مستشفى في الشرق الأوسط                                  | -----          |
| معلم بارز وتحفة معمارية وصرح تنويري فريد من نوعه يقع في قلب مدينة الكويت             | -----          |
| أكبر مشروع إسكاني في تاريخ دولة الكويت وأضخم المشاريع الإسكانية المتكاملة للخدمات    | -----          |
| أحد أكبر المشاريع الإنشائية في الشرق الأوسط للارتقاء بالتعليم الجامعي في دولة الكويت | -----          |
| أكبر مصفاة في العالم تبنى بمرحلة واحدة وتنتج وقود يحتوي على معدل منخفض من الكبريت    | -----          |
| أطول جسر بحري في العالم يبلغ من الطول 37.5 كم في جون الكويت                          | -----          |
| أول وأكبر مشروع يشيد بالكامل من قبل القطاع الخاص في دولة الكويت في منطقة الخيران     | -----          |
| مشروع يهدف لإنشاء ميناء بحري رئيسي للنقل يربط الأرض بالبحر                           | -----          |



تدرب و تفوق  
اختبارات الكترونية



# الكويت الجديدة في 2035م مشروع استغلال الجزر الكويتية

أقرأ الفقرة التالية ثم أجب عما يليها من أسئلة:

" تحويل الكويت إلى مركز مالي يجذب المستثمرين , حيث يقود القطاع الخاص للاقتصاد خالقاً منافسة وتزيد من كفاءة الإنتاج تحت مظلة تأييد المؤسسات الحكومية التي تبرز القيم وتعزز ضمانات الهوية الاجتماعية وتحقق توازناً في تنمية الموارد البشرية إلى جانب توفير البنية التحتية الملائمة والتشريعات المتقدمة وبيئة عمل ملهمة "

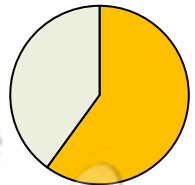
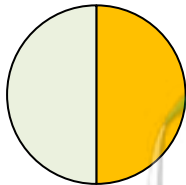
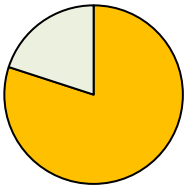
س من القائل:

س المناسبة:

س اكتب رؤية الشيخ صباح الأحمد لتحقيق التنمية المستدامة في الكويت

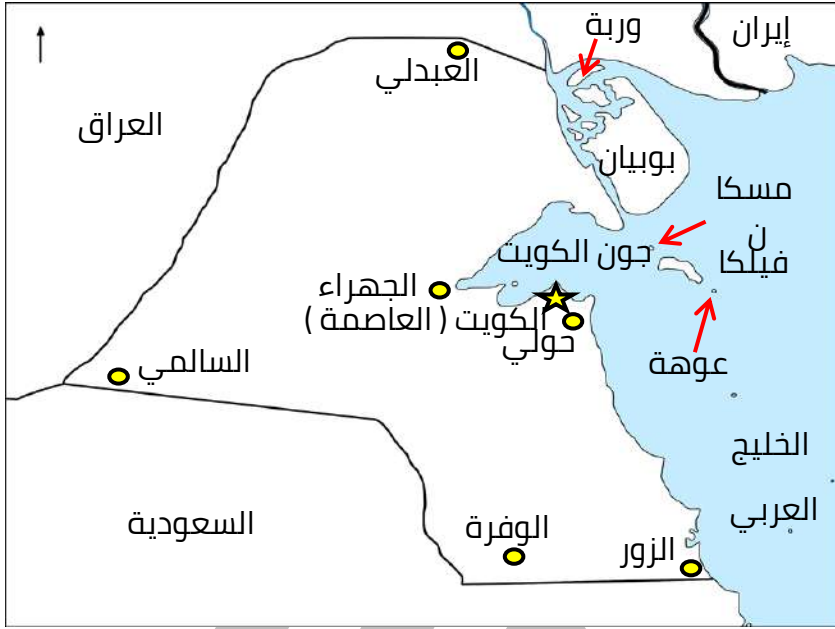
س نسبة جزر الساحل الشرقي من المساحة الكلية لدولة الكويت يمثلها الجزء المظلل في الدائرة البيانية : (5%)

ممكّن أن يظهر السؤال في صيغ أخرى: أكمل ارسم دائرة بيانية



## لاحظ الخريطة التالية ثم أجب عما يلي:

س حدد على الخريطة ما يلي:  
جزيرة بوبيان - جزيرة فيلكا - جزيرة عوهة - جزيرة مسكان - جزيرة وربة

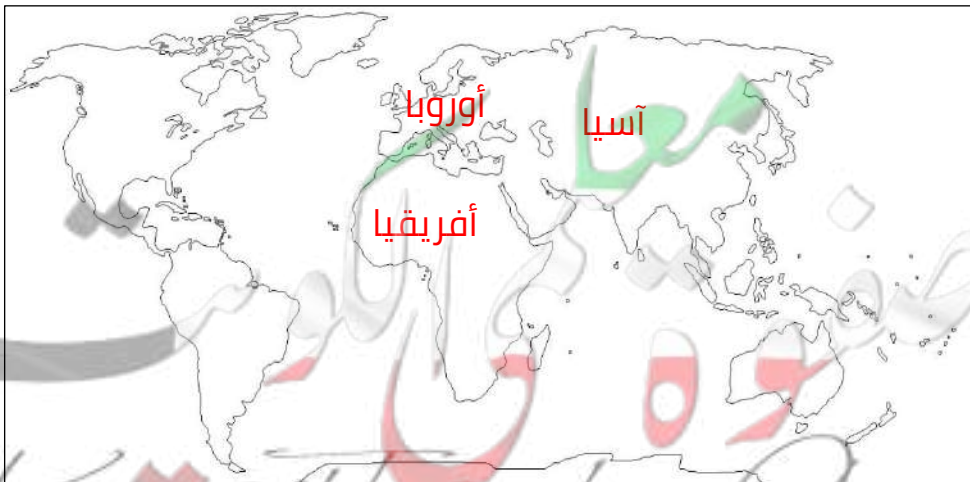


## س عدد الأهمية التاريخية للجزر الكويتية ؟

ممكن أن يظهر السؤال في صيغة اخرى:  
" ليس للجزر الكويتية أهمية تاريخية " فند العبارة

## س أكمل المعادلة الجغرافية :

قارة آسيا + قارة أوروبا + قارة أفريقيا =





تدرب و تفوق  
اختبارات الكترونية

معلمة في الكويت  
KuwaitTeacher.Com

## أكمل العبارات التالية:

ممکن أن يظهر السؤال في صيغة أخرى: حدد على الخريطة

**س** الجزيرة الكويتية التي تتمتع بطابع حضاري تاريخي وعلوم الآثار والتنقيب تسمى

**س** رؤية الكويت المستقبلية للجزر الكويتية تتضمن إطلالة ساحرة على ممرات مائية تحاكي مدينة

**س** المنطقة المثالية لإنشاء الفنادق السياحية بطابع يخدم الحياة البرية والبحرية شمال جزيرة

**س** الجزيرة التي تمثل الوجهة السياحية الأمثل وموطن الهدوء والاستجمام تسمى

**س** المنطقة الأمنية والعين الساهرة على باقي الجزر الكويتية تسمى

**س** عدد - الجزر التي اعتمدت عليها دراسات الرؤية المستقبلية للجزر الكويتية

**عل:**

**س** سهولة تطبيق نفس الأسلوب للمشاريع الحرة الأجنبية علي الجزر الكويتية؟

ممکن أن يظهر السؤال في صيغة أخرى:  
"صعوبة تطبيق الرؤية المستقبلية للجزر الكويتية " فند العبارة

**س** مشروع الجزر الكويتية مشروع فريد له العديد من الفوائد؟

## س صنف مشاريع التنمية الآتية حسب الجدول الذي أمامك:

جسر الشيخ جابر - مصفاة الزور - المطار الجديد - جنوب المطلاع - مشروع كبد  
للنفايات مشروع الجهراء - ميناء مبارك الكبير - الأوبرا - مبنى الجامعة الجديدة  
مستشفى الشيخ جابر - مدينة صباح الأحمد البحرية - مشروعات الجزر الكويتية

|       |                               |
|-------|-------------------------------|
| ----- | مشاريع سياحية                 |
| ----- | مشاريع ثقافية                 |
| ----- | مشاريع صحية                   |
| ----- | مشاريع النقل<br>والمواصلات    |
| ----- | مشاريع بيئية                  |
| ----- | مشاريع إسكانية                |
| ----- | مشاريع إنشائية<br>( معمارية ) |
| ----- | مشاريع تعليمية                |
| ----- | مشاريع اقتصادية               |



تدرب و تفوق  
اختبارات الكترونية

# U U L A

معلمة  
مفتوحة  
KuwaitTeacher.Com