



التاريخ

الكورس الثاني

12



التاريخ

الكورس الثاني

12

KuwaitTeacher.Com

UULA.COM 2021-2022

شلون تتفوق بحراستك

طريقة علا المتكاملة للدراسة تشمل الاستفادة من المذكرة و الفيديوهات و الاختبارات



⚠ علا تخلي المذكرة أقوى

تبي أعلى الدرجات؟ لا تعتمد على المذكرة بروحها - ادرس صح من الفيديوهات و الاختبارات

اختبارات ذكية تدربك

حل الاختبارات الالكترونية أول بأول عشان ترفع مستواك



فيديوهات تشرح لك

تابع الفيديوهات و انت تدرس المذكرة عشان تضبط الدرس



اشترك بالمادة

احرص على تفعيل اشتراكك عشان تستفيد كثر ما تقدر



اكتشف عالم التفوق مع باقات علا ادرس جميع مواد مرحلتك باشتراك واحد بسعر خيالي

Kuwaitteacher.Com

المنقذ

أقوى مذكرة صارت الحين أقوى و أقوى مع خاصية
المنقذ للمساعدة الفورية

شنو المنقذ؟

امسح الباركود بكاميرا تلفونك
وتعرف على طريقة استخدام المنقذ



شنو فائدة هالخاصية؟

أول ما تحتاج مساعدة بالمادة , المنقذ بينقذك .

امسح الباركود بكاميرا التلفون أو اضغط عليه إذا كنت فاتح
المذكرة من جهازك و يطلع لك فيديو الشرح.

KuwaitTeacher.Com

01 الثورات

الثورة الأمريكية (بداية تكوين المستعمرات الإنجليزية)	6
الثورة الأمريكية (أثر حرب السنين السبع في التمهيد للثورة الأمريكية)	10
الثورة الأمريكية (أسباب الثورة الأمريكية ومذبحة بوسطن)	14
الثورة الأمريكية (حفلة شاي بوسطن 1773م)	18
الثورة الأمريكية (مؤتمرات فيلادلفيا وبداية الصدام وإعلان الاستقلال)	21
الثورة الأمريكية (معركة ساراتوجا حتى نتائج الثورة الأمريكية)	25
الثورة الفرنسية	29
الثورة الفرنسية (العوامل الاجتماعية والفكرية)	33
الثورة الفرنسية (العوامل الاقتصادية)	38
الثورة الفرنسية (سقوط حصن الباستيل)	42
الثورة الفرنسية (إصلاحات الجمعية الوطنية)	46
الثورة الفرنسية (معركة فالمي 1792 ومحكمة الملك لويس 16)	49
الثورة الفرنسية (لجنة الأمن العام و حكومة الإدارة ودستور 1795م)	52
الثورة الفرنسية (ظهور نابليون بونابرت وإصلاحاته)	55
الثورة الفرنسية (مقارنات بين الثورات)	59

02 الحربان العالميتان

الحرب العالمية الأولى (1914م-1918م)	62
الحرب العالمية الأولى (أسباب الحرب العالمية الأولى)	68
الحرب العالمية الأولى (أحداث الحرب العالمية الأولى)	71

74	الحرب العالمية الأولى (نهاية الحرب ومؤتمر الصلح فرساي 1919م)
78	التطورات الدولية فيما بين الحربين (1919 - 1939 م) - عصبة الأمم
83	التطورات الدولية فيما بين الحربين (1919 - 1939 م) - الأزمة الاقتصادية العالمية عام 1929م
88	التطورات الدولية فيما بين الحربين ظهور الأنظمة الديكتاتورية (الشيوعية في روسيا)
91	التطورات الدولية فيما بين الحربين ظهور الأنظمة الديكتاتورية (النازية في ألمانيا)
93	التطورات الدولية فيما بين الحربين ظهور الأنظمة الديكتاتورية (الفاشية في إيطاليا)
97	الحرب العالمية الثانية (1939- 1945) أسباب الحرب العالمية الثانية
101	الحرب العالمية الثانية أحداث الحرب العالمية الثانية : الدور الأول
105	الحرب العالمية الثانية الدور الثاني : السنة الانقلابية (1942 م)
107	الحرب العالمية الثانية الدور الثالث : النصر النهائي لدول الحلفاء (1943- 1945)
111	الحرب العالمية الثانية نتائج الحرب العالمية الثانية وملامح العالم المعاصر
115	هيئة الأمم المتحدة
123	هيئة الأمم المتحدة (الوكالات المتخصصة)

معاً
صقوة في الكويت
KuwaitTeacher.Com

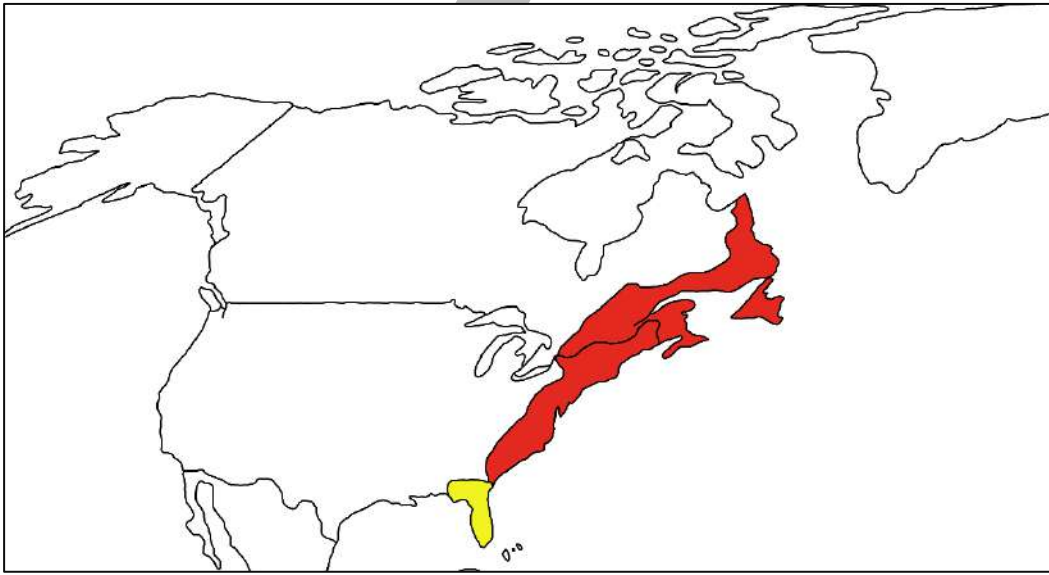


بداية تكوين المستعمرات الإنجليزية

اختر الإجابة الصحيحة :

س بعد قيام حركة الكشوف الجغرافية وقيام الحركة الاستعمارية أسس الأوروبيون مستعمرات في أمريكا الشمالية إلا أن أكبرها وأقواها هي :

- المستعمرات الإنجليزية
 المستعمرات الأسبانية
 المستعمرات الهولندية
 المستعمرات الفرنسية



س عقب قيام حركة الكشوف الجغرافية والحركة الاستعمارية أسس الأوروبيين مستعمرات في قارة :

- أمريكا الشمالية
 أفريقيا
 أمريكا الجنوبية
 آسيا

أكمل العبارات التالية :

س عدد المستعمرات الإنجليزية على الساحل الشرقي لأمريكا الشمالية 13

س أول مستعمرة إنجليزية تأسست على الساحل الشرقي لأمريكا الشمالية تسمى جيمس تون

س العام الميلادي الذي تأسست فيه مستعمرة جيمس تون 1607م

س المنظم السياسي للمستعمرات الإنجليزية على الساحل الشرقي لأمريكا الشمالية يسمى **التاج البريطاني** ---

س الدولة التي سيطرت على ثلثي المستعمرات الأمريكية مع نهاية القرن 18 هي **إنجلترا** ---

س المحيط الذي امتد بمحاذاة الولايات الإنجليزية الثلاثة عشر في أمريكا الشمالية يسمى **المحيط الأطلسي** ---



س فسر - كان ولاء المستوطنين الإنجليز في المستعمرات الإنجليزية لبريطانيا

- لأن التاج البريطاني هو المنظم السياسي لهذه الجماعات
- لأنها الوطن الأم

س من خلال دراستك لموضوع (بداية تكوين المستعمرات الإنجليزية) كون فقرة مناسبة باستخدام الكلمات التالية :

(حركة الكشوف الجغرافية - أمريكا الشمالية - جيمس تون)

عقب قيام حركة الكشوف الجغرافية وقيام الحركة الاستعمارية أسس الأوروبيون من الإنجليز والأسبان والفرنسيين والهولنديين مستعمرات أوروبية في أمريكا الشمالية إلا أن أكبرها وأقواها على الإطلاق كان المستعمرات الإنجليزية وقد امتدت هذه الولايات في الجزء الشمالي الشرقي إلى الجنوب الشرقي بمحاذاة المحيط الأطلسي في نحو ثلاثة عشر ولاية أولها مستعمرة جيمس تون

س ارتكز نظام الحكم في المستعمرات الإنجليزية على قاعدتين (عددها)

- الحاكم : وهو يمثل الملك الإنجليزي في المستعمرة
- المجلس النيابي : ينتخب من الشعب الأمريكي في الولاية

س فرق بين كل من

ممکن أن يظهر السؤال في صيغة أخرى: (عدد مهام) - (قند ارتکز نظام الحكم الإنجليزي في المستعمرات على القرارات الصادرة من المجالس النيابية فقط)

مهام المجلس النيابي	مهام الحاكم
<ul style="list-style-type: none">▪ سن القوانين▪ فرض الضرائب▪ مراقبة الموظفين في الولاية	<ul style="list-style-type: none">▪ رعاية شؤون الولاية▪ المحافظة على الأمن

س اختياري الحاكم في المستعمرات الإنجليزية يعين ويعزل من خلال :

- الملك الإنجليزي فقط
- الجمعية الملكية
- المجلس النيابي
- المجلس النيابي والجمعية الملكية

س دلل - المجلس النيابي كان رمزاً للحكم الديمقراطي في ظل السيادة الإنجليزية

ممکن أن يظهر السؤال في صيغة أخرى: (دلل - على الرغم من السيادة الإنجليزية في حكم المستعمرات إلا أنها مارست نوع من الحكم التشريعي الذاتي)

- المجلس النيابي ينتخب من الشعب الأمريكي في الولاية
- المجلس النيابي يقوم بسن القوانين والضرائب
- المجلس النيابي يراقب الموظفين في الولاية

س دلل على صحة العبارة - " الفرق الشاسع بين الحاكم والمجلس النيابي جعل التعاون بينهما مستحيلاً "

ممکن أن يظهر السؤال في صيغة أخرى: (علل استحالة التعاون بين الحاكم والمجلس النيابي)

- الحاكم يهمله بالدرجة الأولى مصلحة الملك
- إنجلترا تنظر للمواطن الأمريكي على أنه مواطن من الدرجة الثانية
- المجلس النيابي يهمله مصلحة الشعب الأمريكي
- المجلس النيابي لا يدرك أن هناك أي فارق بينه وبين المواطن الإنجليزي

معلمة صفوة الكوثر
Kwaitteacher.Com

س ظهور خلاف كبير بين الحاكم والمجلس النيابي في المستعمرات وخاصة في عهد جورج الثالث

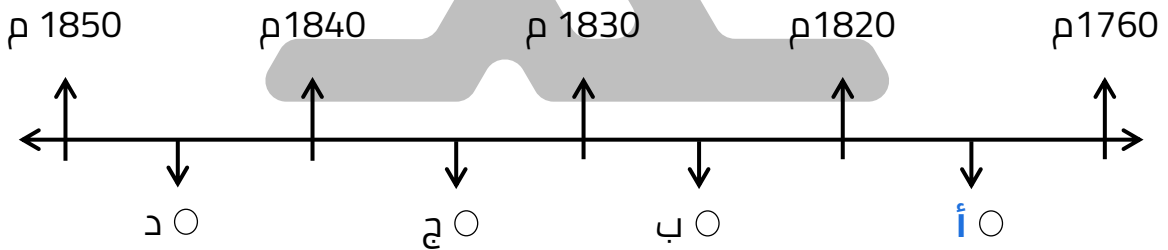
- الحاكم يهمله بالدرجة الأولى مصلحة الملك
- إنجلترا تنظر للمواطن الأمريكي على أنه مواطن من الدرجة الثانية
- المجلس النيابي يهمله مصلحة الشعب الأمريكي
- المجلس النيابي لا يدرك أن هناك أي فارق بينه وبين المواطن الإنجليزي
- تسلط الحكومة المركزية في لندن في إدارة شؤون المستعمرة
- تطبيق السيادة المطلقة للحكومة البريطانية بعد حرب السنين السبع

س الحاكم في المستعمرات الإنجليزية يهمله بالدرجة الأولى مصلحة الملك

- الحاكم يمثل الملك في المستعمرة
- إنجلترا تنظر للمواطن الأمريكي على أنه مواطن من الدرجة الثانية

س أكمل - الملك الإنجليزي الذي ظهر في عهده الخلاف واضحاً بين الحاكم والمجلس النيابي يسمى **جورج الثالث** -

س اختياري - الحرف الذي يمثل فترة حكم الملك جورج الثالث على المخطط الزمني تحمل الحرف



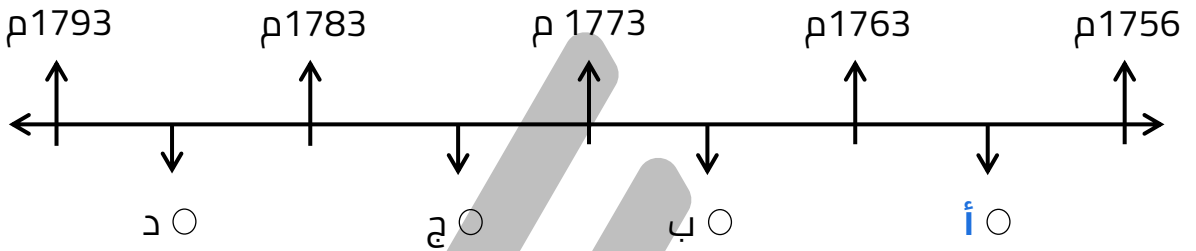
س أكمل - الملك الإنجليزي الذي قامت ضده الثورة الأمريكية يسمى **جورج الثالث**

معلمة
مفتوحة
الحكومة
Kwaitteacher.Com



أثر حرب السنين السبع في التمهيد للثورة الأمريكية

س اختياري - حرب السنين السبع يمثلها على المخطط الزمني الحرف :



أكمل العبارات التالية :

س المعاهدة التي أنهت حرب السنين السبع تسمى معاهدة باريس -

س العام الميلادي الذي عقدت فيه معاهدة باريس 1763 م -

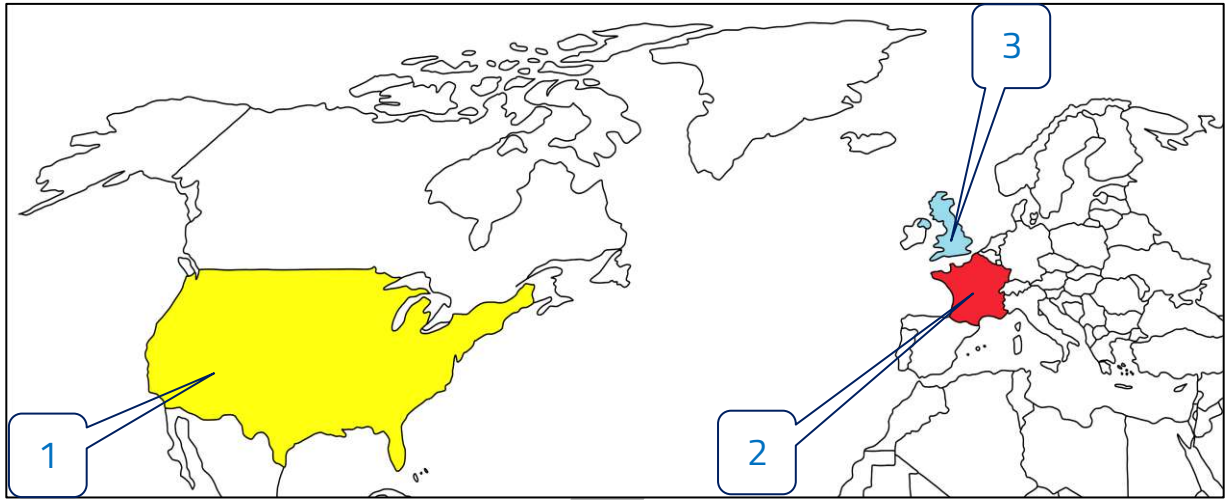
س أطراف معاهدة باريس عام 1763 م إنجلترا ودولة أخرى تسمى فرنسا -

س الدولة الأوروبية التي انهزمت في حرب السنين السبع تسمى فرنسا -

U U L A

معلمة
مفتوحة
الحكومة
KuwaitTeacher.Com

لاحظ الخريطة التالية ونفذ المطلوب منك :



س الدولة التي دخلت حرب السنين السبع ضد فرنسا يمثلها على الخريطة الرقم **3** _

س الدولة المهزومة في حرب السنين يمثلها على الخريطة الرقم **2** _

س الدولة التي شهدت أراضيها أحداث حرب السنين السبع يمثلها على الخريطة الرقم **1** _

س قارن بين نتائج حرب السنين السبع بالنسبة لكل من

سكان المستعمرات	فرنسا	إنجلترا
<ul style="list-style-type: none"> ▪ شعورهم بقوتهم الحقيقة ▪ ظهور جورج واشنطن ▪ زوال التهديد الفرنسي ▪ فتح الباب أمام الأمريكيين للتوسع نحو الغرب دون حدود 	<ul style="list-style-type: none"> ▪ هزيمة فرنسا ▪ تنازلها عن مستعمراتها في الهند وأمريكا لصالح إنجلترا 	<ul style="list-style-type: none"> ▪ انتصار إنجلترا ▪ أصبحت إنجلترا هي صاحبة السيادة ▪ معاناة إنجلترا من أزمة مالية

س فسر العبارة " معاناة إنجلترا من أزمة مالية عقب حرب السنين السبع "

- نفقات الحرب
- المصروفات العسكرية

س دلل - فرض المنتصرون في حرب السنين السبع على فرنسا شروطاً قاسية تنازل فرنسا لإنجلترا عن جميع مستعمراتها في الهند وأمريكا الشمالية

س عدد - النتائج المترتبة على تنازل فرنسا لإنجلترا عن جميع مستعمراتها في الهند وأمريكا الشمالية

- خسرت فرنسا كل امبراطوريتها
- أصبحت إنجلترا هي صاحبة السيادة على المستعمرات الأمريكية بالكامل
- لم يبق لإنجلترا منافس في أمريكا إلا المستعمرة الأسبانية في فلوريدا

حدد على خريطة العالم

س المستعمرة الأسبانية في أمريكا الشمالية (فلوريدا)

س دولة ظلت مستعمراتها تنافس الإنجليز في أمريكا بعد حرب السنين السبع (اسبانيا)



س فند - لم يكن لحرب السنين السبع أي أثر يذكر على سكان المستعمرات الإنجليزية في أمريكا الشمالية

- شعورهم بقوتهم الحقيقية
- ظهور جورج واشنطن
- زوال التهديد الفرنسي
- فتح الباب أمام الأمريكيين للتوسع نحو الغرب دون حدود

س ماذا يحدث لو : لم تنتصر إنجلترا في حرب السنين السبع

- لما أصبحت إنجلترا صاحبة السيادة على المستعمرات الأمريكية
- لاستمرت منافسة فرنسا وأسبانيا لإنجلترا في أمريكا الشمالية
- لما عانت إنجلترا من أزمة مالية
- لما فرضت إنجلترا ضرائب جديدة على سكان المستعمرات

س دلل على صحة العبارة - " كانت حرب السنين السبع بداية للثورة الأمريكية "

- شعور سكان المستعمرات بقوتهم الحقيقية
- ظهور قادة من أبناء سكان المستعمرات مثل جورج واشنطن
- فرض إنجلترا ضرائب جديدة على سكان المستعمرات
- زوال التهديد الفرنسي



U U L A

معلمة في الكويت
Kuwaitteacher.Com



أسباب الثورة الأمريكية ومذبحة بوسطن

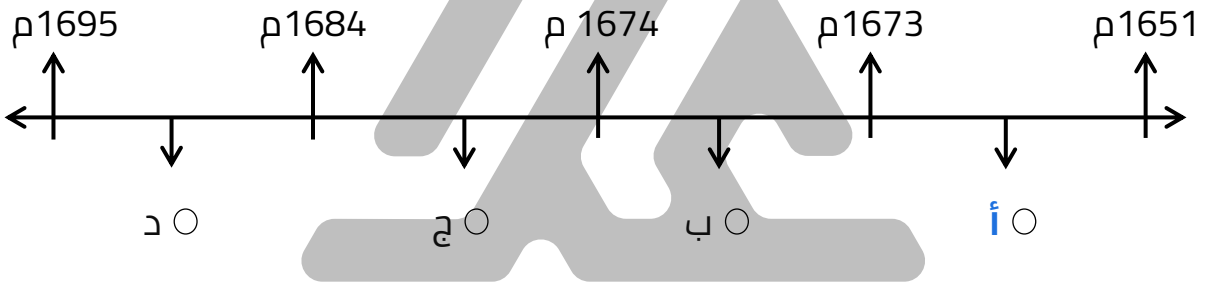
س علل - قيام الثورة الأمريكية

ممكن أن يظهر السؤال في صيغة اخرى: (عدد - أسباب الثورة الأمريكية)

- تطبيق قوانين الاحتكار التجاري وقوانين الملاحة
- فرض الضرائب الباهظة على سكان المستعمرات

اختياري

س الفترة التي تم فيها تطبيق قوانين الاحتكار التجاري وقوانين الملاحة على الأمريكيين تمثل على المخطط الزمني الحرف :



س قانون يعتبر أحد أسباب قيام الثورة الأمريكية :

- التميز العنصري
- الاحتكار التجاري
- التجنيد الإجباري
- منع السلاح

أكمل العبارات التالية :

س الملك الإنجليزي الذي فرضت في عهده قوانين الاحتكار التجاري والتسلط على المستعمرات الإنجليزية يسمى **جورج الثالث**

س حزمة من الضرائب التي كانت بمثابة الشرارة التي انطلقت منها الثورة الأمريكية تسمى

الضرائب السيئة السمعة (القوانين السيئة السمعة)

أكمل العبارات التالية :

ممکن أن يظهر السؤال في صيغة اخرى: **عرف**

س الجهة التي قامت بفرض العديد من الضرائب الجديدة على الأمريكيين تسمى **مجلس العموم البريطاني**

س أكثر الضرائب التي أثارت غضب الأمريكيين في عام 1764 هي **قانون السكر**

س أكثر الضرائب التي أثارت غضب الأمريكيين ضريبة تسمى **قانون التمغة**

س عرف - قانون التمغة

ممکن أن يظهر السؤال في صيغة اخرى: **أكمل**

هو فرض رسوم مالية على كل المستندات التجارية وعقود البيع والرهن

س علل - لقي قانون التمغة في أمريكا أكبر قدر من المعارضة لأنه أصاب رجال الصحافة ورجال المال والأعمال وهؤلاء لهم تأثير قوي على الشعب

عرف المفاهيم التالية

ممکن أن يظهر السؤال في صيغة اخرى: **اكتب المصطلح**

س جماعة أبناء الحرية

هي الجماعة التي أخذت على عاتقها تنظيم المعارضة ومقاومة الضرائب التي أطلقت عليها اسم القوانين السيئة السمعة

س القوانين السيئة السمعة

- سلسلة من الضرائب فرضتها إنجلترا على الأمريكيين مثل قانون السكر و التمغة والعسل .
- حزمة من الضرائب كانت بمثابة الشرارة التي انطلقت منها الثورة الأمريكية

س علل- معارضة الأمريكيين للقوانين السيئة السمعة

لعدم مشروعيتها

س فسر - اعتبار الأمريكيين القوانين السيئة السمعة قوانين غير مشروعة

ممكن أن يظهر السؤال في صيغة اخرى: (علل - مقاومة جماعة أبناء الحرية القوانين السيئة السمعة)

- لأنهم يرون أنه لا يحق للبرلمان الإنجليزي أن يفرض عليهم ضرائب طالما أنهم غير ممثلين فيه
- عملاً بمبدأ البرلمان الإنجليزي ذاته (إن الضرائب لا تفرض إلا بموافقة الشعب ممثلاً بنوابه)

س فسر - علل حدوث مذبحة بوسطن 1770 م

- هاجم السكان موظفي الجمارك عند تنفيذ القوانين الجديدة
- ارسال الحكومة الإنجليزية الجنود للسيطرة على الموقف
- في 5 مارس 1770م هاجم الأمريكيين القوات الإنجليزية فأطلقوا عليهم النار

س حدد على خريطة العالم الدولة التي وقعت فيها أحداث مذبحة بوسطن



أكمل العبارات التالية :

س العام الميلادي الذي وقعت فيه أحداث مذبحة بوسطن 1770 م

س زعيم المعارضة الأمريكية ضد القوانين السيئة السمعة هو صاموئيل أدامز

س المدينة التي تعتبر هي نقطة انطلاق الثورة الأمريكية وتعتبر مركز تجاري مهم تسمى بوسطن

س عدد - النتائج المترتبة على مقاطعة الأمريكيين للبضائع الإنجليزية

- خسائر فادحة في الاقتصاد الإنجليزي
- تراجع صادرات إنجلترا إلى النصف تقريباً
- أصدرت الحكومة الإنجليزية قرار بإلغاء جميع الضرائب الجديدة ما عدا ضريبة واحدة

س أكمل - الضريبة التي أبقّت عليها إنجلترا بعد إلغاء معظم الضرائب هي **الشاي**.

س علل - قيام إنجلترا بإلغاء معظم الضرائب باستثناء ضريبة الشاي حتى يبقى حق فرض الضرائب قائم على سكان المستعمرات

س فند - لم تلقى ضريبة الشاي أي معارضة من الأمريكيين

- على العكس ظلوا يناضلون للتخلص من مبدأ حق البرلمان الإنجليزي في فرض ضرائب على الشعب الأمريكي
- مقاطعة الشاي الإنجليزي
- شراء الشاي المهرب من المستعمرات الهولندية

س المستعمرات التي لجأ إليها الأمريكيين لشراء الشاي المهرب منها تسمى **المستعمرات الهولندية**.

U U L A

معاً
صفوة في الكويت
KuwaitTeacher.Com



حفلة شاي بوسطن 1773م

أكمل العبارات التالية :

س العام الميلادي الذي وقعت فيه أحداث حفلة شاي بوسطن 1773 م .

س الميناء الذي تسلل إليه الأمريكيين في زي الهنود الحمر يسمى ميناء بوسطن .

س عدد السفن الإنجليزية المحملة بالشاي التي تم إلقاءها في البحر 3 سفن .

س المدينة التي أعلن البرلمان الإنجليزي أنها منطقة اضطرابات ويجب إخضاعها للقوانين الإنجليزية بكل حزم وشدة تسمى بوسطن .

س عدد - القرارات التي اتخذتها إنجلترا لمعاقبة ميناء بوسطن

(ممكن أن يظهر السؤال في صيغة أخرى: (فند-لم يتخذ البرلمان الإنجليزي أي قرارات لمعاقبة ميناء بوسطن)

- إغلاق ميناء بوسطن حتى يتم دفع ثمن الشاي
- تعيين الجنرال جيج حاكماً عسكرياً على بوسطن
- منع الاجتماعات إلا بإذن من السلطات الإنجليزية وعرفت هذه القوانين باسم القوانين الجائرة

س أكمل الحاكم العسكري الذي تم تعيينه على بوسطن في ظل أحداث حفلة شاي بوسطن يسمى جيج .

س أكتب فقرة تاريخية مترابطة مستعينا بالكلمات التالية (الهنود الحمر - سفن إنجليزية - البرلمان الإنجليزي - الشاي - أمريكيين)

في 16 سبتمبر 1773 م تنكر عدد من الأمريكيين في زي عمال الهنود الحمر وتسللوا إلى ميناء بوسطن وقاموا بإلقاء حمولة ثلاث سفن إنجليزية محملة بالشاي في البحر مما أثار غضب البرلمان الإنجليزي





لاحظ الصورة ثم اجب عما يلي

س اسم الحدث : حفلة شاي بوسطن

س تاريخ وقوع الحدث : 1773

س النتائج المترتبة على الحدث :

- إغلاق ميناء بوسطن حتى يتم دفع ثمن الشاي
- تعيين الجنرال جيدج حاكم عسكري على بوسطن
- منع الاجتماعات إلا بإذن من السلطات الإنجليزية (القوانين الجائرة)

س فرق حسب الجدول

القوانين السيئة السمعة	القوانين الجائرة
هي ضرائب جديدة فرضها مجلس العموم البريطاني على الأمريكيين عام 1764 م ومنها السكر والعسل والنيبذ والبن والحرير وقانون التمغة	قرارات اتخذها البرلمان الإنجليزي لمعاقبة ميناء بوسطن بعد حادثة حفلة شاي بوسطن 1773 قوانين منعت الاجتماعات إلا بإذن من السلطات الإنجليزية

اقرأ الفقرة التالية ثم نفذ المطلوب

" في مساء 16 سبتمبر سنة 1773 م تنكر عدد من الأمريكيين في زي عمال الهنود الحمر وتسللوا إلى ميناء بوسطن ليلاً حيث كان هناك 3 سفن إنجليزية تحمل حمولة من الشاي وقاموا بإلقائها في البحر , وقد أثار هذا العمل غضب البرلمان الإنجليزي الذي أصدر عدة قرارات لمعاقبة ميناء بوسطن كان من أبرزها إغلاق ميناء بوسطن حتى يتم دفع ثمن الشاي وتعيين جيدج حاكماً عسكرياً على بوسطن

س ما اسم الحدث التاريخي : حفلة شاي بوسطن

س تاريخ وقوع الحدث : 1773 م

س اسم أطلق على قرارات البرلمان الإنجليزي هو : القوانين الجائرة

س أذكر - ثلاثة من القرارات التي اتخذها البرلمان الإنجليزي ضد بوسطن

ممکن أن يظهر السؤال في صيغة أخرى: (دليل - كان رد فعل البرلمان الإنجليزي قاسياً تجاه ميناء بوسطن عام 1773 م)

- إغلاق ميناء بوسطن حتى يتم دفع ثمن الشاي
- تعيين جيج حاكم عسكري على بوسطن
- منع الاجتماعات إلا بإذن من السلطات الإنجليزية .

س ماذا يحدث لو لم يقع الحدث التاريخي التالي :
" اتخاذ البرلمان الإنجليزي قرارات لمعاقبة ميناء بوسطن "

- لما تم إغلاق ميناء بوسطن حتى يتم دفع ثمن الشاي
- لما تم تعيين جيج حاكم عسكري على بوسطن
- لما تم منع الاجتماعات إلا بإذن من السلطات الإنجليزية .



U U L A

مفتوحة معلمي الكويت
KuwaitTeacher.Com



مؤتمرات فيلادلفيا وبداية الصدام وإعلان الاستقلال

أكمل العبارات التالية :

س يطلق على اجتماع قادة المستعمرات في فيلادلفيا عام 1774 م اسم **الكونجرس الأول**

س العام الميلادي الذي عقد فيه مؤتمر فيلادلفيا (الكونجرس الأول) **1774 م**



س الصورة المقابلة لمؤتمر يسمى **الكونجرس الأول**

س المدينة التي عقد فيها مؤتمر الكونجرس الأول تسمى **فيلادلفيا**

س عدد النتائج المترتبة على الكونجرس الأول 1774م

ممكّن أن يظهر السؤال في صيغ أخرى:
(عدد قرارات الكونجرس الأول 1774 م)
(دّلل - إن القوانين الجائرة التي اتخذها البرلمان الإنجليزي لمعاقبة بوسطن أعطت نتائج عكسية لما كان يتمناه الإنجليزي)

- عدم قبول القوانين الجائرة
- مطالبة الملك الإنجليزي بإلغاء القوانين الجائرة
- إعادة سلاح مقاطعة البضائع الإنجليزية

بداية الصدام المسلح والكونجرس الثاني 1775 م

س أكمل - مدينة كانت تعتبر مخزناً للأسلحة والذخيرة للمقاومة الأمريكية تسمى **كونكورد**

س فند - لم يكن للجنرال جيدج أي ردة فعل تجاه معسكر كونكورد

- أرسل الجنود لمصادرة الأسلحة
- اعتقال الزعماء الوطنيين



- س** علل - لم تنجح مهمة الحامية العسكرية الإنجليزية في كونكورد عام 1775 م
- لأن الحامية العسكرية وقعت في كمين نصبه لهم الأمريكيون عند مدينة لكونجستون
 - وكانت خسائرهم ثلاثة أضعاف رجال المستعمرات الأمريكية

أكمل العبارات التالية :

س المدينة التي شهدت أول صدام مسلح بين القوات الأمريكية والقوات الإنجليزية تسمى لكونجستون .



س الحرف هـ على الخريطة المقابلة يمثل دولة وقعت على أراضيها معركة لكونجستون تسمى الولايات المتحدة الأمريكية .

س عدد - نتائج معركة لكونجستون

- خسائر القوات الإنجليزية ثلاثة أضعاف رجال المستعمرات الأمريكية
- بادر المواطنون الأمريكيون إلى طرد الحكومات الملكية الإنجليزية
- استلم الأمريكيون إدارة الأمور للدفاع عن بلدانهم بالقوة
- اجتمع القادة الوطنيون الأمريكيون في فيلادلفيا 10 مايو 1775 م

س أكمل - يطلق على اجتماع الأمريكيين في فيلادلفيا في 10 مايو 1775 م اسم الكونجرس الثاني .

س عدد قرارات الكونجرس الثاني 1775 م (فيلادلفيا الثاني)

- اعتبار جيش بوسطن جيش أمريكي يخص كل المستعمرات
- تعيين جورج واشنطن قائدا على هذا الجيش
- تعتبر بوسطن هي نواة الجيش الأمريكي

س وازن بين كل مما يلي :

ممكن أن يظهر السؤال في صيغة اخرى: **قارن**

وجه المقارنة	الكونجرس الأول (فيلادلفيا الأول)	الكونجرس الثاني (فيلادلفيا الثاني)
السنة	1774 م	1775 م
القرارات	<ul style="list-style-type: none">عدم قبول القوانين الجائرةمطالبة الملك الإنجليزي بإلغاء القوانين الجائرة.إعادة سلاح مقاطعة البضائع الإنجليزية	<ul style="list-style-type: none">اعتبار جيش بوسطن جيش أمريكيتعيين جورج واشنطن قائدا على هذا الجيشتعتبر بوسطن هي نواة الجيش الأمريكي

س علل - تعيين جورج واشنطن قائد للجيش الأمريكي سنة 1775 م

- شباب لمع اسمه في حرب السنين السبع
- يتميز بالشجاعة والكفاية الإدارية

أكمل العبارات التالية :

س الزعيم الأمريكي صاحب فكرة إعلان الاستقلال اسمه **لي** .

س الزعيم الأمريكي الذي قدم اقتراح يدعو المستعمرات لإعلان الاستقلال عن إنجلترا يسمى **لي** .

س الولاية التي ينتمي إليها الزعيم الأمريكي لي هي **فرجينيا** .

س العام الميلادي الذي تقدم فيه الزعيم لي إلى الكونجرس باقتراح إعلان الاستقلال عن إنجلترا **1776 م** .

س العام الميلادي الذي صدر فيه إعلان الاستقلال هو **1776 م** .

س علل - فسر (يحتفل الأمريكيين بيوم 4 يوليو من كل عام)

لأن في هذا اليوم صدر إعلان الاستقلال عن إنجلترا



س أكتب مدلول الصورة المقابلة تسليم وثيقة الاستقلال الأمريكية

س عدد - بنود وثيقة الاستقلال الأمريكية

ممكن أن يظهر السؤال في صيغ أخرى:
(دلي "أكدت وثيقة الاستقلال الأمريكية على أن الدولة وجدت لخدمة الشعب")
(أكتب دور " جون لوك في الثورة الأمريكية ")

- البشر خلقوا متساويين ومنحوا من خالقهم حقوق ثابتة مثل الحق في الحياة
- الحكومات نشأت للحفاظ على هذه الحقوق
- إذا فشلت الحكومة بمهمتها من حق الشعب تبديلها

س فند العبارة - "اختلاف المبادئ بين وثيقة الاستقلال الأمريكية ووثيقة الحقوق الإنجليزية"

- لا يوجد اختلاف في مبادئ الوثيقتين فكلاهما تنص على حقوق المواطن من حرية وحياة وتملك
- كلاهما ينص على أن السلطة لابد أن تكون بيد الشعب

أكمل العبارات التالية :

س الجنرال الذي خلف جيدج على بوسطن اسمه هاو .

س المعركة التي حسمت الوضع بشكل نهائي لصالح الأمريكيين في 1777م تسمى ساراتوجا

س معركة حاسمة انتصرت فيها القوات الأمريكية على الإنجليز عام 1777م اسمها ساراتوجا

معاني الكوتم
كفوة
KuwaitTeacher.Com



معركة ساراتوجا حتى نتائج الثورة الأمريكية

س عدد - النتائج المترتبة على معركة ساراتوجا

ممكّن أن يظهر السؤال في صيغ أخرى:
دليل " حققت معركة ساراتوجا النصر الحاسم في حرب الاستقلال الأمريكية " فند " لم يكن لمعركة ساراتوجا أي نتائج هامة "

- خسارة الإنجليز جيش من 6 آلاف جندي
- سيطرت الأمريكيين على حوض هدسون
- زاد تعاطف الأوروبيين مع الثورة الأمريكية
- اعتراف فرنسا باستقلال الثوار الأمريكيين ودخولها الحرب إلى جانبهم

س علل - مساعدة فرنسا للأمريكيين في حرب الاستقلال
للثأر لهزيمتهم أمام إنجلترا في حرب السنين السبع

معاهدة صلح باريس 1783

أكمل العبارات التالية :


س القائد الفرنسي الذي ساهم في حرب الاستقلال الأمريكية يسمى **لافيت**

س معركة تعتبر هي خاتمة المعارك بين القوات الأمريكية والقوات الإنجليزية
تسمى **يورك تاون**

س المدينة التي استولى عليها جورج واشنطن عام 1781 م تسمى **يورك تاون**

س العام الميلادي الذي استولى فيه جورج واشنطن على مدينة يورك تاون
1781 م

س الوحدة السياسية التي ظهرت في العالم الجديد 1783م هي
الولايات المتحدة الأمريكية



س حدد على خريطة العالم الوحدة السياسية التي ظهرت في العالم الجديد عام 1783 م



س عرف - صلح باريس 1783 م

يمكن أن يظهر السؤال في صيغة أخرى: أكتب المصطلح

هو الصلح الذي اعترفت فيه بريطانيا باستقلال الولايات المتحدة الأمريكية

س فرق بين كل من :

معاهدة باريس 1763م	صلح باريس 1783م
اعتراف فرنسا بهزيمتها في حرب السنين السبع وتنازلها عن جميع مستعمراتها في الهند وأمريكا لصالح الانجليز	اعتراف بريطانيا باستقلال الولايات المتحدة الامريكية ظهور أمريكا كوحدة سياسية مستقلة في العالم الجديد 1783م

معلمة كويتية
KuwaitTeacher.Com

أكمل العبارات التالية :



س الحرف (هـ) يشير على الخريطة إلى مدينة تم فيها توقيع معاهدة استقلال الولايات المتحدة الأمريكية تسمى **باريس** .

س الدولة التي اعترفت بالثوار الأمريكيين ودخلت الحرب إلى جانبهم يمثلها على الخريطة الحرف **هـ - فرنسا** .

دستور الولايات المتحدة الامريكية

أكمل العبارات التالية :

س العام الميلادي الذي اجتمع فيه النواب الأمريكيين لوضع دستور يجمع الولايات المتحدة **1787م** .

س عدد النواب الذين اجتمعوا لوضع الدستور الأمريكي **55 نائب** .

س رئيس المؤتمر الوطني لوضع الدستور الأمريكي هو **جورج واشنطن** .

س العام الميلادي الذي تم فيه التصديق على الدستور الأمريكي **1789م** .

س عدد - مميزات الدستور الأمريكي

ممكن أن يظهر السؤال في صيغة اخرى: (علل يعتبر الدستور الأمريكي من أوضح دساتير العالم)

- الفصل التام بين السلطات الثلاث (التنفيذية - التشريعية - القضائية)
- عدم تعارض السلطة المحلية مع الفيدرالية
- أكد على حق الفرد المطلق في الحرية والمساواة
- مرونة الدستور
- قابليته للتعديل والتغيير

س عدد - حقوق الفرد وفق الدستور الأمريكي عام 1789 م

ممكن أن يظهر السؤال في صيغة اخرى: (فند - أهمل الدستور الأمريكي عام 1789 م حقوق الإنسان)

- الحق في الحرية
- الحق في المساواة
- حرية الاعتقاد
- حرية الصحافة

س أكتب فيما درست - نبذة مختصرة عن جورج واشنطن

- شاب لمع اسمه في حرب السنين السبع
- يتميز بالشجاعة والكفاية الإدارية
- ساهم في حرب الاستقلال الأمريكية
- رئيس المؤتمر الوطني لوضع الدستور

س عدد - نتائج الثورة الأمريكية

(ممكن أن يظهر السؤال في صيغة أخرى: (فند - حققت الثورة الأمريكية نتائج ذات أثر محدود على العالم)

- انتشار عدواها إلى سكان أمريكا الجنوبية
- تشجيع سكان مستعمرات آسيا وأفريقيا على القيام بثورات ضد الانجليز
- أصبحت أمريكا ملاذا لدعاة الفكر من الأوروبيين ورمزاً للحرية
- أصبحت الثورة الأمريكية هي السبب المباشر في قيام الثورة الفرنسية

س علل - الثورة الأمريكية هي السبب المباشر في قيام الثورة الفرنسية

لأن فرنسا أنفقت أموالاً طائلة في حربها ضد بريطانيا

س أكمل : الملك الفرنسي الذي حدثت في عهده الأزمة المالية عام 1789 م يسمى
لويس 16

س دلل - ساهمت الثورة الأمريكية في انتشار عدواها إلى خارج حدود قارتها

- انتشار حركات الاستقلال في أمريكا الجنوبية (اللاتينية)
- قيام سكان المستعمرات البريطانية في آسيا وأفريقيا على القيام بثورات بهدف التخلص من الاستعمار البريطاني



تدرب و تفوق

اختبارات الكترونية

معاً
صقوة الكوتم
KuwaitTeacher.Com



الثورة الفرنسية



س دل " تعتبر الثورة الفرنسية واحدة من أهم الثورات الكبرى في العالم "

ممكن أن يظهر السؤال في صيغ اخرى:
(علل - يطلق على الثورة الفرنسية اسم النموذج الشامل)
(علل - تعتبر الثورة الفرنسية ثورة شاملة الأهداف)

- أعطت مفاهيم جديدة للعالم
- غيرت جميع مناحي الحياة الفرنسية
- لم يعد التغيير قاصرا على فرنسا بل تعدى حدودها
- وضعت في حيز تنفيذها مبادئ عامة

س أكمل : لقب يطلق على الثورة الفرنسية هو النموذج الشامل --

س اختياري - الثورة التي لقبت بالنموذج الشامل تسمى :

- الثورة الفرنسية
- الثورة الأمريكية
- الثورة الإنجليزية
- الثورة البلشفية

س حدد على خريطة العالم (دولة لقبت ثورتها بالنموذج الشامل)



س عدد- عوامل قيام الثورة الفرنسية



أولا العوامل السياسية

س نفذ المطلوب منك مما بين القوسين :
الثورة الفرنسية (العوامل السياسية)

ممكن أن يظهر السؤال في صيغ اخرى:
علل - تدهور الأحوال السياسية في فرنسا قبل الثورة
أكتب العوامل السياسية في الثورة الفرنسية

- كان ملوك فرنسا يحكمون وفق نظرية الحق الإلهي المقدس
- لم تعرف فرنسا أي نوع من المشاركة الشعبية في الحكم ولكن كان هناك مجالس صورية (محكمة باريس - مجلس طبقات الأمة)
- الهزائم العسكرية التي حلت بالجيش الفرنسي منذ أواخر لويس 14 وحرب السنوات السبع
- ضعف شخصية الملك لويس السادس عشر

أكمل العبارات التالية :

س النظرية التي كان يحكم بها ملوك فرنسا قبل الثورة تسمى الحق الإلهي المقدس

س الصورة المقابلة لأحد ملوك فرنسا ويسمى لويس الرابع عشر



س الصورة المقابلة لأحد ملوك فرنسا ويسمى لويس السادس عشر



س دلل على صحة العبارة

" كان ملوك فرنسا يحكمون وفق نظرية الحق الإلهي المقدس "

- الملك في فرنسا كان يقوم بإصدار القوانين
- فرض الضرائب وإعلان الحروب
- تعيين وعزل الوزراء
- سلطة الملك أكبر من القضاء

مفتوحة للتعليم الإلكتروني
KuwaitTeacher.Com

علل

س الملك قبل الثورة الفرنسية هو قاضي المملكة الأكبر

ممكن أن يظهر السؤال في صيغة اخرى: (علل - سلطة الملك في فرنسا أكبر من القضاء)

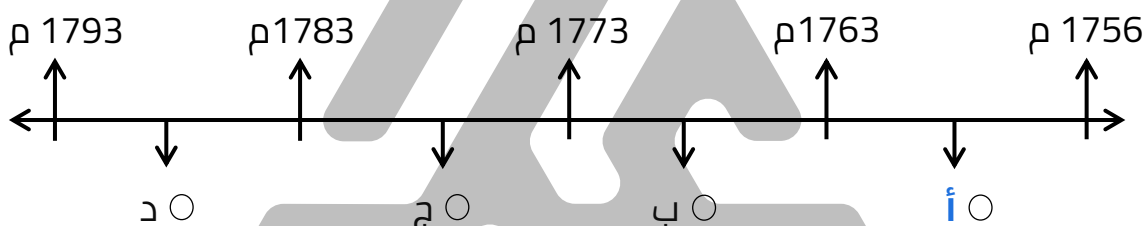
- يستطيع أن يعفو عن مجرم عاقبته المحكمة بالسجن
- يستطيع يلقي بمن يشاء في السجن دون محاكمة
- يعين ويعزل الوزراء دون مسائلة

س لم تمارس فرنسا أي نوع من المشاركة الشعبية في الحكم قبل الثورة

ممكن أن يظهر السؤال في صيغة اخرى:
فند - شهدت فرنسا قبيل الثورة الفرنسية مشاركة شعبية في الحكم

- الملوك في فرنسا كانوا يحكمون وفق نظرية الحق الإلهي المقدس
- كانت هناك مجالس صورية مثل محكمة باريس ومجلس طبقات الأمة
- المجالس الصورية قراراتها غير ملزمة للملك

س اختياري : حرب السنين السبع تمثل على المخطط الزمني الحرف



أكمل العبارات التالية :

س الملك الفرنسي الذي خسر حرب السنين السبع يسم لويس الرابع عشر

س الملك الفرنسي الذي قامت ضده الثورة الفرنسية يسمى لويس السادس عشر

س علل - توالي الهزائم العسكرية على الجيش الفرنسي أحد أسباب قيام الثورة الفرنسية

- الشعب الفرنسي كان يتطلع إلى ملك قوي يعيد مكانة فرنسا بين ملكيات أوروبا
- يعيد هيبة فرنسا بين أفراد الشعب
- لويس السادس عشر لم يتمتع بهذه القدرات

اختر الإجابة الصحيحة

س الملك الفرنسي الذي عُرف بضعف شخصيته يسمى :

- لويس الثالث عشر
- لويس الخامس عشر
- لويس الرابع عشر
- لويس السادس عشر

س الفترة الزمنية لحكم الملك لويس السادس عشر هي :

- (1773 م – 1791 م)
○ (1775 م – 1795 م)
○ (1778 م – 1798 م)
○ (1781 م – 1801 م)

س دل على صحة العبارة

" اجماع المؤرخين على ضعف شخصية الملك لويس السادس عشر "

ممكن أن يظهر السؤال في صيغ اخرى:
فند - أعجب الشعب الفرنسي بشخصية الملكة ماري أنطوانيت
فند - لعبت ماري أنطوانيت زوجة الملك لويس 16 دوراً كبيراً في تعزيز مكانته الشعبية

- تدخل زوجته (ماري انطوانيت) في تعيين وعزل الوزراء
- عدم إحساسها بما كان يعاني منه الشعب الفرنسي من آثار المجاعة

س علل - يرى الشعب الفرنسي أن ماري أنطوانيت عدوة له

- لأنها نمساوية الأصل
- الشعب الفرنسي اعتبر النمسا هي المسؤولة عن معظم الكوارث العسكرية

س فسر - علل " كراهية الشعب الفرنسي للنمسا "

لأن الشعب الفرنسي اعتبر النمسا هي المسؤولة عن معظم الكوارث العسكرية التي حلت بفرنسا في القرن 18م

س فرق بين كل من حسب الجدول التالي

ماري أنطوانيت	ماري الثانية
<ul style="list-style-type: none">▪ لعبت دور في إضعاف مكانة الملك الشعبية▪ اشتراكها في تعيين وعزل الوزراء▪ عدم إحساسها بما كان يعاني من الشعب الفرنسي من آثار المجاعة▪ كانت سبب في قيام الثورة الفرنسية	<ul style="list-style-type: none">▪ استجابت لمطالب البرلمان الإنجليزي والمعارضين للملك▪ نزلت مع زوجها وليم أورانج لتسلم العرش▪ الموافقة على وثيقة الحقوق الإنجليزية



العوامل الاجتماعية والفكرية

س عدد - طبقات الشعب الفرنسي قبيل الثورة الفرنسية

- الطبقة الممتازة
- الطبقة العامة

أكمل العبارات التالية :

ممكن أن يظهر السؤال في صيغة اخرى: **عرف**

س طبقة اجتماعية فرنسية قبيل الثورة تمثل 1 % من مجموع الشعب الفرنسي تسمى **الطبقة الممتازة**

س طبقة اجتماعية فرنسية قبيل الثورة تمثل 99 % من مجموع الشعب الفرنسي تسمى **الطبقة العامة**

س فرق بين كل مما يلي :

الطبقة العامة في المجتمع الفرنسي قبل الثورة	الطبقة الممتازة في المجتمع الفرنسي قبل الثورة
<ul style="list-style-type: none">▪ تضم عامة الشعب من الزراعة والصناع وأصحاب الحرف وصغار التجار▪ تمثل 99% من مجموع الشعب الفرنسي▪ عانت من الظلم والاستعباد▪ فرض عليهم جميع أنواع الضرائب▪ استبعدوا من جميع الوظائف العليا في الدولة▪ عاشوا في فقر وبؤس شديد	<ul style="list-style-type: none">▪ تضم الطبقة الأرستقراطية ورجال الدين▪ تمثل 1% من مجموع الشعب الفرنسي▪ تمتعوا بجميع المزايا الاجتماعية▪ تولي المناصب العليا في الدولة والجيش▪ ليس عليهم أي حقوق تجاه الدولة▪ عرفت هذه الطبقة بالتصاقها الشديد بالملك

س فند - تمتعت طبقة العامة في فرنسا قبل الثورة بالكثير من الامتيازات قبيل الثورة

- عانت من الظلم والاستعباد
- فرض عليهم جميع أنواع الضرائب
- استبعدوا من جميع الوظائف العليا في الدولة
- عاشوا في فقر وبؤس شديد

س أكتب فقرة تاريخية مترابطة مستعينا بالكلمات الآتية
الطبقة الممتازة - المجتمع الفرنسي - الضرائب - الوظائف العليا

الطبقة الممتازة في المجتمع الفرنسي تكونت من الأغنياء ورجال الدين وتمتعوا بالكثير من المزايا مثل الإعفاء من الضرائب وكذلك تولي المناصب العليا ونسبتهم 1% من مجموع الشعب الفرنسي .

س دلل على صحة العبارة - مساهمة المفكرين بدور كبير في قيام الثورة الفرنسية

- فولتير : كاتب ساخر عرف عنه النقد اللاذع وسخريته الشديدة من الأوضاع البالية في فرنسا من أهم مؤلفاته كتاب " عهد لويس الرابع عشر " ودعا فيه إلى المساواة
- منتيسكيو : صاحب كتاب روح القوانين وكان معجباً بالنظام الإنجليزي المقيد لسلطات الملك وكان يعتقد أن النظام الملكي الإنجليزي هو الملائم لحكم فرنسا
- روسو : من أهم مؤلفاته كتاب العقد الاجتماعي الذي طالب أن يكون الحكم للشعب واتفق مع مبادئ جون لوك

أكمل العبارات التالية :

س كاتب ساخر عرف عنه النقد اللاذع وانتقد القوانين الفرنسية الجائرة يسمى فولتير



س الصورة المقابلة تمثل مفكر فرنسي في الفترة ما بين 1694 م - 1778 م يسمى فولتير

س من أهم مؤلفات فولتير كتاب يسمى عهد لويس الرابع عشر

س عدد - أهم آراء فولتير

ممکن أن يظهر السؤال في صيغ أخرى: **أكمل** **اختياري**

- دعا إلى المساواة
- انتقد القوانين الفرنسية الجائرة
- انتقد الحكم المطلق
- انتقد سياسة الامتيازات والإعفاءات الضريبية

س علل - تعتبر مؤلفات فولتير هي الأكثر انتشاراً بين طبقات الشعب الفرنسي بسبب موهبته الفذة في توجيه النقد اللاذع

أكمل العبارات التالية :

س العام الميلادي الذي ولد فيه المفكر الفرنسي منتيسكيو هو **1689م** .

س العام الميلادي الذي توفي فيه المفكر الفرنسي منتيسكيو هو **1775م** .

س من أهم مؤلفات منتيسكيو كتاب يسمى **روح القوانين** .

س العام الميلادي الذي صدر فيه كتاب روح القوانين **1748م** .

س مفكر فرنسي كان يرى أن نظام الحكم الإنجليزي هو الملائم لحكم فرنسا يسمى **منتيسكيو** .

س علل - منتيسكيو يرى أن نظام الحكم الإنجليزي هو الملائم لحكم فرنسا

- النظام الإنجليزي يقوم على أساس الدستور
- النظام الإنجليزي يقوم على أساس البرلمان المنتخب
- الملك مقيد السلطات


أكمل العبارات التالية :

س الصورة المقابلة تمثل مفكر فرنسي يسمى **روسو** .

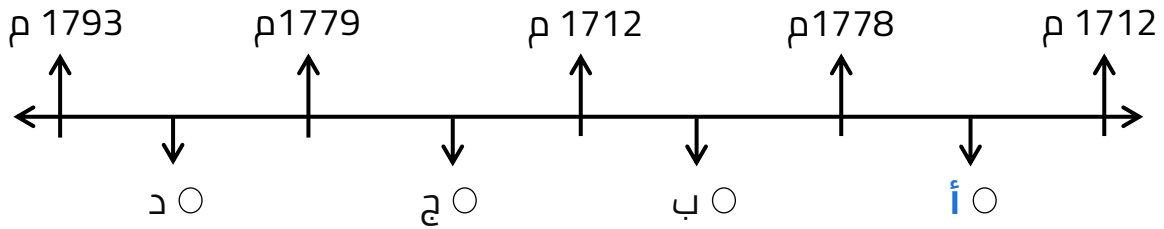
س من أهم مؤلفات روسو كتاب يسمى **العقد الاجتماعي** .

س لقب يطلق على كتاب العقد الاجتماعي هو **إنجيل الثورة** .

س مفكر فرنسي اتفق مع مبادئ جون لوك يسمى **روسو** .



س اختياري : الفترة التي تمثل حياة المفكر الفرنسي روسو تحمل على المخطط الزمني الحرف :



س عدد - آراء روسو

- طالب أن يكون الحكم بيد الشعب
- اتفق مع مبادئ جون لوك
- الشعب هو الذي يفوض السلطة للحاكم
- أنكر وجود حاكم يستمد سلطته من مصدر غير الأمة
- يرى أن كل حاكم لا يستند إلى الشعب في حكمه يعتبر حاكماً غير شرعي
- أكد على المساواة

أكمل العبارات التالية :

س مفكر فرنسي رفع من شأن الفرد وجعل المساواة أساس المجتمع يسمى **روسو** -

س قيمة روسو العليا في رفع شأن الفرد وجعل المساواة أساس **المجتمع** -

س القيمة التي أكد عليها روسو وجعلها أساس المجتمع تسمى **المساواة** -

س علل - يطلق على كتاب العقد الاجتماعي إنجيل الثورة

- طالب أن يكون الحكم بيد الشعب
- الشعب هو الذي يفوض السلطة للحاكم
- الشعب له الحق في سحب التفويض إذا ما أخل الملك بوظائفه
- أنكر وجود حاكم يستمد سلطته من مصدر غير الأمة

س ما هي أوجه الشبه بين كل من فولتير وروسو

- كلاهما مفكرين فرنسيين
- كلاهما دعا إلى المساواة
- كلاهما دعا أن يكون الحكم بيد الشعب

س ما هي أوجه الشبه بين روسو وجون لوك كمفكرين أثرا في قيام الثورتين الإنجليزية والفرنسية

- كلاهما أفكارهما تنص على أن السيادة للشعب
- كل فرد له حقوقه في الحياة والحرية والتملك على أساس المساواة
- على الحكومة التي تستمد قوتها من الشعب الذي يفوض السلطة للحاكم حماية هذه الحقوق
- في حال فشل الحكومة بمهمتها فإن من حق الشعب الثورة وطرد الحكومة أو الملك الذي يصبح حاكم غير شرعي



U U L A

معا
ثورة في الكويت
KuwaitTeacher.Com



العوامل الاقتصادية

س علل - تعتبر العوامل الاقتصادية أحد أهم عوامل الثورة الفرنسية

ممكن أن يظهر السؤال في صيغة اخرى:
نفذ المطلوب منك مما بين القوسين الثورة الفرنسية (العوامل الاقتصادية)

- الخسائر الكبيرة التي تعرضت لها فرنسا خلال القرن 18
- اشتراك فرنسا في حرب الاستقلال الأمريكية
- سياسة الامتيازات والإعفاءات الضريبية
- حياة الترف والبدخ التي كان يعيش فيها البلاط الفرنسي

س عدد - النتائج الاقتصادية المترتبة على الحروب الخاسرة التي خاضتها فرنسا في القرن 18 م

- استنزاف أموال الخزانة الفرنسية
- فقد الفرنسيين الكثير من مستعمراتهم في أمريكا الشمالية والهند

س ماذا يحدث لو " لم تخسر فرنسا الحروب التي خاضتها في القرن الثامن عشر "

- لما استنزفت أموال الخزانة الفرنسية
- لما فقد الفرنسيين الكثير من مستعمراتهم في أمريكا الشمالية والهند
- لما قامت الثورة الفرنسية

علل

س اشتراك فرنسا في حرب الاستقلال الأمريكية

- للثأر لكرامتها من جراء هزيمتها أمام إنجلترا في حرب السنين السبع

س اشتراك فرنسا في حرب الاستقلال الأمريكية أحد أسباب قيام الثورة الفرنسية

ممكن أن يظهر السؤال في صيغة اخرى:
عدد - النتائج الاقتصادية المترتبة على اشتراك فرنسا في حرب الاستقلال الأمريكية

- تحملت الخزانة الفرنسية أموالاً طائلة
- أصبحت فرنسا على شفا الإفلاس

س أكمل : أهم الحروب التي خاضتها فرنسا في القرن الثامن عشر هي

حرب السنين السبع

س عدد - النتائج المترتبة على إعفاء الطبقة الممتازة والكنيسة من دفع الضرائب

- حرمان الخزانة الفرنسية من مصدر مهم من مصادر الدخل
- ساهمت بشكل كبير في تفاقم الأوضاع الاقتصادية في فرنسا

س أكمل : الملك الفرنسي الذي تفاقمت في عهده الأوضاع الاقتصادية يسمى لويس 16

س فند - البلاط الفرنسي والشعب الفرنسي كان يعيش حياة الترف والبذخ في عهد لويس 16

- على العكس البلاط الفرنسي فقط كان يعيش حياة الترف
- الشعب الفرنسي كان يئن تحت وطأة المجاعة والفقر والحرمان وارتفاع الأسعار والبطالة

س دلل - لم يعيش الشعب الفرنسي حياة الترف في عهد لويس 16

- كان يئن تحت وطأة المجاعة والفقر والحرمان
- ارتفاع الأسعار والبطالة

أكمل العبارات التالية :

س عدد غرف مجلس طبقات الأمة الفرنسي 3 غرف

س رجال الدين والنبلاء يمثلون في غرفتين والغرفة الثالثة تمثل العامّة

س عدد الغرف التي تضم رجال الدين والنبلاء في مجلس طبقات الأمة الفرنسي غرفتين

س علل - فسر انعقاد مجلس طبقات الأمة في الخامس من مايو 1789 م

ممكن أن يظهر السؤال في صيغة اخرى: (فسر - دعوة نيكور وزير الخزانة مجلس طبقات الأمة للانعقاد)

لبحث الخروج من الأزمة العالية الكبيرة التي كانت تمر بها البلاد عن طريق فرض ضرائب جديدة لتغطية نفقات الدولة

أكمل العبارات التالية :

س وزير الخزانة الفرنسي اسمه نيكور

س الصورة المقابلة تمثل برلمان الثورة الفرنسية



س علل - لم يصدر مجلس طبقات الأمة قرارات تتعارض مع مصلحة الطبقة الأرستقراطية

ممكن أن يظهر السؤال في صيغة أخرى:
علل - لم يصدر مجلس طبقات الأمة قرارات في مصلحة الطبقة العامة

- نظام التصويت في فرنسا كان يتم على أساس عدد الغرف وليس الأصوات
- رجال الدين والنبلاء في غرفتين فلن يصدر المجلس أي قرار يتعارض مع مصالحهما

س علل - رفض الطبقة العامة الضرائب التي دعا لها وزير الخزانة لأنهم جاءوا للاجتماع من أجل التخفيف عن أبناء الطبقة العامة لا لفرض ضرائب جديدة

س أذكر ردة فعل الطبقة العامة من طلب نيكر بفرض ضرائب جديدة

- رفض الضرائب الجديدة
- دعوة النبلاء ورجال الدين للاجتماع في غرفة واحدة فرفض طلبهم
- قرر النواب التخلي عن المقاومة السلبية إلى مرحلة العمل

س فند - استجاب الملك لويس السادس عشر لمطالب الطبقة العامة في مجلس طبقات الأمة

- انصراف الملك من الجلسة غاضباً
- أرسل قائد الحرس الملكي ليطلب من نواب العامة الانصراف من القاعة

س علل - إعلان الطبقة العامة استعدادهم للقتال لتنفيذ مطالب الشعب الفرنسي بسبب إرسال الملك لويس 16 قائد الحرس الملكي ليطلب من نواب العامة الانصراف من القاعة

" أننا هنا بإرادة الشعب ولن نبرح أماكننا إلا على أسنة الرماح "

س القائل: **ميرابو**

س المناسبة: **عندما أرسل الملك قائد الحرس الملكي ليطلب من نواب العامة الانصراف من القاعة**

مفتوحة للجميع
KuwaitTeacher.Com

أكمل العبارات التالية :

س الاسم الذي أطلق على نواب العامة عقب انعقاد مجلس طبقات الأمة في عام 1789 م هو الجمعية الوطنية .

س الصورة المقابلة تسمى برلمان الثورة .



س دلل - الملك دعم إشاعات المؤامرة الملكية ضد الجمعية الوطنية

- استدعى الكثير من الحرس الملكي إلى باريس
- رفض الملك طلب الجمعية الوطنية في إبعاد الحرس الملكي عن باريس
- فانفجر الوضع واستعد الشعب للدفاع بقوة السلاح



U U L A ٨

معلمة
مفتوحة
الحكومة
KuwaitTeacher.Com



سقوط حصن الباستيل

س عرف - حصن الباستيل

هو حصن من الحصون الإقطاعية القديمة تحول إلى سجن كبير للدولة وكان يرمز للظلم والاستبداد



أكمل العبارات التالية :

س الصورة المقابلة تمثل

سقوط حصن الباستيل

س العام الميلادي الذي هاجم فيه الجمهور الفرنسي الغاضب حصن الباستيل
1789 م

س علل- يحتفل الفرنسيين بيوم 14 يوليو من كل عام

لأن في هذا اليوم هاجم الفرنسيين حصن الباستيل وأفرجوا عن السجناء وطافوا بهم شوارع فرنسا

س عدد - نتائج سقوط حصن الباستيل

ممكن أن يظهر السؤال في صيغة اخرى:
فند - ساعد سقوط حصن الباستيل على استقرار الأوضاع العامة في فرنسا

- عمّت الفوضى في كل مكان
- توقف الفلاحين عن دفع الضرائب
- انقض الفلاحين على قصور النبلاء
- هجرة النبلاء إلى خارج فرنسا

س علل - هجرة النبلاء إلى خارج فرنسا 1789 م



- خوفاً على حياتهم
- هجوم الفلاحين على قصور النبلاء

لاحظ الصورة التي أمامك ثم أجب عما يلي :

س سنة وقوع هذا الحدث : **1789 م**

س نتائج هذا الحدث

- عمت الفوضى في كل مكان
- توقف الفلاحين عن دفع الضرائب
- انقض الفلاحين على قصور النبلاء
- هجرة النبلاء إلى خارج فرنسا

س ماذا يحدث لو - لم يسقط حصن الباستيل

- لما عمت الفوضى في كل مكان
- لما توقف الفلاحين عن دفع الضرائب
- لما انقض الفلاحين على قصور النبلاء
- لما هاجر النبلاء إلى خارج فرنسا

س فرق في جدول بين يوم 4 يوليو في الثورة الأمريكية و 14 يوليو في الثورة الفرنسية

- 4 يوليو : صدور إعلان الاستقلال
- 14 يوليو : سقوط حصن الباستيل في فرنسا

س صدور وثيقة إعلان حقوق الإنسان المواطن

س عدد المواد التي صيغت فيها وثيقة إعلان حقوق الإنسان المواطن 16

س دلل " أصدرت الجمعية الوطنية وثيقة ذات أهمية لا في تاريخ الثورة الفرنسية بل في تاريخ الحركات التحررية العالمية "

ممكن أن يظهر السؤال في صيغة اخرى: عدد - بنود وثيقة إعلان حقوق الإنسان المواطن

- الأمة هي صاحبة السيادة
- الجيش في خدمة الشعب
- لا عقوبة بدون قانون
- المتهم بريء حتى تثبت إدانته
- يولد الناس أحرار متساوين في الحقوق والواجبات
- هدف الحكومة هو الحفاظ على الحقوق الأساسية للشعب

س ما هي أوجه الشبه بين لائحة الحقوق الإنجليزية ووثيقة إعلان حقوق الإنسان المواطن في فرنسا

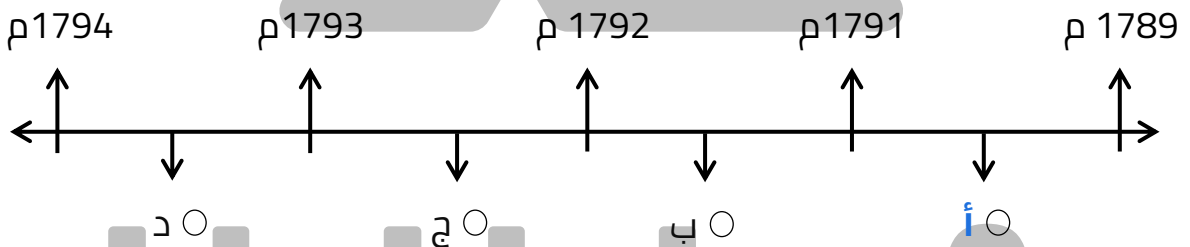
- لا عقوبة بدون قانون
- لا يحق اعتقال مواطن دون محاكمة
- المتهم بريء حتى تثبت ادانته
- الجيش في خدمة الشعب وليس للملك
- لا يحق للملك إعلان حرب دون موافقة البرلمان أو الشعب
- الناس أحرار ومتساوون في الحقوق والواجبات

س فرق بين كل من :

إعلان حقوق الإنسان المواطن في فرنسا	لائحة الحقوق الإنجليزية
<ul style="list-style-type: none">يولد الناس أحرار متساوين في الحقوق والواجباتهدف الحكومة هو الحفاظ على حقوقه الأساسيةالأمة هي صاحبة السيادةلا عقوبة بدون قانونالمتهم بريء حتى تثبت إدانتهالجيش في خدمة الشعب	<ul style="list-style-type: none">لا يجوز إبطال أو تعديل قانون صادر عن البرلمانلا يحق للملك فرض ضرائب أو إعلان حرب دون موافقة البرلمانللبرلمان الحق الكامل في التعبير عن آرائهم بحريةالبرلمان أعطى حصانة للمواطنين

دستور 1791 م

س اختياري : الفترة التي استغرقتها عملية وضع دستور 1791 م تمثل على المخطط الزمني الحرف :



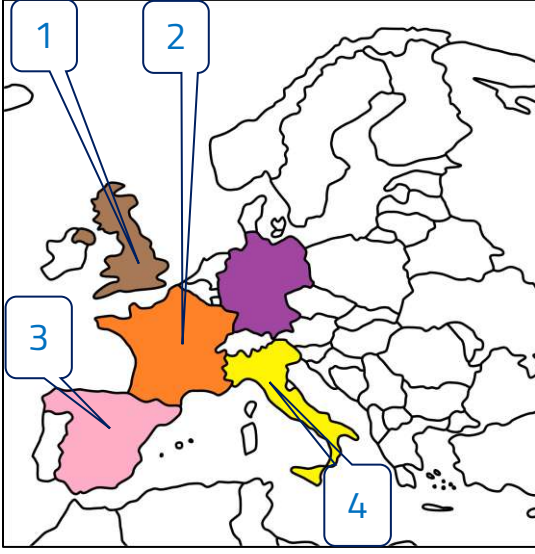
س عدد - بنود دستور 1791 م

- الإبقاء على الملكية ومن حق الملك اختيار وزرائه
- السلطة التشريعية في يد الجمعية التشريعية

س عدد - مهام الجمعية التشريعية في دستور 1791 م

- إصدار القوانين
- فرض الضرائب
- مراقبة الوزراء

لاحظ خريطة أوروبا الصماء ثم نفذ المطلوب منك



س دولة نص دستورها عام 1791 م على بقاء الملكية تحمل على الخريطة الرقم 2

س دولة لقبث ثورتها بالمجيدة تحمل على الخريطة الرقم 1



U U L A

معلمة في الكويت
Kwwaitteacher.Com



إصلاحات الجمعية الوطنية

س عدد - إصلاحات الجمعية الوطنية

يمكن أن يظهر السؤال في صيغ أخرى:
 "فند" اقتضت إصلاحات الجمعية الوطنية على إصدار وثيقة الحقوق الفرنسية ودستور 1791 "دليل - لم تقتصر إصلاحات الجمعية الوطنية على إصدار وثيقة الحقوق الفرنسية ودستور 1791 م فقط

- إصلاح النظام الإداري
- إلغاء النظام القضائي القديم
- إصلاح النظام الضريبي والمالي
- إصلاح الكنيسة

أكمل العبارات التالية :

س الجمعية الوطنية قسمت فرنسا إلى محافظات جغرافية وليس على أساس طبي

س قامت الجمعية الوطنية بإلغاء النظام القضائي القديم وأصبح منصب القاضي انتخابياً

س فسر - قيام الجمعية الوطنية بمصادرة أملاك الكنيسة

- إصلاح الكنيسة
- الرغبة في الاستحواذ على ممتلكاتها لصالح الدولة
- المساهمة في حل الأزمة المالية

محاولة هروب الملك لويس السادس عشر

س أكمل : المدينة التي اكتشفت فيها شخصية الملك لويس 16 هي فاران

س عدد - النتائج المترتبة على محاولة فرار الملك لويس 16 الفاشلة

- أعيد ذليلاً إلى باريس
- كانت بداية النهاية للملكية
- أصبح سجين قصر التويلري
- كان لهذه الحادثة صدها داخل وخارج فرنسا

س أكمل : القصر الذي سجن فيه الملك لويس السادس عشر يسمى **التويلري** .

س كون فقرة باستخدام الكلمات التالية
(قصر التويلري - مدينة فاران - فرنسا - هروب لويس 16)

دبر الملك لويس 16 خطة للفرار من فرنسا مع زوجته ونجح في البداية ووصل إلى مدينة فاران حيث اكتشفت شخصيته فاعتقل هناك وأعيد ذليلاً إلى باريس فأصبح سجين قصر التويلري .

س فند العبارة
" كان قرار الجمعية الوطنية بامتناع اعضائها من ترشيح أنفسهم للجمعية التشريعية لصالح الثورة الفرنسية "

حرمت الجمعية الوطنية من زعامات لديها خبرة في الشؤون السياسية والاقتصادية والاجتماعية

س عدد - النتائج المترتبة على امتناع أعضاء الجمعية الوطنية من الترشح لانتخابات الجمعية التشريعية

- حرمان فرنسا من زعامات لديها خبرة في الشؤون السياسية والاقتصادية والاجتماعية
- فاز في انتخابات الجمعية التشريعية الكثير من الشباب وبينهم عدد من المثقفين وأصحاب الفكر الحر

إعلان بلننز والحرب ضد النمسا وبروسيا

س عرف - إعلان بلننز

هو إعلان مشترك بين القوات النمساوية والبروسية ضد الثورة الفرنسية

أكمل العبارات التالية :

س إعلان قامت به الملكيات الأوروبية متضامنة مع الملكية الفرنسية ضد الثورة الفرنسية يسمى **إعلان بلننز** .

س العام الميلادي الذي صدر فيه إعلان بلننز **1791 م** .

س إمبراطور النمسا الذي أيد إعلان بلننز اسمه **ليوبلد** .

س ملك بروسيا الذي أيد إعلان بلننز يسمى **فريدريك وليم الرابع** .

س إعلان تم بين امبراطوريتي النمسا وبروسيا عام 1791 م لإنقاذ الملكية الفرنسية يسمى **إعلان بلننز** .

س فسر - إصدار إعلان بلنتز عام 1791 م

لأن الامبراطور النمساوي ليوبلد قدم مقترحات إلى ملوك أوروبا يحثهم على القيام بعمل مشترك إزاء الموقف الداخلي في فرنسا وأيده في ذلك الامبراطور فريدريك وليم الرابع ملك بروسيا

س أكمل : قائد الجيش الفرنسي الذي هزم أمام القوات المشتركة يسمى **دموريه**

س فسر - هزيمة الجيش الفرنسي في عام 1792 م بسبب قلة الخبرة العسكرية للجيش الفرنسي الجديد



U U L A

معلمة
مفتوحة
معلمة
KuwaitTeacher.Com



معركة فالمي 1792 ومحاكمة الملك لويس 16

أكمل العبارات التالية :

س وقعت أحداث معركة فالمي في 26 أغسطس عام 1792 م.

س مدينة تعتبر هي مفتاح باريس تسمى **فردان**.

س علل - على الرغم من صغر حجم معركة فالمي إلا أنها تعد من أهم معارك التاريخ

ممكن أن يظهر السؤال في صيغ أخرى: (عدد نتائج معركة فالمي) - (فند - معركة فالمي ليس لها أهمية في تاريخ الثورة الفرنسية)

- أنقذت الثورة الفرنسية من الضياع
- حالت دون وقوع باريس
- ارتفاع الروح المعنوية عند الفرنسيين
- تحول جيش فرنسا من الدفاع للهجوم
- أصبح مصدر رعب للدول الأوروبية

س ماذا يحدث لو - لم تنتصر فرنسا في معركة فالمي

- ضياع الثورة الفرنسية
- وقوع باريس تحت الاحتلال
- لما تحول جيش فرنسا من حالة الدفاع إلى الهجوم
- لم يصبح مصدر رعب للدول الأوروبية

اختر الإجابة الصحيحة :

س معركة انتصر فيها الجيش الفرنسي على القوات المشتركة عام 1792 م :

- فالمي
- فردان
- السنين السبع
- المارن

س تم القبض على الملكيين وباقي الطبقة الأرستقراطية في فرنسا وقتلهم في السجون بدعوى الخيانة في :

- 26 أغسطس 1792 م
- 26 سبتمبر 1792 م
- 2 سبتمبر 1792 م
- 2 أكتوبر 1792 م



س اكتب مدلول الصورة المقابلة
استقبال شعبي لجيش الثورة

محاكمة الملك لويس السادس عشر

أكمل العبارات التالية :

س الجمعية التشريعية أخلت مكانها في يوم انتصار الفرنسيين في فالمي إلى
المؤتمر الوطني

س من أهم أعمال المؤتمر الوطني إعلان الجمهورية الفرنسية



س عدد - أهم أعمال المؤتمر الوطني

- إلغاء الملكية وإعلان الجمهورية الفرنسية
- محاكمة الملك لويس 16

أكمل العبارات التالية :

س ألغيت الملكية الفرنسية و إعلان الجمهورية
الفرنسية في 21 سبتمبر عام 1792 م

س نفذ حكم الإعدام ضد لويس السادس عشر في
يوم 21 يناير عام 1793 م



س الصورة المقابلة تمثل

المقصلة في ساحة الكونكورد

س الحزب الذي سيطر على قرارات المؤتمر
الوطني يسمى حزب اليعاقة

س عرف - حزب اليعاقة

هو حزب شديد التطرف ومعروف عنه العداء الشديد للملكية

س وازن بين نتائج إعدام الملك لويس 16 داخلياً وخارجياً

داخلياً	خارجياً
قيام الثورة المضادة	تشكيل التحالف الدولي الأول يضم كلا من إنجلترا وأسبانيا وبروسيا ضد الثورة الفرنسية 1793 م

س عرف - الثورة المضادة

ممكن أن يظهر السؤال في صيغة اخرى: أكمل

هم أصحاب تيار الملكية الدستورية

اختر الإجابة الصحيحة :

الدولة	م
إنجلترا	1
سويسرا	2
بروسيا	3
أسبانيا	4
البرتغال	5

س دول شاركت في التحالف الدولي الأول ضد فرنسا يمثلها في الجدول المقابل الأرقام :

(5 - 3 - 1)

(5 - 4 - 2)

(4 - 3 - 1)

(5 - 3 - 2)

س العام الميلادي الذي تم فيه تشكيل التحالف الدولي الأول ضد الثورة الفرنسية :

1795 م

1793 م

1796 م

1794 م

س الحدث التاريخي الذي أدى إلى اندلاع الثورة المضادة في فرنسا :

إصدار إعلان بلنزر

سقوط حصن الباستيل

المؤامرة الملكية ضد الجمعية الوطنية

إعدام الملك لويس السادس عشر



لجنة الأمن العام و حكومة الإدارة ودستور 1795 م

أكمل العبارات التالية :

س المؤتمر الوطني وافق على تشكيل لجنة الأمن العام في أبريل عام **1793 م**

س لجنة شكلها المؤتمر الوطني برئاسة دانتون تسمى **لجنة الأمن العام**

س زعيم فرنسي اقترن اسمه بعهد الإرهاب يسمى **دانتون**

س رئيس حزب اليعاقبة المتطرفين يسمى **دانتون**

س الحزب الفرنسي المعتدل المعارض لحزب اليعاقبة يسمى **حزب الجيرونديين**

س فرق بين كل مما يلي

حزب الجيرونديين	حزب اليعاقبة
حزب معتدل	حزب شديد العداء للملكية

س علل - سيطرة حزب اليعاقبة على قرارات المؤتمر الوطني رغم قلة عددهم

- لأنه حزب شديد التنظيم وذو اتصال قوي بالشعب
- كانت له اليد الطولى في إثارة الشعب الفرنسي

أكمل العبارات التالية :

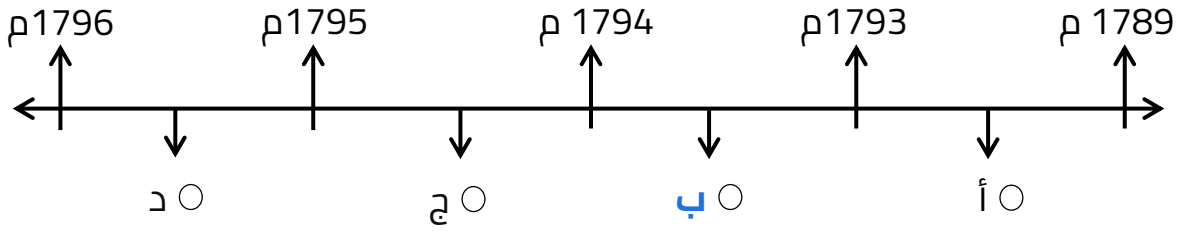
س جماعة سيطرت على قرارات المؤتمر الوطني عام 1792 م ذات أقلية شديدة واشتهرت بعداؤها الشديد للملكية تسمى **اليعاقبة**

س المحكمة التي قتلت مئات المواطنين دون محاكمة عادلة في فرنسا عام 1793 م تسمى **محكمة الثورة**

س عرف - عهد الإرهاب :

الفترة التي قتل فيها الكثير من المواطنين دون محاكمة حيث كانت توجه لهم تهمة الخيانة العظمى

س اختياري - عهد الارهاب على الخط الزمني يمثله الحرف :



س صف الأسماء التالية حسب الجدول :-
(روسو / نيكرو / دانتون / فولتير / ميرابو / منتيسكيو)

سياسيون	مفكرون
نيكرو	روسو
دانتون	فولتير
ميرابو	منتيسكيو

س ماذا يحدث لو - لم تعقد محكمة الثورة في فرنسا عام 1793 م

- لما قتل الكثير من المواطنين دون محاكمة
- لما تم توجيه تهمة الخيانة العظمى للمواطنين

حكومة الإدارة و صدور دستور 1795 م

س عرف - حكومة الإدارة

فترة انتقال من عهد الاضطرابات والثورات إلى فترة الحكم الديكتاتوري الفردي على يد نابليون بونابرت

س عدد - بنود دستور 1795 م

- إلغاء الملكية وإعلان الجمهورية
- السلطة التشريعية في يد مجلسين هما
- مجلس الخمسمائة: (500) له الحق في إصدار القوانين
- مجلس الشيوخ: (250) مراجعة ما يصدره مجلس الخمسمائة

أكمل العبارات التالية :

س عُرف دستور سنة 1795 م في فرنسا باسم دستور السنة الثالثة

س عدد أعضاء مجلس الخمسمائة في برلمان باريس عام 1795 م 500 عضو

س عدد أعضاء مجلس الشيوخ في برلمان باريس عام 1795 م 250 عضو

س يجدد لأعضاء مجلس الخمسمائة كل سنة في دستور 1795 م بنسبة الثلث

س عدد مجالس برلمان باريس في عام 1795 مجالسان

س مجلس في دستور عام 1795 م له الحق في إصدار القوانين يسمى مجلس الخمسمائة

س مجلس في دستور عام 1795 م يقوم بمراجعة القوانين التي قدمها مجلس الخمسمائة يسمى مجلس الشيوخ

س قارن بين كل من :

وجه المقارنة	دستور 1791 م	دستور 1795 م
نظام الحكم	ملكي	جمهوري
السلطة التشريعية	في يد الجمعية التشريعية : ▪ إصدار القوانين ▪ فرض الضرائب	في يد مجلسين هما : ▪ مجلس الخمسمائة (500) الحق في إصدار القوانين ▪ مجلس الشيوخ (250) مراجعة القوانين التي يصدرها مجلس الخمسمائة

س استعن بالكلمات التي أمامك مكوناً منها فقرة تاريخية مترابطة (حكومة الإدارة - نابليون بونابرت - دستور السنة الثالثة - إلغاء الملكية - إعلان الجمهورية - السلطة التشريعية - مجلس الخمسمائة - مجلس الشيوخ)

تعتبر حكومة الإدارة فترة انتقال من عهد الاضطرابات والثورات إلى فترة الحكم الفردي وكان الاتجاه هو تغيير الدستور الصادر سنة 1792 م إلى دستور الجديد عام 1795 م ونص على إلغاء الملكية وإعلان الجمهورية أما السلطة التشريعية فتتكون من مجلسين هما الخمسمائة والشيوخ



ظهور نابليون بونابرت وإصلاحاته

أكمل العبارات التالية :

س في بداية عهد حكومة الإدارة كانت جيوش الجمهورية الفرنسية قد تحولت إلى التوسع في قلب النمسا بقيادة الجنرالين مورو - **وجوردان** -



س القائد الفرنسي الذي قام بغزو إيطاليا يسمى **نابليون بونابرت** -

س دولة تعتبر هي أغنى ممتلكات النمسا هي **إيطاليا** -

س المعركة التي هزمت فيها النمسا وأجبرت على أثرها توقيع معاهدة كامبو فروميو اسمها **ريفولي** -

س العام الميلادي الذي وقعت فيه أحداث معركة ريفولي **1797م** -

س معاهدة أعطت لفرنسا مكاسب كبيرة وحققت لها الفخر والعزة تسمى **كامبو فروميو** -

س عدد - نتائج معاهدة كامبو فروميو

ممکن أن يظهر السؤال في صيغ أخرى: (علل - أهمية معاهدة كامبو فروميو) - (فند - لم تحقق معاهدة كامبو فروميو أي مكاسب للفرنسيين)

- أعطت فرنسا مكاسب كبيرة
- حققت لها الفخر والعزة
- الانتصار على العدو اللدود النمسا
- أصبح نابليون هو رجل فرنسا الأول

علل

س معاهدة كامبو فروميو حققت لفرنسا الفخر والعزة

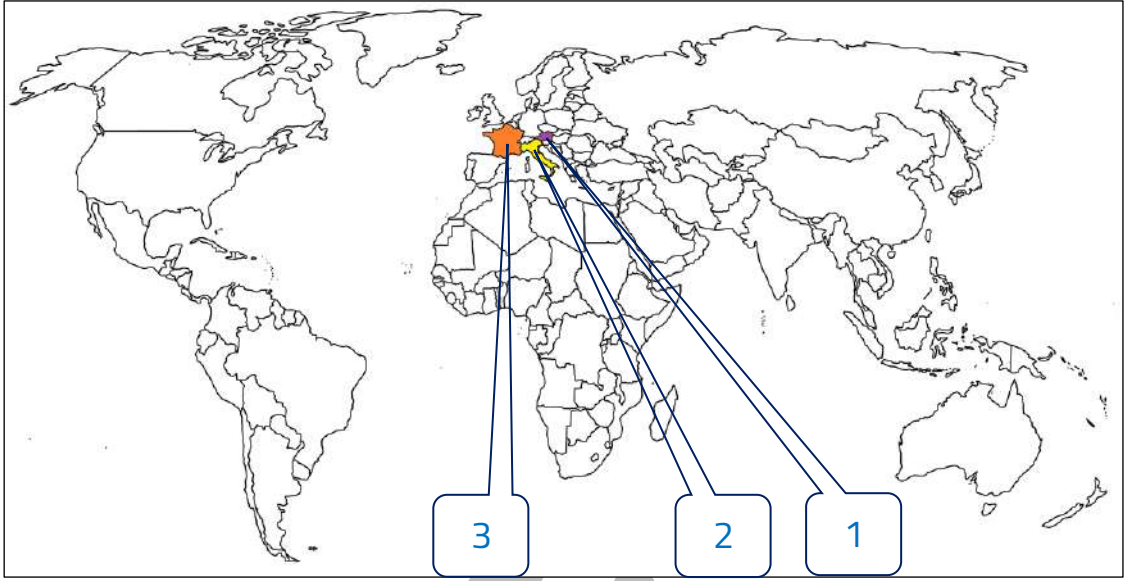
لأنها انتصرت على العدو اللدود النمسا

س أصبح نابليون هو رجل فرنسا الأول

- لأنه أعطاها مجدها بشكل لم تكن تتوقعه
- الشعب الفرنسي أبدى حماسة شديدة لقائده المظفر

Kuwaitteacher.Com

لاحظ الخريطة التالية ثم نفذ المطلوب منك :



س دولة شهدت أحداث معركة ريفولي الشهيرة في 14 يناير سنة 1797 م يمثلها الرقم **2** _

س الدولة التي ينتمي إليها القائد نابليون يمثلها الرقم **3** _

س الدولة التي تعتبر هي العدو الأول للثورة الفرنسية يمثلها الرقم **1** _

س أكمل : القائد الذي أعاد لفرنسا أمجادها ولقب بـ " رجل فرنسا الأول اسمه **نابليون بونابرت** _ _

س دلل - لعب قائد الجيش الفرنسي نابليون بونابرت دوراً كبيراً في استرجاع مجد فرنسا العظيم

- حقق انتصارات عظيمة وسريعة في عدة معارك ضد النمسا أهمها معركة ريفولي 1797 م
- أجبر النمسا على توقيع معاهدة كامبو فروميو التي أعطت فرنسا مكاسب كبيرة وحقت لفرنسا الفخر والعزة والانتصار على العدو اللدود النمسا

إصلاحات نابليون الداخلية زمن حكومة القناصل

س عدد - إصلاحات نابليون الداخلية زمن حكومة القناصل

- الإصلاح الإداري 1800 م
- إصدار القانون المدني 1804 م
- إصلاح أوضاع الكنيسة 1801 م
- إصلاح التعليم

أكمل العبارات التالية :



س الصورة المقابلة تمثل تنويج نابليون

س العام الميلادي الذي أصدر فيه نابليون قانون الإصلاح الإداري 1800 م

س دلل - اهتمام نابليون بالإصلاح الإداري (الإدارة)

- إصدار قانون عام 1800 م
- تبني التقسيم الإداري الذي أصدرته الجمعية الوطنية
- جعل الحكام يعينون من قبل القنصل الأول (نابليون)

أكمل العبارات التالية :

ممكن أن يظهر السؤال في صيغة أخرى: عرف

س العام الميلادي الذي صدر فيه القانون المدني 1804 م

س القائد الفرنسي الذي أصدر عام 1804 م قانون يحافظ على القيم والتقاليد القديمة اسمه **نابليون بونابرت**

س قانون يحافظ على القيم والتقاليد القديمة في مجال الأسرة والملكية الخاصة يسمى **القانون المدني (قانون نابليون)**

س وقع نابليون اتفاقاً بشأن مصادرة أملاك الكنيسة في 16 يوليو عام 1801 م

س البابا الذي وقع معه نابليون اتفاقاً بشأن مصادرة أملاك الكنيسة 1801 م يسمى **بيوس السابع**

س علل - توقيع نابليون اتفاقاً مع البابا بيوس السابع

- اعتراف فرنسا بالكنيسة الكاثوليكية وسيادتها الروحية
- مصادرة أملاك الكنيسة

س صمم جدولاً لاتفاقية عام 1801 م يحتوي على كلاً من الأطراف المتعاقدة والبنود

اتفاقية عام 1801 م	
الأطراف المتعاقدة	نابليون × البابا بيوس السابع
بنود الاتفاقية	<ul style="list-style-type: none">▪ اعتراف فرنسا بالكنيسة الكاثوليكية مقابل اعتراف البابا بقانون مصادرة أملاك الكنيسة▪ يتم تعيين رجال الدين بالتعاون بين البابوية والدولة الفرنسية

س دلل - اهتمام نابليون بوناپرت بالتعليم

ممكن أن يظهر السؤال في صيغة اخرى: (أكتب دور نابليون بوناپرت في التعليم)

- وضع مشروعا لتنظيم التعليم .
- أتاح التعليم للطبقات الفقيرة .
- عمل على مجانية التعليم .

لاحظ الصورة التي أمامك ثم أجب عما يلي :

س ما اسم صاحب الصورة

نابليون بوناپرت



س أذكر ثلاث من إصلاحاته الداخلية (مع الشرح)

- الإصلاح الإداري : أصدر نابليون قانون سنة 1800 م الذي تبنى التقسيم الإداري القديم الذي أصدرته الجمعية الوطنية
- القانون المدني : أصدر نابليون قانون يعرف بـ (قانون نابليون) في 1804 م حيث أعطى هذا القانون تشريعاً يحافظ على القيم والتقاليد القديمة في مجال الأسرة والملكية الخاصة
- إصلاح التعليم : وضع نابليون مشروعاً لتنظيم التعليم في كل أنحاء فرنسا والعمل على مجانية التعليم للفقراء وخاصة التعليم الثانوي وأتاح التعليم للطبقات الفقيرة



مقارنات بين الثورات

س ما هي أوجه الشبه بين الثورتين الإنجليزية والفرنسية

- قامتا ضد أنظمة مستبدة ملكية
- وضعتا أسس الديمقراطية السياسية من خلال وثيقة حقوق الإنسان

س ما هي أوجه الاختلاف بين الثورة الأمريكية والثورتين الإنجليزية والفرنسية

- الثورة الأمريكية قامت ضد مستعمر أجنبي
- اختلاف القارات

س ضع أسماء المجالس التالية في مكانها الصحيح حسب الجدول التالي
(طبقات الأمة - الكونجرس - اللوردات - العموم - الخمسمائة)

مجالس إنجليزية	مجالس فرنسية	مجالس أمريكية
اللوردات العموم	طبقات الأمة الخمسمائة	الكونجرس

س انسب العبارة في المجموعة (أ) إلى المفكر في المجموعة (ب)

الرقم	أ	الرقم المناسب	ب
1	انتقد بشدة القوانين الفرنسية الجائرة ونظام الضرائب	4	روسو
2	اعتقد بأن النظام الملكي البرلماني الإنجليزي هو النظام الملائم لفرنسا	3	جون لوك
3	نادى بأن كل فرد له حقوق طبيعية في الحياة والحرية والتملك	1	فولتير
4	أنكر أن يكون هناك حاكم مستبد يستمد سلطته من مصدر غير الأمة	-	ماكيافلي
		2	منتسكيو

س انسب السنوات التالية إلى الأحداث التاريخية التي تمثلها في الجدول
(1770 م – 1789 م – 1793 م – 1607 م)

السنة	الأحداث التاريخية
1789 م	سقوط حصن الباستيل
1793 م	إعدام لويس 16
1770 م	مذبحة بوسطن
1607 م	تأسيس مستعمرة جيمس تون

س اقرأ أسماء الشخصيات التالية بدقة ثم ضع الحرف المناسب لكل منها

- الحرف (أ) إذا كانت تخص الثورة الإنجليزية
- الحرف (ب) إذا كانت تخص الثورة الأمريكية
- الحرف (ج) إذا كانت تخص الثورة الفرنسية

م	الشخصيات	الحرف المناسب
1	ميرابو - دانتون - نيكر	ج
2	شارل الثاني - جيمس الثاني - وليم الثالث	أ
3	صاموئيل أدامز - لي - جورج واشنطن	ب

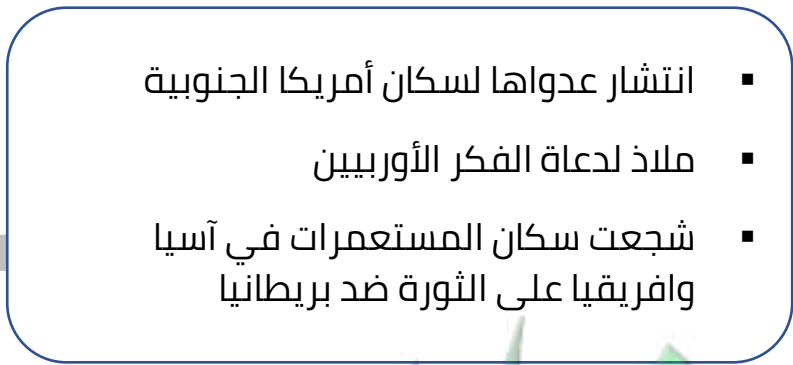
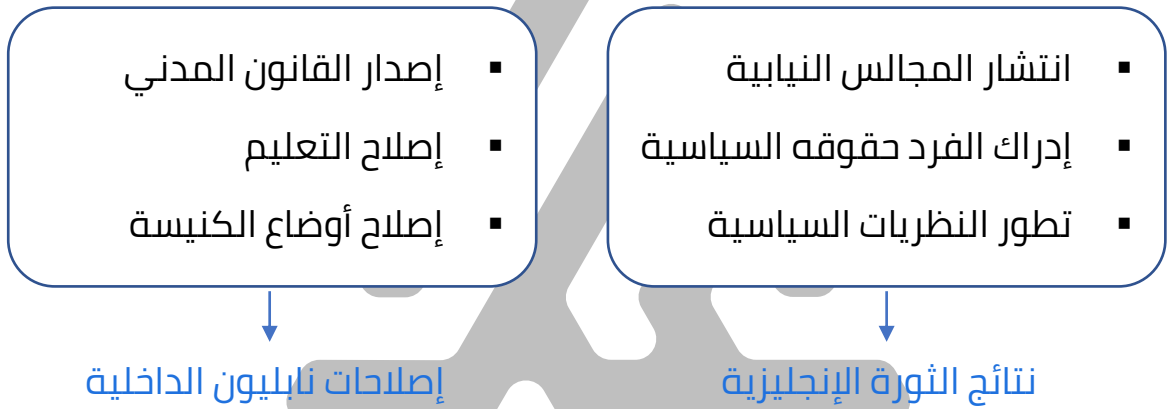
س صف المدن التالية حسب الأحداث الواردة في الجدول التالي :
(فردان - جيمس تاون - بوسطن - يورك تاون - فيلادلفيا - فلوريدا)





اسم المدينة	أعمال المدينة
بوسطن	المدينة الأمريكية التي خرجت منها صيحات المعارضة ضد القوانين الجائرة
فردان	مدينة فرنسية تسمى مفتاح باريس
فلوريدا	المستعمرة الأسبانية الوحيدة في أمريكا الشمالية
جيمس تاون	أول مستعمرة انجليزية تم تأسيسها في أمريكا الشمالية
يورك تاون	أهم مواقع الجيش الإنجليزي التي استولى عليها جورج واشنطن عام 1783 م
فيلادلفيا	المدينة التي عقد فيها مؤتمرين للكونجرس الأمريكي

س أمامك مجموعة من الأحداث التاريخية , صفها حسب الجدول التالي
 (التمثيل النيابي في مجلس العموم – صدور دستور 1791 م – إعلان بلننز –
 مؤتمر فيلادلفيا – قوانين سيئة السمعة – نظرية السيادة الشعبية)

الثورة الفرنسية	الثورة الأمريكية	الثورة الإنجليزية
صدر دستور 1791 م إعلان بلننز	مؤتمر فيلادلفيا قوانين سيئة السمعة	التمثيل النيابي في مجلس العموم نظرية السيادة الشعبية

س ضع عنواناً مناسباً للمخططات السهمية التالية :



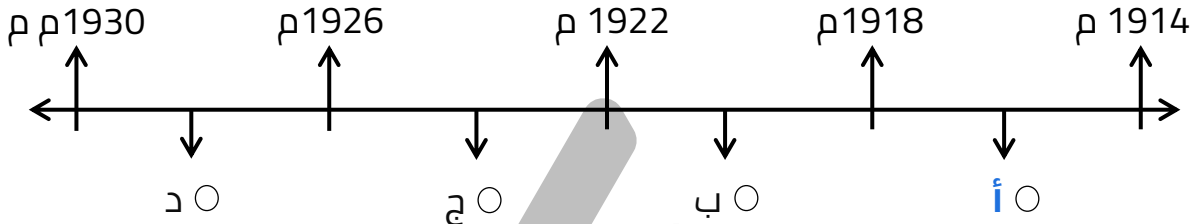





تدرب و تفوق
 اختبارات الكترونية



الهرب العالمية الأولى (1914م-1918م)

س اختر الإجابة الصحيحة - الفترة الزمنية التي تمثل الحرب العالمية الأولى يمثلها على المخطط الزمني الحرف :



س علل - انقسام العالم سياسياً في أواخر القرن التاسع عشر وبداية القرن العشرين

- بروز النزعة القومية
- تصادم الأيدولوجيات
- تضارب المصالح الاقتصادية
- سياسة التوسع للسيطرة على مناطق مختلفة من العالم
- السباق إلى التسلح

س عرف - الأيدولوجية :

هي نسق من الآراء والأفكار السياسية والقانونية والدينية والفلسفية

أوروبا والعلاقات الدولية في بداية القرن العشرين:

س فرق بين كل من

ممكن أن يظهر السؤال في صيغة أخرى: اكتب المصطلح التاريخي

الاتفاقيات الدولية	العلاقات الدولية
تشريعات يتفق عليها دولياً وتلتزم بها الدول المشاركة	هي الاتصال بين الدول والمنظمات الدولية

س علل -تعتبر القارة الأوروبية هي محور العلاقات الدولية

ممكن أن يظهر السؤال في صيغة أخرى: **دلل**

- وجود مركز الثورة الصناعية
- وفرة الموارد الاقتصادية
- النفوذ الاستعماري في جميع القارات
- نشوء الإمبراطوريات الكبرى

قيام الأتحاف والتكتلات في أوروبا :

س فسر - قيام الأتحاف والتكتلات في أوروبا
بسبب التنافس والصراع بين دول أوروبا

أكمل العبارات التالية :

ممكّن أن يظهر السؤال في صيغة اخرى: حدد على الخريطة

س الدولة التي اتبعت سياسة الأتحاف والتكتلات في أوروبا هي **ألمانيا**



س المستشار الألماني الذي اتبع سياسة الأتحاف والتكتلات في أوروبا
يسمى **بسمارك**

عصبة الأباطرة :

س عدد - الدول التي يتكون منها حلف عصبة الأباطرة
ألمانيا - النمسا - روسيا

س فسر - تحالف الاتحاد الألماني مع النمسا وروسيا فيما يعرف بعصبة الأباطرة
بسبب عمد بسمارك إلى عزل فرنسا عن العالم

مفتوحة للتعليم الإلكتروني
KuwaitTeacher.Com

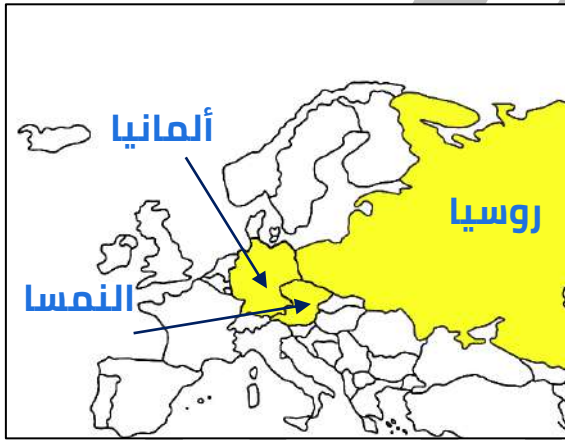
س أكمل : الدولة التي عمل بسمارك على عزلها عن العالم هي فرنسا



س علل - لم يدم تحالف عصبة الأباطرة لفترة طويلة بسبب خروج روسيا لخلافها مع النمسا 1878م

أكمل العبارات التالية :

ممكن أن يظهر السؤال في صيغة أخرى: عرف

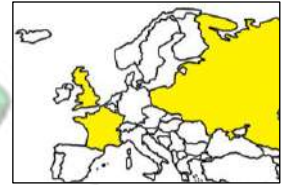
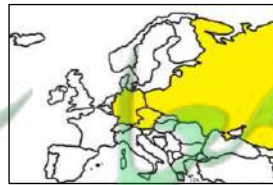
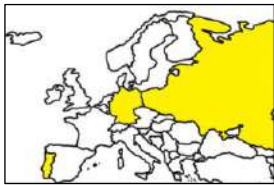


س التحالف الذي يضم كلا من روسيا والنمسا وألمانيا يسمى عصبة الأباطرة

س العام الميلادي الذي انسحبت فيه روسيا من تحالف عصبة الأباطرة هو 1878 م

س الدولة التي انسحبت روسيا بسببها من تحالف عصبة الأباطرة عام 1878 م هي النمسا

س الخريطة التي تمثل تحالف عصبة الأباطرة تحمل الحرف :



س التحالف الذي يضم كلاً من ألمانيا والنمسا وروسيا :

الحلف الثلاثي
 الوفاق الودي

عصبة الأباطرة
 الاتفاق الودي

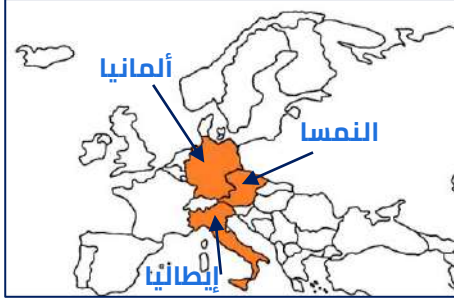


تدرب و تفوق
اختبارات الكترونية



س عرف - الحلف الثلاثي :

الحلف الذي يضم كلا من ألمانيا والنمسا وإيطاليا



س عدد - الدول التي يتكون منها الحلف الثلاثي

▪ ألمانيا ▪ النمسا ▪ إيطاليا

س فسر - تجديد التحالف بين ألمانيا والنمسا في الحلف الثلاثي

للقوف ضد روسيا

س علل - انضمام إيطاليا إلى جانب ألمانيا والنمسا للحلف الثلاثي

بسبب احتلال فرنسا لتونس

أكمل العبارات التالية :

س العام الميلادي الذي تم فيه تشكيل التحالف الثلاثي 1882 م

س الحلف الذي يضم كلا من ألمانيا والنمسا وإيطاليا يسمى الحلف الثلاثي

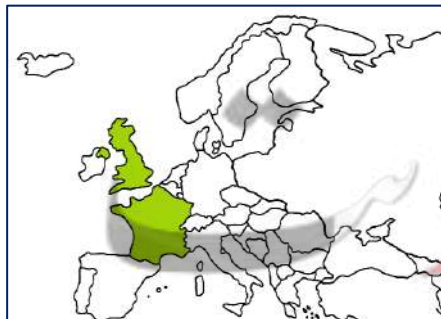
س الدولة التي انضمت للحلف الثلاثي عام 1882 م هي إيطاليا

س اختياري : الاتفاق الذي عقد عام 1882 م بين كل من ألمانيا والنمسا وإيطاليا :

الوفاق الودي
 الاتفاق الودي

الحلف الثلاثي
 معاهدة باريس

الاتفاق الودي 1904 م :



س عرف - الاتفاق الودي :

هو اتفاق تم بين بريطانيا وفرنسا في عام 1904 م

س عدد الدول التي يتكون منها الاتفاق الودي عام 1904 م

بريطانيا - فرنسا

أكمل العبارات التالية :

س العام الميلادي الذي تم فيه توقيع الاتفاق الودي بين بريطانيا وفرنسا 1904 م

س التحالف الذي يضم كلاً من بريطانيا وفرنسا في عام 1904 م يسمى الاتفاق الودي

س علل - التقارب البريطاني الفرنسي في الاتفاق الودي

- تقدم ألمانيا الصناعي
- نمو قوتها البحرية

الوفاق الودي :



س عدد - الدول التي يتكون منها الوفاق الودي

- بريطانيا
- فرنسا
- روسيا

أكمل العبارات التالية :

س التحالف الذي يضم كلا من بريطانيا وفرنسا وروسيا يسمى الوفاق الودي

س العام الميلادي الذي تم فيه توقيع الوفاق الودي 1907 م

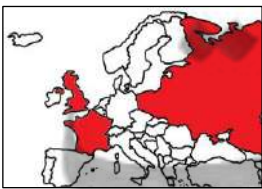
س علل - سعي فرنسا للتقريب بين بريطانيا وروسيا

لتسوية مناطق النفوذ في قارة آسيا

س عدد - مناطق النفوذ التي سعت فرنسا للتقريب بين بريطانيا وروسيا فيها

- إيران
- أفغانستان
- التبت

س اختياري : التكتل السياسي للدول التي شكلت الوفاق الودي تمثله الخريطة التي تحمل الحرف :



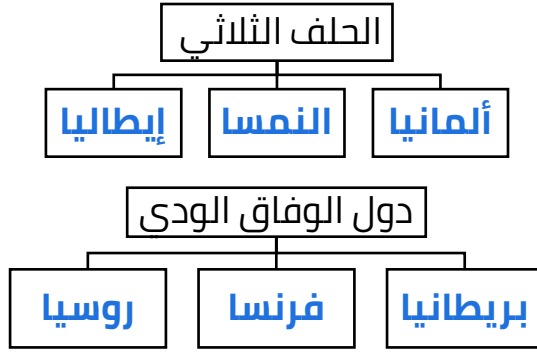
●

○

○

○

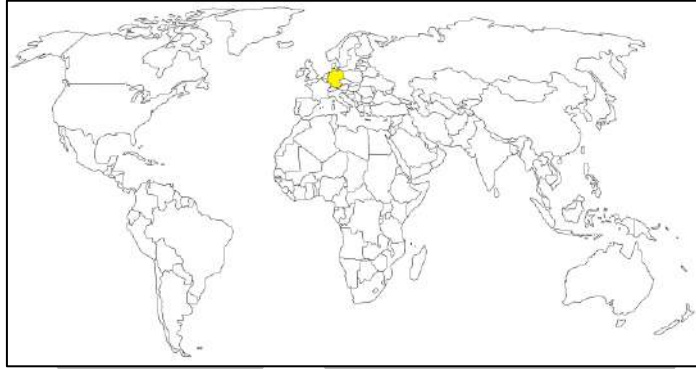
س أكمل الناقص في المخطط



التغير في موازين الأتحاف

س أكمل : الدولة التي عارضت الوفاق الودي هي ألمانيا

ممکن أن يظهر السؤال في صيغة اخرى: حدد على الخريطة



س علل - معارضة ألمانيا للوفاق الودي 1907م

لأنها شعرت بالخطر يحيط بها من الشرق والغرب

س علل - انقسمت أوروبا إلى مجموعتين متنافستين متسلحتين

- انسحاب إيطاليا من الحلف الثلاثي وانضمامها للوفاق الودي
- انضمام الدولة العثمانية إلى ألمانيا والنمسا

أكمل العبارات التالية :

س الدولة التي انسحبت من الحلف الثلاثي وانضمت للوفاق الودي هي إيطاليا

س الدولة التي انضمت إلى الحلف الثلاثي بعد انسحاب إيطاليا هي الدولة العثمانية



تدرب و تفوق
اختبارات الكترونية



الرب العالمفة الأولى

أسباب الرب العالمفة الأولى

س عدد - أسباب الرب العالمفة الأولى

- التنافس بفن الدول الأوروبية من أجل السيطرة على المواد الخام
- الصراع بفن دول أوروبا حول المستعمرات
- الخلاف حول ممتلكات الدولة العثمانفة (المسألة الشرقفة)

س عرف - المسألة الشرقفة

الخلاف حول ممتلكات الدولة العثمانفة فف أوروبا والنزاع العسكري حولها

س علل - فزافة التنافس بفن الدول الأوروبية

- السيطرة على المواد الخام
- جعل الأسواق لتصرف منتجاتها

س علل - الصراع بفن دول أوروبا حول المستعمرات فف آسفا وافرقففا والمحفب الهافف

بسبب التنافس الاقصادف

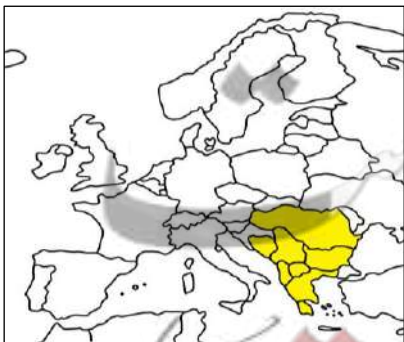
س علل - ظهور المسألة الشرقفة

ممكن أن يظهر السؤال فف صيغة أفرى:
علل - الخلاف حول ممتلكات الدولة العثمانفة فف أوروبا

بسبب الرب فف منطقة البلقان

س عرف - البلقان

مصطلح سفا سف فطلق على دول أوروبا الشرقفة مثل الفونان وبلغارفا وألبانفا



س أكمل : الخرففة المقابلة تمثل دول أوروبا الشرقفة وفطلق عليها اسم البلقان

س أكتب - السبب المباشر في الحرب العالمية الأولى

قيام طالب صربي باغتيال ولي عهد النمسا الأرشيدوق فرديناند وزوجته في مدينة سراييفو عاصمة البوسنة في 28 يونيو عام 1914 م

أكمل العبارات التالية :



س الصورة المقابلة تمثل .. **حادثة سراييفو** ..

س ولي عهد النمسا الذي اغتيل على يد طالب صربي يسمى .. **الأرشيدوق فرديناند** ..

س المدينة التي اغتيل فيها ولي عهد النمسا الأرشيدوق فرديناند تسمى .. **سراييفو** ..

س الدولة التي اغتيل فيها ولي عهد النمسا الأرشيدوق فرديناند هي .. **البوسنة** ..

س اغتيل ولي عهد النمسا وزوجته في مدينة سراييفو عاصمة البوسنة في 28 يونيو عام .. **1914 م** ..

س الدولة التي أرسلت إنذاراً إلى صربيا بسبب اغتيال ولي عهد النمسا تسمى .. **النمسا** ..



س عدد - أهم ما جاء في الإنذار النمساوي تجاه صربيا

- وقف المنظمات المعادية للنمسا
- طرد المسؤولين المعادين للنمسا
- قيام الشرطة النمساوية بتنفيذ ذلك

أكمل العبارات التالية :

س أعلنت النمسا الحرب على صربيا في 28 يوليو عام .. **1914 م** ..

س الدولة التي أعلنت الحرب على روسيا في 1- 8- 1914 م تسمى .. **ألمانيا** ..

س العام الميلادي الذي أعلنت فيه ألمانيا الحرب على روسيا .. **1914 م** ..

س الدولة التي رفضت طلب ألمانيا بالوقوف على الحياد في الحرب هي **فرنسا**

س أعلنت ألمانيا الحرب على فرنسا في 3 - 8 عام **1914 م**

س الدولة التي دخلت الحرب العالمية الأولى بسبب انتهاك ألمانيا حياد البلجيك هي **بريطانيا**

س دولة انتهكت حياد البلجيك فأعلنت بريطانيا الحرب عليها هي **ألمانيا**

س دخلت الدولة العثمانية الحرب بجانب ألمانيا في 29 أكتوبر عام **1914 م**

س الدولة التي دخلت الحرب العالمية الأولى ضد ألمانيا عام 1917 م تسمى **الولايات المتحدة**

س العام الميلادي الذي دخلت فيه الولايات المتحدة الحرب العالمية الأولى **1917 م**

س عدد الدول المشاركة في الحرب العالمية الأولى **33 دولة**

س علل - إعلان ألمانيا الحرب على روسيا في عام 1914 م
بسبب حشد جيشها على الحدود

س علل - إعلان ألمانيا الحرب على فرنسا في 3-8-1914 م
بسبب رفض فرنسا طلب ألمانيا بالوقوف على الحياد

س ماذا يحدث لو - لم تنتهك ألمانيا حياد البلجيك عام 1914 م
لما أعلنت بريطانيا الحرب على ألمانيا

س فرق بين:

ممكن أن يظهر السؤال في صيغة اخرى: **علل**

سبب دخول إنجلترا الحرب العالمية الأولى	سبب دخول أمريكا الحرب العالمية الأولى
بسبب انتهاك ألمانيا حياد البلجيك	بسبب مهاجمة الغواصات الألمانية للسفن التجارية الأمريكية



تدرب و تفوق
اختبارات الكترونية

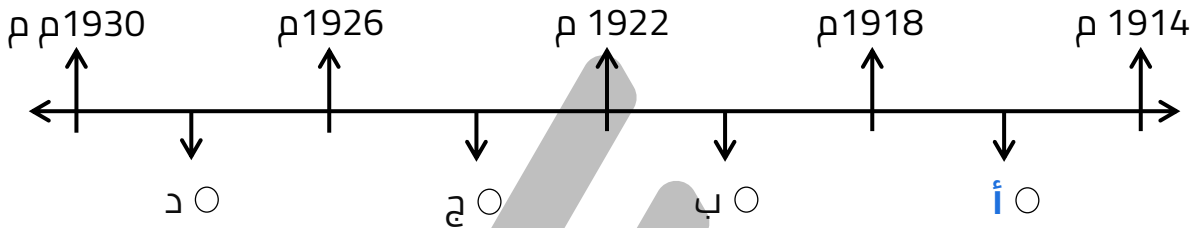


الحرب العالمية الأولى

أحداث الحرب العالمية الأولى

اختر الإجابة الصحيحة :

س أحداث الحرب العالمية الأولى يمثلها على المخطط الزمني الحرف :



س مراحل أحداث الحرب العالمية الأولى :

- مرحلتين
- أربع مراحل
- ثلاث مراحل
- خمس مراحل

س أكتب فيما درست (المرحلة الأولى في الحرب العالمية الأولى)

ممكن أن يظهر السؤال في صيغة أخرى: عدد - أحداث المرحلة الأولى في الحرب العالمية الأولى

- انحصار الحرب داخل قارة أوروبا
- اجتياح ألمانيا بلجيكا وشمال فرنسا
- نجاح الحلفاء في إيقاف زحف الألمان على باريس في معركة المارن الأولى 1914 م

س أكمل: القارة التي انحصرت فيها الحرب العالمية الأولى في المرحلة الأولى تسمى أوروبا

اختر الإجابة الصحيحة :

س معركة تمكن فيها الحلفاء من وقف الزحف الألماني على باريس عام 1914 م :

- العلمين
- المارن الأولى
- فردان
- النورماندي

س العام الميلادي الذي وقعت فيه المعركة الأولى :

- 1914 م
- 1916 م
- 1915 م
- 1917 م

س عرف - المارن :

ممكن أن يظهر السؤال في صيغة اخرى: **أكمل** **مصطلح**

نهر يجري في فرنسا دارت عليه أحداث معركتين حاسمتين



س **أكمل** : الدولة المظللة على الخريطة
المقابلة تمثل دولة يمر فيها نهر
المارن تسمى **فرنسا**

س عرف - المارن الأولى :

نجاح الحلفاء في إيقاف زحف الألمان على باريس عام 1914 م

أكمل العبارات التالية :

س عرفت المرحلة الثانية من الحرب العالمية الأولى باسم **حرب الخنادق**

س مرحلة من مراحل الحرب العالمية الأولى عرفت باسم حرب الخنادق تسمى **المرحلة الثانية**

س عدد - أهم أحداث المرحلة الثانية من الحرب العالمية الأولى

ممكن أن يظهر السؤال في صيغة اخرى:
أكتب فيما درست (المرحلة الثانية في الحرب العالمية الأولى - أحداث حرب الخنادق)

- دخول الدولة العثمانية الحرب بجوار ألمانيا
- انتصار الحلفاء في معركة فردان 1916 م

أكمل العبارات التالية :

س معركة انتصر فيها الحلفاء عام 1916 م في الحرب العالمية الأولى تسمى **فردان**

س العام الميلادي الذي انتصر فيه الحلفاء في معركة فردان هو **1916 م**

س أكتب فيما درست ما تعرفه عن المرحلة الثالثة في الحرب العالمية الأولى

- انسحاب روسيا من الحرب 1917 م
- دخول أمريكا الحرب العالمية الأولى 1917 م
- هزيمة الألمان في معركة المارن الثانية 1918 م وانتهاء الحرب

س **أكمل** : المعركة التي أنهت الحرب العالمية الأولى عام 1918 م تسمى **المارن الثانية**

س عرف - المارن الثانية :

شن الحلفاء هجوم معاكس أدى إلى إنزال الهزيمة بالألمان في عام 1918 م

س حدد - على خريطة العالم :

الدولة التي انسحبت من الحرب العالمية الأولى عام 1917 م



س علل - انسحاب روسيا من الحرب العالمية الأولى عام 1917 م

بسبب قيام الثورة الشيوعية في روسيا

س علل- دخول الولايات المتحدة الحرب العالمية الأولى عام 1917 م

بسبب حرب الغواصات الألمانية ضد السفن الأمريكية

س فرق بين كل من :

المارن الثانية	المارن الأولى
1918 : شن الحلفاء هجوم معاكس أدى إلى إنزال الهزيمة بالألمان	1914 : نجاح الحلفاء في إيقاف زحف الألمان على باريس

اختر الإجابة الصحيحة :

س أولى معارك الحرب العالمية الأولى تسمى :

○ المارن الأولى ○ المارن الثانية ○ حرب الخنادق ○ فردان

س معركة أنهت الحرب العالمية الأولى تسمى

○ المارن الأولى ○ المارن الثانية ○ حرب الخنادق ○ فردان



تدرب و تفوق

اختبارات الكترونية



نهاية الحرب ومؤتمر الصلح فرساي 1919 م

أكمل العبارات التالية :

س العام الميلادي الذي انتهت فيه الحرب العالمية الأولى بهزيمة ألمانيا وحلفائها هو 1918 م

س الغابة التي اعترفت فيها ألمانيا بالهزيمة في الحرب العالمية الأولى تسمى كومبيين

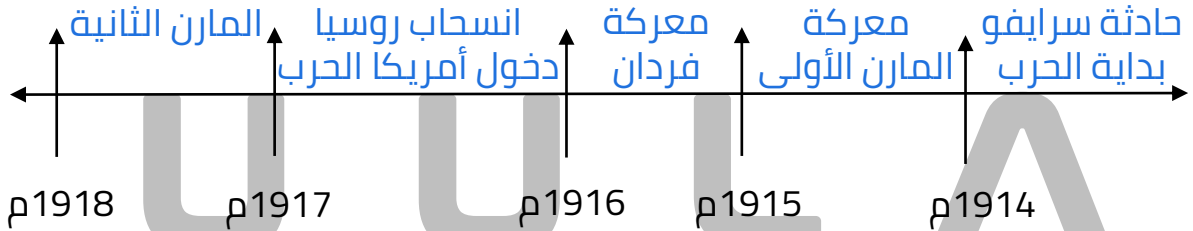


س الصورة المقابلة تمثل عقد الهدنة عام 1918 م

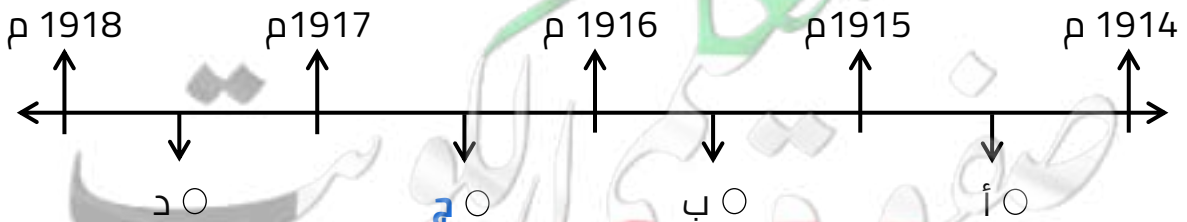
س اختياري: تقع غابة كومبيين بالنسبة لفرنسا في جهة :

○ الشمال ○ الجنوب ○ الشرق ○ الغرب

س أكمل المخطط السهمي التالي :



س اختياري: الفترة الزمنية التي شهدت انسحاب روسيا من الحرب ودخول الولايات المتحدة تمثل على المخطط الزمني الحرف :



نتائج الحرب العالمية الأولى

س عدد - نتائج الحرب العالمية الأولى

- تركت الحرب دمار هائل
- خسائر مادية وبشرية
- سقوط ملايين من القتلى والجرحى
- ركود اقتصادي
- تغيير جذري في خريطة أوروبا السياسية

س دلل - تركت الحرب العالمية الأولى دمار هائل

- خسائر مادية وبشرية
- سقوط ملايين من القتلى والجرحى
- ركود اقتصادي
- تغيير جذري في خريطة أوروبا السياسية

مؤتمر الصلح فرساي عام 1919 م

س عرف - فرساي :

يمكن أن يظهر السؤال في صيغة اخرى: **أكمل**

إحدى ضواحي مدينة باريس وفيها قصر فرساي الشهير

س أكمل : العام الميلادي الذي عقد فيه مؤتمر الصلح فرساي
----- 1919 م -----

س عدد - الدول التي دعت لعقد مؤتمر الصلح فرساي عام 1919 م

يمكن أن يظهر السؤال في صيغة اخرى: عدد الدول المنتصرة في الحرب العالمية الأولى

- فرنسا
- بريطانيا
- الولايات المتحدة

س أكمل : أقسى مقررات مؤتمر فرساي استدعاء وفد لتوقيعه معاهدة إذلال يسمى **الوفد الألماني**

س علل - أقسى مقررات مؤتمر فرساي استدعاء الوفد الألماني

لإجباره على توقيع معاهدة إذلال

KuwaitTeacher.Com

ممکن أن يظهر السؤال في صيغة اخرى: أذكر النتائج المترتبة على مؤتمرات الصلح التي عقدها الدول المنتصرة بعد الحرب العالمية الأولى

- تفكك إمبراطوريات عريقة وظهور دول قومية جديدة في أوروبا
- تحمل ألمانيا مسؤولية الحرب وفرضت عليها تعويضات مالية
- تخفيض عدد الجيش الألماني ومنعها من تصنيع الأسلحة
- اقتطاع أجزاء من ألمانيا وضمها لدول أخرى
- وضع إقليم السار تحت الإدارة الدولية

س فند - لاقت بنود مؤتمر فرساي قبولاً عند الشعب الألماني

- تفكك إمبراطوريات عريقة وظهور دول قومية جديدة في أوروبا
- تحمل ألمانيا مسؤولية الحرب وفرضت عليها تعويضات مالية
- تخفيض عدد الجيش الألماني ومنعها من تصنيع الأسلحة
- اقتطاع أجزاء من ألمانيا وضمها لدول أخرى
- وضع إقليم السار تحت الإدارة الدولية

س عدد - الامبراطوريات التي تفككت بعد الحرب العالمية الأولى

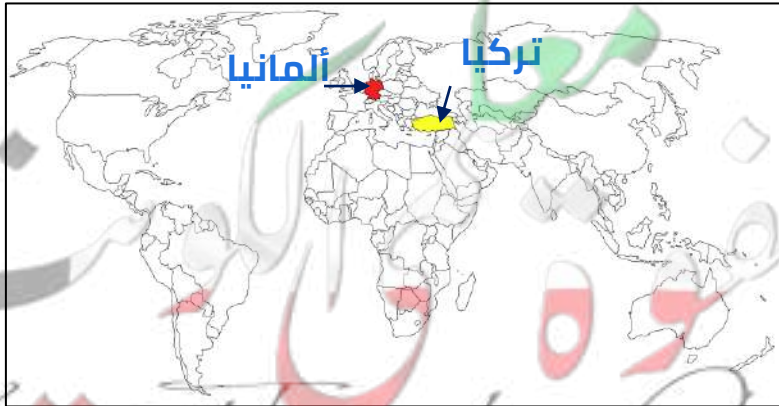
- الألمانية
- النمسا
- الروسية
- الدولة العثمانية

أكمل :

ممکن أن يظهر السؤال في صيغة اخرى: حدد على الخريطة

س امبراطورية إسلامية تفككت بعد الحرب العالمية الأولى تسمى الدولة العثمانية

س دولة أوروبية هزمت في الحرب العالمية الأولى وتحملت مسؤولية الحرب تسمى ألمانيا



س عدد - الدول القومية الجديدة التي ظهرت بعد الحرب العالمية الأولى

- بولندا
- تشيكوسلوفاكيا
- يوغسلافيا
- المجر

س هل حقق مؤتمر فرنسا 1919 م السلام الذي تطلعت إليه شعوب أوروبا والعالم
لم يحقق السلام الذي تطلعت إليه شعوب العالم والدليل قيام الحرب العالمية
الثانية



تدرب و تفوق
اختبارات الكترونية

U U L A A

معلمة في الكويت
Kuwaitteacher.Com



التطورات الدولية فيما بين الحربين (1919 – 1939 م)

عصبة الأمم

س عدد - التطورات الدولية فيما بين الحربين العالميتين

- إنشاء عصبة الأمم
- الأزمة الاقتصادية العالمية
- ظهور الأنظمة الديكتاتورية وتراجع الديمقراطية

أكمل العبارات التالية :

س الرئيس الأمريكي الذي حضر مؤتمر الصلح في باريس عام 1919 م يسمى **ولسن**

س الرئيس الأمريكي صاحب فكرة إنشاء عصبة الأمم يسمى **ولسن**

س العام الميلادي الذي صدر فيه عهد عصبة الأمم **1919 م**

س علل - لقيت فكرة إنشاء عصبة الأمم تأييد من المصلحين والمفكرين بسبب المآسي التي عانى منها العالم عامة وأوروبا خاصة بعد الحروب

أكمل العبارات التالية :

س تمت صياغة الميثاق الدولي في عام 1919 م في شهر **فبراير**

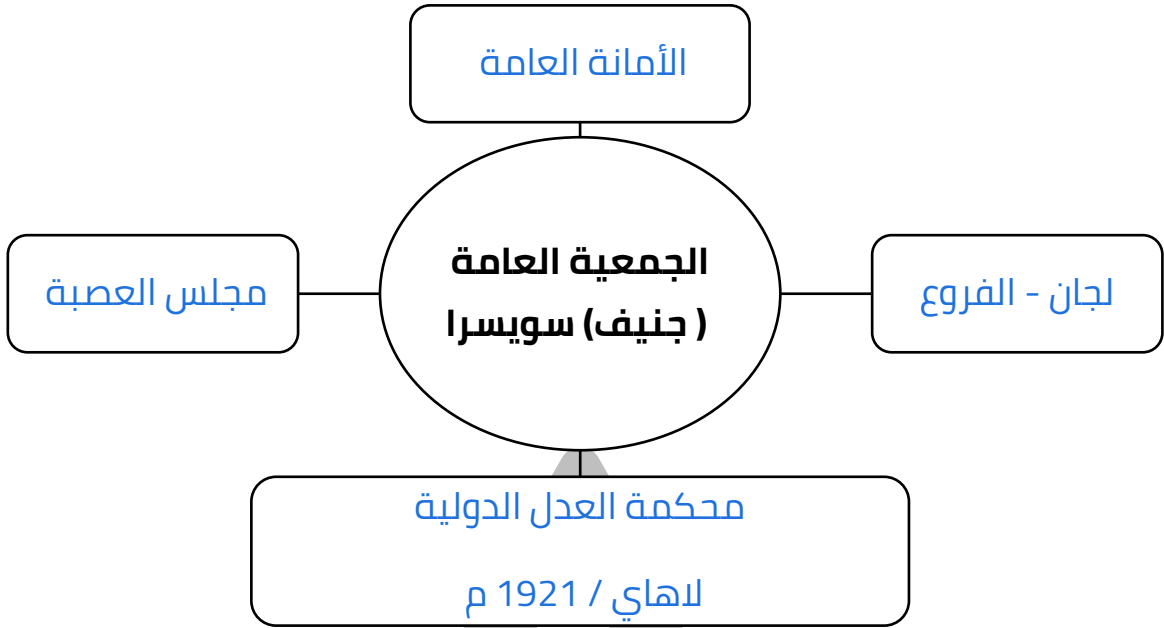
س عرف الميثاق الدولي الذي صُيغ في عام 1919 م باسم **عهد عصبة الأمم**

س عدد - أهداف عصبة الأمم

- إطلال السلام والأمن بين الدول
- توثيق التعاون الدولي في كافة الميادين

مفوضية الكويت
KuwaitTeacher.Com

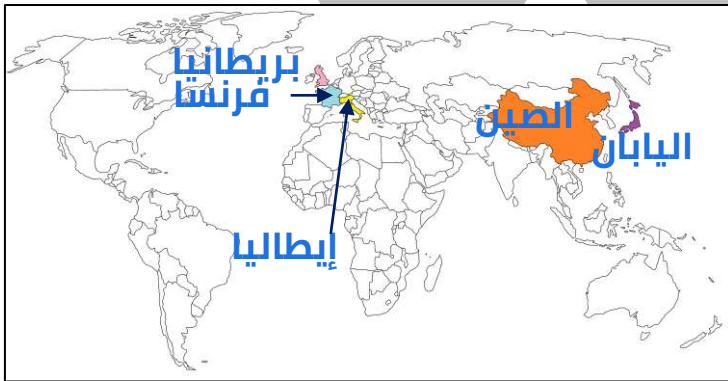
س أكمل المخطط السهمي التالي



س عدد - الفروع واللجان التابعة للجمعية العامة لعصبة الأمم

- نزع السلاح
- الانتداب
- مكتب العمل الدولي

س عدد - الدول التي يتكون منها مجلس عصبة الأمم



- بريطانيا
- فرنسا
- إيطاليا
- اليابان
- الصين

أكمل العبارات التالية :

س العام الميلادي الذي أنشأت فيه محكمة العدل الدولية 1921 م

س المدينة التي يوجد بها مقر محكمة العدل الدولية تسمى لاهاي

س الدولة التي يوجد بها مقر محكمة العدل الدولية تسمى هولندا

اختر الإجابة الصحيحة :

س المدينة التي يوجد بها مقر الجمعية العامة لعصبة الأمم :-

- جنيف ○ نيويورك ○ بوسطن ○ زيورخ

س عدد الدول التي يتكون منها مجلس عصبة الأمم :

- ثلاث دول ○ أربع دول ○ خمسة دول ○ ست دول

س دولة ليست عضوة في مجلس عصبة الأمم هي :

- الولايات المتحدة ○ إيطاليا ○ اليابان ○ الصين

س علل - نجاح عصبة الأمم في البداية وفشلها أمام قضايا الدول الكبيرة

ممكن أن يظهر السؤال في صيغ أخرى:
علل - عجز عصبة الأمم في حل القضايا التي كانت الدول الكبرى طرفاً فيها
فسر " فشل عصبة الأمم كمنظمة دولية "
فسر - فشل أهداف عصبة الأمم التي أنشأت من أجلها

- عدم التزام الدول الكبرى بميثاق عصبة الأمم
- عدم وجود قوة عسكرية قادرة على تنفيذ قراراتها
- عدم مشاركة الولايات المتحدة

س ما النتائج المترتبة على عدم وجود قوة عسكرية لعصبة الأمم قادرة على تنفيذ قراراتها

- أصبحت أداة لمصلحة الدول الكبرى
- انهيار المنظمة

أكمل العبارات التالية :

ممكن أن يظهر السؤال في صيغة أخرى: حدد على الخريطة

س دولة لم تشارك في عضوية مجلس عصبة الأمم على الرغم من أنها صاحبة الفكرة تسمى الولايات المتحدة - -



س دولة لم تشارك في عضوية مجلس عصبة الأمم على الرغم من أنها صاحبة الفكرة تحمل على الخريطة الحرف ب - - -

س دلي - عدم التزام الدول الكبرى بميثاق عصبة الأمم

ممكن أن يظهر السؤال في صيغ أخرى: فند - التزمت الدول الكبرى بميثاق عصبة الأمم

- هجوم اليابان على إقليم منشوريا في الصين
- هاجمت إيطاليا الحبشة
- ضم ألمانيا للنمسا وتشيكوسلوفاكيا وبولندا

أكمل العبارات التالية :

س الدولة التي هاجمت منشوريا في الصين تسمى اليابان .

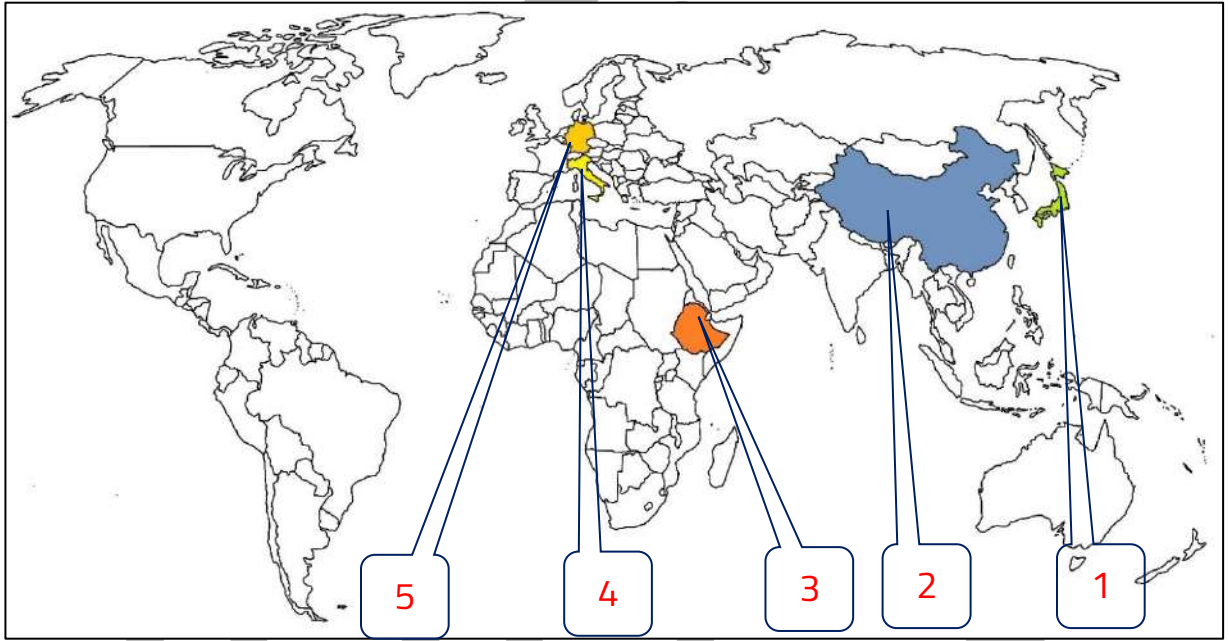
س المنطقة التي هاجمتها اليابان في الصين تسمى منشوريا .

س الدولة الأوروبية التي هاجمت الحبشة تسمى إيطاليا .

س الدولة الأفريقية التي وقعت تحت الاحتلال الإيطالي تسمى الحبشة (إثيوبيا) .

س الدولة التي قامت بضم النمسا وتشيكوسلوفاكيا وهاجمت بولندا تسمى ألمانيا .

لاحظ خريطة العالم ثم نفذ المطلوب منك :



س الدولة التي هاجمت منشوريا في الصين تحمل على الخريطة الرقم 1 .

س الدولة الأفريقية التي وقعت تحت الاحتلال الإيطالي تحمل على الخريطة الرقم 3 .

س الدولة التي قامت بضم النمسا وتشيكوسلوفاكيا وهاجمت بولندا تحمل على الخريطة الرقم 5 .

س الدولة الأوروبية التي هاجمت الحبشة تحمل على الخريطة الرقم 4 .

س المنطقة التي هاجمتها اليابان في الصين تحمل على الخريطة الرقم 2 .



س عدد - الدول التي قامت بضمها ألمانيا
في الفترة ما بين 1919 - 1939 م

- النمسا
- تشيكوسلوفاكيا

س أكمل : الدولة التي قامت ألمانيا بمهاجمتها في عام 1939 م تسمى
__بولندا__



تدرب و تفوق
اختبارات الكترونية

U U L A

معلمة في الكويت
Kwwaitteacher.Com

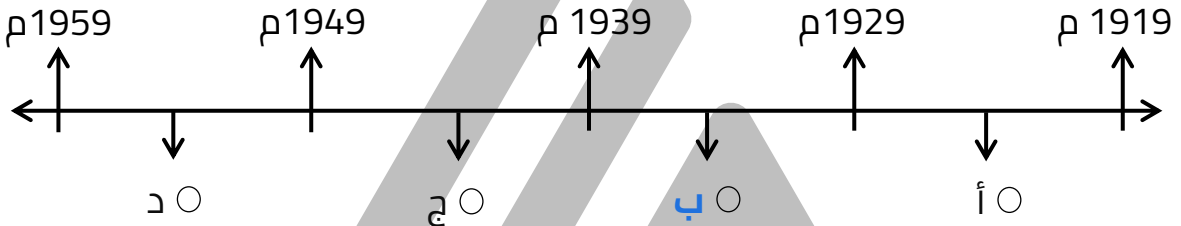


التطورات الدولية فيما بين الحربين (1919 – 1939 م)

الأزمة الاقتصادية العالمية عام 1929م

س أكمل : من أبرز النتائج الاقتصادية للحرب العالمية الأولى
-- **الكساد الاقتصادي العالمي** --

س اختياري: الفترة الزمنية التي حدثت فيها الأزمة الاقتصادية العالمية يمثلها على
المخطط الزمني الحرف :



س علل - الكساد الاقتصادي العالمي أدى إلى انهيار الاقتصاد في الدول المنتصرة
والمهزومة في الحرب العالمية الأولى

ممكن أن يظهر السؤال في صيغة أخرى: ما تفسيرك - عانت الدول المنتصرة والدول المهزومة في الحرب
العالمية الأولى من الكساد الاقتصادي العالمي

- الدول المنتصرة أصبحت مدينة للولايات المتحدة الأمريكية
- الدول المهزومة لم تستطيع تسديد الديون والتعويضات المفروضة عليها
في معاهدة الصلح

س أكمل : الدولة التي حافظت على استقرار اقتصادها أثناء الحرب العالمية الأولى
وبعدها تسمى **الولايات المتحدة الأمريكية**

س فسر العبارة التالية
" محافظة الاقتصاد الأمريكي على استقراره بعد الحرب "

- أنها دخلت الحرب في وقت متأخر
- أراضيها لم تتعرض للدمار

س قارن بين كل من : نتائج الأزمة الاقتصادية بالنسبة لكلا من

الدول المهزومة	الدول المنتصرة	الولايات المتحدة الأمريكية
لم تستطيع تسديد الديون والتعويضات المفروضة عليها	أصبحت مدينة للولايات المتحدة الأمريكية	حافظ اقتصادها على استقراره بعد الحرب فقامت بمساعدة الدول الأوروبية عن طريق تقديم القروض وتمويل المشاريع

أزمة وول ستريت

س عرف - وول ستريت

انهيار بورصة نيويورك أو سوق الأوراق المالية في نيويورك

س أكمل : العام الميلادي الذي حدث فيه أزمة وول ستريت _____ **1929 م** _____

س عدد - النتائج المترتبة على انهيار سوق الأوراق المالية في نيويورك

ممکن أن يظهر السؤال في صيغ أخرى:
فند - لا يجوز وصف ما حدث لبورصة نيويورك (وول ستريت) عام 1929 م بأزمة "
فند - لم يؤثر انهيار سوق الأوراق المالية عام 1929 م على التجارة الخارجية والإنتاج العالمي

- إفلاس البنوك والمؤسسات
- انخفاض الأسعار في الولايات المتحدة
- وقف التطور الاقتصادي الأوروبي
- إغلاق المصانع وانتشار البطالة في أوروبا
- انهيار البنوك والمؤسسات الأوروبية
- تراجع التجارة الخارجية والإنتاج العالمي

س ماذا يحدث لو " لم يسقط سوق الأوراق المالية في مدينة نيويورك عام 1929 م "

- لما أفلست الكثير من البنوك
- لما انخفضت الأسعار في الولايات المتحدة
- لما أغلقت أوروبا المصانع
- لما انتشرت البطالة في أوروبا
- استمرار التطور الاقتصادي الأوروبي

س فرق بين نتائج الازمة الاقتصادية بالنسبة لكل من:

بالنسبة للعالم	بالنسبة لأوروبا	بالنسبة للولايات المتحدة
<ul style="list-style-type: none">انتشار آثار الأزمة في كافة أنحاء العالمتراجع التجارة الخارجية والإنتاج العالمي	<ul style="list-style-type: none">وقف التطور الاقتصادي الأوروبيإغلاق المصانع وانتشار البطالة في أوروباانهيار البنوك والمؤسسات الأوروبية	<ul style="list-style-type: none">إفلاس البنوك والمؤسساتانخفاض الأسعار في الولايات المتحدة

مشروع روزفلت لإصلاح الاقتصاد الأمريكي

أكمل العبارات التالية :

س الرئيس الأمريكي الذي تبنى سياسة اقتصادية جديدة لإصلاح الاقتصاد الأمريكي يسمى **فرانكلين روزفلت** .

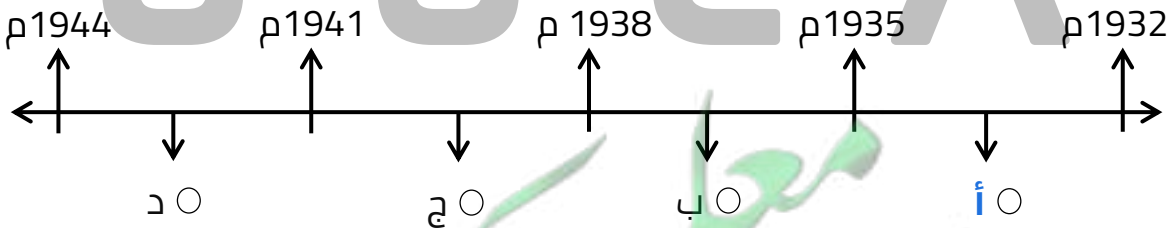
س المشروع الذي قدمه روزفلت لإصلاح الاقتصاد الأمريكي يعرف باسم **النظام الجديد** .

س عرف - النظام الجديد :

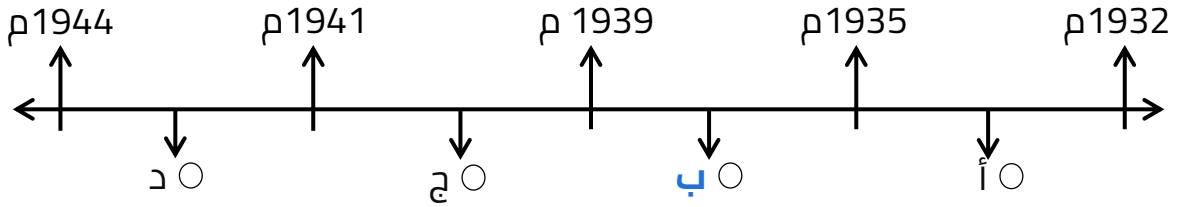
مشروع تبناه الرئيس الأمريكي روزفلت يقوم على الدخول في مشاريع كبرى بهدف تشغيل العمال لحل مشكلة البطالة والتوسع في المشاريع الإنمائية

اختر الإجابة الصحيحة :

س مشروع first new deal تبناه الرئيس الأمريكي روزفلت لإصلاح الاقتصاد الأمريكي يمثله على المخطط الزمني الحرف



س مشروع second new deal تبناه الرئيس الأمريكي لإصلاح الاقتصاد الأمريكي في الفترة :



س أكتب ما تعرفه عن مشروع النظام الجديد

يمكن أن يظهر السؤال في صيغة أخرى:
أكتب دور روزفلت في إصلاح الاقتصاد الأمريكي بين الحربين العالميتين

- الدخول في مشاريع كبرى بهدف تشغيل العمال لحل مشكلة البطالة
- التوسع في المشاريع الإنمائية
- تحويل النظام الاقتصادي من الرأسمالي الحر إلى الرأسمالي الموجه
- إعادة الثقة في قطاع البنوك

س علل - تبني الرئيس روزفلت دخول الولايات المتحدة في مشاريع كبرى
تشغيل أكبر عدد من العمال لحل مشكلة البطالة

أكمل العبارات التالية :

س النظام الاقتصادي التي كانت تتبعه الولايات المتحدة قبل عام 1929 م يسمى
الرأسمالي الحر

س النظام الاقتصادي الذي اتبعته الولايات المتحدة بعد أزمة وول ستريت يسمى
الرأسمالي الموجه

س دلل - تحول الاقتصاد الأمريكي من الرأسمالي الحر إلى الرأسمالي الموجه في
ظل الأزمة العالمية

يمكن أن يظهر السؤال في صيغة أخرى:
دلل - خروج روزفلت عن السياسة الاقتصادية التي كانت تسير عليها بلاده قبل أزمة وول ستريت

- دخول الولايات المتحدة في مشاريع كبرى
- التوسع في المشاريع الإنمائية

مفتوحة الكويت
KuwaitTeacher.Com

س أكتب فقرة مترابطة من ثلاثة أسطر مستعيناً بالكلمات الآتية
(الكساد الاقتصادي-بورصة نيويورك - النظام الجديد -الاقتصاد الرأسمالي الحر)

كان من أبرز النتائج الاقتصادية للحرب العالمية الأولى انهيار بورصة نيويورك
فترتب عليها إفلاس الكثير من البنوك والمؤسسات فتبنى الرئيس الأمريكي
روزفلت سياسة اقتصادية جديدة عرفت باسم النظام الجديد خرج بها عن الاقتصاد
الرأسمالي الحر إلى الاقتصاد الموجه .



تدرب و تفوق
اختبارات الكترونية

U U L A

معاً
قفوة
KuwaitTeacher.Com



ظهور الأنظمة الديكتاتورية (الشيوعية في روسيا)

س عدد - أهم آثار الأزمة الاقتصادية العالمية

- اتباع كثير من الدول للاقتصاد الموجه
- نمو الشعور القومي إلى حد التطرف

س عدد - النتائج المترتبة على نمو الشعور القومي بعد الأزمة الاقتصادية

- ساعد على قيام أنظمة ديكتاتورية
- اعتماد الأنظمة الديكتاتورية على سياسة التوسع كحل لمشاكلها الاقتصادية

س عدد - الأنظمة الديكتاتورية التي ظهرت في العالم بين الحربين العالميتين

- الشيوعية في روسيا
- النازية في ألمانيا
- الفاشية في إيطاليا

الشيوعية في روسيا :

أكمل العبارات التالية :



س الدولة التي قام فيها النظام الشيوعي تسمى روسيا

س ظهرت الشيوعية في روسيا عام 1917 م على يد لينين

س الصورة المقابلة تمثل شخصية تسمى لينين



س العام الميلادي الذي نجحت فيه الثورة الشيوعية في روسيا 1917 م

س علل - نجاح الثورة الشيوعية في روسيا

ممكن أن يظهر السؤال في صيغة أخرى:
عدد - العوامل التي ساعدت على ظهور الشيوعية في روسيا

- فساد الحكم القيصري
- سوء الأحوال الاقتصادية
- الهزائم العسكرية التي حلت بالجيش الروسي
- شخصية لينين وقدرته على إقناع الجماهير

س عدد - الهزائم الكبرى التي حلت بالجيش الروسي منذ عام 1905 م

- الهزيمة على يد اليابان
- الهزيمة في الحرب العالمية الأولى

أكمل العبارات التالية :

س العام الميلادي الذي بدأ فيه توالي الهزائم العسكرية على الجيش الروسي
----- **1905 م** -----

س أولى الهزائم العسكرية التي حلت بالجيش الروسي عام 1905 م على يد دولة
تسمى **اليابان** -----

س علل - سوء الحالة الاقتصادية أحد عوامل نجاح الثورة الشيوعية

- تأثر بها العمال والفلاحون
- انتشار البطالة والمجاعات والأمراض

س علل - لعبت شخصية لينين دور في نجاح الثورة الشيوعية

- قدراته على إقناع الجماهير
- رفع شعار السلام للجيش والأرض للفلاحين والغذاء للجميع والحكم للسوفييت
- تنظيم الحزب الشيوعي



س أكمل: صاحب شعار السلام للجيش والأرض للفلاحين والغذاء
للجميع والحكم للسوفييت يسمى **لينين** -----

س عرف - السوفييت :

المجالس الشيوعية المحلية التي أسسها الحزب الشيوعي

KuwaitTeacher.Com

س عدد - مبادئ الشيوعية

- سيطرت الدولة على جميع مصادر الثروة
- إشراف الدولة على التخطيط الاقتصادي
- إلغاء الملكية الخاصة
- تحقيق العدالة الاجتماعية بين أفراد الشعوب
- محو الفوارق بين القوميات

أكمل العبارات التالية :



س بعد موت لينين تسلم رفيقه --- ستالين ---

س الصورة المقابلة لزعيم تولى الشيوعية بعد وفاة لينين يسمى --- ستالين ---

س المشروع الذي قدمه ستالين لتحقيق النهضة الشاملة في روسيا يسمى --- السنوات الخمس ---

س الزعيم الذي حقق النهضة الشاملة وأصبح زعيماً للنظام الاشتراكي العالمي يسمى --- ستالين ---



تدرب و تفوق

اختبارات الكترونية

U U L A

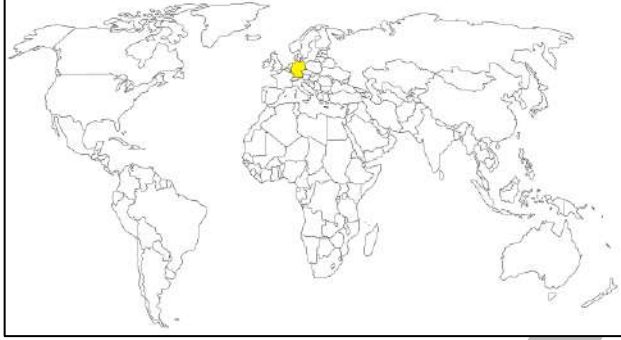
معاً نحقق
طفرة في الكويت
KuwaitTeacher.Com



التطورات الدولية فيما بين الحربين

ظهور الأنظمة الديكتاتورية (النازية في ألمانيا)

أكمل العبارات التالية :



س الدولة التي قام فيها النظام النازي تسمى ألمانيا

س معاهدة سخط فيها الشعب الألماني على حكومته لموافقتها على شروطها تسمى فرساي

س عرف - النازية (الحركة النازية) :

هي الاشتراكية الوطنية - حركة يمينية متطرفة نجحت بقيادة هتلر

س أكمل : التسمية التي أطلقها هتلر على الحزب النازي تسمى الاشتراكية الوطنية

س علل - ظهور النازية في ألمانيا

يمكن أن يظهر السؤال في صيغة أخرى:
عدد - أسباب ظهور النازية في ألمانيا

- شروط معاهدة فرساي
- الأزمة الاقتصادية
- انتشار الأفكار الشيوعية
- محاولة العمال في الاستيلاء على السلطة

أكمل العبارات التالية :

س العام الذي تأسس فيه الحزب العمال الاشتراكي الوطني النازي 1920 م

س من أهم مؤلفات هتلر كتاب يسمى كفاحي

س عدد - مبادئ النازية

- تفوق العنصر الجرمانى على جميع العناصر البشرية
- قيام ألمانيا الكبرى التى تضم كل الألمان
- امتلاك الدولة للشركات الاحتكارية
- إلغاء معاهدة فرساي
- استعادة المستعمرات الألمانية

س دلل - كانت شروط معاهدة فرساي أحد أسباب نجاح النازية فى ألمانيا

- تحمل ألمانيا مسؤولية الحرب وفرضت عليها تعويضات مالية
- تخفيض عدد الجيش الألماني ومنعها من تصنيع الأسلحة
- اقتطاع أجزاء من ألمانيا وضمها لدول أخرى
- وضع إقليم السار تحت الإدارة الدولية

أكمل العبارات التالية :

س الصورة المقابلة تمثل زعيم النازية يسمى أدولف هتلر

س العام الميلادي الذي وصل فيه هتلر الى حكم ألمانيا ١٩٣٤ م

س لقب يطلق على هتلر هو الفوهرر (الزعيم الأوحد)

س ماذا يحدث لو لم ينجح هتلر فى الوصول للحكم

- لما قامت الحرب العالمية الثانية
- لما تشكل الحزب النازي
- لما ظهرت الديكتاتوريات



تدرب و تفوق

اختبارات الكترونية

معاً نبنى الكويت
قفوة
KuwaitTeacher.Com



ظهور الأنظمة الديكتاتورية (الفاشية في إيطاليا)

س أكمل : الدولة التي ظهر فيها النظام الفاشي تسمى إيطاليا



س عرف - الفاشية :

حركة يمينية متطرفة تؤمن بتفوق العنصر الروماني

س علل - ظهور الفاشية في إيطاليا

- عجز الحكومات الضعيفة عن معالجة آثار الأزمة الاقتصادية
- انتشار الأفكار الشيوعية
- محاولة العمال الاستيلاء على السلطة

س علل - انتشار الأفكار اليسارية والشيوعية والحركات الثورية في إيطاليا

- عجز الحكومات الضعيفة التي تعاقبت على إيطاليا في معالجة آثار الأزمة الاقتصادية
- التأثير بالحركة الشيوعية في روسيا

س علل - انتشار الأفكار اليسارية والشيوعية في إيطاليا ساعد على ظهور الفاشية

- شجعت العمال في محاولة الاستيلاء على السلطة
- ظهور حركة يمينية متطرفة قادها الحزب الفاشي

أكمل العبارات التالية :



س الحزب الإيطالي الذي شجعه الأغنياء والطبقة الوسطى ورجال الدين يسمى الحزب الفاشي اليميني ---

س الصورة المقابلة لزعيم النظام الفاشي يسمى موسوليني ---

س المدينة التي نجح أتباع موسوليني في الزحف عليها تسمى روما ---

س العام الذي وصل فيه موسوليني إلى حكم إيطاليا 1922م ---

س النظام الذي أقامه موسوليني في إيطاليا بعد وصوله للحكم عام 1922 م يسمى الفاشي ---

س أكتب دور موسوليني في إيطاليا

- وصل إلى الحكم في عام 1922 م
- الزحف إلى روما واستولى على السلطة

س عدد - مميزات الفاشية

- القوة والعنف
- سفك الدماء
- تقييد الحركات

س علل - لجوء النظام الفاشي إلى التوسع الخارجي

- بسبب عجز النظام عن إصلاح الأوضاع الداخلية
- زيادة الحالة الاقتصادية سوءاً

س اختياري : قام النظام الفاشي بالتوسع الخارجي بغزو :

- ألبانيا وبولندا
- الحبشة وبنشوريا
- ألبانيا والحبشة
- الحبشة وبنولندا

س دلل على صحة العبارة " تقارب ودعم الأنظمة الديكتاتورية "

- دعم النازية والفاشية نظام فرانكو في إسبانيا
- دعم مصطفى كمال أتاتورك في تركيا
- سيطرت العسكريون في اليابان على الحكم

أكتب مدلول الصور التالية :



تحالف هتلر وموسوليني



مصطفى أتاتورك



فرانسييس فرانكو

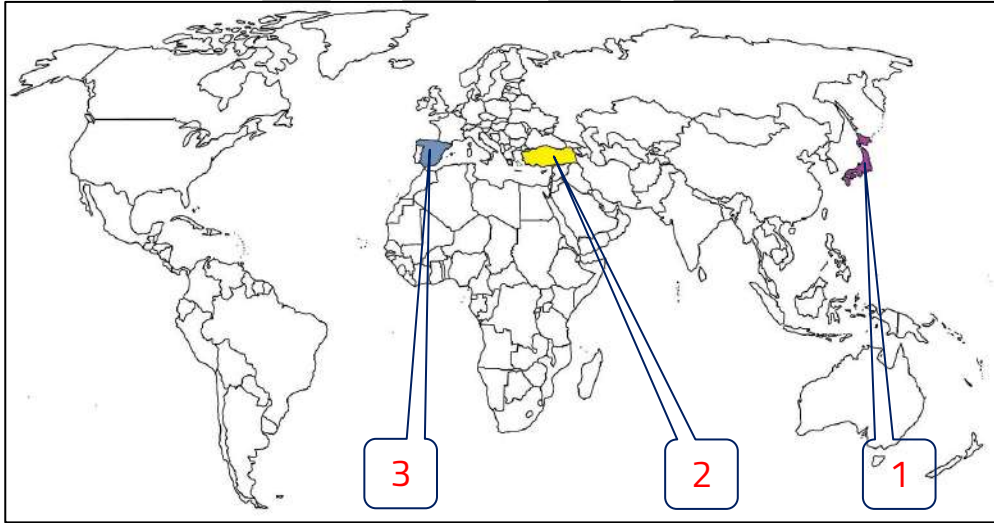
أكمل العبارات التالية :

س دولة دعمتها النازية والفاشية بقيادة فرانكو تسمى اسبانيا

س قائد دكتاتوري ظهر في تركيا بعد الحرب العالمية الأولى اسمه مصطفى كمال أتاتورك

س المحور الذي نشأ بين ألمانيا واليابان يسمى محور برلين / طوكيو

لاحظ خريطة العالم ثم نفذ المطلوب منك :



س دولة دعمتها النازية والفاشية بقيادة فرانكو تحمل على الخريطة الرقم 3

س دولة ظهر فيها نظام ديكتاتوري بقيادة مصطفى كمال أتاتورك تحمل على الخريطة الرقم 2

س الدولة التي تحالفت مع ألمانيا ونشأ محور برلين / طوكيو تحمل على الخريطة الرقم 1

وجه المقارنة	النازية	الفاشية
المؤسس / الزعيم	هتلر	موسوليني
سنة التأسيس	1920م	1922م
التعريف	الاشتراكية الوطنية	حركة متطرفة تؤمن بتفوق العنصر الروماني

س ما هي أوجه الشبه بين الفاشية والنازية كأنظمة ديكتاتورية

- كلاهما حركات قامت في أوروبا بعد الحرب العالمية الأولى
- كلاهما حركات متطرفة
- كلتا الحركتين تميزتا بالعنف والقسوة والسيطرة والقمع
- كلاهما حركتان قاما بالتوسع على حساب الدول الأخرى



تدرب و تفوق
اختبارات الكترونية

U U L A

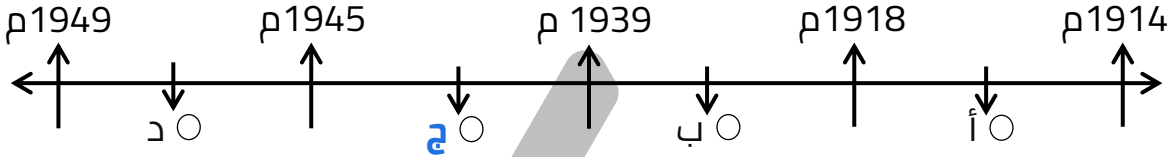
معاً نحقق
تفوقاً في الكويت
KuwaitTeacher.Com



الحرب العالمية الثانية (1939 - 1945)

أسباب الحرب العالمية الثانية

س اختياري : الحرب العالمية الثانية تمثل على المخطط الزمني الحرف :



س دلل - نتائج الحرب العالمية الأولى وما تلاها من أحداث هي سبب قيام الحرب العالمية الثانية

ممکن أن يظهر السؤال في صيغة أخرى: عدد - أسباب الحرب العالمية الثانية

- معاهدات الصلح عام 1919 م
- قيام الأنظمة الديكتاتورية في ألمانيا وإيطاليا واليابان
- الأزمة الاقتصادية العالمية
- التوتر الدولي سهل قيام الحرب العالمية الثانية
- سياسة هتلر العدوانية

س برهن - ساهمت شروط معاهدات الصلح عام 1919م في قيام الحرب العالمية الثانية

- استحوذت الدول المنتصرة على نصيب الأسد من مكاسب هادية ومستعمرات
- فرض القيود ذات الشروط المذلة على الدول المهزومة
- فقدت الدول المهزومة أجزاء كبيرة من أراضيها مما أثار سخطها على هذه القيود

س علل - التوتر الدولي سهل قيام الحرب العالمية الثانية

ممکن أن يظهر السؤال في صيغة أخرى:
دلل - استغل النظام الفاشي والنازي ضعف الأنظمة الديمقراطية لتحقيق أهدافه التوسعية
دلل - مهد التوتر الدولي بعد الحرب العالمية الأولى لقيام الحرب العالمية الثانية

- احتلال موسوليني أثيوبيا 1936 م
- احتلال هتلر منطقة الراين 1936 م
- مساندة هتلر وموسوليني لنظام فرانكو
- ضمت ألمانيا النمسا وطالبت بضم السويدية في تشيكوسلوفاكيا
- اعترضت بريطانيا وفرنسا على هذه الخطوة وعقد مؤتمر ميونخ 1938 م

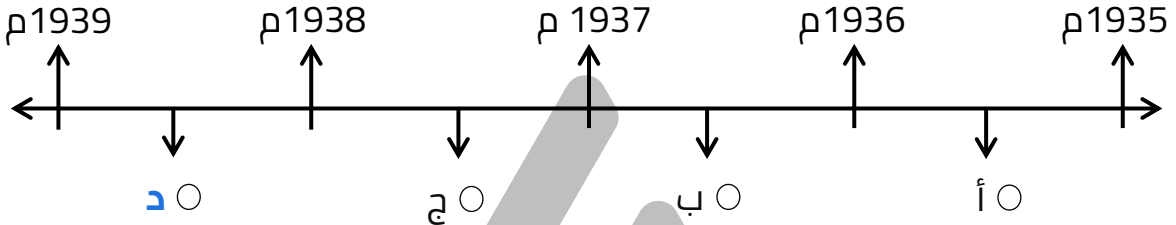
أكمل العبارات التالية :

ممکن أن يظهر السؤال في صيغ أخرى: **اختياري** **حدد على الخريطة**

س العام الميلادي الذي احتل فيه موسوليني أثيوبيا **1936 م**

س العام الميلادي الذي احتل فيه هتلر منطقة الراين **1936 م**

س اختياري : قام هتلر وموسوليني بمساندة نظام فرانكو في اسبانيا في الفترة التي تحمل على المخطط الزمني الحرف :



س علل - عقد مؤتمر ميونخ 1938 م

بسبب مطالبة ألمانيا بضم منطقة السوديت التي يسكنها 3 مليون ألماني بحق تقرير المصير

أكمل العبارات التالية :

س العام الميلادي الذي عقد فيه مؤتمر ميونخ **1938 م**

س الحق الذي طالب به هتلر تشيكو سلوفاكيا لثلاثة ملايين ألماني موجودين على أراضيها يسمى **حق تقرير المصير**

س عدد - القادة الذين حضروا مؤتمر ميونخ عام 1938 م

- هتلر عن ألمانيا
- موسوليني عن إيطاليا
- شامبرلين عن بريطانيا
- لاتييه عن فرنسا

س دلل على صحة العبارة " سياسة هتلر العدوانية "

- ضم هتلر منطقة ميمل التشيكية
- توقيع طف فولاذي مع موسوليني في أغسطس عام 1939 م

س عرف -الحلف الفولاذي

ممکن أن يظهر السؤال في صيغ أخرى: **أكمل** **مصطلح**

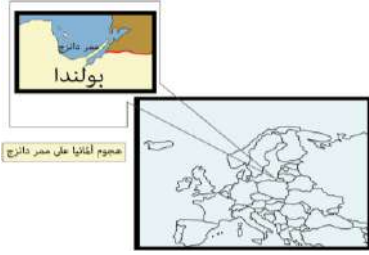
هو حلف تم توقيعه بين هتلر وموسوليني عام 1939 م

س دلل - معاهدة عدم الاعتداء لها سبب معلن وغير معلن

ممكن أن يظهر السؤال في صيغة اخرى:
فرق بين السبب المعلن والغير معلن في توقيع هتلر معاهدة عدم الاعتداء مع السوفيت

- **السبب المعلن:** توقيع بريطانيا وفرنسا معاهدة مع الاتحاد السوفيتي
- **السبب الغير معلن:** اقتسام بولندا ودول البلطيق بين الاتحاد السوفيتي وألمانيا النازية

السبب المباشر في الحرب العالمية الثانية



س أكتب السبب المباشر في الحرب العالمية الثانية

هتلر يطالب بولندا بإعادة ممر دانريغ ولكنها رفضت وعملت كل من فرنسا وبريطانيا للإيجاد حل لهذه الأزمة إلا أن هتلر فاجأ العالم في أول سبتمبر 1939 م باجتياح بولندا

س فرق بين كل من :

السبب المباشر في الحرب العالمية الثانية	السبب المباشر في الحرب العالمية الأولى
مطالبة هتلر بإعادة ممر دانج وعندما رفضت بولندا أعلن هتلر الحرب عليها في سبتمبر 1939 م	قيام طالب صربي باغتيال ولي عهد النمسا في مدينة سراييفو عاصمة البوسنة

أكمل العبارات التالية :

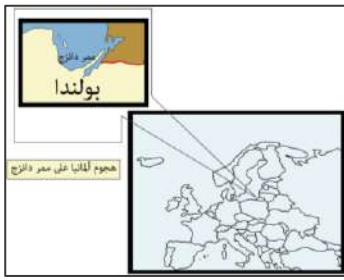


س المعاهدة التي تضمنت اقتطاع منطقة دانريغ كمطقة حرة ترتبط ببولندا عبر اتحاد جمركي تسمى **فرساي**

س الممر المائي الذي كان الصراع عليه سبباً مباشراً لقيام الحرب العالمية الثانية يسمى **دانج**

س علل - طلب هتلر بولندا بإعادة ممر دانريغ (دانج)

لأنه شكل فاصلاً بين روسيا الشرقية والوطن الأمم ألمانيا



س علل - رفض بولندا طلب هتلر بضم ممر دانريغ

- لأنه منطقة حرة ترتبط ببولندا عبر اتحاد جمركي
- وفر لبولندا ممرأ مائياً

س اختياري : الدول التي سعت لإيجاد حل للأزمة بين ألمانيا وبولندا هما :

- إنجلترا وفرنسا ○ فرنسا وروسيا ○ إنجلترا وروسيا ○ فرنسا وإيطاليا

س عدد - النتائج المترتبة على اجتياح هتلر لبولندا عام 1939 م

ممكن أن يظهر السؤال في صيغة اخرى:
فند العبارة " شهد العالم وحدة سياسية وعسكرية بعد اجتياح هتلر لبولندا عام 1939 م"

- انقسام العالم إلى محورين الحلفاء والمحور
- بداية الحرب العالمية الثانية

س علل - انقسام العالم إلى معسكرين الحلفاء والمحور

بسبب اجتياح هتلر لبولندا عام 1939 م

س عدد - الدول المشاركة في الحرب العالمية الثانية

- الحلفاء
- المحور

س فرق بين كل من :

دول المحور في الحرب العالمية الثانية	دول الحلفاء في الحرب العالمية الثانية
ألمانيا - إيطاليا - اليابان	بريطانيا - فرنسا - الاتحاد السوفيتي - الولايات المتحدة

م	الدولة
1	ألمانيا
2	بريطانيا
3	إيطاليا
4	اليابان

س اختياري: الدول التي تمثل دول المحور في الحرب العالمية الثانية يمثلها في الجدول المقابل

- (4 , 3 , 1)
○ (4 , 2 , 1)
○ (3 , 2 , 1)
○ (4 , 3 , 2)



تدرب و تفوق
اختبارات الكترونية



الحرب العالمية الثانية

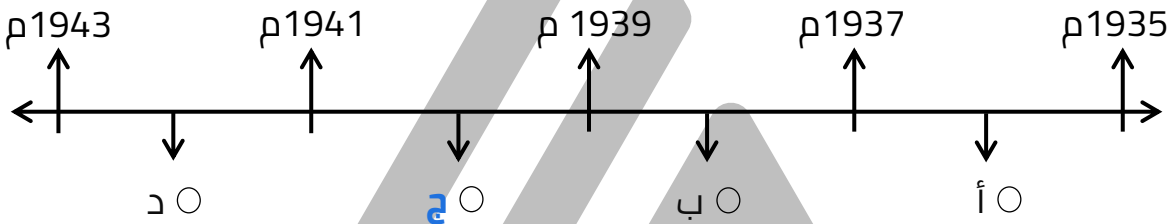
أحداث الحرب العالمية الثانية : الدور الأول

اختر الإجابة الصحيحة :

س اختر الإجابة الصحيحة: عدد أدوار ومراحل الحرب العالمية الثانية :

- ثلاثة أدوار ○ أربعة أدوار ○ خمسة أدوار ○ ستة أدوار

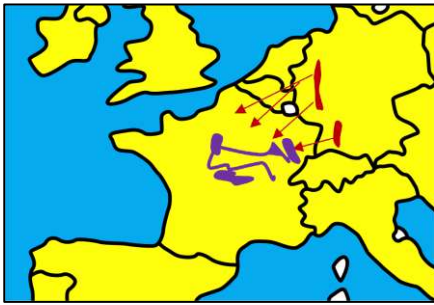
س الفترة الزمنية لانتصارات دول المحور في الحرب العالمية الثانية يمثلها على المخطط الزمني الحرف :



س أكمل : يعرف الدور الأول من الحرب العالمية الثانية باسم انتصارات المحور

س علل - يعرف الدور الأول من الحرب العالمية الثانية باسم انتصارات المحور

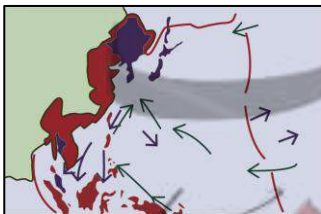
يمكن أن يظهر السؤال في صيغة اخرى: أكتب فيما درست عن الدور الأول في الحرب العالمية الثانية



▪ دخول ألمانيا بولندا و دول أوروبا الغربية و احتلت ثلثي فرنسا وفي 1940 م وقعت فرنسا الهدنة وأقام هتلر حكومة له في مدينة فيشي ولكن الجنرال ديغول تمكن من الانسحاب وأعلن حكومة فرنسا الحرة في مدينة لندن.

▪ وجه هتلر سلاحه الجوي إلى المدن البريطانية دخلت إيطاليا الحرب 1940م بجانب ألمانيا وتشكل محور برلين روما طوكيو وفي 1941 م نقض معاهدته مع الاتحاد السوفيتي

▪ في 1941 هاجمت اليابان ميناء بيرل هاربر وتدمير الأسطول الأمريكي





س أكمل : الصورة المقابلة تمثل حدث تاريخي مهم
في الحرب العالمية الثانية هو
اليابان تدمر ميناء بيرل هاربر

س حدد على خريطة العالم - دولة احتلها هتلر في عام 1940 م



أكمل العبارات التالية :

ممکن أن يظهر السؤال في صيغة اخرى: اختياري

س العام الميلادي الذي اجتاحت فيه القوات الألمانية بولندا 1939 م

س دول الدانمارك والنرويج وبلجيكا وهولندا تسمى دول أوروبا الغربية

س العام الميلادي الذي زحفت فيه القوات الألمانية إلى باريس واحتلت ثلثي فرنسا 1940 م

س العام الميلادي الذي وقعت فيه فرنسا الهدنة مع هتلر 1940 م

س المدينة التي أنشأ فيها هتلر حكومة موالية له في فرنسا تسمى فيشي

س الجنرال الفرنسي الذي أعلن قيام حكومة فرنسا الحرة في مدينة لندن يسمى ديغول

س المدينة التي أعلن فيها ديغول حكومة فرنسا الحرة هي لندن

س العام الميلادي الذي دخلت فيه إيطاليا الحرب العالمية الثانية 1940 م

س المحور الذي تشكل بعد دخول إيطاليا الحرب العالمية الثانية يسمى محور
--- برلين - روما - طوكيو ---

س دول رومانيا - بلغاريا - يوغسلافيا - اليونان دول تم احتلالها في الحرب العالمية
الثانية من قبل دولة تسمى --- ألمانيا ---

س العام الميلادي الذي نقض فيه هتلر معاهدته مع الاتحاد السوفيتي واكتسح
أراضيها هو --- 1941 م ---

س العام الميلادي الذي هاجمت فيه اليابان ميناء بيرل هاربر --- 1941 م ---

س الميناء الأمريكي الذي هاجمته اليابان عام 1941 م يسمى --- بيرل هاربر ---

س الجزر التي يقع فيها ميناء بيرل هاربر تسمى --- جزر هاواي ---

س العام الميلادي الذي دخلت فيه أمريكا الحرب العالمية الثانية --- 1941 م ---

س فرق بين كل من :

سبب دخول أمريكا الحرب العالمية الثانية	سبب دخول أمريكا الحرب العالمية الأولى
بسبب هجوم اليابان على ميناء بيرل هاربر وتدمير الأسطول الأمريكي	بسبب مهاجمة الغواصات الألمانية للسفن التجارية الأمريكية

س حدد على خريطة العالم دولة هاجمت ميناء بيرل هاربر ودمرت الأسطول الأمريكي



س ماذا يحدث لو - لم تهاجم اليابان ميناء بيرل هاربر الأمريكي


- لما دخلت الولايات المتحدة الأمريكية الحرب العالمية الثانية
- لما أُلقت الولايات المتحدة الأمريكية القنابل الذرية على هيروشيما ونجازاكي

س عدد - النتائج المترتبة على هجوم اليابان على بيرل هاربر

- دخول الولايات المتحدة الأمريكية الحرب العالمية الثانية
- القاء الولايات المتحدة الأمريكية القنابل الذرية على هيروشيما ونجازاكي



تدرب و تفوق
اختبارات الكترونية



U U L A A

معلمة في الكويت
Kwailteacher.Com



الحرب العالمية الثانية

الدور الثاني : السنة الانقلابية (1942 م)

س عدد - الانتصارات العظيمة لقوات المحور في الدور الثاني من الحرب العالمية الثانية

- الانتصارات في أفريقيا والقوقاز
- الانتصار البحري للغواصات الألمانية في المحيط الأطلسي
- الانتصار الجوي في أوروبا

أكمل العبارات التالية :

س المحيط الذي شهد الانتصار البحري للغواصات الألمانية في الحرب العالمية الثانية يسمى **المحيط الأطلسي**

س يطلق على الدور الثاني من الحرب العالمية الثانية اسم **السنة الانقلابية**

س علل - يعرف الدور الثاني باسم السنة الانقلابية

ممكن أن يظهر السؤال في صيغة اخرى: علل - تغير الأوضاع لصالح الحلفاء في عام 1942 م

- إصرار بريطانيا بقيادة تشرشل على الصمود ونمو قوة الحلفاء
- صمود الجيش الأحمر الروسي وهزيمة الألمان في معركة ستالينجراد 1942 م
- تمكن البريطانيون من إلحاق الهزيمة بالقوات الألمانية والإيطالية بقيادة رومل في معركة العلمين غرب مدينة الاسكندرية 1942 م

أكمل العبارات التالية :

ممكن أن يظهر السؤال في صيغة اخرى: **اختياري**

س العام الميلادي الذي تغير فيه الأوضاع لصالح الحلفاء في الحرب العالمية الثانية **1942 م**

س رئيس وزراء بريطانيا الذي صمم على الصمود في الحرب العالمية الثانية يسمى **تشرشل**

س العام الميلادي الذي وقعت فيه معركة ستالينجراد **1942 م**

س المعركة التي هزمت فيها القوات الألمانية أمام الجيش الأحمر الروسي في عام 1942 م تسمى **ستالينجراد**

س العام الميلادي الذي وقعت فيه أحداث معركة العلمين 1942 م

س المعركة التي هزمت فيها القوات الألمانية - الإيطالية أمام البريطانيون في الحرب العالمية الثانية تسمى العلمين

س قائد القوات الألمانية الإيطالية في معركة العلمين عام 1942 م يسمى رومل

س مدينة عربية كانت مسرحاً لأحداث معركة هامة في الحرب العالمية الثانية تسمى الإسكندرية

س اختياري: المعركة التي وقعت في غرب مدينة الإسكندرية عام 1942 م :

يمكن أن يظهر السؤال في صيغة اخرى: أكمل

○ النورماندي ○ ريفولي ○ العلمين ○ كونكوردي

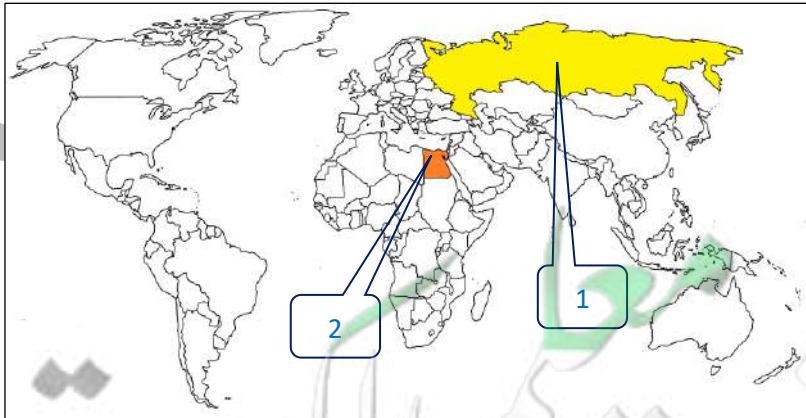
س ما هي أوجه الشبه بين معركتي ستالينجراد والعلمين

- هزيمة ألمانيا في كلا المعركتين
- وقعت المعركتين في عام 1942 م
- كلاهما معارك في الحرب العالمية الثانية

لاحظ الخريطة التالية ثم أجب عما يلي :

س الدولة التي وقعت فيها أحداث معركة ستالينجراد يمثلها على الخريطة الرقم 1

س الدولة التي وقعت فيها أحداث معركة العلمين يمثلها على الخريطة الرقم 2



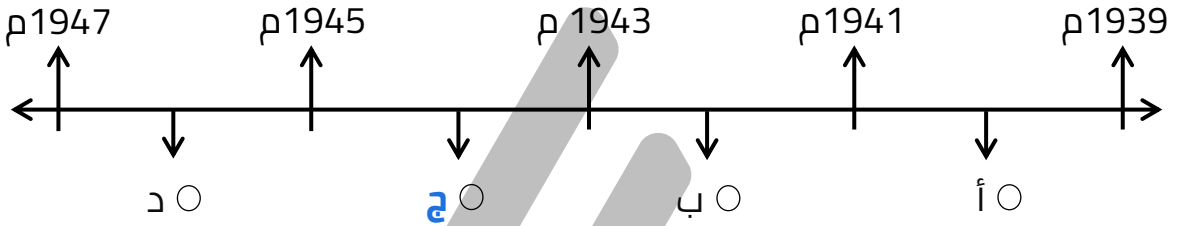
تدرب و تفوق
اختبارات الكترونية



الحرب العالمية الثانية

الدور الثالث : النصر النهائي لدول الحلفاء (1943-1945)

س اختياري: الفترة الزمنية التي تمثل النصر النهائي لدول الحلفاء في الحرب العالمية الثانية تحمل على القحط الزمني الحرف



س فرق بين كل مما يلي:

الجبهة الشرقية لأوروبا	الجبهة الغربية لأوروبا
<p>ممكن أن يظهر السؤال في صيغة اخرى: علل - أهمية معركة ستالينجراد</p>	<p>ممكن أن يظهر السؤال في صيغة اخرى: علل - أهمية معركة العلمين</p>
<ul style="list-style-type: none"> نجح زوكوف في احتلال برلين انتحار هتلر استسلام ألمانيا دون قيد أو شرط 	<ul style="list-style-type: none"> نجاح الحلفاء في احتلال إيطاليا 1943م انزل الحلفاء قواتهم في النورماندي غرب فرنسا إجلاء الألمان من فرنسا وبلجيكا وهولندا دخول ألمانيا

معلمة كويت
Kwaitteacher.Com

أكمل العبارات التالية :

س المعركة التي تابع بعدها الحلفاء انتصاراتهم في أفريقيا تسمى العلمين .

س العام الميلادي الذي احتل فيها الحلفاء إيطاليا 1943 م .

س الساحل الفرنسي الذي أنزل فيه الحلفاء قواتهم عام 1943 م يسمى النورماندي .

س المعركة التي نجح بعدها الجيش الأحمر الروسي في احتلال برلين تسمى ستالينجراد .

س قائد الجيش الأحمر الروسي الذي احتل برلين يسمى زوكوف .

س الدولة التي استسلمت دون قيد أو شرط في الحرب العالمية الثانية هي ألمانيا .



س كانت نهاية ألمانيا النازية على يد قائد روسي يسمى زوكوف .

س أكتب دور الجنرال الروسي (زوكوف) في الحرب العالمية الثانية

- تقدم بالقوات الروسية بعد معركة ستالينجراد حتى احتل برلين
- القضاء على ألمانيا النازية

س أكتب ما تعرفه عن جبهة المحيط الهادي

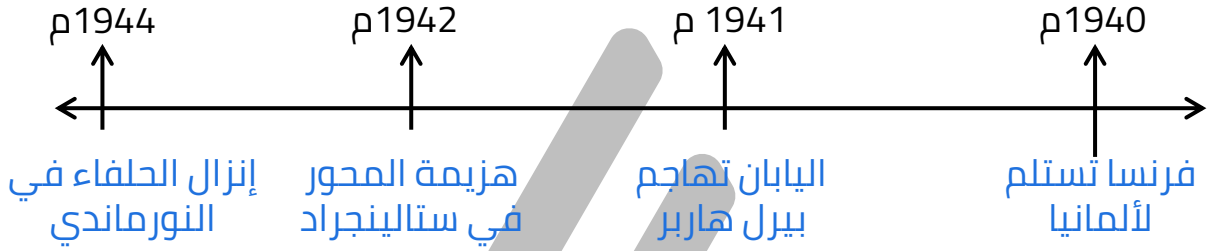
- نجاح أمريكا في إيقاف التقدم الياباني
- استعادة أمريكا كل ما فقدته في المحيط الهادي
- عملت على احتلال الجزر اليابانية
- لم تستسلم اليابان إلا بعد إلقاء القنابل الذرية على ناجازاكي وهيروشيما

س دلل - كان ثمن الهجوم على ميناء بيرل هاربر كارثة على اليابان

قيام الولايات المتحدة بإلقاء القنبلتين الذريتين على مدينتي هيروشيما ونجازاكي

س رتب الأحداث التاريخية التالية وفقاً للمخطط الزمني التالي

- إنزال الحلفاء في النورماندي
- هزيمة دول المحور في ستالينجراد
- فرنسا تستسلم لألمانيا
- اليابان تهاجم ميناء بيرل هاربر



أكمل العبارات التالية :

ممكن أن يظهر السؤال في صيغة اخرى: حدد على الخريطة

س الدولة التي ألقت عليها الولايات المتحدة الأمريكية قنبلتين ذريتين _ **اليابان** _

س مسطح مائي شهد نزاع بين اليابان والولايات المتحدة خلال الحرب العالمية الثانية _ **المحيط الهادي** _



س علل - تعتبر الحرب العالمية الثانية هي أكبر حرب عرفها التاريخ

ممكّن أن يظهر السؤال في صيغة اخرى:

دلّل

فند العبارة " اقتصرّت الحرب العالمية الثانية على المواجهة العسكرية فقط "

- حرب عالمية شاملة
- تسخير الطاقات البشرية
- مواجهة بين أيديولوجيات
- تنافس صناعي
- سباق تسليح تكنولوجي

س علل - تعتبر الحرب العالمية الثانية حرب عالمية شاملة لأنها شملت معظم دول العالم بالاشتراك المباشر أو بالتحالف مع الدول

س علل - تسخير الطاقات البشرية في الحرب العالمية الثانية

- سخرت دول المحور أسرى الحروب للعمل في المزارع والمصانع
- دفع الحلفاء بالإناث للعمل في هذا المجال بدل الرجال
- فتحت أمريكا باب الهجرة للعمل

س دلّل - كانت الحرب العالمية الثانية مواجهة بين أيديولوجيات

- صراع بين نظريات دكتاتورية عنصرية تبنتها دول المحور
- تبني الحلفاء الديمقراطية التي تنادي بالمساواة وحقوق الإنسان

س علل - سخرت جميع الدول المشتركة في الحرب مقدراتها ومقدرات الشعوب التي احتلتها

ممكّن أن يظهر السؤال في صيغة اخرى:

علل - شهدت الحرب العالمية الثانية تنافس صناعي بين جميع الدول المشاركة فيها

بهدف تطوير الإنتاج الصناعي الحربي وتطوير الاقتصاد

س دلّل - شهدت الحرب العالمية الثانية سباق تسليح تكنولوجي

- تطور أساليب القتال والأسلحة
- استخدام التكنولوجيا في الأرض والجو والبحر
- كان الدمار أكبر وشمل جميع المجالات



تدرب و تفوق
اختبارات الكترونية

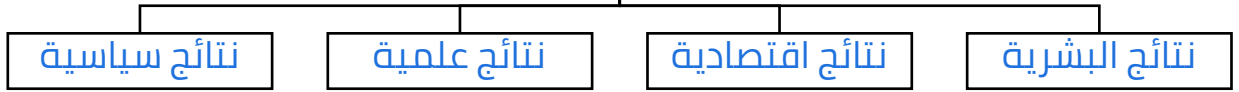


الحرب العالمية الثانية

الحرب العالمية الثانية

نتائج الحرب العالمية الثانية وملامح العالم المعاصر

س عدد - نتائج الحرب العالمية الثانية



س عدد النتائج البشرية للحرب العالمية الثانية

ممكن أن يظهر السؤال في صيغة أخرى:
نفذ المطلوب منك مما بين القوسين
الحرب العالمية الثانية (النتائج البشرية)
فند " لم يترتب على الحرب العالمية الثانية أي نتائج بشرية "

- سقوط 50 مليون قتيل
- تشريد الملايين في أوروبا واليابان
- عم الخراب والدمار في أنحاء العالم
- بروز مشكلة المشوهين والمعاقين
- انتشار ممارسة العنف

س عدد - النتائج الاقتصادية للحرب العالمية الثانية

- تحمل الدول ديون كبيرة
- الدمار الذي حل بالمساكن والمصانع
- تحولت دول أوروبا من دول مصدرة إلى دول مستوردة

س عدد - النتائج العلمية للحرب العالمية الثانية

ممكن أن يظهر السؤال في صيغة أخرى:
دل - احتياجات الحرب العالمية الثانية دافعاً للتطور العلمي التقني
عدد - المجالات العلمية التي شهدت تطور بعد الحرب العالمية الثانية

- التطور في مجال الأسلحة
- التطور في المواصلات بأنواعها
- التطور في الطب
- التطور في الطباعة ووسائل الاتصالات

س عدد - النتائج السياسية للحرب العالمية الثانية

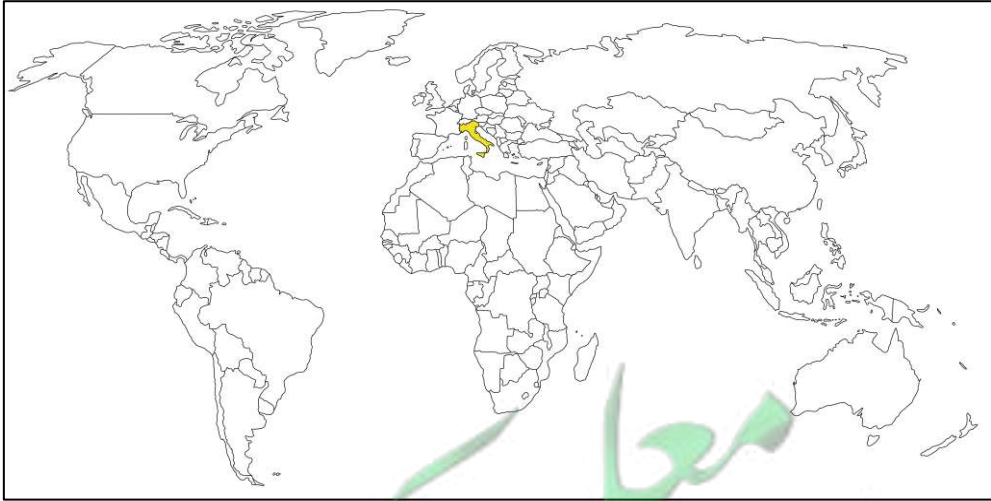
- تغيرت خريطة أوروبا السياسية
- تراجع مكانة دول أوروبا (بريطانيا - فرنسا) إلى الدرجة الثانية
- انتهاء الديكتاتوريات في إيطاليا وألمانيا واليابان
- قامت أنظمة شيوعية في دول أوروبا الشرقية وظلت قائمة وسقطت مع سقوطه
- انقسام ألمانيا إلى قسمين غربي يتبع النظام الرأسمالي وشرقي يتبع النظام الشيوعي
- لم تصب إيطاليا بخسائر مباشرة في أراضيها وإنما فقدت كل مستعمراتها
- فقدت اليابان كل ممتلكاتها التي حصلت عليها منذ نهاية القرن التاسع ودمرت أراضيها
- برز قطبان جديان في العالم هما الولايات المتحدة والاتحاد السوفيتي السابق

س عدد - النتائج السياسية بالنسبة لألمانيا في الحرب العالمية الثانية

- انقسام ألمانيا إلى قسمين غربي يتبع النظام الرأسمالي وشرقي يتبع النظام الشيوعي
- قسمت برلين إلى قسمين يفصلهما جدار عازل

س أكمل: الدولة التي لم تصب بخسائر مباشرة في أراضيها في الحرب العالمية الثانية تسمى إيطاليا

ممکن أن يظهر السؤال في صيغة اخرى: حدد على الخريطة



س اختياري : قطبان جديان ظهرا بعد الحرب العالمية الثانية هما :

- إنجلترا وفرنسا
- الولايات المتحدة والاتحاد السوفيتي
- فرنسا وروسيا
- الولايات المتحدة وبريطانيا

س دلل - تغيرت خريطة أوروبا السياسية بعد الحرب العالمية الثانية
انقسام ألمانيا إلى قسمين غربي يتبع النظام الرأسمالي وشرقي يتبع النظام الشيوعي

س فند - لم تشهد الأنظمة السياسية في أوروبا أي تغيرات بعد الحرب العالمية الثانية

- انتهاء الديكتاتوريات في إيطاليا وألمانيا واليابان
- قامت أنظمة شيوعية في دول أوروبا الشرقية

ملاحع عالمنا المعاصر

س أكتب ملاحع العالم المعاصر

- اليابان قوة اقتصادية عظيمة
- الصين دولة كبرى مستقلة بزعامة ماوتسي تونج
- دول نامية ومتخلفة اقتصادياً واجتماعياً
- تقدم علمي وانفجار معرفي
- زيادة سكانية هائلة
- فجوة علمية اقتصادية بين الدول المتقدمة والنامية
- مخاوف من حرب نووية واتفاقيات (سالت) لوقف استخدام الأسلحة الفتاكة
- أوروبا (تقدم في كافة المجالات) وتفعيل مشروع مارشال ثم المجموعة الأوروبية ثم الاتحاد الأوروبي
- الولايات المتحدة زعيمة الكتلة الغربية الرأسمالية ثم القوة الأعظم بعد تفكك الاتحاد السوفيتي
- هيئة الأمم المتحدة لحفظ السلام والأمن والتعاون بين دول العالم

أكمل العبارات التالية :



س الصورة المقابلة لزعيم صيني يسمى **ماوتسي تونغ** -

س اتفاقية عقدت لوقف استخدام الأسلحة الفتاكة
تسمى **سالت** - - -



س الصورة المقابلة تمثل علم **الاتحاد الأوروبي** - - -

س القارة التي حققت تقدم في كافة المجالات تسمى **أوروبا** - - -

س دولة زعيمة الكتلة الغربية الرأسمالية تسمى **الولايات المتحدة** - - -

KuwaitTeacher.Com

س القوة العظمى بعد تفكك الاتحاد السوفيتي دولة تسمى الولايات المتحدة

س دولة كبرى مستقلة عن الكتلتين تسمى الصين

س هيئة أنشأت لحفظ السلام والأمن والتعاون بين دول العالم تسمى الأمم المتحدة

س علل - عقد اتفاقية سالت

لوقف التسلح واستخدام الأسلحة الفتاكة

س نفذ المطلوب منك مما بين القوسين
من ملامح عالمنا المعاصر تقدم أوروبا في كافة المجالات (علل)

- تفعيل مشروع مارشال
- تفعيل المجموعة الأوروبية
- تفعيل الاتحاد الأوروبي



تدرب و تفوق

اختبارات الكترونية

U U L A

معلمة
مفتوحة
معلمة
KuwaitTeacher.Com



الحربان العالميتان هيئة الأمم المتحدة

س عرف - هيئة الأمم المتحدة

ممكن أن يظهر السؤال في صيغة اخرى: **مصطلح**

هي منظمة دولية تضم جميع الدول المستقلة تأسست في عام 1945

أكمل العبارات التالية :



س الشعار المقابل يمثل **هيئة الأمم المتحدة**

س الدولة التي يقع فيها المقر الرسمي للأمم المتحدة تسمى **الولايات المتحدة الأمريكية**



س الرئيس الأمريكي الذي كان يأمل في إنشاء منظمة عالمية تسعى إلى السلام في العالم يسمى **روزفلت**

اختر الإجابة الصحيحة :

س الدول الثلاث الذين دعوا إلى إنشاء تنظيم دولي باسم الأمم المتحدة :-

- (الولايات المتحدة - بريطانيا - الاتحاد السوفيتي)
- (فرنسا - إيطاليا - بريطانيا)
- (الولايات المتحدة - إيطاليا - الاتحاد السوفيتي)
- (الاتحاد السوفيتي - إيطاليا - فرنسا)

س رؤساء الدول الثلاث الذين دعوا إلى إنشاء تنظيم دولي باسم الأمم المتحدة هم :

- (روزفلت - تشرشل - ستالين)
- (تشرشل - فرانكو - روزفلت)
- (لينين - ستالين - روزفلت)
- (ستالين - تشرشل - ولسن)

س الزعيم الأمريكي الذي شارك في مؤتمر يالطا 1945 م :
○ روزفلت ○ جورج واشنطن ○ ودرو ويلسون ○ جون كنيدي

س الزعيم البريطاني الذي شارك في مؤتمر يالطا عام 1945 م :
○ تشرشل ○ روزفلت ○ ودرو ويلسون ○ هارولد ويلسون

س زعيم الاتحاد السوفيتي سابقاً الذي شارك في مؤتمر يالطا عام 1945 م :
○ ستالين ○ لينين ○ بوتين ○ بوريس يلسون

س المؤتمر الذي عقد في الاتحاد السوفيتي عام 1945 م للدول المحبة للسلام :
○ يالطا ○ فرساي ○ سان فرانسيسكو ○ ميونخ

س الدولة التي عقد فيها مؤتمر يالطا عام 1945 م تسمى :
○ بريطانيا ○ الولايات المتحدة ○ الصين ○ الاتحاد السوفيتي



س الصورة المقابلة لزعماء دول هم :
○ ماوتسي - فرانكو - روزفلت ○
○ فرانكو - روزفلت - ستالين ○
○ روزفلت - تشرشل - ستالين ○
○ هتلر - موسوليني - زوكوف ○



أكمل العبارات التالية :

س الصورة المقابلة تمثل مؤتمر _____ **يالطا**

س المؤتمر الذي اجتمع فيه زعماء الدول الثلاث عام 1945 م لإنشاء تنظيم دولي باسم الأمم المتحدة يسمى _____ **يالطا**

س علل - أهمية مؤتمر يالطا

دعوة الدول المحبة للسلام لحضور مؤتمر سان فرانسيسكو لإبرام ميثاق الأمم المتحدة

س علل- عقد مؤتمر سان فرانسيسكو

لإبرام ميثاق الأمم المتحدة

أكمل العبارات التالية :

س المؤتمر الذي من خلاله تم دعوة الدول المحبة للسلام لإبرام ميثاق الأمم المتحدة يسمى سان فرانسيسكو

س عدد الدول التي وقعت على ميثاق الأمم المتحدة في يونيو عام 1945 م 50 دولة

س العام الميلادي الذي افتتحت فيه هيئة الأمم المتحدة رسمياً 1945 م

س المدينة التي يقع فيها المقر الرسمي للأمم المتحدة تسمى نيويورك

س اختياري : افتتحت هيئة الأمم المتحدة رسمياً عام 1945 م في يوم :

○ 24 يونيو ○ 24 أغسطس ○ 24 أكتوبر ○ 24 نوفمبر



س أكتب مدلول الصورة المقابلة
المقر الرسمي للأمم المتحدة في نيويورك

س من خلال دراستك لموضوع (هيئة الأمم المتحدة) كون فقرة مناسبة باستخدام الكلمات التالية :
(السلام العالمي - مؤتمر يالطا - الأمم المتحدة)

دعا الحلفاء في نهاية الحرب العالمية الثانية إلى وقف الحروب , واقترح الرئيس الأمريكي روزفلت إنشاء منظمة عالمية تسعى لتحقيق السلام العالمي , فاجتمع زعماء دول الحلفاء (الولايات المتحدة - بريطانيا - الاتحاد السوفيتي سابقاً) في مؤتمر يالطا عام 1945 م مع الدول المحبة للسلام لحضور مؤتمر سان فرانسيسكو لإبرام ميثاق الأمم المتحدة

س أذكر أوجه الشبه بين أسباب إنشاء كلاً من عصبة الأمم المتحدة ومنظمة الأمم المتحدة

- إطلال السلام والأمن بين الدول
- تحقيق التعاون الدولي في جميع المجالات
- احترام حقوق الإنسان

س عدد - أهداف الأمم المتحدة

- المحافظة على السلام والأمن الدولي
- تنمية العلاقات الودية بين الدول
- تحقيق التعاون الدولي
- تكون الأمم المتحدة أداة للتنسيق بين أعمال الدول

س ماذا يحدث لو - لم تنضم الولايات المتحدة كدولة عضوة في منظمة الأمم المتحدة

- فشل المنظمة مثل عصبة الأمم ولم تستمر للوقت الحالي
- تعرض العالم لمشاكل كبيرة ممكن أن تؤدي لحرب عالمية ثالثة

اقرأ الفقرة التالية ثم أجب عما يليها من أسئلة

" نحن شعوب الأمم المتحدة ، قد آلينا على أنفسنا أن ننقذ الأجيال القادمة من ويلات الحرب التي جلبت على الإنسانية مرتين ، في خلال جيل واحد أحزاناً يعجز عنها الوصف .
وان نؤكد من جديد إيماناً بحقوق الإنسان الأساسية ، وبكرامة الفرد وقيمته ، وبما للرجال والنساء والأمم كبيرها وصغيرها من حقوق متساوية .
وان نوفر المناخ الملائم الذي يمكن في ظله تحقيق العدالة والاحترام للالتزامات الناشئة عن المعاهدات وغيرها من مصادر القانون الدولي وأن ندفع بالرقي الاجتماعي قدماً ونرفع مستوى المعيشة تحت ظل حرية أرحب .

س ضع عنواناً مناسباً :

ديباجة الأمم المتحدة

س من خلال قراءتك للفقرة أذكر 3 أسباب لإنشاء المنظمة المشار إليها

- تجنب الأجيال القادمة ويلات الحرب
- توفير المناخ الملائم لتحقيق العدالة والاحترام
- رفع مستوى المعيشة

س عدد - أجهزة منظمة الأمم المتحدة

- الجمعية العامة
- الأمانة العامة
- محكمة العدل الدولية
- مجلس الوصاية
- مجلس الأمن
- المجلس الاقتصادي والاجتماعي



يمكن أن يظهر السؤال في صيغة اخرى: أكتب المصطلح

تتشكل من مندوبي الدول الأعضاء الذين ينتخبون الأمين العام وأعضاء الأجهزة الأخرى

اختر الإجابة الصحيحة :

يمكن أن يظهر السؤال في صيغة اخرى: أكمل

س جهاز تابع للأمم المتحدة يتشكل من مندوبي الدول الأعضاء الذين ينتخبون الأمين العام وأعضاء الأجهزة الأخرى يسمى :

- الجمعية العامة
- مجلس الأمن
- مجلس الوصاية
- الأمانة العامة

س عند طرح مشكلة على الجمعية العامة والتصويت بأكثر من الثلثين على التوصيات ترفع إلى:

- مجلس الوصاية
- محكمة العدل الدولية
- المجلس الاقتصادي والاجتماعي
- مجلس الأمن

س عرف- مجلس الوصاية :

إدارة الأراضي التي وضعتها عصبة الأمم تحت الانتداب

س اختياري: جهاز يتبع الأمم المتحدة كُلف بإدارة الأراضي التي وضعتها عصبة الأمم تحت الانتداب :

- مجلس الوصاية
- المجلس الاقتصادي والاجتماعي
- مجلس الأمن
- محكمة العدل الدولية

س عرف - مجلس الأمن :

هو صاحب السلطة الفعلية في المنظمة وله الحق في استعمال القوة المسلحة للمحافظة على السلام والأمن في العالم

س عدد - فئات العضوية في مجلس الأمن

- الأعضاء الدائمون
- الأعضاء المنتخبون

س عرف - الأعضاء الدائمون في مجلس الأمن :

هم ممثلو الدول المنتصرة على المحور

س أكمل : يطلق على ممثلو الدول المنتصرة على المحور في مجلس الأمن اسم **الأعضاء الدائمون** ---

س عدد - الأعضاء الدائمون في مجلس الأمن

- الولايات المتحدة
- الاتحاد السوفيتي
- فرنسا
- الصين
- بريطانيا

س أكمل : الدولة الآسيوية التي تعد أحد الأعضاء الدائمين في مجلس الأمن تسمى **الصين** ---

يمكن أن يظهر السؤال في صيغة اخرى: حدد على الخريطة



اختر الإجابة الصحيحة :

يمكن أن يظهر السؤال في صيغة اخرى: أكمل

س عدد الأعضاء المنتخبين في مجلس الأمن كل سنتين :

- 5 ○ 10 ○ 15 ○ 20 ○

س مدة عضوية الدول الأعضاء المنتخبة في مجلس الأمن :

- سنتين ○ ثلاث سنوات ○ أربع سنوات ○ خمس سنوات ○

س عدد الأعضاء الذي يتألف منها مجلس الأمن :

- 5 ○ 10 ○ 15 ○ 20 ○

س عدد الدول التي تتمتع بحق الفيتو في مجلس الأمن :

- 5 دولة ○ 10 دول ○ 15 دولة ○ 20 دولة ○

س أكمل : الحق الذي تتمتع به الدول الدائمة العضوية في مجلس الأمن يسمى
-- **حق النقض (الفيتو) Veto** --

ممكن أن يظهر السؤال في صيغة اخرى: **اختياري**

س اختياري: صاحب السلطة الفعلية في منظمة الأمم المتحدة ومن صلاحيته استعمال القوة المسلحة

ممكن أن يظهر السؤال في صيغة اخرى: **أكمل**

- مجلس الأمن
○ محكمة العدل الدولية
○ مجلس الوصاية
○ المجلس الاقتصادي والاجتماعي

س فند - عدم تمتع مجلس الأمن الدولي بأي سلطة فعلية كأحد أجهزة الأمم المتحدة

- صاحب السلطة الفعلية في المنظمة
- له الحق في استعمال القوة المسلحة للحفاظ على السلام والأمن في العالم

س عرف- الأمانة العامة :

جهاز مهمته تنفيذ المهام السياسية المكلف بها

أكمل العبارات التالية :

س جهاز ينتخب الأمين العام بناء على اقتراح من مجلس الأمن يسمى
-- **الجمعية العامة** --

س مدة الأمين العام للأمم المتحدة -- **خمس سنوات** --

س جهاز مهمته تنفيذ المهام السياسية المكلف بها يسمى -- **الأمانة العامة** --

س عرف - محكمة العدل الدولية :

محكمة مهمتها حل النزاعات على الحدود بين الدول والنزاعات الناجمة عن مخالفة القوانين الدولية

س عدد - مهام محكمة العدل الدولية

- حل النزاعات على الحدود بين الدول الأعضاء
- حل النزاعات الناجمة عن مخالفة القوانين الدولية

أكمل العبارات التالية :



س المدينة التي يوجد بها مقر محكمة العدل الدولية تسمى لاهاي

س الدولة التي يوجد بها مقر محكمة العدل الدولية هي هولندا

س جهاز مهمته حل النزاعات على الحدود بين الدول الأعضاء والنزاعات الناجمة عن مخالفة القوانين الدولية يسمى محكمة العدل الدولية

س عرف - المجلس الاقتصادي والاجتماعي :
جهاز يعمل على تنسيق جهود الدول الأعضاء في المجالات الاجتماعية والاقتصادية

أكمل العبارات التالية :

س عدد أعضاء المجلس الاقتصادي والاجتماعي 27 عضو

س جهاز تابع للأمم المتحدة عدد أعضائه 27 يسمى المجلس الاقتصادي والاجتماعي

س جهاز مهمته تنسيق جهود الدول الأعضاء في المجالات الاقتصادية والاجتماعية يسمى المجلس الاقتصادي والاجتماعي

U U L A

معلمة
صفوة
الحكومة
KuwaitTeacher.Com



الوكالات المتخصصة

س عدد - الوكالات المتخصصة التابعة للأمم المتحدة

- البنك الدولي للتنمية والتعمير
- منظمة التربية والعلوم والثقافة اليونسكو
- منظمة الصحة الدولية
- منظمة التغذية والزراعة الفاو
- منظمة العمل الدولية

أكمل العبارات التالية :

س الرمز (IBRD) هو واختصار لمنظمة عالمية تسمى
البنك الدولي للتنمية والتعمير



س الرمز (UNESCO) هو اختصار لمنظمة عالمية تسمى
منظمة التربية والعلوم والثقافة اليونسكو

س الرمز (WHO) هو اختصار لمنظمة عالمية تسمى
منظمة الصحة الدولية



س الرمز (FAO) هو اختصار لمنظمة عالمية تسمى
منظمة التغذية والزراعة الفاو

س الرمز (ILO) هو اختصار لمنظمة عالمية تسمى
منظمة العمل الدولية

س أكتب مهام الأجهزة التالية :

عرف

فرق

يمكن أن يظهر السؤال في صيغ اخرى:

منظمة التربية للعلوم والثقافة UNESCO	البنك الدولي للتنمية والتعمير IBRD
<ul style="list-style-type: none"> ▪ منظمة تقوم بتعزيز التعاون الدولي في مجالات التربية والتعليم ▪ تحقق أكبر قدر من التفاهم بين الأمم 	<ul style="list-style-type: none"> ▪ منح القروض للدول لمساعدتها في تنفيذ مشاريعها كالسدود ومحطات الطاقة الكهربائية والسكك الحديدية

أكتب وظيفة كل من الوكالات التالية :

س منظمة الصحة الدولية WHO :

الوكالة الرئيسية لمواجهة المشاكل الصحية

س منظمة التغذية والزراعة والفاو FAO :

- تحسين إنتاج المزارع والغابات
- تحسين مناطق صيد الأسماك

س منظمة العمل الدولية ILO :

تساعد على تحسين ظروف العمل والمعيشة في أنحاء العالم

أكمل العبارات التالية :

ممکن أن يظهر السؤال في صيغ أخرى: **عرف** **أكتب المصطلح**

س بنك يمنح قروضه لمساعدة مختلف الدول في تنفيذ مشاريعها يسمى **البنك الدولي للتنمية والتعمير**

س منظمة تقوم بتعزيز التعاون الدولي في مجالات التربية والعلوم والثقافة تسمى **منظمة التربية والعلوم والثقافة (اليونسكو)**

س الوكالة الرئيسية المسؤولة عن مواجهة المشاكل الصحية تسمى **منظمة الصحة العالمية**

س منظمة الأمم المتحدة للتغذية والزراعة تسمى **الفاو (FAO) منظمة التغذية والزراعة**

س منظمة تساعد في تحسين ظروف العمل والمعيشة في أنحاء العالم تسمى **منظمة العمل الدولية**



تدرب و تفوق

اختبارات الكترونية