



الاجتماعيات

الكورس الثاني

6



الاجتماعيات

الكورس الثاني



شلون تتفوق بحراستك

طريقة علا المتكاملة للدراسة تشمل الاستفادة من المذكرة و الفيديوهات و الاختبارات



⚠ علا تخلي المذكرة أقوى

تبي أعلى الدرجات؟ لا تعتمد على المذكرة بروحها - ادرس صح من الفيديوهات و الاختبارات

اختبارات ذكية تدريك

حل الاختبارات الالكترونية أول بأول عشان ترفع مستواك



فيديوهات تشرح لك

تابع الفيديوهات و انت تدرس المذكرة عشان تضبط الدرس



.....

اشترك بالمادة

احرص على تفعيل اشتراكك عشان تستفيد كثر ما تقدر



اكتشف عالم التفوق مع باقات علا
ادرس جميع مواد مرحلتك باشتراك واحد بسعر خيالي

Kuwaitteacher.Com

المنقذ

أقوى مذكرة صارت الحين أقوى و أقوى مع خاصية
المنقذ للمساعدة الفورية

شنو المنقذ؟

امسح الباركود بكاميرا تلفونك
وتعرف على طريقة استخدام المنقذ



شنو فائدة هالخاصية؟

أول ما تحتاج مساعدة بالمادة , المنقذ بينقذك .

امسح الباركود بكاميرا التلفون أو اضغط عليه إذا كنت فاتح
المذكرة من جهازك و يطلع لك فيديو الشرح.

KuwaitTeacher.Com

01 الموارد الاقتصادية في دول الخليج العربية

الثروة النفطية	5
الموارد الزراعية	15
الموارد الصناعية	18
الموارد التجارية	23

02 دول الخليج العربية تنمو سكانيا و تتشابه ثقافيا

السكان في المنطقة العربية	24
الهجرات	27
النمو السكاني	31
الكثافة السكانية	35
التشابه الثقافي بين سكان دول الخليج العربية	37

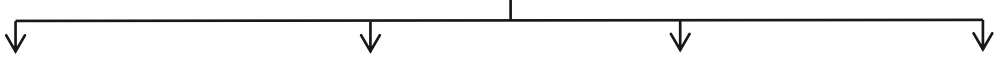
03 الكويت ودول الخليج العربية في مواجهة التحديات

تتعاون دولة الكويت مع دول الخليج العربية من أجل تحقيق أهداف مشتركة	40
المشكلات التي تواجه دول الخليج العربية	44
أثر الغزو العراقي الغاشم على البيئة الكويتية	49
المشكلات الاجتماعية	52



الموارد الاقتصادية في دول الخليج العربية الثروة النفطية

س عدد - الموارد الاقتصادية في دول الخليج العربية



أكمل ما يلي

س العام الميلادي الذي بدأ فيه التنقيب عن النفط في الكويت -----

س بدأ التنقيب عن النفط في الكويت في الحقول الشمالية في حقل يسمى -----

س أول حقل نفطي تم اكتشافه في الكويت يسمى -----

س وجد الكويتيين النفط في حقل بحره بكميات -----

س اتجه الكويتيين للتنقيب عن النفط في الجنوب في حقل يسمى -----

س أكبر حقل نفطي في الكويت يسمى -----

س علل - اتجاه الكويت للتنقيب عن النفط في جهة الجنوب؟

س أكتب مدلول الصورة المقابلة



س فرق بين كلا من

احتياطي النفط	إنتاج النفط
-----	-----

KuwaitTeacher.Com

لاحظ الجدول المقابل ثم أجب عما يلي

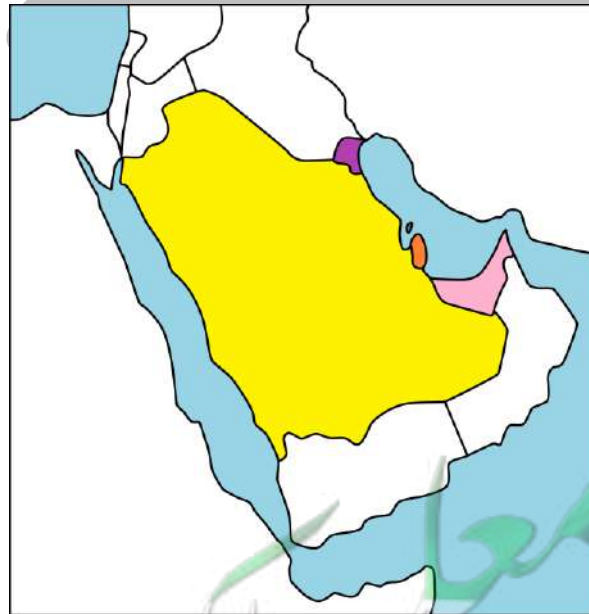
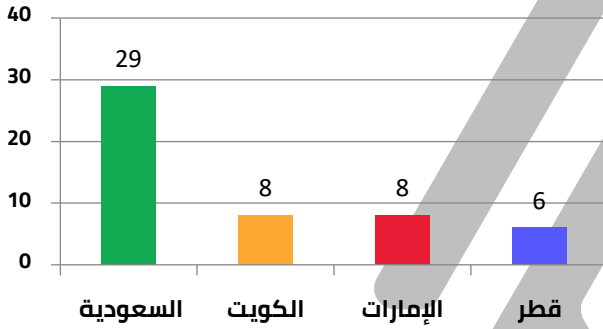
نسبة إنتاج بعض دول مجلس التعاون الخليجي عام 2008 م	
الدولة	نسبة إنتاج شهر أغسطس عام 2008 م
السعودية	29%
الكويت	8%
الإمارات	8%
قطر	6%

س أعلى نسبة إنتاج لشهر أغسطس لدولة تسمى

س تحتل دولة الكويت في إنتاج النفط المركز الثاني وتشاركها في هذا المركز دولة

س أقل نسبة إنتاج لشهر أغسطس لدولة تسمى

س حول الجدول المقابل إلى أعمدة بيانية



تدرب و تفوق
اختبارات الكترونية



س ظهور الحاجة إلى إقامة العديد من الموانئ النفطية ؟

أكمل ما يلي

س العام الميلادي الذي تم فيه تصدير أول شحنة نفط من الكويت -----

س أمير الكويت الذي تم في عهده تصدير أول شحنة نفط يسمى -----

س عدد- أهم الدول المستوردة للنفط الكويتي ؟



س علل - لا يتم تصدير جميع الإنتاج من النفط الكويتي ؟

س أكتب مدلول الصورة المقابلة



اقرأ الفقرة التالية ثم أجب عن الأسئلة التي تليها بالاستعانة بالفقرة ومما درست

((بدأ التنقيب عن النفط في دولة الكويت عام 1934 م في حقل بحرة , ولم تكن الكميات الكبيرة فأتجهت إلى الجنوب في عمليات التنقيب وتم اكتشاف كميات كبيرة في حقل برقان وبعد 12 عام من بدء التنقيب عن النفط تم تصدير أول شحن نفط كويتي , إلا أنه لا يتم تصدير إنتاج النفط كله في الخارج))

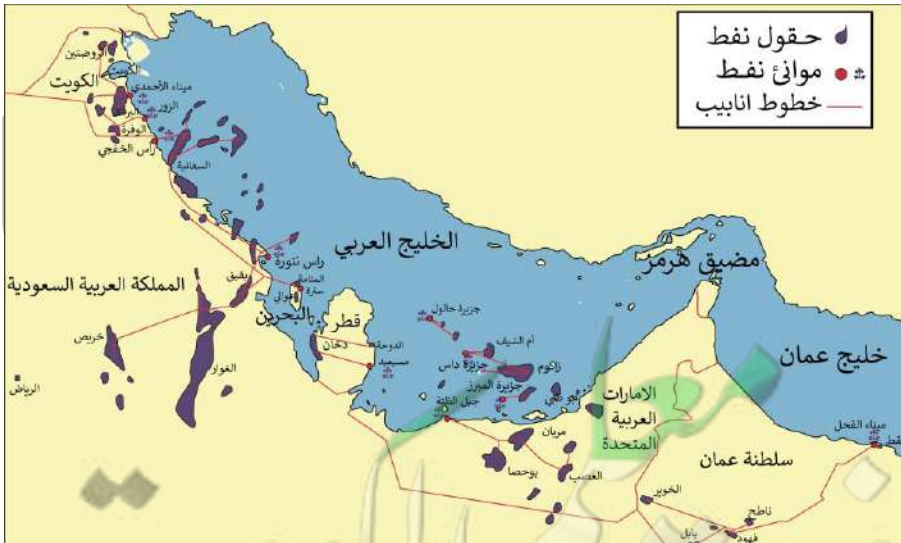
عرف ما تحته خط

إنتاج النفط

س قارن بين حقل بحرة وحقل برقان حسب المطلوب في الجدول

أوجه المقارنة	حقل بحرة	حقل برقان
الموقع	-----	-----
الكميات المستخرجة	-----	-----

س من المعطيات الموجودة في الفقرة احسب العام الذي تم فيه تصدير أول شحنة من النفط الكويتي



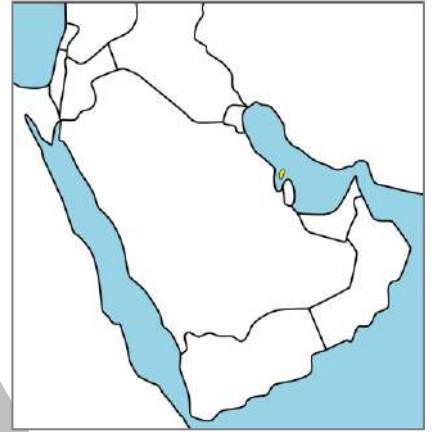
س عدد - أهم حقول النفط في دولة الإمارات



س عدد - أهم الموانئ النفطية في دولة الإمارات

.....

س أكمل - حقل ينتج النفط في البحرين يسمى



س أكمل
س أهم الموانئ النفطية في البحرين يسمى

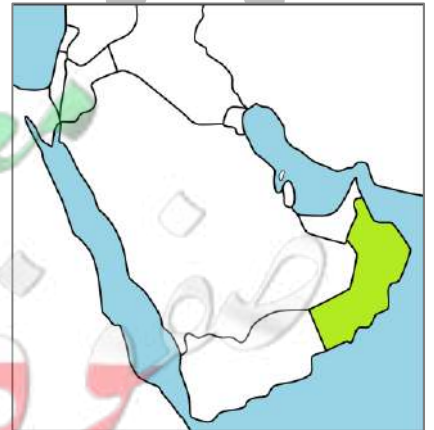
س عدد - أهم حقول النفط في السعودية



س عدد - أهم الموانئ النفطية في السعودية

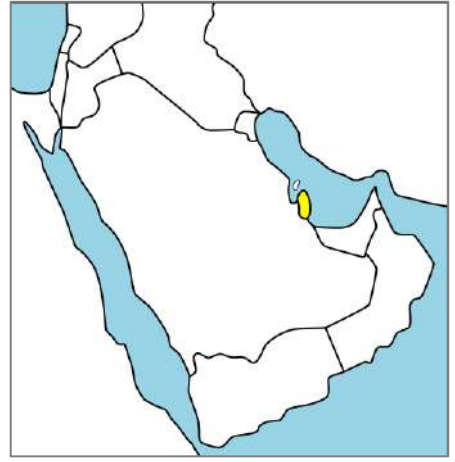
.....

س عدد - أهم الحقول النفطية في عُمان



س أكمل
س : أهم موانئ النفط في عُمان يسمى

س أكمل - حقل ينتج النفط في دولة قطر يسمى



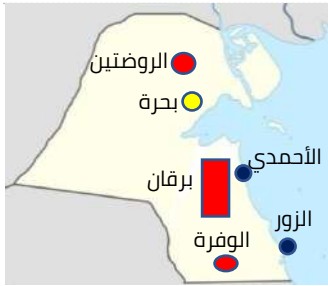
أكمل

س : أهم موانئ النفط في قطر يسمى

س عدد - أهم حقول النفط في الكويت ؟



س عدد - أهم الموانئ النفطية في دولة الكويت



أكمل ما يلي

س أكبر الحقول النفطية في السعودية حقل يسمى

س الدولة الخليجية التي يوجد بها حقل عوالي تسمى

س الدولة الخليجية التي يوجد بها ميناء جبل الظنة تسمى

معلمة
طفرة
كلمة
KuwaitTeacher.Com

س صف الحقول النفطية لدول الخليج العربية في الجدول التالي
(العصب - الغوار - عوالي - الروضتين - بابل - دخان)

السعودية	البحرين	الإمارات	عمان	الكويت	قطر

س صف الموانئ النفطية لدول الخليج العربية في الجدول التالي :
(فحل - جبل الظنة - رأس تنورة - أمسيعيد - الأحمدى - ستره)

السعودية	البحرين	الإمارات	عمان	الكويت	قطر



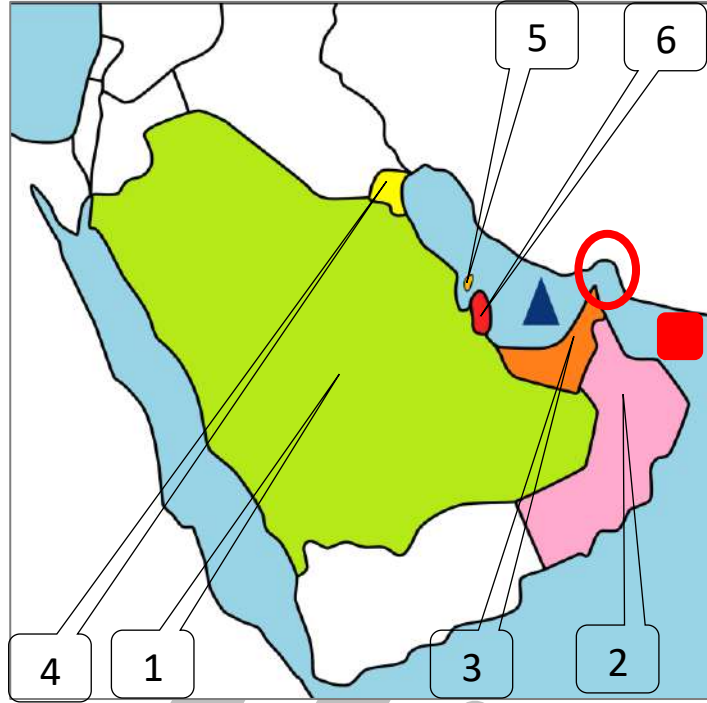
تدرب و تفوق
اختبارات الكترونية

U U L A

معلمة في الكويت
Kwailteacher.Com



لاحظ الخريطة الصماء ثم نفذ ما هو مطلوب منك :



س يقع ميناء الفحل وحقل وحقل ناطح في دولة خليجية تحمل على الخريطة رقم --

س الدولة الخليجية التي يوجد بها ميناء أمسيعيد وحقل دخان تحمل على الخريطة رقم --

س حقول الغوار وميناء رأس تنورة تقع في دولة خليجية تحمل على الخريطة رقم ---

س الدولة الخليجية التي يوجد بها ميناء سترة وحقل عوالي النفطي تحمل على الخريطة رقم ---

س الدولة الخليجية التي يوجد بها ميناء سترة وحقل عوالي النفطي تحمل على الخريطة رقم ---

س الدولة التي يوجد بها حقول مربان وميناء جبل الظنة تحمل على الخريطة رقم ---

س الرمز ▲ يشير إلى مسطح مائي يسمى -----

س الرمز ○ يشير إلى مضيق يسمى -----

س الرمز ■ يشير إلى مسطح مائي يسمى -----

اختر الإجابة الصحيحة

س مضيق يصل بين الخليج العربي وخليج عمان يسمى

- باب المندب ○ جبل طارق ○ هرمز ○ البسفور

س عاصمة دولة الكويت مدينة تسمى

- الأحمدى ○ الكويت ○ الرياض ○ مسقط

س عاصمة دولة قطر مدينة تسمى

- الدوحة ○ الكويت ○ الرياض ○ مسقط

س عاصمة المملكة العربية السعودية مدينة تسمى

- الدوحة ○ الكويت ○ الرياض ○ مسقط

س عاصمة مملكة البحرين مدينة تسمى

- الدوحة ○ الكويت ○ الرياض ○ المنامة

س عاصمة دولة الإمارات العربية مدينة تسمى

- الدوحة ○ أبو ظبي ○ الرياض ○ المنامة

س عاصمة سلطنة عمان مدينة تسمى

- مسقط ○ أبو ظبي ○ الرياض ○ المنامة

س أكبر الحقول النفطية في دولة الكويت يسمى

- بحرة ○ الوفرة ○ الروضتين ○ برقان

س أكبر الحقول النفطية في دولة قطر يسمى

- عوالي ○ ناطح ○ بابل ○ دخان

س أكبر الحقول النفطية في دولة الإمارات يسمى

- العصب ○ مريان ○ زاكوم ○ بوحصا

س أكبر الحقول النفطية في البحرين يسمى

- عوالي ○ مريان ○ زاكوم ○ سترة



تدرب و تفوق
اختبارات الكترونية



U U L A

معلمة في الكويت
KuwaitTeacher.Com



س دُلِّل - نجحت دول الخليج العربية في التغلب على الصعوبات التي تواجه الأراضي الزراعية

أكمل

س للملكة العربية السعودية تجربة رائدة في إنتاج محصول يسمى -----



س أكمل الجدول الناقص

المناطق الزراعية لدول مجلس التعاون الخليجي			
عُمان	الإمارات	السعودية	الكويت
-----	-----	-----	-----

اختياري :

س منطقة ليوا الزراعية توجد في دولة

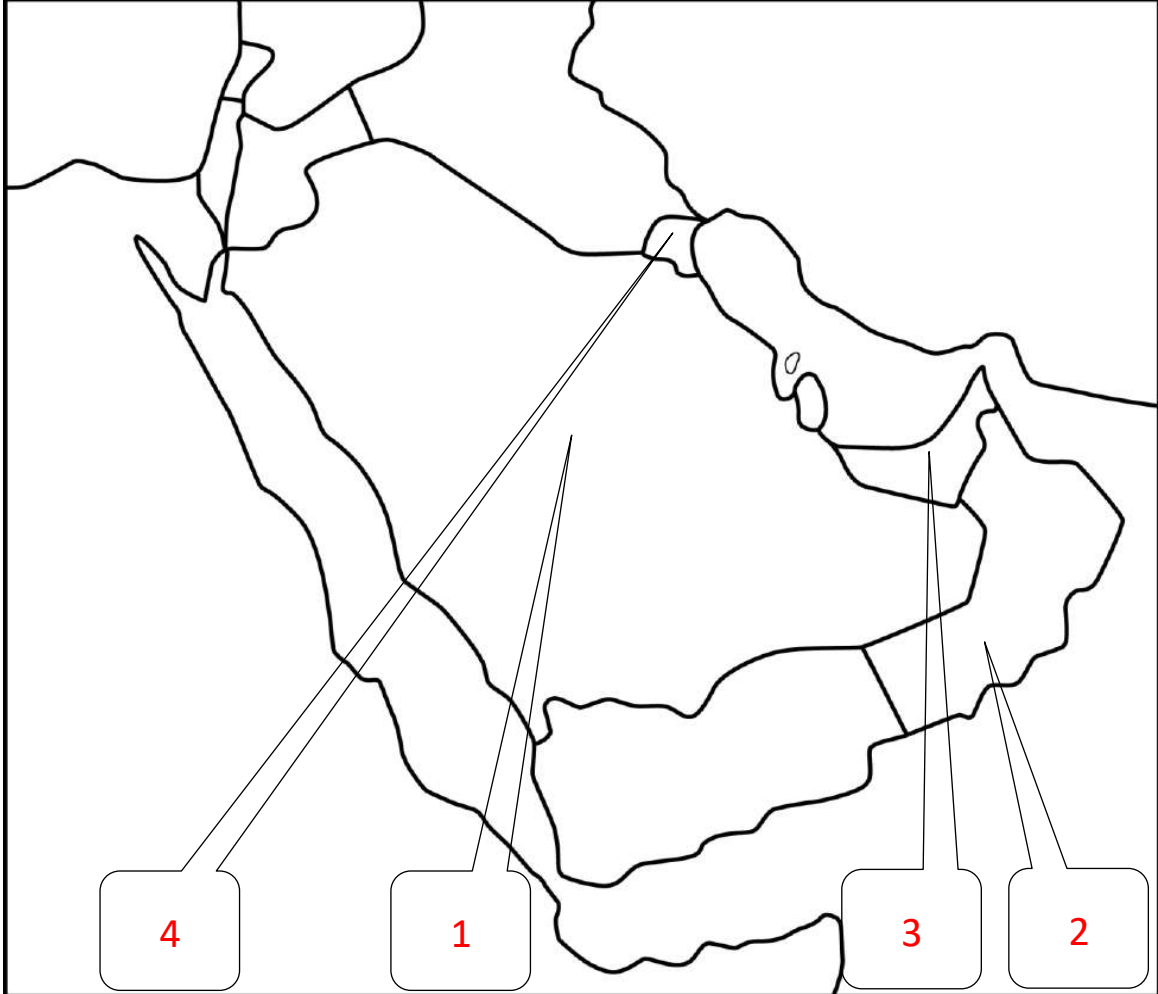
○ عُمان

○ السعودية

○ الكويت

○ الإمارات

لاحظ الخريطة الصماء ثم نفذ ما هو مطلوب منك :



س دولة خليجية توجد بها سهل تهامة تحمل على الخريطة الرقم __

س دولة خليجية توجد بها منطقة العبدلي الزراعية تحمل على الخريطة الرقم __

س دولة خليجية توجد بها منطقة ليوا الزراعية تحمل على الخريطة الرقم __

س دولة خليجية توجد بها منطقة سهل الباطنة الزراعية تحمل على الخريطة الرقم __

صح ما تحته خط في العبارات التالية :

س يوجد سهل الباطنة في دولة الإمارات ()

س توجد منطقة ليوا الزراعية في دولة قطر ()


س عدد - الجهود التي تتبعها حكومات مجلس التعاون لزيادة إنتاج المحاصيل الزراعية ؟

س فرق بين كلا من :

البيوت البلاستيكية	الزراعة بدون تربة
-----	-----
-----	-----
-----	-----

س علل - استخدام البيوت البلاستيكية في دول الخليج ؟

س أكتب مدلول الصور التالية :



تدرب و تفوق
اختبارات الكترونية



KuwaitTeacher.Com



الموارد الاقتصادية في دول الخليج العربية

الموارد الصناعية

عرف

الصناعة

س علل - كان لاكتشاف النفط وتصديره أهمية كبرى؟

س علل - اهتمام حكومات دول مجلس التعاون لدول الخليج العربي في صناعة تكرير النفط؟

عرف

الدخل القومي

س أكمل الجدول الناقص :

-----	سبب ازدهار الصناعة
-----	النتيجة

تدرب و تفوق

اختبارات الكترونية



س عدد - أنواع الصناعات القائمة على النفط في دول مجلس التعاون الخليجي



KuwaitTeacher.Com

س أكتب مدلول الصور التالية



س عدد - أهم المناطق الصناعية في دول الخليج العربية

س أكمل
س أهم المناطق الصناعية في الكويت تسمى

س عدد - أهم أنواع الصناعات في منطقة الشعيبية الصناعية



س عدد - أهم المناطق الصناعية في المملكة العربية السعودية



س عدد - أهم الصناعات في منطقة الجبيل الصناعية

س أكمل

س أهم الصناعات في منطقة الرياض تسمى

س عدد - أهم الصناعات في منطقة ينبع الصناعية

س عدد - أهم الصناعات في منطقة شمال سترة الصناعية

أكمل

س أهم المناطق الصناعية في دولة قطر تسمى -----

س عدد - أهم الصناعات في منطقة امسيعيد الصناعية



تدرب و تفوق
اختبارات الكترونية



س عدد - أهم المناطق الصناعية في الإمارات العربية المتحدة

س عدد- أهم الصناعات في منطقتي الرويس وجبل علي ؟

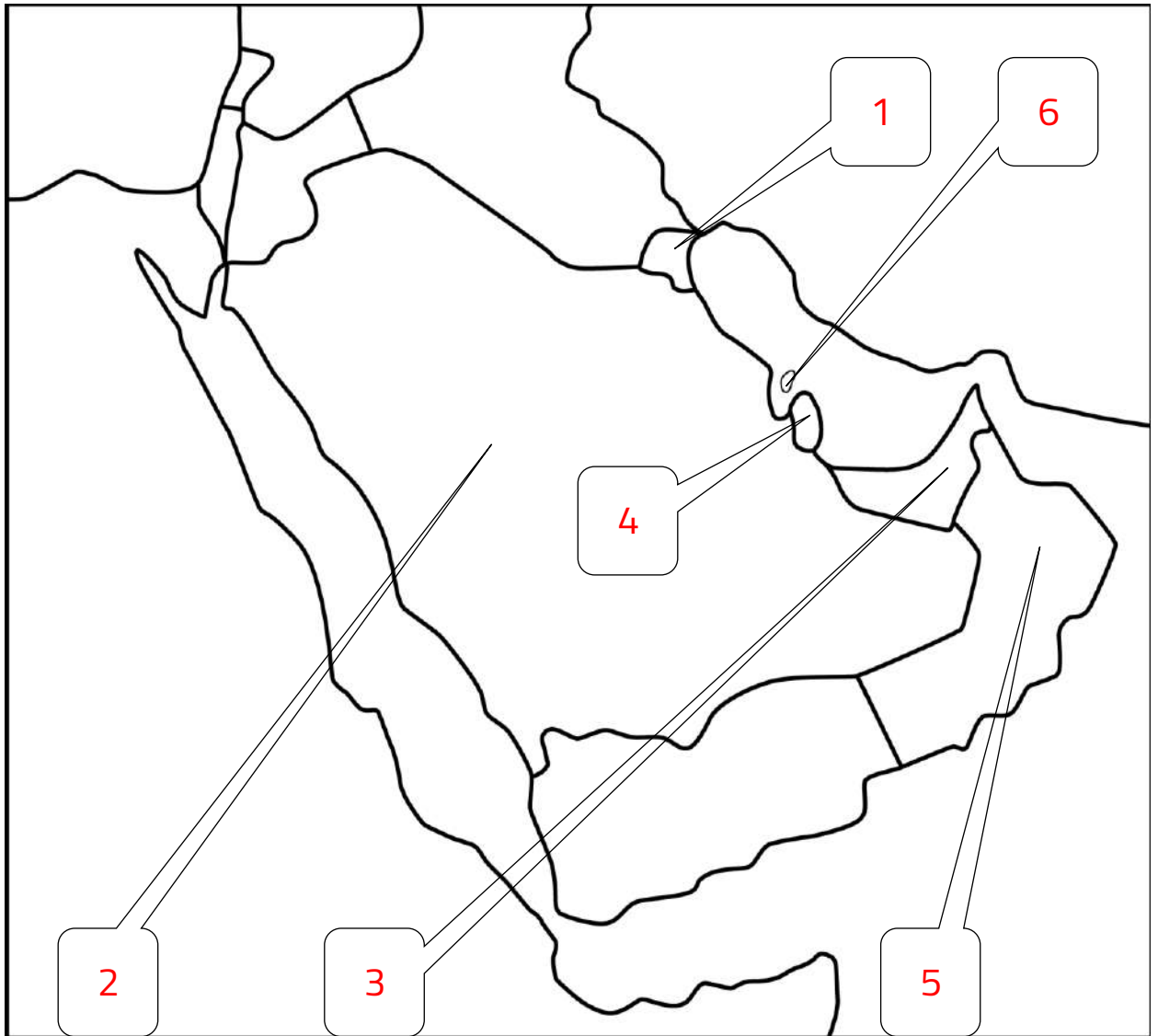
س عدد - أهم المناطق الصناعية في سلطنة عمان

أكمل

س الصناعة التي اشتهرت بها منطقة صحار في سلطنة عُمان تسمى -----

س منطقة صناعية في سلطنة عمان من أهم الصناعات فيها تكرير النفط وبتروكيماويات تسمى -----

لاحظ الخريطة ثم نفذ المطلوب منك :



س منطقة الشعبية الصناعية يمثلها على الخريطة رقم --

س منطقة ينبع الصناعية في دولة خليجية تحمل على الخريطة رقم

س منطقتي الرويس وجبل علي الصناعية في دولة خليجية يمثلها على الخريطة رقم --

س منطقة أمسيعيد الصناعية في دولة خليجية تحمل على الخريطة الرقم --

س دولة خليجية يوجد بها منطقتي صحر والفحل تحمل على الخريطة رقم --

س منطقة شمال سترة الصناعية في دولة خليجية تحمل على الخريطة رقم --

س حدد بالرمز ▲ البحر الأحمر

لاحظ الصور التالية ثم استكمل الشكل التالي







تدرب و تفوق
اختبارات الكترونية

U U L A

معلمة في الكويت
Kwwaitteacher.Com



الموارد الاقتصادية في دول الخليج العربية

الموارد التجارية

عرف

المصادر

الواردات

التراخيص

صوب ما تحته خط :

س البضائع والسلع التي تشتريها دولنا تسمى الصادرات ()

س إعادة تصدير البضائع المستوردة تسمى واردات ()

س عدد - النتائج المترتبة على ارتباط دول مجلس التعاون بعلاقات تجارية مع دول العالم ؟



تدرب و تفوق

اختبارات الكترونية

مفكرة المعلم الكويتي
KuwaitTeacher.Com



دول الخليج العربية تنمو سكانيا و تتشابه ثقافيا

السكان في المنطقة العربية

عرف

السلالة

أكمل

ممکن أن يظهر السؤال في صيغة اخرى: اختياري

س ترجع أصول السلالات السكانية في منطقة الخليج العربي إلى جنس البحر المتوسط و _____

س الدولة التي يوجد بها حضارة دلمون تسمى _____

س الدولة التي يوجد بها حضارة هيلي تسمى _____

س حضارة أم النار توجد في دولة _____

س الحضارة التي توجد في دولة عُمان تسمى _____

س الحضارة التي توجد في السعودية تسمى _____

س تم اكتشاف حضارات دول الخليج العربي على يد _____

س علل - تتشابه الآثار الحضارية في دول الخليج العربي؟



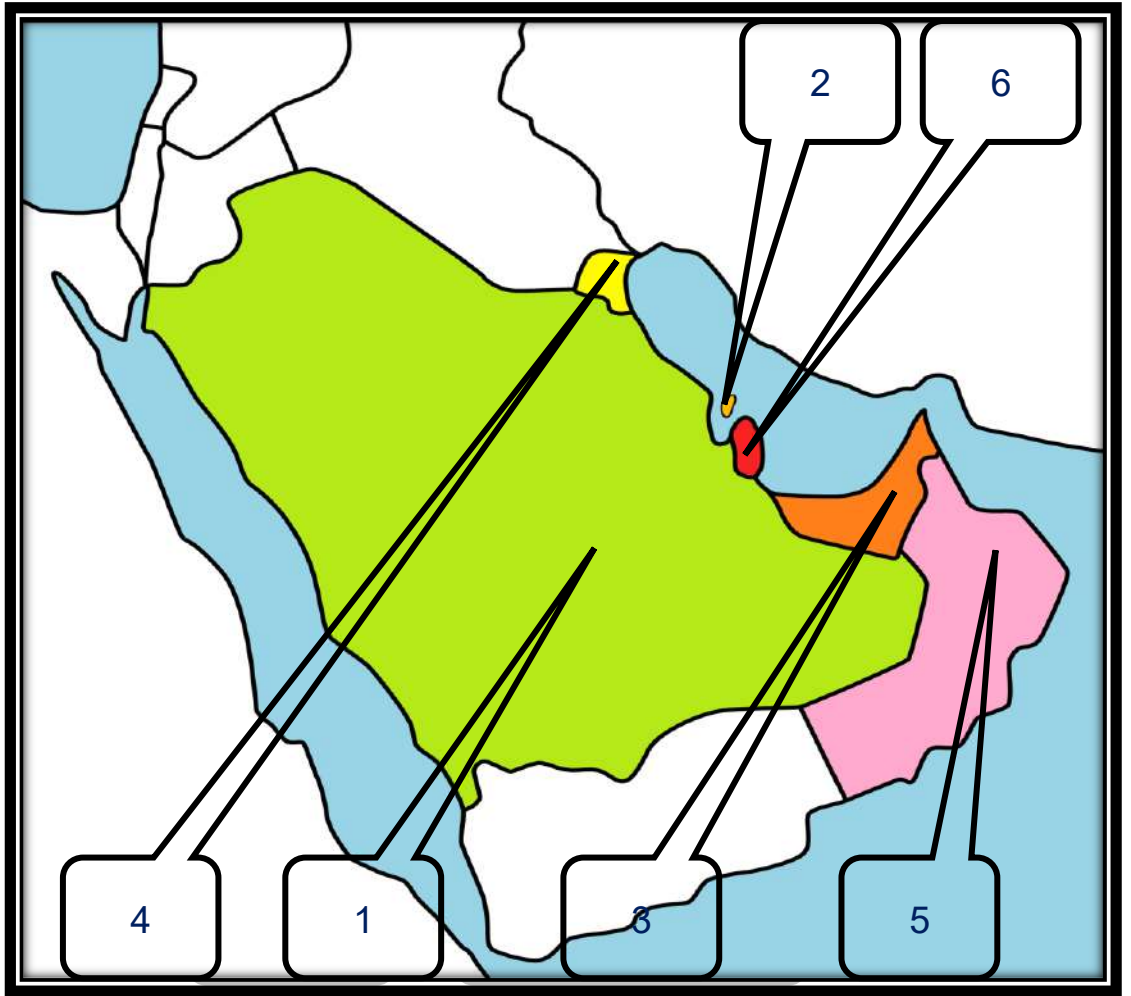
تدرب و تفوق

اختبارات الكترونية





لاحظ الخريطة ثم نفذ المطلوب منك



- س الدولة الخليجية التي ظهرت بها حضارة دلمون تحمل على الخريطة الرقم --
- س الدولة الخليجية التي ظهرت بها حضارة دبا تحمل على الخريطة الرقم ----
- س الدولة الخليجية التي ظهرت بها حضارة تاروت تحمل على الخريطة الرقم --
- س الدولة الخليجية التي ظهرت بها حضارة أم النار تحمل على الخريطة الرقم --
- س الدولة الخليجية التي ظهرت بها حضارة هيلي تحمل على الخريطة الرقم --

معلمة
صفوة في الكويت
KuwaitTeacher.Com

س وزع الحضارات حسب مكانها الصحيح في الجدول التالي :
(دلمون - هيلي - أم النار - دبا - تاروت)

الحضارة	الدولة التي قامت فيها
البحرين	قطر
عُمان	السعودية
الإمارات	الإمارات

س صف المناطق التاريخية من الشمال إلى الجنوب

.....

.....

.....

.....

.....



تدرب و تفوق
اختبارات الكترونية

U U L A

معلمة في الكويت
Kwailteacher.Com



دول الخليج العربية تنمو سكانيا و تتشابه ثقافيا

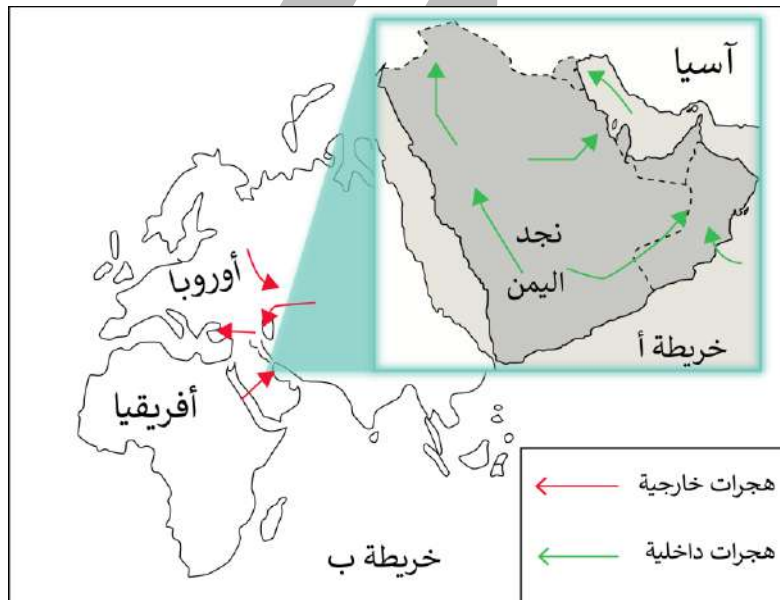
الهجرات

س عدد - أنواع الهجرات ؟

أكمل:

س تعتبر شبه الجزيرة العربية ملتقى الهجرات الخارجية القادمة من آسيا
9-----

س أكتب مدلول الشكل المقابل



س علل - استقرار السكان في أطراف شبه الجزيرة العربية ومنطقة الخليج العربي ؟

س علل - استقبال منطقة الخليج العربي موجات سكانية من كل المناطق المجاورة

س علل - تحرك الهجرات العربية من قلب الجزيرة العربية إلى السواحل الغربية للخليج العربي ؟

س وزع الهجرات الآتية حسب مكانها الصحيح في الجدول التالي
(آل الصباح - آل خليفة - المعاضيد - آل بوسعيد واليعاربة - القواسم - بني ياس)

						الهجرة
أبو ظبي	البحرين	الكويت	رأس الخيمة	عُمان	قطر	منطقة الاستقرار

اختياري :

س فرجت هجرة المعاضيد إلى دولة

قطر ○ عمان ○ البحرين ○ أبو ظبي ○

س الدولة التي هاجر إليها آل خليفة هي

البحرين ○ الكويت ○ قطر ○ عمان ○

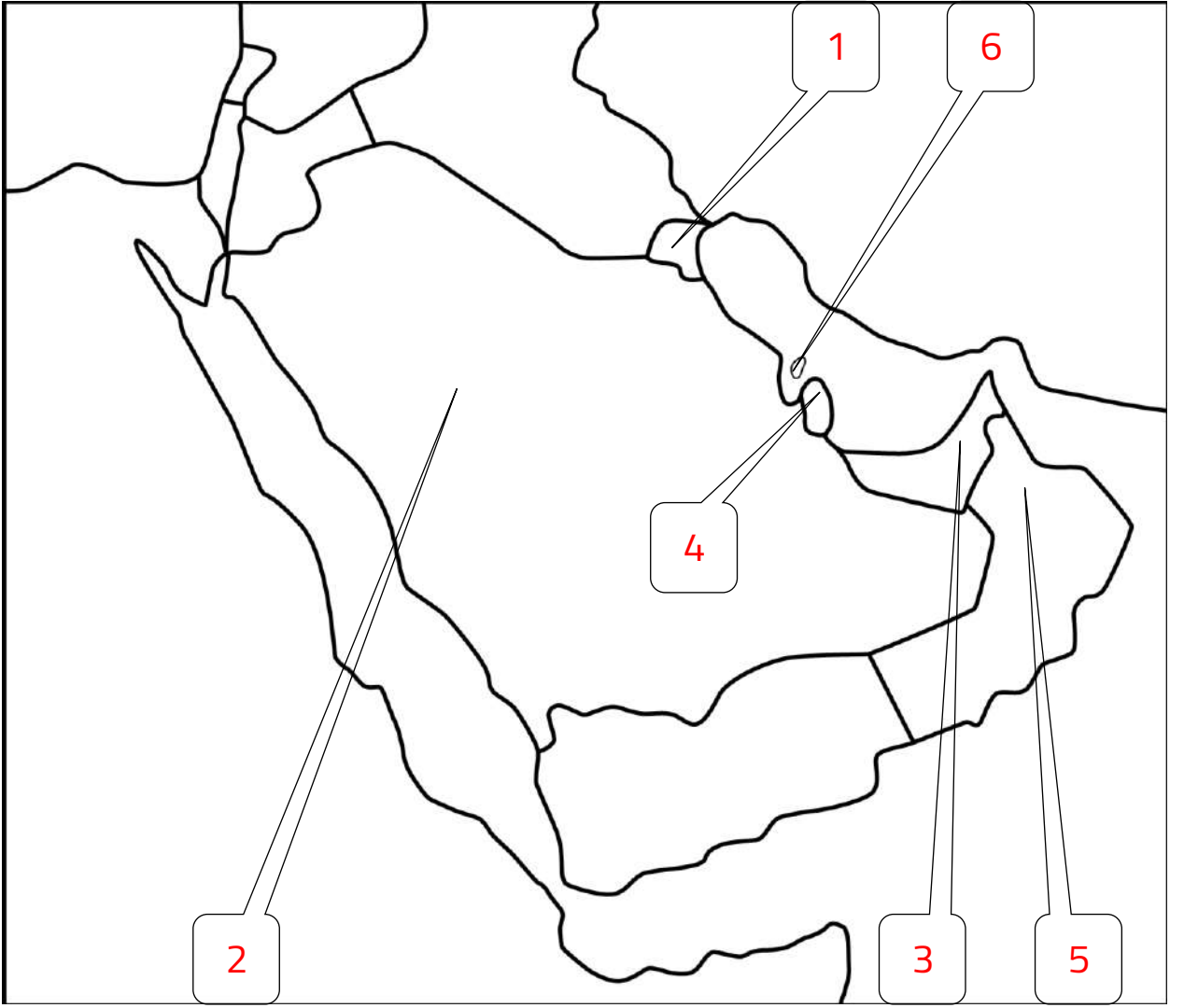
س الدولة التي هاجر إليها كلامن القواسم وبني ياس هي

الإمارات ○ عمان ○ قطر ○ الكويت ○

U U L A

معلمة
طفوفة في الكويت
KuwaitTeacher.Com

لاحظ الخريطة ثم نفذ المطلوب منك



س دولة هاجر إليها البوسعيد واليعاربة تحمل على الخريطة الرقم --

س هاجر آل صباح إلى دولة خليجية تحمل على الخريطة الرقم --

س هاجر المعاضيد إلى دولة تحمل على الخريطة الرقم --

س هاجر القواسم وبني ياس إلى دولة تحمل على الخريطة الرقم --

س الدولة التي هاجر إليها آل خليفة تحمل على الخريطة الرقم --

مفتوحة الكويت
KuwaitTeacher.Com

أذكر لكل مما يلي :

س عامل جذب لمنطقة الخليج العربي ؟

س عامل طرد للسكان من شبه الجزيرة العربية



تدرب و تفوق

اختبارات الكترونية

U U L A A

معلمة في الكويت
Kuwaitteacher.Com



النمو السكاني

عرف

النمو السكاني

س فرق بين كل من :

الزيادة الغير طبيعية	الزيادة الطبيعية
-----	-----

س علل - شهدت منطقة الخليج العربي نموا سكانياً فجائياً بعد اكتشاف النفط ؟

أكمل:

س منطقة الخليج العربية بعد اكتشاف النفط شجعت على استقطاب الهجرات الداخلية و -----

س علل - عدد السكان في دولة الكويت ودول الخليج العربي في تزايد مستمر ؟

U U L A

معلمة في الكويت
Kuwaitteacher.Com

س علل - زيادة عدد الوافدين في دول الخليج بعد اكتشاف النفط؟



تدرب و تفوق
اختبارات الكترونية



لاحظ الجدول التالي ثم أجب عما يلي
أكمل :

س أعلى دولة خليجية في نسبة المواطنين هي

س أقل دولة خليجية في نسبة المواطنين هي

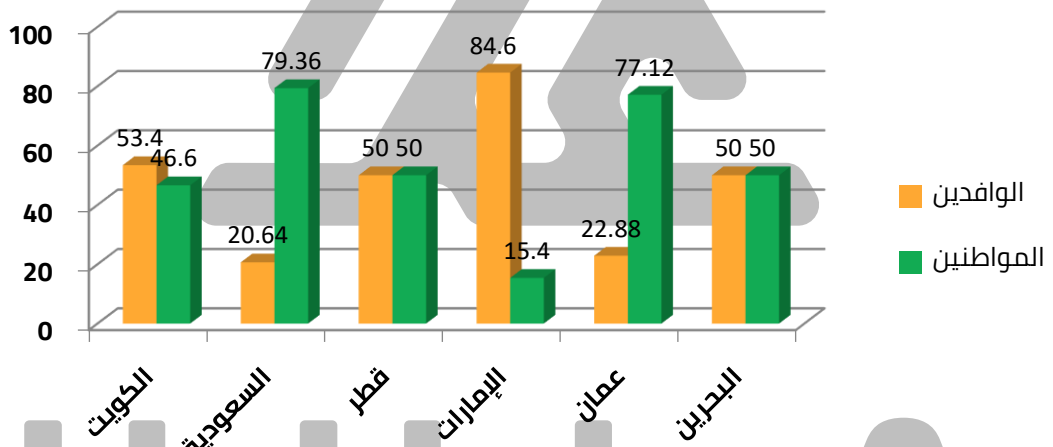
س دولتين خليجيتين يتساوى فيهما عدد المواطنين وعدد الوافدين هما

الدولة	نسبة المواطنين	نسبة الوافدين
الكويت	% 46.6	% 53.4
السعودية	%79.36	%20.64
قطر	% 50	% 50
الإمارات	%15.4	% 84.6
عُمان	% 77.12	% 22.88
البحرين	% 50	% 50

س حول نسبة الوافدين في سلطنة عمان إلى دائرة بيانية

معلمة
صفوة
حقوق
KuwaitTeacher.Com

س أكتب مدلول الشكل المقابل



س رتب الدول ترتيباً تنازلياً حسب نسبة المواطنين





تدرب و تفوق
اختبارات الكترونية



U U L A A

مفتوحة الكويت
KuwaitTeacher.Com



دول الخليج العربية تنمو سكانيا و تتشابه ثقافيا

الكثافة السكانية

عرف

الكثافة السكانية

لاحظ الجدول التالي ثم أجب عما يلي :

الدولة	المساحة	عدد السكان	الكثافة السكانية	معدل النمو
الكويت	17.818	2.418.393	134	3.38
السعودية	2.240.000	27.019.731	12	3.27
البحرين	.707	698.585	988	1.73
قطر	11.427	1.041.733	؟؟؟؟	3.18
الإمارات	83.600	5.631.135	67	1.59
سلطنة عمان	309.500	2.622.198	8	3.43

س احسب الكثافة السكانية لدولة قطر :

أكمل:

س الدولة الخليجية الأولى في عدد السكان هي

س أصغر دولة خليجية في عدد السكان هي

س أعلى دولة خليجية في الكثافة السكانية هي

س أقل دولة خليجية في الكثافة السكانية هي

س أعلى دولة خليجية في معدل النمو السكاني هي

س أقل دولة خليجية في معدل النمو السكاني هي

س أكبر دولة خليجية من حيث المساحة هي

س تحتل دولة الكويت من حيث المساحة المركز



تدرب و تفوق
اختبارات الكترونية



س عل - الكثافة السكانية ظلت منخفضة في منطقة الخليج في القرون الماضية؟

س عل - أصبحت منطقة الخليج منطقة جاذبة للسكان؟

س ما العلاقة بين ازدهار نمو صناعة النفط والنمو السكاني في دول الخليج؟

س عرف - التركيبة السكانية

س سبب الخلل في التركيبة السكانية

س طول مقترحة لمعالجة الخلل في التركيبة السكانية



تدرب و تفوق
اختبارات الكترونية

معلمة حكيم الكويت
Kwaitteacher.Com



دول الخليج العربية تنمو سكانيا و تتشابه ثقافيا

التشابه الثقافي بين سكان دول الخليج العربية

عرف

الثقافة

س عل - يصعب على الزائر التمييز بين الكويتي والسعودي ؟

أكمل:

س يطلق بعض الأخوة العرب على سكان دول الخليج كلمة -----

س عل - تفضيل العرب لفظ خليجي بدلا من إطلاق لفظ الدولة ؟

س عل - استخدام كلمة خليجيين للدلالة على سكان هذه المنطقة بدلاً من إطلاق لفظ الدولة

س عدد - الروابط المشتركة بين أبناء دول الخليج العربي ؟

س دل - سكان دول الخليج العربي متشابهة في وحدة الأصل



تدرب و تفوق
اختبارات الكترونية

أكمل:



س الأصول السكانية لدول الخليج معظمها من -----

س الأصول السكانية في شبه الجزيرة العربية خرجت في أزمنة مختلفة إلى -----

س عدد - العادات والتقاليد الخليجية المتوارثة

س دلت - دول الخليج العربية كالجسد الواحد في السراء والضراء طوال تاريخهم


س دلت - التاريخ المشترك رابط بين أبناء دول الخليج العربية

أكمل ما يلي:

س جميع دول الخليج تعرضوا للاستعمار باستثناء دولة هي

س الدولة الخليجية التي يوجد بها قلعة البرتغال هي

س فسر تسمية تقويم العجيري بهذا الاسم؟



معلمة حكيم الكوثر
KuwaitTeacher.Com

س اكتب المدلول المناسب للصور التالية :



تدرب و تفوق
اختبارات الكترونية

U U L A

معلمة في الكويت
Kwwaitteacher.Com



الكويت ودول الخليج العربية في مواجهة التحديات تتعاون دولة الكويت مع دول الخليج العربية من أجل تحقيق أهداف مشتركة

س عدد أهم مجالات التعاون بين دول مجلس التعاون الخليجي



س عدد - مظاهر التعاون بين دول الخليج العربي سياسياً ؟

Handwriting practice lines for the word 'عدد' (Udud).



س عدد - مظاهر التعاون بين دول الخليج العربي عسكرياً ؟

Handwriting practice lines for the word 'عدد' (Udud).



أكمل ما يلي:

س العام الميلادي الذي أنشأت فيه قوات درع الجزيرة
لدول مجلس التعاون الخليجي

س الدولة التي تعتبر هي مقر قوات درع الجزيرة تسمى



KuwaitTeacher.Com

س عل - إنشاء قوات درع الجزيرة عام 1984 م ؟

س عدد - مظاهر التعاون الاقتصادي بين دول الخليج العربي ؟

أكمل:

س العام الميلادي الذي أنشأ فيه السوق الخليجية المشتركة _____

س المدينة التي تم فيها الإعلان عن قيام السوق الخليجية المشتركة هي _____



تدرب و تفوق
اختبارات الكترونية



س عدد - مظاهر التعاون الثقافي بين دول مجلس التعاون الخليجي ؟

أكمل:

س المدينة التي يوجد بها مقر مكتب التربية العربي
تسمى _____

س يجتمع وزراء التربية في دول الخليج العربي مرة
كل _____



س عل- اجتمع وزراء التربية والتعليم في الخليج كل عامين ؟

س أكتب نوع التعاون الذي تمثله كل صورة فيما يلي :
(تعاون سياسي - تعاون اقتصادي - تعاون عسكري - تعاون ثقافي)



س صنف المطلوب منك حسب الجدول
(إدانة احتلال الجزر الإماراتية الثلاث - المناورات العسكرية - زيادة التبادل التجاري
- توحيد المناهج - المشاركة الفعلية في حرب تحرير الكويت)

التعاون الثقافي	التعاون الاقتصادي	التعاون العسكري	التعاون السياسي
----- -----	----- -----	----- -----	----- -----



تدرب و تفوق
اختبارات الكترونية

U U L A

معلمة في الكويت
Kwailteacher.Com



س عدد - التحديات التي تواجه دول مجلس التعاون الخليجي ؟

س ضع حلاً مناسباً للمشكلات التي تواجهها دول الخليج العربية

المشكلة	الحلول
الأخطار الخارجية والداخلية
الأمن الغذائي التلوث البيئي ندرة المياه الجوفية
الاعتماد على الموارد النفطية فقط
الغزو الثقافي

س دلل " تلعب دولة الكويت ودول الخليج دوراً مهماً في مواجهة التحديات "

ممكن أن يظهر السؤال في صيغة اخرى: برهن



تدرب و تفوق

اختبارات الكترونية


معلمة في الكويت
Kwaitteacher.Com



المشكلات التي تواجه دول الخليج العربية

الكويت ودول الخليج العربية في مواجهة التحديات

س عدد - المشاكل التي تواجه دول الخليج العربي



عرف

التلوث

س عدد - عناصر البيئة الأساسية

س عدد - أنواع التلوث؟



عرف

التلوث الضوضائي

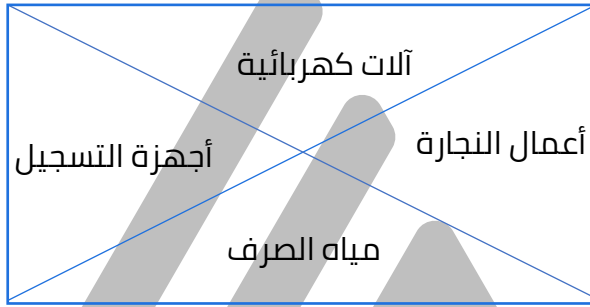
معاً
طفرة في الكويت
KuwaitTeacher.Com

س عدد - أسباب التلوث الضوضائي؟

س ما هي - وحدة قياس التلوث الضوضائي؟


س ظلل الكلمة الخطأ في المربعات المقابلة

ممکن أن يظهر السؤال في صيغة اخرى: أسباب التلوث الضوضائي



س عدد - الأخطار المرضية للضوضاء

تدرب و تفوق
اختبارات الكترونية



• • • •



U U L A

عرف

تلوث التربة

س عدد - الآثار المترتبة على تلوث التربة؟

ممکن أن يظهر السؤال في صيغة اخرى: عدد النتائج

س أذكر نتيجة تلوث الإنتاج الزراعي

Kuwaitteacher.Com

التلوث الهوائي

س عدد - مصادر تلوث الهواء ؟

س صف الكلمات التالية في المربع التابع لها (الصناعة , عواصف ترابية , حرق النفايات , مبيدات حشرية , سيارات وطائرات , براكين)

ممكن أن يظهر السؤال في صيغة اخرى: عدد

مصادر تلوث الهواء	
طبيعية	غير طبيعية

ممكن أن يظهر السؤال في صيغة اخرى: مصطلح

طبقة الأوزون

س أكتب مدلول الصورة المقابلة

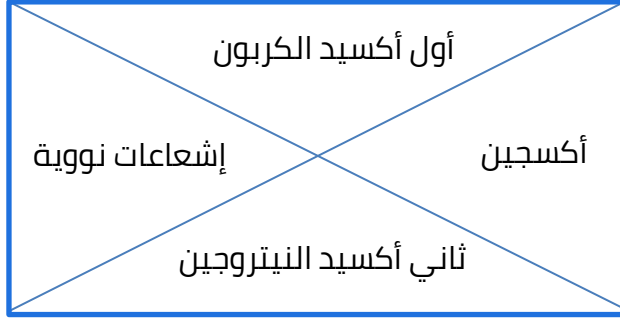


س أكمل الجدول الناقص

المقترحات	الأضرار	أسباب ثقب الأوزون

س ظلل الكلمة الخطأ في المربعات المقابلة

ممکن أن يظهر السؤال في صيغة اخرى: أسباب التلوث الهوائي



تدرب و تفوق
اختبارات الكترونية



عرف

التلوث البحري (المائي)

س عدد - أسباب التلوث البحري (المائي) ؟

استخرج الرابط الأكبر

النفايات الخطرة + مخلفات المصانع =

لاحظ الصورة ثم نفذ المطلوب منك

س اسم المشكلة :

س الأسباب :

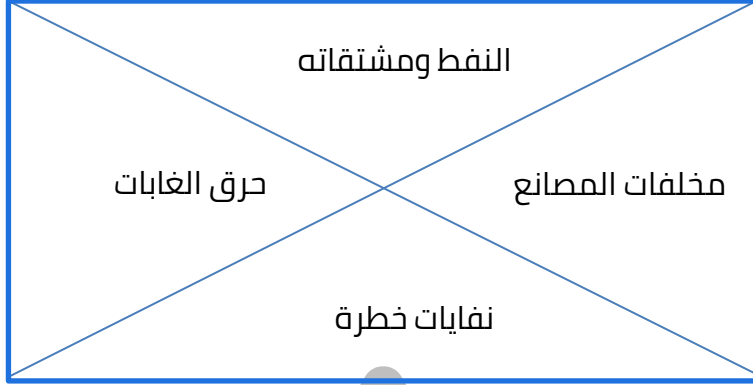
س الحلول :



KuwaitTeacher.Com

س ظلل الكلمة الخطأ في المربع المقابل

ممکن أن يظهر السؤال في صيغة أخرى: أسباب التلوث البحري (المائي)



تدرب و تفوق
اختبارات الكترونية

U U L A

معلمة في الكويت
Kwailteacher.Com



الكويت ودول الخليج العربية في مواجهة التحديات أثر الغزو العراقي الغاشم على البيئة الكويتية

س أكتب مدلول الصورة المقابلة



أكمل ما يلي:

س بيت يجسد أحداث الغزو العراقي على الكويت يسمى

س المتحف الذي يحكي قصة الغزو العراقي الغاشم لدولة الكويت يسمى

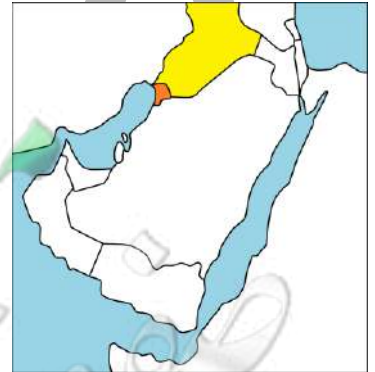


س من خلال الصورة المقابلة صف ما تشاهده في بيت الكويت للأعمال الوطنية (متحف كي لا ننسى)

س العام الميلادي الذي قام فيه النظام العراقي البائد بغزو دولة الكويت

س 2 أغسطس + يوم الخميس =

س عدد الآبار النفطية الكويتية التي أحرقتها الغزو العراقي البائد





تدرب و تفوق
اختبارات الكترونية



س عدد - مظاهر التلوث الناجمة عن الغزو العراقي الغاشم على دولة الكويت

س فند العبارة " اقتصر العدوان العراقي على الكويت عسكرياً فقط "

ممكن أن يظهر السؤال في صيغة اخرى: **دلل**

س علل - تدهور البيئة الكويتية الهوائية عام 1990

س علل - تدهور البيئة الكويتية البحرية عام 1990 م

س علل - تلوث البيئة الكويتية البرية

س ما النتائج المترتبة على تكون البحيرات البترولية



س علل - تحول رمال الصحراء من اللون الأصفر إلى اللون الأسود ؟

اختياري :

س عدد الآبار النفطية الكويتية التي أحرقتها الغزو العراقي البائد

777 ○

767 ○

773 ○

737 ○

س أكتب مدلول الصور التالية :



تدرب و تفوق

اختبارات الكترونية

U U L A

معلمة في الكويت
UULA.COM
KuwaitTeacher.Com



الكويت ودول الخليج العربية في مواجهة التحديات المشكلات الاجتماعية

س أكمل - شهدت دول منطقة الخليج العربية تغيرات كبيرة وسريعة بعد ظهور

س عدد - جوانب الحياة التي شهدت تغيرات في دول منطقة الخليج العربية بعد ظهور النفط

س عدد - النتائج المترتبة على التغيرات السريعة في منطقة الخليج العربي بعد اكتشاف النفط

س علل - بروز مظاهر ومشكلات اجتماعية جديدة في منطقة الخليج بعد ظهور النفط

س عدد - المشكلات الاجتماعية في دول الخليج العربية

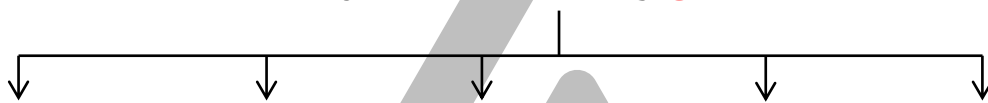
س علل - ظهور المشكلات الاجتماعية في منطقة الخليج العربية ؟

ممكن أن يظهر السؤال في صيغة اخرى: علل - بروز مظاهر مشكلات اجتماعية جديدة

س استخرج المفهوم الذي تشير إليه المعادلة التالية
 طباخ + سائق + مربية وخدم = -----

أكمل المخطط السهمي التالي

س وظائف العمالة المنزلية



س عدد - الآثار السلبية لمشكلة العمالة المنزلية ؟

ممكن أن يظهر السؤال في صيغة اخرى: **المشاكل الناتجة**

س لاحظ الصور التالية ثم أختَر الأفضل مع ذكر السبب



تدرب و تفوق
 اختبارات الكترونية

مفوعة كوكبة
 KuwaitTeacher.Com



س عدد - أشكال العنف

س علل - العنف ليس له حدود

س دلل - الإنسان بطبعه ليس عدوانيا

ممکن أن يظهر السؤال في صيغة اخرى: عدد - أسباب العنف

س علل - تكون العنف لدى الإنسان منذ وقت مبكر في حياته ؟

س أوجد حلا للمعادلة التالية

تربية الطفل الخاطئة + الإيجاب =

أكمل:

س يرى العلماء أن العنف مرض

س العنف ظاهرة

س تكمن مشكلة العنف في أنه يولد

اختياري:

س مادة من الدستور الكويتي تنص على "تهتم الدولة خاصة بنمو الشباب البدني والعقلي"

43 ○

42 ○

41 ○

40 ○

س عدد - أسباب مشكلة العنف عند المتعلمين ؟

س اختر من المجموعة (أ) من المجموعة (ب) ما يناسبها بوضع الرقم المناسب:

(أ)	الرقم المناسب	(ب)
1- أسباب أسرية		وقت الفراغ وأصحاب السوء نقص وسائل الرعاية الإجتماعية والترفيه
2- أسباب نفسية		عدم وعي الأسرة بأهمية التعليم والتربية التربية الخاطئة للطفل والإحساس بالنقص
3- أسباب بيئية عامة		عدم الرغبة في مواصلة الدراسة التوتر والحرمان العاطفي والقلق والشعور بالإحباط

س أكتب عن جهود دول الخليج العربية لحل المشكلات الإجتماعية ؟

س علل - الندوات والمؤتمرات الخليجية لها دور في حل المشاكل الإجتماعية

س أذكر - حلول لعلاج مشكلة العمالة المنزلية ؟





تدرب و تفوق
اختبارات الكترونية



U U L A A

معلمة في الكويت
KuwaitTeacher.Com