



الاجتماعيات

الكورس الثاني

7



الاجتماعيات

الكورس الثاني



شلون تتفوق بحراستك

طريقة علا المتكاملة للدراسة تشمل الاستفادة من المذكرة و الفيديوهات و الاختبارات



⚠ علا تخلي المذكرة أقوى

تبي أعلى الدرجات؟ لا تعتمد على المذكرة بروحها - ادرس صح من الفيديوهات و الاختبارات

اختبارات ذكية تدريك

حل الاختبارات الالكترونية أول بأول عشان ترفع مستواك



فيديوهات تشرح لك

تابع الفيديوهات و انت تدرس المذكرة عشان تضبط الدرس



اشترك بالمادة

احرص على تفعيل اشتراكك عشان تستفيد كثر ما تقدر



اكتشف عالم التفوق مع باقات علا
ادرس جميع مواد مرحلتك باشتراك واحد بسعر خيالي

Kuwaitteacher.Com

المنقذ

أقوى مذكرة صارت الحين أقوى و أقوى مع خاصية
المنقذ للمساعدة الفورية

شنو المنقذ؟

امسح الباركود بكاميرا تلفونك
وتعرف على طريقة استخدام المنقذ



شنو فائدة هالخاصية؟

أول ما تحتاج مساعدة بالمادة , المنقذ بينقذك .

امسح الباركود بكاميرا التلفون أو اضغط عليه إذا كنت فاتح
المذكرة من جهازك و يطلع لك فيديو الشرح.

KuwaitTeacher.Com

01 الوطن العربي - ملامح بشرية واقتصادية

نمو السكان وتوزيعهم في الوطن العربي	5
الكثافة السكانية في الوطن العربي	10
الموارد الاقتصادية في الوطن العربي	14
الإنتاج الحيواني	23
الثروة المائية	27

02 الطاقة والثروة المعدنية

النفط والغاز الطبيعي	29
التعدين في الوطن العربي	39
المنظمات الاقتصادية الإقليمية والدولية	42

03 الإنتاج الصناعى والنقل

الإنتاج الصناعى	47
النقل في الوطن العربي	52
التبادل التجاري في الوطن العربي	56

04 قضايا وحلول نحو مستقبل عربى أفضل

المشكلات الأساسية في الوطن العربي	58
مشاكل استثمار المياه	61
التلوث البيئى	63
التنمية في الوطن العربي	69
التعاون والتضامن العربى لتحقيق التقدم والتنمية	72
دور دولة الكويت في العمل العربى المشترك	76



نمو السكان وتوزيعهم في الوطن العربي

أكمل العبارات التالية:

س تبلغ مساحة الوطن العربي حوالي

س عدد الدول التي يتألف منها الوطن العربي

س يبلغ عدد سكان الوطن العربي حوالي

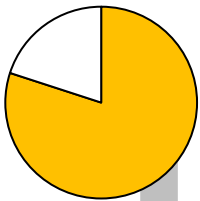
س يتوزع سكان الوطن العربي بنسبة 70% في قارة تسمى

س يتوزع سكان الوطن العربي بنسبة 30% في قارة تسمى

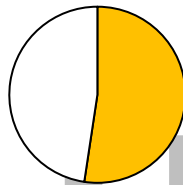
س يتوزع سكان الوطن العربي بين قارتي أفريقيا

اختياري:

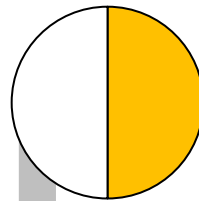
س نسبة سكان الوطن العربي في الجناح الآسيوي يمثلها الجزء المظلل في الدائرة البيانية التي تحمل الحرف:



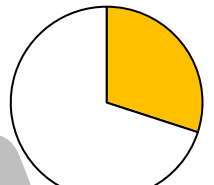
د ○



ج ○

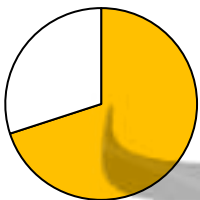


ب ○



أ ○

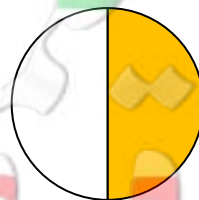
س نسبة سكان الوطن العربي في الجناح الأفريقي يمثلها الجزء المظلل في الدائرة البيانية التي تحمل الحرف:



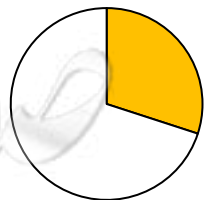
د ○



ج ○



ب ○



أ ○

أكمل:

س تعتمد دراسة السكان بصورة عامة على

س عدد أهم الإحصائيات السكانية

س عرف التعداد السكاني

أكمل:

س تقوم الدول بإجراء تعداد لسكانها كل خمس سنوات أو

س علل قيام الدولة بإجراء تعداد لسكانها

س عرف الإحصاء الحيوي:

يمكن أن يظهر السؤال في صيغة أخرى:
ماذا يستفاد من الإحصاء الحيوي في دول الوطن العربي

أكمل العبارات التالية:

س يتم الحصول على بيانات الإحصاء الحيوي من

س العام الميلادي الذي أنشئت فيه الإدارة المركزية للإحصاء في الكويت

س أجري أول تعداد سكاني في الكويت عام

س الجهة المسئولة عن أول تعداد سكاني في دولة الكويت تسمى

تدرب و تفوق
اختبارات الكترونية





لاحظ الجدول التالي ثم أجب عن الأسئلة التي تليه:

م	الدولة العربية	المساحة كم2	عدد السكان (ألف نسمة)
1	المغرب	710.850	33.304.000
2	جيبوتي	23.200	939.000
3	السودان	1.882.000	37.402.000
4	الصومال	637.657	12.317.000
5	الجزائر	3.381.741	39.402.000
6	تونس	164.150	10.983.000

س استخلص من الجدول الدول العربية التي عدد سكانها أقل من 11 مليون نسمة

س استخلص من الجدول أكبر الدول العربية مساحة

س استخلص من الجدول أكبر الدول العربية مساحة

س عدد الدول العربية التي يزيد عدد سكانها على 20 مليون نسمة

س عدد الدول العربية التي يقل عدد سكانها عن 5 مليون نسمة؟

أكمل العبارات التالية:

س عدد سكان الوطن العربي في الجناح الأفريقي

س عدد سكان الوطن العربي في الجناح الآسيوي

س قارن بين مساحة الدول التالية بعدد سكانها :

دولة	مساحة الدولة	عدد سكانها
الكويت	-----	-----
مصر	-----	-----
ليبيا	-----	-----

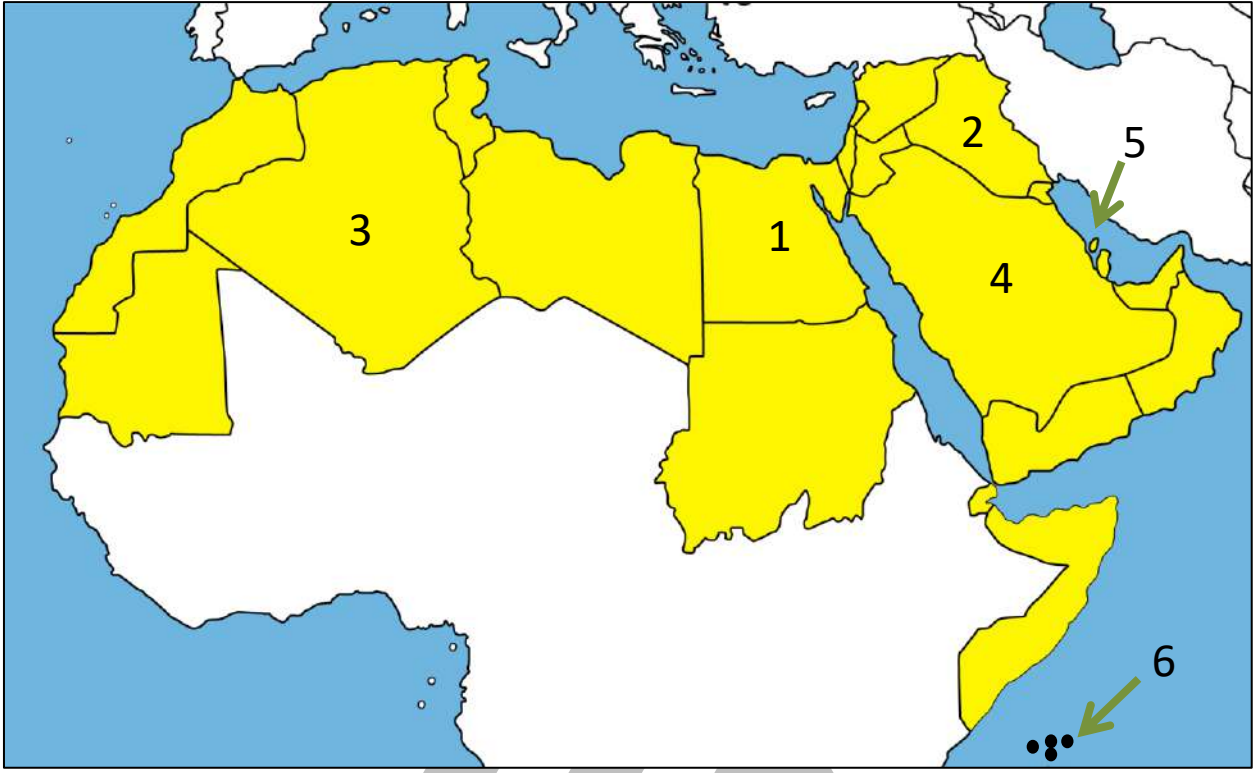
س علل اختلاف عدد السكان من دولة عربية لأخرى



U U L A ٨

معلمة
طفوفة
في الكويت
KuwaitTeacher.Com

لاحظ خريطة الوطن العربي الصماء ثم اكتب الرقم الدال على كلاً مما يلي:



- س أكبر دولة عربية من حيث المساحة يمثلها الرقم _____
- س أصغر دولة عربية من حيث المساحة يمثلها الرقم _____
- س أكثر الدول العربية سكاناً حسب إحصاء عام 2014 م يمثلها الرقم م _____
- س أصغر دولة عربية من حيث عدد السكان يمثلها الرقم _____
- س الدولة العربية الآسيوية الأولى من حيث عدد السكان يمثلها الرقم _____
- س الدولة العربية الآسيوية الأولى من حيث المساحة يمثلها الرقم _____
- س الدولة العربية الآسيوية الأقل في عدد السكان يمثلها الرقم _____
- س الدولة العربية الأفريقية الأقل في عدد السكان يمثلها الرقم _____



تدرب و تفوق
اختبارات الكترونية



الوطن العربي - ملامح بشرية واقتصادية

الكثافة السكانية في الوطن العربي

عرف المفاهيم التالية:

س الكثافة السكانية:

س الكثافة السكانية العامة:

استخرج الكثافة السكانية العامة للدول العربية التالية :

دولة	مساحة الدولة	عدد سكانها (بألف نسمة)
الكويت	17.818 كم ²	3.715 مليون نسمة
موريتانيا	1.030.700 كم ²	3.546 مليون نسمة
البحرين	712 كم ²	1.399 مليون نسمة

س الكثافة السكانية العامة لدولة الكويت

س الكثافة السكانية العامة لدولة موريتانيا

س الكثافة السكانية العامة لمملكة البحرين



اختر الإجابة الصحيحة

س نسبة عدد السكان الكلي في دولة ما أو منطقة ما إلى المساحة الكلية لهذه الدولة أو المنطقة

- الكثافة السكاني
- الهجرة
- النمو السكاني
- التوزيع السكاني

س بعض الدول العربية تعاني من مشكلة سوء توزيع السكان فيها و في مقدمتها دولة تسمى

- لبنان
- البحرين
- الكويت
- مصر

س علل تعاني مصر من سوء توزيع السكان فيها

س عدد أقسام مناطق الوطن العربي من حيث الكثافة



س علل وجود مناطق شبة خالية من السكان في الوطن العربي ؟

س عدد المناطق المناخية التي يقل فيها السكان

ممكن أن يظهر السؤال في صيغة اخرى:
المناطق التي لا يرغب السكان في العيش فيها



مفوعة الكويت
KuwaitTeacher.Com

س عدد المناطق التي يجذب السكان للعيش فيها

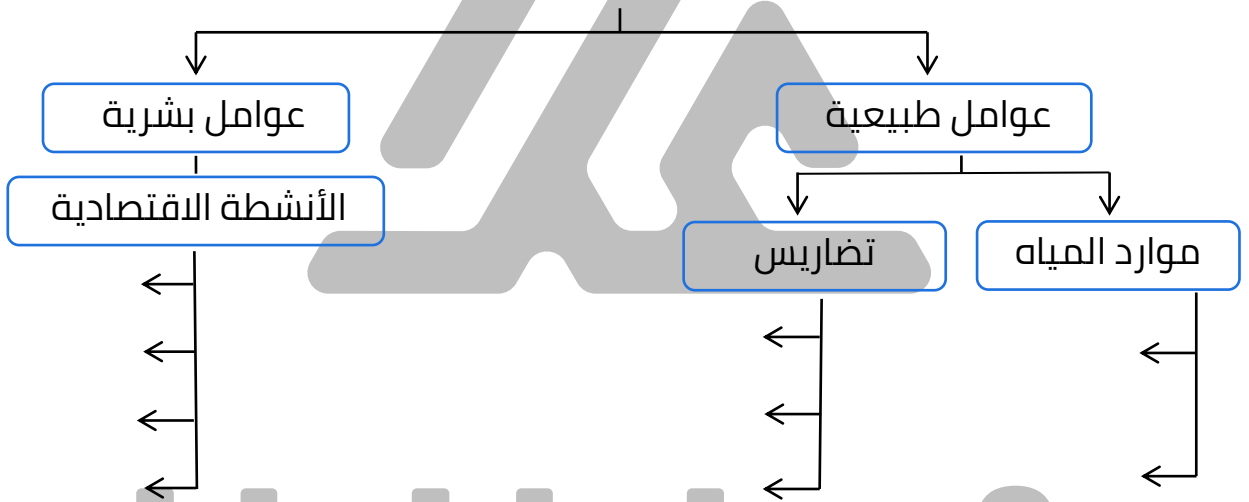


تدرب و تفوق
اختبارات الكترونية



س العوامل المؤثرة في توزيع السكان

يمكن أن يظهر السؤال في صيغة اخرى: فرق



س علل ارتفاع الكثافة السكانية في بعض مناطق دول الوطن العربي

ملغى

معلمة
طفوفة
KuwaitTeacher.Com

كيف تغلب الإنسان على صعوبة العيش والزراعة في الجبال؟

س



أكتب مدلول الصورة المقابلة

س

كيف تغلب تمكن الإنسان من العيش في الصحراء؟

ملغى

س

أذكر أسماء المدن والدول التي نشأت ونمت في الصحراء؟

س

أكمل العبارات التالية:

أكبر تجمع للسكان يكون حول مصادر المياه والأنهار

س

المناخ المعتدل عامل جذب

س



تدرب و تفوق
اختبارات الكترونية

معلمة
كفوة
كلمة
KuwaitTeacher.Com

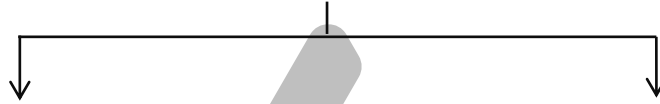


الوطن العربي - ملامح بشرية واقتصادية

الموارد الاقتصادية في الوطن العربي

الإنتاج الزراعي في الوطن العربي

س عدد أنواع الموارد الاقتصادية



س فرق بين كلاً من:

الموارد البشرية	الموارد الطبيعية
-----	-----
-----	-----
-----	-----

س عدد الثروات الطبيعية في الوطن العربي



س عدد - الموارد الاقتصادية في الوطن العربي

معلمة
طفوفة في الكويت
KuwaitTeacher.Com

أكمل العبارات التالية:

س. القطاع الذي يحتل المرتبة الأولى من حيث الأهمية في اقتصاد الوطن العربي يسمى _____

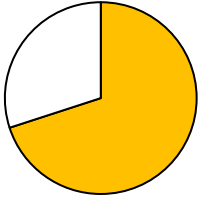
س. النسبة المئوية للقطاع الزراعي من الاقتصاد العربي _____

س. النسبة المئوية للقطاع الصناعي من الاقتصاد العربي _____

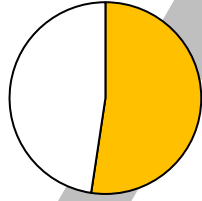
س. النسبة المئوية لقطاع الخدمات العامة من الاقتصاد العربي _____

اختياري:

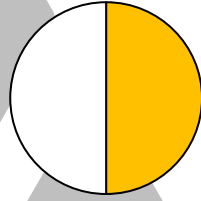
س. النسبة المئوية للقطاع الزراعي من الاقتصاد العربي يمثلها الجزء المظلل في الدائرة البيانية:



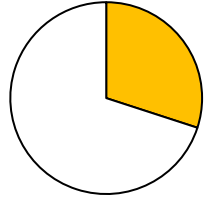
د ○



ج ○



ب ○



أ ○

س. عل أهمية القطاع الزراعي في اقتصاد الأقطار غير المنتجة للنفط؟ (فوائد)

ممكّن أن يظهر السؤال في صيغة اخرى: فوائد

س. عل اختلاف (تنوع) المنتجات الزراعية من دولة عربية إلى أخرى؟

س. عدد المنتجات الزراعية التي يصدّرها الوطن العربي للخارج؟

أكمل الجدول التالي:

س المناطق الزراعية في دولة الكويت :



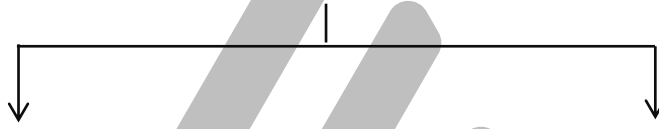
في الجنوب	في الشمال
-----	-----



تدرب و تفوق
اختبارات الكترونية



س عدد مقومات الإنتاج الزراعي:



س عدد مقومات الإنتاج الزراعي الطبيعية



س عدد مقومات الإنتاج الزراعي البشرية



استنتج الرابط الأكبر:

س التربة + المياه + التقدم التكنولوجي = مقومات الإنتاج الزراعي

اختياري:

س مقومات الإنتاج الزراعي الطبيعية هي :

- رأس المال
- التقدم التكنولوجي
- التوزيع السكاني
- المناخ

س عدد مصادر المياه الرئيسية في الوطن العربي



تدرب و تفوق
اختبارات الكترونية



س المحاصيل الزراعية في الوطن العربي



أكمل العبارات التالية:

س أهم المزروعات في الوطن العربي وتشغل مساحة كبيرة من الأراضي المزروعة تسمى

س تختلف كمية إنتاج الحبوب الغذائية في الوطن العربي حسب

س تتنافس مصر والسعودية على احتلال المركز الأول في زراعة نوع من الحبوب يعرف باسم

س علل تعد الحبوب الغذائية من أهم المزروعات في الوطن العربي

قفوة
KuwaitTeacher.Com

الغلات النقدية

أكمل:

س المحاصيل الزراعية التي تتطلب ظروفًا مُناخية خاصة وتتركز في حوض البحر المتوسط تسمى _____

س علل تتركز زراعة الحمضيات والمواالح في حوض البحر المتوسط

س علل انتشار زراعة النخيل بكثرة في السعودية

صنف الغلات التالية حسب الجدول:

(الأرز - العنب - الشمندر - الشعير - البن - الموز - القمح - الذرة - زيت الزيتون - قصب السكر - التمور - الحمضيات (المواالح) - الموز

الحبوب الغذائية	فواكه وثمار	غلات صناعية وتجارية

استنتج المفهوم الأكبر للعبارات التالية:

س الشعير + الأرز + القمح = _____

س العنب التمور + الموز + الحمضيات = _____

س البن + الشمندر + الزيتون = _____

س الأرز + الموز + الزيتون = _____



تدرب و تفوق
اختبارات الكترونية

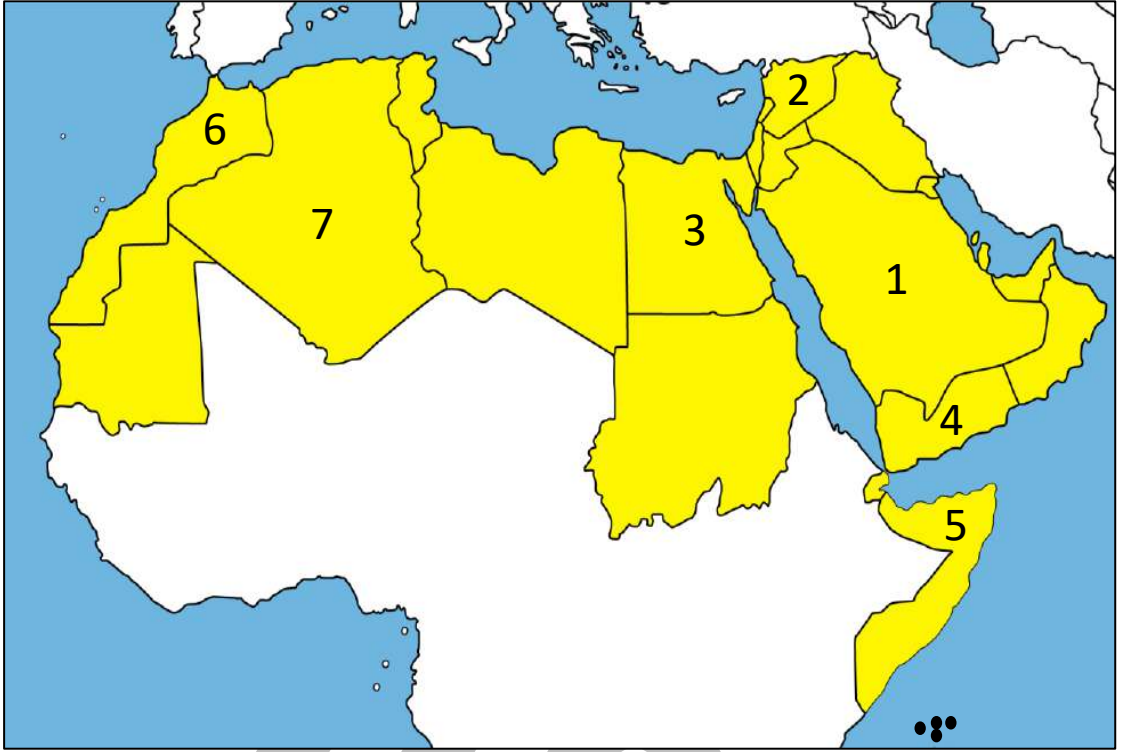


U U L A

معلمة في الكويت
Kwaitteacher.Com



لاحظ خريطة الوطن العربي الصماء ثم اكتب الرقم الدال على كلاً مما يلي



- س الدولة العربية التي تحتل المركز الأول في إنتاج القمح يمثلها الرقم -----
- س الدولة العربية التي تحتل المركز الأول في الذرة الشامية - الأرز - القطن قصب السكر - الموالح يمثلها الرقم -----
- س الدولة العربية التي تحتل المركز الأول في إنتاج الشعير يمثلها الرقم -----
- س الدولة العربية التي تحتل المركز الأول في إنتاج البن يمثلها الرقم -----
- س الدولة العربية التي تحتل المركز الأول في إنتاج العنب يمثلها الرقم -----
- س الدولة العربية التي تحتل المركز الأول في إنتاج التمور يمثلها الرقم -----
- س الدولة العربية التي تحتل المركز الأول في إنتاج الموز يمثلها الرقم -----

مفتوحة للتعليم الإلكتروني
Kwaitteacher.Com

س عدد - المشكلات التي تعاني منها الزراعة في الوطن العربي



عرف المفاهيم التالية:

الزراعة التقليدية

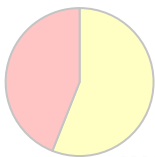


ملغى

الزراعة الحديثة

أكمل:

س تبلغ نسبة المساحة المزروعة في الوطن العربي من المساحة القابلة للزراعة



المساحات المزروعة

المساحات القابلة للزراعة

معلمة
كفوفية
في الكويت
KuwaitTeacher.Com

س عدد - أسباب عدم استغلال الأراضي الصالحة للزراعة في الوطن العربي

ملغى



تدرب و تفوق
اختبارات الكترونية



U U L A

معلمة في الكويت
Kuwaitteacher.Com



الوطن العربي - ملامح بشرية واقتصادية الإنتاج الحيواني

س عدد أنواع الثروة الحيوانية في الوطن العربي

س اذكر نتيجة امتلاك الوطن العربي أعداد متنوعة من الثروة الحيوانية

س عدد أماكن تربية الثروة الحيوانية في الوطن العربي

س أذكر أنواع الثروة الرعوية التي يمتلكها الوطن العربي

اختر الإجابة الصحيحة

س أكثر الحيوانات انتشاراً في المراعي العربية تسمى:

- الأغنام الأبل الأبقار الماعز

س الصورة المقابلة تمثل إحدى حيوانات الثروة الرعوية في الوطن العربي تسمى:



- الأغنام الأبقار
 الماعز الأبل

س الصورة المقابلة تمثل إحدى حيوانات الثروة الرعوية في الوطن العربي تسمى:



- الأغنام الأبقار
 الماعز الأبل

س الصورة المقابلة تمثل إحدى حيوانات الثروة الرعوية في الوطن العربي تسمى :



○ الأبقار
○ الأبل

○ الأغنام
○ المعاز

س الصورة المقابلة تمثل إحدى حيوانات الثروة الرعوية في الوطن العربي تسمى :



○ الأبقار
○ الأبل

○ الأغنام
○ المعاز

س علل الإنتاج الحيواني في الوطن العربي ثروة قابلة للزيادة والنمو

س تحتل الأغنام العربية مكاناً مهماً ضمن الثروة الرعوية

س علل الأغنام أكثر الحيوانات الملائمة لمراعي الوطن العربي

س علل امتلاك الصومال 6.6% من ثروة الوطن العربي من الإبل



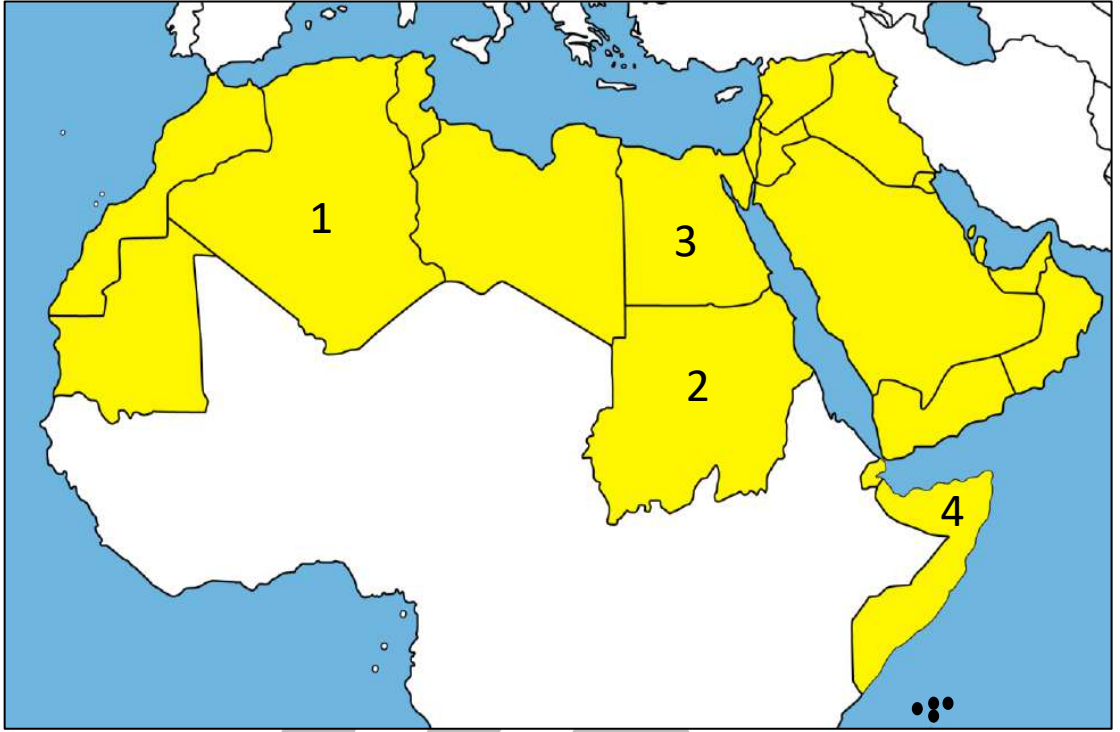
تدرب و تفوق

اختبارات الكترونية

مفوعة في الكويت
KuwaitTeacher.Com



لاحظ خريطة الوطن العربي الصماء ثم اكتب الرقم الدال على كلاً مما يلي:



- س الدولة العربية التي تحتل المركز الأول في تربية الأبقار يمثلها الرقم _____
- س الدولة العربية التي تحتل المركز الأول في تربية الماعز يمثلها الرقم _____
- س الدولة العربية التي تحتل المركز الأول في تربية الأغنام يمثلها الرقم _____
- س الدولة العربية التي تحتل المركز الأول في تربية الإبل يمثلها الرقم _____
- س عل أهمية الثروة الحيوانية

س لاحظ الجدول التالي , ثم قم بعملية حسابية لإنتاج الوطن العربي من الثروة الرعوية:

أبقار	أغنام	ماعز	إبل	المجموع بالمليون رأس
45	116.66	64	49	_____

س علل تربية الدواجن والطيور لها دور مهم في إنتاج الغذاء في الوطن العربي

س عدد العوامل التي ساعدت على انتشار مزارع الدواجن في الوطن العربي



تدرب و تفوق

اختبارات الكترونية



U U L A A

معلمة في الكويت
Kuwaitteacher.Com

الثروة المائية



س علل تنوع الثروة المائية في الوطن العربي

س أكمل : المكان الذي تستطيع عند زيارته التعرف على الثروات المائية في دولة الكويت والوطن العربي يسمى -----



س أذكر الثروات المائية في المركز العلمي مستعيناً بالصورة التالية



س ما أهميتها الاقتصادية

اقرأ الجدول جيداً , ثم أجب:

الرقم	الدولة	الإنتاج (ألف طن)
1	اليمن	157
2	مصر	1374
3	موريتانيا	644
4	المغرب	1246
5	تونس	123
6	الجزائر	122
7	عُمان	206
8	الإمارات	73

س رتب الدول الخمس الأولى في الإنتاج السمكي ترتيباً تنازلياً

س أكبر دولة عربية في الإنتاج السمكي

س علل : تساهم مصر بأكثر من ثلث الإنتاج العربي من الأسماك

س كيف يمكن تنمية الثروة السمكية



تدرب و تفوق

اختبارات الكترونية

U U L A A

معلمة في الكويت
Kuwaitteacher.Com



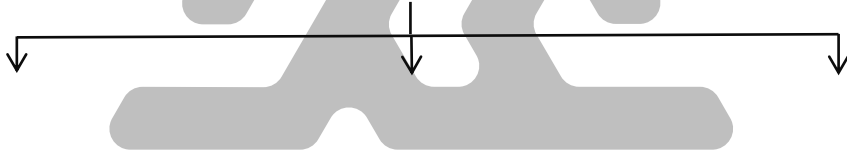
الطاقة والثروة المعدنية النفط والغاز الطبيعي

س عدد أهم الصناعات في الوطن العربي



س علل- أهمية الثروة المعدنية في الوطن العربي محلياً وعالمياً

س عدد مصادر الطاقة والثروة المعدنية في الوطن العربي



عرف المفاهيم التالية:

الطاقة

النفط

الغاز الطبيعي

معاً
مفوعة في الكويت
KuwaitTeacher.Com

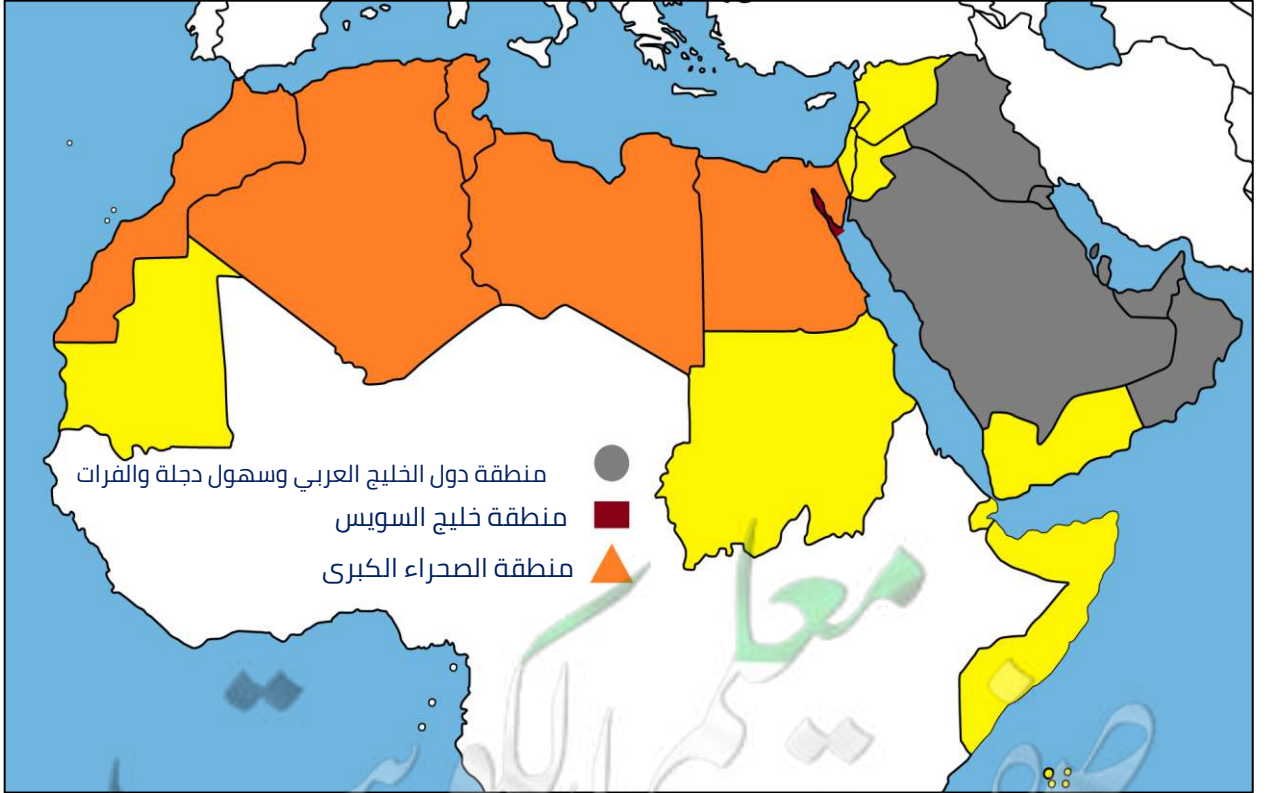
س علل النفط والغاز الطبيعي من أهم مصادر الطاقة

س ما اسم مصدر الطاقة الذي تمثله الصورة المقابلة



س علل أهمية النفط بالنسبة للدول العربية

س عدد المناطق الرئيسية التي تتركز فيها معظم الحقول النفطية في الوطن العربي



اختر الإجابة الصحيحة :

س المراكز التي يحتلها الوطن العربي في مجال إنتاج النفط واحتياطيه و الغاز الطبيعي على مستوى العالم :

- الأولى ○ الثانية ○ الثالثة ○ الرابعة

س منطقة إنتاجها 80 % من إنتاج الوطن العربي من النفط:

- خليج السويس ○ الخليج العربي
○ هضبة نجد ○ الصحراء الكبرى

س منطقة إنتاجها 18% من إنتاج الوطن العربي من النفط:

- خليج السويس ○ الصحراء الكبرى
○ هضبة نجد ○ الخليج العربي

س منطقة إنتاجها 4.7 % من إنتاج الوطن العربي من النفط :

- خليج السويس ○ الخليج العربي
○ هضبة نجد ○ الصحراء الكبرى



تدرب و تفوق
اختبارات الكترونية

أكمل العبارات التالية:



س نسبة احتياط النفط الخام في دول الوطن العربي بالنسبة للعالم تبلغ -----

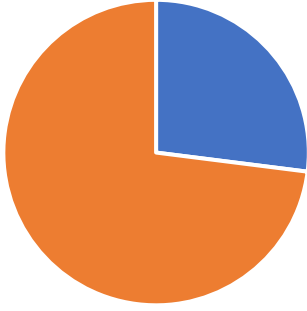
س نسبة احتياط الغاز الطبيعي في دول الوطن العربي بالنسبة للعالم تبلغ -----

س نسبة إنتاج النفط الخام في دول الوطن العربي بالنسبة للعالم تبلغ -----

س نسبة إنتاج الغاز الطبيعي في دول الوطن العربي بالنسبة للعالم تبلغ -----

مفكرة المعلم الكويت
KuwaitTeacher.Com

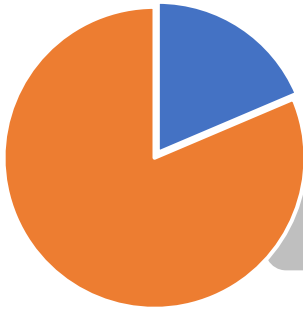
س أكتب مدلول الأشكال التالية :



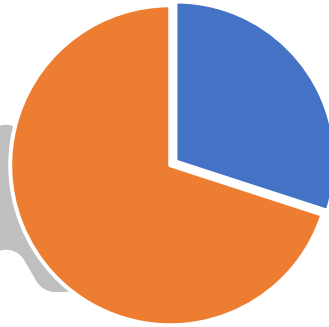
دول الوطن العربي % 27.5



دول الوطن العربي % 55



دول الوطن العربي % 30



دول الوطن العربي % 30



تدرب و تفوق
اختبارات الكترونية

معلمة في الكويت
Kwaitteacher.Com



ادرس الجدول التالي ثم نفذ المطلوب منك

الجناح	إنتاج النفط	احتياطي النفط	إنتاج الغاز الطبيعي	احتياطي الغاز الطبيعي
الآسيوي	%88	%90	%66.5	%82
الأفريقي	%12	%10	%33.5	%18

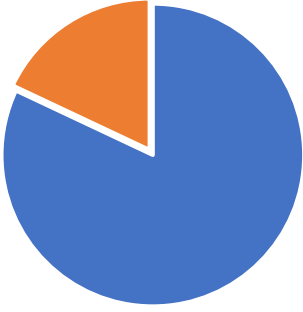
س أكثر جناح عربي في إنتاج واحتياطي النفط في قارة _____

س حول نسب احتياطي النفط لدائرة بيانية

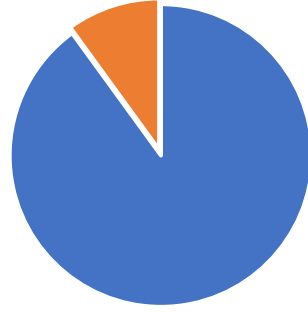
س حول بيانات الجناح الأفريقي تنازلياً لأعمدة بيانية

س حول بيانات الجناح الآسيوي لأعمدة بيانية

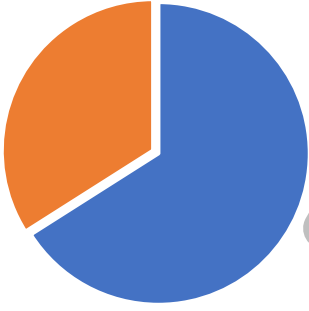




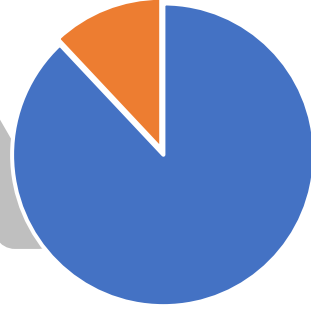
الجنحة الآسيوي 82%
الجنحة الأفريقي 18%



الجنحة الآسيوي 90%
الجنحة الأفريقي 10%



الجنحة الآسيوي 66.5%
الجنحة الأفريقي 33.5%



الجنحة الآسيوي 88%
الجنحة الأفريقي 12%



تدرب و تفوق
اختبارات الكترونية

معلمة في الكويت
Kwaitteacher.Com

لاحظ جدول إنتاج دول الوطن العربي عام 2014م ثم أجب عما يليه من أسئلة:

م	الدولة العربية	إنتاج النفط ألف برميل / يوم	إنتاج الغاز مليار متر مكعب
1	الإمارات	2794	54.2
2	الجزائر	1193	81.7
3	السعودية	9701	102.4
4	العراق	3110	9
5	قطر	703	204.6
6	الكويت	2866.8	15

س رتب تنازلياً الدول الثلاث الأولى في إنتاج النفط

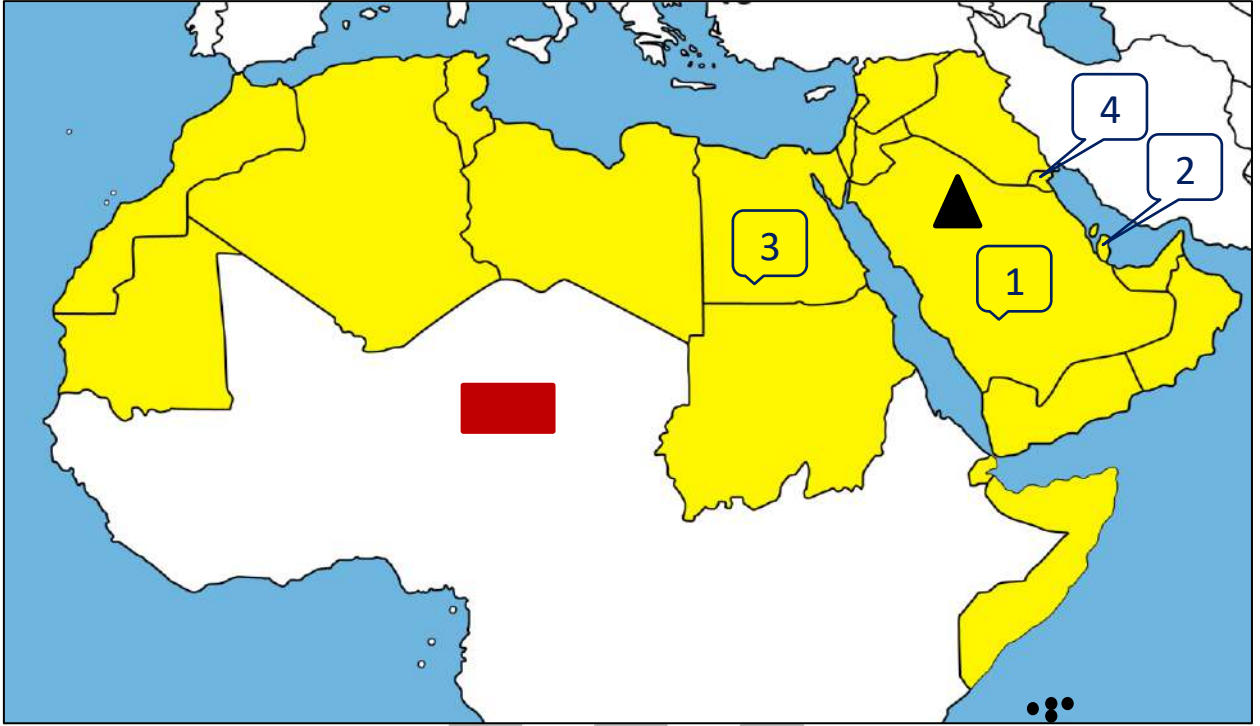
س ظلل في الجدول المقابل الدولة الأولى في إنتاج الغاز

س رتب تنازلياً الدول الثلاث الأولى في إنتاج الغاز

U U L A

معلمة
صفوة
الكويت
KuwaitTeacher.Com

لاحظ خريطة الوطن العربي ثم نفذ المطلوب:



س أكثر جناح عربي في إنتاج واحتياطي النفط في القارة التي يمثلها الرمز -----

س أكثر الدول العربية إنتاجاً واحتياطاً للنفط حسب إحصاء عام 2014 م يمثلها الرقم -----

س الدولة العربية الأولى في إنتاج واحتياطي الغاز الطبيعي يمثلها الرقم -----

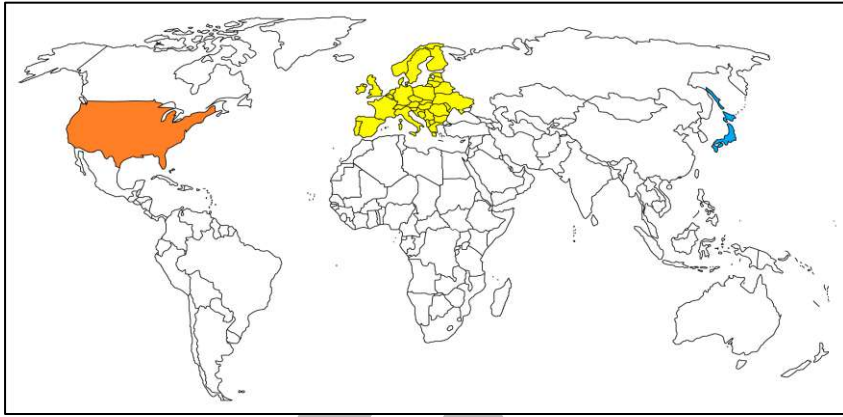
س الدولة العربية التي تحتل المرتبة الثالثة في إنتاج واحتياطي النفط في الوطن العربي يمثلها الرقم -----

س عل معظم صادرات دول الخليج العربية من النفط الخام

معاً
طفرة في الكويت
KuwaitTeacher.Com

س علل يتمتع النفط العربي بمكانة مهمة على المستوى العالمي؟

ممکن أن يظهر السؤال في صيغة اخرى: الدول المستوردة للنفط العربي



س عدد الأسباب التي أعطت النفط العربي أهمية عالمية؟ (مميزات النفط العربي)

ممکن أن يظهر السؤال في صيغة اخرى: مميزات النفط العربي

س اكتب أثر العائدات النفطية على الاقتصاد العربي بوجه عام والخليجي بوجه خاص

س علل يطلق على الغاز الطبيعي اسم الطاقة النظيفة

ممکن أن يظهر السؤال في صيغة اخرى: أكمل



تدرب و تفوق
اختبارات الكترونية




U U L A

معلمة في الكويت
Kwwaitteacher.Com

التعدين في الوطن العربي



س اذكر المعادن المهمة في الوطن العربي



لاحظ خريطة الوطن العربي ثم نفذ المطلوب:

س نسبة إنتاج الوطن العربي من الفوسفات بالنسبة للعالم

س نسبة إنتاج الوطن العربي من الحديد بالنسبة للعالم

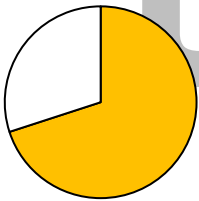
س نسبة إنتاج الوطن العربي من الرصاص بالنسبة للعالم

س نسبة إنتاج الوطن العربي من النحاس بالنسبة للعالم

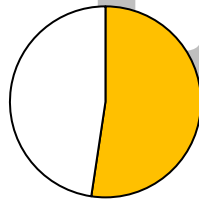
س نسبة إنتاج الوطن العربي من المنجنيز بالنسبة للعالم

اختياري:

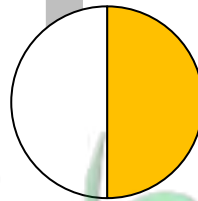
س نسبة إنتاج الوطن العربي من الفوسفات بالنسبة للعالم يمثلها الجزء المظلل في الدائرة البيانية التي تحمل الحرف



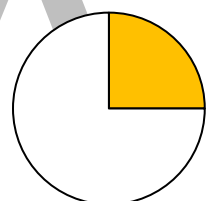
د ○



ج ○



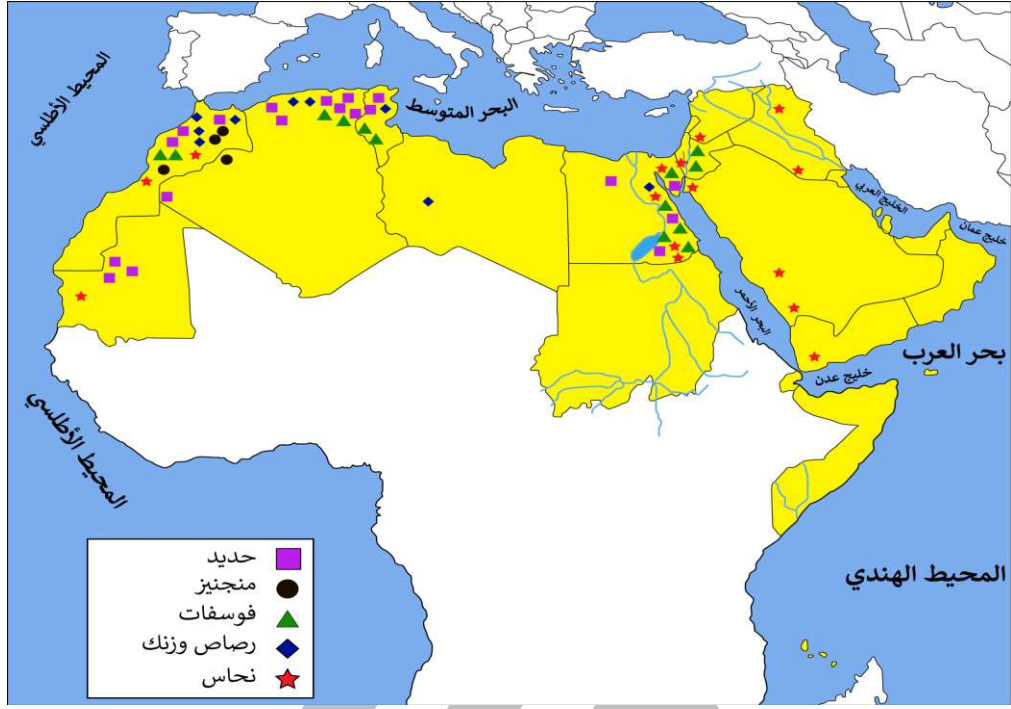
ب ○



أ ○

لاحظ الخريطة جيداً ثم نفذ المطلوب منك :

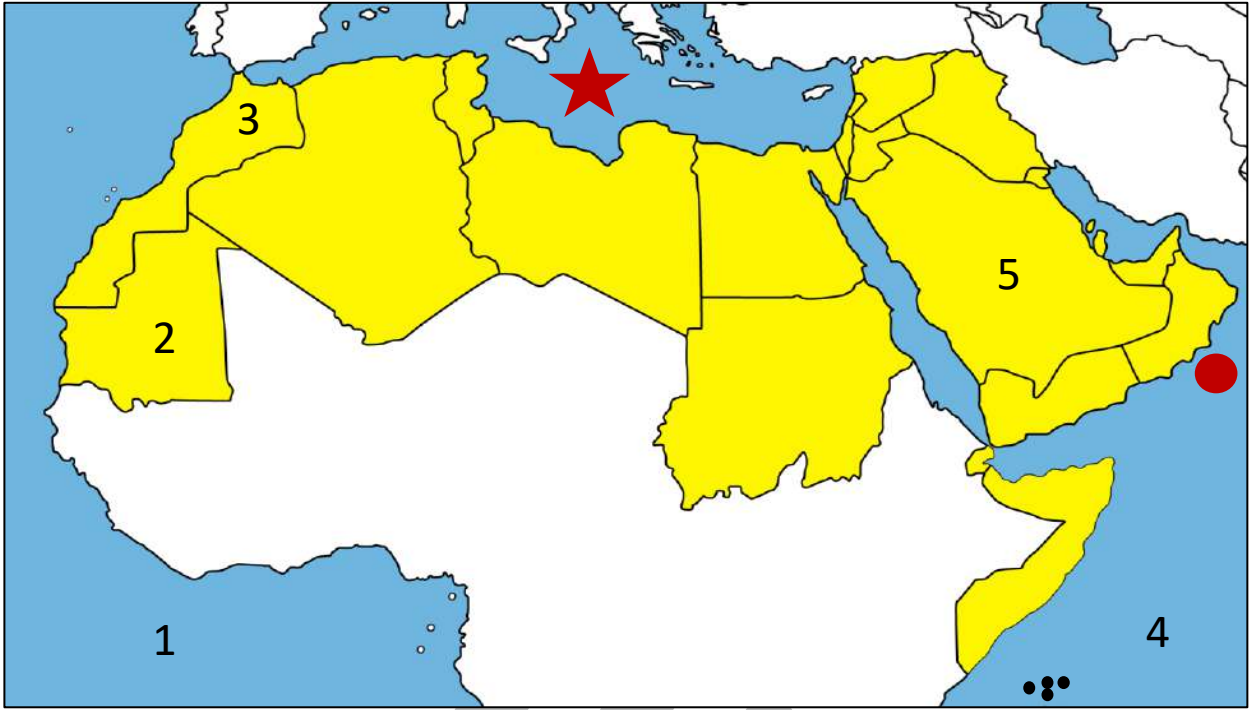
س اكتب مدلول الخريطة المقابلة



س أكمل الجدول التالي

الدول العربية المنتجة للمعدن	المعدن
-----	الفوسفات
-----	الحديد
-----	النحاس
-----	الرصاص

لاحظ خريطة الوطن العربي ثم نفذ المطلوب:



س الدولة التي تحتل المركز الأول عربياً في إنتاج الحديد يمثلها الرقم _____

س الدولة العربية التي تحتل المركز الأول عربياً في إنتاج الفوسفات والنحاس والرصاص والمنجنيز يمثلها الرقم _____

س الشكل (●) على الخريطة يشير إلى بحر اسمه _____

س الشكل (★) على الخريطة يشير إلى بحر اسمه _____

س المحيط الهندي على الخريطة يمثل الرقم _____

س المحيط الأطلسي يمثل على الخريطة الرقم _____



تدرب و تفوق

اختبارات الكترونية

المنظمات الاقتصادية الإقليمية والدولية



س عل إنشاء منظمات عربية وعالمية للدول المصدرة للنفط

أكمل العبارات التالية:

س الشعار المقابل يمثل منظمة تسمى



س المدينة التي تأسست فيها منظمة أوبك عام 1960 م تسمى

س الشعار المقابل يمثل منظمة تسمى



U U L A

معلمة
طفرة
KuwaitTeacher.Com

ممکن أن يظهر السؤال في صيغ اخرى: أكمل - اختياري - صوب

المعيار	منظمة أوبك	منظمة أوابك
التعريف	-----	-----
سنة التأسيس	-----	-----
المقر	-----	-----
عدد الدول	-----	-----
عدد الدول المؤسسة	-----	-----
أهداف المنظمة	----- ----- ----- -----	----- ----- ----- -----
اللجان والأجهزة	----- ----- -----	----- ----- -----

معلمة
طفوفة
في الكويت
KuwaitTeacher.Com

منظمة أوبك	منظمة أوبك	المعيار
		الدول المؤسسة
		الدول الأعضاء بالإضافة للدول المؤسسة
		التشابه بينهما



تدرب و تفوق
اختبارات الكترونية

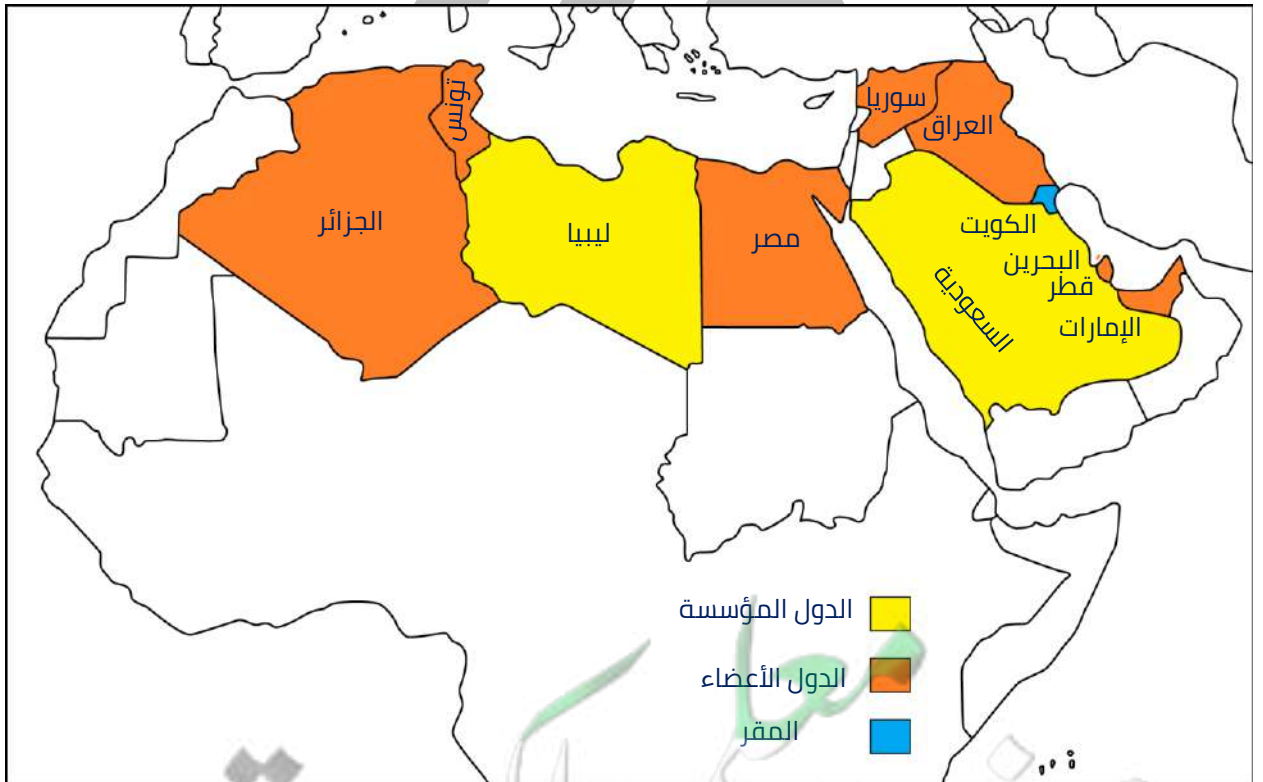
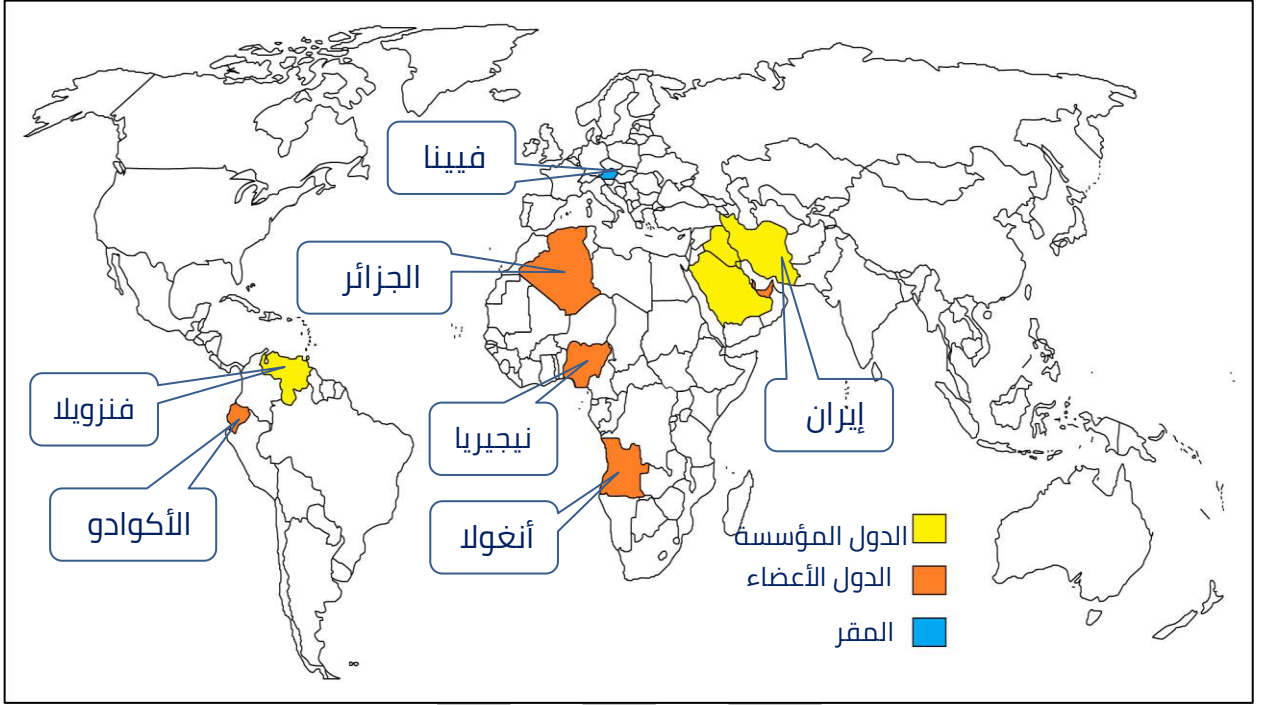


س صنف الدول الأعضاء في منظمة أوبك تبعاً للقارة التي تنتمي إليها كل دولة حسب الجدول :

الكويت - السعودية - العراق - إيران - فنزويلا - قطر - الإمارات -
الجزائر - نيجيريا - أنغولا - الأكوادور

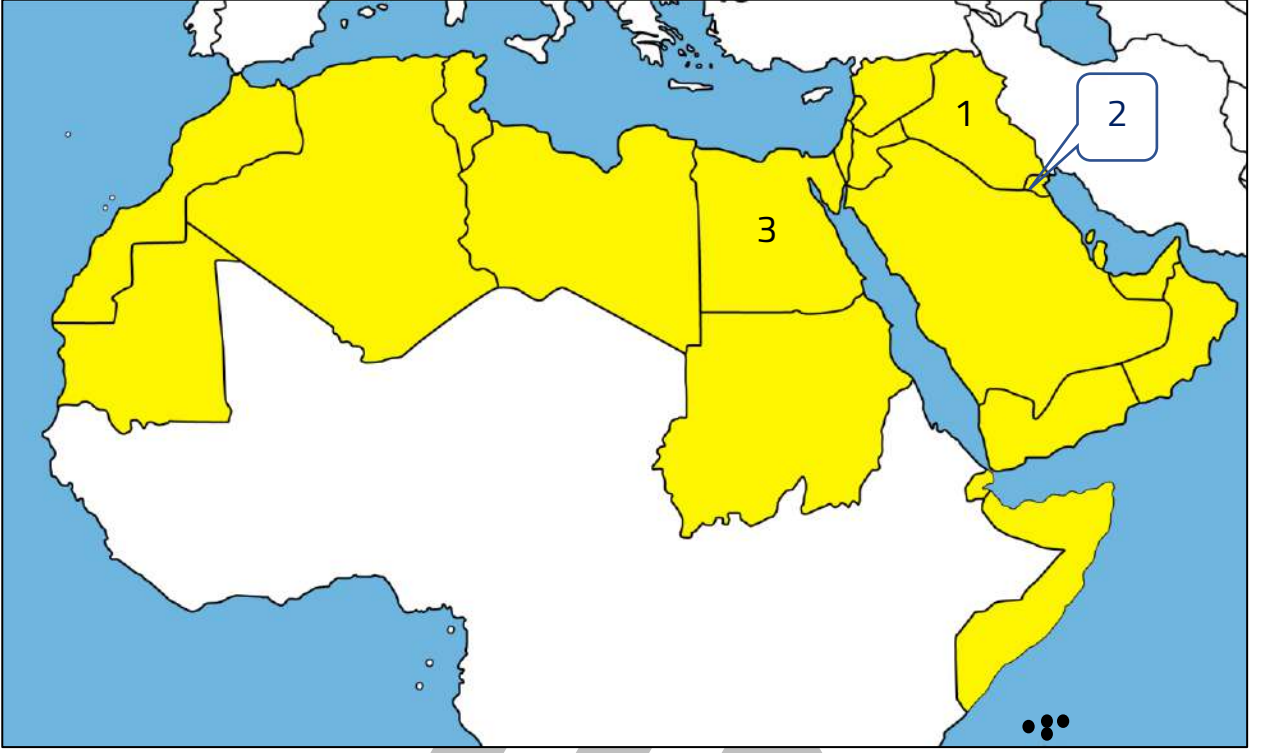
أمريكا الجنوبية	أفريقيا	آسيا

خريطة الدول المصدرة للنفط أوبك



مفاتيح الكوئيت
KuwaitTeacher.Com

لاحظ خريطة الوطن العربي جيداً ونفذ المطلوب منك بكل دقة :



س المدينة التي تأسست فيها منظمة الدول المصدرة للنفط يمثلها الرقم

س الدولة التي يقع فيه المقر الدائم لمنظمة أوبك يمثلها الرقم

اختر الإجابة الصحيحة :

س المقر الدائم لمنظمة الدول المصدرة للنفط مدينة :

- بغداد ○ فيينا ○ باريس ○ القاهرة ○

س عدد الدول الأعضاء في منظمة أوبك :

- 11 دولة ○ 12 دولة ○ 13 دولة ○ 14 دولة ○

س العام الميلادي الذي تأسست فيه منظمة أوبك :

- 1958 م ○ 1968 م ○ 1969 م ○ 1972 م ○



تدرب و تفوق
اختبارات الكترونية

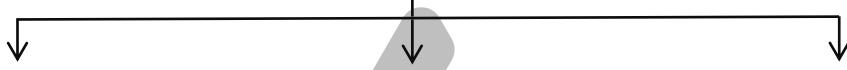


الإنتاج الصناعي والنقل الإنتاج الصناعي

عرف

الصناعة

س عدد مراحل الصناعة



س فرق بين مراحل الصناعة

توزيع	تحويل وتصنيع	مواد أولية
----- -----	----- -----	----- -----

عرف

مقومات الصناعة

س عدد مقومات الصناعة في الوطن العربي

س عدد مقومات الصناعة الطبيعية

س عدد مقومات الصناعة البشرية

س أكتب مقومات الصناعة الطبيعية والبشرية في الشكل المقابل



س عدد أنواع الصناعات في الوطن العربي

.....

.....

.....

س فرق بين كلاً من:

ممكن أن يظهر السؤال في صيغ أخرى: **عرف** **أكمل**

الصناعات التعدينية	الصناعات الاستخراجية
.....
.....
.....

س أكتب نوع الصناعة التي مثلها الصور التالية:



.....

.....

.....

س عدد أهم الدول العربية في الصناعات التعدينية

.....

.....

.....

أكمل:

س ترتبط الصناعات التعدينية بـ



تدرب و تفوق
اختبارات الكترونية



عرف

الصناعات التحويلية

س عدد أمثلة للصناعات التحويلية

س عدد الصناعات التي تقوم على المحاصيل الزراعية في الوطن العربي

س علل أهمية الصناعات التحويلية

عرف

الصناعات التجميعية



تدرب و تفوق
اختبارات الكترونية

أكمل العبارات التالية:

يمكن أن يظهر السؤال في صيغ اخرى: عرف اختياري



س تعد من الصناعات الأولى في العالم تسمى -----

س الصناعة التي تستخدم مواد أولية محلية وتعتمد على المجهود البشري تسمى -----

س عدد أنواع الصناعات الحرفية



أكمل العبارات التالية:

س الصناعات التي تعتمد بنسبة كبيرة على النفط والغاز تسمى الصناعات -----

س يستخرج من النفط مشتقات مثل الكيروسين والديزل والكبريت -----

س تتركز صناعة البتروكيماويات في الوطن العربي في دول الخليج العربي و -----

س من الصناعات البتروكيماوية التي تقوم على الغاز الطبيعي صناعة تسمى -----

س عدد أنواع الصناعات البتروكيماوية



س عدد أهداف الصناعات البتروكيماوية في الوطن العربي

س اختر من المجموعة (أ) ما يناسبها من المجموعة (ب) بوضع الرقم في مكانة الصحيح

الرقم	المجموعة (أ)	الرقم المناسب	المجموعة (ب)
1	الصناعات التجميعية	-----	صناعة الأسمدة
2	الصناعات التعدينية	-----	قطع السيارات
3	الصناعات البتروكيماوية	-----	صفائح النحاس
4	الصناعات التحويلية	-----	الصناعات الغذائية
5	الصناعات الاستخراجية	-----	صناعة البشوت
6	الصناعات الحرفية	-----	النفط

س صنف الصناعات حسب أنواعها في الجدول التالي:
(تعليب الفواكه والخضار - الأثاث - استخراج المعادن - زجاج - أنسجة صوفية -
قطع الأخشاب - أسمنت - صيد الأسماك - الرخام - زيوت وبلاستيك - صهر
الحديد)

صناعات تحويلية	صناعات استخراجية
----- ----- -----	----- ----- -----

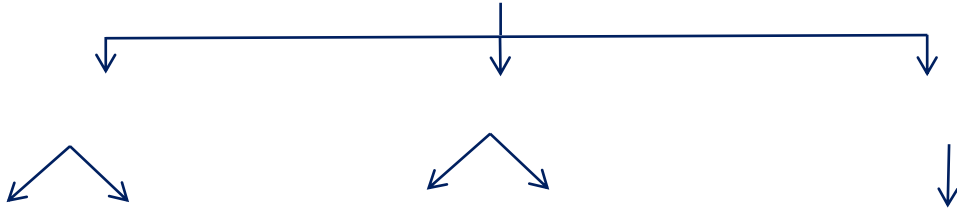


تدرب و تفوق
اختبارات الكترونية

النقل في الوطن العربي



س عدد طرق النقل في الوطن العربي



س علل- تعد وسائل النقل والمواصلات من المقومات الاقتصادية الأساسية

أكمل العبارات التالية:

س درجة نشاط التبادل التجاري تعتمد على مدى توافر وسهولة سبل

س طرق النقل التي تشمل على طرق السكك الحديدية (القطارات) والسيارات والشاحنات تسمى



س علل - تسهم السكك الحديدية في نقل البضائع بكميات قليلة في الوطن العربي

س علل السيارات والشاحنات أكثر وسائل طرق النقل البري انتشاراً

KuwaitTeacher.Com

أكمل العبارات التالية:

س تشتمل على طرق النقل المائي بواسطة الأنهار وطرق النقل الخارجي في البحار والمحيطات تسمى _____

س يقتصر النقل النهري في الوطن العربي على نهري دجلة والفرات ونهر _____

س عدد - أنواع طرق النقل المائية

س علل قلة حجم النقل النهري بالنسبة لباقي وسائل النقل في الوطن العربي



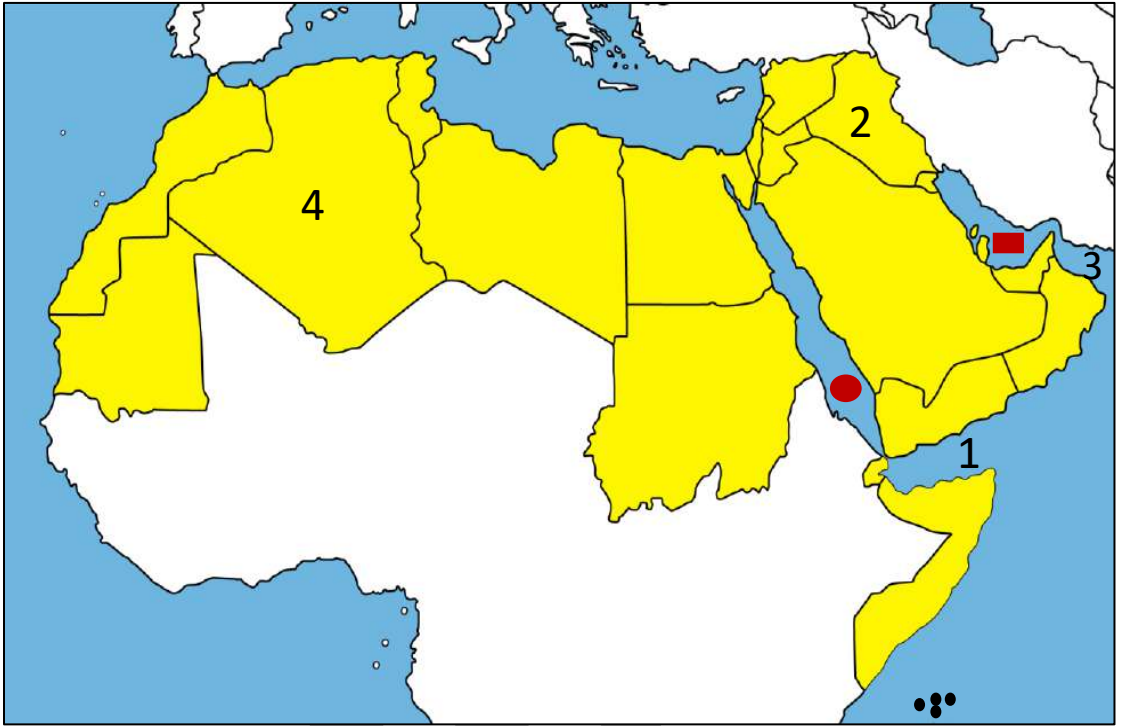
تدرب و تفوق
اختبارات الكترونية

U U L A

معلمة في الكويت
Kuwaitteacher.Com



لاحظ خريطة الوطن العربي الصماء ثم أجب عن الأسئلة التي تليها :



س دولة عربية يقع فيها نهري دجلة والفرات يمثلها الرقم ---

س ارسم مسار نهر النيل على خريطة الوطن العربي 

س الشكل (●) على الخريطة يشير إلى بحر اسمه -----

س الشكل (■) على الخريطة يشير مسطح مائي -----

س خليج عدن على الخريطة يمثله الرقم ---

س خليج عمان يمثل على الخريطة الرقم ---

س علل إنشاء العديد من الموانئ التجارية والنفطية في الوطن العربي

س عرف طرق النقل الجوية

معلمة
كفوة
كويت
KuwaitTeacher.Com


س علل اهتمام الدول العربية بتحديث شبكات المواصلات

س فرق بين كل من :

ممكن أن يظهر السؤال في صيغ اخرى: عرف اختياري صوب

طرق النقل المائية	طرق النقل البرية
<hr/> <hr/> <hr/> <hr/>	<hr/> <hr/> <hr/> <hr/>

تدرب و تفوق
اختبارات الكترونية



UULA

U U L A

معلمة في الكويت
Kwwaitteacher.Com



التبادل التجاري في الوطن العربي

عرف المفاهيم التالية:

التبادل التجاري

التجارة البينية

الصادرات

الواردات

أكمل العبارات التالية:

س الأسواق التي تحتل المكانة الأولى بالنسبة لتجارة الواردات العربية هي

س الأسواق التي تحتل المكانة الأولى بالنسبة لتجارة الصادرات العربية هي

س نسبة الصادرات بين الدول العربية

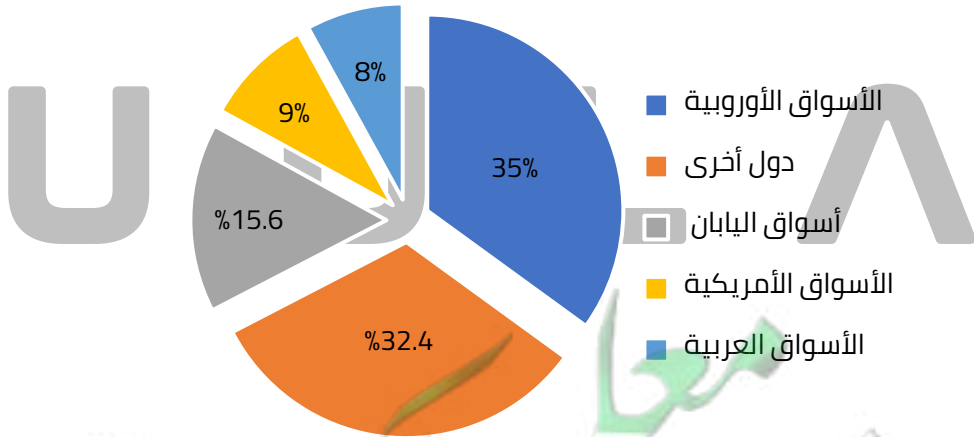
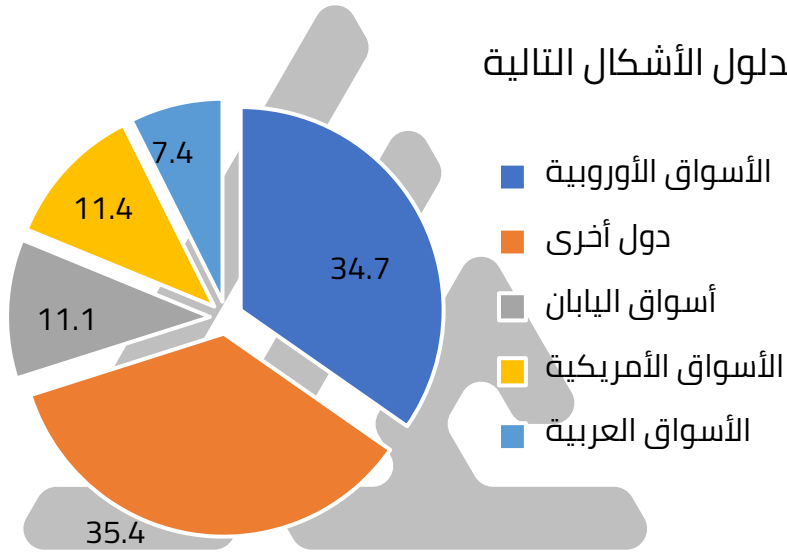
س نسبة الواردات بين الدول العربية

س أذكر السلع التي يتم استيرادها وتصديرها بين الدول العربية

س عل قلة التبادل التجاري بين دول الوطن العربي؟

س أكتب مقترحاتك لتنمية التجارة بين الدول العربية

س أكتب مدلول الأشكال التالية



تدرب و تفوق
اختبارات الكترونية



قضايا وحلول نحو مستقبل عربي أفضل

المشكلات الأساسية في الوطن العربي

س عدد المشكلات الأساسية في الوطن العربي

س عدد العقبات التي تواجه الإنتاج الزراعي في الوطن العربي

ممكن أن يظهر السؤال في صيغة اخرى: أذكر

س علل التصحر أحد المشكلات المرتبطة بالزراعة

س علل عدم استغلال الأراضي القابلة للزراعة في الوطن العربي

س علل تلوث التربة في الوطن العربي

س أكتب مقترحاتك للتغلب على مشاكل الزراعة في الوطن العربي



أكمل العبارات التالية:



س هيئة في دولة الكويت تهتم بالقطاع الزراعي تسمى

س الشعار المقابل يمثل

س علل- موقع الوطن العربي يعرضه بشكل أساسي لمشكلة التصحر



أكمل:

س موقع الوطن العربي في المناطق الجافة وشبه الجافة يعرضه بشكل أساسي لمشكلة تسمى

اقرأ العبارة التالية ثم أجب عما يليها من أسئلة :

" موقع الوطن العربي في المناطق الجافة وشبه الجافة يعرضه بشكل أساسي لمشكلة تسمى التصحر "

س استخرج من العبارة السابقة مشكلة ... ثم عرفها

س عدد أسبابها (كيف تتحول الأراضي الزراعية إلى أرض صحراوية غير منتجة)



س علل السودان والصومال أكثر الدول العربية تهديداً بالتصحر

أكمل

س مكافحة التصحر ضرورة ملحة لعلاج مشاكل

س أكتب مقترحاتك لعلاج مشكلة التصحر في الوطن العربي

س عدد الخطط الاستراتيجية التي اعتمدها الدول العربية لتكثيف العمل الزراعي وتطويره

س عدد النتائج المترتبة على الخطط الاستراتيجية لتكثيف العمل الزراعي في الوطن العربي

س ما النتائج المترتبة على : غياب سياسة زراعية على الصعيد العربي

س فرق بين كل من:

محاصيل زراعية يستوردها الوطن العربي من الخارج	محاصيل زراعية ينتجها الوطن العربي
-----	-----



تدرب و تفوق
اختبارات الكترونية

قضايا وحلول نحو مستقبل عربي أفضل

مشاكل استثمار المياه



س علل تدني وفرة المياه في الوطن العربي

يمكن أن يظهر السؤال في صيغة أخرى: عدد - أسباب تدني وفرة المياه في الوطن العربي

س علل - النمو السريع للسكان في الوطن العربي مسؤول عن تدني نسبة المياه

س علل - الموارد المائية التي تأتي من خارج الوطن العربي مسؤولة عن تدني وفرة المياه

س عدد - الطرق التقليدية المستخدمة المسؤولة عن تدني نسبة المياه في الوطن العربي

س علل - افتقار الدول العربية إلى برامج لإدارة المياه

اختياري:

س النسبة المئوية للموارد المائية التي من خارج حدود الوطن العربي تبلغ:

50 %

43 %

31 %

20 %

س عدد طرق الحفاظ على ثروة المياه في الوطن العربي

س عدد - الوسائل الحديثة للحد من هدر المياه في عمليات الري



تدرب و تفوق
اختبارات الكترونية

U U L A ٨

معلمة في الكويت
مفتوحة
KuwaitTeacher.Com



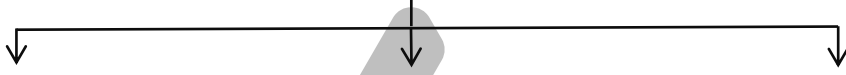
قضايا وحلول نحو مستقبل عربي أفضل

التلوث البيئي

عرف

التلوث

س عدد مصادر تلوث عناصر البيئة



س عدد- أكثر الملوثات انتشاراً

أكمل العبارات التالية :

س من أكثر الملوثات انتشاراً تسمى

س من أكثر الملوثات انتشاراً التلوث الكيميائي مثل

س عدد مصادر الغازات السامة

س عدد - أنواع التلوث



س التلوث البيئي مشكلة عالمية " دلل على صحة العبارة "

اختياري:

س عقدت قمة الأرض عن مشكلة التلوث البيئي عام:

- 1991 م ○ 1992 م ○ 1993 م ○ 1999 م 4

س عقد مؤتمر قمة الأرض عام 1992 م في دولة:

- البرازيل ○ إيطاليا ○ إنجلترا ○ فرنسا

س المؤتمر الذي عقد في مدينة ريودي جانيرو عام 1992 م لمناقشة مشكلة التلوث البيئي عرف باسم:

- فرساي ○ قمة الأرض
○ مشكلة العصر ○ قمة المناخ



س صوب ما تحته خط :

م	العبارة	التصويب
1	من أهم وأخطر المشاكل التي تواجه شعوب العالم اليوم تسمى التلوث الجوي	-----
2	مشكلة تلوث البيئة مشكلة إقليمية	-----
3	حضر قمة الأرض عام 1992 م أكثر من 50 رئيس دولة	-----



تدرب و تفوق
اختبارات الكترونية



**مصنع لفرز
النفايات
ومعالجتها**

س النتيجة:



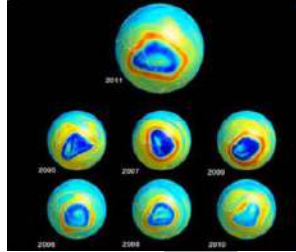
**شاطئ ملوث
بالنفايات**

س النتيجة:



**ثقب في طبقة
الأوزون**

س النتيجة:



**حرق آبار النفط
في دولة الكويت
عام 1991م**

س النتيجة:



س عدد أسباب ثقب في طبقة الأوزون

أكمل العبارات التالية:

يمكن أن يظهر السؤال في صيغة اخرى: **عرف**

س الطبقة الجوية التي تحمي الأرض من الإشعاعات فوق البنفسجية الضارة تسمى

س طبقة الأوزون تحمي الأرض من إشعاعات تسمى

س المواد الغازية الموجودة في وسائل التبريد وتكرير المياه وتؤدي لثقب الأوزون تسمى

س الغاز الناتج عن عوادم السيارات ويؤدي إلى ارتفاع متزايد في حرارة الأرض يسمى

أكتب مما درست النتائج السلبية:

س أوكسيد الكربون الناتج عن عوادم السيارات

س الدخان المتصاعد من المصانع



تدرب و تفوق
اختبارات الكترونية



عرف

التوازن البيئي

س ما النتيجة المترتبة على التوازن البيئي

س دلل: للإنسان دور في المحافظة على التوازن البيئي



س أكمل : عناصر البيئة عناصر البيئة تعمل كمنظومة واحدة مثل

س علل عناصر البيئة تعمل كمنظومة واحدة

س عدد الخطوات نحو سياسة بيئية فاعلة

ما هي مقترحاتك:

س حماية الموارد الطبيعية

س علل- أهمية المحافظة على نظافة الموارد الطبيعية

س كيف يمكننا توليد طاقة نظيفة

س عدد مصادر الطاقة البديلة

ممكن أن يظهر السؤال في صيغة اخرى: أذكر

س اكتب مدلول الصور التالية



مفوعة
KuwaitTeacher.Com

أكمل:

س تعد الرياح والشمس من مصادر الطاقة -----

س ما هي مقترحاتك :
نحو سياسة بيئية فاعلة لتنمية الوعي البيئي .



تدرب و تفوق

اختبارات الكترونية



U U L A

معلمة في الكويت
Kuwaitteacher.Com



قضايا وطول نحو مستقبل عربي أفضل التنمية في الوطن العربي

عرف

التنمية




س أكتب مدلول الصورة المقابلة



س عدد أساليب (محاور) التنمية في الوطن العربي

س عدد أهداف التنمية الاقتصادية

س أكتب مدلول الصور التالية



س عدد أهداف التنمية البشرية ؟

يمكن أن يظهر السؤال في صيغ أخرى:
كيف يتم توظيف قدرات الإنسان العربي لبناء مجتمع المعرفة

س البشر هم الثروة الحقيقية للأوطان " فسر العبارة في ضوء دراستك"



س عدد المشكلات التي تواجه التنمية البشرية

عرف

التنمية المستدامة



س عدد أهداف التنمية المستدامة

س أكتب عن جوهر التنمية المستدامة

اختر الإجابة الصحيحة :

س أشهر العلماء العرب خارج الوطن العربي في تخصص الكيمياء الدكتور:

- معاذ الشلال
○ طه حسين
○ أحمد زويل
○ حافظ إبراهيم

س أشهر العلماء العرب خارج الوطن العربي في تخصص البيولوجيا الدكتور :

- مجدي يعقوب
○ طه حسين
○ حافظ إبراهيم
○ فاروق الباز

س فرق بين كل من

أهداف التنمية البشرية	أهداف التنمية الاقتصادية
.....
.....



تدرب و تفوق
اختبارات الكترونية

U U L A

معاً نحقق
طفرة في الكويت
KuwaitTeacher.Com



قضايا وحلول نحو مستقبل عربي أفضل

التعاون والتضامن العربي لتحقيق التقدم والتنمية

عرف المفاهيم التالية:

س التضامن العربي



س جامعة الدول العربية

أكمل العبارات التالية:

س المدينة التي تم تشكيل جامعة الدول العربية فيها تسمى

س الصورة المقابلة تمثل منظمة عربية تسمى



س تشكلت جامعة الدول العربية في 22 مارس عام

س يبلغ عدد الدول الأعضاء المؤسسين لمنظمة جامعة الدول العربية

س انضمت اليمن لجامعة الدول العربية في 5 مايو عام

س العام الميلادي الذي انضمت فيه دولة الكويت لجامعة الدول العربية

س عدد الدول الأعضاء في جامعة الدول العربية الآن _____ عضواً

س عدد أهداف جامعة الدول العربية

س عدد أبرز مؤسسات منظمة جامعة الدول العربية



س أكتب مدلول الصورة المقابلة

س علل - الصناديق الإنمائية العربية علامات مضيئة للتعاون العربي

س عدد أهم الصناديق الوطنية

ممکن أن يظهر السؤال في صيغة اخرى: الإنمائية العربية - قارن

اسم الصندوق	سنة التأسيس	الشعار
----- ----- -----	1974م	
----- ----- -----	1971م	
----- ----- -----	1961م	

س عدد مساهمات (أهداف) الصناديق الإنمائية العربية



تدرب و تفوق
اختبارات الكترونية

أكمل العبارات التالية:

س منظمة إقليمية للدول الخليجية تسمى



س الشعار المقابل يمثل منظمة إقليمية تسمى

س أعلن قيام مجلس التعاون لدول الخليج العربية في 25 مايو عام

س أعلن قيام مجلس التعاون لدول الخليج العربية في مدينة

س مظهر جديد ومتقدم من مظاهر دعم التضامن بين الدول العربية وفق مبادئ مدروسة يسمى

س عدد الدول الأعضاء في مجلس التعاون لدول الخليج العربية



معلمة
طفوفة
KuwaitTeacher.Com



تدرب و تفوق
اختبارات الكترونية

U U L A

معلمة
طفوفة
الكويت
KuwaitTeacher.Com



قضايا وحلول نحو مستقبل عربي أفضل

دور دولة الكويت في العمل العربي المشترك

أكمل :

س قدمت دولة الكويت الكثير من المساعدات المادية للدول العربية و _____
س علل - تقديم دولة الكويت الكثير من المساعدات المادية للدول العربية والإسلامية

اقرأ الآية الكريمة ثم اجب عما يليها من أسئلة
(الَّذِينَ يُنْفِقُونَ أَمْوَالَهُمْ فِي سَبِيلِ اللَّهِ ثُمَّ لَا يُتْبِعُونَ مَا أَنْفَقُوا مَنًّا وَلَا أَذًى ۖ لَهُمْ أَجْرُهُمْ عِنْدَ رَبِّهِمْ وَلَا خَوْفٌ عَلَيْهِمْ وَلَا هُمْ يَحْزَنُونَ)

س الآية الكريمة تدل على شكل من مساهمات دولة الكويت للدول العربية والإسلامية يسمى _____

س عدد- أشكال مساهمات دولة الكويت للدول العربية والإسلامية

س أكتب مدلول الصور التالية:

ممكن أن يظهر السؤال في صيغة أخرى:
 عدد المنظمات العربية التي شاركت فيها دولة الكويت لتنفيذ المشاريع التنموية العربية



أكمل العبارات التالية:

س الدولة التي يوجد بها مقر المنظمة العربية للتنمية الزراعية تسمى _____

س الدولة التي يوجد بها مقر المنظمة العربية للتنمية الصناعية والتعدين تسمى _____

س الدولة التي يوجد بها مقر المنظمة العربية للتربية والثقافة والعلوم تسمى _____

اختياري:

س المنظمة العربية للتربية والثقافة والعلوم تسمى:

○ اليونيسيف

○ اليونسكو

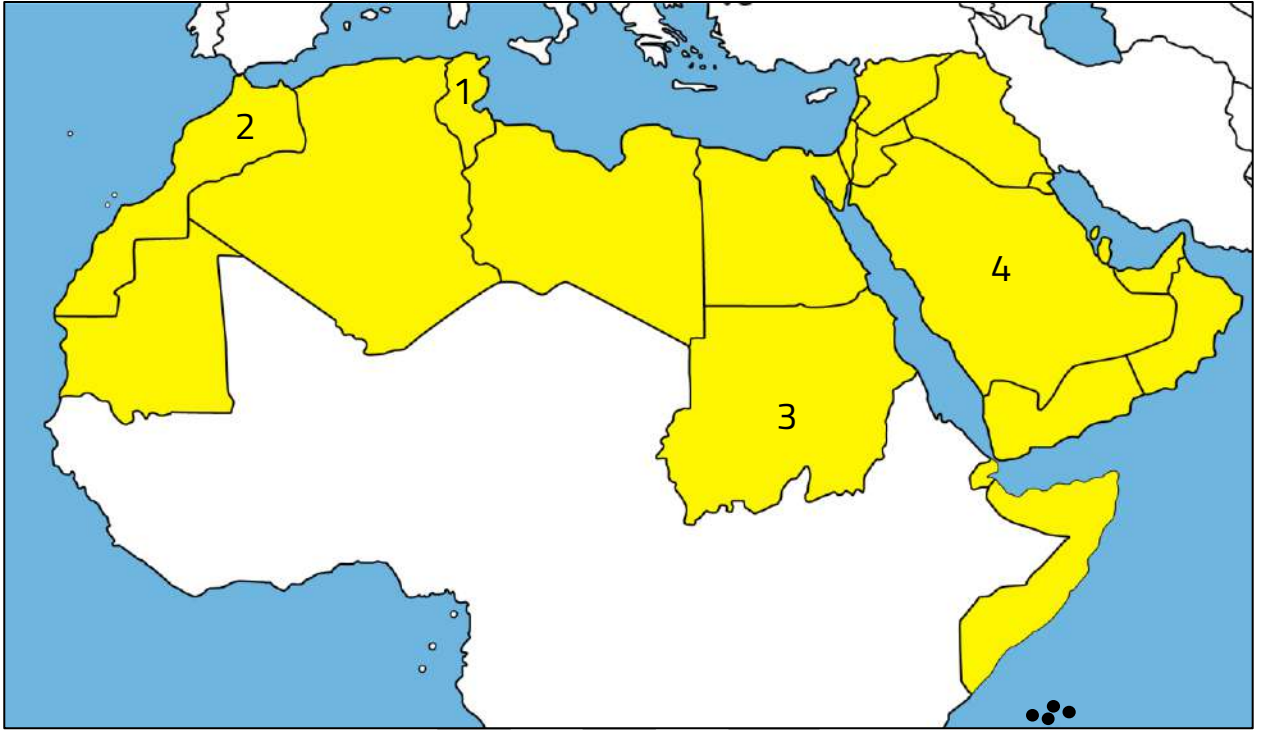
○ إيسيسكو

○ ألكسو

U U L A

معلمة
مفتوحة
معكم
الكويت
KuwaitTeacher.Com

لاحظ خريطة الوطن العربي الصماء ثم اكتب الرقم الدال على كلاً مما يلي :



س الدولة التي يوجد بها مقر المنظمة العربية للتنمية الزراعية تحمل الرقم ----

س الدولة التي يوجد بها مقر المنظمة العربية للتنمية الصناعية و التعدين تحمل الرقم ----

س الدولة التي يوجد بها مقر المنظمة العربية للتربية والثقافة والعلوم تسمى ----



تدرب و تفوق

اختبارات الكترونية

معلمة في الكويت
طفوفة
KuwaitTeacher.Com

أكمل العبارات التالية:

س أول مؤسسة للتنمية في الوطن العربي تسمى



س صاحب فكرة تأسيس الصندوق الكويتي للتنمية الاقتصادية العربية الشيخ



س الصندوق الكويتي للتنمية الاقتصادية العربية تأسس في عهد الشيخ

س تأسس الصندوق الكويتي للتنمية الاقتصادية العربية في 31 ديسمبر عام

اختياري:

س الوزارة التي ترأسها صاحب السمو الشيخ جابر الأحمد الصباح عام 1961 م:

○ المالية ○ الخارجية ○ التخطيط ○ الداخلية

س الوزارة التي يتبعها الصندوق الكويتي للتنمية الاقتصادية العربية:

○ المالية ○ الخارجية ○ التخطيط ○ الداخلية

س عدد أهداف (مساهمات) الصندوق الكويتي للتنمية الاقتصادي العربية

U U L A



تدرب و تفوق

اختبارات الكترونية

مفوعة الكويت
KuwaitTeacher.Com



س عدد أهم المؤتمرات الاقتصادية العربية التي استضافتها دولة الكويت

س اكتب مدلول الصور المقابلة :



أكمل العبارات التالية:

س استضافت دولة الكويت القمة العربية الاقتصادية والتنمية والاجتماعية 19- 20 يناير عام _____

س صاحب مبادرة عقد القمة العربية الاقتصادية والتنمية والاجتماعية عام 2009م هو الشيخ _____

س أكبر وأهم مؤتمر قمة عربية منذ تاريخ نشأة جامعة الدول العربية يسمى القمة العربية الاقتصادية والتنمية والاجتماعية _____

س الدولة التي عقد فيها أكبر وأهم مؤتمر قمة عربية منذ تاريخ نشأة جامعة الدول العربية تسمى _____

س القمة العربية التي تعتبر بوابة الخير للعمل الاقتصادي العربي عام 2009م تسمى _____

س أبرز أولويات مؤتمر القمة العربية الاقتصادية والتنمية والاجتماعية سنة 2009م هي _____

س ما النتائج المترتبة على الغزو الإسرائيلي العاشم لقطاع غزة عام 2009م _____

س دلل- ايمان الشيخ صباح الأحمد أن العالم العربي يمر بمرحلة حرجة وتحديات خطيرة عام 2009م

س عدد أهم أهداف القمة الاقتصادية التنموية العربية

س علل- حظيت مبادرة الشيخ صباح الأحمد باستضافة الكويت المؤتمر الدولي الأول لمانحي سوريا ترحيب عربي ودولي عام 2013م

س أكمل الجدول التالي :

الدولة التي عقد فيها	العام الميلادي	المؤتمر
	-----	المؤتمر الدولي الأول للمانحين لدعم الوضع الإنساني في سوريا
-----	-----	المؤتمر الدولي الثاني للمانحين لدعم الوضع الإنساني في سوريا
	-----	المؤتمر الدولي الثالث للمانحين لدعم الوضع الإنساني في سوريا

س ماذا تمثل صورة اليد التي في الشعار المقابل:



س أكتب مدلول الصورة المقابلة:



تدرب و تفوق
اختبارات الكترونية

U U L A

معلمي الكويت
قفوة
KuwaitTeacher.Com