



الجغرافيا

الكورس الثاني

12



الجبغرافيا

الكورس الثاني

12

معلمة الكويت
كفوفة
KuwaitTeacher.Com

شلون تتفوق بحراستك

طريقة علا المتكاملة للدراسة تشمل الاستفادة من المذكرة و الفيديوهات و الاختبارات



⚠ علا تخلي المذكرة أقوى

تبي أعلى الدرجات؟ لا تعتمد على المذكرة بروحها - ادرس صح من الفيديوهات و الاختبارات

اختبارات ذكية تدربك

حل الاختبارات الالكترونية أول بأول عشان ترفع مستواك



فيديوهات تشرح لك

تابع الفيديوهات و انت تدرس المذكرة عشان تضبط الدرس



.....

اشترك بالمادة

احرص على تفعيل اشتراكك عشان تستفيد كثر ما تقدر



اكتشف عالم التفوق مع باقات علا ادرس جميع مواد مرحلتك باشتراك واحد بسعر خيالي

Kuwaitteacher.Com

المنقذ

أقوى مذكرة صارت الحين أقوى و أقوى مع خاصية
المنقذ للمساعدة الفورية

شنو المنقذ؟

امسح الباركود بكاميرا تلفونك
وتعرف على طريقة استخدام المنقذ



شنو فائدة هالخاصية؟

أول ما تحتاج مساعدة بالمادة , المنقذ بينقذك .

امسح الباركود بكاميرا التلفون أو اضغط عليه إذا كنت فاتح
المذكرة من جهازك و يطلع لك فيديو الشرح.

KuwaitTeacher.Com

01 مشكلة التلوث

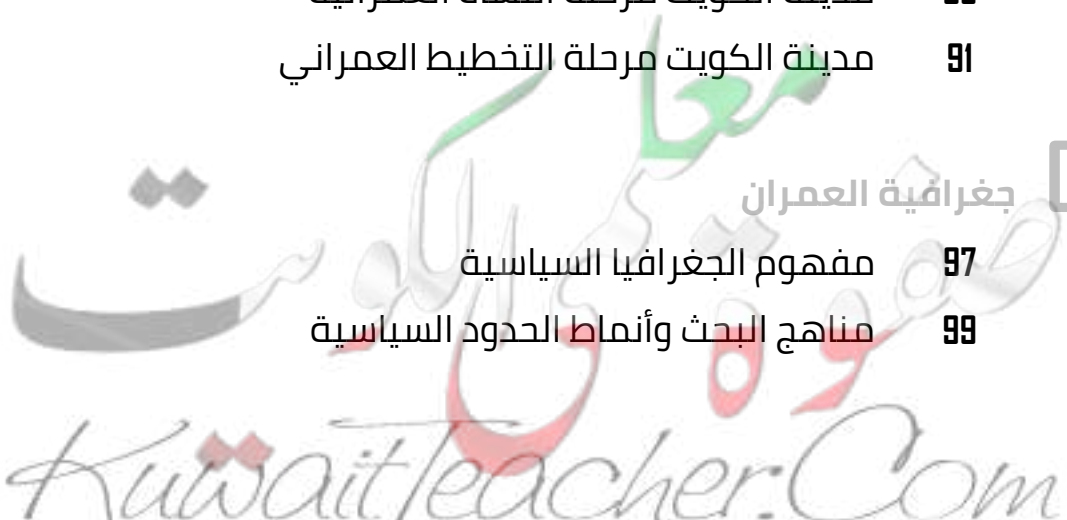
مفهوم التلوث البيئي	6
أنواع التلوث	10
التلوث المائي	19
التلوث الضوئي	23
التلوث البيئي مشكلة عالمية	26
كارثة الكويت البيئية	34

02 جغرافية السكان

مفهوم جغرافيا السكان	48
النمو السكاني	50
التركيب السكاني	60
التوزيع والكثافة السكانية	65
الانفجار السكاني	72
مفهوم جغرافية العمران	74
دوافع نشأة المدن	79
مدينة الكويت	83
مدينة الكويت مرحلة النشأة العمرانية	85
مدينة الكويت مرحلة التخطيط العمراني	91

03 جغرافية العمران

مفهوم الجغرافيا السياسية	97
مناهج البحث وأنماط الحدود السياسية	99



مفهوم نظم المعلومات الجغرافية	102
مكونات نظم المعلومات الجغرافية	106
مجالات استخدام نظم المعلومات الجغرافية	112
فوائد نظم المعلومات الجغرافية	117
خصائص نظم المعلومات الجغرافية	120
أهداف نظم المعلومات الجغرافية	122

معلمي الكويت
مفتوحة
KuwaitTeacher.Com



مفهوم التلوث البيئي

عرف

س التلوث البيئي

أكمل

س خلل في النظام البيئي ناتج عن التغير الكمي والنوعي في عناصر هذا النظام
يسمى -----

س علل - يرتبط المفهوم العلمي للتلوث البيئي بالدرجة الأولى بالنظام الأيكولوجي

س التلوث ظاهرة بيئية أخذت اهتمام حكومات الدول منذ النصف الثاني من القرن
20

ممكن أن يظهر السؤال في صيغ أخرى: (ارتباط مشكلة التلوث البيئي بالثورة الصناعية)
(مشكلة التلوث البيئي بدأت تأخذ أبعاد بيئية واقتصادية واجتماعية خطيرة)

أكمل العبارات التالية :

س الظاهرة البيئية التي أخذت اهتمام الحكومات في النصف الثاني من القرن
العشرين تسمى -----

س مشكلة التلوث أخذت اهتمام الحكومات في النصف الثاني من القرن

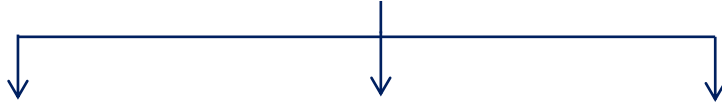
س المشكلة البيئية التي أخذت أبعاد بيئية خطيرة بعد الثورة الصناعية تسمى

س الثورة التي نتجت عنها مشكلة التلوث تسمى

س القارة التي شهدت قيام الثورة الصناعية تسمى

س المنطقة التي شهدت قيام الثورة الصناعية

س عدد - درجات التلوث



عرف

س التلوث المقبول

علل

س التلوث المقبول ظاهرة وليس مشكلة

أكمل

س درجة من درجات التلوث لا تخلو منطقة من مناطق الكرة الأرضية منها تسمى

عرف

س التلوث الخطر

أكمل العبارات التالية :

س الدول التي تعاني من درجة التلوث الخطر تسمى

س درجة من درجات التلوث تعاني منه كثير من الدول الصناعية وينتج بالدرجة الأولى من الاعتماد على الفحم والبترول يسمى

علل

س تعاني الدول الصناعية من درجة التلوث الخطر

عرف

س التلوث المدمر

عل

س التلوث المدمر أخطر درجات التلوث

س انهيار النظام الأيكولوجي في درجة التلوث المدمر

أكمل العبارات التالية :

س حدث مفاعل تشيرنوبل درجة من درجات التلوث

س أشهر حوادث التلوث المدمر حادثة تسمى

س أشهر حوادث التلوث المدمر حادثة تسمى



معلمة
كفوة في الكويت
KuwaitTeacher.Com

المقارنة	التلوث الخطر	التلوث المدمر
الأسباب		
النتائج		



تدرب و تفوق
اختبارات الكترونية

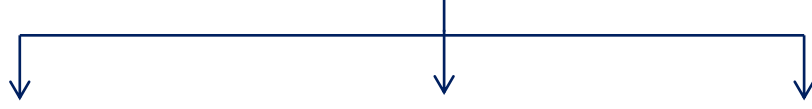
U U L A A

معاً
قفوة
KuwaitTeacher.Com



مشكلة التلوث أنواع التلوث

س عدد - أنواع التلوث



أكمل المعادلة الجغرافية

س التلوث الهوائي + التلوث الضوضائي = أنواع التلوث

عرف

س التلوث الهوائي

ممكن أن يظهر السؤال في صيغة اخرى: (علل حدوث التلوث الهوائي)



علل

س التلوث الهوائي أكثر أنواع التلوث البيئي انتشاراً

اختياري

س أكثر أنواع التلوث البيئي انتشاراً

التلوث الهوائي
 تلوث التربة

التلوث المائي
 التلوث الضوضائي

عرف

س الغلاف الجوي

ممکن أن يظهر السؤال في صيغ أخرى: أكمل اختياري

علل

س أهمية الغلاف الجوي

لاحظ الجدول المقابل ثم أجب عن الأسئلة

س استنتج نسبة غاز الأوكسجين

مكونات الغلاف الجوي	
% 78	النيتروجين
؟؟؟؟	الأوكسجين
% 1	غازات اخري + بخار الماء

س حول الجدول إلى أعمدة بيانية - دائرة بيانية

U U L A

س عدد مصادر التلوث الهوائي

مفوعة بيانية الكويت
KuwaitTeacher.Com

س قارن بين مصادر التلوث الهوائي

المقارنة	العوامل الطبيعية	العوامل البشرية
المفهوم		
أمثلة		

اختياري

س الغاز المنتج طبيعياً مصدراً للتلوث الهوائي :

- الأوزون ○ الهليوم ○ النيتروجين ○ الأكسجين

أكمل

س الملوثات المرتبطة بالدرجة الأولى بالنشاط البشري تسمى

علل

س زيادة تأثير العوامل البشرية على التلوث الهوائي

U U L A

معا
طفرة
KuwaitTeacher.Com

س عدد - المضاعفات البيئية للتلوث الهوائي

س آثار التلوث الهوائي على المناخ

س النتائج المترتبة على زيادة ثاني أكسيد الكربون في الجو

ممکن أن يظهر السؤال في صيغة أخرى: (عدد - مخاطر تركيز غاز ثاني أكسيد الكربون)

علل

س بدأت المخاطر البيئية تظهر بشكل شامل وعالمي

أكمل

س بدأت المخاطر البيئية تظهر بشكل شامل وعالمي بسبب تزايد تركيز غاز

س أوجد سبباً لحدوث إصابة الأنظمة الزراعية في العالم بالشلل

ممکن أن يظهر السؤال في صيغة أخرى : **علل**

ماذا يحدث إذا :

س حدث تسخين شامل للأرض

تدرب و تفوق
اختبارات الكترونية



أكمل العبارات التالية :

ممكن أن يظهر السؤال في صيغة اخرى: اختياري



س طبقة من طبقات الجو العليا تأثرت بالتلوث الهوائي تسمى

س نطاق تواجد الأوزون في الجو يتراوح من سطح الأرض كم

س طبقة الغلاف الجوي التي يتركز بها الأوزون تسمى

س طبقة الأوزون جزء من أكبر طبقات الغلاف الجوي تسمى

س الاشعاعات التي تمتصها وترشدها طبقة من طبقات الجو العليا (الأوزون) تسمى

س الطبقات التي تتجاوز حدود 50 كيلومتراً تسمى

اختياري

س طبقة الأوزون جزء من أكبر طبقات الغلاف الجوي تسمى

○ التروموسفير ○ الاستراتوسفير ○ التروبوسفير ○ الميزوسفير

س ما النتائج المترتبة على تلوث الأوزون في طبقات الجو العليا

س علل - الأوزون عنصراً ثميناً للغاية

س عدد النتائج المترتبة على نقص الأوزون في الجو

ممكن أن يظهر السؤال في صيغة اخرى: (ماذا يحدث لو حدث نقص بطبقة الأوزون بمعدل 2%)

أكمل العبارات التالية :

س العلاقة بين نقص طبقة الأوزون ونسبة الأشعة فوق البنفسجية الواصلة للأرض -

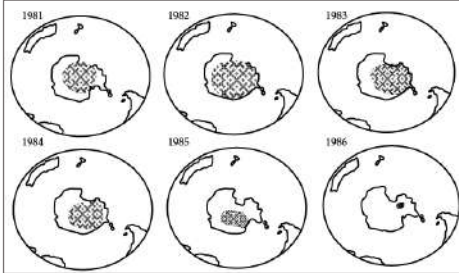
س نقص الأوزون بمعدل 4% يؤدي لزيادة الأشعة فوق البنفسجية التي تصل للأرض بمقدار

س نقص الأوزون بمعدل 4% يؤدي لزيادة معدلات الإصابة بالأمراض الخبيثة بمقدار

س دلى - لم تسلم طبقة الأوزون من عبث وتدمير الإنسان

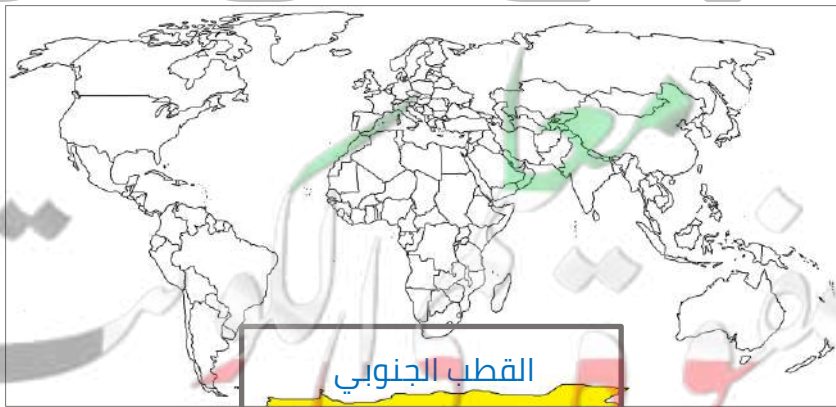
أكمل العبارات التالية - حدد على الخريطة

س الصورة المقابلة تمثل ظاهرة تسمى



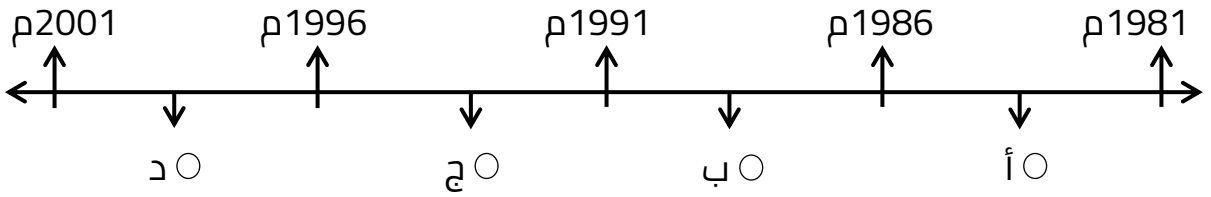
س المنطقة (القارة) التي أكتشف العلماء فيها ثقب الأوزون تسمى

س المنطقة التي ظهرت فوقها فجوة الأوزون عام 1981م تسمى



اختياري:

س فترة ظهور وتطور فجوة الأوزون في منطقة القطب الجنوبي يمثلها على المخطط الزمني الحرف :



عدد

س أهم الغازات المسؤولة عن ثقب الأوزون

ممكن أن يظهر السؤال في صيغة أخرى: (علل: حدوث فجوة الأوزون في منطقة القطب الجنوبي)

اختياري

س أكثر الغازات تأثيراً على طبقة الأوزون هي

- الكلوروفلور - ثاني أكسيد الكربون - أول أكسيد الكربون
- أول أكسيد الكربون - الميثان - النيتروجين
- الكلوروفلور - الميثان - ثاني أكسيد الكربون
- الميثان - النيتروجين - أول أكسيد الكربون

علل

س كربونات الكلوروفلور أهم الغازات المسؤولة عن فجوة الأوزون

ممكن أن يظهر السؤال في صيغة أخرى: أكمل اختياري

أكمل العبارات التالية :

س مركبات ذات درجة ثبات عالية ومسئولة عن ثقب الأوزون تسمى

س مركبات ذات درجة ثبات عالية يرمز لها (ك . ك . ف) تسمى



تدرب و تفوق
اختبارات الكترونية



س ما الآثار البشرية المترتبة على التلوث الهوائي في البيئة

ممکن أن يظهر السؤال في صيغة أخرى: (عدد النتائج المترتبة على زيادة التلوث الهوائي على سكان المدن والمناطق القريبة منها)

عرف

س لاجئ البيئة

ممکن أن يظهر السؤال في صيغة أخرى: **أكمل** **اختياري**

عدد

س الآثار الاقتصادية للتلوث الهوائي

ممکن أن يظهر السؤال في صيغة أخرى: (أكمل - اختياري)
(للتلوث الهوائي العديد من الآثار الاقتصادية السلبية - دلي على صحة العبارة)



اختر الإجابة الصحيحة :

س من الآثار الاقتصادية الناتجة عن التلوث الهوائي :

- ارتفاع معدلات الوفيات
- ظهور لاجئ البيئة
- التكلفة الباهظة للأضرار البيئية
- زيادة الأمراض لسكان المدن

س الدولة التي يقدر فيها تكاليف الأضرار للموارد المائية والأسماك الناتجة عن التلوث الهوائي 3 مليار دولار سنوياً

- الولايات المتحدة الأمريكية
- روسيا
- كندا
- فرنسا

س التلوث الذي يسبب أضرار للموارد المائية والأسماك في الولايات المتحدة الأمريكية بقيمة 3 مليار دولار سنوياً يسمى

- التلوث الهوائي
- التلوث الضوضائي
- التلوث المائي
- تلوث التربة

عدد

س أساليب معالجة التلوث الهوائي

علل

س زراعة الأشجار على جوانب الطرق من أفضل أساليب معالجة التلوث الهوائي



تدرب و تفوق
اختبارات الكترونية



مشكلة التلوث التلوث المائي

عرف

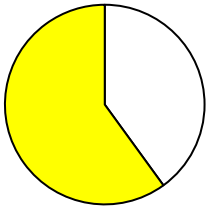
س التلوث المائي

أكمل

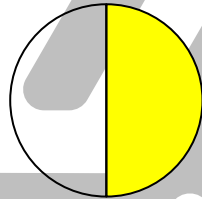
س نسبة الغلاف المائي من مساحة الكرة الأرضية -----

اختر الإجابة الصحيحة :

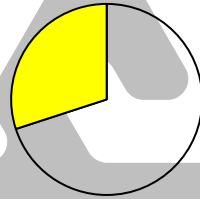
س نسبة الغلاف المائي من مساحة الكرة الأرضية يمثلها الجزء المظلل في الدائرة البيانية



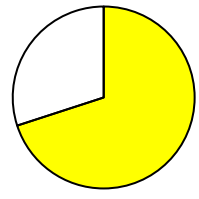
د ○



ج ○



ب ○



أ ○

س يبلغ حجم الغلاف المائي نحو :

○ 299 مليون ميل³

○ 399 مليون ميل³

○ 296 مليون ميل³

○ 396 مليون ميل³

U U L A A

معاً
نحافظ على الكويت
KuwaitTeacher.Com

علل

س أهمية المياه على سطح الأرض



علل

س تلوث المياه العذبة السطحية والجوفية

ممکن أن يظهر السؤال في صيغة أخرى: (عدد أسباب)

عدد

س أسباب تلوث مياه البحار والمحيطات

ممکن أن يظهر السؤال في صيغة أخرى: علل



عدد

س أهم أسباب التلوث المائي

علل

س البترول الملوث الأساسي للبيئة البحرية

عرف

س مياه التوازن

س ما النتائج المترتبة على تفريغ مياه التوازن من ناقلات النفط في البحر

علل

س الملوثات العضوية أحد أسباب التلوث المائي

اثبت صحة العبارة الآتية :

س " البقع الزيتية الطافية لها تأثير سيئ على عملية التمثيل الضوئي "

عدد

س أساليب معالجة التلوث المائي

ممكن أن يظهر السؤال في صيغة أخرى: (فسر - توجد طرق متعددة لعلاج التلوث المائي)

معالجة التلوث
Kwaitteacher.Com

س العوامل التي تؤدي لانتشار البقع الملوثة في المياه

اختياري

س يتم تطهير مياه الشرب باستعمال :

- الأوزون
- الأشعة فوق البنفسجية
- الكلور
- كل ما سبق

س الوسائل المستخدمة في التخلص من الطحالب والنباتات الملوثة لمياه الأنهار

- الميكانيكية
- الكيميائية
- جميع ما سبق

س عدد طرق تطهير مياه الشرب من التلوث المائي

علل

س الأشعة فوق البنفسجية سلاح ذو حدين



تدرب و تفوق
اختبارات الكترونية

معلمة
صفوة
معلمة الكويت
KuwaitTeacher.Com



مشكلة التلوث التلوث الضوضائي

عرف المفاهيم التالية :

س التلوث الضوضائي



س الضوضاء

عدد

س مصادر التلوث الضوضائي

ممكن أن يظهر السؤال في صيغة أخرى: (علل: زياد التلوث الضوضائي في المدن والمناطق السكنية)

اختياري

س وسائل النقل المختلفة مصدر للتلوث الضوضائي خاصة :

- الطائرات ○ القطارات ○ السفن ○ السيارات

علل

س الأجهزة المنزلية أحد مصادر التلوث الضوضائي

معاً
صفوة
KuwaitTeacher.Com

س مخاطر التلوث الضوضائي (المدن)

ممكن أن يظهر السؤال في صيغ أخرى: (للتلوث الضوضائي مخاطر عديدة على صحة الإنسان برهن على صحة العبارة) - (علل اهتمام الدول بمعالجة مخاطر التلوث الضوضائي)

علل

س التلوث الضوضائي له تأثير سيئ على الجهاز العصبي للإنسان

س ما الاجراءات المناسبة لمعالجة معاناة سكان المدن من التلوث الضوضائي

ممكن أن يظهر السؤال في صيغة اخرى : (عدد - سبل مكافحة التلوث الضوضائي)

أكمل

س الصورة المقابلة تمثل عامل مساعد لمكافحة تلوث يسمى



علل

س زراعة الأشجار من أفضل سبل معالجة التلوث البيئي

المعيار	التلوث الضوضائي	التلوث المائي
الأسباب
أساليب المعالجة



تدرب و تفوق
اختبارات الكترونية

U U L A

معلمة في الكويت
Kuwaitteacher.Com



مشكلة التلوث التلوث البيئي مشكلة عالمية

علل

س أصبحت مشكلة التلوث مشكلة عالمية

ممكن أن يظهر السؤال في صيغة أخرى: (علل - أخذت المشكلات البيئية المعاصرة صفة العالمية)

س ظهور التلوث في دولة لا تمارس النشاط التعدين والصناعي

عدد

س العوامل المناخية والبشرية التي أضفت صفة العالمية على مشكلة التلوث البيئي

س أقسام دورة الهواء في الغلاف الجوي

ممكن أن يظهر السؤال في صيغة أخرى: فرق

علل

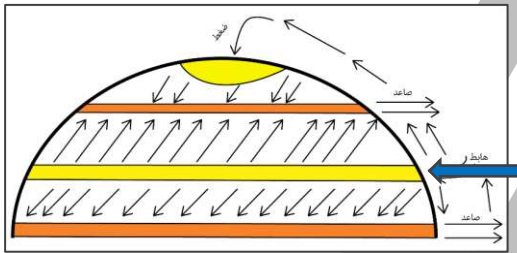
س دورة الهواء أضفت صفة العالمية لمشكلة التلوث البيئي

ممكن أن يظهر السؤال في صيغة أخرى: (" النظامين الرأسى والأفقى لهم تأثير بالغ في تشتيت أو تركيز الملوثات " دلل على صحة العبارة)

س ارسم شكل يوضح دورة الهواء وتأثيرها في انتقال وانتشار الملوثات

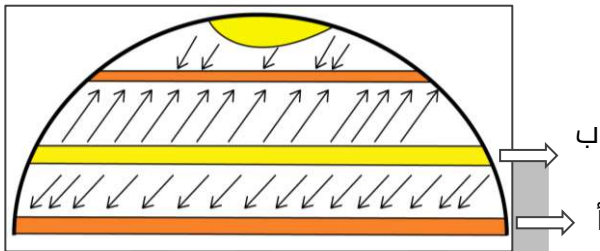
أكمل

س يشير السهم إلى منطقة ذات ضغط جوي -----



لاحظ الشكل الذي أمامك لدورة الرياح ثم اجب عن الأسئلة الآتية :

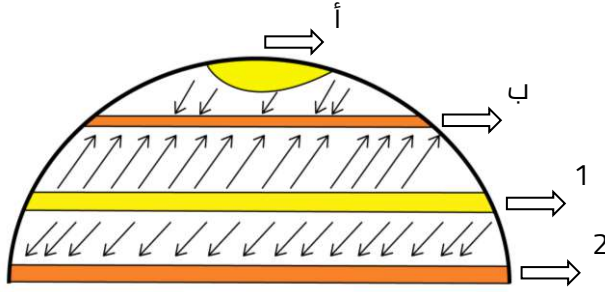
س الحرف (أ) يمثل منطقة ضغط تسمى -----



س نوع تيار الهواء في المنطقة (ب) يسمى -----

معلمة
طفولة
كويت
KuwaitTeacher.Com

ادرس شكل نصف الكرة الأرضية الذي أمامك ثم أجب عن الأسئلة التالية:



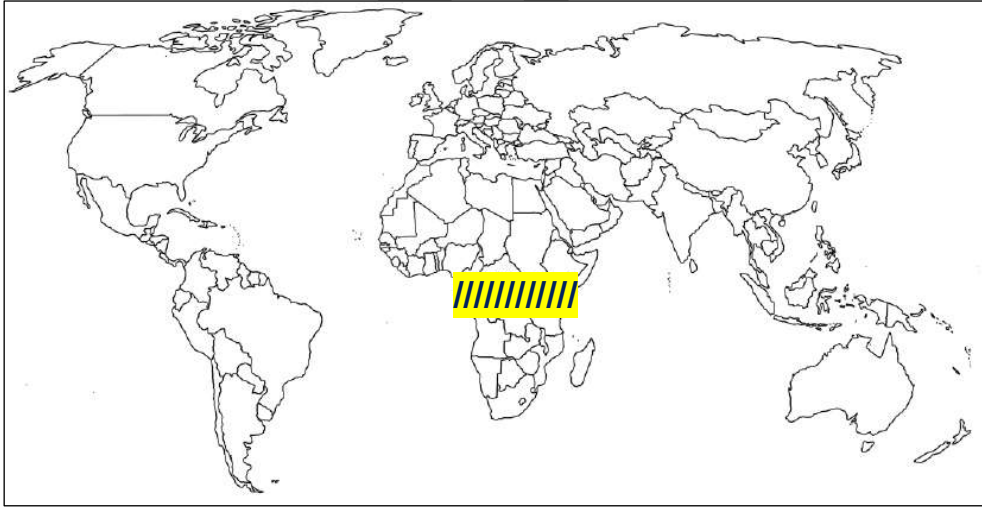
س منطقة طاردة للملوثةات يمثلها
الحرف _____

س منطقة جاذبة (تجمع) للملوثةات
يمثلها الحرف _____

س نطاق الضغط المرتفع المداري
يمثله الرقم _____

أكمل

س المنطقة المظللة بالرمز  تمثل نوع من الضغط الجوي يسمى



س مناطق تجمع الملوثةات هي المناطق ذات الضغط

س مناطق طرد الملوثةات هي المناطق ذات الضغط

اختياري

س الهواء يهب في منطقتين أساسيتين هما منطقة الضغط المرتفع في العروض
المدارية ومنطقة:

- القطبين
- الضغط المنخفض
- الضغط الدائم في العروض دون القطبية
- القطب الشمالي

علل

س انخفاض مستويات تركيز الملوثات في مناطق الضغط المنخفض علماً بأنها مناطق نشأة الملوثات

أكمل

س أحد أقسام الهواء تساهم في تعميق مفهوم عالمية التلوث الهوائي تسمى _____

علل

س انفجار المفاعل النووي (تشرنوبل) أدى لانتشار الاشعاعات إلى أوروبا الشرقية والغربية

ممكن أن يظهر السؤال في صيغة أخرى (اذكر مثال على دور الرياح في نقلها الملوثات لمناطق بعيدة)

أكمل

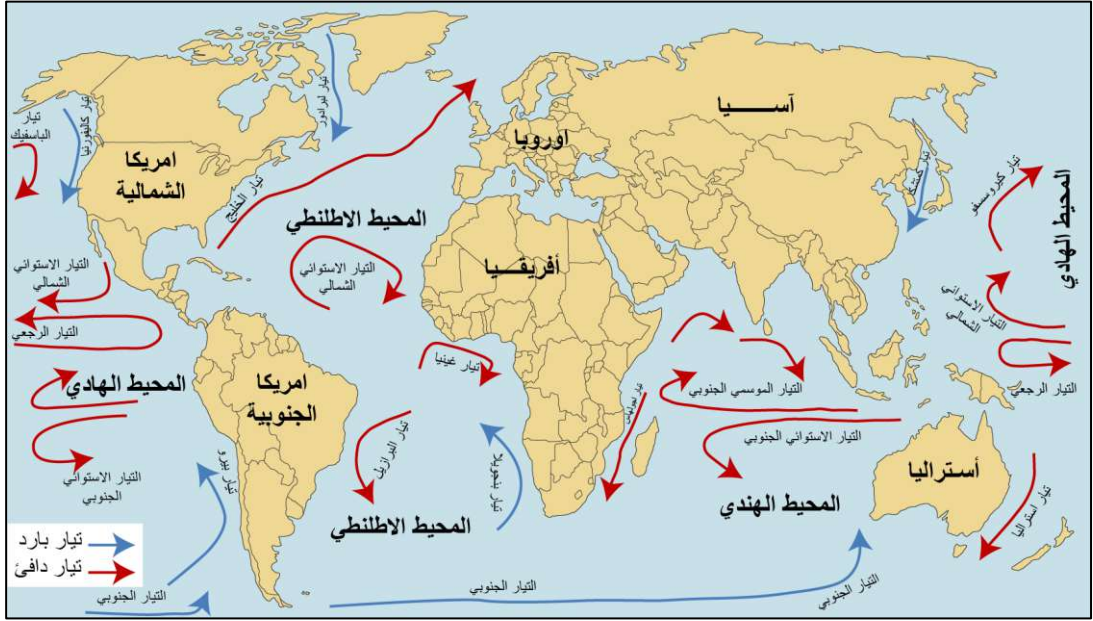
س الدولة التي حدث فيها انفجار مفاعل تشرنوبل تسمى _____



تدرب و تفوق
اختبارات الكترونية



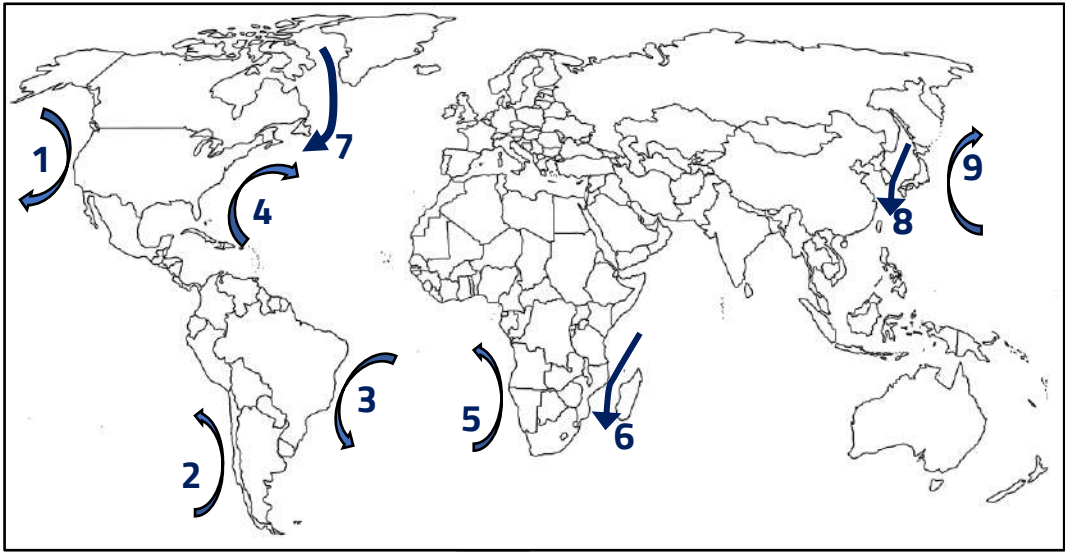
يمكن أن يظهر السؤال في صيغ أخرى:
(أكتب العلاقة بين التيارات المائية والتلوث كمشكلة عالمية)
(أكتب فيما درست / التيارات المائية وأثرها كعامل مناخي في نقل الملوثات)



U U L A

معلمة
طفوفة
Kuwaitteacher.Com

لاحظ الخريطة التي أمامك ثم أجب عما يليها من أسئلة:



س تيار كاليفورنيا يمثل على الخريطة الرقم _____

س تيار بيرو يمثل على الخريطة الرقم _____

س تيار بنجويلا يمثل على الخريطة الرقم _____

س تيار البرازيل يمثل على الخريطة الرقم _____

س تيار الخليج يمثل على الخريطة الرقم _____

س تيار لبرادور يمثل على الخريطة الرقم _____

س تيار كمتشكا يمثل على الخريطة الرقم _____

س تيار كيروسيفو يمثل على الخريطة الرقم _____

س تيار أجولهااس يمثل على الخريطة الرقم _____

س حدد بالرمز المحيط الهادي

س حدد بالرمز المحيط الأطلسي (الأطلسي)

س حدد بالرمز المحيط الهندي

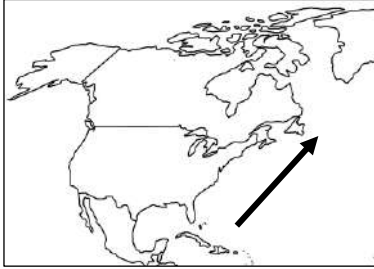
اختر الإجابة الصحيحة :

س تيار بيرو البارد يسير بمحاذاة قارة أسمها :

- أفريقيا
○ أستراليا

- أمريكا الجنوبية
○ آسيا

س التيار البحري الدافئ الذي يرمز له بالسهم في الخريطة المقابلة يسمى



- كاليفورنيا
○ الخليج
○ بنجويلا
○ لبرادور

دل على صحة العبارة

س " للأنهار الدولية دور كبير في انتشار وانتقال الملوثات "

.....
.....
.....

علل

س ظهور أعراض التلوث المائي في نهر الراين

.....

اذكر النتيجة المترتبة على:

س ظهور أعراض التلوث المائي في نهر الراين

.....

علل

س صعوبة استغلال نهر الراين في الزراعة

.....

أكمل

س النهر الذي يقع في قارة أوروبا بدأت تظهر عليه أعراض التلوث المائي الناتجة من المبيدات الحشرية يسمى

اختياري

س إحدى النشاطات البشرية في إضفاء صفة العالمية على التلوث

- دورة الهواء
- التيارات المائية

- التجارة الدولية
- الرياح

علل

س التجارة الدولية لها دور في انتشار وانتقال الملوثات

ممکن أن يظهر السؤال في صيغة أخرى (تساهم التجارة الدولية في إضفاء صفة العالمية على التلوث) - (ما العلاقة بين التجارة الدولية وانتقال وانتشار الملوثات)

ما النتائج المترتبة على

س استيراد دولة نامية المواد الغذائية من دولة صناعية تعاني من التلوث

علل

س التجارة الخارجية لها دور كبير في إصابة سكان الدول النامية بالتسمم



تدرب و تفوق
اختبارات الكترونية

معلمتي الكويت
مفتوحة
KuwaitTeacher.Com



مشكلة التلوث كارثة الكويت البيئية

"إن الطبيعة قادرة على التكيف بسهولة فائقة ولكن الطبيعة تعرضت لضربة شديدة فيما يتعلق بالعناصر البرية والبحرية والجوية في دولة الكويت"

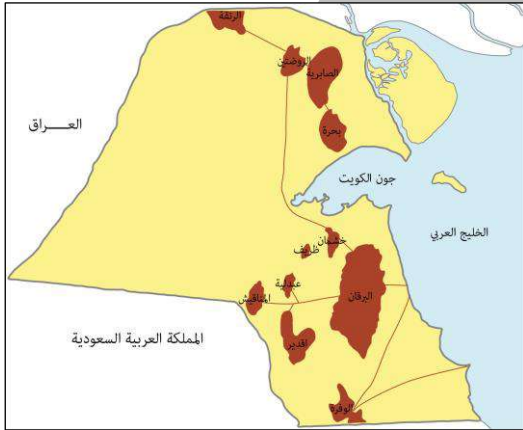
س من قائل هذه العبارة



س الوظيفة

س الصورة المقابلة تمثل إدارة تسمى

ارسم خريطة دولة الكويت ثم نفذ المطلوب منك :



س حدد أبار النفط في دولة الكويت

س الدولة التي غزت الكويت عام 1990 م

معاً
طفرة في الكويت
KuwaitTeacher.Com

اختر الإجابة الصحيحة :

س العام الميلادي الذي تم فيه تدمير و إشعال النيران في 737 بئر نفطي في دولة الكويت

- 1990م
○ 1991م
○ 1992م
○ 1993م

- 1990م
○ 1992م

س من حقول النفط الشمالية في دولة الكويت حقل :

- برقان
○ الصابرية

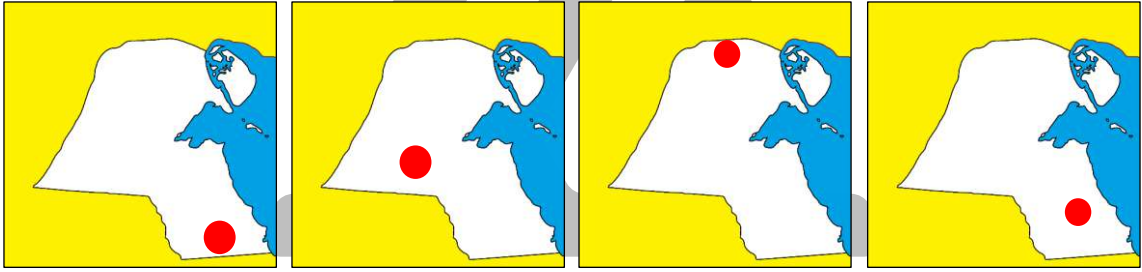
- المناقيش
○ الوفرة

س أكبر حقول النفط الكويتية :

- برقان
○ الصابرية

- المناقيش
○ الوفرة

س حقل الرتبة النفطي في دولة الكويت تمثله الخريطة التي تحمل الحرف:



○ د

○ ج

○ ب

○ أ

دل على صحة العبارة

س كارثة الكويت أكبر جريمة بيئية في تاريخ العالم

يمكن أن يظهر السؤال في صيغ أخرى: اختياري أكمل



معا
طفرة
KuwaitTeacher.Com

اختر الإجابة الصحيحة :

س بلغ عدد الآبار الكويتية المحترقة جراء غزو النظام العراقي البائد حوالي :

373 ○

733 ○

337 ○

737 ○

س عدد البحيرات البترولية الناتجة عن احتراق وتدمير آبار النفط الكويتية:

150 بحيرة ○

100 بحيرة ○

250 بحيرة ○

200 بحيرة ○

س تتراوح كمية البترول في البحيرات البترولية :

55- 65 مليون برميل ○

45- 65 مليون برميل ○

72- 75 مليون برميل ○

65- 75 مليون برميل ○

اقرأ العبارة التالية ثم اجب عما يليها من أسئلة :

س (ما بين 15 و30 ألف طائر نفق بسبب تسرب النفط و مليون طائر هاجر المنطقة بسبب بحيرات

▪ من قائل هذه الحقائق؟



س ما اسم المنظمة التي يشير إليها هذا الشعار؟

▪ المفهوم



▪ التأسيس

▪ عدد أهداف المنظمة

اختر الإجابة الصحيحة :

س دولة نشأت فيها منظمة حركة السلام الأخضر

- كندا ○ فرنسا ○ إيطاليا ○ المكسيك

س المدينة التي تأسست فيها حركة السلام الأخضر :

- باريس ○ جنيف ○ فانكوفر ○ واشنطن



تدرب و تفوق
اختبارات الكترونية



عل

س مشكلة احتراق الآبار الكويتية ليست مشكلة محلية بل مشكلة عالمية

ممكن أن يظهر السؤال في صيغة اخرى
(دلل- كارثة الكويت البيئية لم تقتصر على الكويت و الخليج بل تعدتها لبلدان بعيدة)

أكمل

س البحر الذي عبرته سحب الدخان لتصل لبلاد اليونان يسمى



س أهم الأضرار البيئية التي لحقت بالمناخ نتيجة احتراق آبار النفط بالكويت

ممكن أن يظهر السؤال في صيغة أخرى : أكمل اختياري



علل

س لم تسهم الأمطار الساقطة في الكويت في تنقية الهواء من غاز ثاني أكسيد الكربون

س

انتشار السحب الملوثة في الكويت لأجزاء واسعة من الكرة الأرضية



أكمل العبارات التالية

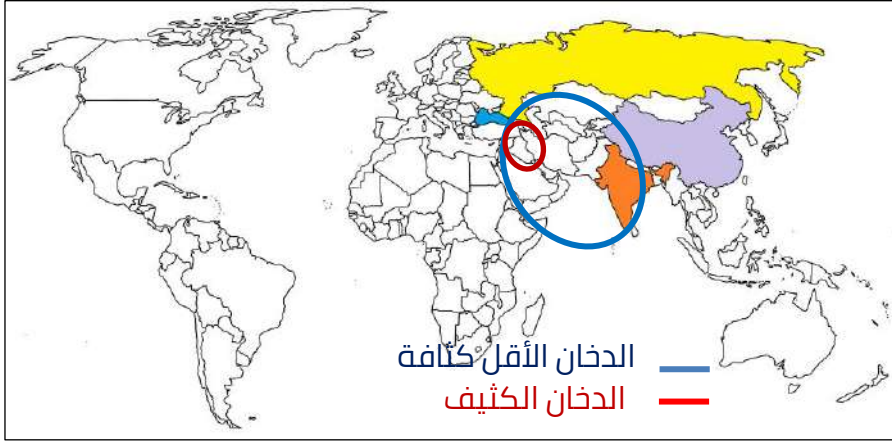
س رياح تهب عادة في المناطق المدارية لشبة الجزيرة العربية ومصر وشمال أفريقيا تسمى

س وصل الدخان المرئي إلى 2000 كم من الكويت إلى الهند والصين ودولة تسمى

س الدولة وصلت بها مستويات المطر الحمضي لدرجة لم يسبق لها مثيل نتيجة الدخان المتصاعد في الكويت تسمى

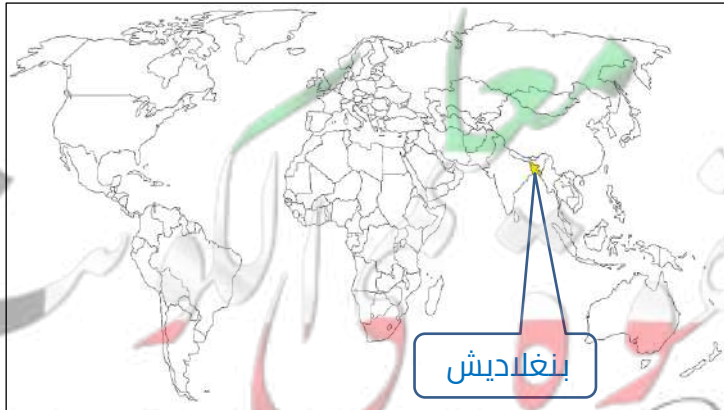
س وصلت سحب الدخان الناتجة من احتراق الآبار الكويتية شمالاً لمسطح مائي يسمى

س وصلت سحب الدخان الناتجة من احتراق الآبار الكويتية شرقاً لحدود دولة تسمى



س الدولة التي أدت الفيضانات والأعاصير عام 1991 م إلى وفاة 100 ألف شخص تسمى

س ارتفعت مناسيب المياه في بنغلاديش في مايو 1991 م عن السابق بحدود



س علل - يعتبر الدخان المتصاعد في دولة الكويت من حرق الآبار أحد أسباب الفيضانات ببعض الدول

ممکن أن يظهر السؤال في صيغ أخرى (ما العلاقة التي تربط بين احتراق آبار النفط الكويتية والأعاصير)
(فسر- يعتبر الدخان المتصاعد في الكويت أحد أسباب الأعاصير والفيضانات في بنغلاديش)

أكمل العبارات التالية :

س الصورة المقابلة تمثل

س العلاقة بين احتراق الآبار الكويتية وحدث الفيضانات (الأعاصير) في بعض الدول علاقة

س العلاقة بين زيادة الأمطار الموسمية الناتجة عن احتراق الآبار الكويتية وارتفاع مناسيب مياه الأمطار والبحيرات في العالم علاقة

دل بأمثلة على صحة العبارة التالية

س " عانت الكثير من الدول من كارثة تلوث البيئة أثر الغزو العراقي الغاشم على دولة الكويت "

س علل - للعواصف الترابية تأثير كبير في زيادة خطر التلوث البيئي

أكمل

س أكمل - تبدأ فترة هبوب العواصف الترابية في الكويت سنوياً في شهر



تدرب و تفوق
اختبارات الكترونية

KuwaitTeacher.Com



علل

س تعتبر جريمة البحيرات البترولية في الكويت من الكوارث البيئية المؤثرة على التربة

ممكن أن يظهر السؤال في صيغة أخرى. (عدد الأضرار البيئية التي لحقت بالتربة بفعل حرق آبار النفط)



علل

س تعرض المحاصيل الزراعية والمراعي الطبيعية والحيوانات للتسمم في دولة الكويت

س للبحيرات البترولية تأثير كبير على التربة الكويتية

أكمل

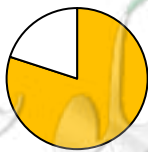
س الحركة التي أعلنت في تقاريرها بأن البترول المتسرب غطى 60 % من مساحة الكويت تسمى

اختياري

س نسبة المساحة التي غطاها البترول المتسرب من مساحة دولة الكويت يمثلها الدائرة البيانية التي تحمل الحرف:



د ٥



ج ٥



ب ٥



أ ٥

س حول الجدول المقابل إلى دائرة بيانية :

ممكن أن يظهر السؤال في صيغة أخرى: **أكمل** **اختياري**

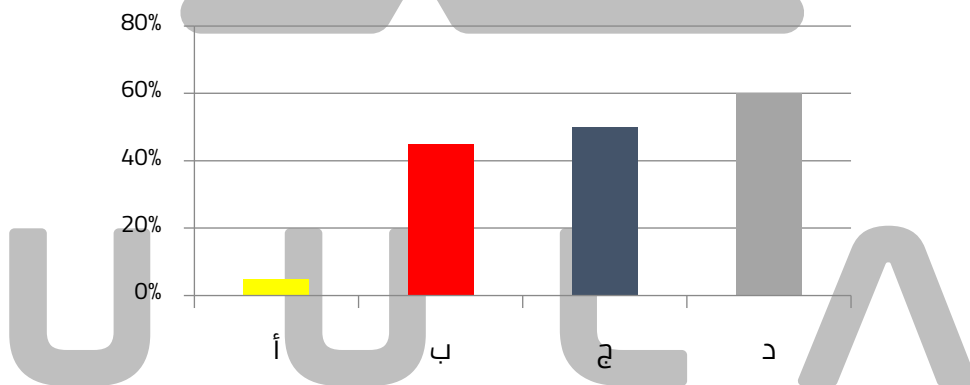
مكونات البترول المسكوب		
بتترول	ماء	رمل
%50	%45	%5

اختر الإجابة الصحيحة:

س نسبة الماء في البترول المسكوب الناتج عن تدمير آبار النفط الكويتية:

- %60 %50 %45 %5

س نسبة الرمل في البترول المسكوب في دولة الكويت يمثلها في الرسم البياني الحرف :



برهن على صحة العبارة

س "هناك عوامل أخرى ساعدت البترول المتسرب على تدهور التربة الكويتية"



س أهم الطرق المتبعة في تنظيف التربة من الملوثات الهيدروكربونية الناتجة عن البحيرات البترولية

س أهم الأضرار البيئية التي لحقت بالمياه نتيجة احتراق آبار النفط

ممكن أن يظهر السؤال في صيغة اخرى (ما النتائج المترتبة على وصول الملوثات النفطية بدولة الكويت إلى مياه الخليج العربي)

س أكتب مدلول الصور المقابلة



علل

س هجرت الأحياء البحرية والكائنات الحية المناطق الملوثة بالنفط في الخليج

س تلوث المياه الجوفية في دولة الكويت أثناء الغزو العراقي

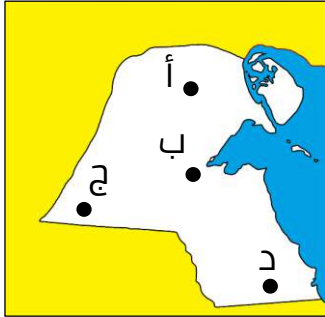
عدد

س استخدامات مصادر المياه الجوفية في دولة الكويت

علل

س تعتبر منطقة الروضتين وأم العيش أكثر المناطق تأثراً بالتلوث المائي

اختر الإجابة الصحيحة:



س أكبر مناطق المياه الجوفية التي تعرضت للتلوث النفطي يمثلها على الخريطة الحرف

- أ ب
- ج د

س أكثر مصادر المياه الجوفية تعرضاً للتلوث البترولي في دولة الكويت الروضتين ومنطقة:

- أ أم العيش السالمي
- ب الصليبية المناقيش



تدرب و تفوق

اختبارات الكترونية



س عدد - الأضرار الاقتصادية التي لحقت بالمنشآت النفطية والصناعية

U U L A A

دلل

س عمد العدو العراقي إلى تدمير شبه شامل للقطاع البترولي

أكمل العبارات التالية

س القطاع الذي يعد مصدر انتعاش الاقتصاد الكويتي يسمى

س الثروة الطبيعية الرئيسية في دولة الكويت تسمى

KuwaitTeacher.Com

س فرق بين كل من :

أوضاع القطاع البترولي بعد الغزو العراقي	أوضاع القطاع البترولي قبل الغزو العراقي
<hr/> <hr/>	<hr/> <hr/>

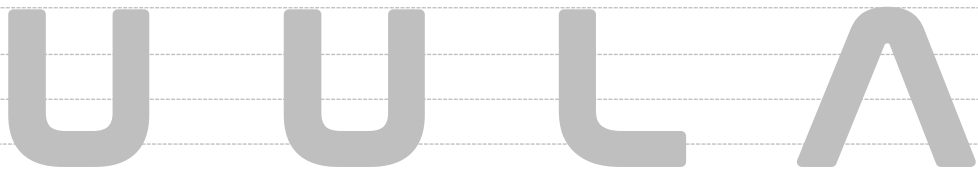
عدد

س الخسائر الاقتصادية والبيئية المترتبة علي عدوان النظام العراقي البائد

ممكن أن يظهر السؤال في صيغة اخرى
(دلال على وجود خسائر اقتصادية بيئية عام 1991 م في دولة الكويت)
(فند لم ينتج عن الغزو العراقي خسائر اقتصادية وبيئية في دولة الكويت)
(أكمل - اختياري)

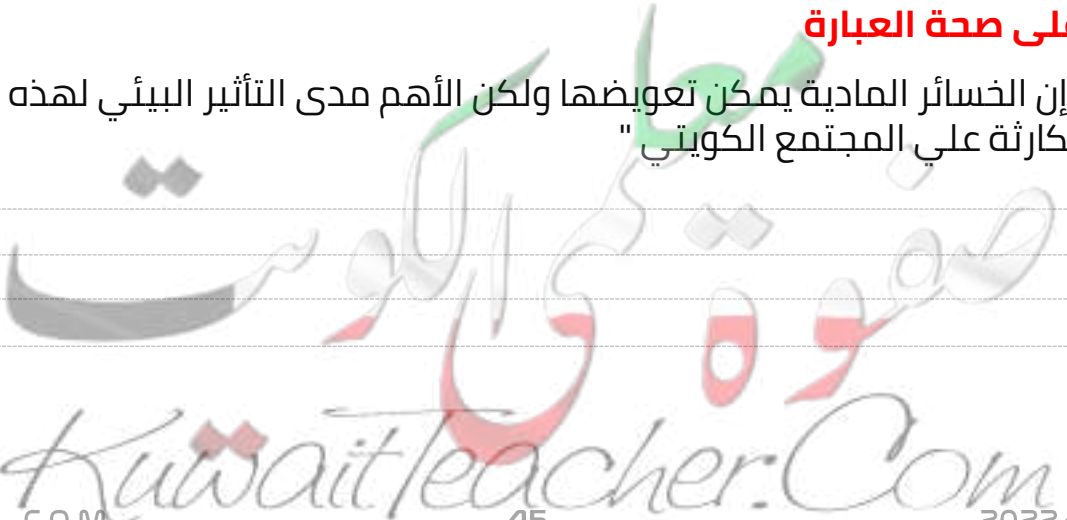


س خطوات إعادة الأعمار في القطاع البترولي الكويتي بعد الغزو العراقي الغاشم



دلال على صحة العبارة

س " إن الخسائر المادية يمكن تعويضها ولكن الأهم مدى التأثير البيئي لهذه الكارثة علي المجتمع الكويتي "



اختر الإجابة الصحيحة :

س قدرت تكاليف إعادة إعمار القطاع البترولي الكويتي بعد تدميره من النظام العراقي البائد

- 50 مليار دولار
○ 60 مليار دولار
○ 70 مليار دولار
○ 80 مليار دولار

س إجمالي المفقود من الغاز الطبيعي يومياً في دولة الكويت نتيجة العدوان العراقي

- 70 مليون م³
○ 71 مليون م³
○ 72 مليون م³
○ 73 مليون م³

س إجمالي المفقود من البترول يومياً في دولة الكويت نتيجة العدوان العراقي :

- 6 ملايين برميل
○ 7 ملايين برميل
○ 8 ملايين برميل
○ 9 ملايين برميل

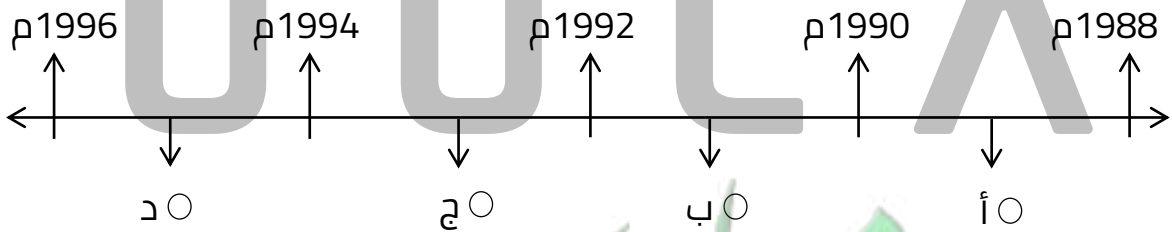
س بلغت تكلفة إطفاء الآبار الكويتية (بالمليار دولار)

- 1
○ 1½
○ 2
○ 2½

س خسائر الكويت من توقف إنتاج البترول في الفترة من 2 أغسطس 1990 إلى أوائل 1992م :

- 12.4 بليون دولار
○ 13.4 بليون دولار
○ 14.2 بليون دولار
○ 15.4 بليون دولار

س فترة توقف عمليات إنتاج البترول الكويتي تحمل على المخطط الزمني الحرف :



ماذا كنت تتوقع لو

س " لم يحدث الغزو العراقي البائد لدولة الكويت "

عدد

س الأضرار البيئية المترتبة علي عدوان النظام العراقي البائد



تدرب و تفوق
اختبارات الكترونية

U U L A A

معلمة في الكويت
Kuwaitteacher.Com



جغرافية السكان

مفهوم جغرافيا السكان

عدد

س جغرافية السكان:

أكمل :

س تعتبر جغرافية السكان أحد فروع الجغرافيا

علل

س اهتمام الباحثون بدراسة السكان منذ القدم

علل

س أهمية الدراسات والبحوث السكانية لمعظم دول العالم

عدد

س مصادر البيانات السكانية

U U L A

س فرق بين كل من

يمكن أن يظهر السؤال في صيغة أخرى: عرف أكمل اختياري

مصادر البيانات السكانية غير الثابتة	مصادر البيانات السكانية الثابتة

أكمل

س تنقسم مصادر البيانات السكانية إلى قسمين مصادر ثابتة وأخرى

عدد

س مجالات دراسة جغرافية السكان



تدرب و تفوق

اختبارات الكترونية



U U L A

معلمة في الكويت
Kwailteacher.Com



جغرافية السكان النمو السكاني

عرف المفاهيم التالية :

س النمو السكاني

س صافي الزيادة الطبيعية

س صافي الهجرة

أكمل العبارات التالية

ممكن أن يظهر السؤال في صيغة أخرى: اختياري

س يبلغ معدل نمو السكان الطبيعي في الدول النامية نحو

س يبلغ معدل الزيادة الطبيعية للسكان في الدول المتقدمة نحو

عرف

س النمو الصفري للسكان

اختياري

س ينخفض معدل الزيادة الطبيعية للسكان إلى ما دون الصفر في الدول :

○ النامية ○ الأوروبية ○ الأفريقية ○ ليس مما سبق

أكمل :

س يطلق على انخفاض معدل الزيادة الطبيعية إلى ما دون الصفر (بالسالب) اسم

ماذا يحدث إذا

س انخفض معدل النمو السكاني إلى ما دون الصفر (بالسالب) لدولة ما

بم تفسر

س دخول بعض الدول الأوروبية مرحلة الشيخوخة والانقراض سكانياً

علل

س يتعارض النمو الصفري للسكان مع الإسلام

ادرس الجدول التالي ثم اجب عما يليه من أسئلة:

معدل الخصوبة الكلية	معدل النمو السنوي	معدل الوفيات	معدل المواليد	نسبة الجنس	السكان بالألف	الأقاليم والمناطق
2.7	1.2	9	21.1	101	6464750	العالم
3.8	2.2	6.8	28.2	104	321115	البلدان العربية
3.7	2.5	5.9	29.2	106	191704	بلدان الاسكوا

س نسبة معدل النمو السنوي للبلدان العربية

س أعلى معدل للمواليد في إقليم يسمى

معلمة
صفوة
معلمة
Kwaitteacher.Com

ادرس الجدول الذى أمامك ثم اجب عن الأسئلة :

س ما المقصود بالاسكوا :

التوزيع النسبي لسكان العالم 2005م	
بلدان الاسكوا	؟؟؟؟؟
البلدان العربية	5%
العالم	92%

س سنة التأسيس :

س أطلق عليها اسم الاسكوا عام

س عدد أهداف الاسكوا ؟

س نسبة سكان بلدان الاسكوا لسكان العالم عام 2005 م

س حول الجدول لأعمدة بيانية ؟

U U L A

معلمة
طفوفة
كويت
KuwaitTeacher.Com

س ظلل بلدان الاسكوا على خريطة العالم



س حدد على الخريطة الدول الأعضاء في الاسكوا



مفوعة في الكويت
Kuwaitteacher.Com

اختر الإجابة الصحيحة:

س لجنة الاسكوا جزء من أحد أجهزة الأمم المتحدة هي :

- مجلس الأمن
○ الأمانة العامة
○ الجمعية العامة
○ مجلس الوصاية

س عدد اللجان الاقتصادية والاجتماعية التابعة للمجلس الاقتصادي والاجتماعي للأمم المتحدة:

- 2 ○ 3 ○ 4 ○ 5

س دولة أفريقية عضو في لجنة الأمم المتحدة الاقتصادية والاجتماعية لغربي آسيا

- إيران ○ مصر ○ سوريا ○ السودان

س تضم منظمة الاسكوا دول عربية ليس من بينها :

- السودان ○ مصر ○ سوريا ○ الأردن



تدرب و تفوق
اختبارات الكترونية



عدد

س تصنف دول العالم حسب معدلات الزيادة الطبيعية إلى مجموعات (عدها)

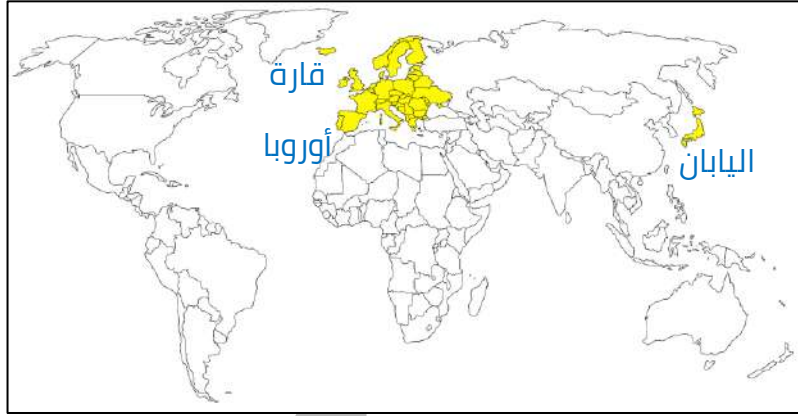
U U L A

س صنف الدول التي تنخفض فيها معدلات الزيادة الطبيعية إلى ما دون (0.1 %)

معا
قفوة
KuwaitTeacher.Com

أكمل

س الدولة الآسيوية التي تقل فيها الزيادة الطبيعية عن 0.1 % تسمى -----



اختر الإجابة الصحيحة :

س الدولة الآسيوية التي تنخفض فيها معدلات الزيادة الطبيعية عن 0.1%

○ الكويت ○ البحرين ○ اليابان ○ أفغانستان

س القارة التي تنخفض فيها معدلات الزيادة الطبيعية لتصل إلى ما دون (0.1 %)

○ أفريقيا ○ أوروبا ○ أستراليا ○ أمريكا الشمالية

س صف الدول ذات معدلات الزيادة الطبيعية المنخفضة (1.0 - 2.0 %)

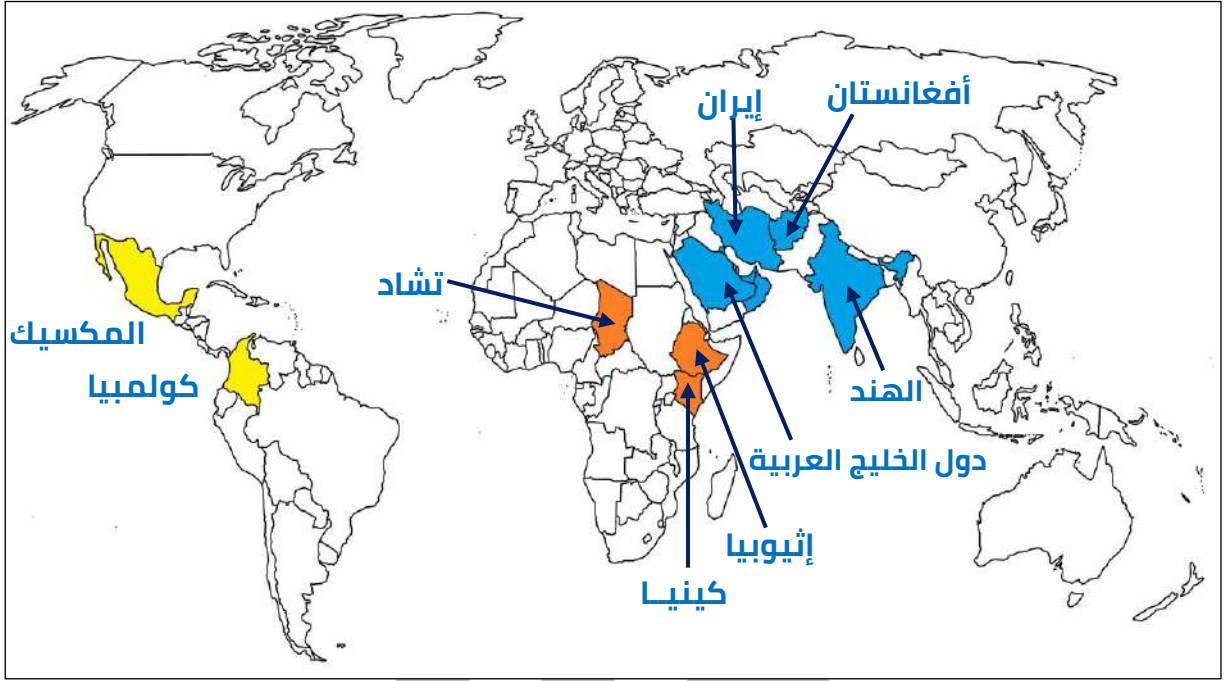


اختياري

س دولة ذات معدلات منخفضة نسبياً في الزيادة الطبيعية (1 - 2 %)

○ المجر ○ البرازيل ○ الهند ○ مدغشقر

س صف الدول ذات معدلات الزيادة الطبيعية المرتفعة (2.0 - 3.0 %)



اختر الإجابة الصحيحة :

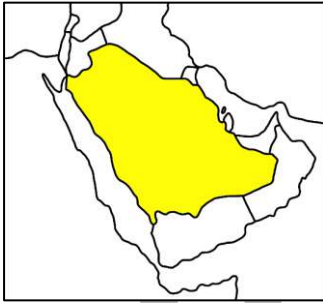
س معدل الزيادة للسكان في الدولة المظلمة في الخريطة التي أمامك :

1 - 2 %

أقل من 0.1 %

3 - 4 %

2 - 3 %



س دولة ذات معدلات مرتفعة في الزيادة الطبيعية (2 - 3 %):

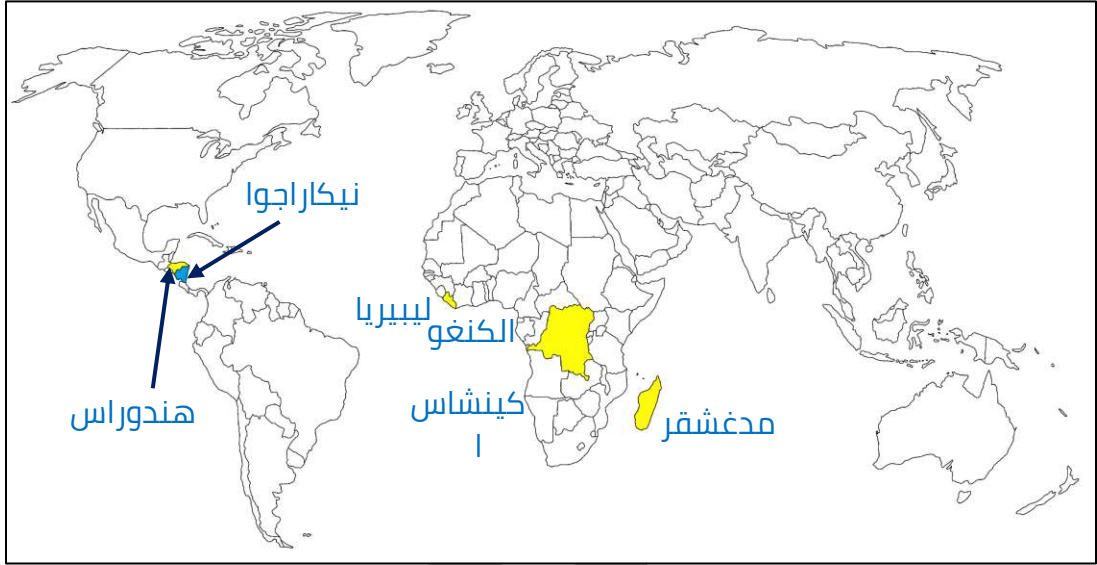
شيلي

اليابان

إيران

هندوراس

س صف الدول ذات معدلات الزيادة الطبيعية المرتفعة جداً (3.0 % فأكثر)



صف الدول التالية حسب معدلات الزيادة الطبيعية في الجدول التالي

س البرازيل - المكسيك - بلجيكا - فرنسا - الهند - الكويت - شيلي - اليابان - هندوراس - مدغشقر التي أمامك :

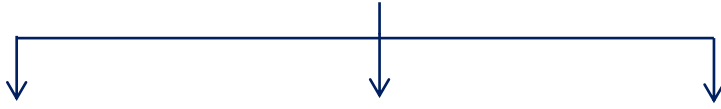
معدلات مرتفعة جداً 3.0% فأكثر	معدلات مرتفعة 2.0 - 3.0 %	معدلات منخفضة 1.0 - 2.0 %	معدلات منخفضة أقل من 0.1 %
-----	-----	-----	-----
-----	-----	-----	-----
-----	-----	-----	-----

عرف

س الهجرة

معاينة
مفتوحة
KuwaitTeacher.Com

س عدد - أنواع الهجرة



عرف

س الهجرات الداخلية :

س قارن بين كل من :

الهجرة العالمية	الهجرة الدولية	المعيار
		المفهوم
		أمثلة

دل على صحة العبارة

س " هناك دول طاردة للسكان وهناك دول جاذبة ومستقبلة للسكان "

U U L A A

معلمة
طفوفة
Kuwaitteacher.Com

أكمل العبارات التالية (حدد على الخريطة)

س القارة التي انتقل سكانها إلى العالم الجديد لتعمير المناطق الجديدة والإقامة الدائمة فيها تسمى _____

س يطلق على الأمريكتين وأستراليا اسم _____

س هاجر السكان الأوروبيون إلى العالم الجديد المتمثل بالأمريكتين وقارة أخرى تسمى _____

س القارة التي تم تهجير وجلب العمالة منها إلى الأمريكتين للعمل والإقامة الدائمة تسمى _____



تدرب و تفوق
اختبارات الكترونية

معلمة
صفوة
كويت
KuwaitTeacher.Com



جغرافية السكان التركيب السكاني

عرف

س التركيب السكاني:

ماذا يحدث إذا

س " توازن نسب الفئات من الناحية الديموغرافية لمجتمع ما "

عدد

س أنواع التركيب السكاني

ممكن أن يظهر السؤال في صيغة أخرى (ارسم مخطط سهمي)
(دلل تعدد أنواع التركيب السكاني في المجتمع)

عرف

س التركيب العمري

علل

س أهمية التركيب العمري

معا
طفرة في الكويت
Kuwaitteacher.Com

اختياري

المرحلة العمرية	الحرف
من (0 - 14)	س
من (15 - 59)	ص
من (60 - وأكثر)	ع

س الحرف (ص) في الجدول المقابل يمثل مرحلة عمرية يمر بها المجتمع تسمى بمرحلة :

- الطفولة
- النضوج
- الفتوة
- الشيخوخة

عرف

س التركيب النوعي

أكمل العبارات التالية :

س أحد أنواع التركيب السكاني يقيس نسبة عدد الذكور لكل مائة أنثى يسمى

س المجتمعات التي تتساوى فيها نسبة الذكور ونسبة الإناث أو تزيد إحدى النسبتين في حدود (1% أو 2%) تسمى

عرف

س التركيب العمري والنوعي

علل

س أهمية الهرم السكاني

ممكن أن يظهر السؤال في صيغة اخرى (عدد أصناف الدول حسب الهرم السكاني) (عرف - فرق)

س التركيب العمري والنوعي من أهم التصنيفات السكانية

اختياري

س أهم التصنيفات السكانية التي تعتمد عليها الكثير من الدول في عملية التخطيط هي :

- التركيب العمري
- التركيب الاقتصادي
- التركيب النوعي
- التركيب العمري والنوعي

عرف

س التركيب حسب الجنسية :

س التركيب الزواجي :

عدد

س فئات السكان حسب التركيب الزواجي

عرف

س التركيب الديني

س التركيب التعليمي

U U L A

معلمة
طفوفة
الحكومة
KuwaitTeacher.Com

عرف

س التركيب الاقتصادي

أكمل العبارات التالية :

س تقسيم السكان حسب الحالة العملية للفرد يسمى

س تقسيم القوى العاملة حسب مكان العمل يسمى

س تقسيم السكان حسب نوع المهنة التي يمارسها الفرد يسمى

U U L A

معلمة
طفوفة
كلمة
KuwaitTeacher.Com

صنف الفئات التالية حسب الجدول التالي:

س " الزراعة والصيد - التعدين والإنتاج - الأعمال الفنية والعلمية - الأعمال الإدارية - الصناعة والتشغيل - التجارة - الخدمات العامة والاجتماعية - يعمل لحسابه الخاص - يعمل لدى الغير بأجر - عاطل عن العمل - يعمل بالقطاع الحكومي - يعمل بالقطاع الأهلي - يعمل بالقطاع المشترك - الأطباء - المعلمون - الفنيون - المحامون - عمال التشييد والبناء

نوع المهنة التي يمارسها الفرد	القوى العاملة حسب مكان العمل	الحالة العملية للفرد	نوع النشاط الذي يمارسه الفرد

صنف الفئات التالية حسب الجدول التالي:

س عَزَب - طيبب - دول هرمة - معلم - أطفال - متزوج - مسلم - جامعي - كويتي - ذكور

العمرى	النوعى	العمرى والنوعى	حسب الجنسية	الزواجى	الدينى	التعليمى	الاقتصادى
أطفال							



تدرب و تفوق
اختبارات الكترونية

KuwaitTeacher.Com



جغرافية السكان التوزيع والكثافة السكانية

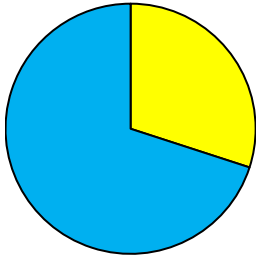
عدد

س موضوعات اهتمام جغرافية السكان

أكمل

ممکن أن يظهر السؤال في صيغة اخرى (اختياري - ارسم دائرة بيانية)

س نسبة المسطحات المائية من مساحة الأرض



■ اليابس
■ الماء

س نسبة اليابس من مساحة الأرض

س تقدر مساحة سطح الكرة الأرضية بنحو

علل

س لا يستغل الانسان سوى نصف مساحة اليابس فقط ؟ (61 مليون كم²)

ممکن أن يظهر السؤال في صيغة اخرى
(علل: تدني نسبة ما يستغله الإنسان من مساحة اليابس إلى النصف تقريباً)
(دلل على صحة العبارة: تتحكم التضاريس والمناخ في توزيع السكان)
(عدد: أنواع البيئات الجغرافية التي يصعب على الإنسان العيش فيها)

UULA

معا
طفرة في الكويت
KuwaitTeacher.Com

أكمل العبارات التالية :

س الصحراء الكبرى تقع في وسط قارة تسمى -----

س الصحراء التي يصعب على الإنسان العيش فيها في شبة الجزيرة العربية تسمى -----

علل

س تباين توزيع السكان على سطح الكرة الأرضية

ممكن أن يظهر السؤال في صيغة أخرى (علل- يختلف تركيز السكان من منطقة إلى أخرى)

عدد

س العوامل المؤثرة في توزيع السكان

ممكن أن يظهر السؤال في صيغة أخرى فرق

العوامل البشرية	العوامل الطبيعية
-----	-----
-----	-----
-----	-----
-----	-----



تدرب و تفوق
اختبارات الكترونية



عرف
س الكثافة السكانية

Kuwaitteacher.Com

ممکن أن يظهر السؤال في صيغ أخرى: **عرف** **فرق** **اختياري**

		1
		2
		3
		4
		5

ادرس الجدول التالي ثم نفذ ما هو مطلوب منك

عدد السكان	15.000.000 نسمة
عدد السكان الزراعيين	900.000 نسمة
المساحة الكلية	600.000 كم ²
مساحة الأراضي الزراعية	300.000 كم ²
جملة الدخل	1.000.000 دينار
المساحة المسكونة فعلياً	200.000 كم ²

س أوجد الكثافة العامة مستعيناً بالأرقام من الجدول

س أوجد الكثافة الصافية

س أوجد الكثافة الفيزيولوجية

س أوجد الكثافة الزراعية

س أوجد الكثافة الاقتصادية

اختياري

س الكثافة الناتجة من قسمة جملة عدد السكان على جملة المساحات المسكونة
فعلياً في الإقليم هي الكثافة

- الزراعية
- الصافية

- الفيزيولوجية
- الاقتصادية

دلل

س اختلاف توزيع وكثافة السكان في العالم حسب دوائر العرض



U U L A ^

معلمة في الكويت
Kuwaitteacher.Com

استعن بجدول البيانات التالي ثم أجب عما يليه من أسئلة:

توزيع وكثافة السكان في العالم حسب دوائر العرض	
نسبة كثافة السكان	دوائر العرض
أقل من 10 %	صفر - 20° شمالاً وجنوباً
50 %	20° - 40° شمالاً وجنوباً
30 %	40° - 60° شمالاً وجنوباً

س ارسم دائرة تمثل توزيع السكان بالكرة الأرضية حسب دوائر العرض



س حول توزيع السكان بالكرة الأرضية حسب دوائر العرض إلى أعمدة بيانية

U U L A

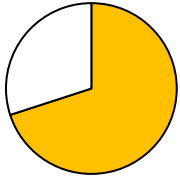
معلمة
طفوفة
KuwaitTeacher.Com

اختر الإجابة الصحيحة

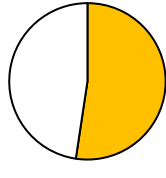
س يعيش نحو 30% من سكان العالم بين دائرتي عرض :

- 20 و 40 شمالاً وجنوباً
○ 40 و 60 شمالاً وجنوباً
○ 60 و 80 شمالاً وجنوباً
○ صفر و 20 شمالاً وجنوباً

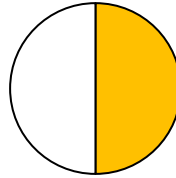
س نسبة سكان العالم الذين يعيشون بين دائرتي عرض 20 - 40 شمالاً وجنوباً يمثله الجزء المظلل من الدائرة التي تحمل الحرف :



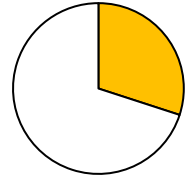
○ د



○ ج

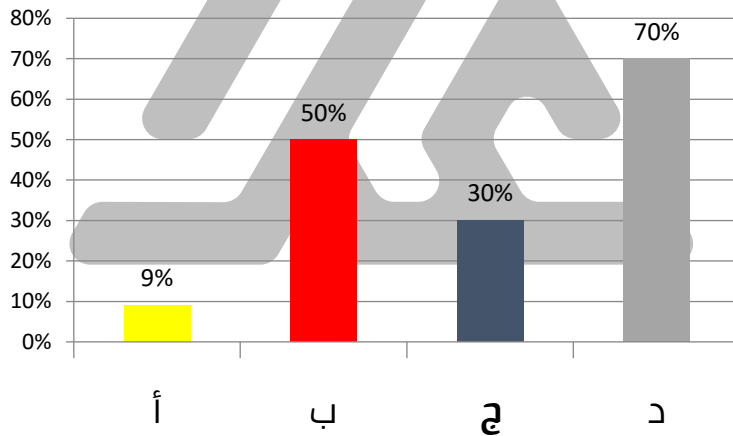


○ ب



○ أ

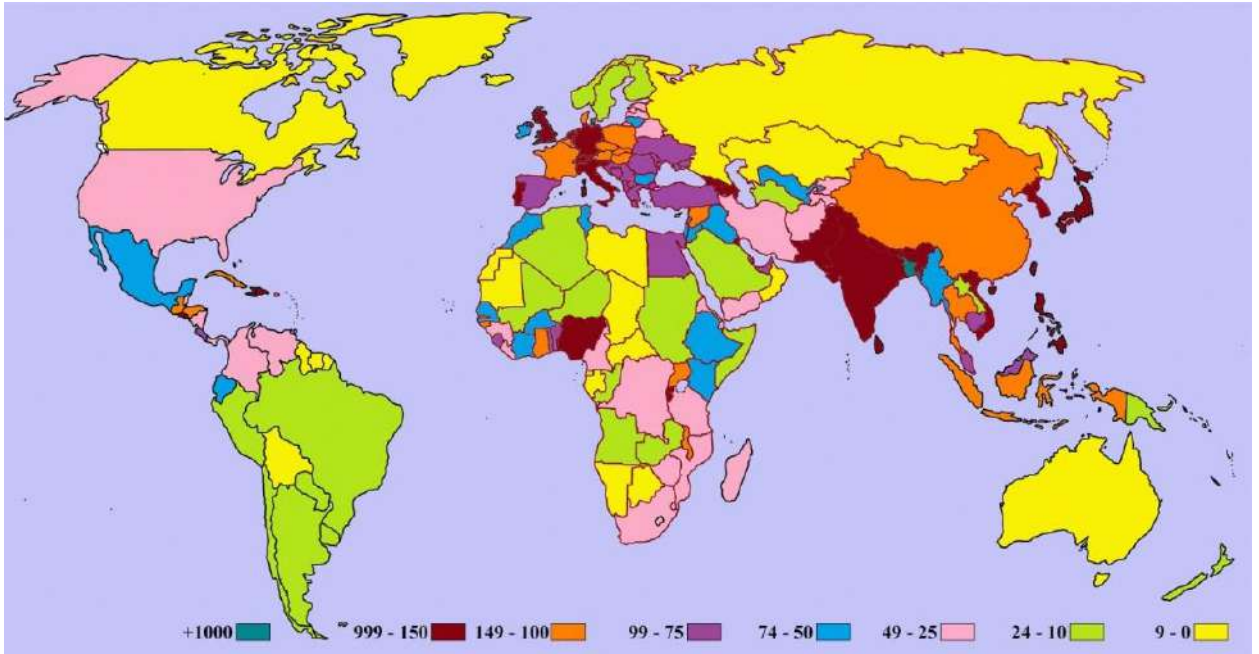
س نسبة السكان بين دائرتي عرض 40 - 60 شمالاً وجنوباً يمثلها في الرسم البياني العمود



U U L A A

معلمة
طفوفة
الحكومة
KuwaitTeacher.Com

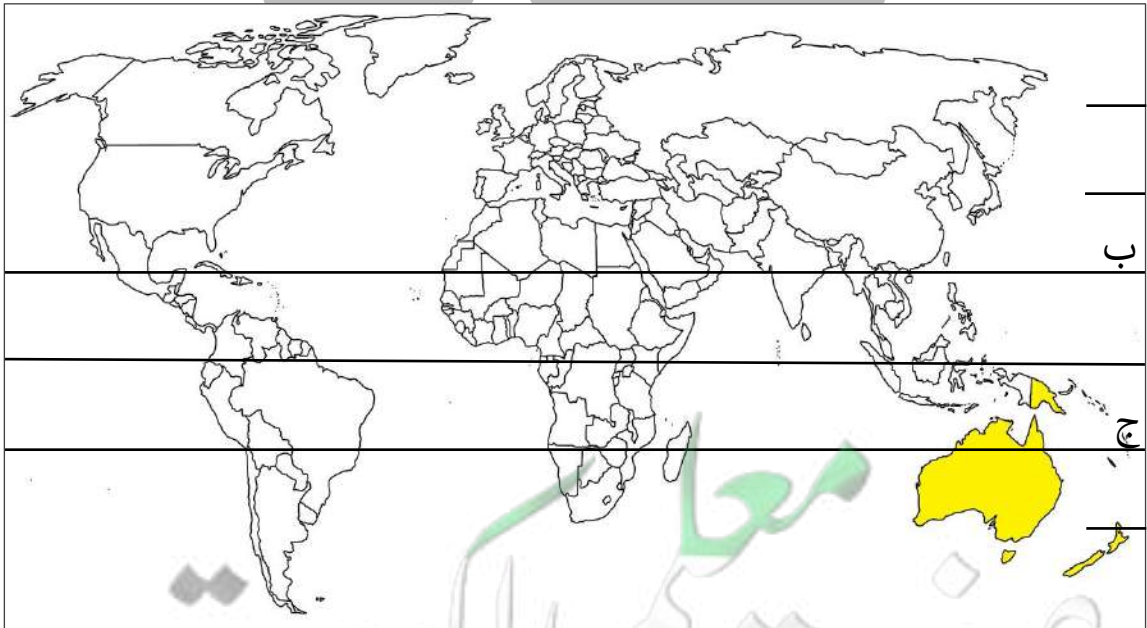
خريطة نسب الكثافة السكانية في العالم



أكمل العبارات التالية:

س أقل قارت العالم من حيث الكثافة السكانية تسمى

س تبلغ نسبة السكان الذين يعيشون في المنطقة الممتدة بين (ب, ج) من إجمالي السكان في العالم ما نسبته



تدرب و تفوق
اختبارات الكترونية



جغرافية السكان الانفجار السكاني

عرف

س الانفجار السكاني

عدد السكان (مليار نسمة)	السنة
1	1850م
2	1930م
4	1975م
6.5	2007م

أدرس الجدول التالي جيداً ثم أجب عما يليه من أسئلة:

س الظاهرة البيئية والاجتماعية التي يمثلها الجدول

س حول الجدول المقابل إلى أعمدة بيانية

U U L A

س ما النتائج المترتبة على الظاهرة

محفظة المعلمين الكويت
KuwaitTeacher.Com

س أهم السياسات المتبعة للحد من الانفجار السكاني

ممكن أن يظهر السؤال في صيغة اخرى (عدد السياسات التي تسهم في تحقيق التوازن بين السكان والموارد الطبيعية على مستوى العالم) - (اكتب مقترحاتك لتحقيق التوازن بين النمو السكاني السريع والموارد الاقتصادية للدولة)

أوجد سبباً لـ

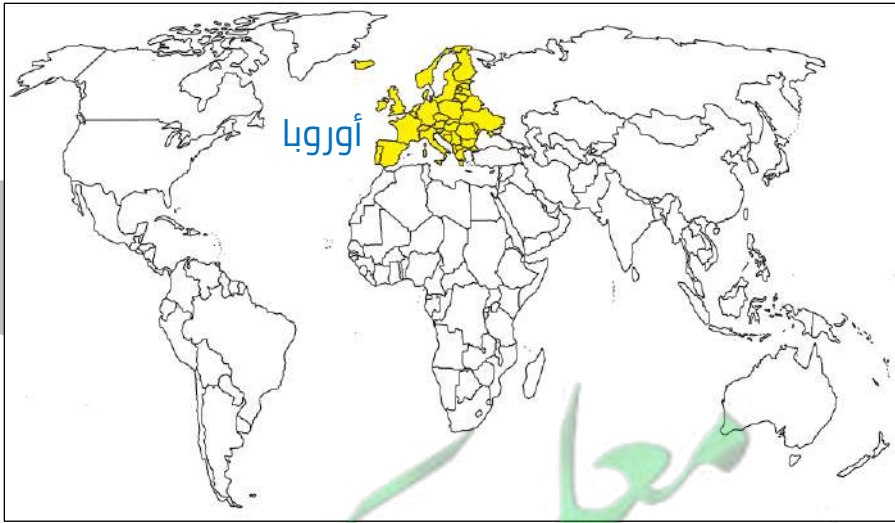
س حدوث الانفجار السكاني وخاصة بالدول النامية

ممكن أن يظهر السؤال في صيغة أخرى: **فسر** **علل**

أكمل العبارات التالية :

س القضية البيئية والاجتماعية الحرجة الخاصة بالدول النامية التي تتسم بمعدلات نمو سكانية مرتفعة جداً تسمى

س القارة التي حققت مستويات من الأمن الغذائي والسكاني تسمى



تدرب و تفوق
اختبارات الكترونية



مفهوم جغرافية العمران

عرف

س جغرافية العمران (جغرافية السكن)

أكمل العبارات التالية :

س جغرافية العمران أحد فروع الجغرافيا

س العلم يهتم بدراسة أقسام الإقليم ووظائفها ومدى توافر الخدمات المختلفة بها
وخصائصها العامة يسمى

س العلم الذي يدرس كثافة كل من السكان والمباني ودرجة التزاحم بالوحدات
السكنية يسمى

س تُعرف جغرافية العمران بأسماء عديدة (أذكرها)


علل

س هناك ارتباط وثيق بين درجة تحضر الإنسان وتغير أشكال مسكنه

U U L L A

س تحول مراكز الاستقرار الأولى إلى قرى ريفية ومدن حضرية

س أكتب مدلول الصور التالية



Kuwaitteacher.Com

س ظلل الإجابة الصحيحة :

عكسية		العلاقة بين تغير أشكال مسكن الإنسان وتطور الإنسان الحضري علاقة	1
	الأكواخ	أول أشكال مسكن الإنسان يسمى	2
	المدن	مراكز الاستقرار الأولى للإنسان كانت حول	3

علل

س ظهور جغرافية العمران (جغرافية السكن - جغرافية المدن)



عدد

س أنماط النظام العمراني

عرف

س القرية والمدينة



س مميزات العمران الريفي (القرية)

Handwriting practice lines for the word 'عدد' (Uddud).

س مميزات العمران الحضري (المدينة)

Handwriting practice lines for the word 'س' (Su).

علل

س يعرف العمران الرأسي بناطحات السحاب

Handwriting practice lines for the word 'س' (Su).

عرف

س ناطحات السحاب

Handwriting practice lines for the word 'س' (Su).



س قارن بين كل من :

ممكن أن يظهر السؤال في صيغ أخرى: **عرف** **أكمل** **اختياري**

وجه المقارنة	القرية	المدينة
المفهوم		
نشاط السكان الاقتصادي		
حجم الوحدات السكنية		
أماكن وجودها		

أكمل

س المدينة التي تجمع بين وظائف الصناعة والتجارة والسياحة والأنشطة الخدمية في مصر تسمى -----

عرف

س المدينة الكبرى

أكمل العبارات التالية:

س المدينة الكبرى عندما تزداد وتنمو تصل لمستوى يسمى -----

س المدن العظمى توجد في غرب أوروبا وشرق دولة تسمى -----

علل

س اختلف الجغرافيون في تحديد الأسس التي يعتمد عليها في التمييز بين القرية والمدينة

س أفضل الأسس التي يمكن الاعتماد عليها في التمييز بين القرية والمدينة

س المعيار الحضاري والمستوي المعيشي أفضل الأسس للتمييز بين القرية والمدينة



تدرب و تفوق

اختبارات الكترونية

U U L A

معلمة في الكويت
Kuwaitteacher.Com



جغرافية العمران دوافع نشأة المدن

س عدد - الدوافع التي ساهمت في نشأة المدن وتطورها



عرف

س الدوافع الاقتصادية

س عدد - أنواع الدوافع الاقتصادية

U U L A

معلمة
مفتوحة
معلمة
مفتوحة
معلمة
مفتوحة
KuwaitTeacher.Com

أكمل العبارات التالية:

س مدن الدافع في نشأتها التصدير والاستيراد تسمى -----

س مدينة في مصر أنشئت لدوافع اقتصادية متمثلة في صناعة الغزل والنسيج تسمى -----

س مدينة في جنوب مصر أنشئت لدوافع اقتصادية متمثلة في سياحة الآثار تسمى -----

س مدينة في دولة الكويت أنشئت لدوافع اقتصادية متمثلة في استخراج وتصدير النفط تسمى -----

س مدينة في الإمارات أنشئت لدوافع اقتصادية متمثلة في التجارة وإدارة الأعمال تسمى -----



س اختر من المجموعة (أ) ما يناسبها من المجموعة (ب) بوضع الرقم المناسب

الرقم	المجموعة (أ)	الرقم المناسب	المجموعة (ب)
1	سياحة الآثار	-----	الأحمدي
2	استخراج وتصدير النفط	-----	الأقصر
3	التجارة وإدارة الأعمال	-----	المحلة الكبرى
4	صناعة الغزل والنسيج	-----	دبي

س اختر من المجموعة (أ) ما يناسبها من المجموعة (ب) بوضع الرقم المناسب

الرقم	المجموعة (أ)	الرقم المناسب	المجموعة (ب)
1	الدافع السياسي	-----	الأقصر
2	الدافع الاقتصادي الصناعي	-----	دبي
3	الدافع الاقتصادي السياحي	-----	المحلة الكبرى
4		-----	واشنطن

علل

س الدوافع الاجتماعية كانت سبباً في إنشاء الكثير من المدن

عرف

س الدوافع السياسية

س العاصمة السياسية

برهن على صحة العبارة

س "الدوافع السياسية كانت سبباً في نشأة كثير من المدن"

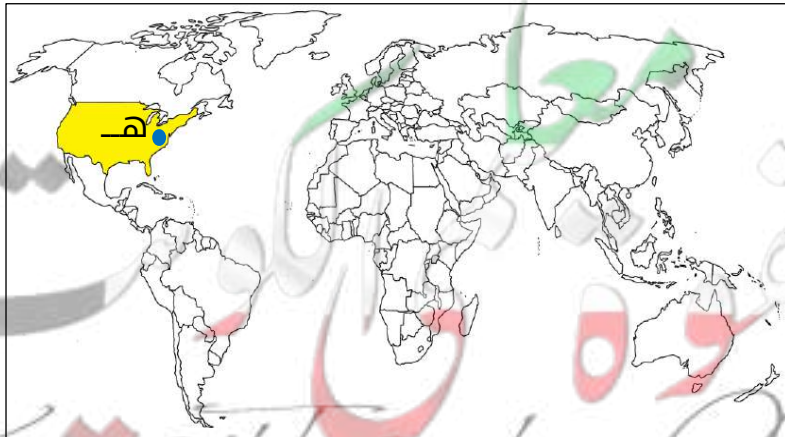
ممكن أن يظهر السؤال في صيغة اخرى (علل أهمية العاصمة السياسية للدولة)

أكمل العبارات التالية:

س الحرف (هـ) يمثل مدينة أنشئت لدوافع سياسية تسمى

س مدينة واشنطن العاصمة السياسية لدولة تسمى

س المدينة (هـ) ترجع نشأتها إلى الدوافع



عرف

س الدوافع العسكرية

س عرف المدن العسكرية

علل

س بناء بعض المدن لدوافع عسكرية على أطراف الدول

س تندرج بعض الدوافع العسكرية تحت الدوافع السياسية

س تقوم المدن العسكرية وقت السلام بمهام تجارية



تدرب و تفوق

اختبارات الكترونية

معاً
قفوة
KuwaitTeacher.Com

جغرافية العمران مدينة الكويت



أكمل العبارات التالية:



س عاصمة دولة الكويت مدينة تسمى -----

س تمتد مدينة الكويت على طول الساحل -----

س موقع دولة الكويت بالنسبة لشبة الجزيرة العربية في الركن -----

س عدد - الأسماء التي أطلقت على مدينة الكويت قديماً

عرف المفاهيم التالية:

س الكوت

س القرين

س علل - تسمية مدينة الكويت بهذا الاسم

س فسر - نشأة مدينة الكويت

أكمل العبارات التالية:

س الحصن الصغير كان للمحافظة على الحدود الشمالية لإمارة تسمى -----

س إمارة بني خالد تقع بالنسبة لشبه الجزيرة العربية في الركن -----



س زعيم قبيلة بني خالد الذي بنى الحصن الصغير
(الكوت) يسمى

س النواة الأولى التي بنيت حولها مدينة الكويت
القديمة تسمى

س تتبع تاريخياً مراحل نشأة مدينة الكويت

عل

س تطور ونمو مدينة الكويت عمرانياً وسكانياً في القرن 18 الميلادي

ممكن أن يظهر السؤال في طيغة اخرى (نمو وازدهار مدينة الكويت بعد نشأتها الأولى)

س

لعب الموقع الجغرافي المتميز لمدينة الكويت دور في بقائها وتطورها بعد
نشأتها الأولى

أكمل

س العلاقة بين الموقع الجغرافي المتميز لمدينة الكويت وبقاء وتطور مدينة
الكويت بعد نشأتها الأولى علاقة



تدرب و تفوق
اختبارات الكترونية



جغرافية العمران مدينة الكويت مرحلة النشأة العمرانية

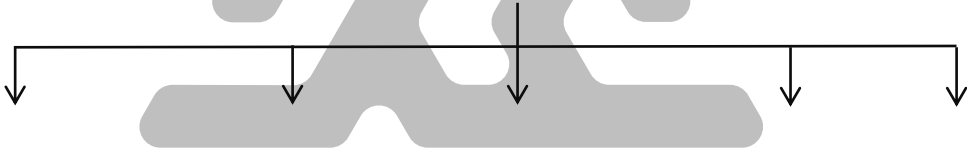
عدد

س مراحل التطور العمراني بمدينة الكويت

علل

س هجرة الكثير من السكان إلى مدينة الكويت واستقرارهم فيها في مرحلة النشأة العمرانية

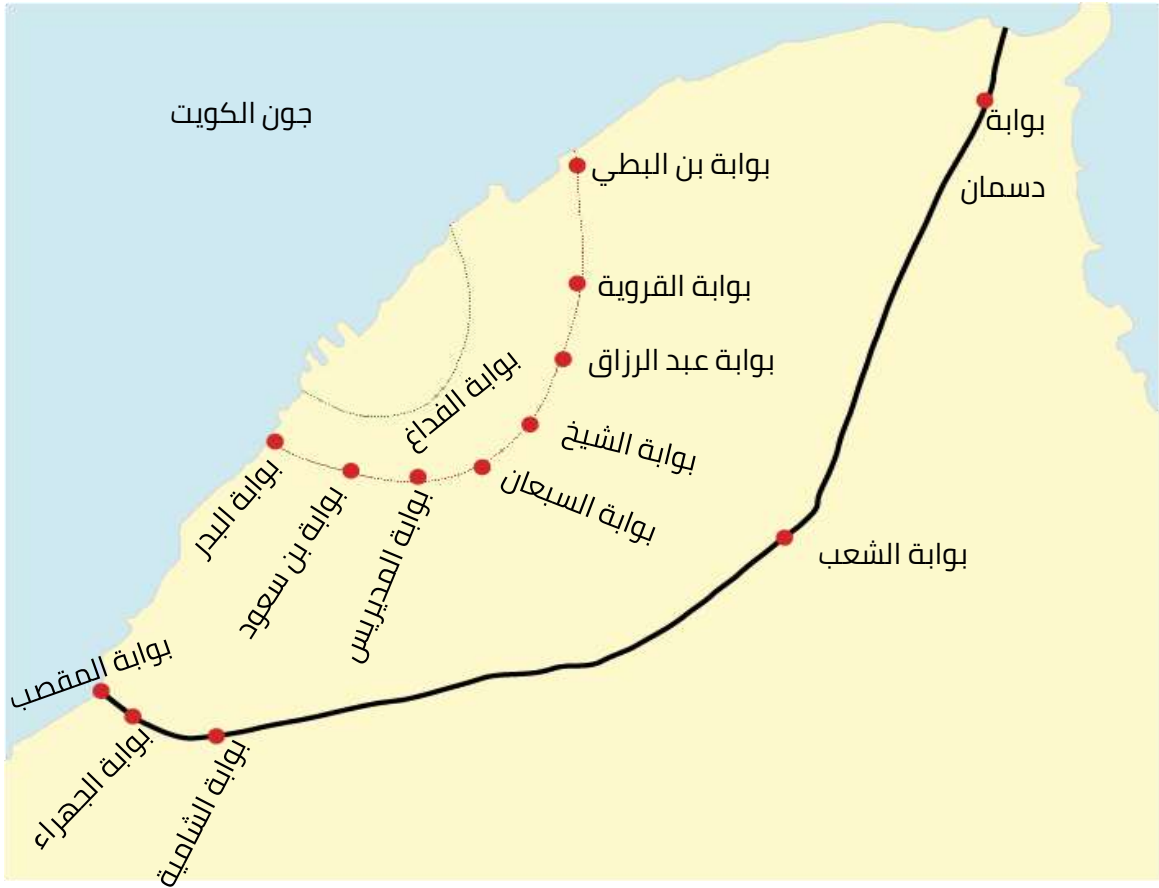
س عوامل الاستقرار البشري في مدينة الكويت



عدد النتائج المترتبة على :

س "توافر عوامل الاستقرار البشري من تجارة وصيد واستخراج اللؤلؤ في تطور العمران بمدينة الكويت"

معا
طفرة في الكويت
KuwaitTeacher.Com



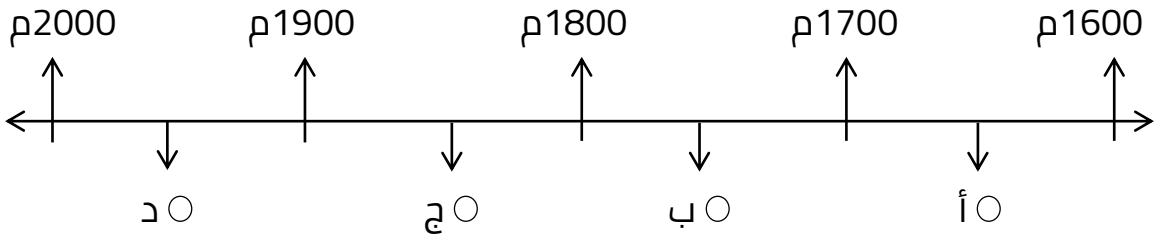
س قارن بين كل من :

ممكن أن يظهر السؤال في صيغة أخرى: **أكمل** **اختياري**

سور الكويت الثالث	سور الكويت الثاني	سور الكويت الأول	أوجه المقارنة
			سنة البناء
			مساحة المدينة داخل السور
			عدد البوابات
			سنة الهدم

اختر الإجابة الصحيحة :

س الفترة الزمنية التي هدم فيها السور الثالث لمدينة الكويت يمثلها على الخط الزمني التالي الحرف : أهل الكويت الأسوار حولها



س تم بناء سور الكويت الأول عام :

- 1650 م ○ 1670 م ○ 1770 م ○ 1790 م

س العام الذي هدم فيه السور الثاني لدولة الكويت:

- 1770 م ○ 1811 م ○ 1874 م ○ 1920 م

صوب ما تحته خط :

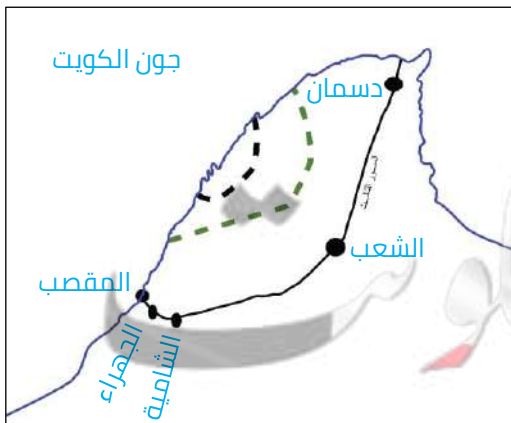
س السور الأول عدد بواباته واحدة وتسمى بوابه البحر

س عدد بوابات السور الثاني لدولة الكويت خمس بوابات

عدد

س أسماء بوابات السور الثاني

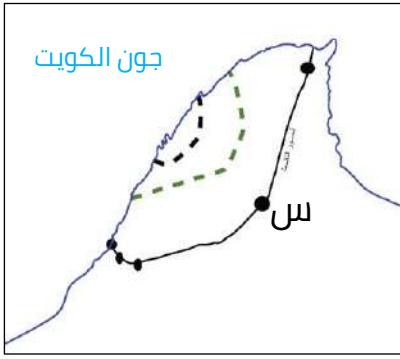
لاحظ خريطة أسوار مدينة الكويت التي أمامك ثم نفذ ما هو مطلوب :



س حدد باستخدام الرموز التالية :

- السور الأول بالرمز ---
- السور الثاني بالرمز - - -
- بوابات السور الثالث ●

اختياري



س الحرف (س) على الخريطة المقابلة يمثل :

- بوابة دسمان
- بوابة الشعب
- بوابة الجهراء
- بوابة المقصب

صنف البوابات التالية حسب الجدول التالي :

س بوابة الشعب - بوابة دسمان - بوابة البحر - بوابة الفداغ - بوابة بن سعود

السور الأول	السور الثاني	السور الثالث

علل

س إغلاق بوابات السور ليلاً

س صف مرحلة النشأة العمرانية لمدينة الكويت مستعيناً بالصورة التالية :



U L A

معلمي الكويت
طفرة في التعليم
KuwaitTeacher.Com

علل

س بناء الكويت في شكل بيوت متقاربة

(ممكن أن يظهر السؤال في صيغة اخرى (علل: تم بناء مدينة الكويت بشكل محكم)

س بناء البيوت في الكويت قديماً من المادة الطينية

أكمل العبارات التالية:

س من التجمعات السكانية خارج السور في جزيرة تسمى -----

س من التجمعات السكانية خارج السور في قرية تسمى -----

س التجمعات السكانية خارج السور القرى المنتشرة على طول الشريط الساحلي جنوباً الفنطاس -----

س النشاط الاقتصادي للقرى المنتشرة خارج السور الزراعة و -----

س الشارع الرئيسي بمدينة الكويت قديماً يسمى -----

س الشارع الرئيسي الوحيد الذي يمر بمدينة الكويت قديماً يطلق عليه حالياً - -----

س أرسم خريطة دولة الكويت ثم نفذ عليها ما هو مطلوب منك:

(ممكن أن يظهر السؤال في صيغة اخرى (حدد على الخريطة ما يلي)



- الجهراء
- الفنطاس
- أبو حليفة
- جزيرة فيلكا
- السور الثالث بالرمز -----

س عدد التركيب الداخلي للرقعة الحضرية لمدينة الكويت قديماً



يمكن أن يظهر السؤال في صيغة اخرى (فرق - عرف)

لاحظ الخريطة الجزئية لمدينة الكويت قديماً التي أمامك ثم نفذ ما هو مطلوب :



- حدد باستخدام الرموز التالية:
- حي الشرق بالرمز ■
- حي القبلة بالرمز ▲
- حي المرقاب بالرمز ☆
- ظل القطاع التجاري (الواجهة البحرية)



تدرب و تفوق
اختبارات الكترونية

معاً
قفوة
KuwaitTeacher.Com



جغرافية العمران مدينة الكويت مرحلة التخطيط العمراني

أكمل العبارات التالية :

س العام الميلادي الذي بدأت فيه حكومة دولة الكويت في وضع الخطط التنموية الخمسية عام _____

س بدأت الحكومة الكويتية بهدم السور الثالث عام _____



علل

س هدم السور الثالث والإبقاء على بواباته

س قيام الحكومة بثمين الأراضي داخل السور

عدد

س أهم المخططات التي وضعت من أجل إعادة تخطيط مدينة الكويت

يمكن أن يظهر السؤال في صيغ أخرى: **أكمل** **اختباري**

U U L A

علل

س قيام حكومة دولة الكويت بوضع المخطط الهيكلي الأول عام 1952م

معاً
مفوضة
KuwaitTeacher.Com

عدد

س بنود الخطة التي اعتمد عليها المخطط الهيكل الأول 1952م

علل

س الحاجة إلى مخطط البلدية للتنمية سنة 1967م

عدد

س بنود مخطط بلدية الكويت للتنمية عام 1967م

اختياري

س الجهة التي وضعت مخطط البلدية لتنمية عام 1967م :

- وزارة التخطيط
- وزارة الأشغال
- بلدية الكويت
- وزارة الاستثمار

علل

س قيام حكومة الكويت بوضع المخطط الهيكل الثاني 1970م

اختياري

س الخبير الذي وضع مخطط مستقبلي لمدينة الكويت يتم تنفيذه في مدة 30 سنة حتى عام 2000 م يسمى:

- كولن بوكاين
- سيلفيا ايرل
- بول هورسمان
- كانت

س عدد - الخطط التي أشتمل عليها المخطط الهيكل الثاني عام 1970 م

ممكن أن يظهر السؤال في صيغة اخرى فرق

علل

س علل - وضع المخطط الهيكل للمناطق الحضرية 1977م

س أكتب أربع تعديلات طرأت على المخطط الهيكل لمدينة الكويت عام 1977م
(للمناطق الحضرية)



تدرب و تفوق
اختبارات الكترونية



س علل - وضع المخطط الهيكل للكويت 1983م

س عدد - الخطط التي أشتمل عليها المخطط الهيكل للكويت عام 1983 م

أكمل العبارات التالية :

ممکن أن يظهر السؤال في صيغة أخرى : فرق

س المخطط الهيكلية للكويت عام 1983م اشتمل على خطة تناولت التقديرات السكانية المتوقعة حتى عام 2005م تسمى -----

س المخطط الهيكلية للكويت عام 1983م اشتمل على خطة تناولت كيفية استغلال الموارد الطبيعية للدولة كالنفط والمياه تسمى -----

عرف

س المنطقة الميتروبوليتانية :

عدد

س بنود الخطة الميتروبوليتانية الهيكلية

س بنود الخطة الهيكلية لمركز المدينة

علل

س أوصت الخطة الهيكلية لمركز مدينة الكويت بالمحافظة على المواقع الأثرية القديمة

عرف

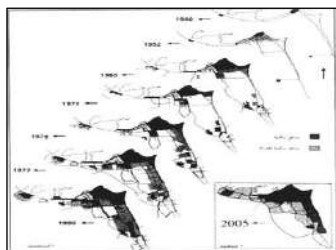
س الواجهة البحرية

علل

س وضع المخطط الهيكلية الثالث

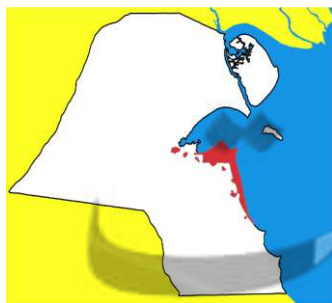
أكمل

س الشكل المقابل أمامك يمثل :



س اختر من القائمة (أ) ما يناسبها من القائمة (ب) بوضع الرقم المناسب

الرقم	المجموعة (أ)	الرقم	المجموعة (ب)
1	استحداث الدائري الخامس والسادس		المخطط الهيكل الأول
2	الحد من إنشاء المصانع في منطقة الشويخ		المخطط الهيكل للكويت 1983م
3	1952م		مخطط البلدية للتنمية
4	الخطة المتروبوليتانية الهيكلية لمركز المدينة		المخطط الهيكل للمناطق الحضرية

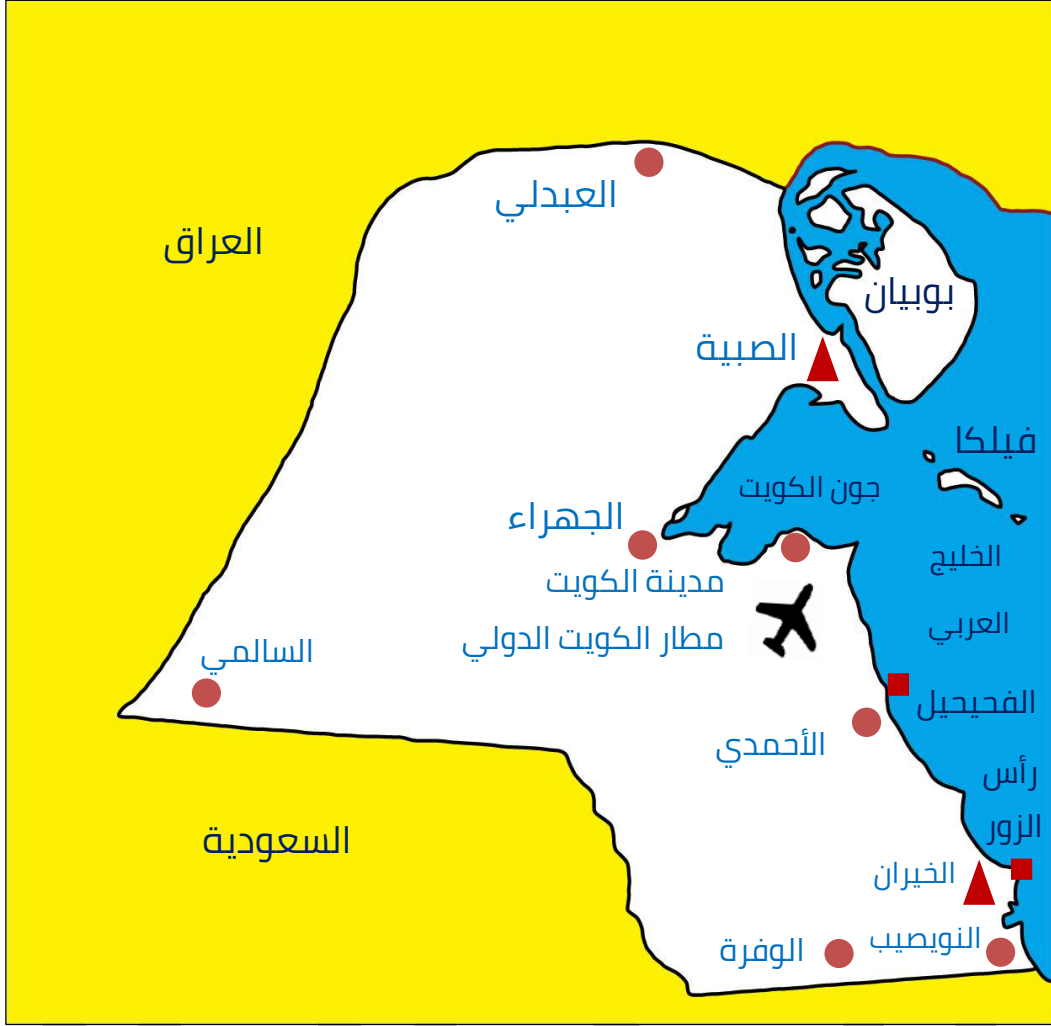


أرسم خريطة دولة الكويت ثم نفذ المطلوب منك :

س ظل المناطق العمراني الحالي

س أرسم خريطة دولة الكويت ثم حدد عليها كل مما يلي :

- جزيرة بوبيان
- مدينة العبدلي
- مدينة الجهراء
- ميناء الزور
- الصبية
- مدينة الوفرة
- مدينة الكويت
- ميناء الفحيحيل
- الخيران
- مدينة السالمي
- مدينة النويصيب
- مطار الكويت الدولي
- جزيرة فيلكا
- مدينة الأحمدى



تدرب و تفوق
اختبارات الكترونية

مفوعة الكويت
KuwaitTeacher.Com



مفهوم الجغرافيا السياسية

عرف

س الجغرافيا السياسية

دل

س تعتبر الجغرافيا السياسية فرع قديم من فروع الجغرافيا

عل

س ظهور الجغرافيا السياسة

س ظلت الجغرافيا السياسية لا تلقى اهتماماً من الجغرافيين لمدة طويلة

أكمل العبارات التالية :

س يرجع تعبير الجغرافيا السياسية إلى العالم الألماني

س أول من عرف مفهوم الجغرافيا السياسية عالم اسمه

س العالم الذي أسس الجغرافيا السياسية يسمى

س العالم كانت تبعه بعض العلماء في الجغرافيا السياسية أمثال كارل ريتز و

س مؤلف كتاب الجغرافيا السياسية العالم

ممکن أن يظهر السؤال في صيغة اخرى
(أكتب فيما درست - مقومات الجغرافيا السياسية بمعناها الشامل)



تدرب و تفوق
اختبارات الكترونية

U U L A

معلمة في الكويت
Kuwaitteacher.Com



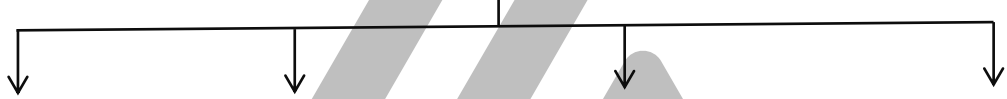
مناهج البحث وأنماط الحدود السياسية

دليل على صحة العبارة

س " تعدد مناهج البحث في الجغرافية السياسية بحسب موضوع الدراسة "

عدد

س مناهج البحث في الجغرافيا السياسية



س فرق بين كل من :

ممكن أن يظهر السؤال في صيغ أخرى: **عرف** **اختياري**

المنهج الوظيفي (الملائمة السياسية)	المنهج الإقليمي (المسرح السياسي)
الجيوبوليتك	منهج جونز (المجال الموجه)

س عرف - علم الجيوبوليتك

اختياري

س تحليل الدولة من عدة جوانب مثل الفكرة السياسية والقرار والحركة والمجال يسمى

- المسرح السياسي
○ الجيوبولتيك
○ الملائمة السياسية
○ المجال الموجه

س عدد - أنماط (أنواع) الحدود السياسية



عرف المفاهيم التالية :

ممکن أن يظهر السؤال في صيغ أخرى: عرف اختياري

س التخوم :

س الحدود التي تساير الظاهرات الطبيعية

س الحدود التي تساير الظاهرات البشرية:

أكمل

س أفضل الحدود وأكثرها استقراراً تلك التي تساير خطوطها السياسية الظاهرات

أكمل

س الحدود بين الولايات المتحدة الأمريكية وكندا تتماشى مع دائرة عرض



تدرب و تفوق
اختبارات الكترونية

U U L A

معلمة في الكويت
Kwaitteacher.Com



نظم المعلومات الجغرافية مفهوم نظم المعلومات الجغرافية

علل

س يطلق على القرن 21 عصر الثورة الجغرافية للمعلومات

ممكن أن يظهر السؤال في صيغة اخرى (يطلق على القرن 21 الجيل الثالث من تكنولوجيا المعلومات)

عرف

س GPS

علل

س أهمية نظام GPS

ممكن أن يظهر السؤال في صيغة أخرى: عدد

اختياري

س نظم التوجيه التي تعمل بواسطة خرائط رقمية مرتبطة بنظام تحديد المواقع
بالاعتماد على شبكة الأقمار الصناعية :

KTM ○

GPS ○

ARS ○

GIS ○

عدد

س دعائم التطور العلمي والتكنولوجي في القرن 21

أكمل العبارات التالية :

س استيعاب التكنولوجيا للمعلومات الجغرافية يعرف باسم

س شهدت نظم المعلومات الجغرافية تطوراً كبيراً منذ منتصف الخمسينات وبلغت ذروتها في منتصف



س الدول الرائدة في نظم المعلومات الجغرافية دول أوروبا الغربية و دولة تسمى

علل

س ترسيخ مفهوم نظم المعلومات الجغرافية في الولايات المتحدة وغرب أوروبا

اختياري

س الدولة المتقدمة التي نجحت في توفير الخرائط الرقمية الدقيقة على الانترنت تسمى :

○ البرازيل
○ الهند

○ الولايات المتحدة
○ روسيا

علل

س تعتبر نظم المعلومات الجغرافية قاعدة تكنولوجية للازدهار والتقدم

عرف

س نظم المعلومات الجغرافية:

أكمل العبارات التالية :

س عبارة عن نظم تكاملية تجمع بين البرامج والأجهزة والكفاءة البشرية لدراسة ثم تخزين ومعالجة وتحليل وعرض المعلومات المكانية تسمى

س الوسيلة الحديثة والتقنية المتقدمة للتعامل مع البيانات الجغرافية المختلفة تسمى

عدد

س كل نظام جغرافي يحتوي على ظواهر جغرافية مسجلة على هيئة رسوم بمعرفة ثلاث أشياء عن كل ظاهرة مرسومة

س فرق بين كل من :

نظم المعلومات الجغرافية	نظم المعلومات

أكمل

س شبكة الإحداثيات الجغرافية التي تربط المعلومات بمواقعها الحقيقية في دولة الكويت تسمى

علل

س تندرج نظم المعلومات المصرفية في البنوك تحت أسم نظم المعلومات

س اكتب عن كيفية توظيف نظم المعلومات الجغرافية في المصارف

علل

س أهمية توظيف نظم المعلومات الجغرافية في المصارف



تدرب و تفوق
اختبارات الكترونية



U U L A A

معلمة في الكويت
Kwaitteacher.Com



نظم المعلومات الجغرافية مكونات نظم المعلومات الجغرافية

س عدد - مكونات نظم المعلومات الجغرافية (البنية التحتية للنظام)

س الأجهزة والشبكات والطابعات

عرف المفاهيم التالية :

ممكّن أن يظهر السؤال في صيغة أخرى (اختياري - أكتب المفهوم العلمي)

س الخادم server :

س أجهزة حاسبات قوية :

س الطابعات :

س الشبكات :

معلمة
مفتوحة
KuwaitTeacher.Com

س فرق بين كل من :

علل

أكمل

اختياري

عرف

ممکن أن يظهر السؤال في صيغ أخرى:

برمجيات تشغيل وإدارة قواعد البيانات	نظم التشغيل
برمجيات نظم المعلومات الجغرافية	برامج قواعد المعلومات المكانية

علل

س أهمية برمجيات نظم المعلومات الجغرافية

عدد

س الخرائط والبيانات المكونة لنظام المعلومات الجغرافية

KuwaitTeacher.Com

عرف
س الخرائط

عدد

س الشروط (المكونات) الهندسية الأساسية للخريطة

عرف

س الأعمال المساحية لتحديث الخرائط

علل

س عمل مسح هندسي لرفع مكان ما بأجهزة GPS

عرف

س ترقيم الخرائط

أكمل العبارات التالية :

س يتم تحويل الخرائط الورقية إلى خرائط رقمية عن طريق

س جهاز إعادة الرسم الإلكتروني للخريطة يسمى

اختياري

س العملية التي يتم فيها تحويل الخرائط الورقية إلى خرائط رقمية تعرف باسم :

- طباعة الخرائط
- البحث والتفصيل
- ترقيم الخرائط
- إدخال البيانات التفصيلية



تدرب و تفوق
اختبارات الكترونية

عرف

س البيانات التفصيلية



عدد

س الخطوات التنفيذية للتطبيقات في نظم المعلومات الجغرافية

س اكتب عن كيفية تصميم نموذج قاعدة بيانات جغرافية

ممكن أن يظهر السؤال في صيغة اخرى (تصميم المخطط التركيبي لقاعدة المعلومات)

عدد

س أجهزة إدخال البيانات الجغرافية

معاً
قفوة
KuwaitTeacher.Com

عرف

س جداول البيانات التفصيلية

س تحويل الأرصاء المساحية

س البحث والتحليل

س طباعة الخرائط

عدد

س التطبيقات (البرامج) الخاصة بالمدينة

عرف

س النظام الجغرافي

عدد

س انواع المعلومات التي تكون نظام المعلومات الجغرافية

ممكن أن يظهر السؤال في صيغة أخرى: اختياري

اختر الإجابة الصحيحة :

س أنواع المعلومات التي تكون نظام المعلومات الجغرافية :

- صور الأقمار الصناعية
- النقاط الجيوديسية
- الأرصاد المساحية
- كل ما سبق

س أحد أنواع المعلومات التي تكون نظم المعلومات الجغرافية :

- الأرصاد الجوية
- المعلومات المصرفية
- الإحصائيات الحيوية
- صور الأقمار الصناعية



تدرب و تفوق

اختبارات الكترونية

U U L A

معلمة في الكويت
Kwailteacher.Com

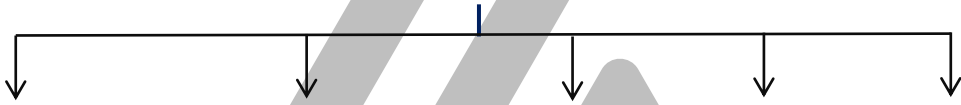


نظم المعلومات الجغرافية مجالات استخدام نظم المعلومات الجغرافية

س عدد - مجالات استخدام نظم المعلومات الجغرافية

ممكن أن يظهر السؤال في صيغة اخرى (" نظم المعلومات الجغرافية تتيح مصدراً واسعاً للمعلومات والبيانات التفصيلية للمناطق الجغرافية " دلل على صحة العبارة)

س عدد - المرافق العامة للمدينة



أكمل :

س إدارة وصيانة المدن واستخدامات الأراضي والتخطيط العمراني تسمى

عدد

س أهم إنجازات الكويت في استخدام نظم المعلومات الجغرافية

ممكن أن يظهر السؤال في صيغة اخرى : دلل على صحة العبارة (استخدام الكويت نظم المعلومات الجغرافية في إنجاز العديد من التطبيقات (أكمل - اختياري)

أكمل :

س تطبيق دراسة تكاملية بين نظم المعلومات الجغرافية ونظم تحليل المرئيات الفضائية في مزارع في دولة الكويت تسمى _____

عرف

س النظم الجيومعلوماتية

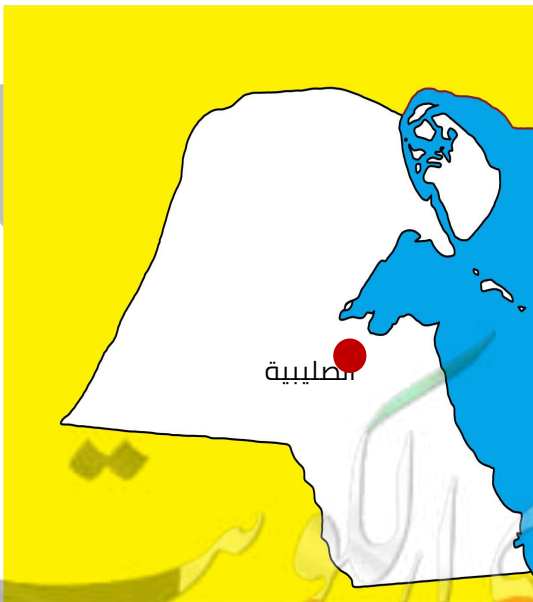
عل

س تطبيق نظم المعلومات الجغرافية في حقل الصليبية

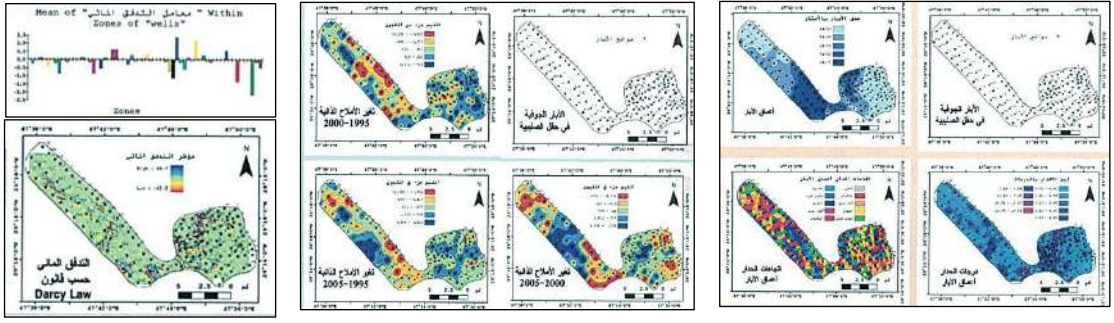
س قياس معدل تدفق المياه بين الآبار في منطقة الصليبية

أكمل :

س الشكل المقابل يشير لمنطقة تطبيق نظم المعلومات الجغرافية لدراسة خصائص المياه الجوفية في دولة الكويت تسمى _____



س اكتب مدلول الصور التالية

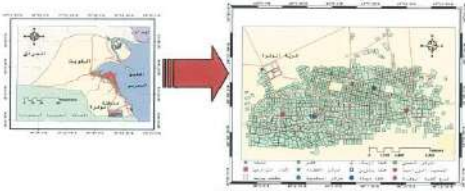


عل

س تطبيق نظم المعلومات الجغرافية في مزارع الوفرة

ممكن أن يظهر السؤال في صيغة اخرى (تطبيق كارتوجرافية الامتداد المكاني في مزارع الوفرة)

أكمل العبارات التالية :



س الشكل المقابل يشير لمنطقة تم تطبيق نظم المعلومات الجغرافية لدراسة الامتداد المكاني لظاهرة التصحر في دولة الكويت تسمى



س الحرف (س) يمثل منطقة زراعية في دولة الكويت تسمى

س تركز دراسة رصد الامتداد المكاني لظاهرة التصحر في مزارع الوفرة على تطبيق تقنية تسمى

س نظم التحليل المستخدمة في كارتوجرافية الامتداد المكاني لظاهرة التصحر في مزارع الوفرة تسمى

علل

س تطبيق نظم المعلومات الجغرافية في جزيرة فيلكا

ممكن أن يظهر السؤال في صيغة اخرى (التوقيع المكاني للمراكز العمرانية في فيلكا قبل القرن العشرين)



أكمل العبارات التالية :

س الجهاز المقابل يمثل أحد تطبيقات نظم المعلومات الجغرافية يسمى

س دراسة التوقيع المكاني للمراكز العمرانية في جزيرة فيلكا ركزت على التكامل بين GPS و

عدد

س المواقع العمرانية في جزيرة فيلكا قبل القرن العشرين



اختياري

س الجزيرة التي تم فيها التوقيع المكاني للمراكز العمرانية قبل القرن العشرين :

- بوبيان
○ أم النمل
○ فيلكا
○ أم المرادم

علل

س تطبيق نظم المعلومات الجغرافية في مزارع العبدلي

ممكن أن يظهر السؤال في صيغة اخرى (استخدام الجيومعلوماتية في منطقة العبدلي)

أكمل العبارات التالية :

س الشكل المقابل يشير لمنطقة تم استخدام الجيومعلوماتية في رصد تدهور الغطاء النباتي في دولة الكويت تسمى _____



تدرب و تفوق

اختبارات الكترونية



U U L A

معلمة في الكويت
Kwailteacher.Com



نظم المعلومات الجغرافية

فوائد نظم المعلومات الجغرافية

عدد

س فوائد نظم المعلومات الجغرافية

ممكن أن يظهر السؤال في صيغة أخرى (" تعتبر المميزات التي تجنيها المؤسسات من إنشاء نظم المعلومات الجغرافية كثيرة ومتنوعة " دال على صحة العبارة)

س فوائد نظم المعلومات الجغرافية على مستوى المؤسسة

عل

س نظم المعلومات الجغرافية ترفع من كفاءة العمل في المؤسسات

س نظم المعلومات الجغرافية تمنع حدوث اختلاف بين الأقسام المختلفة في المؤسسة

س أهمية تحسين الصورة العامة للمؤسسة

س فوائد نظم المعلومات الجغرافية على مستوى التشغيل والصيانة

فوائد نظم المعلومات الجغرافية على مستوى تكنولوجيا المعلومات والحدثة التقنية

فوائد نظم المعلومات الجغرافية على مستوى إدارة الأزمات

U U L A

مجموعة من الكويت
KuwaitTeacher.Com

على مستوى إدارة الأزمات	على مستوى التشغيل والصيانة
----- -----	----- -----



تدرب و تفوق
اختبارات الكترونية



U U L A

معلمة في الكويت
Kuwaitteacher.Com



نظم المعلومات الجغرافية خصائص نظم المعلومات الجغرافية

عدد

س خصائص المعلومات الجغرافية

عل

س المعلومات الجغرافية متغيرة وليست ثابتة

س

المعلومات الجغرافية كبيرة الحجم

س

س حفظ المعلومة الجغرافية في صورة ورقية يتسبب في معوقات مختلفة

ممكن أن يظهر السؤال في صيغة اخرى : (عدد عيوب حفظ المعلومة الجغرافية في صورة ورقية)

س

س التقارير الجغرافية من خصائص المعلومات الجغرافية

ممكن أن يظهر السؤال في صيغة اخرى :
(بدون نظم المعلومات الجغرافية يصعب إصدار التقارير الجغرافية)

مفتوحة الكويت
KuwaitTeacher.Com



تدرب و تفوق
اختبارات الكترونية



U U L A A

معلمة في الكويت
Kuwaitteacher.Com



نظم المعلومات الجغرافية أهداف نظم المعلومات الجغرافية

عدد

س أهداف نظم المعلومات الجغرافية

ممكن أن يظهر السؤال في صيغة اخرى (برهن - تحقق نظم المعلومات الجغرافية أهداف عديدة)

س علل - الصورة الرقمية للمعلومات الجغرافية لها مميزات عديدة



س نظم المعلومات الجغرافية ترفع من تشغيل وإدارة المرافق وعمل الدراسات الفنية والهندسية

U U L A

س أهمية حفظ جميع مرافق المدينة في وعاء واحد



س " أهمية ارتباط خرائط المرافق وبياناتها الجغرافية ببياناتها التفصيلية "

عل

س نظم المعلومات الجغرافية ترفع كفاءة العمل وتحسين الخدمات المقدمة

ممكن أن يظهر السؤال في صيغة اخرى (وجود قاعدة بيانات جغرافية يرفع من كفاءة العمل في المدينة)

س نظم المعلومات الجغرافية تدعم آلية اتخاذ القرار

ممكن أن يظهر السؤال في صيغة اخرى (وجود قاعدة بيانات جغرافية يدعم اتخاذ القرار)

س نظم المعلومات الجغرافية تدعم الجذب السياحي والاستثماري

U U L A



تدرب و تفوق

اختبارات الكترونية

قفوة في الكويت
KuwaitTeacher.Com