

بسم الله الرحمن الرحيم

الصف العاشر

إجتماعيات (تاريخ الكويت)

2019/2018

مذكرة للطلبة الباحثين عن أهم الأسئلة في مادة تاريخ الكويت
و فهم أهم النقاط لكل درس و معرفة صيغة الإختبارات.

مدرسة الإخلاص الأهلية.

إعداد الطالب: كريم أبي حرفوش.

إهداء إلى مدرستي الغالية.

حرفوش
معلمة
صفوة الكويت

الفصل الأول: معالم الكويت الجغرافية والإقتصادية والحضارية

الدرس الأول: جغرافية دولة الكويت

السؤال الأول: اكمل العبارات التالية.

- 1- تقع الكويت بالجزء الشمال الشرقي بالنسبة لشبه الجزيرة العربية.
- 2- موقع الخليج العربي بالنسبة للكويت شرقا.
- 3- الدولة التي تقع في شمال الكويت العراق.
- 4- الدولة التي تقع في جنوب و جنوب غرب الكويت السعودية.
- 5- تقع الكويت بين خطي عرض 28.45 و 30.05 شمال خط الاستواء و خطي طول 46.30 و 48.30 شرق خط جرينيتش.
- 6- مساحة الكويت هي 17.818 كم.
- 7- تعد الكويت مركز تجاري لسكانها الوافدين من الإحساء و نجد و من البادية الشام.
- 8- تم نقل التجارة في الكويت لموانئ الخليج و الهند و الشرق الأفريقي.
- 9- دولة الكويت دولة بحرية.
- 10- يصل ارتفاع التلال في الكويت إلى 145 متر.
- 11- التلال في شمال الكويت هي كراع المرو و جال الزور و اللياح و جنوبها برقان و وراة جنوب الاحمدي.
- 12- ارتفاع تلال جال الزور 137 م و ارتفاع تلال كراع المرو 183 م.
- 13- أشهر الأودية في الكويت و الذي يفصل بين الكويت والعراق بمسافة (150 كم) هو وادي الباطن.
- 14- سهل يغطي المنطقة الغربية والجنوبية في الكويت الديبية.
- 15- أشهر سهول الكويت و هو به تلال واره و قرين و برقان و هو سهل برقان و الذي زادت أهميته بعد اكتشاف حقل برقان و منسوب السطح عند البرقان صفر عند الساحل و 100 متر عند الداخل.
- 16- الاجزاء الصالحة في الكويت للزراعة هي أبو حليفة و الفطاس و دمنة و شعبية و جهراء و الفحيل و العقيلة و المنقف و الوفرة.
- 17- ينحدر سطح الكويت نحو الشرق.

توكل على الله وابدأ عامك باجتهد
فبقوة البدايات تكون روعة النهايات.

- 18- أهم جزيرتان كويتيتان هما بوبيان و وربة.
- 20- ثاني أكبر الجزر من حيث المساحة و فيها دلائل أثرية و معمارية هي فيلكا.
- 21- آخر الجزر الكويتية في الشمال هي وربة.
- 22- جزيرة عوهة تقع في جهة الجنوب الشرقي من جزيرة فيلكا.
- 23- تبعد عوهة عن فيلكا ١٢ ميل أما كبر ١٩ ميل و نصف الميل.
- 24- أصغر الجزر الكويتية أم المرادم و قاروة.
- 25- عدد الجزر في الكويت 10 جزر.
- 26- أكبر الجزر و تشكل 5% من الإمارة هي بوبيان.
- 27- مناخ الكويت قار قاس جاف.
- 28- متوسط الحرارة في الكويت 42 إلى 48 درجة مئوية.
- 29- الأمطار في الشتاء قليلة و غير منتظمة و تختلف من سنة لإخرى.
- 30- مناخ الكويت يمتاز ب جفافه و قلة رطوبته.
- 31- هناك أماكن فيها ماء صالح للاستهلاك مثل العبدلي و الوفرة و الصليبية و أم العيش الروضتين.
- 32- إقليم للكويت هو الإقليم الصحراوي.
- 33- أشهر الفلكيين في الكويت د.صالح العجيري.
- 34- مناخ الكويت يمتاز ب جفافه و قلة رطوبته.
- 35- افتقدت الكويت قبل نزول العتوب السلطة و الحدود السياسية.
- 36- أول تعداد سكاني في الكويت بعهد الشيخ عبد الله السالم عام 1957 م.
- 37- وجدت آثار حضارية في فيلكا و وارة و برقان و جنوب الوفرة و حضارة العبيد.

معلمة
صفوة
الكويت

السؤال الثاني: صحح ما تحته خط فيما يأتي.

- 1- تقع الكويت في الجزء الشمالي الشرقي للخليج العربي. (الشمالي الغربي)
- 2- رياح تهب في الظهيرة وترفع درجات الحرارة وهي الكوس. (السموم)
- 3- آخر تعداد سكاني في الكويت في عهد الشيخ جابر الأحمد. (صباح الأحمد)

السؤال الثالث: اكتب ما تعرفه عن.

1- السكان في الكويت.

يرجع الوجود البشري في الكويت إلى أربع آلاف سنة قبل الميلاد ما يدل على ذلك الآثار الحضرية الموجودة في فيلكا و وارة و برقان و قرين و الصبية و أول تعداد سكاني في الكويت 1957م في عهد الشيخ عبدالله السالم و في عام 1990م كان عدد السكان في الكويت 2141465 و 72% وافدين وحصل تغيرات في أعداد السكان هذا العام بسبب العدوان و غزو النظام العراقي البائد و هجرة الوافدين لموطنهم الأصلي.

2- المناخ في الكويت.

بسبب الموقع الفلكي للكويت مناخ الكويت قاس قار جاف و هناك فصلين رئيسيين الصيف و هو طويل و حار و جاف و الشتاء دافئ و قليل الأمطار و ثانويين الربيع و هو قصير و الخريف و هو يمتاز بالرطوبة و تهب في الصيف رياح محملة بالغبار و ترتفع الرطوبة في (أغسطس وسبتمبر) متوسط الحرارة في الصيف 42 إلى 48 درجة مئوية أما في الشتاء 18 درجة مئوية و الأمطار غير منتظمة و قليلة و مختلفة وأن مناخها يتميز بجفافه و قلة رطوبته و قلة أمطاره و هناك انتقال سريع بين الصيف و الشتاء و الموارد المائية شحيحة و مرتفعة الملوحة و هناك أماكن فيها مياه صالحة للاستهلاك مثل العبدلي و الوفرة و الصليبية و أم العيش و الروضتين.

3- موقع الكويت من الناحية الجيولوجية.

دولة الكويت جزء من الكتلة العربية حيث تفصل بين العراق و بين الهضبة الصحراوية التي تكون شبه الجزيرة العربية و بشكل عام يتكون سطح دولة الكويت من سهول رملية منبسطة تتخللها تلال قليلة الارتفاع و ينحدر سطحها نحو الشرق.

معلمة الكويت
صفوة الكويت

4- أهمية جزيرة فيلكا التاريخية.

توجد في فيلكا دلائل الأثرية و المعمارية و منها حجر إيكاروس و هي ثاني أكبر جزيرة في الكويت من حيث المساحة و يذكر الرحالة الغربيون و المصادر التاريخية أهميتها و هناك بعثات تتم لفيلكا لمعرفة أثارها و الحضارات التي ازدهرت على أرضها.

السؤال الرابع: علل لما يأتي.

1- جعل موقع الكويت للكويت كيان سياسي؟

- 1- موقعها الذي يمثل نهاية طبيعية لطريق الملاحة التجاري و البحري الواقع على طريق الهند.
- 2- البوابة لشمال شرق الجزيرة العربية و مركز تجاري للوافدين من الشام و الأحساء و نجد.
- 3- نقطة ترانزيت و طريق لتجارة العبور و قليلة الضرائب.
- 4- براعة الكويتيون في نقل التجارة إلى موانئ الخليج و الهند.
- 5- نشاط الكويت التجاري و البحري و هذا بسبب الموانئ في شمال الأحساء و ظهورها البري.

2- زادت أهمية سهل برقان؟

بعد اكتشاف أهم حقول النفط حقل برقان.

3- الأجزاء الصالحة للزراعة في الكويت محدودة؟

بسبب مناخ الكويت الصحراوي و توافر المياه الجوفية.

4- كانت تريد العراق ضم بوبيان وفيلكا في مختلف صراعتها مع الكويت؟

لكي يكون لها منفذ على الخليج العربي.

5- فيلكا أهم الجزر الكويتية؟

بما تحتويه من إشارات و دلائل أثرية و معمارية و الحضارة الدلمونية التي قامت عليها.

6- عملت في فيلكا بعثات استكشافية؟

للكشف عن أثارها و بيان طبيعة الحضارات التي ازدهرت على أرضها.

7- لم تعد جزيرة فيلكا مؤهولة بالسكان؟

غزو النظام العراقي الغاشم على دولة الكويت.

8- مناخ الكويت قار وجاف وقاس ودرجات الحرارة مرتفعة أكثر أيام السنة؟

الموقع الفلكي لدولة الكويت.

9- مناخ الكويت يمتاز بجفافه و قلة رطوبته؟

بسبب التبخر العالي.

10- اختلاف المناخ بين مناطق دول العالم؟

اختلاف موقعها الفلكي و الجغرافي.

11- تمتاز الرياح الجنوبية الشرقية بانها رطبة ودافئة؟

لأنها تتأثر بالمنخفض السوداني.

12- الرياح الشمالية الغربية التي تهب على دولة الكويت جافة؟

لأنها تتأثر بالمنخفض السيبيري في شمال القارة الآسيوية.

13- شهد العام 1990م تغير كبير في أعداد السكان؟

بسبب العدوان وغزو النظام العراقي وهجرة الوافدين إلى موطنهم العرب و غير العرب.

14- للبحث في اصول السكان يتم الكشف عن التركيبة السكانية لشبه الجزيرة العربية؟

لأنهم يقعون ضمن الإقليم الجغرافي و السياسي نفسه و هو إقليم البحرين.

15- اختلاف عدد سكان الكويت من محافظة لآخرى؟

لأنهم يتركزوا في العاصمة و ضواحيها و على سواحل الخليج العربي.


16- كثرة الوافدين على الكويتين؟

بسبب الأجور العالية و توفر الأمن في دولة الكويت.

17- دراسة موقع كل دولة من دول العالم؟

لإبراز القيمة الفعالة للدولة و الدور الذي مارسته و فهم كيفية تكون المصالح على الحيوية على الدولة.

السؤال الخامس: مثل بيانيا نسبة الكويتيون (٢٨%) و الوافدين (٧٢%) في الكويت عام 1990م.



السؤال السادس: دلل على صحة العبارات التالية.

1- يرجع الوجود البشري في الكويت إلى أربعة آلاف سنة قبل الميلاد؟

الأثار الحضارية الموجودة في المناطق فيلكا و وارة و جنوب الوفرة و برقان و قرين و الصبية.

2- للكويت نشاط بحري وتجاري؟

الموانئ في شمال الاحساء و الجزر و ظواهرها البرية.

السؤال السابع: ما النتائج المترتبة على كل مما يأتي.

1- اعتبار الكويت المدخل الطبيعي لشمال شرق الجزيرة العربية.

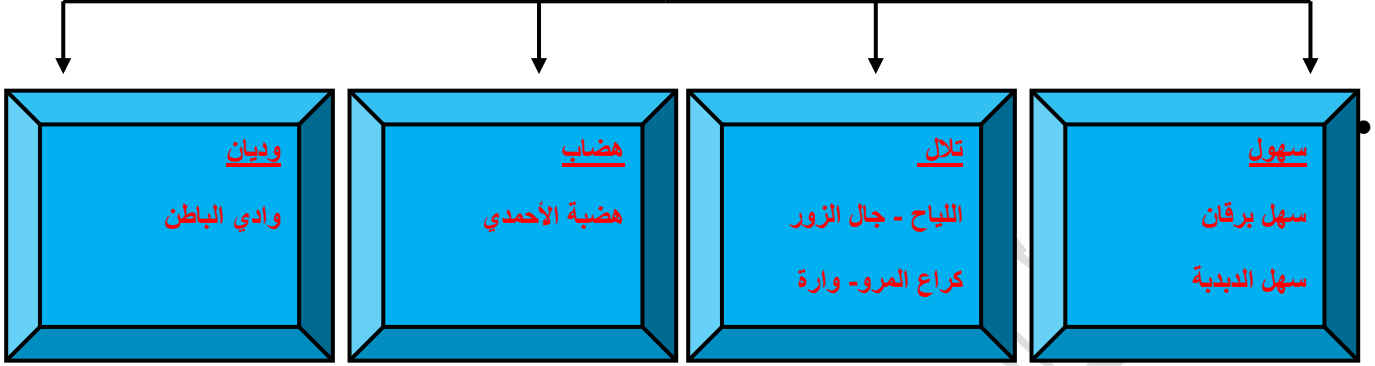
أصبحت تعد مركز لتجارة الوافدين من نجد و الإحساء و بادية الشام.

2- مناخ الكويت المتميز بجفافه و قلة رطوبته؟

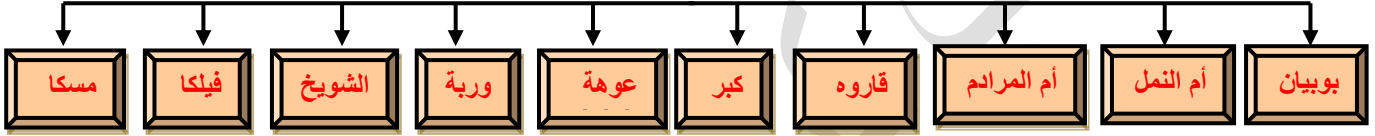
جعل الكويت متميزة مناخيا و يلاحظ الانتقال بين الصيف و الشتاء و شح المياه و ارتفاع ملوحتها.

السؤال الثامن: اكمل المخططات السهمية.

التضاريس في الكويت



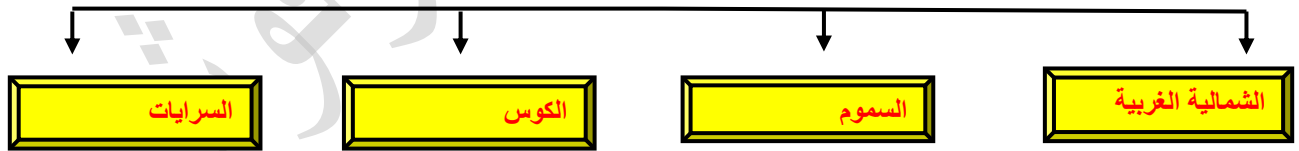
الجزر الكويتية



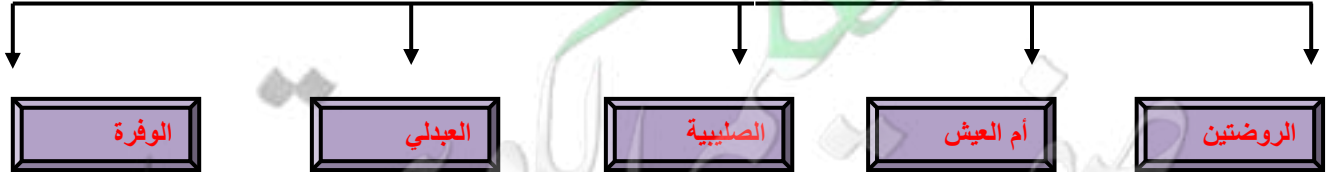
الفصول في الكويت



الرياح التي تهب في الكويت



أماكن توفر المياه الصالحة للإستهلاك



السؤال التاسع: قارن بين كل مما يأتي.

الشمالية الغربية	تهب معظم أيام السنة و تتأثر بالمرتفع السبيري في شمال القارة الآسيوية و يعدل درجة الحرارة في الصيف و في الشتاء يجعل درجة الحرارة قارسة البرودة.
الكوس	دافئة و رطبة و تتأثر بالمنخفض السوداني و ترفع الرطوبة في الصيف و درجة الحرارة و تجعل الحرارة في الشتاء معتدلة و محملة بالامطار أيضا.
السموم	رياح تهب في الظهرية و تخفض الرطوبة النسبية و ترفع الحرارة في الصيف و تأتي من الشمال و الشمال الشرقي.
السرايات	تهب في أواخر الربيع و أوائل الصيف و تكون محملة بعواصف رعدية و أمطار شديدة و تسمى بسرايات.

الصيف	الشتاء
طويل جاف و حار.	قصير و دافئ و ممطر أحيانا.

الربيع	الخريف
معتدل و قصير.	رطوبة عالية ودرجة أقل من الصيف.

العام	الكويتيون	الوافدون	الإجمالي
2014م	1263100 نسمة.	2789300 نسمة.	4000052 نسمة.

معلمي الكويت
صفوة

السؤال العاشر: أوجد العلاقة بكتابة فقرة مترابطة بالإستعانة بالكلمات التالية.

1- (الشام - الوافدين - الكويت - بضائع)

الكويت هي البوابة الطبيعية لشمال شرق الجزيرة العربية و هي أيضا مركز لتجارة الوافدين من الشام لتصريف بضائعهم فيها.

2- (جون الكويت - حقل - سهل برقان)

سهل برقان من أشهر السهول و أنه يمتد من جون الكويت و موازي لخط الساحل و زادت أهميته بعد اكتشاف أكبر حقل نفط بالكويت حقل برقان.

3- (قاري - شتاء - مناخ - رطوبة)

مناخ الكويت قاري قاس وفصلين رئيسيين شتاء وصيف وتبدأ الرطوبة في أغسطس و سبتمبر.

4- (الكويتية الصحراوية - انتقال سريع - شحيحة - الوفرة)

أثبتت الدراسات المتعلقة بالبيئة الصحراوية الكويتية أن مناخ الكويت يمتاز بجفافه الفصلان الصيف و الشتاء يلاحظ الانتقال السريع فيهما و هي دولة شحيحة الأمطار والمياه مرتفعة الملوحة وبعض الأماكن فيها مياه صالحة للشرب مثل الوفرة.

5- (الوجود البشري - التعداد السكاني - إقليم البحرين - السلطة)

السكان في الكويت ارتبطوا ارتباط وثيق بالتركيبة السكانية لشبه الجزيرة العربية لأنهم كانوا من نفس الإقليم و هو إقليم البحرين فالكويت قبل نزول العتوب كانت تفتقد السلطة و الوجود البشري في الكويت يرجع لأربع آلاف سنة قبل الميلاد.

السؤال الحادي عشر: فند العبارات التالية.

1- لم يشهد العام 1990 م تغير في أعداد السكان في الكويت.

العام 1990م شهد تغير كبير في أعداد السكان في الكويت بسبب العدوان و الغزو الغاشم و هجرة الوافدين العرب و غير العرب لمواطنهم.

2- جزر الكويت لم تحظى بأهمية كبيرة.

جزيرة فيلكا ذات الحضارة الهلنستية و وما فيها من دلائل أثرية ومعمارية وأن وربة وبوبيان كانتا مطمع للعراق لأن إذا سيطروا عليهما سوف يكون لهما منفذ على الخليج العربي.

3- كانت الكويت مهجورة و لم يكن فيها سكان.

الوجود البشري يرجع لأربعة آلاف سنة قبل الميلاد فهناك آثار في شمال الوفرة و تل وارة و برقان و قرين و فيلكا.

السؤال الثاني عشر: رتب الأحداث.

- 1- التعداد بعهد الشيخ عبدالله السالم. (2)
- 2- تعداد بعهد الشيخ صباح. (3)
- 3- تقديرات الرحالة. (1)

السؤال الثالث عشر: أي مما يلي لا ينتمي للمجموعة.

- 1- (العراق - السعودية - إيران - اليمن)
- 2- (وارة - جال الزور - كراع المرو - النياح)
- 3- (وارة - قرين - برقان - اللياح)

معلمة صفوة الكوي

مساعدة الطالب على حل الأنشطة

● على خريطة دولة الكويت الصماء أدناه سجل التالي:

-الدول المجاورة

-المسطح المائي

-الموقع الفلكي



● اكتب عن مميزات موقع دولة الكويت:

الكويت موقعها يمثل النهاية الطبيعية للطريق الملاحي البحري و التجاري و الكويت مركز لتجارة الوافدين و هي نقطة ترانزيت و للكويت نشاط بحري و تجاري فهي أحد موانئ شمال إقليم إحساء مع ملحقاتها من الجزر.

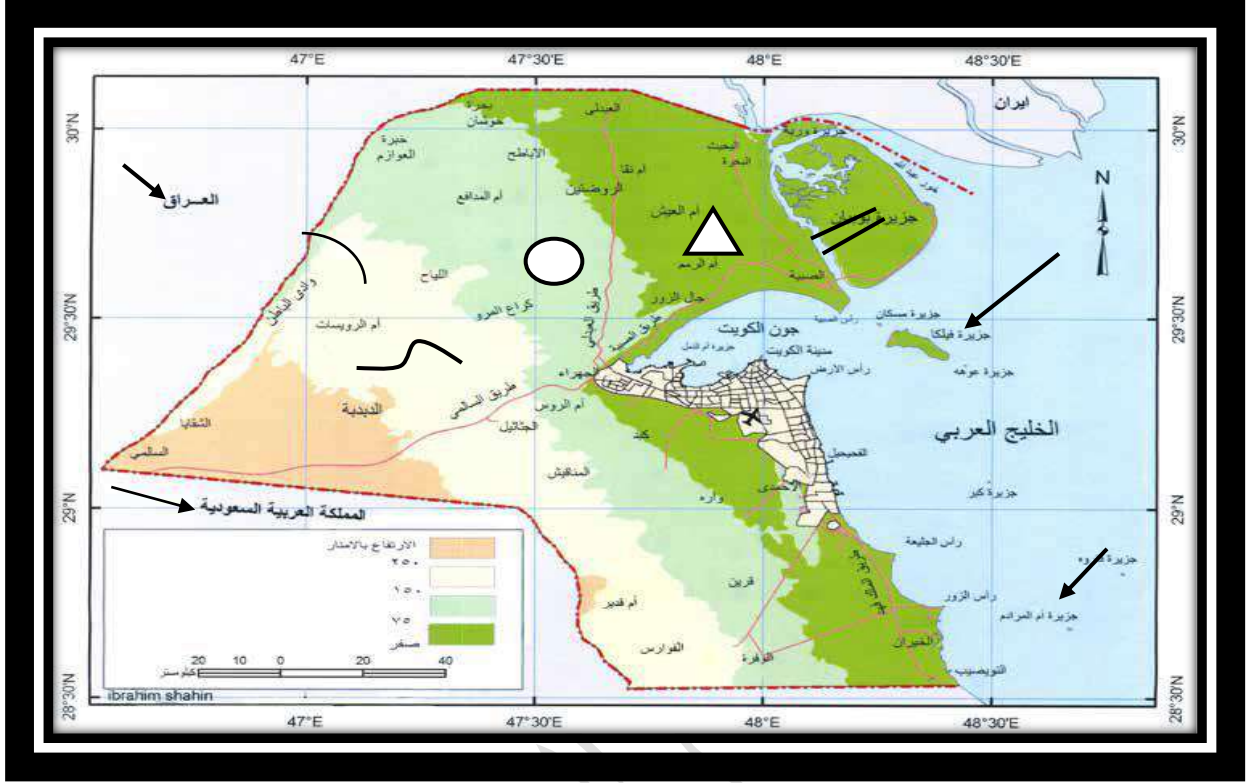
● هل دولة الكويت بحرية أم هي دولة مغلقة؟

دولة بحرية.

● فرق بين الدول البحرية والدول المغلقة من حيث المفهوم :

الدول المغلقة	الدول البحرية
دول محاطة باليابس من الكامل.	هي الدول التي تحاط أراضيها بالمياه وتسيطر على أقاليم بحرية.

● ارسم خريطة دولة الكويت، ثم حدد عليها المظاهر الطبيعية التالية:



- | | |
|----------------|-------------------|
| ○ -كراخ المرو | △ -تلال جال الزور |
| ~ -وادي الباطن | ~ -سهل الدببة |
| | == -خور الصبية |

- حدد على الخريطة ما يلي:

- الدول العربية التي تحد دولة الكويت من الشمال والجنوب.

- أول جزيرة تم تحريرها من الغزو العراقي.

- جزيرة أم المرادم.

معلمة الكويت
صفحة الكويت

● فرق بين السهل والتل من حيث ما هو مطلوب بالجدول التالي:

التل	السهل	وجه المقارنة
هو ارتفاع اقل من الجبل.	مساحات أرضية واسعة من الاراضي المستوية.	المفهوم

● ابحث عن مميزات سهل الروضتين.

يغطي هذا السهل رواسب حصوية و هذا السهل يتميز بإنحداره نحو الشرق و الشمال الشرقي.

● صنف المظاهر التضاريسية في دولة الكويت من خلال استعانتك بالكتاب المدرسي شكل (2) حسب

الجدول التالي:

سهول	واديان	تلال
سهل الدبدبة	وادي الباطن	كراع المرو
سهل الروضتين		جال الزور
سهل برقان		اللياح
		برقان
		وارة
		قرين

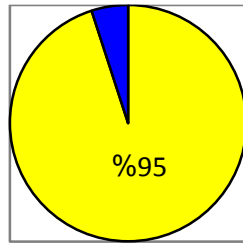
● على خريطة دولة الكويت الصماء حدد الجزر الكويتية :



● رتب الجزر الكويتية حسب موقعها من الشمال إلى الجنوب في الجدول التالي:

أم المرادم	قاروه	كبر	الشويخ	عوهة	أم النمل	فيلكا	مسكان	بوبيان	وربة
------------	-------	-----	--------	------	----------	-------	-------	--------	------

● وضح نسبة مساحة جزيرة بوبيان نسبة للمساحة الإجمالية لدولة الكويت على الدائرة البيانية أمامك:



الكويت	95%
بوبيان	5%

● قارن بين الجزيرة العربية و شبه الجزيرة من حيث المفهوم في الجدول التالي:

وجه المقارنة	الجزيرة	شبه الجزيرة
المفهوم	بقعة من الأرض تحدها المياه من جميع الإتجاهات.	بقعة من الأرض يحدها الماء من ثلاث إتجاهات.

● اكتب تقريراً لا يتعدى خمسة أسطر عن أهمية جزيرة فيلكا التاريخية :

جزيرة فيلكا ترجع أثارها للحضارة الدلمونية و فيها الأثار الحضارة الدلمونية و فيها العديد من الأثار

المعمارية و أنها تتم فيها البعثات الاستكشافية من أجل معرفة الحضرات التي ازدهرت على

أرضها و أنها تم فيها تنقيب أثري و المصادر التاريخية أنها ترجع للحضارة الدلمونية فهناك

القلعة الهلنستية و تل الخزنة و هذ الأماكن مقدسة عند الإغريق و وجدوا هناك العملات النحاسية

ووجدوا 400 ختم دلموني هناك و معابد بالقرب من الوحدات السكنية.



● اقتراح ثلاثة مشاريع لجعل جزيرة فيلكا ذات أهمية استراتيجية:

1- إنشاء مدينة تراثية.

2- موطن للترفيه.

3- استوديوهات صناعة السينما.

● علل: اختلاف المناخ بين مناطق دول العالم.

بسبب اختلاف موقعها الفلكي والجغرافي.

● ما الإقليم المناخي الذي تنتمي إليه دولة الكويت؟

الإقليم الصحراوي.

● صف حالة الجو في دولة الكويت خلال فصلي الشتاء والصيف.

الصيف: طويل و جاف و قاس و يهب فيه الغبار.

الشتاء: ممطر أحيانا و قصير و دافئ.

● اقتراح حلولاً لترشيد المياه في دولة الكويت للمحافظة على هذه الثروة.

نشر التوعية بين المواطنين و إنشاء السدوج و الخزانات.

● اكتب نبذة مختصرة عن إدارة الأرصاد الجوية التابعة للطيران المدني في دولة الكويت من حيث

(نشأتها ، موقعها ، أهم أعمالها ، فوائدها للمجتمع).

نشأتها: تأسست عام 1953م.

موقعها: مطار الكويت الدولي.

أهم أعمالها وفوائدها للمجتمع: تجعلنا نعرف الطقس ونكون مستعدين لأي تغير في الطقس وتوفر أوضح

صورة لأحوال الطقس.

معلمة
صفوة
الكويت

● علل لما يلي:

1- تمتاز الرياح الشمالية الغربية بالجفاف.

لأنها تتأثر بالمرتفع السيبيري.

2- تمتاز الرياح الجنوبية الشرقية بأنها رطبة و دافئة.

لأنها تتأثر بالمنخفض السوداني.

● من أنا:

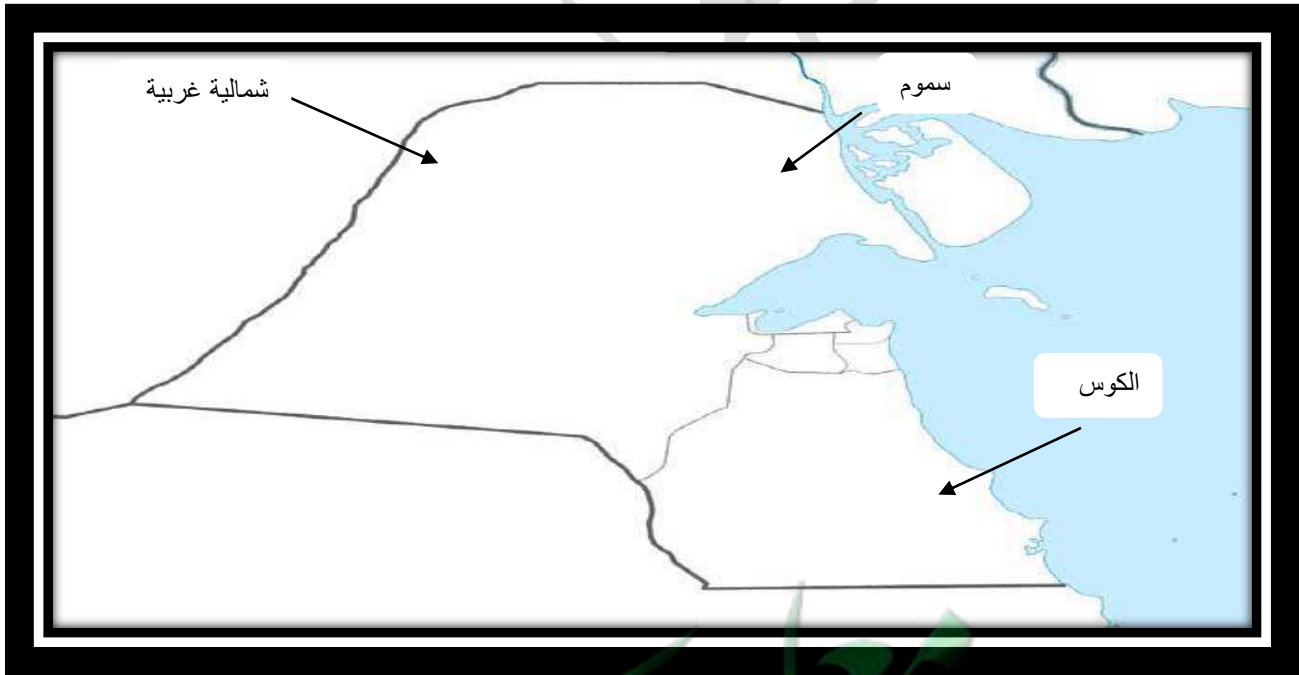
*أهب من الجنوب الشرقي و أنا رطبة و دافئة. (الكوس)

*أهب معظم أيام السنة و أنا جافة و تنخفض بسببي درجات الحرارة. (الشمالية الغربية)

*ظاهرة مناخية تهب في أواخر الربيع و أوائل الصيف. (السرايات)

*من أشهر الفلكيين في دولة الكويت. (صالح العجيري)

● اذكر أنواع الرياح التي تهب على دولة الكويت محددًا اتجاهتها بالرسم على الخريطة التي أمامك:



صفحة من الكويت

أمامك جدول بياني لعدد السكان في دولة الكويت.

الإجمالي	الوافدون	الكويتيون	العام
4000052 نسمة	2789300 نسمة	1263100 نسمة	2014م

● علل ما يلي:

أ. اختلاف عدد السكان في دولة الكويت من محافظة إلى أخرى.

لأن معظم السكان يتركزون حول سواحل الخليج العربي و في العاصمة.

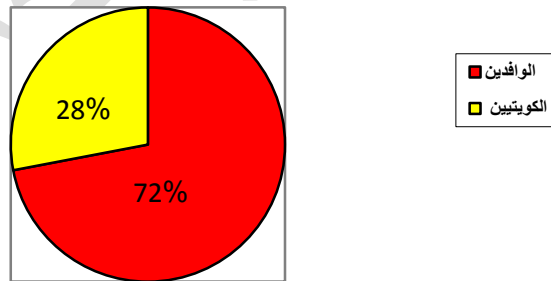
ب. زيادة نسبة الوافدين على نسبة الكويتيين.

بسبب الأمن و الأمان في الكويت و فرص العمل بأجور عالية.

● اكتب حقيقة واحدة استنتجتها من الجدول البياني.

أعداد الوافدين أكثر من الكويتيين.

● أكمل الدائرة البيانية التالية بتحديد نسبة الوافدين في دولة الكويت 1990م.



● علل: قلة الوافدين بعد 1990م .

بسبب العدوان الغاشم و الغزو العراقي البائد و هجرة الوافدين عرب و غير عرب.

الدرس الثاني: الأنشطة الاقتصادية قديماً

السؤال الأول: عرف المفاهيم التالية.

- 1- القمبار: طريقة من طرق الصيد قديماً يضع فيها الصياد السراج في الماء و يتجمع حولها السمك ثم يضرب بسيف أو عصا نهايتها حربة.
- 2- العمائر الساحلية: مخازن المواد المستخدمة لصناعة السفن.
- 3- الهيبرات: الأماكن التي توجد فيها منابت المحار.
- 4- الدفشة: بداية موسم الغوص و يبدأ في مايو.
- 5- القفال: نهاية موسم الغوص و ينتهي في سبتمبر أو أكتوبر.
- 6- موسم السفر: بداية مزاولة التجارة و التي تبدأ في شهر أغسطس و ينتهي في مايو مع هبوب رياح السرايات.
- 7- الترانزيت: إعادة تصدير الواردات.
- 8- المرازيم: هي ألواح من خشب أو صفيح و تصريف مياه المطر.
- 9- المنز: السرير الذي ينام عليه الطفل قديماً.
- 10- الرك: صندوق له فتحة من الأعلى يضع في الرطب و العنب و الرمان.
- 11- بيت الشعر: هو بيت الذي كانوا يعيشون فيه أهل البادية.
- 12- العدول: هي أكياس كبيرة الحجم يضع فيها الطعام و تضع على ظهر الدابة و يضع فيها أغراض الراكب.
- 13- المزاود: هي أكياس متوسطة الحجم تضع فيها طعام ولباس.
- 14- الدفشة بالنسبة لموسم السفر: يبدأ في أغسطس دخول البحر.
- 15- القفال (الإغلاق) بالنسبة لموسم السفر: ينتهي في مايو وهنا يخرج من البحر و انتهى مع هبوب السرايات.

بالعلم والإيمان نبني
أمانينا.

السؤال الثاني: اكمل العبارات التالية.

- 1- كان المجتمع الكويتي قبل اكتشاف النفط بسيط و هادئ و اتسم بالمرونة و قبل الهجرات و انفتح على الثقافات.
- 2- من القرى الكويتية التي كانت خارج الكويت و من ضمن المناطق الزراعية قرية الجهراء و الفحيحيل.
- 3- تأثر المجتمع الكويتي بالنشاط البري و البحري.
- 4- توسط الخليج العربي قارات العالم آسيا و أفريقيا و أوروبا.
- 5- طريق الحرير له مساران مسار شمالي و غربي.
- 6- المسار الغربي للطريق الحرير يبدأ من ميناء في الصين وهو كانتون.
- 7- من الأسماك التي كان يتغذى عليها أهل الكويت هي الزبيدي و الهامور و السبيطي و النقرور و البياح و الربيان.
- 8- من الأدوات التي كانت تستخدم في الصيد هي الشباك و القرقور.
- 9- من السفن التي كانت تذهب لأماكن صيد الاسماك هي شوعي و هوري و جالبوت.
- 10- سفن الصيد كانت تتجه إلى خور الزبير وفيلكا و وربة و كاظمة شمالا و رأس الزور و جليعة جنوبا.
- 11- موسم الغوص كان يبدأ في الصيف.
- 12- من السفن التي كانت تستخدم في الغوص على اللؤلؤ هي الجالبوت و البتيل و الشوعي و بوم الغوص و السنبوك و البقارة.
- 13- من مسميات اللؤلؤ دانة و قماشة.
- 14- أصدر الشيخ أحمد الصباح قانون الغواصين ١٩٤٠م.
- 15- موسم التجارة يسمى موسم السفر.
- 16- بداية موسم السفر تسمى الدشة و نهايته إغلاق.
- 17- تأسست دولة الكويت عام ١٦١٣م.
- 18- الميناء الأعلى ضريبة قديما هو القطيف.

19- كانت القوافل البرية تحمل البضائع من السفن الكويتية الآتية من الهند و افريقيا وتنقل إلى بغداد و حلب.

20- من أهم الواردات التي كانت تأتي بها السفن الكويتية الأسلحة و الذخيرة و القمح و الأرز و الشعير و الرطب و التبغ و الأقمشة.

21- كان يجول الاسطول الكويتي في الخليج العربي و البحر الاحمر و المحيط الهندي.

22- موسم المطر يبدأ في أكتوبر و ينتهي في أبريل.

23- قام الكويتيون بزراعة خضار كال الطماطم و البطاطس.

24- النباتات البرية التي تتم زراعتها في الكويت هي الحنظل و العرفج و ثندا و أرطاة.

25- كانت الأخشاب عند النجار مستوردة من أفريقيا و الهند.

26- من ألعاب الأطفال قديما النباطة و الدوامة.

27- الذي كان يلعب قدور المطبخ قديما يسمى الصفار.

28- الذي يصنع التناك و المحقان هو التناك.

29- النداف يقوم بتنجيد المساند و الفرش مستخدما القطن.

30- الحرفة التي تمارسها المرأة في البادية تسمى غزل السدو.

31- هو الذي توضع في أغراض الراكب العدل.

حرفوش
معاً
صفوة
الكويت

السؤال الثالث: اكتب ما تعرفه عن.

1- المجتمع الكويتي قبل اكتشاف النفط.

عرف أنه مجتمع هادئ و بسيط و تميز بالتلاحم و كان يعي مبدأ الشورى و هو أساس وحدته و قبل الهجرات و اتسم بالمرونة و الإنفتاح على الثقافات الأخرى و كان له قدرة كبيرة على التحدي و المواجهة و كان يحل مشاكله بعيد عن أي طائفية و تعصب.

2- طريق الحرير.

هذا طريق تجاري قديم له مساران مسار شمالي و هو طريق الحرير البري و يبدأ من الصين و ينتهي بأوروبا و له مسار غربي و يسمى طريق الحرير البحري و يبدأ من أحد الموانئ الصينية و يلتف حول شبه القارة الهندية وله فرعين فرع شمالي ناحية الخليج العربي و بلاد فارس و غربي نحو اليمن و البحر الاحمر و شمال افريقيا.

3- صيد الأسماك قديماً.

كانت حرفة صيد الأسماك مصدراً من مصادر الدخل في الكويت قبل اكتشاف النفط و كان السمك و لا يزال الغذاء الرئيسي لسكان الكويت و لكا كانت مياه الخليج فيها أسماك جيدة و متنوعة لما انتعشت هذه الحرفة حتى كان قديماً الفائض من الأسماك يملح و يرسل إلى الموانئ المجاورة و هناك أنواع من الأسماك كانت غذاء قديماً مثل الزبيدي و الهامور و النقرور و اليباح و السبيطي و الربيان و الهامور و الصبور و الربيان و من طرق الصيد قديماً الشباك و القرقور و الحظور و القمبار و من السفن الكويتية التي كانت تذهب للصيد الشوعي و الهوري.

4- حرفة الرعي في الكويت.

هذه الحرفة تعتمد على هطول المطر و للموقع الجغرافي لدولة الكويت فهي شحيحة الأمطار و الأمطار تبدأ في أكتوبر و تنتهي في أبريل و في الربيع تنمو النباتات البرية و يطلقوا القطعان الإبل و الأغنام و الماعز لترعى.

5- المحاصيل التي تزرع في الكويت.

زرعوا الخضروات بالإضافة للحبوب و القمح و البرسيم (الجت) و استخدموا أشجار الإثل كمصدات زرعوا أشجار السدر و النباتات البرية مثل التندا و الحنظل و الحمض و الأرطة و العرفج.

السؤال الرابع: علل لما يأتي.

1- انفتح المجتمع الكويتي على الثقافات الاخرى؟

بسبب التجارة و كانت السفن الكويتية تصل إلى الهند و أفريقيا.

2- اتجه الكويتيون للنشاط البحري؟

بسبب موقع الكويت الجغرافي و شدة الحرارة و عدم خصوبة التربة و قلة الموارد و شح لمطر.

3- انتعاش حرفة الصيد الأسماك في الكويت؟

تنوع الاسماك و اختلافها في الشكل والحجم.

4- نشأة صناعة السفن في الكويت؟

بسبب موقع الكويت الجغرافي.

5- ازدهار صناعة السفن في الكويت؟

1- الرياح الموسمية التي تهب على منطقة الخليج العربي و تحرك الرياح نحو شرق اسيا و شواطئ الهند.

2- توفر الأيدي العاملة لصناعة السفن.

3- تمتع الكويت بواجهة بحرية طويلة تمتد من شمالها إلى جنوبها و جون الكويت و الجزر في مياها

الإقليمية و النقع و العمائر الساحلية.

4- براعة الاساتذة و القلائيف فالاساتذة في المرتبة الاولى فهم يصمموا السفينة و أما القلائيف تأتي في

المرتبة الثانية فهم يصنعوا المواد اللازمة لصناعة السفن و يصنعوها.

5- توفر مصادر المواد المستخدمة في صناعة السفن.

6- كانت في حرفة الغوص على اللؤلؤ رجال الكويت وشبابها؟

إذ كان ينزل البحار الى قاع الخليج و يبحث عن اللؤلؤ و من ثم للطواش و من ثم إلى خارج الكويت.

7- كسدت تجارة الغوص على غوص؟

بسبب اللؤلؤ الصناعي 1928م.

8- انقراض حرفة الغوص على اللؤلؤ؟

بسبب خطورة الحرفة و ظهور النفط.

9- للكويت أهمية تجارية كبيرة؟

موقعها الجغرافي الذي أعطاها بعد استراتيجي و هي حلقة وصل بين الشرق و الغرب و نقطة ترانزيت و عمل أهلها بحرفة الغوص و الصيد هو الذي جعلها تخطو بهذه المهنة.

10- لم ترفع الكويت الضرائب و المكوس؟

لأنها أدركت أهمية التجارة كرافد اقتصادي.

11- قامت السلطة الكويتية قديما بالإهتمام بالتجارة البرية و النقل البري عموما؟

من أجل أن يحصل تكامل بينها و بين النشاط البحري و نقل البضائع التي تأتي بها السفن الكويتية.

12- قلة الزراعة في الكويت؟

الحرارة الشديدة و عدم خصوبة التربة و قلة الموارد و قلة الامطار.

13- قام الكويتيون بممارسة حرفة الزراعة؟

للربح و كسب الرزق.

14- زرع الكويتيون الطماطم و البطاطس؟

لأنهم استغلوا مياه الآبار السطحية و مياه الأمطار القليلة.

15- حجم السوق الكويتي قديما كان صغيرا؟

بسبب قلة الإمكانيات و قلة عدد السكان.

16- الحرف اليدوية قديما مهمة جدا؟

هي جزء من التراث القديم و لعبت دور في تلبية احتياجات الكويت الداخلية.

معاكم
صفوة الكويت

السؤال الخامس: دال على صحة العبارات التالية.

1- تميز النشاط الاقتصادي بالكويت بتنوع.

إذ تأثر بالنشاط البحري و البري و الكويتيون تأثروا بالمجتمع الذي كانوا يعيشون فيه بعاملين كل ما يتعلق بالتجارة البحرية عموما و كل ما يتعلق بالبادية من رعي و زراعة.

2- الخليج العربي أحد اسباب الأهمية الاقتصادية قديما.

يتوسط قارات العالم الثلاثة آسيا و أفريقيا و أوروبا و أحد أذرع المحيط الهندي شبه الجزيرة العربية و فيه مضيق هرمز الذي يربط بينه و بين خليج عمان و فيه موارد برية و بحرية تمر ولؤلؤ و وسائل نقل التجارة.

3- أهمية صيد أسماك.

أنها مصدر من مصادر الدخل و الغذاء و انتعشت هذه الحرفة لتنوع الاسماك و لم تنقطع.

4- اعتزاز الكويت بماضيها البحري.

سفينة اليوم شعار على العملة الوطنية و شعار الدولة و الصور على المؤسسات التي تدل ارتباط الكويت بماضيها البحري.

5- أثرت حرفة الغوص على أهل الكويت.

الإلتزام و الطاعة و تقوية العلاقات بين السكان و تأصل قيم الصدق و التعاضد بين المجتمع و الاحترام المتبادل.

6- استطاع الكويتيون التغلب على الظروف الطبيعية و الحرارة العالية في الكويت.

استغلوا مياه الآبار السطحية و مياه الأمطار القليلة و زرعو الطماطم و البطاطس من أجل الربح.

7- أهمية غزل السدو عند البادية.

المرأة في البادية قامت بحياكة الصوف و هو أساس بيت الشعر و العدول و المزود و المفروشات و البشوت و العباءة النسائية.

معلمة صفوة الكويت

السؤال السادس: ما النتائج المترتبة على كل مما يأتي.

1- انفتاح الكويتيون قديما على الثقافات الأخرى؟

زادت الأهمية الاقتصادية للكويت.

2- النشاط البري و البحري قديما؟

تكنت العادات و التقاليد و البنية الإقتصادية و التركيبية الإجتماعية.

3- تنوع الأسماك في مياه الكويت في أشكالها و أحجامها؟

أدى إلى انتعاش حرفة صيد الأسماك و استمرار الصيادين في مزاولة هذه المهنة.

4- و جود جون الكويت و الجزر في مياه الكويت و النقع؟

تمتعت الكويت بواجهة بحرية من شمالها إلى جنوبها.

5- ظهور اللؤلؤ الصناعي؟

انقرض حرفة الغوص على اللؤلؤ.

6- قانون الغواصين الذي وضعه الشيخ أحمد الصباح عام 1940م؟

تنظمت العلاقة بين النوخة و البحارة.

7- عدم رفع الكويت المكوس؟

أزدهرت التجارة في الكويت و أصبح ميناءها هو المفضل للتجار.

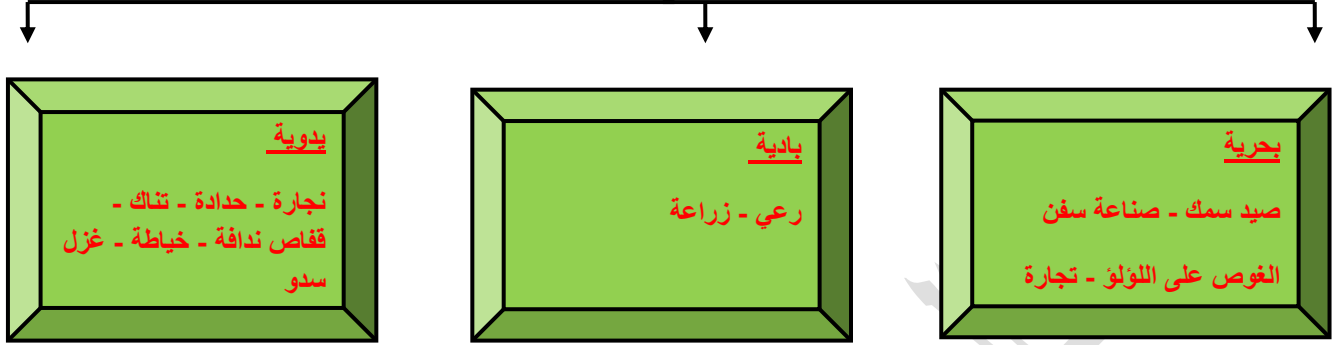
8- استغلال الكويتيون قديما آبار المياه السطحية ومياه الأمطار القليلة؟

زرعوا الطماطم و البطاطس.

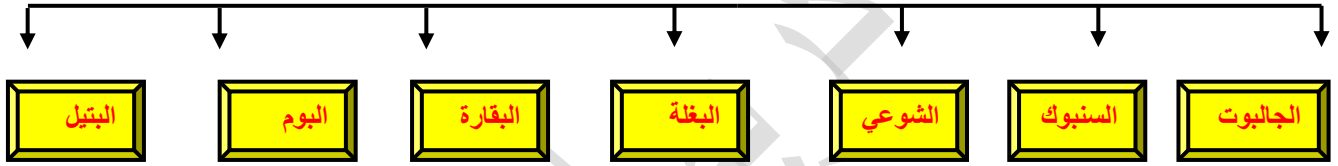
معلمي الكويت
صفوة الكويت

السؤال السادس: اكمل المخططات السهمية التالية.

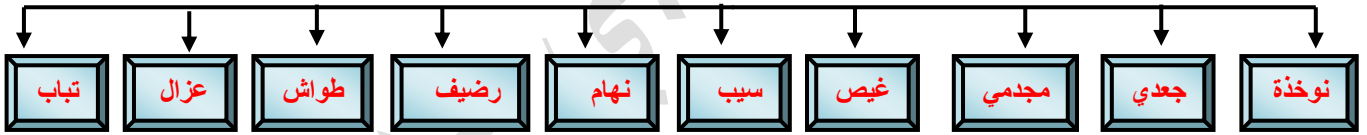
الأنشطة الإقتصادية في الكويت قديما



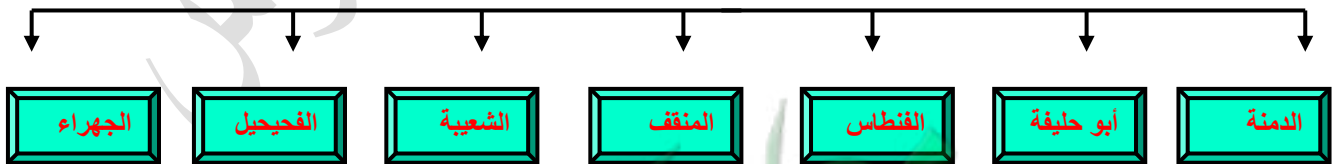
أنواع السفن الكويتية



العاملون في الغوص



المناطق الزراعية في الكويت قديما



السؤال السابع: قارن بين كل مما يأتي.

فرع الشمال من المسار الغربي لطريق الحرير	فرع الشمالي للمسار الشمالي لطريق الحرير
خليج العربي و بلاد فارس.	اليمن و البحر الاحمر و شمال افريقيا و البحر الابيض المتوسط.

المقارنة	اليمن	الهند	شرق افريقيا
الموانئ	سيحوت و حضرموت مكلا عدن.	كراتشي ونييار و ملمبار.	امنا ممباسا و زنجبار.

الحدادة	النجارة
يقوم العاملون بتصنيع المسامير الازمة لصناعة السفن و المواد في الزراعة و المنزل و يقوم بصناعة الصخين و الهيب و الجدوم و السلاسل و المنقاش و السكاكين و الدوه.	يقوم العاملون بتوفير مواد البناء و المستلزمات المنزلية مثل الأبواب و النوافذ و شداخة و كرسي برمة و سحارة و تختة و مرازيم و ألعاب اطفال نباتة.

التنك	الصفارة
يقوم باستخدام صفيح معدني لصنع المحقان و التنك و الدوه و علب جاز و طشوت و سطول.	يلمع قدور المطبخ و يلمع قدور من النحاس و قصدير و كل القدور ترسل للصفار و يطليها ويعيدها جديدة.

النهام	الطواش
الذي ينشد مواويل لكي يشجع طاقم السفينة.	تاجر اللؤلؤ.

القفاص	الحياكة
يستخدم جريد النخيل لصنع الأقفاص و المنز و الرك و أسرة للكبار.	الحياك يخيظ الملابس كالبشوت.

الندافة	غزل السدو
النداف يقوم بتجيد الفرش و المساند مستخدما القطن.	المرأة في البادية تمارس حياكة الصوف لصناعة بيت الشعر و العدول و المزارد.

صخين	مرازيم
أداة الحفر.	ألواح خشب و صفيح لتصريف مياه المطر.

مزاود	عدول
أكياس متوسطة الحجم لتخزين الطعام و الباس.	أكياس كبيرة لتخزين الطعام و توضع على ظهر الدابة.

الرك	المنز
علبة لها غطاء من الاعلى توضع فيها رطب و عنب و رمان.	السرير الذي ينام عليه الطفل قديما.

الغيص	السيب	الرضيف
الذي يغطس للقاع لجلب اللؤلؤ.	الذي يسحب الغيص للسطح بعد شد الإيد و يساعد الغيص في فتح الغيص.	صغار السن يقوم بأعمال أصغر من السيب.

المجمدي	النوخذة
رئيس البحارة و يعمل داخل السفينة.	هو ربان السفينة و المسؤول عن الطاقم و يحدد مكان الغوص و الهيرات و يعرف مكان الطرق و المسالك و الاتجاهات البحرية و يتخذ القرارات و الذي يستأذنه البحارة لمغادرة السفينة.

معلمة صفوة الكويت

السؤال الثامن: أوجد العلاقة بكتابة فقرة مترابطة بالاستعانة بالكلمات التالية.

1- (الكويتيون - عاملين - صيد - زراعة)

تأثر الكويتيون بعاملين البري والبحري مثل الصيد والغوص والتجارة البحرية عموماً والبادية مثل الزراعة والرعي.....الخ.

2- (أقدم الطرق التجارية - شمالي - غربي - كانتون)

طريق الحرير من أقدم الطرق التجارية وهو مساران شمالي وهو البري وهو من الصين لأوروبا والغربي وهو البحري وهو يبدأ من ميناء كانتون ويلتف حول شبه القارة الهندية.

3- (الزبيدي - القرقور - القمبار - الشوعي)

من الأسماك التي كانت تعتبر غذاء الزبيدي والهامور والربيان والسبيطي ومن طرق الصيد مثل القرقور والحظور والحداق بواسطة الميذار والقمبار وهي أن يضع الصياد سراج في الماء ويتجمع حوله السمك ويضرب بعضاً نهايتها سالية ومن السفن المستخدمة للصيد الشوعي والهوري.

4- (الهيترات - القفال - الدشة - الشيخ أحمد الجابر)

بداية حرفة الغوص كانت تسمى الدشة وهي في مايو والقفال نهايته وهي في سبتمبر أو أكتوبر وأن البحار كان يغوص في أعماق الخليج العربي ويذهبوا لمنابت المحار الهيترات وكان يعمل فيها رجال الكويت وشبابها وفي عام 1940م أصدر الشيخ أحمد الجابر الصباح قانون الغواصين الذي يبين أهمية حرفة الغوص وتنظيم العلاقة بين النوخة والبحارة.

5- (القرارات - مغادرة - قائد - النوخة)

الנוخة هو قائد السفينة وهو المسؤول عن سلامة الطاقم وهو الذي يحدد أين الاتجاهات للذهاب للهيترات ويجب أن يعرف الاتجاهات البحرية وبيده القرارات وهو الذي يستأذن منه البحارة للمغادرة.

6- (التجارة - السفر - الرياح - الدشة)

للتجارة موسم في الكويت قديماً يعرف بموسم السفر وبدايته تسمى الدشة في أغسطس ويستمر ل مايو ويسمى الإغلاق وينتهي مع هبوب الرياح الموسمية.

7- (حلب - سورية - الواردات - الذخائر والأسلحة)

كانت القوافل البرية تنقل الواردات من السفن الآتية القادمة من حلب شمال سورية فكانت تأتي بالذخائر والأسلحة والقمح والشعير والارز والتبغ.

8- (التخوت - ألعاب اطفال - النجارة - أفريقيا)

النجارة كانت توفر المواد اللازمة للبناء فكانت الأخشاب تستورد من أفريقيا و كانوا يصنعون تخوت و شداخة و سحارة و كرسى برمة و ألعاب أطفال كالنباطة.

9- (المرأة - البادية - العدول - الشعر)

المرأة في البادية كانت الحرفة التي تمارسها هي غزل السدو و هو أساس بيت الشعر و كانت تحيك العدول.

السؤال التاسع: فند العبارات التالية.

1- ساد التعصب بين الكويتيين قديما.

المجتمع الكويتي هادئ و بسيط و تلاحم و يعتمد على الشورى و اتسم بالمرونة و قبل الهجرة و كانت الوحدة أساس الترابط فحافظوا على كيانهم بالتعاون و الوحدة بعيد عن الطائفية و التعصب.

2- الخليج العربي لم يكن من أسباب زيادة الأهمية الاقتصادية.

الخليج العربي زاد من أهمية الاقتصاد لأنه متوسط القارات الثلاث آسيا – أفريقيا – أوروبا و أحد أزرع المحيط الهندي في شبه الجزيرة العربية و به وسائل نقل بري و موارد برية و بحرية.

3-النشاط البري كان قديما سائد على البحري.

النشاط البحري كان سائد على البري بسبب عدم توافر التربة الخصبة والأرض الرملية و المناخ القاسي و دولة شحيحة الامطار.

4- لم تزاول حرفة صيد الأسماك حديثا.

حرفة الصيد لم تزل مصدر من مصادر الدخل و لما كانت الأسماك متنوعة و جيدة لما انتعشت هذه الحرفة تنوع الاسماك شجع الصيادين على مزاوله هذه المهنة.

5- دولة الكويت لا تتمتع بواجهة بحرية.

الكويت دولة تتمتع بواجهة بحرية بسبب التعرجات في سواحلها و الجزر في مياهها الإقليمية و النقع و العمانر الساحلية و جون الكويت.

6- البحر لم يكن مصدر رزق قديما.

البحر قديما مثل مصدر رزق أساسى فكانت حرفة الغوص هي أشهر حرفة مارسها الكويتيين في أوائل الخمسينات من القرن العشرين.

7- لم تأثر حرفة الغوص على الكويتيين.

أثرت احرفة الغوص على الكويتيين فساد التعاوضد و الاحترام المتبادل و العلاقة الواحدة بين السكان و الإلتزام و الطاعة.

8- من الناحية التجارية لم تكن الكويت ذا أهمية تجارية.

البعد الإستراتيجي للكويت جعلها مركز تجاري مهم و حلقة وصل بين الشرق و الغرب و نقطة ترانزيت.

9- لم يجل الأسطول الكويتي التجاري في المحيطات.

جال الأسطول الكويتي المحيطات الهندي و بحر العرب و الخليج العربي و ذهب لسواحل الهند مثل ملبار ونيبار و الساحل اليمني حضرموت و البحر الاحمر و شرق اقريقيا مثل ممباسا و لامو.

10- رفعت الكويت ضريبة المكوس.

الكويت لم ترفع المكوس لأنها أدركت الأهمية التجارية كدورها في رافد اقتصادي و لكي يتم اجتذاب السفن للميناء الكويتي.

11-السلطة الكويتية لم تهتم بالتجارة البرية.

اهتمت السلطة الكويتية بالتجارة البرية من أجل أن يكون هناك تكامل بين النشاط البري و البحري و لكي يتم نقل البضائع المحملة بها السفن.

12- الكويتيون لم يتكيفوا مع البيئة التي كانوا يعيشون بها.

الكويتيون تكيفوا مع البيئة فزرعوا لكي يربحوا و استغلوا مياه الأمطار و مياه الآبار السطحية من أجل زراعة الطماطم و بطاطس.

13- الكويت لم تزرع أي محاصيل زراعية.

الكويت زرعوا حبوب و قمح و برسيم و أعلاف و الإثل استخدمت كمصدات ريح و أشجار السدر و زرعوا نباتات برية مثل الأربعة و الحنظل و العرفج و التندا و الحمض.

15- الكويت ليس لها حرف يدوية.

الكويت فيها العديد من الحرف مثل الصفارة و النجارة و الحدادة و التناك و القفاص و الخياطة و الندافة و غزل سدو.

السؤال العاشر: أي مما يلي لا ينتمي للمجموعة.

- 1- (الخليج العربي - طريق الحرير- نشاط يدوي - النفط)
- 2- (طريق الحرير البحري - طريق الحرير البري - كانتون - الخليج العربي)
- 3- (البياح - الربيان - النقرور - القرقور)
- 4- (مسكان - خورالزبير - الكاظمة - راس الزور)
- 5- (الشوعي - الهوري - الجالبوت - البوم)
- 6- (الصيد - الغوص - الرعي - صناعة السفن)
- 7- (أغسطس - مايو - السرايات - الهيئات)
- 8- (مكلا - سيحوت - حضرموت - كراتشي)
- 9- (الذخيرة - الأرز - ذرة - الرطب)
- 10- (الصليبية - العقيلة - دمنة - أبو حليفة)
- 11- (العرشج - التندا - الأربعة - الصدر)
- 12- (التخوت - السحارة - النباطة - الصخين)
- 13- (جدوم - هيب - سكاكين - منز)
- 14- (المنز- الرك - أقفاص - العدول)

السؤال الحادي عشر: ضع عنوانا للصور التالية.



قفاص



غزل السدو



ندافة




حياكة



حدادة



العملة الوطنية



شعار الدولة



السفن الكويتية

مساعدة الطالب على حل الأنشطة

● لاحظ الخريطة التالية، ثم حدد:

أ- أسماء المسطحات المائية التي يمر بها طريق الحرير البحري.

المحيط الهندي.

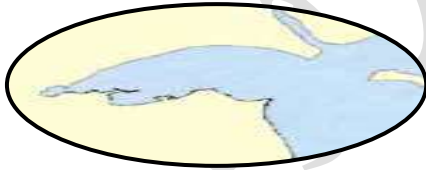
الخليج العربي.

البحر الأحمر.



ب- استخدم الشكل (←) لتحديد الذراع الشرقي للمحيط الهندي في شبه الجزيرة العربية.

● اكتب فقرة لا تتعدى ثلاثة أسطر عن أهمية جون الكويت.



جون الكويت موجود في شمال الكويت

و جعل لها واجهة بحرية مميزة و هو يساعد

على تكاثر الكائنات البحرية مثل الربيان.

معا في الكويت
صفوة

● ابحث عن استخدامات كل نوع من أنواع السفن.

1- الجالبوت: سفينة متوسطة الحجم تستخدم للغوص على اللؤلؤ.

2- السنبوك: سفينة كويتية قديما تستخدم للغوص على اللؤلؤ.

3- الشوعي: سفينة تستخدم لصيد الأسماك بالقرب من الساحل.

4- البغلة: 150-130 متر و تستخدم لنقل البضائع.

5- البقارة: سفينة شراعية تستخدم للغوص وهي انقرضت.

6- البتيل: سفينة كانت تستخدم للغوص على اللؤلؤ.

7- البوم: نوع من السفن الصغيرة منها للغوص والكبيرة للرحلات التجارية.

● من أين كانت تجلي الأخشاب المستخدمة في صناعة السفن في دولة الكويت قديما؟

كانت تجلب من الهند وأفريقيا.

● اذكر المواد المستخدمة في صناعة السفن قديما.

الأخشاب و المسامير و الحديد.


● لاحظ الصورتين وحدد المشترك بينهما.

سفينة البوم.



● ابحث ودون ملاحظتك حول انقراض حرفة الغوص للبحث عن اللؤلؤ.

بسبب ظهور النفط وخطورة المهنة.



● علل لما يلي:

أ- كانت الكويت قديما مركزا تجاريا مهما.

بسبب موقعها الذي منحها بعدا إستراتيجي و هي حلقة وصل بين الشرق و الغرب و نقطة ترانزيت و لولا عمل أهلها بالغوص و الرعي لما خطت في هذا الميدان.


ب- يعد حجم السوق الكويتي قديما صغيرا جدا.

بسبب قلة السكان و الإمكانيات.

(تراجع حرفة الرعي في وقتنا الحاضر) علل.

بسبب ظهور أنشطة سكانية و استقرار سكان البادية.

● حدد على الخريطة الصماء المناطق الزراعية القديمة، ثم استنتج حقيقة واحدة.



الحقيقة: المناطق الزراعية قريبة من بعضها وتطل على الساحل.

● اكتب نص لا يقل عن ثلاثة أسطر تبين من خلاله كيفية تطور الزراعة في دولة الكويت.

شهدت دولة الكويت تطور كبير و ملحوظ من الناحية الزراعية إذ تغلبت

دولة الكويت على شتى أنواع الظروف القاسية و أهمها الظروف المناخية

فقامت الكويت ببناء البيوت البلاستيكية و زرعت الفواكه و الخضروات.




● ابحث عن معنى المصطلحات الكويتية القديمة التالية حسب الجدول الذي أمامك:

الباسجيل	هو أعواد قصب متينة تجلب من أفريقيا و هي تستخدم لصنع السطوح.
السحارة	خزينة المنزل فهو صندوق يكون و كانت توضح فيها حاجيات العروس.
الصخين	أداة للحفر.
الهييب	قصيب من حديد يستخدم لتكسير الصخور.
المرازيم	تصنع ألواح من خشب أو صفيح لتصريف مياه المطر.
الجدوم	فأس للنجارة.
التختة	طاولة خشب صغيرة

● اختر ثلاث حرف لم يتم ذكرها في الكتاب المدرسي ، ثم استعن بمحرك البحث (Google) لكتابة

تقرير عنها ، ثم دعم كل حرفة منها بصورة مناسبة.



القلاف

هو كان يلعب دور في اقتصاد الكويت وكان يصنع السفن.

الخواص

هو الذي كان يصنع الخوص والزبيل.

الخراز

هو الذي كان يصنع الاحذية.

معلمة صفوة الكويت

الدرس الثالث: المعالم الحضارية لدولة الكويت.

من جد وجد ومن زرع حصد.

السؤال الأول: اكمل العبارات التالية.

- 1- رصدت آثار وجود الإنسان على أرض الكويت واره و قرين و برقان و صبية و كاظمة و فيلكا.
- 2- حضارة العبيد كانت في عام 4500-5500 ق.م.
- 3- مما اكتشف في الصبية جرار فخارية و آبار مياه و رحي حجرية.
- 4- في الألف الثاني من النصف الأول دخلت الكويت في الحضارة الإغريقية.
- 5- كانت الحضارة الدلمونية منتشرة في جزيرتي فيلكا و أم النمل.
- 6- جزيرة فيلكا ترجع آثارها للحضارة الدلمونية.
- 7- المكانين المقدسين عند الإغريق تل الخزنة و الفلعة الهلنستية.
- 8- الصخور المكتوب عليها في جزيرة فيلكا إيكاروس.
- 9- كانت فيلكا وسيط تجاري بين حضارتي السند و بلاد الرافدين.
- 10- كان هناك 400 ختم دلموني في فيلكا.
- 11- حصلت معركة ذات سلاسل في الكاظمة في 12 هجري.
- 12- من أهم مسكوكات التي وجدت في الكويت العملة الأموية المؤرخة في 123 هجري.
- 13- كانت المستوطنات في الشقايا و وادي الباطن على طريق الحج البصري.

السؤال الثاني: صحح ما تحته خط فيما يأتي.

- 1- معركة ذات السلاسل حصلت بين الروم والمسلمين. (الفرس)
- 2- التنقيب الأثري الذي حصل في فيلكا كان عام 1950م. (1958م)
- 3- منطقة الصبية في جنوب الكويت. (شمال)

السؤال الثالث: اكتب ما تعرفه عن.

1- حضارة العبيد.

هذه الحضارة لها قيمة أثرية كبيرة فتاريخ أقدم الحفريات يرجع إلى 15 و 20 مليون سنة و هي حضارة منفصلة عن بلاد الرافدين في عام 4500-5500ق.م وما يدل على أن حضارة العبيد كانت في الصبية وجدوا فيها المكتشفات الحديثة فهناك مساكن في طبيح وجرار فخارية و الرحي الحجرية لطحن الغلال و مساكن بيضاوية

2- الامتداد الحضاري للكويت.

1- حضارة العبيد 4500-5500ق.م.

2- الحضارة الدلمونية في فيلكا وام النمل.

3- ظهور الاسلام.

السؤال الرابع: علل لما يأتي.

1- للكويت أهمية حضارية قديما؟

بسبب موقعها المميز على الخليج العربي و التواصل بين الحضارات في شمال الخليج العربي و جنوبه.

2- للختم الدلموني في فيلكا قديما أهمية كبيرة؟

لأنه كان تعويذة أو هوية لحمالها أو ختم تجاري.

3- دخلت بلاد الرافدين و الهند و إيران ووسط آسيا الإسلام؟

بسبب معركة ذات السلاسل في كاظمة.

معاكم
صفوة
الكويت

السؤال الخامس: دال على صحة العبارات التالية.

1- وجود حضارة العبيد في الصبية.

المناطق السكنية في طبيح و بحرة و آبار المياه و الفخار الجارية و الرحي الحجرية والمدافن الركامية في الصبية.

2- الوجود البشري في دولة الكويت.

الدراسات التي تمت في وارة و قرين و برقان و تل الصليبخات المحاذي لساحل الجنوبي و كاظمة و الصبية و فيلكا.

3- وقعت الكويت في النصف الثاني من الالف الاول في مرحلة الحضارة الاغريقية.

الدلائل في أم النمل و فيلكا ففي أم النمل وجدوا مذبح من حجر رملي وتمثال من طين محروق و قبر على ساحل الجزيرة.

4- جزيرة فيلكا كانت ترجع آثارها للحضارة الدلمونية.

التنقيب الاثري في عام 1958م و المكتشفات الاثرية و المصادر التاريخية.

5- لعبت فيلكا في الالف الثاني والالف الثالث في الخليج العربي دور رئيسي.

بما أنها فيها الحضارة الدلمونية لعبت دور الوسيط التجاري بين بلاد الرافدين و الهند.

6- لدولة الكويت دور إسلامي مميز.

الدراسات التاريخية تشير على أن معركة ذات السلاسل في الكاظمة كويت 12 هجري و المسكوكات الاسلامية مثل العملة الأموية المؤرخة 123 هجري و المباني الإسلامية في أم العيش و المستوطنات في وادي الباطن و الشقايا على طريق الحج البصري.

معلمة الكويت
صفوة الكويت

السؤال السادس: أوجد العلاقة بكتابة فقرة مترابطة بالاستعانة بالكلمات التالية.

1- (قيمة - الرافدين - والرحى الحجرية - 20 مليون سنة)

حضارة العبيد لها قيمة أثرية كبيرة و يرجع تاريخ أقدم الحفريات إلى عشرين مليون سنة فهي حضارة منفصلة عن بلاد الرافدين و قد أثبتت المواقع الأثرية أن هذه الحضارة كانت في طبيج شمال الصبية واكتشفوا هناك الرحى الحجية لطحن الاغلال وآبار مياه و جرار فخارية.

2- (وسيط تجاري - وحدات سكنية -400 ختم - تعويذة)

فيلكا في الألف الثاني و الثالث قبل الميلاد لعبت دور الوسيط التجاري بين الهند و بلاد الرافدين و وجدوا فيها 400 ختم دلموني كانت تستخدم كتعويذة أو حامل لهويتها أو ختم تجاري و وجدوا هناك معابد حول الوحدات سكنية.

السؤال السابع: فند العبارات التالية.

1- لم يكن هناك تواصل بين حضارت شمال الخليج العربي وجنوبه.

كان هناك تواصل و قد إشارات إلى ذلك الدراسات التي وجدوا فيها آثار إنسان في تل الصليبيخات المحاذي لساحل جون الكويت و وارة و برقان و قرين وفيلكا و الصبية.

2- حضارة العبيد لم يكن لها قيمة أثرية.

لها قيمة أثرية كبيرة بسبب تاريخ أقدم الحفريات فيها 15 و20 مليون سنة و تحتضن مئات المواقع الأثرية وهي حضارة منفصلة عن بلاد الرافدين 4500-5500 ق.م.


3- فيلكا لا ترجع آثارها للحضارة الدلمونية.

فيلكا ترجع اقدم آثارها للحضارة الدلمونية و ما وجوده بالتنقيب الاثري 1958م و المصادر التاريخية و ما وجدوه من أماكن مقدسة عند الاغريق القلعة الهلنستية و تل الخزنة و حجر إيكاروس.

4- منطقة الخليج العربي لم تصبغ بالإسلام منذ ظهوره.

شبه الجزيرة العربية صبغت بصبغة الإسلامية فمعركة ذات السلاسل عام 12 هجري التي وقعت بين المسلمين والفرس أثبتت الدراسات أنها في الكاظمة والمسكوكات مثل العملة الأموية المؤرخة 123 هجري و المباني في أم العيش.

السؤال الثامن: ضع عنوانا للصور التالية.



المعبد الأيونى فى فيلكا




أقدم قارب فى الخليج العربى



مدفن مستطيل (الصبية)



معبد بحرى فى فيلكا



أختام دائرية و إسطوانية



مدفن له جدار دائرى

مساعدة الطالب على حل الأنشطة

آثار فيلكا	آثار الصبية
 <p>تل الخزنة والقلعة الهلنستية والمعبد</p>	 <p>الرحى الحجرية و آبار و مدافن ركامية.</p>
ماذا لاحظت: أن الحضارة في فيلكا احدثت من الصبية.	

● اذكر بعض مظاهر الإمتداد الحضاري لمنطقة الكويت قديما.

1- حضارة العبيد (4500-5500 ق.م).

2- الحضارة الإغريقية في فيلكا و أم النمل.

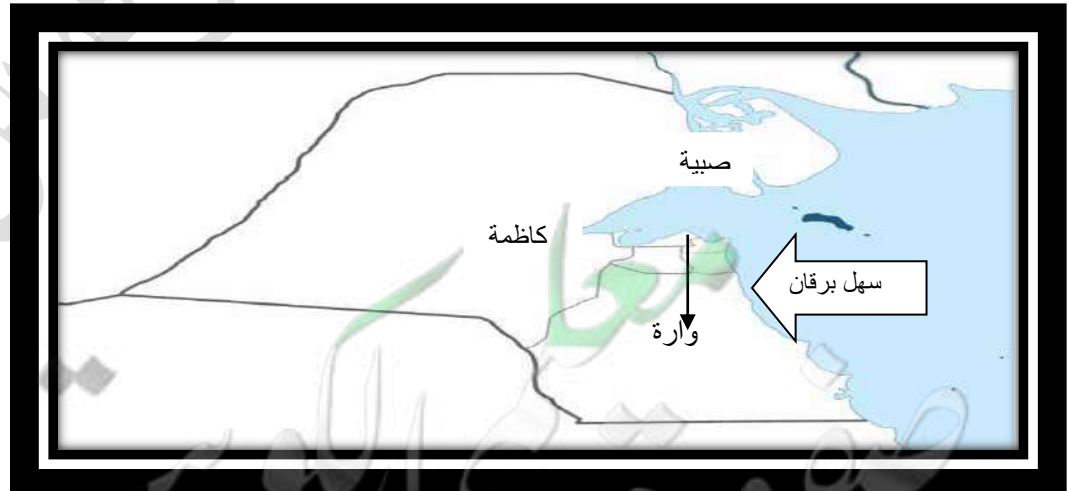
3- ظهور الإسلام.

● علل ما يأتي: الكويت همزة وصل بين حضارة بلاد الرافدين شمالا و حضارة بلاد السند جنوبا.

إذ جزيرة فيلكا لعبت دور الوسيط التجاري بين بلاد الرافدين و بلاد السند بإعتبارها مركز للحضارة الدلمونية.

● ظلل جزيرة فيلكا على الخريطة الصماء التالية.

● حدد المواقع التاريخية ل (منطقة تل وارة - سهل برقان - الصبية - كاظمة).



● عرف الحضارات التالية:

1- الحضارة الإغريقية: هي حضارات اليونان القديمة التي امتدت عام 1200م و هي كانت مليئة بالإنجازات.

2- الحضارة الدلمونية: هي حضارة قامت بالبحرين و شرق الجزيرة العربية و هي من أقدم الحضارات.

3- الحضارة الهلنستية: هي الحضارة اليونانية القديمة وهي التي حملت كل عناصر الثقافة من الإغريقين للخارج.

● اكتب تقريراً لا يتعدى خمسة أسطر عن آخر اكتشاف أثري في دولة الكويت في عام (2016م) في منطقة (بحرة) الأثرية:



كشفت مدير إدارة المتاحف في المجلس الوطني الدكتور سلطان عن اكتشاف أقدام بصمة بشرية على مستوى الشرق الأدنى القديم ، و حقق هذا الكشف الفرق المكلف بالتنقيب على كسرة فخارية أثرية يتجاوز عمرها 7300 عام في بحرة الصبية شمال الكويت.

معلمي الكويت
صفوة

السؤال الأول: عرف المفاهيم التالية.

- 1- الكويت: حصن أو قلعة.
- 2- القرن: تلة صغيرة.
- 3- العتوب: مجموعة من الأسر ترجع لقبيلة عنزة و هي قبيلة كبيرة تستوطن شبه الجزيرة العربية و اسمهم من الفعل عتب كثرة الترحال و من أبرز من ينتمي للعتوب آل صباح و آل جلاهمة و آل خليفة.

السؤال الثاني: اكمل العبارات التالية.

- 1- الكويت تصغير الكويت و هي التي تعني حصن أو قلعة.
- 2- جمع كوت أكوات.
- 3- كان اسم القرين يطلق على مرتفع بهيئة وهو قريب من قصر السيف.
- 4- تأسست الكويت عام 1613 م.
- 5- هاجر العتوب من موطنهم الأصلي هدار.
- 6- اختار الكويتيون الشيخ صباح الأول.
- 7- كانت العتوب ترجع لقبيلة عنزة.
- 8- اسم العتوب جاء من الفعل عتب و معناه الترحال.
- 9- تكونت العتوب من ثلاث أسر شهيرة آل صباح - آل جلاهمة - آل خليفة.
- 10- استقر العتوب في الفريجة بالقرب من زيارة في قطر لمدة خمسين سنة.
- 11- حصلت في قطر مشاكل بين العتوب و آل مسلم.
- 12- حصلت مشاكل بين بني خالد و السعوديين و العثمانيين.

السؤال الثالث: علل لما يأتي.

- 1- كانت سمات شعب الكويت توطدت على أسس سليمة بعيدة عن العنف؟
لأنهم كانوا تحت نفوذ بني خالد الذين كانوا يعيشون باستقرار في نفوذهم.
- 2- كانت الدعائم الاقتصادية في الكويت مختلفة عن شبه الجزيرة العربية؟
لأنها دولة مطلة على البحر و كان هو مصدر الرزق.
- 3- تم تسمية العتوب بهذا الاسم؟
لأن كان شائعا في شرق الجزيرة العربية آنذاك تسمية القبائل بفعل وكانت العتوب أسر متفرقة ثم تلاحمت وكان من الفعل عتب الذي يدل على كثرة الترحال.
- 4- شكلت قطر محطة الاستقرار الأولى بالنسبة للعتوب؟
لأن أصاب القحط هدار و حصلت صراعات قبلية أنهم تعلموا في قطر ركوب البحر و الانشطة و ذهبوا لبصرة ثم الصبية ثم الكويت حاليا.
- 5- تم اختيار الشيخ صباح الأول كحاكم لدولة الكويت آنذاك؟
لما فيه من شجاعة و كان والده له نفوذ على القبيلة منذ أن كانوا في هدار و كان لا يرحل عن الكويت طول العام و كان الكل يعمل في البحر و هو يعمل في البر.
- 6- اختار العتوب دولة الكويت على الرغم من أنها صحراوية وفيها قلة مياه؟
لأنهم رغبوا بالعيش المستقل و عدم التبعية لأحد وأنهم بجهدهم سوف يكونوا الإقتصاد المنظم.
- 7- تسمية للكويت بهذا الاسم؟
لأن الكويت تصغير كوت و هي حصن أو قلعة وأطلق المؤرخون هذه التسمية على الحصون كثيرة القلاع.

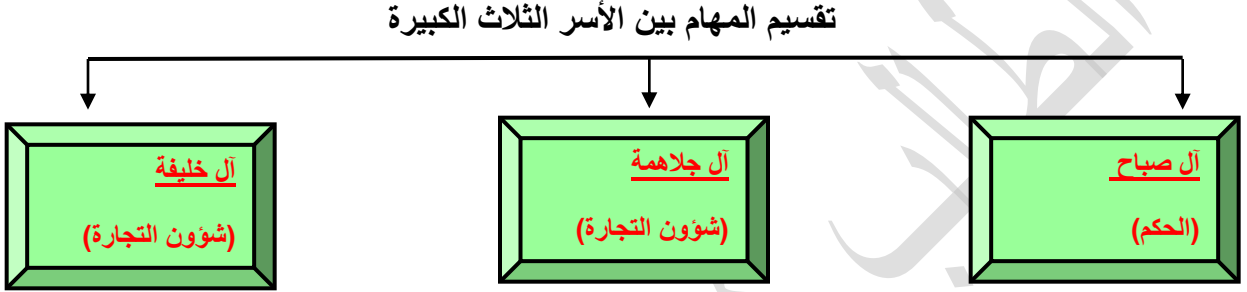
السؤال الرابع: دال على صحة العبارة: كانت الكويت في نفوذ بني خالد تعيش في استقرار؟

بني خالد قبيلة تمتد نفوذها من البصرة شمالا لقطر جنوبا و كانت الكويت تتعرض لتهديدات من مختلف القوى البشرية و أن الخلافات بين بني خالد و العثمانيين و السعوديين جعلت الكويت تتكون بعيدا عن العنف.

السؤال الخامس: ما النتائج المترتبة على بدأ الكويت تدريجيا التحول لجذب سكانى؟

أتى لها هجرات من قبائل مجاورة و هجرات فردية من الصحراء لعدم الاستقرار و كل هذا فى عهد الشيخ صباح الأول و هنا بدأ يتكون المجتمع الكويتى الوليد.

السؤال السادس: اكمل المخطط السهمى.



السؤال السابع: أوجد العلاقة بكتابة فقرة مترابطة بالاستعانة بالكلمات التالية.

1- (آل جلاهمة - آل صباح - عنزة - ترحال)

العتوب كانت ترجع أصلها لقبيلة عنزة و هي تتكون من ثلاث أسر (آل صباح - آل جلاهمة - آل خليفة) وهذا اللقب لم يكن نسب بل كان من الفعل عتب كثرة الترحال.

2- (قطر - نفوذ - إقليمية - الوليدة)

بنى خالد كانت قبيلة نفوذ من البصرة شمالا إلى قطر جنوبا و هي كانت تحمى الكويت من التهديدات الإقليمية التي كانت تتعرض لها و صراعات بنى خالد مع السعوديين و العثمانيين جعلت إمارة الكويت الوليدة تتكون بعيد عن العنف و الحرب.

السؤال الثامن:فند العبارات التالية.

1- كان المجتمع الكويتي تسوده أساليب عنيفة.

المجتمع الكويتي كان تحت نفوذ بني خالد الذي كان يحميها و عاشت مستقرة بعيد عن الصراعات فتأسس بطريقة سلمية بعيد عن العنف.

2- الكويت لم تكن على في الجزء الشمالي الغربي للخليج العربي.

رسالة الشيخ مبارك الصباح الحاكم السابع للكويت للمقيم السياسي.

3- العتوب كان اسم بسبب نسبهم.

كان اسمهم منسوب لفعل عتب لكثرة لترحال و كان شائع تسمية القبائل في شرق الجزيرة العربية بالفعل الذي كان القبيلة تزاوله.

4- العتوب خرجوا من موطنهم الأصلي وذهبوا لقطر بسبب رغبتهم.

بسبب القحط الذي أصاب منطقتهم و الصراعات القبلية.

5- اختار العتوب الكويت طمعا في موقعها.

الكويت على الرغم من أنها صحراوية و لكن اختاروها للرجية في العيش المستقر و عدم التبعية الأحد و أنهم بإصرارهم سوف يشكلوا الاقتصاد المنظم.

6- الكويت تحت نفوذ بني خالد لم تكن في رخاء.

الكويت تحت نفوذ بني خالد كانت تعيش في أمن و رخاء لأنها كانت تتعرض لمختلف التهديدات من مختلف القوى البشرية و كانت بني خالد تحميها و صراعات بني خالد مع السعوديين و العثمانيين أبعدتهم عن إمارة الكويت الوليدة.

معاكم الكويت
صفوة الكويت

السؤال التاسع: انسب العبارة إلى قائلها.

1- "الكويت أرض قفراء نزلها جدنا صباح الأول عام 1022 هجري".

الشيخ مبارك الصباح الحاكم السابع لدولة الكويت.

2- "دخلت ثلاث أسر عربية ذات شأن هي آل صباح وآل جلاهمة وآل خليفة تحجوهم عوامل المصلحة والطموح في تحالف ومكثت على بقعة من الأرض على الساحل الشمالي الغربي من الخليج تسمى الكويت هذا وقد تم الاتفاق على تقسيم أمور البلاد".

العامل بالشركة الهند الشرقية البريطانية فرنسيس و اردن.

السؤال العاشر: رتب المراحل التي مرت بها الكويت إلى أن استقر الحكم لآل صباح.

1

هجرة الأسر من نجد إلى الكويت.


2

التحالف الثلاثي و توزيع المهام.

3

اختيار الحكم لآل صباح و انتهاء التحالف.

السؤال الثاني عشر: ضع عنوانا للصورة التالية.



رسالة الشيخ مبارك الصباح (1896م-1915م) للمقيم السياسي البريطاني الذي يبين له نشأة الكويت 1613م.

● مساعدة الطالب على حل الأنشطة

● علل ما يأتي: بناء القلاع قديما.

لكي يحمون أنفسهم من الهجمات وحماية من في داخل القلعة.

● ابحث عن مواطن الجلاهمة وآل خليفة من بعد رحيلهم عن الكويت.

آل خليفة في البحرين وآل جلاهمة في الدمام.

● من هم العتوب؟ اكتب تعريفا موجزا عن العتوب في حدود سطرين.

مجموعة من الأسر ترجع لقبيلة عنزة وهي قبيلة كبيرة تستوطن شبه الجزيرة العربية واسمهم من الفعل عتب كثرة الترحال ومن أبرز من ينتمي للعتوب آل صباح وجلاهمة وخليفة.

● من هم بنو خالد؟ وما طبيعة الخلاف بينهم و بين العثمانيين من جهة ، والدولة السعودية الأولى من جهة ثانية؟

هم قبيلة تمتد نفوذهم من بصرة شمالا لقطر جنوبا وهي كان لها وجود في العديد من الدول العربية.

الخلاف مع العثمانيين: بعد سقوط قوى كبيرة كانت تسمى الجبرية في القرن السادس عشر وفقدت سيطرتها على إحساء جاء العثمانيين ليسيظروا على الإحساء ولكن حاكم بني خالد الأول هزم العثمانيين وأخرجهم من الإحساء.

الخلاف مع السعوديين: بني خالد كانت تحمي الكويت ولكن السعوديين قاموا بحملة ضد بني خالد واستولوا على إحساء.

حرفوش
معاكم في الكويت
صفوة

السؤال الأول: اكمل العبارات التالية.

- 1- الحاكم الأول للكويت هو الشيخ صباح الأول و حكم الكويت عام 1752-1763م.
- 2- الشيخ الذي حصلت في عهده معركة الرقة هو الشيخ عبد الله الأول و حكم الكويت عام 1763-1814م.
- 3- تقطع منطقة قرب جزيرة فيلكا.
- 4- كانت معركة الرقة بين بني كعب و الكويت عام 1783م.
- 5- النكبات التي تعرضت لها البصرة على يد الفرس عام 1775-1779م.
- 6- أول معركة للكويت كانت بحرية.
- 7- الحاكم الثالث للكويت هو الشيخ جابر الأول و حكم الكويت عام 1814-1859م.
- 8- كان الشيخ جابر الأول عندما توفي والده الشيخ عبد الله الأول في البحرين.
- 9- كان يلقب الشيخ جابر الأول ب جابر العيش.
- 10- عندما ذهب الكابتن ج. بروكس 1830م ليبلغ الشيخ جابر الأول الحكم كان عمره الحادية والخمسين.
- 11- حكم آل صباح الكويت أربعة أو خمسة قرون.
- 12- كانت السفن البغلة و البتيل تم تصنيعها في عهد الشيخ جابر الأول.
- 13- الحاكم الرابع لدولة الكويت هو الشيخ صباح الثاني و حكم الكويت عام 1859-1866م.
- 14- في عهد الشيخ صباح الثاني زار المعتمد البريطاني الكويت هو لويس بيلي عام 1865م.
- 15- الرحالة الذي أشار أن الكويت مستقرة في حكم الشيخ صباح الثاني لأنها لم تحتل من الحكم الأجنبي هو بكنجهام.
- 16- المناطق التي كانت تحت احتلال الحكم الأجنبي هي هرمز و مسقط و البحرين.
- 17- الشيخ الذي ساعد مدحت باشا والي الدولة العثمانية في حملته عام 1871م هو الشيخ عبد الله بن صباح الثاني.
- 18- كانت السفن الثمانين المحلطة باللوازم في حملة مدحت باشا من الشيخ عبد الله الثاني.

- 19- الشيخ الذي استضاف والد مؤسس الدولة السعودية الثالثة هو الشيخ محمد بن صباح.
- 20- أعطى الشيخ محمد الصباح شؤون المالية لأخوه الشيخ جراح و أعطى شؤون البادية لأخوه الشيخ مبارك.
- 21- أستضاف الشيخ محمد الصباح الأمير عبد الرحمن آل سعود عام 1981م.
- 22- مؤسس الدولة السعودية الثالثة هو الملك عبد العزيز آل سعود.

السؤال الثاني: صحح ما تحته خط فيما يأتي.

- 1- الحاكم الذي بعده بدأ المهاجرين يأتو للكويت هو الشيخ جابر الأول. (صباح الأول)
- 2- القبيلة التي خاضت مع الكويت معركة الرقة هي بني خالد. (بني كعب)
- 3- تم بناء أول سور 1798م في الكويت. (1797م)
- 4- طلب نائب المقيم السياسي في الكويت من الشيخ جابر الأول رفع الراية العثمانية. (الإنجليزية)
- 5- سفن البغلة والبثيل تم بناءها في عهد الشيخ محمد الصباح. (جابر الأول)
- 6- زار لويس بيلي الكويت 1876م. (1865م)
- 7- كانت حملة مدحت باشا لكي يعيد سيطرته على إقليم القطيف. (الإحساء)
- 8- في عام 1891م استقبل الشيخ عبدالله الأول الامير عبد الرحمن آل سعود. (محمد الصباح)

السؤال الثالث: علل لما يأتي.

- 1- تم اختيار الشيخ صباح الاول؟
لكي تخرج الكويت من المرحلة التي مرت بها من غير كيان جامع و لأنه هو الذي سوف يرسخ الانشطة الاقتصادية و يجعلها تعيش في أمن.
- 2- تم اختيار الشيخ عبد الله الاول كحاكم لدولة الكويت؟
لأنه ذو سيرة حسنة و كان نبيه و حازم و محب للعدل.

3- حدوث معركة الرقة؟

بسبب الإزدهار الإقتصادي لدولة الكويت و أصبح ميناءها المفضل للتجار و هذا أشعل غيرة بني كعب هم قبيلة لهم ميناء مواجه للكويت و له أهمية النكبات التي أصابيت البصرة فأخذوا هذا السبب سبب مستتر للهجوم على الكويت.

4- بني كعب كان لهم ميناء مهم؟

بحكم موقعهم بعد النكبات التي أصابت البصرة على يد الفرس.

5- بعد انتصار الكويت من معركة الرقة وضعوا الذخائر على الشاطئ؟

تخليدا لانتصارهم.

6- بناء أول سور في الكويت؟

للمحماية من الأخطار.

7- تم اختيار الشيخ جابر الأول كحاكم لدولة الكويت؟

لأنه كان هادئ الطبع و مشفق على قومه و قومه يحبوه و عرف أنه حليم و كريم فكان له عريش بجانب منزله يطبخ الرز للفقراء و يعطيهم.

8- رفض الشيخ جابر الأول طلب مقيم السياسي في الكويت و هو رفع راية الإنجليزية في الكويت و بناء مباني؟

لأنه وضح أن هذا الطلب لو طلبته الحكومة العثمانية سوف يرفضه لأنه ليس في مصلحة الكويت.

9- تعد فترة حكم الشيخ جابر الأول فترة ازدهار البحري؟

لأنه تم تصنيع سفينتي بغلة وبتيل في عهده وبدأت الكويت تنقل بضائع من اليمن والهند.

10- كان يسمى الشيخ جابر الأول بجابر العيش؟

لأنه كان كريما و يحرص على مساعدة الفقراء و أنه كان له عريش قرب بيته يصنع فيه العيش و يعطيه للفقراء.

11- بعد ما أن أراد الشيخ صباح الثاني فرض رسوم على البضائع ألغى الرسوم؟

ألغاهما احتراماً لمرغبة شعبه.

12- تم اختيار الشيخ عبد الله بن صباح كحاكم للكويت؟

لأنه يتصف بدمائة الأخلاق و حسن السيرة.

13- تم اختيار الشيخ محمد بن صباح كحاكم للكويت؟

لأنه اتصف بالنزاهة و الوقار و التواضع.

السؤال الرابع: دلل على صحة العبارات.

1- على قوة شعب الكويت و صمودهم؟

بأن في أول امتحان للكويت أظهر الكويتيين قوتهم و قدرتهم للدفاع عن أنفسهم في انتصارهم بشجاعة في معركة الرقة ضد بني كعب.

2- على حرص الشيخ جابر الأول على مصلحة الكويت؟

في رفضه لطلب نائب مقيم السياسي البريطاني في الكويت في رفع الراية الإنجليزية و بناء المباني لأن شيء كهذا ليس لمصلحة الكويت.

3- ازدهار الكويت في عهد الشيخ صباح الثاني؟

التجارة تقدمت في عهده وزار المعتمد البريطاني في الخليج العربي لويس بيلى الكويت و قال أن الكويت يحكمها حاكم عادل.

4- كانت الكويت مستقرة في عهد الشيخ صباح الثاني؟

حسب ما ذكر الرحالة بكنجهام أن البحرين و هرمز و الأحساء و مسقط كانت تحت الحكم الأجنبي و الكويت كانت مستقرة.

السؤال الخامس: أوجد العلاقة بكتابة فقرة مترابطة بالاستعانة بالكلمات التالية.

1- (بني كعب - الرقة - بحرية - نخائر)

معركة الرقة حصلت بين الكويت و بنى كعب 1783م و كانت بنى كعب أشعلت الغيرة من التقدم الإقتصادي الذي شهدته الكويت و ميناءها أصبح المفضل للتجار و كانت هذه المعركة بحرية و فازت الكويت بالذخائر و المدافع و وضعتها على الشاطئ تخليد لانتصارهم.

2- (بغلة - جابر العيش - البحرين - الراية الانجليزية)

الشيخ جابر الأول كان يلقب بجابر العيش لأنه كان يصنع لهم العيش و عندما تلقى رسالة أنه سوف يتولى الحكم بعد وفاة أبيه الشيخ عبد الله الأول كان في البحرين و في عام 1839م رفض طلب نائب المقيم السياسي البريطاني أنه يرفع الراية الإنجليزية في الكويت.

3- (الشيخ عبدالله الثاني - دماثة الاخلاق - مدحت باشا)

تم اختيار الشيخ عبد الله الثاني كحاكم لما عرف عنه من دماثة الأخلاق و هو ساعد مدحت باشا في حملته لإعادة السيطرة على إقليم الأحساء.

السؤال السادس: فند العبارات التالية.

1- لم تدخل الكويت معركة .

بل في عهد الشيخ عبد الله الأول دخلت الكويت معركة ضد بنى كعب و هي معركة الرقة و هي بحرية و فيها انتصرت الكويت على بنى كعب.

2- لم يكن الشيخ جابر الأول كريم.

كان كريما حليما و كان يلقب بجابر العيش و كان له عريش قريب قرب بيته يصنع فيه العيش للفقراء و كان يذكر عنه انه كان حليما بكرمه يضرب بكرمه المثل لكثرة ما يتصدق به على الفقراء و المساكين.

3- لم تكن الكويت مستقرة في عهد الشيخ صباح الثاني.

ذكر الرحالة بكنجهام أن الكويت كانت مستقرة في عهد الشيخ صباح الثاني بسبب الحكم الأجنبي كان على الهرمز و البحرين و مسقط و الأحساء و الكويت لم تحتل.

4- الكويت لم تساعد العثمانيين.

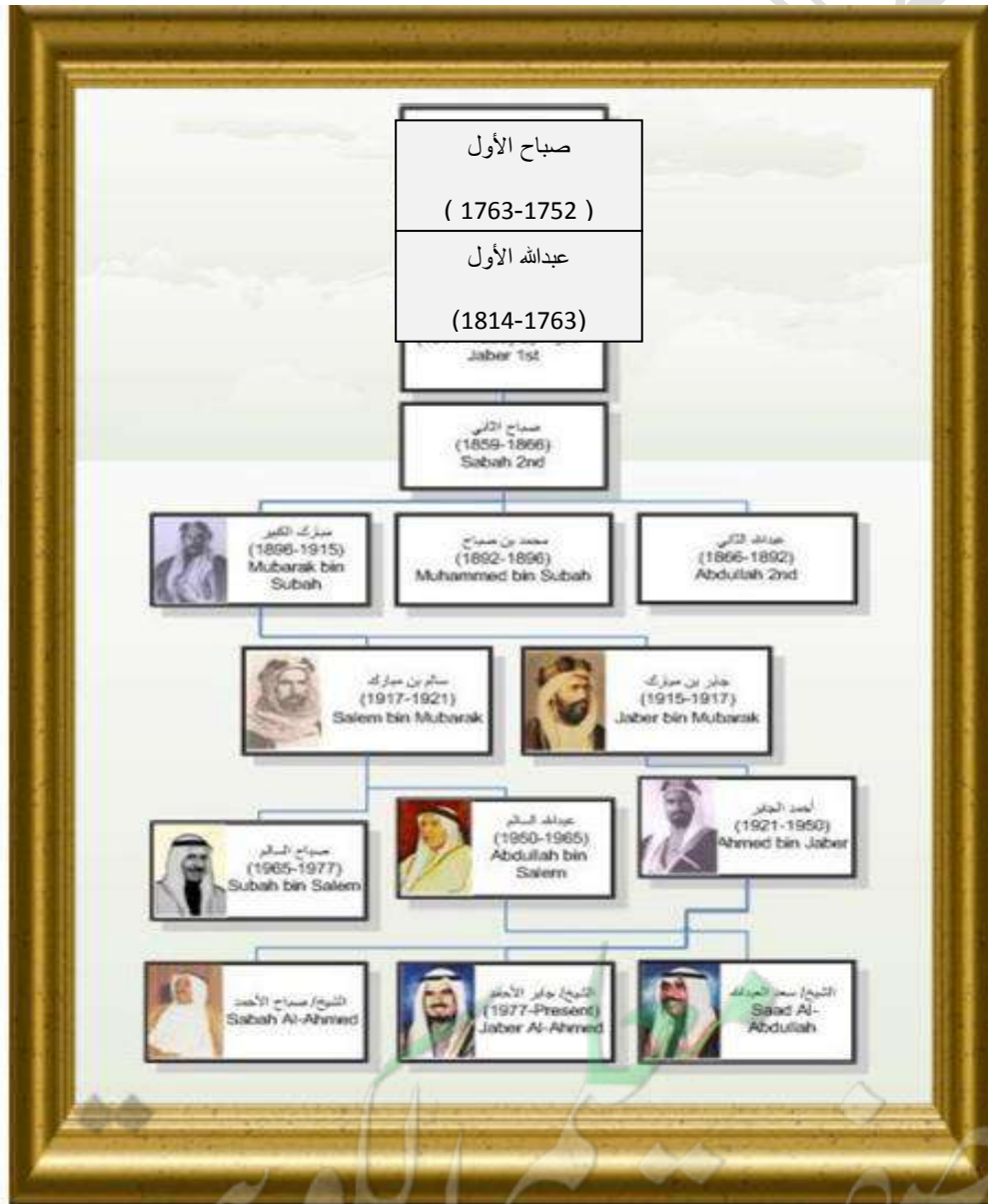
الشيخ عبد الله بن صباح الثاني ساعد العثمانيين في حملة مدحت باشا 1871م هو كان الذي يقود الاسطول البحري بنفسه و عين أخوه الشيخ مبارك قائد للجيش البري و ذكر عن مدحت باشا أنه قال السفن الثمانية التي نقلت المؤنة واللوازم الحربية كانت لحاكم الكويت.

السؤال السابع: انسب العبارة لقائلها.

"إن لأهل الكويت علينا حقا عظيما، ولو كانت تحت يدي ثروة طائلة لقتت بحاجة الفقراء".

القائل هو الشيخ جابر الاول وبدل على كرمه ومساعدته للفقير.

لاحظ شجرة الحكام من آل صباح.



● مساعدة الطالب على حل الأنشطة

● نظم جدولاً لمعركة الرقة يحتوي على (تاريخ المعركة – الأطراف المتحاربة – الأسباب – النتائج).

عناصر جدول المقارنة	معركة الرقة
التاريخ	1781م
الأطراف المتحاربة	بني كعب والكويت
الأسباب	غيره بني كعب من ان الميناء الكويتي هو الذي اصبح المفضل للتجار وهذا يضيق على معاملتهم التجارية.
النتائج	انتصار الكويت واخذت الذخائر والمدافع ووضعتها على الشاطئ تخليدا لانتصارهم.

● من خلال الجدول التالي قارن بين حكام دولة الكويت حسب ما هو مطلوب :

الحاكم	فترة الحكم	أهم أعماله	أهم الأحداث
الشيخ صباح الاول	1752-1763م	جعل الكويت تعيش في امن وجعل لها كيان	أتوا مهاجرون للاستقرار في الكويت وترسخت الأنشطة
الشيخ عبدالله الاول	1763-1814م	أنه جعل سفن الكويت تسافر للهند واليمن و افريقيا.	معركة الرقة -بناء أول سور .
الشيخ جابر الاول	1814-1859م	أنه كان يساعد الفقراء و رفض طلب المقيم السياسي البريطاني خوفا على مصلحة الكويت	أن سفن بغلة وبتيل بدأت تنتصع في عهده وازدهرت بحريا.
الشيخ صباح الثاني	1859-1866م	لم يفرض رسوم على البضائع وحافظ على استقرار الكويت	زيارة المعتمد البريطاني في الخليج العربي في الكويت لويس بيلى وازدهار الكويت اقتصاديا.
الشيخ عبدالله الثاني	1866-1892	قيادته للاسطول البحري في حملة مدت باشا وجعل اخيه الشيخ مبارك قائد للجيش البري.	مساعدته للعثمانيين في حملة مدت باشا 1871م .
الشيخ محمد الصباح	1892-1896	جعل أخوه الشيخ مبارك يهتم بشؤون البادية و الشيخ جراح بشؤون المالية.	استضاف والد مؤسس الدولة السعودية الثالثة الامير عبد الرحمن آل سعود .

الدرس الثالث: النمو التجاري والاقتصادي للكويت تحت حكم آل صباح.

لا تطلب العلم رياء.

السؤال الأول: اكمل العبارات التالية.

- 1- أخذ حكام الكويت قرارات ذات أبعاد اقتصادية.
- 2- الشركة البريطانية في البصرة نقلت للكويت مرتين المرة الأولى في عام 1793م و الثانية 1821م.

السؤال الثاني: علل أصبحت الكويت سوق رائج لسكان البادية؟

بسبب تشجيع آل صباح على بناء سفن الغوص و تأمين طرق التجارة للمارة.

السؤال الثالث: أخذ حكام آل صباح قرارات ذات أبعاد اقتصادية عديدة. اذكرها.

دلل على أن دولة الكويت ازدهرت تجاريا واقتصاديا تحت حكم آل صباح؟

- 1- قلة الضرائب على البضائع القادمة للكويت.
- 2- تشجيع حكام الكويت على بناء سفن الغوص و تأمين طرق التجارة و أصبحت سوق رائج لسكان البادية.
- 3- عوامل جذب للوكالات الأوروبية في الخليج العربي مثل الشركة البريطانية التي نقلت من البصرة للكويت مرتين الأولى 1793م والثانية 1821م.
- 4- لعب تجار الكويت دور الوسيط التجاري مع الدول المجاورة و هذا جعل للكويت علاقات مع الدول المجاورة.

السؤال الخامس: ما النتائج المترتبة على كل مما يأتي.

- 1- لعب التجار الكويتيين دور الوطاء التجاريين.
 - 2- أصبح للكويت علاقات مع الدول المجاورة.
 - 2- القرارات ذات الأبعاد الاقتصادية التي أخذها حكام الكويت آل صباح.
- تعززت نزعة الإستقلال و ترسخ حكم آل صباح و أصبح هناك استقرار أمني وسياسي واقتصادي وبدأ يأتي مهاجرين للكويت و سكان.

مساعدة الطالب على حل الأنشطة

● قارن بين أساليب التجارة قديما و حديثا.

أساليب التجارة حديثا	أساليب التجارة قديما
النفط التصدير الإستيراد	نقل البضائع المسابقة التجارة البحرية

● اكتب حقيقة واحدة استنتجتها من المقارنة.

التجارة الحديثة أصبحت أسهل من التجارة قديما.

● اشرح: ما العلاقة بين الاستقرار الأمني و الإزدهار التجاري؟

الدولة المزدهرة اقتصاديا وتجاريا فسوف يترسخ الحكم فيها و سوف يؤدي ذلك إلى الاستقرار الأمني.

معلمتي الكويت
صفوة

الدرس الرابع: عوامل نمو دولة الكويت تحت حكم آل صباح.

لا مكسب دون تعب.

السؤال الأول: عرف المفهوم.

1- المسابلة: التسهيلات التي تمنح لتجار البادية و هو نظام المقايضة.

السؤال الثاني: علل لما يأتي.

1- الكويت مقر رئيسي للبضائع داخل الجزيرة العربية؟

بسبب التسهيلات التي كانت تمنح لتجار البادية المسابلة.

السؤال الثالث: دلل على صحة العبارة.

1- ازدهار دولة الكويت و نموها تحت حكم آل صباح.

1- موقع الكويت الإستراتيجي على الجزء الغربي للخليج العربي و الجزء الشمالي الشرقي لشبه الجزيرة العربية.

2- طبيعة نظام الحكم المعتمد على العدل و الشورى و هو أمر مهم بالنسبة للإقتصاد.

3- وجود علاقات متوازنة مع الدول المجاورة.

4- التسهيلات التي كانت تمنح لتجار البادية و التي كانت تسمى تجارة المسابلة مما جعل الكويت مركز للبضائع

5- النظام الإقتصادي الدقيق و توزيع المهام ما بين الغوصو نقل التمور و الأمانة التي يتحلى بها التجار.

6- الصفات التي تميز بها أهل الكويت من التسامح و الانفتاح على الآخرين.

السؤال الرابع: فند العبارة التالية.

1- الكويت في تأسيسها كانت تعتمد على الشورى.

الكويت يعتمد كل شيء فيها على الشورى إلا تأسيسها فلم يكن تأسيسها على أساس الغلبة لتكتل سكاني بالعلی إرساء التجانس و الاندماج و التكامل المدني الطبع.

● مساعدة الطالب على حل الأنشطة

● ما المقصود بـ:"نظام الحكم قائم على الشورى".

هو نظام إسلامي يقوم على أخذ الآراء و التوصل لأفضل الحلول لرفع شأن المجتمع.

● اكتب تقريراً لا يقل عن خمسة أسطر عن تجارة (المسابلة).

المسابلة هي نوع من أنواع التجارة قديماً ففيها كانت تقدم التسهيلات لتجار البادية و هي تقوم على المقايضة و التي عمل بها سكان البادية قديماً حيث كان يبيع تجار البادية بضائعهم من خيام و صوف و لحوم في سبيل الحصول على حاجاتهم من المال و هي ذات شأن في رفعة الكويت و الأهمية التجارية و الإقتصادية و انتعشت هذه الحرفة في الكويت و انتعشت في الأسواق الكويتية عموماً وفي كتاب الشيخ يوسف بن عيسى تاريخ الكويت قال:"يسابل الكويت أغلب سكان البادية من نجد و العراق و الجنوب ما لم يمنعهم مانع حكومي.

معاكم
صفوة الكويت

الفصل الثالث: الكويت والتنافس الأوروبي على الخليج العربي من القرن السادس عشر إلى التاسع عشر.

الدرس الأول: الكشوف الجغرافية والتنافس الاستعماري.

كتابي مكانك عالي.

السؤال الأول: اكمل العبارات التالية.

- 1- سعى الأوروبيون في مطلع القرن السادس عشر لاستعمار الخليج العربي.
- 2- لعب البرتغاليون و الهولنديون دورا في تاريخ الاستعمار على الخليج العربي.
- 3- كانت الدول الأوروبية مشتهرة في علم الفلك و الرياضيات.
- 4- تعرضت البرتغال للإحتلال الإسباني.
- 5- بدأ الوجود الهولندي في آسيا و الشرق.
- 6- بدأ الأسطول الهولندي يذهب لجزر الهند الشرقية وآسيا عام 1559م.
- 7- اتخذ الهولنديون ميناء بندر عباس مركز تجاري لهم.
- 8- تأسست شركة الهند الشرقية عام 1600م.
- 9- قام الشاہ فارس بمنح البريطانيين بعض الإمتيازات.
- 10- خضع الخليج العربي للاستعمار البرتغالي و الهولندي و البريطاني.
- 11- بدأ الوجود الهولندي في آسيا في أواخر القرن السادس عشر.

السؤال الثاني: اكتب ما تعرف عن.

- 1- سياسة بريطانيا في الخليج العربي.
أنها دمرت نفوذ الهولنديين و أخذت مواقعهم في الخليج العربي و أخذت مواقعهم في الهند واستولت على شركة الهند الشرقية 1600م.
- 2- سياسة الهولنديين في الخليج العربي.
أسست شركة الهند الشرقية وجعلت حكام الخليج العربي يوقعون على معاهدات باسم الحكومة الهولندية بتعيين قضاة و حكام لمواقعهم في الخليج العربي و اتخذت ميناء بندر عباس.

3- العوامل التي جعلت البرتغاليين يسعون لمد نفوذهم على الخليج العربي.

النهضة الملاحية التي شهدتها بلادهم و الكشوفات الجغرافية و العامل السياسي و الديني التي سرعت العملية الاستعمارية و العامل العلمي.

السؤال الثالث: علل لما يأتي.

1- أراد البرتغاليون و الهولنديون السيطرة و استعمار الخليج العربي؟

بسبب النهضة الملاحية التي شهدتها بلادهم و التطور في الكشوفات الجغرافية و عرفوا الأهمية الاقتصادية له ، وهذا غير العامل الديني و السياسي الذي سرع الكشوفات الجغرافية و الاستعمار و العامل العلمي فقد كانوا مشتهرين بعلم الفلك و الرياضيات.

2- طوال قرن و نصف القرن الإستعمار البرتغالي أسوأ استعمار؟

لأنهم سيطروا على الخليج العربي بطريقة قسوى و وحشية.

3- كان هناك صراع بين العثمانيين و البرتغاليين؟

بسبب ظهور الأنشطة المعادية من العثمانيين.

4- في أواخر القرن السادس عشر و قعت تغيرات في أوضاع البرتغاليين؟

1- بسبب السفن الأوربية التي بدأت تشارك البرتغاليين في الأرباح التي يحصلون عليها من الشرق.

2- الهولنديين ذهبوا على مياه الهند الشرقية.

3- بدأت إنجلترا تأخذ نفس المسار.

5- على الرغم من تفوق الهولنديين السريع لكن سرعان ما تحطمت آمالهم؟

بسبب التنافس البريطاني – الهولندي الذي قضى على كل آمالكهم و أخرجهم من الخليج.

6- اهتمام البريطانيون بالخليج العربي؟

لأن بعد ما أن سيطرت بريطانيا على كل أملاك هولندا في الهند قرأت أن الخليج العربي هو طريق حيوي يحمي إمبراطوريتهم ومصالحهم.

7- بريطانيا بدأت توسع نفوذها السياسي و العسكري بعد أن استعمرت الخليج؟

من أجل أن تسيطر على الخليج العربي بالكامل و أن لا يصبح لها منافسين.

8- نزاع بريطانيا مع القوى الاستعمارية في منطقة الخليج العربي؟

لأطماع البريطانيين في السيطرة على الخليج العربي.

السؤال الرابع: دلل على صحة العبارات التالية.

1- الوجود البرتغالي تعرض للإنتهيار التدريجي في أواخر القرن السادس عشر.

بسبب المنافسة التجارية بينه وبين الهولنديين والإنجليز واليعاربة في عمان طردوه من المنطقة.

2- أهمية للخليج العربي في العصور الحديثة؟

تم استعمارها من ثلاث دول أوروبية برتغال و هولندا و بريطانيا من أجل السيطرة على الخليج العربي.

السؤال الخامس: فند العبارات التالية.

1- الاستعمار البرتغالي استعمار حسن.

هو أسوأ استعمار بسبب استعمارها بطريقة قاسية و وحشية للخليج العربي.

2- بريطانيا لم تهاجم هولندا.

بريطانيا جردت هولندا من شركة الهند الشرقية و امتلاكها في الهند و موقعها في الخليج العربي.

السؤال الخامس: أوجد العلاقة بكتابة فقرة مترابطة بالاستعانة بالكلمات التالية.

1- (أسطول - 1559م - بندر عباس - توابل)

في عام 1559م بدأ أول أسطول هولندي يخرج لآسيا و مياه الهند الشرقية و تأسست شركة الهند الشرقية و وقعوا حكام الخليج على معاهدات باسم الحكومة الهولندية و اتخذت ميناء بندر عباس مركز تجاري و اشتهرت بتوابل.

2- (1600م - شاه فارس - حيوي - مصالح)

بعد ما أن ازداد التنافس بين البريطانيين و الهولنديون من أجل شركة الهند الشرقية التي تأسست عام 1600م و بعد سيطرتهم على النفوذ الهولندي فشاه فارس أعطى لهم مميزات و أنهم امتازت سياستهم بالاهتمام بالخليج لأنه أتخذوه طريق حيوي لحماية مصالحهم في اله

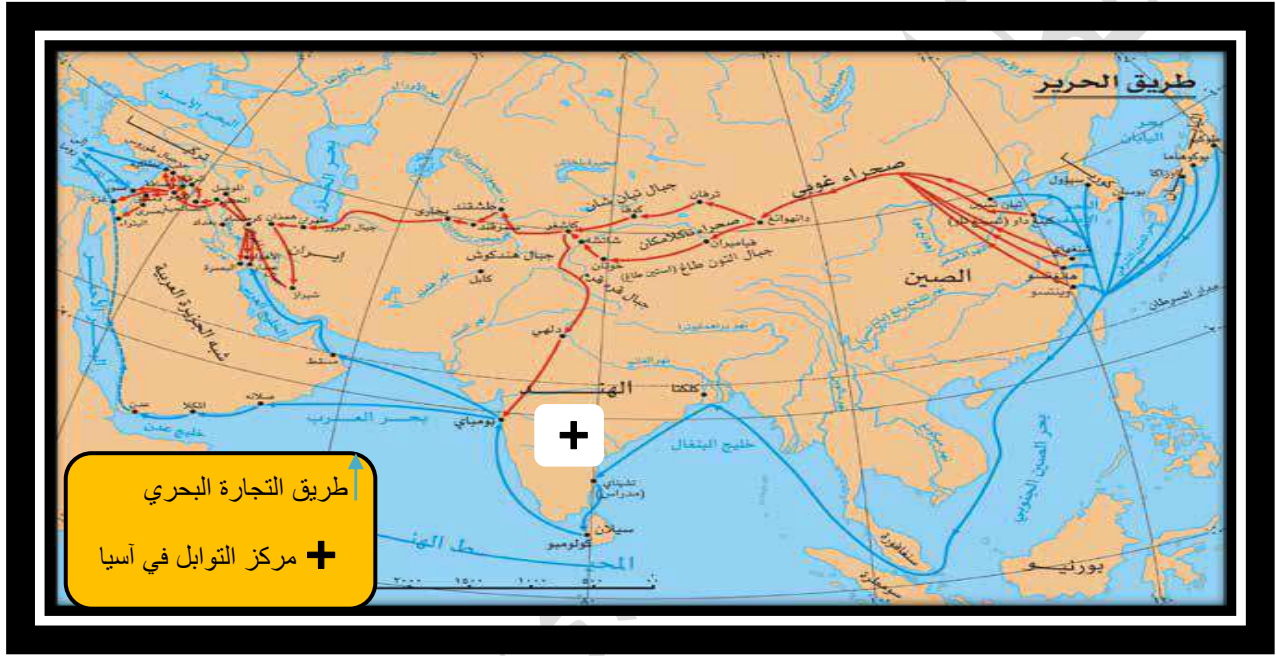
● مساعدة الطالب على حل الأنشطة.

● لاحظ خريطة العالم القديم و حدد عليها ما يلي حسب الرمز:

1- ← خط سير الطرق التجارية البحرية بالإستعانة بالفقرة السابقة.

2- + دولة تعد مركز للتوابل في جنوب آسيا.

3- ضع مفتاحا للخريطة.



● ابحث عن دوافع أخرى لحركة الكشوف الجغرافية.

الدوافع الاقتصادية فالدول كانت تحتاج أن تحل مشاكلها بالطرق التجارية.

● عرف المفاهيم التالية.

● الكشوف الجغرافية: هي الرحلات التي قام بها الأوربيون لاكتشاف عوالم جديدة.

الاستعمار الأوروبي: أن تحتل دولة أوربية أقاليم في القارات لسيطرة على شعبها و ثرواتها.

● ما الأسباب التي دفعت المستعمر البرتغالي إلى مهادنة الدول المستعمرة.

حتى لا تتور عليه الشعوب المستعمرة و استخدمت سياسة اللين من أجل كسب ودهم حتى يستعمرهم.

● ابحث عن أسباب أخرى لانتهيار الاستعمار الهولندي في الخليج العربي.

الحرب الثلاثية التي حصلت بين هولندا و فرنسا و بريطانيا وفقدت هولندا سيطرتها و استعمارها.

الدرس الثاني: الكويت وبريطانيا.

للعلم لذة من ذاقها لم يتركه.

السؤال الأول: اكمل العبارات التالية.

- 1- البريطانيون أسسوا في الكويت والبصرة مراكز تجارية.
- 2- الصراع بين الدولة العثمانية والفرسية في عام 1775-1779م.
- 3- أول مره انتقل مركز البريد البريطاني للكويت عام 1775م.
- 4- اتفاقية الحماية بريطانیا والكويت في عام 1899م.

السؤال الثاني: صحح ما تحته خط فيما يأتي.

- 1- البصرة كانت خاضعة للدولة الهولندية قبل صراع الفرس. (العثمانية)
- 2- المرة الثانية التي انتقلت بها المركز البريطاني للكويت هي عام 1798-1799م. (1793-1795)
- 3- كان المركز البريطاني كان يتجه من فرنسا إلى بلجيكا. (الهند إلى لندن)

السؤال الثالث: علل لما يأتي.

- 1- تم نقل المركز البريد البريطاني للكويت من البصرة عام 1775م؟
بسبب الصراعات بين الدولة العثمانية التي كانت تسيطر على البصرة و الفرس و نتج حصار للبصرة في نفس العام 1775م.
- 2- تم نقل المركز البريطاني للكويت مرة أخرى عام 1793م؟
بسبب الصراعات بين العثمانيين و المركز البريطاني فأصبحت هناك مشاكل تجارية وسياسية و نقلت للكويت.

السؤال الرابع: ددل على صحة العبارة.

- 1- تطور العلاقات بين بريطانيا و الكويت.
بريطانيا وقعت الكويت على عهد حماية وأصبحت بموجبها خاضعة للحماية البريطانية.

السؤال الخامس: ما النتائج المترتبة على حصر البصرة على يد الفرس عام 1775م؟

تم نقل المركز البريد البريطاني من البصرة للكويت

السؤال السادس: فند العبارة التالية.

1- في أواخر القرن الثامن عشر لم يكن هناك تطور في العلاقات بين بريطانيا و الكويت و لم يكن لها أهمية.

كانت الكويت مهمة للبريطانيين فأسسوا مركز تجاري لهم و تم نقل مركز البريد التجاري من البصرة للكويت مرتين ولأنها مكان آمن و توقيع الكويت على معاهدة الحماية عام 1899م.

مساعدة الطالب على حل الأنشطة.

● علل لما يأتي: نقل مركز البريد والتجارة من البصرة إلى الكويت في عام (1775م).

بسبب الصراعات بين الدولة العثمانية التي كانت تسيطر على البصرة و الفرس و نتج حصار للبصرة في نفس العام 1775م.

● دلل على أهمية الكويت بالنسبة لبريطانيا في نهاية القرن الثامن عشر الميلادي.

الكويت مهمة للبريطانيين فأسسوا مركز تجاري لهم و تم نقل المركز البريد التجاري من البصرة للكويت مرتين ولأنها مكان آمن و توقيع الكويت على معاهدة الحماية عام 1899م.

معلمة صفوة الكوييت

الدرس الثالث: الكويت والعثمانيون.

فوض الأمر لله وادرس جيدا واستعد للإختبار.

السؤال الأول: اكمل العبارات التالية.

- 1- العلاقة بين الكويت و العثمانيون كانت قائمة على الولاء الديني.
- 2- لم يكن للعثمانيين أي سلطة إدارية و سياسية وعسكرية في الكويت.
- 3- الشيخ عبدالله الثاني لقبه مدحت باشا قائم مقام.

السؤال الثاني: صحح ما تحته خط فيما يأتي.

- 1- عندما كانت السفن الكويتية مبحرة للبحر العرب كانت ترفع العلم البرتغالي. (العثماني)
- 2- من أدار شؤون الكويت هم العثمانيون. (حكامها)
- 3- كان مدحت باشا والي البصرة الثاني. (بغداد)

السؤال الثالث: علل لما يأتي.

- 1- كانت الكويت ترفع العلم العثماني وهي تبحر إلى الهند؟

بسبب الأجواء اللطيفة بينهما فكانت العلاقة بينهما علاقة ولاء ديني و الكويت ساعدتهم في أن تعيد سيطرتها على إقليم إحساء.

السؤال الرابع: ما هي أسس العلاقة بين العثمانيين والكويت كما وردت في فرمان العثماني؟

(دلل على أن الكويت والعثمانيين كانت علاقتهما ولاء ديني وليس سلطة عسكرية)

- 1- شيخ الكويت مستقل بشؤونه الداخلية.
- 2- منح شيخ الكويت لقب قائم مقام
- 3- أهالي الكويت لا يلتزمون بدفع رسوم أو ضرائب إلى الباب العالي.
- 4- إلزام السفن الكويتية برفع العلم العثماني مع إعطائها من دفع الرسوم.

السؤال الخامس: فند العبارة التالية.

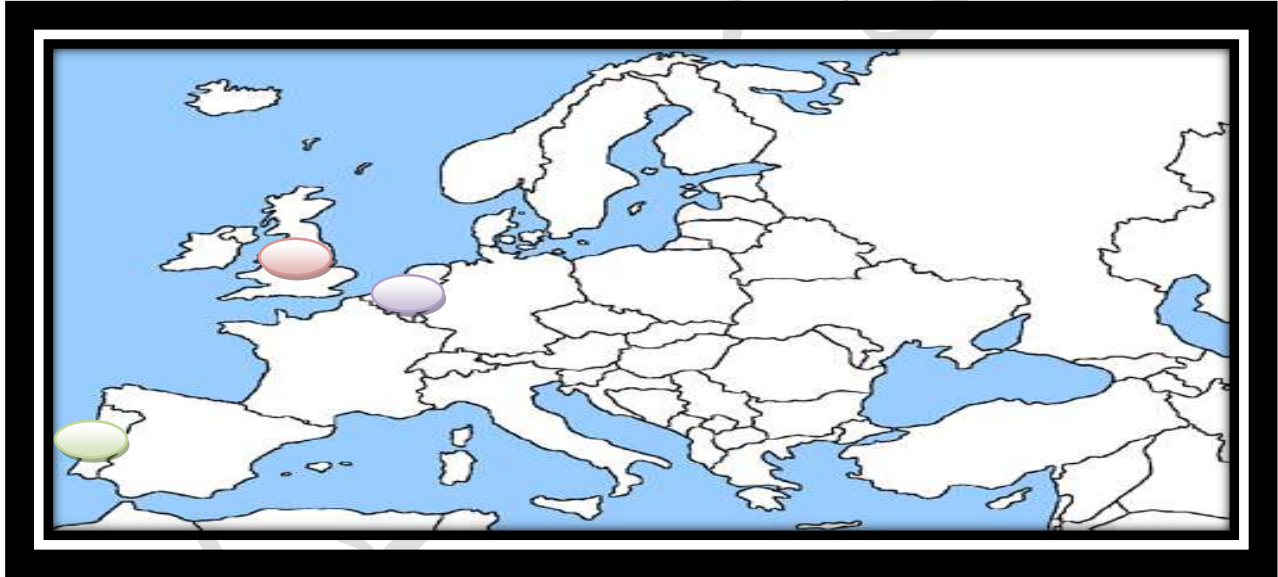
1- إءعانات الدولة العثمانية لتبعية الكويت للعثمانيين.

حسب الفرمان العثماني لمدحت باشا قال أن الشيخ مستقل في شؤونه و سمح للكويت بممارسة قضائها و لم يتدخل في فرض الحاكم أو اختياره.

مساعدة الطالب على حل الأنشطة.

● لاحظ خريطة أوروبا الصماء أمامك:

حدد الدول الاستعمارية (البرتغال - هولندا - إنجلترا) برسم دائرة مظلة عليها بألوان مختلفة.



● البرتغال (خضراء) ● هولندا (بنفسج) ● إنجلترا (أحمر)

● ابحث عن أسباب اتجاه حملة مدحت باشا عام 1871م إلى إقليم إحصاء.

لإعادة السيطرة على إقليم إحصاء بعد الإستعمار البريطاني.

● فسر المفاهيم التالية:

*الدولة العثمانية: هي دولة إسلامية أسسها عثمان الاول و هي كانت لها العديد من الإمتدادات في آسيا

و أفريقيا و جنوب شرق أوروبا.

*قائم مقام: في الدولة العثمانية يعطى هذا اللقب الشخص الذي يقوم مقام الغير في منصبه.

* الفرمان: قانون أو دستور موقع من قبل السلطان.

● تناول فرمان الوالي العثماني من حيث الإيجابيات و السلبيات على الكويت.

الإيجابيات: تطورت العلاقة بين البلدين واستقلال الكويت في شؤونها الداخلية وسمحت للكويت بممارسة آرائها ولا يوجد قوات عسكرية.

السلبيات: سوف السفن ترفع العلم العثماني.

طالب حريم ابي حرفوش
معاينة الكويت
صفوة

الفصل الرابع: الحاكم السابع الشيخ مبارك الكبير مؤسساً لإمارة الكويت الحديثة.

الدرس الأول: الشيخ مبارك الصباح (1896 – 1915م)

تطور الأوضاع الداخلية و الخارجية في الكويت.

السؤال الأول: اكمل العبارات التالية.

- 1- تولى الشيخ مبارك الحكم في عام 1896 – 1915م .
- 2- أنشئت مدرسة المباركية و مستشفى الأمريكي عام 1911م .
- 3- وقعت اتفاقية الحماية بين الكويت و بريطانيا عام 1899م .
- 4- البعثة الألمانية وصلت إلى الكويت في عام 1900م و في منطقة الجهراء .

السؤال الثاني: اكتب ما تعرف عن.

- 1- الأطماع العثمانية في دولة الكويت.
أرادت الدولة العثمانية أن تسيطر نفوذها على الكويت و أن تجعلها نهاية لخط سكة الحديد الذي بدأ التعاون به مع الألمان و لقد علم العثمانيون أن محاولة فرض واقع جديد على الكويت سيجعل الكويت تلجأ إلى بريطانيا و تظاهروا بموقف حيادي و بعد ما إن علمت أن الكويت وقعت معاهدة الحماية مع بريطانيا أرسلت وحدات عسكرية لأراضي الكويت.
- 2- أبرز أعمال الشيخ مبارك الصباح في مجال حفظ الأمن.
 - 1- اخراج قوات عسكرية لتأمين طرق القوافل التجارية.
 - 2- مراقبة الأسواق و النظر لمشاكل الأهالي.
 - 3- معاقبة الخارجين عن النظام.
 - 4- تشجيع تصنيع السفن الكبيرة.
 - 5- التوسط لحل المشكلات بين التجار.

السؤال الثالث: ما النتائج المترتبة على كل مما يأتي.

1- توقيع الشيخ مبارك الصباح للحماية البريطانية.

أدى إلى تدعيم و استقرار و تطور الأوضاع في الكويت و دعم قدرتها في مواجهة الأخطار الخارجية و الداخلية.

السؤال الرابع: علل لما يأتي.

1- فترة حكم الشيخ مبارك فترة حكم حاسمة؟

لأن خلال هذه الفترة كان الشيخ مبارك حاكما مطلقا.

2- استغل الشيخ مبارك التوترات في المنطقة بين القوى الإستعمارية؟

لإكتساب المزيد من الضمانات و تأمين قدرة من الأمن لإمارته.

3- رفض الشيخ مبارك المشاريع المقدمة للروس؟

لأن رآها تميل إلى الجانب البريطاني.

4- رفض الشيخ مبارك الصباح مشروع سكك برلين – بغداد من الألمان؟

لأنه لا يريد ان يكون للألمان أي مشاريع على أرض الكويت و خصوصا أنه مرتبط باتفاقية الحماية البريطانية.

5- رفض الشيخ مبارك لمشروع سكة الحديد مع الدولة العثمانية؟

لأنه علم أنه ستبعث جباة ضرائب فتقد استقلالها الذي ميزها منذ نشأتها و أنها تريد أن تسيطر على الكويت.

6- وقع الشيخ مبارك الصباح معاهدة حماية مع البريطانيين؟

نتيجة للتطورات و تغير التحالفات فأراد أن يؤمن وضع الإمارة بصورة واضحة في مجمل تحركاته السياسية.

7- محاولة بريطانيا التقرب من الشيخ مبارك الصباح؟

لأنه يريد أن ينفرد بسيطرته على طريق الخليج العربي المؤدي للهند.

السؤال الخامس: دال على صحة العبارة.

1- حافظت الكويت في عهد الشيخ مبارك على كيانها.

على رغم من كل التهديدات و الأخطار من الخارج الكويت لم تتعرض لأي استعمار و كان دائما الشيخ مبارك الصباح يستغل هذه الأخطار و يتعمل معها بحذر و قام بتأمين الإمارة.

2- اهتمام الشيخ مبارك الصباح بالتعليم.

إنشاء مدرسة المباركية عام 1911م.

3- اهتمام الشيخ مبارك الصباح بالصحة.

إنشاء مستشفى الأمريكي عام 1911م.

السؤال السادس: فند العبارة التالية.

1- لم تتعرض الكويت لأي تهديد في عهد الشيخ مبارك الصباح.

الكويت تعرضت لأخطار خارجية من الروس والألمان و البريطانيين و العثمانيين.

السؤال السابع: ضع عنوانا على الصور الآتية.



مستشفى الأمريكي



مدرسة المباركية

● مساعدة الطالب على حل الأنشطة

● استعن بأحد البرامج الإلكترونية في تصميم خريطة ذهنية عن الأوضاع الداخلية في عهد الشيخ مبارك الصباح و أهم إنجازاته.

فكرة البرنامج هي عمل خريطة ذهنية اطلع على الصفحة رقم 96.

● لخص الأطماع الروسية نحو تعزيز نفوذها في الكويت و تأثيرها على الشيخ مبارك الصباح منذ نهاية القرن التاسع عشر الميلادي.

بدأت من خلال استغلال بعض المشاريع التجارية لإنشاء محطة فحم و تزود سفنها بالوقود و جعلت الكويت نهاية لطريق السكة و كان هاذ المشروع ستار لكي تسيطر على الكويت و كانت مقدمة للكويت عرض اتفاقية حماية لكن الكويت رفضته.

● فرق بين السبب المعلن و غير المعلن لخطوات روسيا لتأثير على الشيخ مبارك الصباح في القرن التاسع عشر ميلادي.

السبب المعلن: جعل الكويت نهاية السكة الحديدية.

السبب الحقيقي: محاولة الروس عقد اتفاقية حماية مع الكويت.

● علل: رفض الشيخ مبارك لمشروع سكة الحديد مع الدولة العثمانية و الألمان.

لأنه عرف السبب الحقيقي لهذه المشاريع و هو السيطرة على الكويت.

● دلل على براعة الشيخ مبارك الصباح السياسية بعلاقته مع الدولة العثمانية.

أنه عندما أرسلت الدولة العثمانية القوات العسكرية إلى الكويت و هددتها وضح الشيخ سبب رفضه بأنه غير مستعد لإجراء أي تنازلات لأي دولة أجنبية يزيد من صعوبة نجاح التحركات العثمانية.

● دلل على دور الشيخ مبارك الصباح في التصدي للاطماع الخارجية من خلال الجدول التالي:

أنه رفض المشروع السكك الحديدية لأنه رآه يميل على الجانب البريطاني.	الروس
رفض مشروع سكة برلين - بغداد لأنه لا يريد للأمان أي مشروع اقتصادي.	الألمان
رفض مشروع السكك لأنه أدرك أن الكويت سوف تفقد استقلاليتها.	الدولة العثمانية

الدرس الثاني: اتفاقية الحماية 1899م وأثرها على الكويت.

السؤال الأول: اكمل العبارات التالية.

- 1- تم توقيع معاهدة الحماية البريطانية عام 1899م .
- 2- أطلق على الكويت عند توقيعها لمعاهدة الحماية لقب إمارة مستقلة تحت الحماية البريطانية .
- 3- قامت الدولة السعودية الثالثة عام 1902م .
- 4- كان الأمير عبد العزيز مستقرا في الكويت و هو و أسرته تسع سنوات .
- 5- حصلت معركة الصريف عام 1901م .
- 6- حصلت معركة هدية في شهر مايو .
- 7- استمر حكم الشيخ مبارك الصباح قرابة عشرين عام .

السؤال الثاني: ما النتائج المترتبة على ما يأتي.

- 1- توقيع اتفاقية الحماية البريطانية 1899م.
تم حماية الكويت من الأخطار الداخلية و الخارجية و حافظت على حدود دولة الكويت و استقرار الأوضاع.

السؤال الثالث: علل لما يأتي.

- 1- اتجهت الكويت إلى توقيع المعاهدة مع بريطانيا؟
بسبب التهديد العثماني للكويت و أطماع الروس في الكويت و التمهيد لجعل الكويت تنمو بعيدا عن الصراعات.
- 2- حرصت بريطانيا على إبقاء المعاهدة سرية؟
بسبب عدم رغبتها في إثارة الدولة العثمانية أو خلق توتر بينها وبين القوى الأوروبية.

السؤال الرابع: دال على صحة العبارة.

1- تأييد الشيخ مبارك الصباح للأمير عبد العزيز آل سعود.
تجهيز المؤن له و الأسلحة استعدادا للعودة للرياض.

2- براعة الشيخ مبارك الإستقلالية لاغم ارتباطه بإتفافية حماية.
تحركه المفرد مثل دعم الأمير عبد العزيز ماديا و عسكريا و كان لا يرغب في تصادم عسكري مع العثمانيين.


السؤال الخامس: اكتب نبذة مختصرة عن سياسة دولة الكويت الخارجية.

إن سياسة دولة الكويت الخارجية في عهد الشيخ مبارك الصباح كانت تصب في تكريس الخيارات و الإنسلاخ عن اي التزام تجاه اي قوى باستثناء بريطانيا كما أن الواقع يوضح أن الشيخ مبارك كان جزءا من ترتيب السياسات في المنطقة و طرفا مؤثرا في معادلة القوى.

السؤال السادس: انسب العبارة إلى قائلها.

"نقد قاومت هذا طيلة عمري ، وأنت تطالبني بالموافقة على ذلك".
الشيخ مبارك الصباح.

السؤال السابع: ضع عنوان للصورة الآتية.



معاهدة الحماية 1899م

● مساعدة الطالب على حل الأنشطة

● عدد الجوانب الإيجابية و السلبية لاتفاقية الحماية 1899م.

الجوانب الإيجابية: تم حماية الكويت من الأخطار الخارجية.

الجوانب السلبية: فقدت الكويت استقلاليتها و تم منحها لقب "إمارة مستقلة تحت الحماية البريطانية".

● علل: تزايد رغبة الشيخ مبارك في تأمين وضع إمارة الكويت عام 1899م.

بسبب خوفه من إقدام العثمانيين على ضم الإمارة بالقوة و التهديدات من روسيا.

● اقرأ الفقرة التاريخية التالية ثم أجب عليها.

(للكويت أهمية كبيرة بالنسبة لبريطانيا كمكان آمن لذلك سعت بريطانيا لتطوير و توثيق علاقتها مع الكويت من خلال عدة خطوات حتى توجت هذه العلاقات بعقد اتفاقية الحماية 1899م ، و التي نصت على أن يلزم حاكم الكويت (الشيخ مبارك الصباح) نفسه و وارثيه و خلفه في الحكم بالألا يتنازل أو يبيع أو يؤجر أو يرهن أو يعطي للاستغلال لأي عرض كان أي جزء من مقاطعته لأي حكومة أو راعيا أي سلطة بدون الموافقة السابقة للحكومة البريطانية).

● ما أسباب توقيع اتفاقية الحماية؟

لأن الكويت تمثل مكان آمن لبريطانيا و التهديدات التي كادت تتعرض لها الكويت من مختلف القوى.

● اذكر اثنين من بنود اتفاقية الحماية :

أن يلزم حاكم الكويت نفسه و وارثيه في الحكم بالألا يتنازل أو يبيع لأي عرض.

أن لا يتخذ أي قرار بدون الموافقة من الحكومة البريطانية.

● ما أهمية اتفاقية لدولة الكويت؟

تم حماية الكويت من الأخطار الداخلية و الخارجية و حافظت على حدود دولة الكويت و استقرار الأوضاع.

● اكتب ملخصا تاريخيا عن معركتي الصريف و هدية ، مبينا دور الشيخ مبارك الصباح فيهما.

معركة الصريف: وقعت بين إمارة حائل و إمارة الكويت عام 1901م شمال شرق الجزيرة العربية و كان

هدد الكويتيون فيها 1200 و من حائل 2000

معركة هدية: وقعت بين إمارة الكويت ، إمارة الرياض و كانت تسمى بوقعة الطوال لوقوعها في منطقة

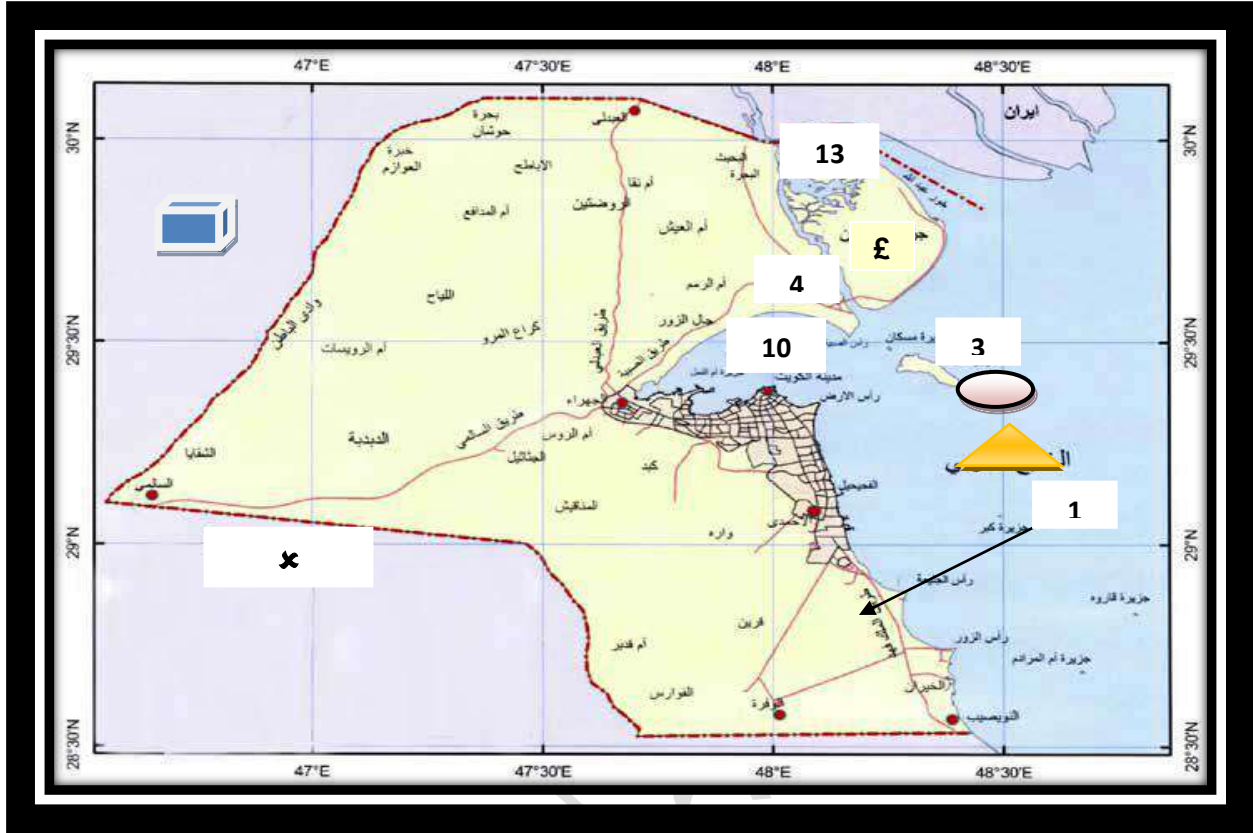
جربيات الطوال.





● برهن على دور الشيخ مبارك الصباح في ترسيخ دعائم استقرار الإمارة.

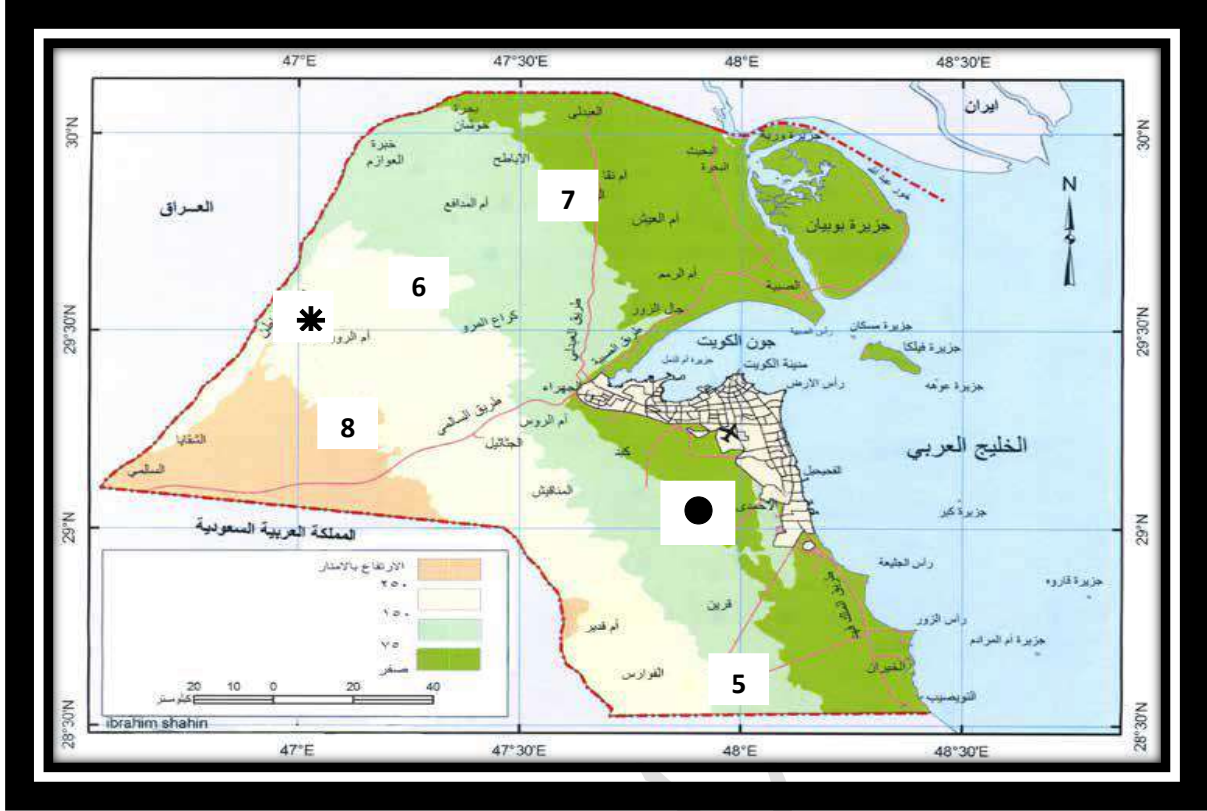
تحركه المفرد مثل دعم الأمير عبد العزيز ماديا و عسكريا و كان لا يرغب في تصادم عسكري مع العثمانيين.

لطالب كريم ابي حرفوش
معاكم الكويت
صفوة

• لاحظ الخرائط أمامك ثم أجب عما يليها.



- 1- رقم (1) تمثل رياح تهب رطبة و دافئة و هي الكوس.
- 2- ضع علامة £ على أكبر الجزر الكويتية.
- 3- جزيرة تقع في الجنوب الشرقي لفيلكا و تبعد 12 ميل و هي تحمل الرمز  عوهة.
- 4-  مسطح مائي خضع للاستعمار من 3 دول و هو الخليج العربي.
- 5- حضارة منفصلة عن بلاد الرافدين وآثارها في الكويت هي و تحمل الرقم (2) الصيية.
- 6- رقم 4 هو مسطح مائي في شمال الكويت و هو جون الكويت.
- 7- رقم (3) تمثل جزيرة كانت وسيط تجاري بين بلاد الرافدين و بلاد السند فيلكا.
- 8-  دولة تحد الكويت من الشمال و الشمال الغربي و هي العراق.
- 9- دولة تحد الكويت من الجنوب و الجنوب الغربي تحمل الرمز  المملكة العربية السعودية.
- 10- رقم (13) هي آخر جزيرة تم اكتشافها في شمال الكويت و هي وربة.



1- رقم 5 منطقة زراعية و فيها المياه عذبة و هي الوفرة.

2- تلال الياح تحمل الرقم 6.

3- سهل ينحدر نحو الشرق و الشمال الشرقي و يحمل الرقم (7) و هو سهل الروضتين.

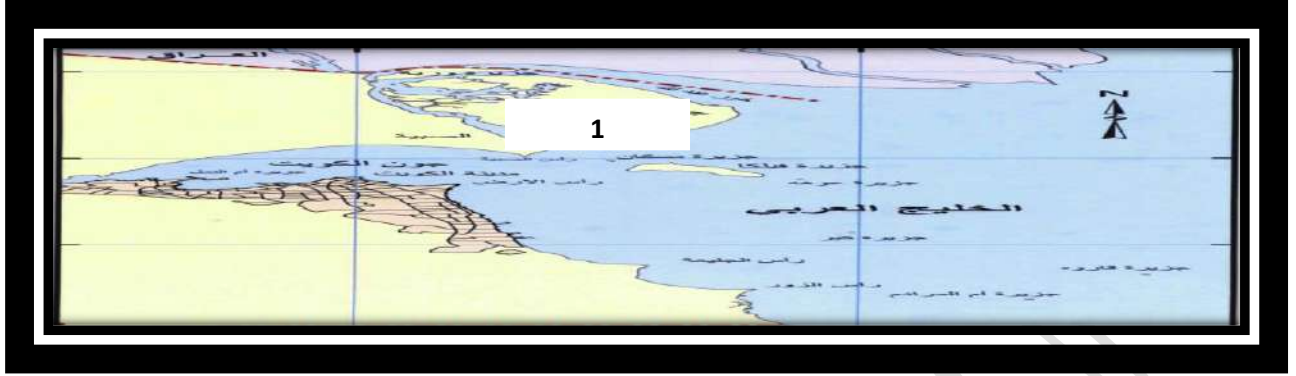
4- ضع علامة * عند الوادي الذي يفصل بين الكويت و العراق.

5- رقم (7) هي منطقة زراعية و أكبر محافظات الكويت وهي الجهراء.

6- سهل الدبدبة يحمل الرقم 8.

7- حدد على تلال وارة بوضع ●.

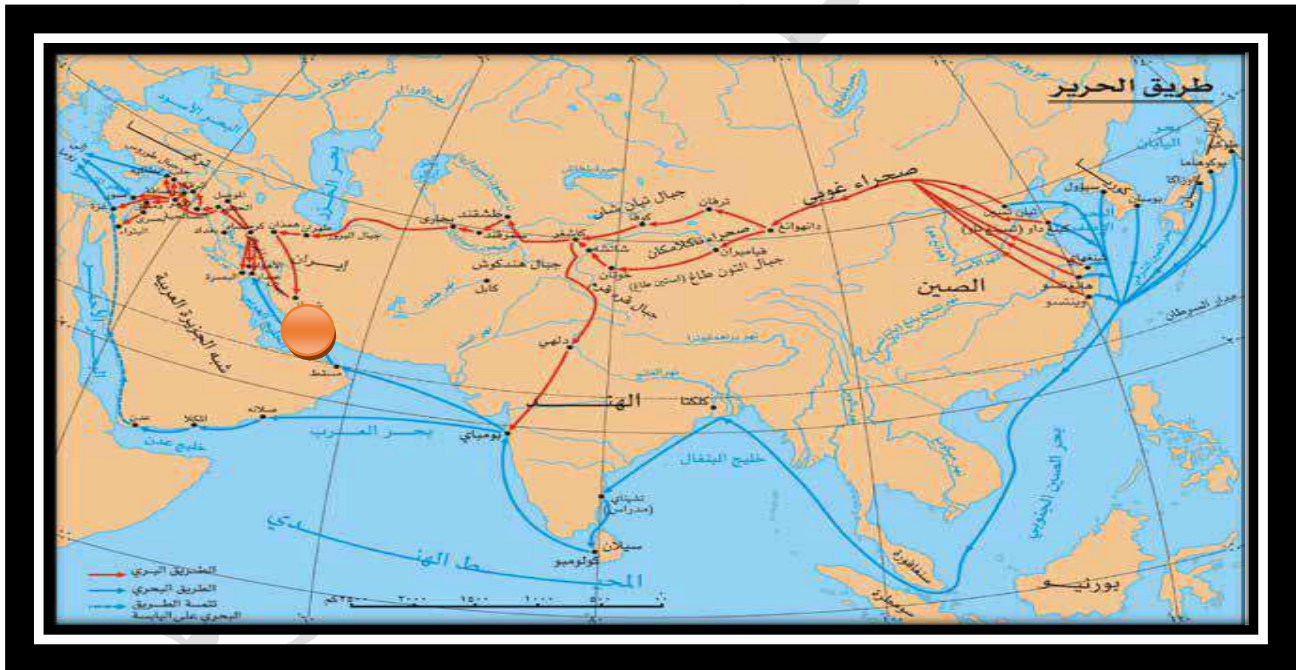
معاينة الكويت
صفحة الكويت



1- رقم(1)أكبر جزيرة كويتية و هي بوبيان.

2- رتب الجزر الكويتية من الشمال إلى للجنوب.

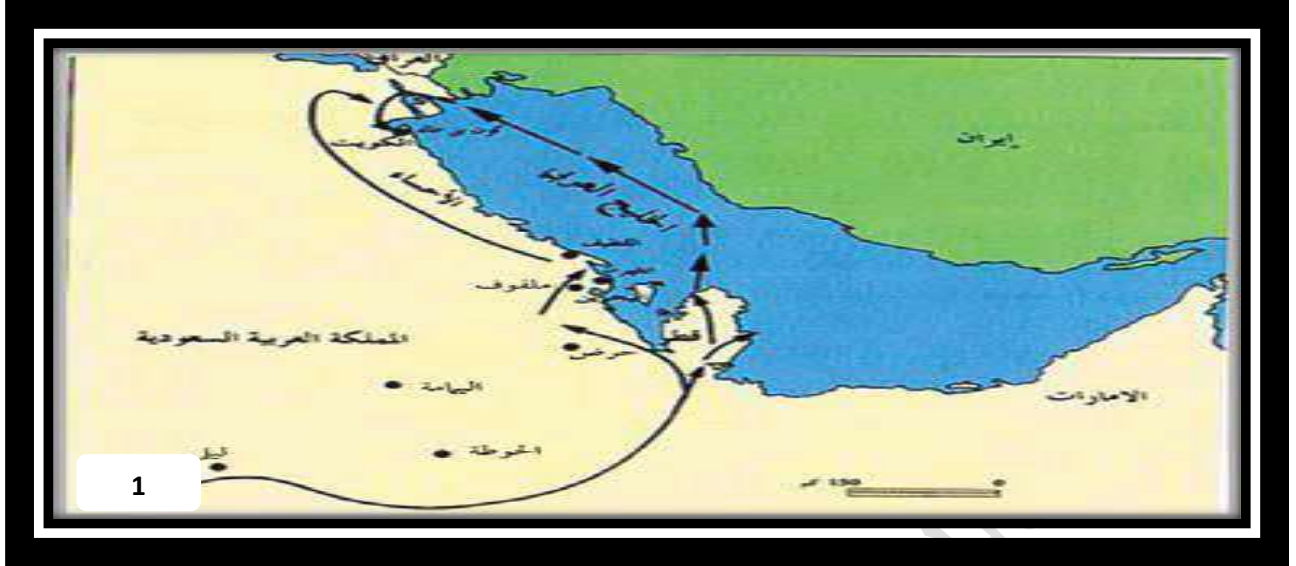
وربة - بوبيان - مسكان - فيلكا - أم النمل - عوهة - الشويخ - كبر - قاروه - أم المرادم.



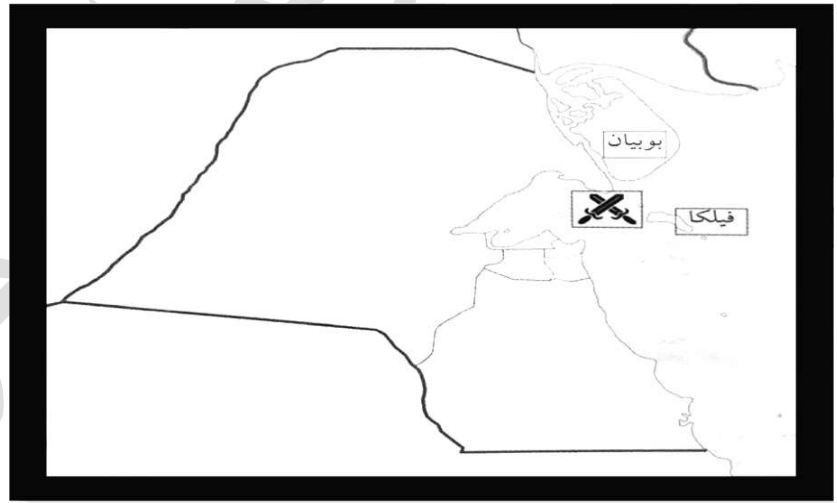
1- يمثل مضيق و هو مضيق هرمز.

2- اذكر اسم واحد لمسطح مائي يمر به طريق الحرير البحري.

الخليج العربي.

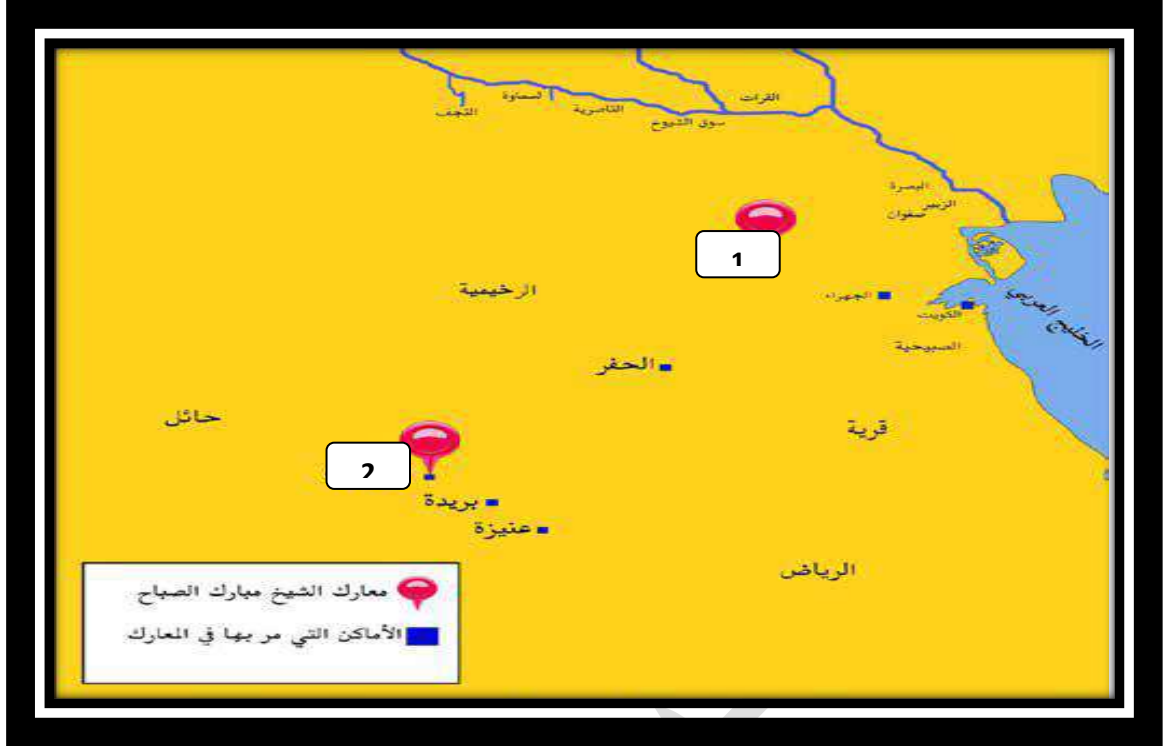


1- رقم (1) المنطقة التي هاجر منها العتوب و هي الهدار.



1-يشير الرمز لمعركة بارزة حصلت في الكويت و هي معركة الرقة.

معركة الرقة في الكويت



1- رقم (1) معركة قادها الشيخ مبارك عام 1901م هي هدية.

2- رقم (2) معركة ال الصريف .

معاكم الكويت
طفوة



- 1- حدد هولندا بوضع الرمز ▲.
- 2- حدد إنجلترا بوضع الرمز ■.
- 3- حدد البرتغال بوضع الرمز ●.
- 4- حدد مركز التوابل في جنوب آسيا بوضع الرمز ■.

والآن أصدقائي الطلبة أوجه لكم خالص التحية و التقدير و أتمنى أن تكونوا استفدتوا من
ملزمتي هذه و أسف لو أظلت عليكم بها وأتمنى أن أكون تركت بصمة في قلوبكم.

تم بحمد الله.

خالص التحيات الطالب: **كريم مروان**.